

물리 분야 지구 과학

2012년 1월 26일, **목요일** — 오후 1시 15분부터 오후 4시 15까지만 실시


답안 책자

학생명 성별: 남자
 여자
교사명.....
학교명..... 학년

파트 B-2와 파트 C에 대한 답을 이 책자에 기록하십시오.

파트 B-2

51

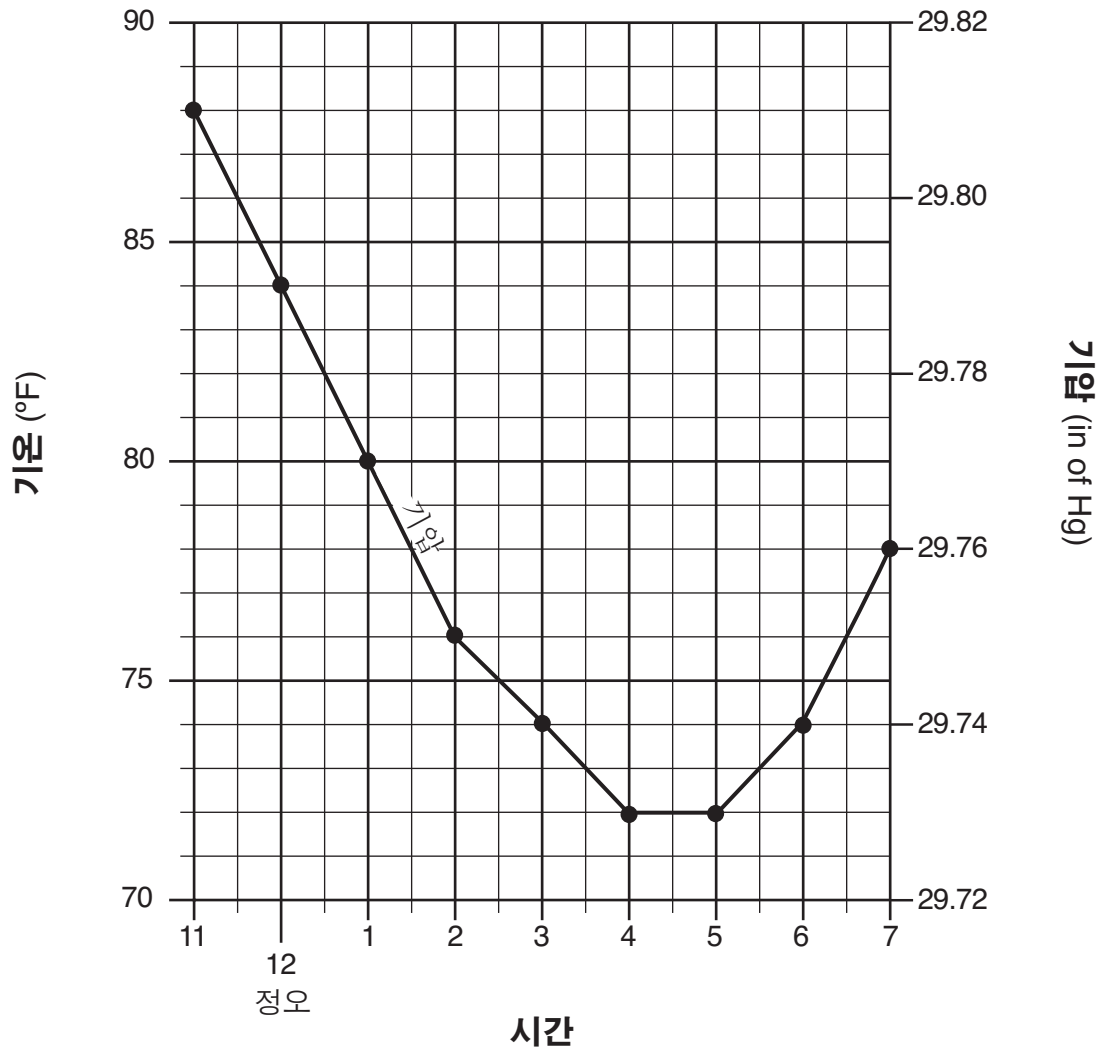


52 위치 번호: _____

53 _____ 일

54 위치 번호: _____

기온과 기압



57 _____ 대

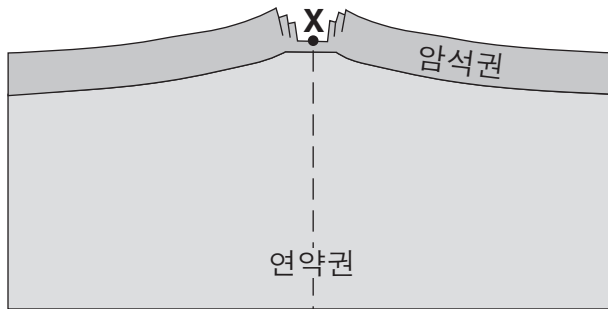
_____ 기

58 _____

59 _____

60 _____ 백만 년 전

61



62 _____ 판과 _____ 판

63 _____

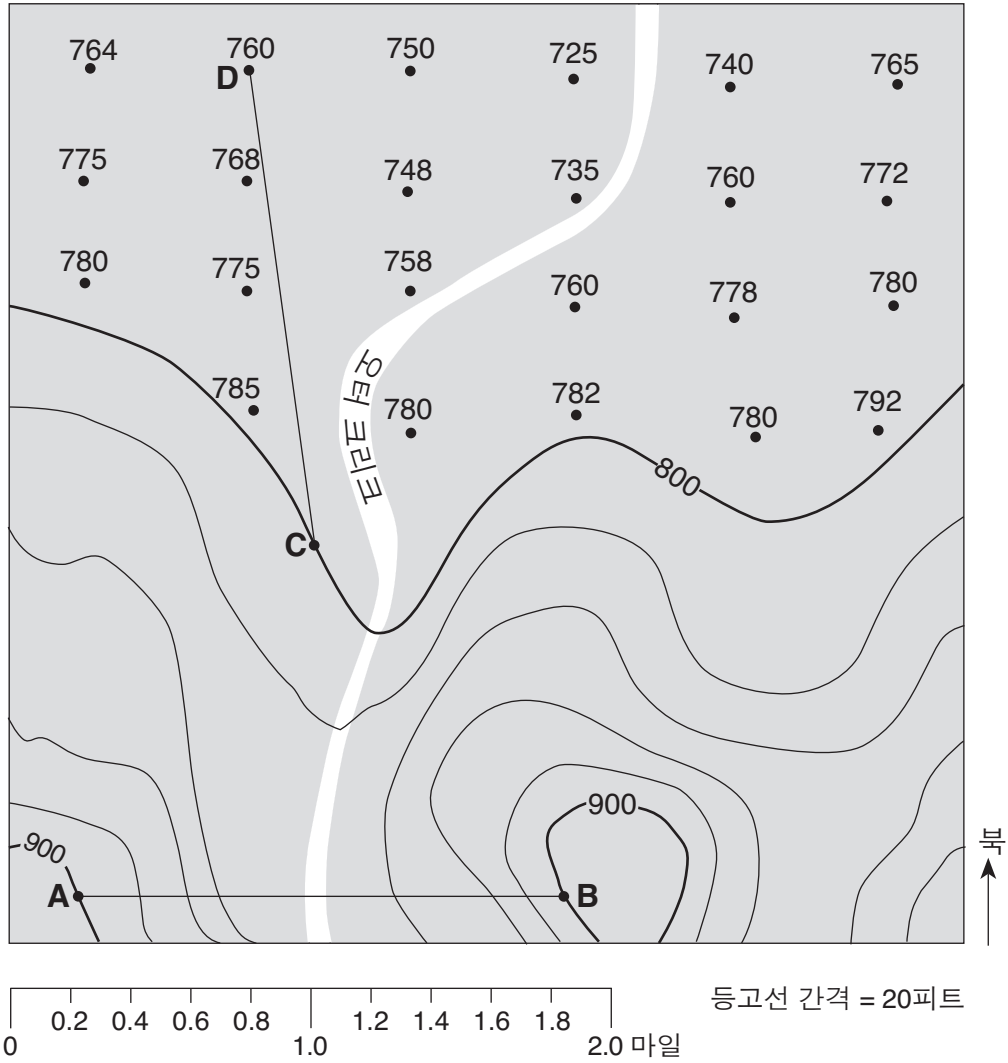
64 최종 온도: _____

설명: _____


65 _____

파트 C

66



67



68 기울기 = _____

69 _____

70 _____

71 _____

72 U자형: _____

V자형: _____

73 점: _____

설명: _____

74 _____

75 _____

76 _____

77 _____

78 (1) _____

(2) _____

79 (1) _____

(2) _____

80 (1) _____

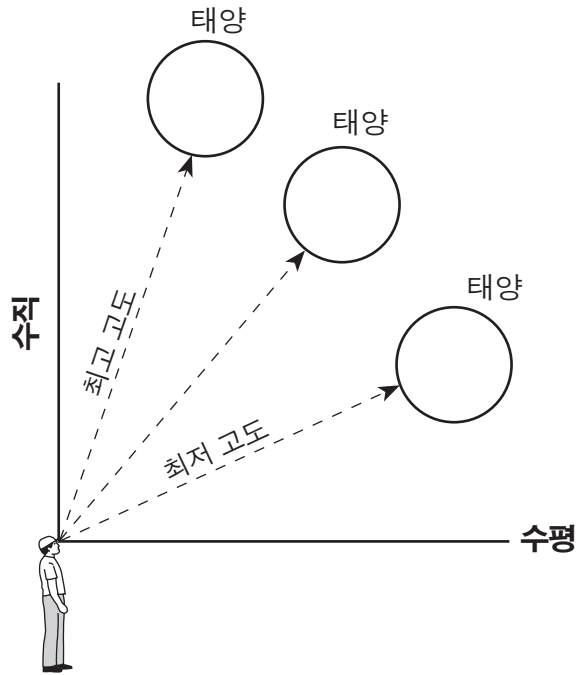
(2) _____

81 _____

82 위치 문자: _____

83 _____ 시간

84



85 상대적 깊이: _____

상대적 온도: _____

