

물리 분야 지구 과학

2015년 6월 19일, **금요일** — 오전 9시 15분부터 오후 12시 15분까지만 실시

답안 책자

학생명..... 성별: 남자 여자

교사명.....

학교명..... 학년

파트 B-2와 파트 C에 대한 답을 이 책자에 기록하십시오.

파트 B-2

51 빙하: _____

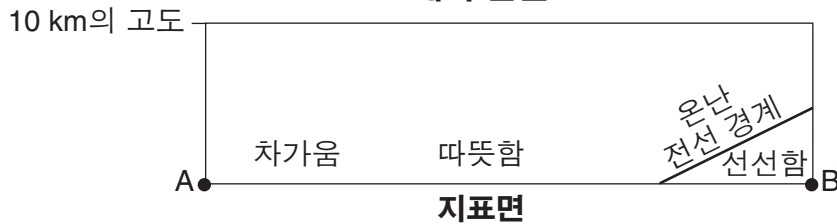
해수면: _____

52 동그라미 하나를 그리십시오: 육지 바다

지표면의 상대적인 온도: _____

53

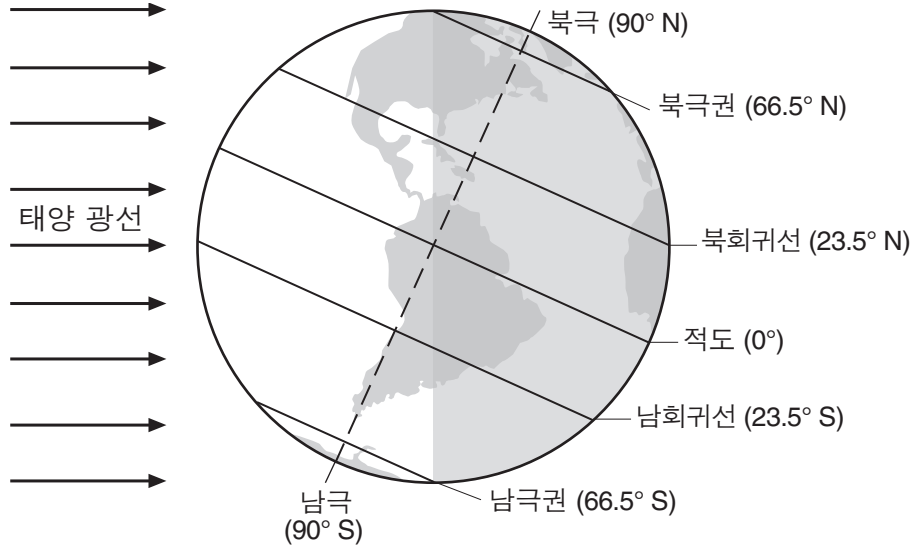
대기 단면도



54 _____

55 _____ 시간

56




12월 21일

(실제 비율과 다름)

57 _____ °

58



59

60

61

_____ 와/과 _____

62

_____ C°/월

63

64

65

_____ 해류

파트 C

66 X에서의 기온: _____

X에서의 수증기 함유량: _____

67 _____ 피트

68

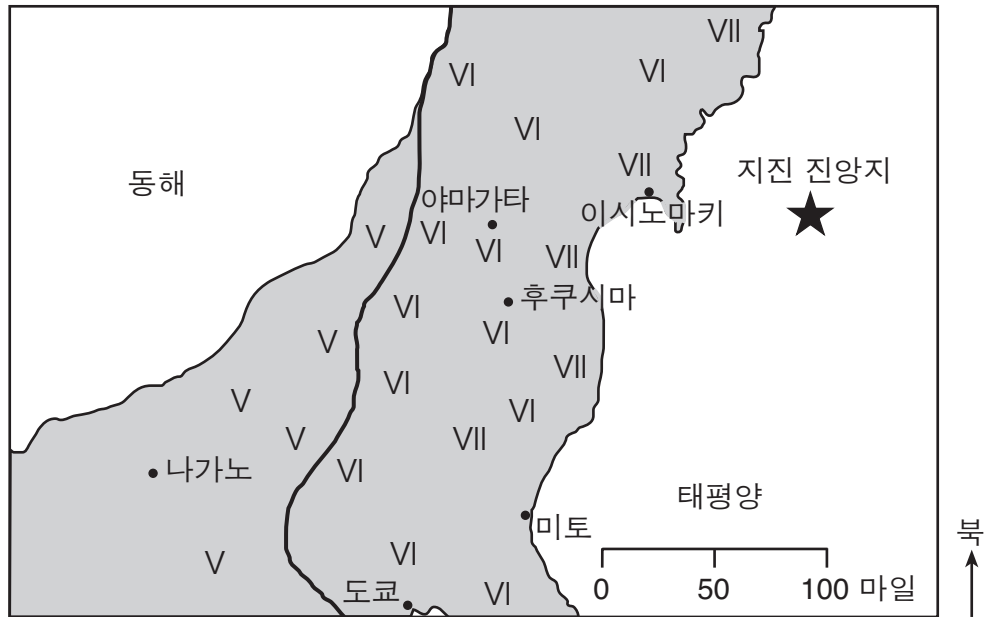


69 _____

70 _____

71 _____

2011년 3월 11일 일본의 지진



- | | |
|--|----------------|
| | 주차된 차들이 흔들림 |
| | 접시와 창문이 부서짐 |
| | 모든 사람이 느낌 |
| | 몇몇 무거운 가구가 움직임 |
| | 굴뚝과 기념물이 무너짐 |
| | 건물들이 토대를 이탈함 |

74 _____

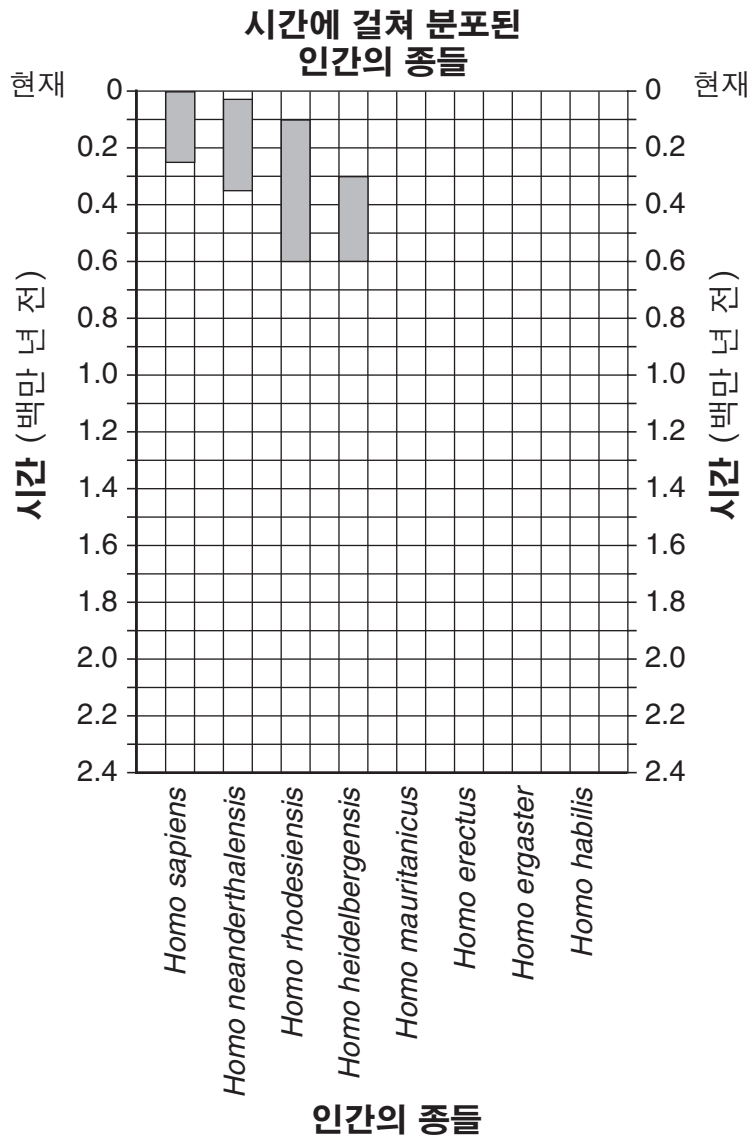
75 _____

76 _____

77 _____ **개월**

78 _____

79



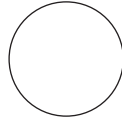
80 _____

81 *Homo* _____ 와/과 *Homo* _____

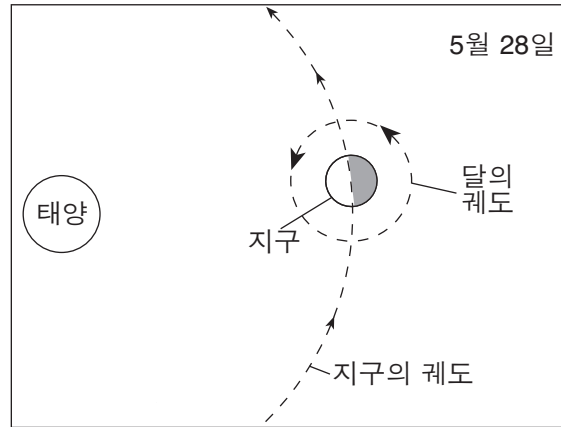
82 _____ **시대**

83 _____ 시간 _____ 분

84



85



(실제 비율과 다름)

