

ENTORNO FÍSICO CIENCIAS DE LA TIERRA

Martes, 20 de junio de 2006 — 9:15 a.m. a 12:15 p.m., solamente

FOLLETO DE RESPUESTAS

Masculino


Estudiante Sexo: Femenino

Profesor

Escuela Grado

Conteste todas las preguntas de la Parte B-2 y la Parte C. Escriba sus respuestas en este folleto.

<input type="text"/>	Performance Test Score (Maximum Score: 23)	
Part	Maximum Score	Student's Score
A	35	
B-1	15	
B-2	15	
C	20	
Total Written Test Score (Maximum Raw Score: 85)		
Final Score (from conversion chart)		
Raters' Initials: Rater 1 Rater 2		



For Raters Only

53 _____

53

54 _____ a _____

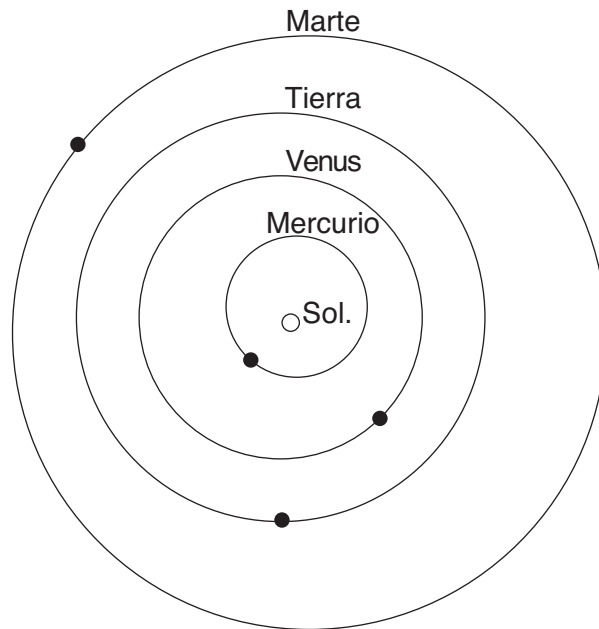
54

55 _____

55

56

Diagrama I

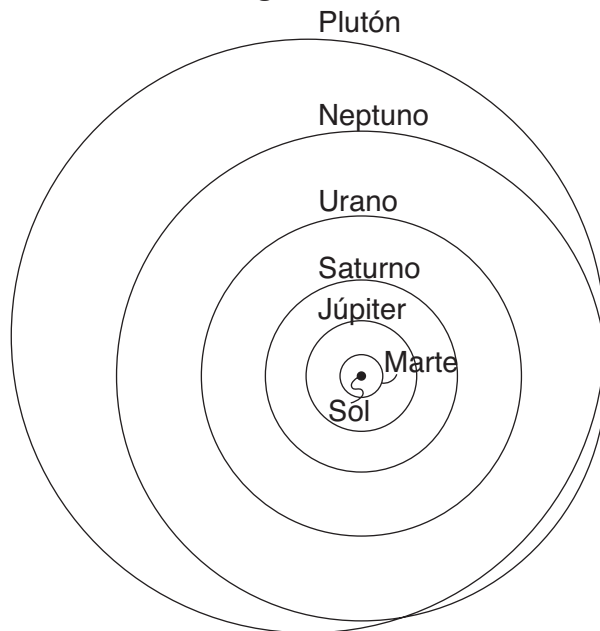


56

(No está dibujado a escala)

57

Diagrama II



(No está dibujado a escala)

57

58

58

59

59

60

60

**For Raters
Only**

61 _____ Époça

61

62 _____

62

63 _____

63

64 _____

64

**Total Score for
Part B-2**

Parte C

65 _____

66 _____

65

66

For Raters
Only

67 _____

67

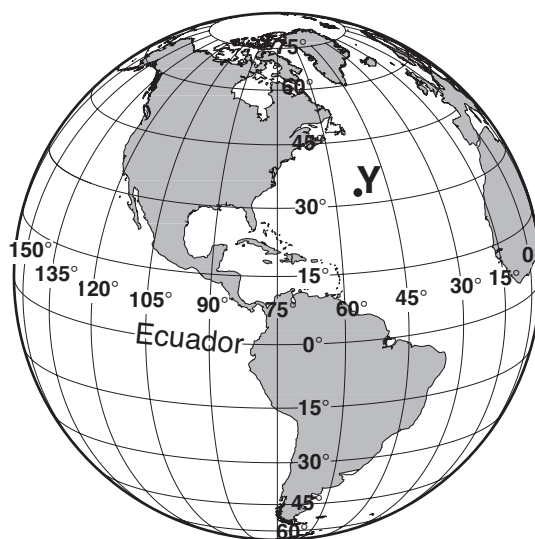
68 _____ pulgadas

68

69 _____

69

70



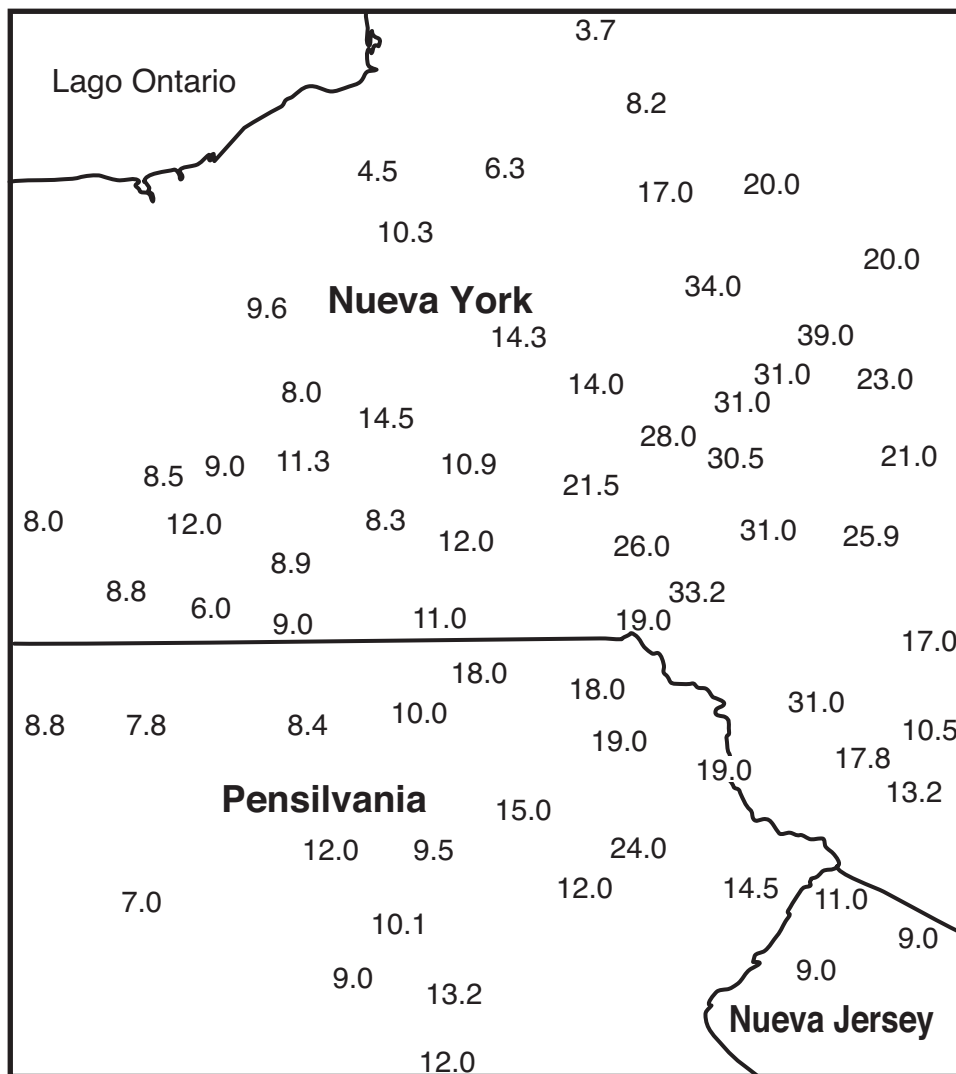
70

71 _____ %/hr

71

72

Mapa 1 Cantidad de nieve caída en diciembre (pulgadas)



72



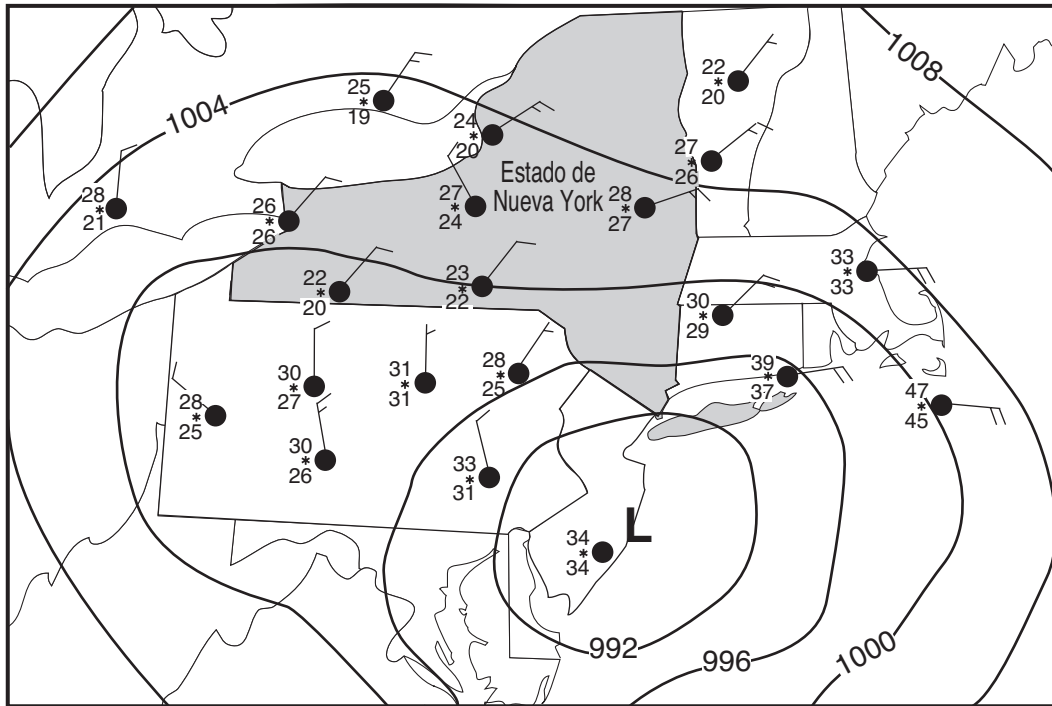
73

73



74

Mapa 2



74



Condiciones meteorológicas	Descripción
clima actual	
dirección del viento desde	
velocidad del viento (nudos)	
humedad relativa (%)	

75

75



76

76



For Raters Only

77 _____

77

78 _____

78

79 Se formó primero: _____

79

Se formó segundo: _____

Se formó último: _____

80 _____ cm

80

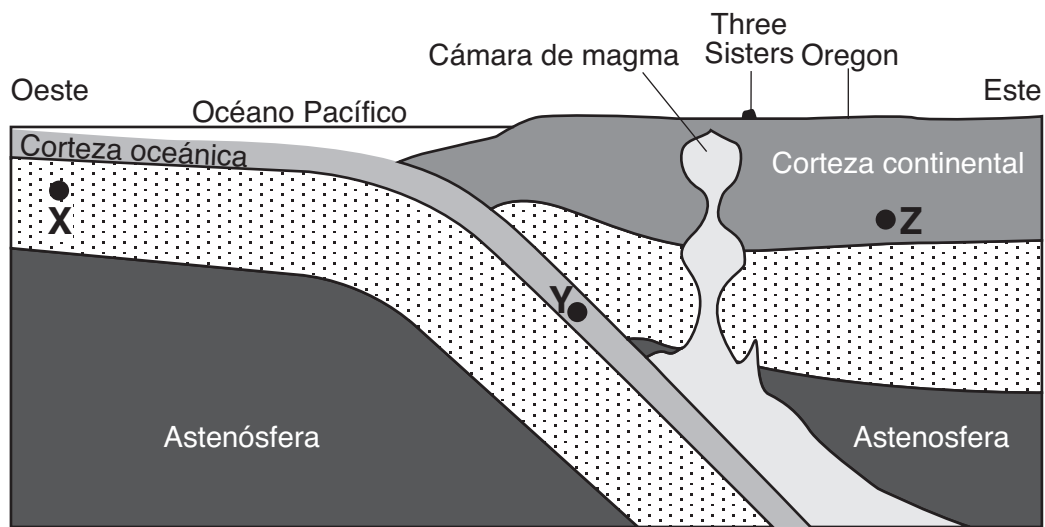
81 _____

81

82 y 83

82

83



(No está dibujado a escala)

Total Score for Part C