

ENTORNO FÍSICO CIENCIAS DE LA TIERRA

Viernes, 26 de enero de 2024 — 9:15 a.m. a 12:15 p.m., solamente

FOLLETO DE RESPUESTAS

Estudiante.....

Maestro.....

Escuela..... Grado.....

Escriba sus respuestas para la Parte B-2 y la Parte C en este folleto.

Parte B-2

51 _____

52 _____ millones de km

53 _____

54 Características de la superficie: _____

Descripción: _____

55 Atlanta: _____

Los Ángeles: _____

56 _____

57 **Época** _____

58 _____ **km³/a**

59 Actividad humana: _____

Efecto: _____

60 Temperatura del aire: _____

Precipitación: _____

61 _____

62 _____

63 _____

64 Temperatura de la superficie de Pherkad
(encierre una en un círculo): más fresco más caliente igual

Luminosidad de Pherkad (encierre una en un círculo): menor mayor igual

65 _____ → _____ → _____
 Más antiguo → Más joven

Parte C

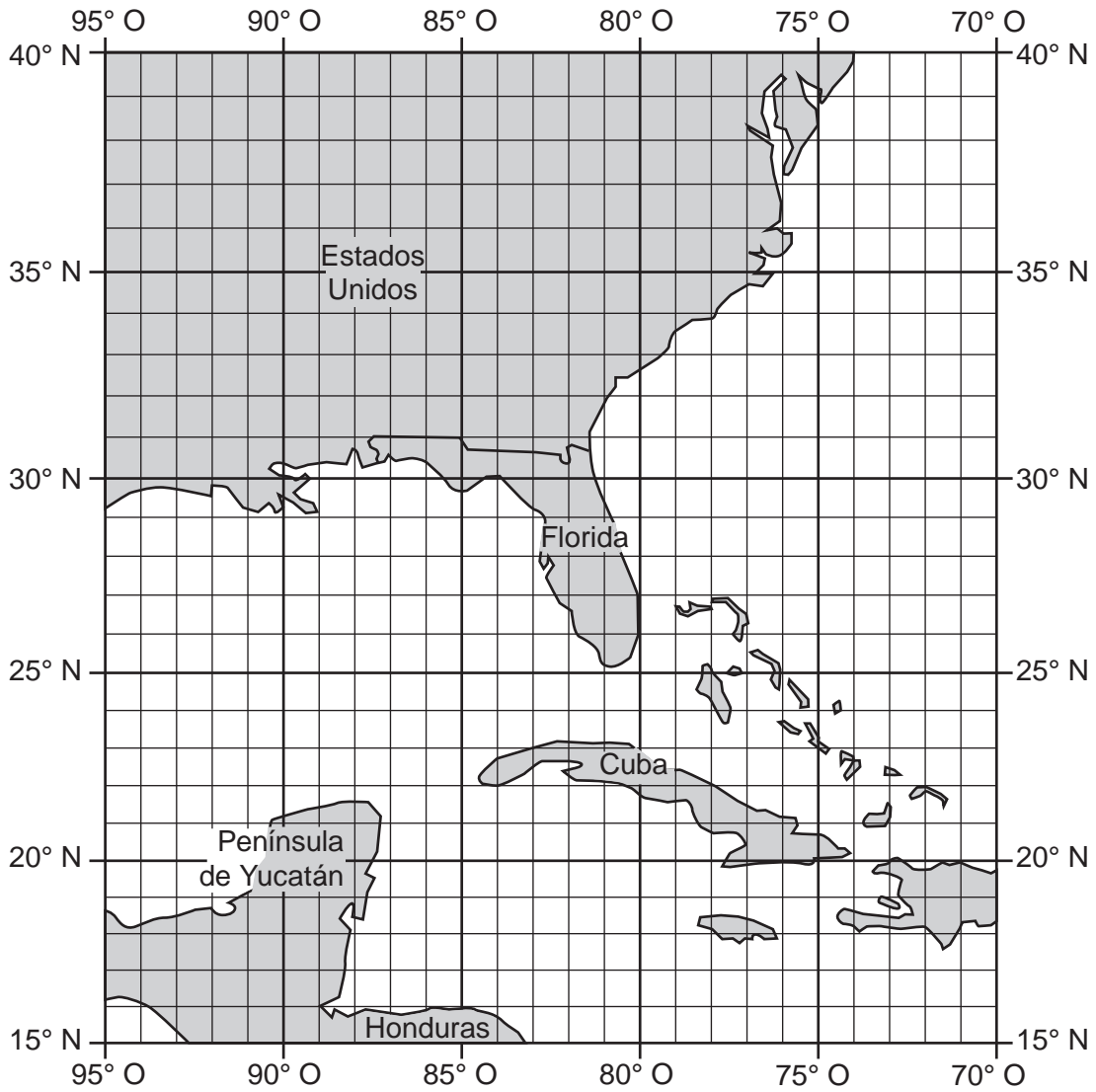
66 _____

67 _____

68 _____ cm

69

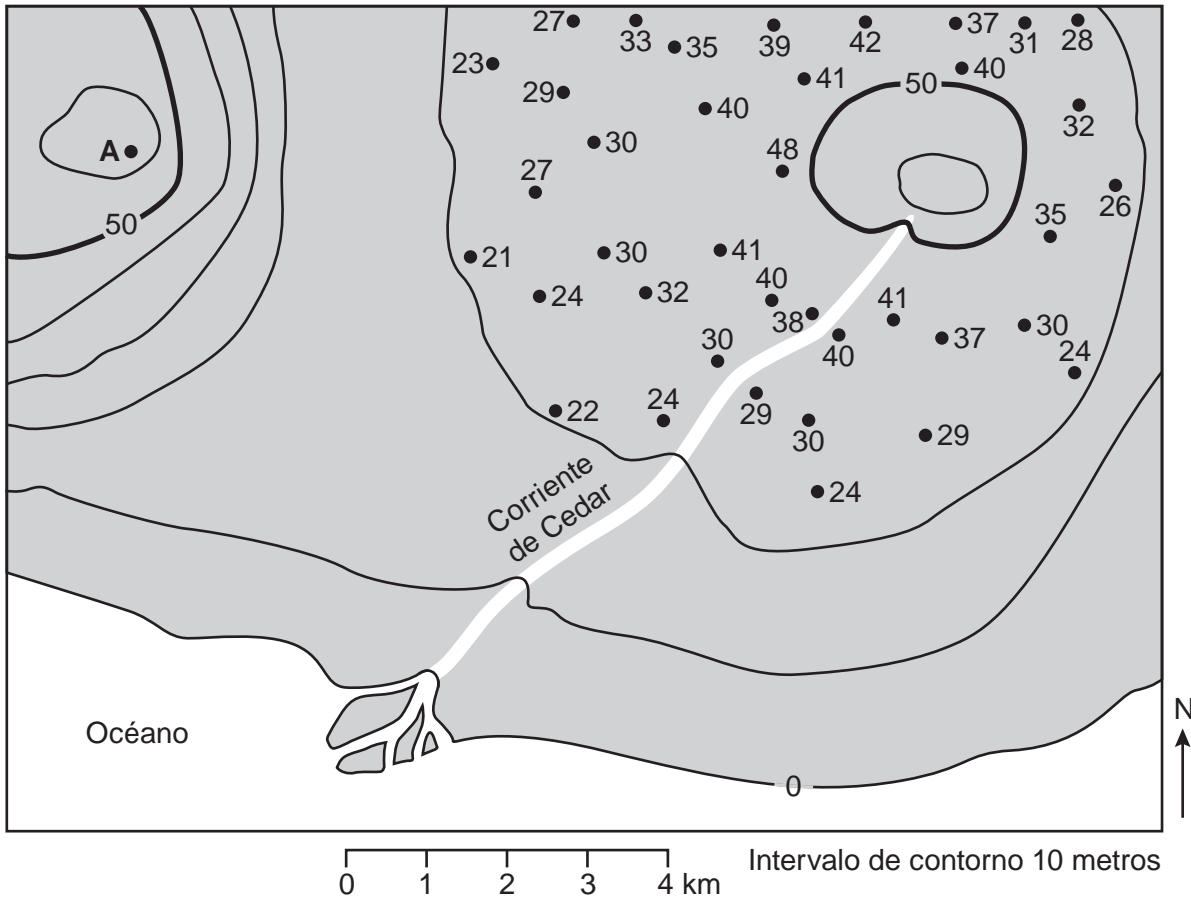
Huracán Michael



70 Categoría: _____

71 _____

72



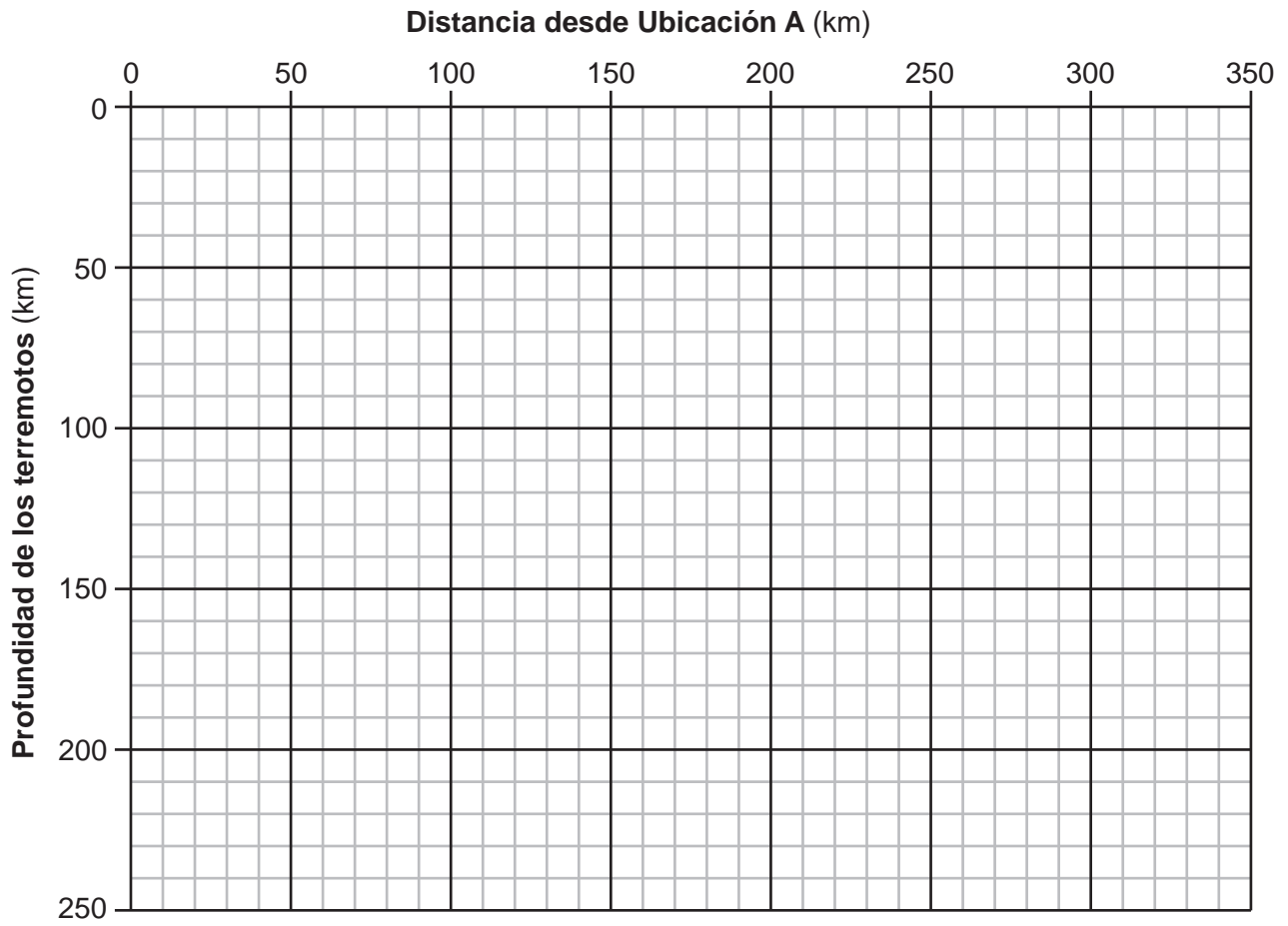
73 _____ m

74 _____

75 _____ km

76

Profundidad del terremoto desde la frontera de la placa a lo largo de la línea AB



77 Placa _____ y Placa _____

78 _____

79 _____

80 _____

81 Forma original del valle: _____

Forma glacial del valle: _____

82 _____

83 _____

84 _____

85 _____

