

ENTORNO FÍSICO CIENCIAS DE LA TIERRA

Viernes, 27 de enero de 2023 — 9:15 a.m. a 12:15 p.m., solamente

FOLLETO DE RESPUESTAS

Estudiante

Maestro

Escuela Grado

Escriba sus respuestas para la Parte B-2 y la Parte C en este folleto.

Parte B-2

51 _____

52 **Período** _____

53 Nombre del mineral: _____

Uso del mineral: _____

54 _____

55 Fecha: _____

56 _____

57 _____

58 Planeta terrestre: _____

Planeta joviano: _____

59 _____

60 _____ millones de km

61 _____ veces mayor

62 _____

63 Placa substrayente: _____

Placa dominante: _____

64 Dorsal _____

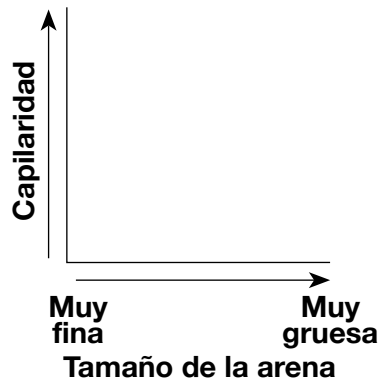
65 _____

Parte C

66

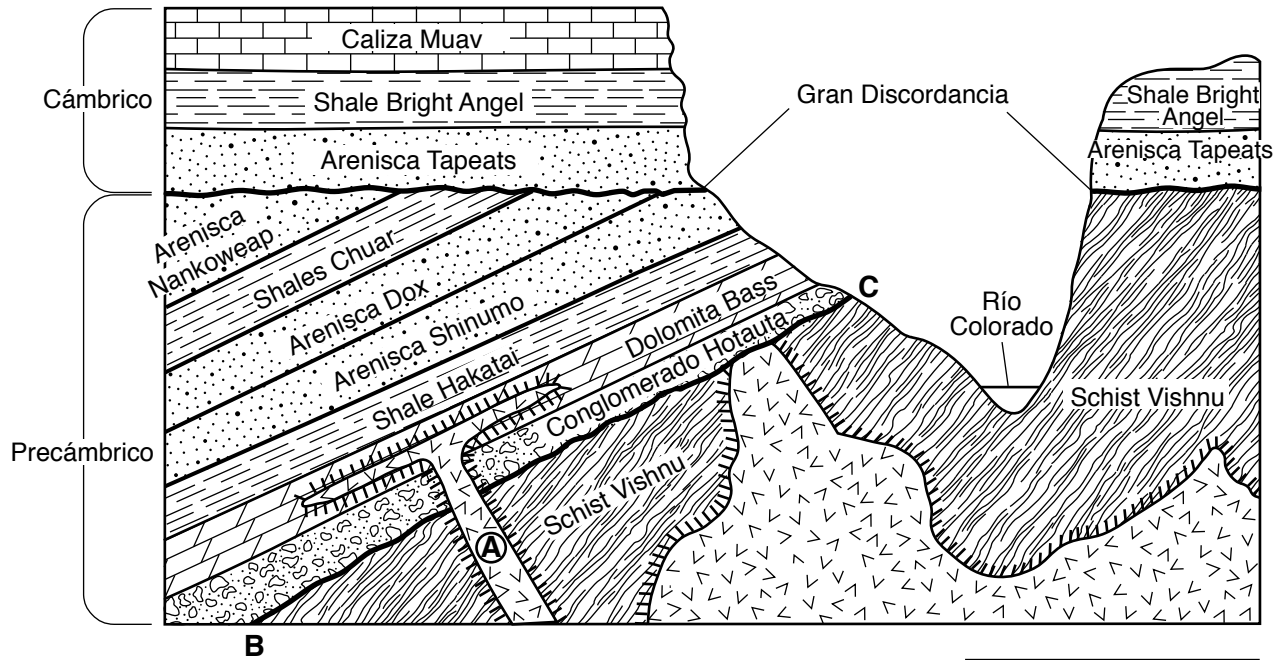


67



68 _____ cm/s

69



Clave	
	Roca ígnea
	Metamorfismo de contacto

70 Proceso 1: _____

Proceso 2: _____

71 _____

72 _____

73 _____

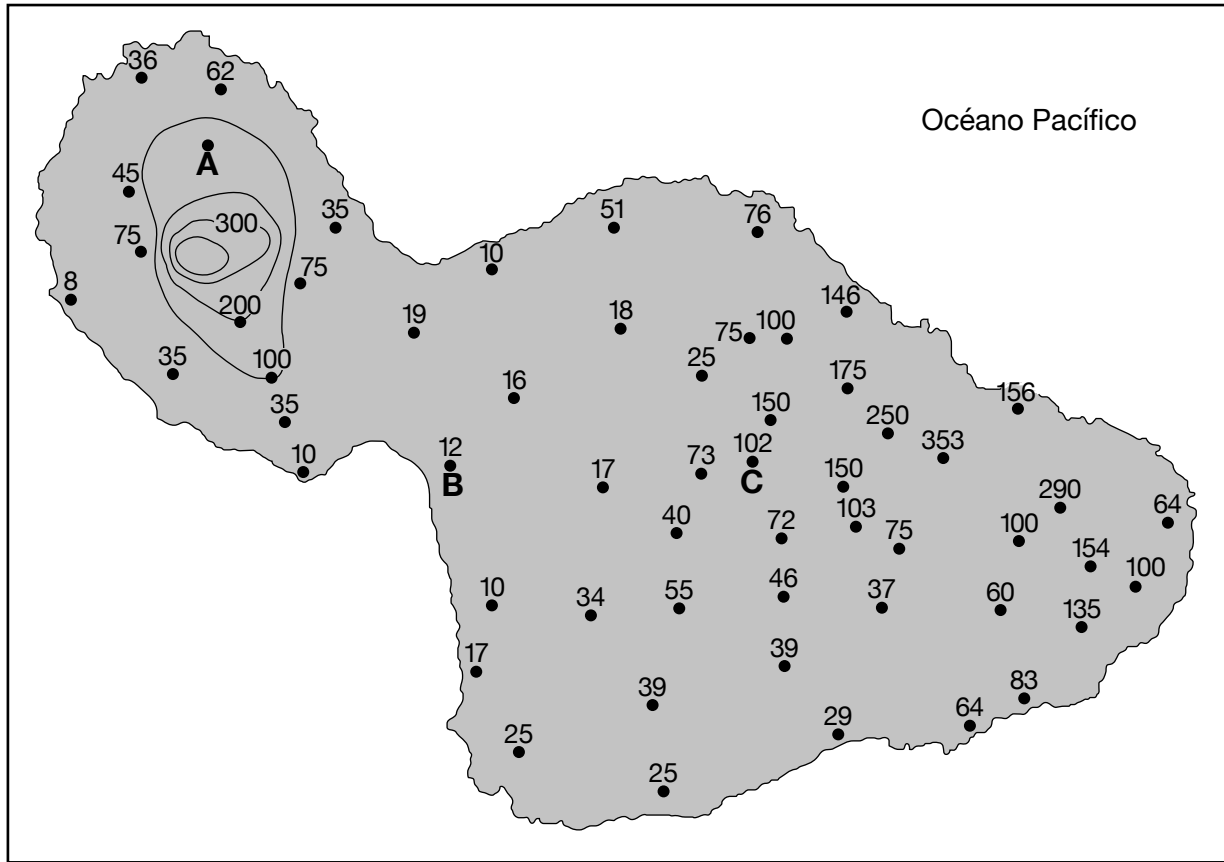
74 Frente _____

75 _____

76 _____

77 _____

Mapa del promedio de precipitaciones anuales para Maui



79 _____ cm

80 _____ cm/km

81 _____

82 _____ d

83 _____

84 _____

85 Temperaturas relativas de verano: _____

Temperaturas relativas de invierno: _____

