

The University of the State of New York
REGENTS HIGH SCHOOL EXAMINATION

世界歷史和地理

僅限用於2005年1月27日（星期四）上午9:15時至下午12:15時

學生姓名 _____

學校名稱 _____

用印刷體將你的姓名和校名填寫在上面的直線上，然後翻到本考題本的最後一頁，即本次考試第I部分的答案紙。請沿著虛線把最後一頁折疊起來，慢慢地小心地將答案紙撕下，然後在你的答案紙上填寫各項台頭。現在你要在你的論文考題本內的每頁的台頭上用印刷體填入你的姓名和校名。

本次考試共有三部分。你必須要回答每一部分的全部**所有**題目。用黑色或深藍色水墨原子筆回答論文考題。

第I部分包括五十道選擇題。將答案記錄在另外一張答案紙上。

第II部分包括一道以主題為主的申論題。在本考題的第一頁起開始回答本申論題。

第III部分的申論題是以下列文件為基礎：

第IIIA部分包含各種文件。每一文件後有一或一個以上的問題要回答。在本考題本上，將各題的答案寫在各問題之後的直線上。務必在這一部分的第一頁上填入你的姓名和校名。

第IIIB部分包括一個以各文件為基礎的短文寫作題。將短文寫作題的答案寫在本考題本的第七頁。

在你回答完本次考試後，你必須在第I部分答頁上簽署聲明，表明你沒有非法得到本次考試的試題或答案，並在本考試過程中既沒有給予過也沒有接受任何幫助。你如果不簽署本聲明，你的考試答頁不會被接受。

在沒有給予指示令前不得打開本考題本。

第I部分

請回答本部分的所有試題。

答卷說明(1-50): 在另外的答案紙上, 根據每一項題目的陳述或問題, 填入代表最適當答案的編號。

- 1 [考古學家在新發現後修改了歷史解釋]
[新研究揭露第一次世界大戰 (World War I) 的起因]
[電腦技術幫助重建古代語言]

這些新聞標題表明對歷史事實的理解

- (1) 長期保持不變
 - (2) 代代相傳
 - (3) 反映了各種不同的個人觀點
 - (4) 根據可獲得的證據而形成
- 2 新石器革命 (Neolithic Revolution) 的一個重要結果是什麼?
- (1) 食物供應更加可靠。
 - (2) 獲得了新的能源。
 - (3) 人們更多地過起游牧生活。
 - (4) 人口減少。
- 3 海路和陸路商貿路線的增加導致
- (1) 人們對發明和技術的興趣降低
 - (2) 有限的人口遷移
 - (3) 文化傳播增加
 - (4) 自給自足農業的發展
- 4 在使用絲綢之路之前, 早期中國如何受到地理的影響?
- (1) 中國西部和西南部的山脈和沙漠減緩了思想交流。
 - (2) 西北地區提供了許多適合於耕種的肥沃土地。
 - (3) 三大主要河系提供了抵禦侵略的屏障。
 - (4) 東部沿海缺乏深水港口, 使中國難以同其他國家發展貿易。

- 5 哪個標題能夠最恰當地補充以下摘要片斷?

- I. _____
- A. 沙漠、山川和海洋形成的天然疆界
 - B. 每年一度的洪水使農田更加肥沃
 - C. 古老的中央王國
 - D. 出產紙莎草 (papyrus plant)

- (1) 埃及—尼羅河的賞賜
- (2) 美索不達米亞 (Mesopotamia) — 兩河之間的土地
- (3) 中國的悲哀—黃河
- (4) 哈拉巴 (Harappa) — 印度河畔的城市

- 6 • 羅馬婦女可以擁有財產。
• 羅馬婦女可以訂立遺囑, 把財產留給她們選擇的任何人。

從這些事實得出的一個有效結論是羅馬婦女

- (1) 享有選舉權
- (2) 享有一些合法權利
- (3) 與男人平等
- (4) 可以擔任政治職位

- 7 哪種信仰與喬達摩·悉達多 (Siddhartha Gautama) (佛祖) 的教導聯繫最緊密?

- (1) 人們生來就屬於一個特定社會等級。
- (2) 信仰者必須遵守十誡 (Ten Commandments)。
- (3) 信徒必須在齋月 (Ramadan) 期間齋戒。
- (4) 人們可以透過遵守八正道 (Eight-Fold Path) 來克服他們的欲望。

- 8 哪個帝國對於早期俄羅斯的發展影響最大?

- (1) 羅馬 (Roman)
- (2) 拜占庭 (Byzantine)
- (3) 埃及 (Egyptian)
- (4) 不列顛 (British)

9. 尊敬父母
 • 維護家族榮耀
 • 尊重所有長輩

哪個詞語與這三種行為關係最緊密？

- (1) 涅槃 (nirvana) (3) 孝道 (filial piety)
 (2) 泛靈論 (animism) (4) 朝聖 (朝覲) (hadj [hajj])

請根據下面的短文和你的社會學知識回答第10題。

... 我們無法估量損失有多麼巨大，因為上述商人每天都帶走我們的臣民、國家之子，我國貴族、諸侯和親戚的子嗣，因為這些盜賊和狼心狗肺的人掠奪他們，試圖佔有他們一心想獲得的這個王國的財物；他們掠奪、販賣；閣下，這種腐化和放肆[毫無節制]如此之嚴重，已使我國的人口接近枯竭，而殿下您不應在您的統治之下容許和接受這種行徑。...

— Nzinga Mbemba (阿豐索國王, King Affonso) 寫給葡萄牙國王的信, 1526年

10 這篇短文描述了非洲歷史中的哪個事件？

- (1) 探索非洲內陸
 (2) 在奈及利亞 (Nigeria) 發現金礦
 (3) 比利時佔領剛果 (Congo)
 (4) 大西洋奴隸貿易

11 中世紀歐洲和早期日本的封建制度均具有的特點是

- (1) 分權化 (decentralized) 的政體
 (2) 宗教多樣性
 (3) 更加重視教育
 (4) 形成一個富裕的中產階級

12 馬可·波羅 (Marco Polo) 和伊本·巴圖塔 (Ibn Battuta) 的旅程具有相似之處，因為這些旅程都

- (1) 導致了民族主義運動
 (2) 幫助傳播宗教領袖的思想
 (3) 促進了貿易的擴展
 (4) 支援民主的政體

13 在1500年代早期，馬丁·路德 (Martin Luther) 的「九十五條論綱 (Ninety-five Theses)」，亨利八世 (Henry VIII) 的「最高治權法案 (Act of Supremacy)」，以及約翰·卡爾文 (John Calvin) 的《基督教要義》(Institutes of the Christian Religion) 造成了

- (1) 天主教廷權力削弱
 (2) 英國都鐸 (Tudor) 王朝民族主義情緒高漲
 (3) 歐洲封建貴族權勢增加
 (4) 東正教 (Eastern Orthodox) 基督徒之間的重大矛盾

請根據下面的資料和你的社會科學知識回答第14題。

1635年下令日本閉關鎖國的佈告

- 嚴禁日本船隻前往外國。
- 日本人不得出國。對企圖偷渡出國者必須處決。必須扣押涉嫌參與的船隻，拘留船主，並且必須向更高主管當局報告此事。
- 如有任何日本人在海外居住後返回，則必須被處以死刑。...
- 任何揭發教徒 (基督教徒) 住所者，必將獲得相應的獎賞。任何人如揭發高職教士的住所必將獲得一百銀元。對於揭發低職教士者，必須視情況相應地設置獎勵。...

資料來源：David John Lu, *Sources of Japanese History*, McGraw-Hill

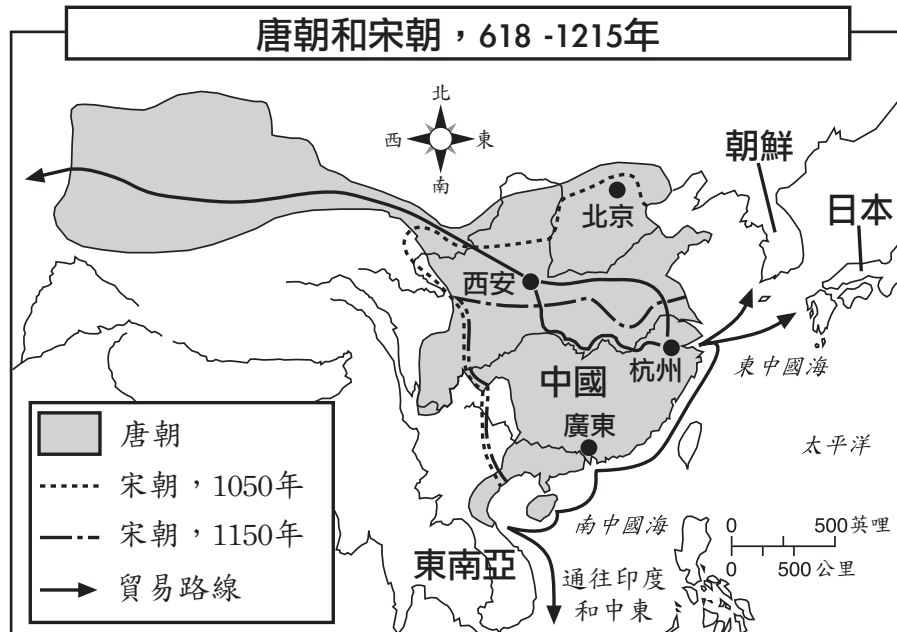
14 這些法令反映了日本的什麼政策？

- (1) 極權主義
 (2) 姑息主義
 (3) 相互依賴
 (4) 孤立主義

15 在商業革命 (Commercial Revolution) 時期，哪些地方最容易形成貿易中心？

- (1) 山區 (3) 水路沿岸
 (2) 草原附近 (4) 凍原 (tundra) 上

請根據下面的地圖和你的社會學知識回答第16題。



資料來源：Goldberg和DuPré, *Brief Review in Global History*, Prentice Hall (經改編)

16 根據這幅地圖，下面哪項關於中國唐朝和宋朝的結論是正確的？

- (1) 大部分貿易路線始自北京。
- (2) 中國的陸路貿易路線將中國連接到日本。
- (3) 這些朝代統治之下的區域沒有變化。
- (4) 中國與其他國家和地區有著廣泛的貿易往來。

17 在英國，《大憲章》(Magna Carta)、清教革命 (Puritan Revolution)、光榮革命 (Glorious Revolution) 以及英國《權利法案》(Bill of Rights) 導致了下列哪項的形成？

- (1) 獨裁
- (2) 專治的君主
- (3) 神權政體 (theocracy)
- (4) 有限的君主立憲政體

18 對阿茲提克 (Aztec)、瑪雅 (Maya) 和印加 (Inca) 農業體系的研究表明，這些文明

- (1) 依靠機械化的農業技術
- (2) 彼此之間開展廣泛的食品貿易
- (3) 借助創造性的農耕技術適應他們的環境
- (4) 依賴單一作物經濟

19 1600年代的許多歐洲君主都主張自己應掌握絕對的統治權，因為他們

- (1) 需要保衛他們的國家免受來自西半球的威脅
- (2) 認為所有人都應有權擁有一個賢明的統治者
- (3) 所掌握的治國權力是神賜予的
- (4) 認為共產主義是最優越的政治制度

20 日心說 (heliocentric model)、歸納推理的發展以及笛卡爾 (Descartes) 的著作都與哪場革命有關？

- (1) 新石器 (Neolithic)
- (2) 農業
- (3) 綠色
- (4) 科學

21 哪種思想成為啟蒙運動 (Enlightenment) 時期的中心信仰？

- (1) 運用推理將會使人類進步。
- (2) 數學可以用來解決人類的所有問題。
- (3) 古羅馬人擁有最佳政體。
- (4) 人們應把天賦權利讓予其統治者。

請根據下列陳述和你的社會學知識回答第22題。

陳述A：我們工作的地方又吵鬧、又危險。我們一遍又一遍地重複同樣的工作。許多工人，往往是小孩，失去了手指、四肢，甚至生命。

陳述B：政府不應干預商業，這樣做會破壞供求平衡。

陳述C：政府有責任干預，從而盡可能帶給人民幸福安康的生活。

陳述D：農業技術和實踐的進步使食物和原料的供應增加，導致農民從農村向城市流動。

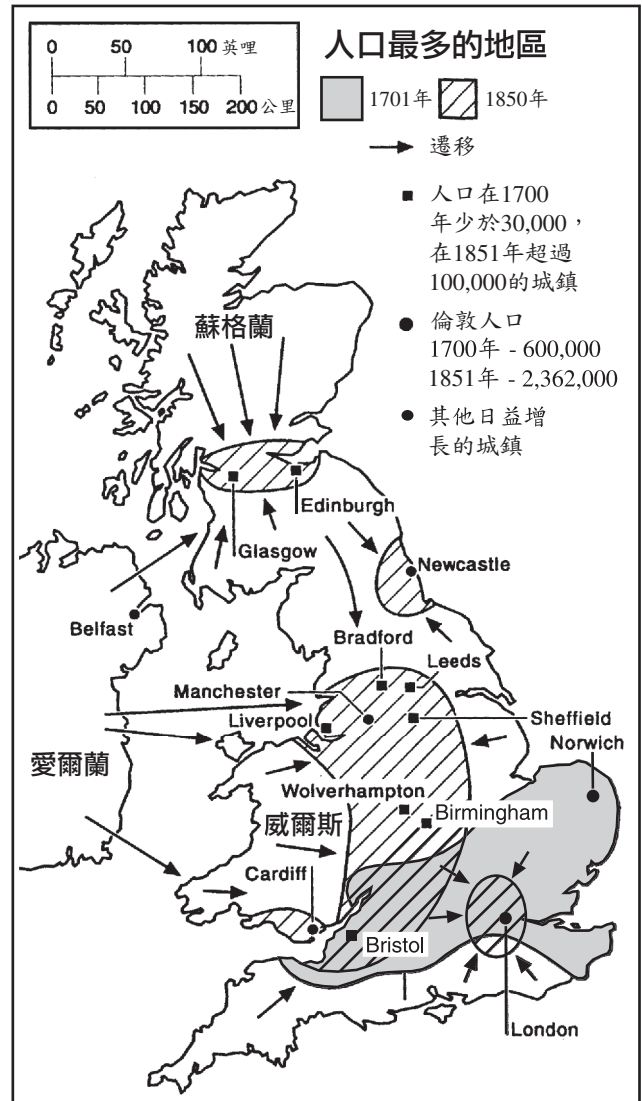
22 所有這些陳述所描述的事件或觀點都涉及

- (1) 新教改革 (Protestant Reformation)
- (2) 商業革命 (Commercial Revolution)
- (3) 工業革命 (Industrial Revolution)
- (4) 柏林會議 (Berlin Conference)

23 市場經濟的一項主要原則是什麼？

- (1) 生產工具由國家控制。
- (2) 供求關係決定產量和價格。
- (3) 就業機會由社會階層決定。
- (4) 公司企業由人們共同所有。

請根據下面的地圖和你的社會學知識回答第24題。



資料來源：World History on File, 1999 (經改編)

24 這幅地圖是下列哪項關於1701年至1850年之間英國人口的結論的最有力憑證？

- (1) 政治動蕩使農村人口流動到城鎮。
- (2) 許多人從倫敦 (London) 地區流動到利物浦 (Liverpool) 和伯明罕 (Birmingham) 週圍的地區。
- (3) 大多數城市地區的面積有所減少。
- (4) 有些城市和城鎮人口激增。

- 25 白人的負擔。
 「挑起白人的負擔—
 派來你們最優秀的子弟—
 去吧，讓你們的子弟離家遠去
 去滿足你們的俘虜的需要；
 在沈重的甲冑中，侍奉
 煩擾和野蠻的人們—
 你們新俘獲的憂鬱的人們，
 一半是魔鬼，一半是孩子。...」
 —吉卜林 (Rudyard Kipling)，1899年
- 與吉卜林的這節詩關聯最緊密的一種信念是西方列強有責任
- (1) 向他們所征服的人們學習
 - (2) 教授其殖民地如何生產製成品
 - (3) 開化他們統治的民眾
 - (4) 同樣歡迎欠發達國家
- 26 卡爾·馬克思 (Karl Marx) 的著作所包含的兩個重要思想是什麼？
- (1) 適者生存和自然選擇
 - (2) 階級鬥爭和革命性變化
 - (3) 分權 (separation of powers) 和制衡體系 (checks and balances)
 - (4) 一神論和宗教寬容
- 27 在1845年至1860年期間，哪個因素造成愛爾蘭人口大幅度減少？
- (1) 饑荒
 - (2) 內戰
 - (3) 瘟疫
 - (4) 對抗西班牙的戰爭
- 28 奧斯曼帝國 (Ottoman Empire) 擴展其疆界的能力依賴於
- (1) 來自西歐的軍事援助
 - (2) 與美洲的廣泛貿易
 - (3) 第一次世界大戰期間形成的聯盟
 - (4) 處於歐亞之間的戰略位置
- 29 在第一次世界大戰期間，許多政府採取的一項行動是
- (1) 鼓勵政治歧見和新聞自由
 - (2) 透過調節經濟體制來增加產量
 - (3) 阻止婦女在工廠中找工作
 - (4) 透過增加關稅來鼓勵貿易

- 30 第一次世界大戰後的凡爾賽條約 (Treaty of Versailles) 激怒了許多德國人，因為這項條約
- (1) 將德國劃分為共產主義和非共產主義區域
 - (2) 使德國皇帝復位
 - (3) 要求所有講德語的歐洲人返回德國
 - (4) 強迫德國支付鉅額戰爭賠款
- 31 「... 法西斯主義原則的基石就是其關於國家、國家的主體、職能和目標的概念。對於法西斯主義而言，國家是絕對的，個人和團體是相對的。個人和團體只要來自於國家內部，就可以被接納。自由國家不去指揮社會運作，不去指導社會的物質和精神進步，而是將其活動局限於記錄結果。法西斯國家十分清醒，並且有自己的意志。出於此原因，可將其描述為具有「道德性」...」
- 本尼托·墨索里尼 (Benito Mussolini)，《法西斯主義：原則和制度》(Fascism: Doctrine and Institutions)，Howard Fertig 出版，1932年
- 下列哪項陳述表達了這篇短文的中心思想？
- (1) 人民有權推翻治理無方的政府。
 - (2) 國家的重要性高於個人。
 - (3) 國家的權威來源於個人的權力。
 - (4) 建立帝國將導致分裂和混亂。
- 32 哪個事件與在歐洲開始第二次世界大戰 (World War II) 的關聯最緊密？
- (1) 納粹軍隊入侵波蘭
 - (2) 「慕尼黑協定」(Munich Agreement) 的簽署
 - (3) 柏林牆的修建
 - (4) 費迪南大公 (Archduke Franz Ferdinand) 遇刺
- 33 儘管古巴失去了許多國家的支援，卡斯楚 (Fidel Castro) 繼續執政的一個原因是他
- (1) 建立了與美國的自由貿易
 - (2) 反對共產主義
 - (3) 禁止信仰天主教 (Catholicism)
 - (4) 提高了許多古巴人的生活水準

請根據下面的陳述和你的社會學知識回答第34題。

... 各方同意，在歐洲或北美洲針對他們之中一個或多個國家的武裝攻擊，須被視為針對他們所有國家的攻擊，並因此同意，如發生此類武裝攻擊，各國出於行使單獨或聯合自衛的權利... 將立即透過單獨或與其他各國協同採取其視為必要的行動，包括使用武力，來幫助受到此類攻擊的一國或多國，以期恢復和維持該... 地區... 的安全。...

- 34 哪個組織在其憲章中包括了這段陳述？
- (1) 華沙條約 (Warsaw Pact)
 - (2) 聯合國 (United Nations)
 - (3) 美洲國家組織 (Organization of American States)
 - (4) 北大西洋公約組織 (North Atlantic Treaty Organization)

35 俄羅斯的彼得大帝 (Peter the Great) 與中華人民共和國的鄧小平 (Deng Xiaoping) 的一個相似之處在於，他們都

- (1) 在各自的國家反對經濟和社會改革
- (2) 摒棄本國文化，青睞外國文化
- (3) 促進本國的經濟和技術現代化
- (4) 經歷了對其國家的外敵入侵，而且這種入侵幾乎成功

36 「... 蘇聯共產黨一向是，並且仍然是社會力量中自然存在和不可分割的一部分。

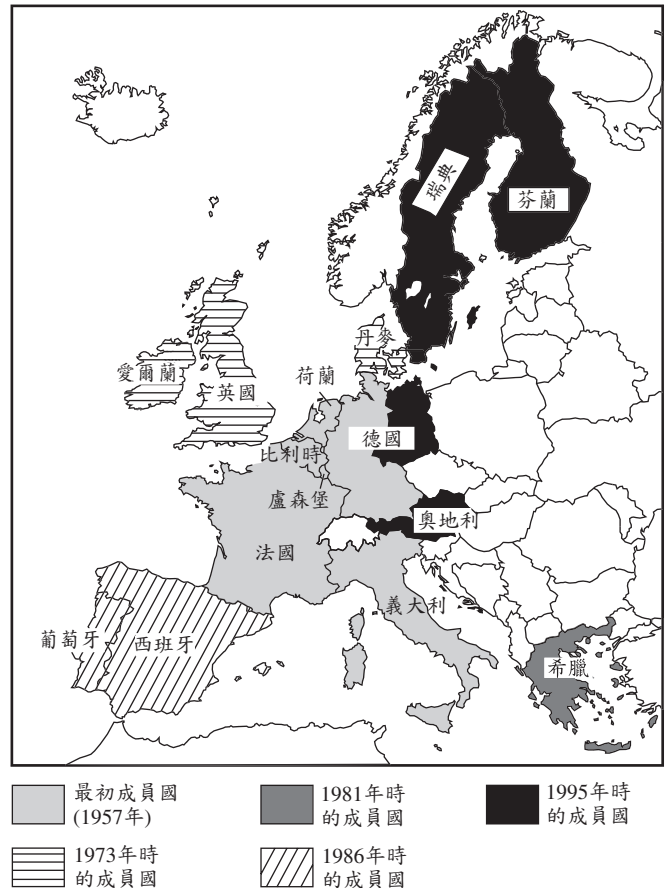
他們的合作將使「改革 (Perestroika)」最終目標的實現成為可能：在社會主義的框架中使我們的社會煥然一新，沿著前進的路線，實現一個人道、民主的社會主義。...

哪位領導人最有可能做出這項陳述？

- (1) 恩克魯瑪 (Kwame Nkrumah)
- (2) 莫罕達斯·甘地 (Mohandas Gandhi)
- (3) 本尼托·墨索里尼 (Benito Mussolini)
- (4) 米哈伊爾·戈巴契夫 (Mikhail Gorbachev)

請根據下面的地圖和你的社會學知識回答第37題。

歐盟的發展 1957 - 1995 年



資料來源：Elizabeth Gaynor Ellis和Anthony Esler, *World History: Connections to Today*, Prentice Hall, 1999 (經改編)

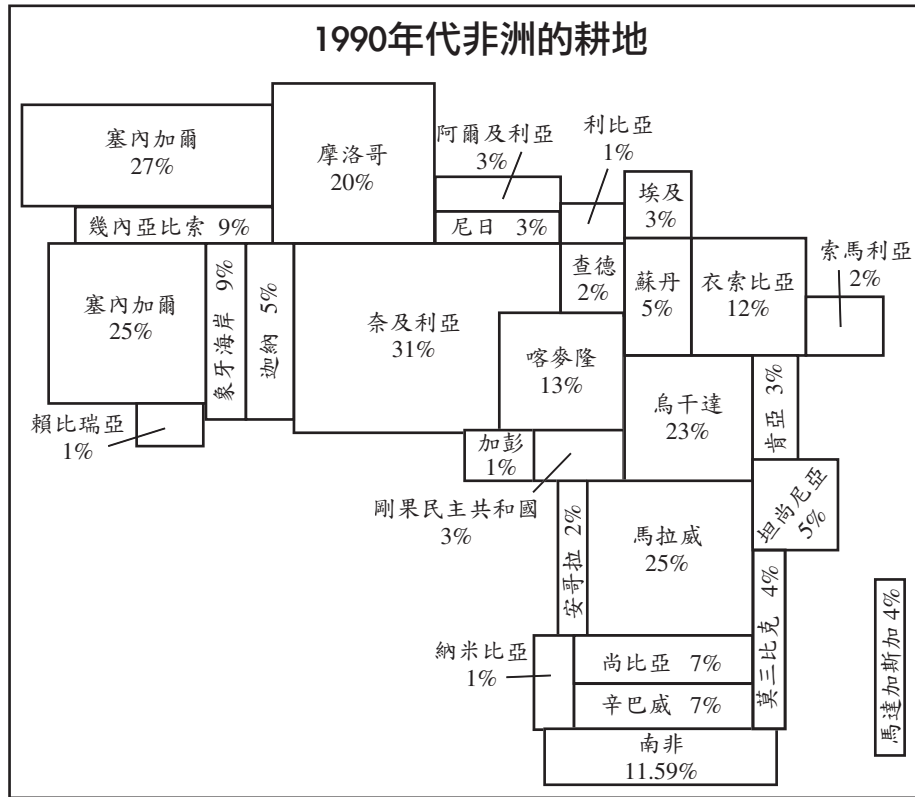
37 下面哪項關於歐盟 (EU) 的陳述最準確？

- (1) 所有歐洲國家都是成員國。
- (2) 自從1957年以來，成員國數量有所增加。
- (3) 所有成員國同時也是華沙條約的成員國。
- (4) 歐洲和美洲的相互依存得到了促進。

38 在20世紀後期，巴爾幹地區 (Balkans)、盧安達 (Rwanda) 和印度尼西亞的一個共同問題是什麼？

- (1) 處置核廢料
- (2) 民族或宗教衝突
- (3) 乾旱和饑荒
- (4) 城市中心過於擁擠

請根據下面的統計圖和你的社會學知識回答第39題。



資料來源：The 1998 Information Please Almanac, Houghton Mifflin (經改編)

39 根據這幅統計圖中的資料，下列哪項是關於1990年代非洲耕地的正確結論？

- (1) 非洲耕地的分佈不均勻。
- (2) 非洲的大部分耕地都位於南非。
- (3) 在1990年代，非洲的耕地有所增加。
- (4) 坦尚尼亞的耕地所佔百分比多於塞內加爾。

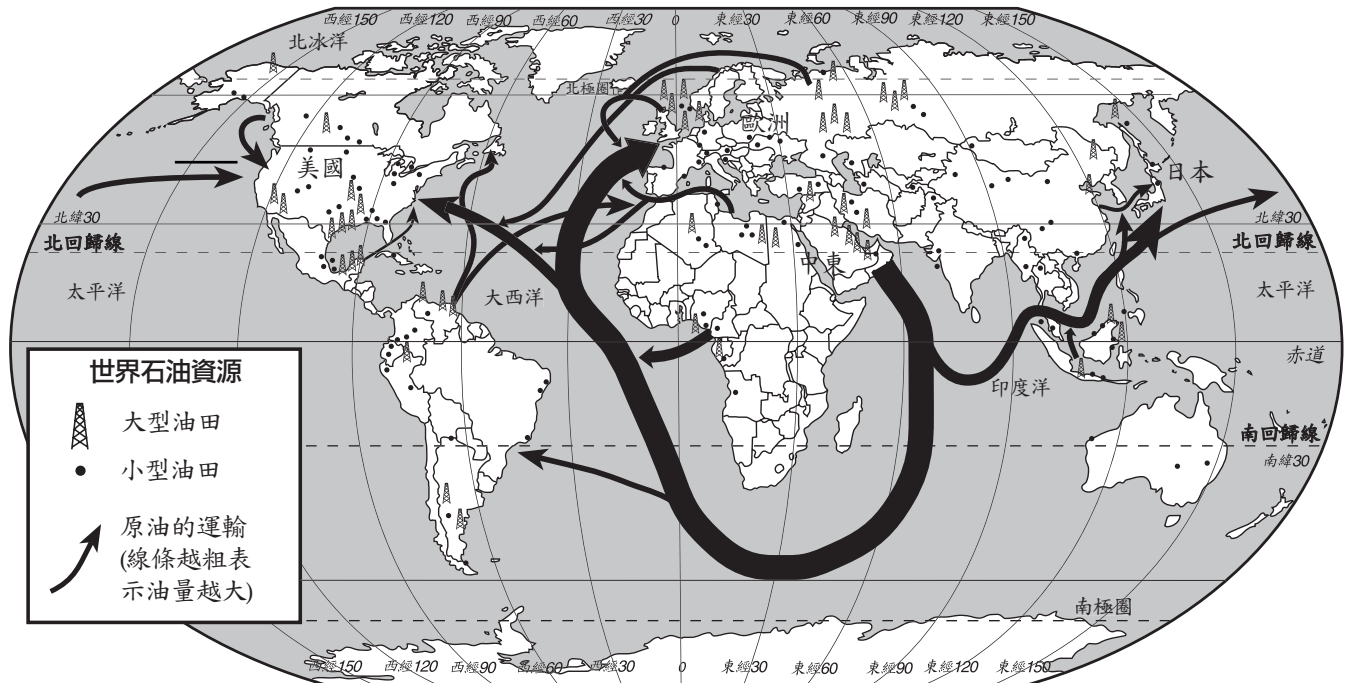
40 濫伐森林、酸雨和溫室效應都是重要的世界性問題，這些問題表明下列哪種需要？

- (1) 各國合作以減少污染和環境破壞。
- (2) 在發展中國家開發龐大的運輸系統。
- (3) 增加全世界原油產量。
- (4) 在世界部分地區減少農作物產量。

41 笈多文明 (Gupta civilization, 4–6世紀) 和瑪雅文明 (Maya civilization, 4–10世紀) 具有相似之處，因為兩者都

- (1) 修建廟宇，並形成了零的概念
- (2) 取消了常備軍，並推行貴族統治
- (3) 形成了早期的民主制度
- (4) 被歐洲帝國主義者征服

請根據下面的地圖和你的社會科學知識回答第47題和第48題。



資料來源：Richard G. Boehm et al., *Building Skills in Geography*, Glencoe McGraw-Hill, 1996 (經改編)

47 這幅地圖提供的資料支援下面的哪項結論？

- (1) 俄羅斯高度依賴進口原油。
- (2) 美國出口極少量或不出口原油。
- (3) 南美洲的原油出口量多於非洲。
- (4) 中東生產的大部分原油都運往日本。

48 這幅地圖最確切地說明了什麼概念？

- (1) 同化吸收
- (2) 保護主義
- (3) 相互依賴
- (4) 帝國主義

- 49 • 柏林空運 (Berlin airlift)
• 古巴飛彈危機
• 核軍備競賽

這些事件所發生的時代稱為

- (1) 帝國主義時代 (Age of Imperialism)
- (2) 科學革命 (Scientific Revolution)
- (3) 啟蒙運動 (Enlightenment)
- (4) 冷戰 (Cold War)

- 50 胡圖族 (Hutu) 與圖西族 (Tutsi)、奧斯曼土耳其人 (Ottoman Turks) 與亞美尼亞人 (Armenians)，以及蘇聯人 (Soviets) 與烏克蘭富農 (Ukrainian kulaks) 之間的衝突都導致了

- (1) 新政府的建立
- (2) 國際干預
- (3) 大屠殺或種族滅絕
- (4) 文化上的相互依存

在完成第1部分後，請直接繼續至第2部分。

所有申論題答案均應寫在另一本答卷上。

在回答第II部分的問題時，請注意以下一般性定義：

- (a) 論述指「透過事實、推理和論證闡述觀點；較具體地說明某事」
- (b) 評價指「檢查和判斷意義，價值或條件，決定價值」

第II部分

申論題

答卷說明：寫一篇條理分明的短文，包括引語、與以下內容相關的幾個段落、以及結論。

主題：改變 [政治事件]

二十世紀的政治事件對世界歷史產生了正面或負面影響。

任務：

- 指出**兩個**二十世紀的政治事件並且**逐一**
- 論述圍繞該事件的歷史背景
 - 評價該事件對世界歷史產生正面**或**負面影響的程度

你可以運用在世界歷史課中學到的重大政治事件。你可能會考慮的一些建議包括：列寧 (Lenin) 在俄羅斯建立共產主義政府；歐洲極權政府的崛起；胡志明 (Ho Chi Minh) 抗擊帝國主義，統一越南；中東對伊斯蘭原教旨主義的支援日益增加；毛澤東 (Mao Zedong) 在中國發動文化大革命；柏林牆 (Berlin Wall) 的拆除；印度和巴基斯坦發展核武器；以及納爾遜·曼德拉 (Nelson Mandela) 在南非反抗種族隔離。

你不必局限於以上建議。

請不要在你的答案中採用美國事件，但在論述正面或負面影響時，可涉及美國發揮的作用。

指南：

在短文中請務必

- 完成以上任務的各個方面
- 用相關事實、例證和細節支持主題
- 做到邏輯清楚、條理分明，請包括一段簡介和一項結論，但不要簡單地重複主題

在回答第III部分的問題時，請注意以下一般性定義：

論述指「透過事實、推理和論證闡述觀點；較具體地說明某事」

第III部分

歷史文件題

該問題基於隨附的歷史文件，該問題的設計是為了測驗你運用歷史文件的能力。在編寫本問題時，有些文件經過編輯。在分析文件時，請考量每一文件的來源以及文件中表達的觀點。

歷史背景：

縱觀古今，征服導致了特定社會的政治、經濟和社會變化。諸如**蒙古**、**西班牙**和**法國**等民族為其所征服之地區帶來許多變化。

任務：運用文件中的資料和你的世界歷史知識，回答A部分中每一份文件後面的問題。你對這些問題的回答將有助於你撰寫B部分的短文，你將被要求：

- 選擇歷史背景中提到的**兩個**民族，並**逐一**
- 論述因征服而導致的政治、經濟**和/或**社會變化

A部分

簡短問答題

答卷說明： 分析以下文件，在空白處簡要回答每一份文件後面的問題。

文件1

... 在1237年至1240年蒙古入侵期間，對俄羅斯財產和生命的大規模掠奪和破壞是沉重的一擊，令俄羅斯人民驚恐萬分，並在一段時間內中斷了正常的經濟和政治生活。很難估算俄羅斯人的傷亡情況，但這個數字絕對龐大，如果我們將無以計數的被蒙古人奴役的男女平民計算在內，具體人數不應少於總人口的百分之十。

在這種大崩潰[災難性戰敗]中，城市遭受的摧殘最為嚴重。諸如基輔 (Kiev)、切爾尼科夫 (Chernigov)、皮雷伊亞斯拉夫 (Pereiaslav)、梁贊 (Riazan)、蘇茲達利 (Suzdal) 等俄羅斯文明古城，相對年輕的蘇茲達利亞弗拉基米爾 (Vladimir-in-Suzdalia)，以及眾多其他城鎮都被徹底摧毀，而且前面提到的前三座城市喪失了幾個世紀以來的重要地位。當時，只有俄羅斯西部和北部的幾個主要城市，例如斯莫倫斯科 (Smolensk)，諾夫哥羅德 (Novgorod)、普斯科夫 (Pskov) 和加列基 (Galich，或稱Halicz) 逃過這場浩劫。蒙古征募工藝大師和能工巧匠為可汗服務的政策又增加了新的負擔，即使對於那些在首次被征服期間免遭破壞的城市也是如此。一部分俄羅斯頂級珠寶匠和工匠被送給大汗皇帝 (great khan)。正如我們所見，修道士柏朗嘉賓 (John of Plano Carpini) 在貴由 (Guyuk) 的營帳中遇到其中一位金匠庫茲瑪 (Kuzma)。金帳汗軍 (Golden Horde) 可汗徵用了其餘的許多工匠為其服務，並建造和裝飾其首都薩萊 (Saray)。各類工匠，包括鐵匠、武器匠、馬鞍匠等等，也被分派給術赤 (Juchi) 族系成員的宮殿，以及蒙古軍隊在俄羅斯南部的的主要指揮官。...

資料來源：George Vernadsky, *The Mongols and Russia*, Yale University Press

1 根據這份文件，蒙古的征服以哪**兩種**方式改變了俄羅斯？ [2]

(1) _____

Score

(2) _____

Score

文件2

... 歐亞歷史學家斷言，蒙古的衝擊被證明使俄羅斯人受益匪淺。「韃靼人[蒙古人]為俄羅斯抵禦歐洲，」使其免於被西方征服。在征服之後，蒙古人與俄羅斯人和平、和諧地生活在一起。俄羅斯人從他們的征服者那裡繼承了典型突雷尼族 (Turanian) [亞洲]的優點：安定、悔罪、力量和虔誠；所有這些都促進了莫斯科城邦的發展。蒙古人確保俄羅斯人建立與東方的商業和文化關係；他們增強了東正教廷的地位。在13世紀中期，當諾夫哥羅德王子亞歷山大·內夫斯基 (Alexander Nevskii) 面臨決定命運的選擇時，他明智地選擇了東方，而非西方：「亞歷山大意識到在文化意義上，蒙古人是一股友好力量，能夠幫助他保留並鞏固俄羅斯的文化認同，使之有別於西方拉丁文化。」...

資料來源：David MacKenzie和Michael W. Curran, *A History of Russia, the Soviet Union, and Beyond*, Wadsworth Thomson Learning

2 根據這份文件，闡述因蒙古統治而在俄羅斯出現的兩種變化。 [2]

(1) _____

Score

(2) _____

Score

文件3

... 1227年，當成吉思汗（Genghis Khan）逝世時，他已控制中國北方的大部分地區，但是南方的沼澤地阻止了他的鐵騎繼續進軍。他的兒子們東征西戰，進一步擴張了蒙古的統治。他們將整個帝國分成四大汗國（khanates），分別是波斯、中亞、俄羅斯和東亞。...

忽必列（Kublai Khan）是一位精力旺盛、雄材偉略的統治者。他開展大規模戰備狩獵，以顯示他保留了蒙古傳統，但是他也表露出對中國文化的讚賞。他致力於復興慘遭蹂躪的中國北方，他開始全面翻修大運河，這對整個國家的興盛和統一至關重要。他下令沿黃河興建治水工程，例如水壩與河堤。...

在蒙古統治期間，與中亞和中東的貿易得到復興。這兩個地區都由可汗的親戚統治。蒙古人統治的廣大土地普遍經歷了和平，這被稱為蒙古和平（*Pax Mongolica*）。據說「一位頭頂金塊的婦女能夠安全地在整個王國內遊逛。」駱駝商隊又一次帶著中國的產品，如陶瓷、茶葉、藥品、絲綢和撲克牌前往中東和歐洲。...

資料來源：Dorothy Hoobler et al., *China, Globe Book*

3 根據這份文件，指出蒙古統治改變中國的**兩種**方式。 [2]

(1) _____

Score

(2) _____

Score

文件4

一幅1737年的版畫，描繪了一位正在向墨西哥印地安人佈道的西班牙牧師



資料來源：Isidro Félix de Espinosa, "Engraving of Father Margil," *El Peregrino Septentrional Atlante: Delineado en la Exemplarissima Vida del Venerable Padre F. Antonio Margil de Jesús, 1737**

4 根據這幅版畫所示的內容，闡述西班牙人對墨西哥原住民生活的一種影響。 [1]

Score

*位於東德州研究中心，Stephen F. Austin 州立大學，德州 Nacogdoches，並通過 Texas Tides 網站獲取：
<http://tides.sfasu.edu>（經改編）

統治西半球的西班牙帝國

新西班牙殖民地[西班牙殖民地]的生活十分複雜，雖然主要社會制度和 cultural 模式都源自西班牙，但在新世界的環境中都有所改變。社會並非一成不變；演變在政治和宗教體制中留下印跡；而且變化是經濟、社會和文化生活的一個特性。這些適應性變化通常映射出歐洲之根本決策和統治的來源的發展。在作為殖民地的三個世紀裡，新西班牙在許多方面都從屬於其母國，一切都以對王權的絕對忠誠為出發。...

在新西班牙，副王[總督]是最高長官，絕對王權的代表。作為國王的個人代表，他擁有相當大的權力，並且享受無比的榮耀和敬意[尊敬]。總督收入豐厚（在十七世紀為兩萬比索，而十八世紀時是此金額的三倍），居住在身著制服的奴僕簇擁的輝煌宮殿裡，並且像歐洲的小君主一樣治理著朝廷。整個殖民時代共有六十一位副王，他們大多數都屬於擁有爵位的貴族，或者至少出身名門；十一位總督來自教階系統[教會領袖]；在職位如此之高的任職者中，只有三位是西班牙裔拉丁美洲人[克利奧爾人]，其中的兩位是副王的兒子。

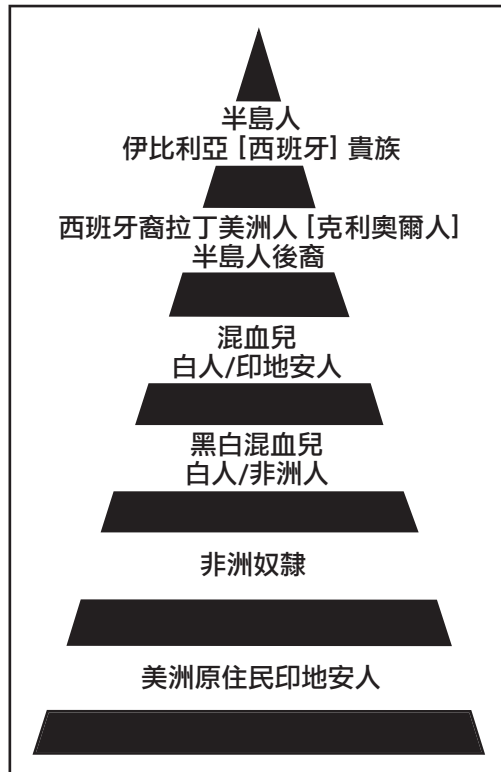
副王的職務包括最高行政長官、軍隊總司令、地方長官、王室財富長官、王室財富總監（房產莊園），以及墨西哥（行政法院）的最高法官。總督實施王室法律和法令，發佈處理當地事務的條例，任命較次要的殖民地官員，分配土地和封號，促進殖民和定居，以及保護印地安人。他是大多數宗教的副主教，並且其神職[教廷]權力包括決定[教區]的邊界，以及任命某些教廷官員。...

資料來源： Robert Ryal Miller, *Mexico: A History*, University of Oklahoma Press

5 根據這份文件，西班牙人對在新西班牙的殖民地有什麼影響？ [1]

Score

西班牙殖民地的社會等級

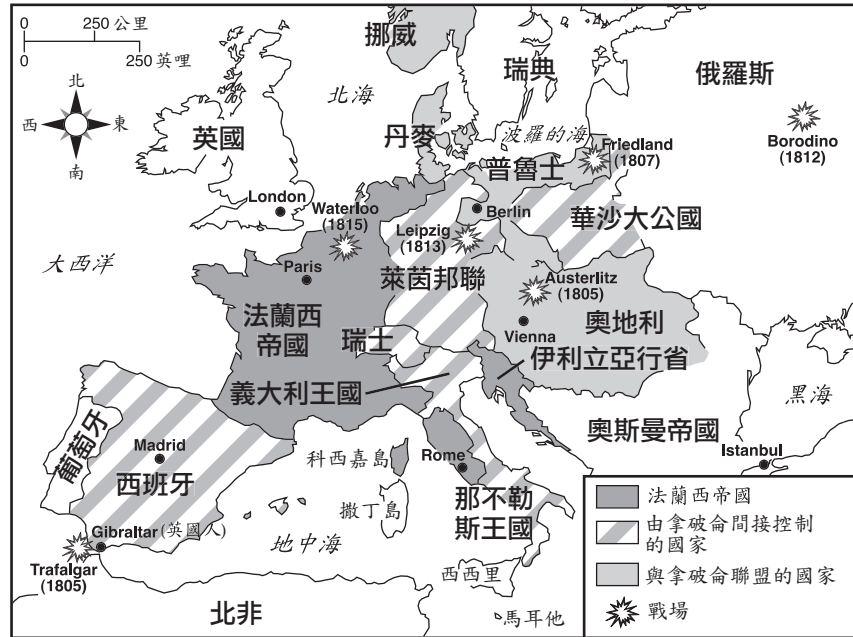


資料來源：John Osborne et al., *Global Studies*,
N & N Publishing (經改編)

6 根據此圖表，確定因西班牙征服拉丁美洲而導致的一種變化。 [1]

Score

1812年的拿破侖帝國



資料來源：Peiser和Serber, *Our World*, AMSCO (經改編)

7 根據這幅地圖，闡述拿破侖征服歐洲的**一個**政治影響。 [1]

Score

文件8

... 即便是在[拿破侖]法典未能於帝國之後繼續存在的地方，如荷蘭、德國、瑞士、義大利和伊利立亞（Illyria），它也在這些地區的民法中留下了深刻的烙印。廢除法典在某些國家引起了混淆和混亂，以至於它們不得不重新啟用法典。例如，在義大利半島，1812年的兩西西里王國（Two Sicilies），此後的帕爾馬（Parma）、摩德納（Modena）和撒丁尼亞（Sardinia），都紛紛採用從拿破侖法典（Code Napoléon）衍生出來的法律。同樣，於1864年實施的義大利王國法典亦源自拿破侖法典。1815年至1830年間被併入荷蘭王國的比利時人強烈爭取拿破侖法典，以至於在他們脫離荷蘭之後，荷蘭也於1838年採用了基於拿破侖法典的法律。

拿破侖法典給各國政府留下了深刻的印象，即使是那些未採用該法典的政府也是如此，以至於使19世紀成為法律編撰的偉大世紀。除上文提及的國家外，奧地利、葡萄牙、西班牙、德國和土耳其都採用了民法。然而，拿破侖法典的民法輕而易舉地支配了民法（相對於普通法）的世界。...

在拿破侖幫助法國告別過去的成就中，該法典的貢獻極大。它鞏固了人身與合同自由（包括參與任何職業的權利），所有法國人都平等，以及公民社會脫離教會[宗教]控制等概念。作為首部真正的現代法典，拿破侖法典在現代史上首次為一個國家制定了對所有公民一視同仁的統一法律體系。通過提供法律的一致性，該法典進一步促進了由大革命造就的國家統一。整部法典的理念進一步觸發了資產階級的崛起。因慣例和指令（Convention and Directory）而產生的家庭解體威脅赫然而止，並且家庭再一次成為最重要的社會單位。...

資料來源：Robert B. Holtman, *The Napoleonic Revolution*, J.B. Lippincott

8 根據這份文件，確定拿破侖法典產生的**兩項**變化。 [2]

(1) _____

Score

(2) _____

Score

文件9

... 可是，拿破侖·波拿巴（**Napoléon Bonaparte**）的計劃和雄心確實激勵了拉丁美洲人民，儘管其方式大大出乎拿破侖的意料。這位法國獨裁者於1808年入侵西班牙，逼迫西班牙國王退位[放棄王位]，並將西班牙王冠贈給他的兄弟約瑟夫（**Joseph**）。西屬美洲突然間成了波拿巴家族帝國的一部分。（幾個月前，拿破侖就侵佔了葡萄牙，葡萄牙王室逃到其巴西殖民地。）

西班牙裔美洲人強烈反對這位法國篡位者。他們拒絕接受約瑟夫·波拿巴（**Joseph Bonaparte**）成為他們的新國王，宣稱[宣佈]他們對西班牙波旁家族（**House of Bourbon**）的忠誠，而且取得了當地政府的控制權。然而，幾乎一開始，反對拿破侖的叛亂就轉變成尋求完全獨立的革命。於是，再也不可能返回到舊體制了。...

資料來源：Robert J. Alexander, *Latin America*, Scholastic Book Services

9 根據這份文件，拿破侖入侵西班牙對拉丁美洲有什麼影響？ [1]

Score

B部分

短文

答卷說明：寫一篇條理分明的短文，包擴引語、幾個段落、以及結論。在短文中至少引用**四份**文件的例證。用相關事實、例證和細節支持你的論點。請包含其他補充資訊。

歷史背景：

縱觀古今，征服導致了特定社會的政治、經濟和社會變化。諸如**蒙古**、**西班牙**和**法國**等民族為被征服地區帶來許多變化。

任務：運用文件中的資訊和你的世界歷史知識寫一篇短文，在短文中：

- 選擇歷史背景中提到的**兩個**民族，並**逐一**
- 論述因征服而導致的政治、經濟**和/或**社會變化

指南：

在短文中請務必

- 完成以上任務的各個方面
- 至少採用來自**四份**文件的資料
- 包括相關外部資訊
- 用相關事實、例證和細節支持主題
- 做到邏輯清楚、條理分明，請包括一段簡介和一項結論，但不要簡單地重複主題

The University of the State of New York

REGENTS HIGH SCHOOL EXAMINATION

世界歷史和地理

僅限用於2005年1月27日（星期四）上午9:15時至下午12:15時

答卷紙

學生..... 性別： 男
 女
 教師.....
 學校.....

第I部分的考題答案則應書寫在本答案紙上。把第III A 部分的答案寫在考題本上，並把第II部分和把第III B 部分的答案寫在另外分開的申論文本內。

FOR TEACHER USE ONLY	
Part I Score	_____
Part III A Score	_____
Total Part I and III A Score	<input type="text"/>
Part II Essay Score	_____
Part III B Essay Score	_____
Total Essay Score	<input type="text"/>
Final Score (obtained from conversion chart)	<input type="text"/>

第I部分

- | | |
|---------|---------|
| 1..... | 26..... |
| 2..... | 27..... |
| 3..... | 28..... |
| 4..... | 29..... |
| 5..... | 30..... |
| 6..... | 31..... |
| 7..... | 32..... |
| 8..... | 33..... |
| 9..... | 34..... |
| 10..... | 35..... |
| 11..... | 36..... |
| 12..... | 37..... |
| 13..... | 38..... |
| 14..... | 39..... |
| 15..... | 40..... |
| 16..... | 41..... |
| 17..... | 42..... |
| 18..... | 43..... |
| 19..... | 44..... |
| 20..... | 45..... |
| 21..... | 46..... |
| 22..... | 47..... |
| 23..... | 48..... |
| 24..... | 49..... |
| 25..... | 50..... |

No.
Right

當你考試完畢之後，必須在以下聲明的下方簽名。

本人在此考試結束之際特此聲明，本人在此次考試之前未非法獲得考題內容及答案，並且在考試中，既未向任何人提供幫助亦未從任何人處得到幫助。

簽名

