

The University of the State of New York

REGENTS HIGH SCHOOL EXAMINATION

世界歷史和地理

僅限用於2008年6月18日(星期三)下午1時15分至4時15分

學生姓名 _____

學校名稱 _____

請用工整字跡在以上直線上填寫你的姓名和學校名稱。然後翻到本考題本的最後一頁，即本考題本的第I部分答題紙。請沿齒孔線把最後一頁折疊起來，慢慢地小心地將答題紙撕下。然後在你的答題紙上填寫各項抬頭。現在請用工整字跡在論文本的每一頁填寫你的姓名和學校名稱。

本次考試共有三個部分。你必須要回答每一部分的**所有**題目。用黑色或深藍色的水墨原子筆回答。

第I部分包括50道選擇題。請將答案記錄在分開的答題紙上。

第II部分包括一道以主題為主的論文題。請在論文本上寫下你對這個問題的答案，從第1頁開始。

第III部分基於幾份文件：

第IIIA部分包含這些文件。每一文件後有一或一個以上的問題要回答。在本考題本上，將各題的答案寫在各問題後的直線上。請務必在這部分的第一頁上填寫你的姓名和學校名稱。

第IIIB部分包括一個基於這些文件的論文題。請在論文本上寫下你對這個問題的答案，從第7頁開始。

在你答完題後，你必須簽署印在第I部分的答題紙上的聲明，表明你沒有非法得到本考試的試題或答案，而且在本考試中也沒有給予過或接受過任何的幫助。你如果不簽署本聲明，你的答題紙不會被接受。

在本考試中，嚴禁使用任何形式的通訊工具。如果你使用了任何的通訊工具，無論使用多久，你的考試都將無效，並且不會得到任何的分數。

未經指示請勿打開本考題本。

第I部分

請回答本部分的所有問題。

答題說明(1-50)：根據每一條題目的陳述或問題，在所給答案中選擇最恰當的詞或詞句，把代表該答案的**編號**寫在分開的答題紙上。

根據以下的公告和你的社會科學知識回答第1題。

發現古遺蹟。

昨天在拆毀城堡丘(Castle-hill)的老房子時，做出了一次全面的、真實的、有趣的、受人注目和重要的發現。在其中發現一個盒子，裡面裝了幾枚古代錢幣、一只巨大的金指環、一把老式匕首，還有一本 1550 年寫成的神奇預言書，書中預言了今年會發生的重大事件。

資料來源：Broadside published in Edinburgh Scotland, 1831(經改編)

1 以下哪個專門名詞最好地描述這則公告中提到的物品？

- (1) 圖符
- (2) 化石
- (3) 文物
- (4) 複製品

2 南韓、沙烏地阿拉伯和印度在地理上的一個相似之處是它們每一個都位於

- (1) 一個島嶼
- (2) 一個群島
- (3) 一個地峽
- (4) 一個半島

3 以下哪項陳述代表了民主的特徵？

- (1) 宗教領袖控制政府政策。
- (2) 公民是政府內權力的來源。
- (3) 政府限制人民의思想和行為。
- (4) 政府的法律是由有影響力的軍官制定的。

4 班圖人清理土地，然後以灰燼給它施肥。當土地無法再養活他們的家人時，班圖人就向更南方遷移。等到西元前 1110 年，班圖人已將他們豐富的文化傳遍了非洲的中部和南部。

這段話描述了哪一種農業技術？

- (1) 灌溉
- (2) 梯田耕作
- (3) 刀耕火種
- (4) 作物輪種

5 那一個古代文明與十二板法、遍佈的道路系統以及詩人賀拉斯和維吉爾有關？

- (1) 巴比倫
- (2) 希臘
- (3) 腓尼基
- (4) 羅馬

6 **封建主義**一詞最確切的定義是

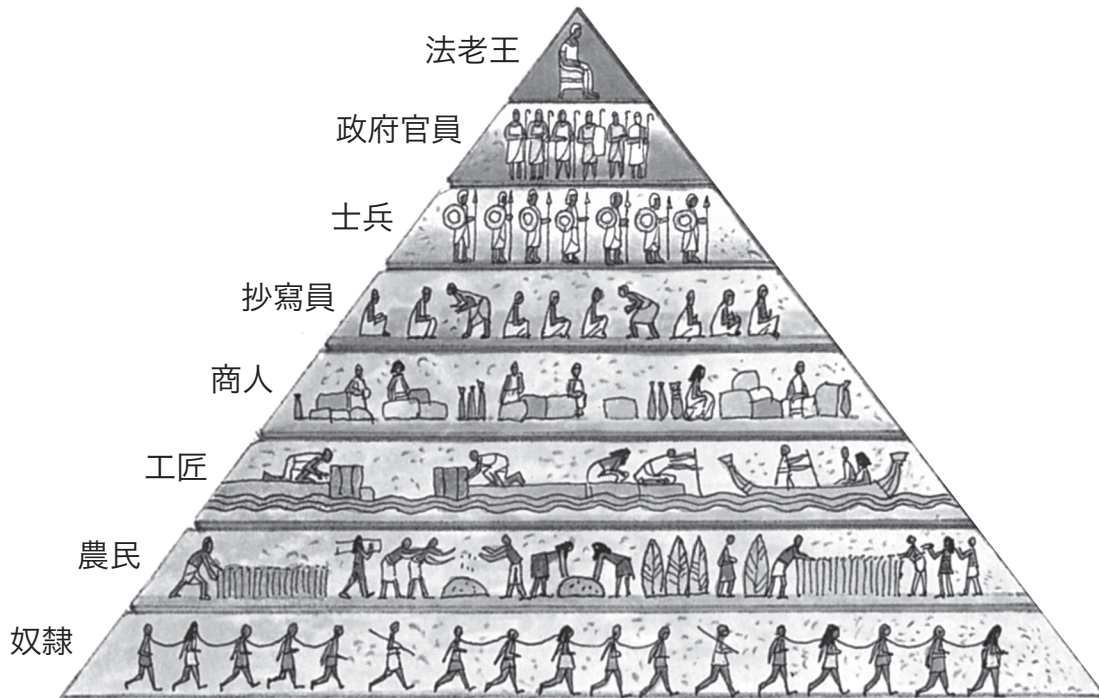
- (1) 基督徒和回教徒之間的聖戰
- (2) 用一種商品交換另一種商品的過程
- (3) 在三個分支之間政治權力的劃分
- (4) 用土地換取兵役和忠誠的體制

7 哪個標題最能完成以下部分綱要？

- I. _____
- A. 在建築中融入歐洲和阿拉伯觀念
 - B. 保存希臘-羅馬觀念
 - C. 基督教正教傳入俄羅斯
 - D. 《查士丁尼法典》的開發

- (1) 大發現時代
- (2) 拜占庭帝國
- (3) 波斯帝國
- (4) 十字軍東征

根據下面的插圖和你的社會科學知識回答第 8 題。



資料來源: Barry K. Beyer et al., *The World Around Us: Eastern Hemisphere*, MacMillan Publishing (經改編)

8 根據插圖中的資訊，哪一個有關古埃及社會的陳述是準確的？

- (1) 女人的地位與男人平等。
- (2) 社會結構是等級分明的。
- (3) 社會行動力不受限制。
- (4) 士兵人數多於農民。

9 哪一項是關於蒙古帝國的準確陳述？

- (1) 蒙古人建立了一個技術發達、重視正規教育的社會。
- (2) 歐洲的君主制度成為早期蒙古政府的仿效模式。
- (3) 蒙古的和平促成區域穩定，增加了絲路的貿易。
- (4) 蒙古人接受了羅馬天主教，作為帝國的官方宗教。

10 歐洲歷史的哪個時期與達文西、米開朗基羅、莎士比亞和哥白尼的聯繫最密切？

- (1) 中世紀初期
- (2) 文藝復興
- (3) 專制主義時代
- (4) 啓蒙時代

11 什麼是黑死病傳播的主要原因之一？

- (1) 貿易的增加
- (2) 美洲的殖民化
- (3) 莊園制度的發展
- (4) 經濟衰退

12 哪一種情形被視為其它三種情形的原因？

- (1) 整個歐洲的宗教統一性降低。
- (2) 天主教的反宗教改革開始。
- (3) 羅馬天主教會的權力減弱。
- (4) 馬丁·路德張貼《九十五條論綱》。

根據下表和你的社會科學知識回答第 13 題。

在 1250 年和 1450 年最大的中世紀城市的人口

1250 年的 10 大城市		1450 年的 10 大城市	
1	杭州 320,000	1	北京 600,000
2	開羅 300,000	2	維查耶那加爾 455,000
3	非斯 200,000	3	開羅 380,000
4	鎌倉 200,000	4	杭州 250,000
5	蒲甘 180,000	5	大不里士 200,000
6	巴黎 160,000	6	廣州 175,000
7	北京 140,000	7	格拉納達 165,000
8	廣州 140,000	8	南京 150,000
9	南京 130,000	9	巴黎 150,000
10	馬拉喀什 125,000	10	京都 150,000

資料來源：Tertius Chandler, *Four Thousand Years of Urban Growth*, St. David's University Press (經改編)

13 表中的資訊最能支持哪一項陳述？

- (1) 巴黎的人口在 1250 年和 1450 年之間有所增加。
- (2) 開羅和南京的人口在 1250 年時超過 1450 年。
- (3) 在 1450 年時多數大城市的人口已超過一百萬。
- (4) 北京的人口比廣州的人口在 1250 年到 1450 年之間增加更多。

根據以下段落和你的社會科學知識回答第 14 題。

把奧托曼帝國稱為純粹的回教國家會是錯誤的。它不是。它是一個國家，聲稱對回教有某種依附、某種忠誠，但卻把它與源自拜占庭傳統或突厥傳統、與回教不真正一致的其它形式的遺俗相結合。因此他們對於回教始終採取這種非常非常實際的策略。

Professor Ethem Eldem, Bogazic University
— NPR News, *All Things Considered*
August 18, 2004

14 作者暗示在奧托曼帝國時期

- (1) 宗教與歷史傳統互相混合
- (2) 多數人信奉少數宗教
- (3) 統治者企圖讓政治與宗教分離
- (4) 統治者按照一套嚴格的法律統治

- 15 • 外來統治者被推翻。
• 鄭和將軍建立了貿易聯繫。
• 科舉考試被恢復。

這些歷史事件發生在哪個朝代的統治之下？

- (1) 印度的蒙兀兒王朝
- (2) 中東的阿巴斯王朝
- (3) 中國的明朝
- (4) 日本的德川幕府

16 西班牙人對他們的拉丁美洲殖民地採取的主要經濟政策是什麼？

- (1) 禁運
- (2) 關稅
- (3) 抵制
- (4) 重商主義

17 在《兩篇政府專論》中，約翰·洛克寫到政府的目的是

- (1) 保持國王的執政
- (2) 管制經濟
- (3) 擴展領土
- (4) 保護自然權利

根據下面的地圖和你的社會科學知識回答第18題。



資料來源：Peter N. Stearns et al., *World Civilizations: The Global Experience*, Pearson (經改編)

- 18 這幅地圖的資訊最能支持哪一個概括？
- (1) 東非和波斯灣地區之間沒有貿易。
 - (2) 季風影響了東非和印度之間的貿易。
 - (3) 貿易國家主要在東非的內陸發展。
 - (4) 貿易促進了回教從東非向阿拉伯傳播。

根據下面引述的《新法》摘要和你的社會科學知識回答第19題。

.....第31條：在監護徵賦制下受總督和他們的副官、皇家官員、高階教士、修道院、醫院、宗教場所、造幣廠、國庫等等控制的所有印地安人，立即轉歸國王所有.....

第38條：涉及印地安人的案件不再由西印度群島或者西印度群島委員會審理，而需提請國王本人審理.....

—查理五世大帝在1542-1543年間頒佈的新法

- 19 這些法律的一個目的是
- (1) 削弱地方權威和加強中央控制
 - (2) 加強宗教權威和限制世俗影響
 - (3) 賦予印地安人公民權，同時支持傳統的習俗
 - (4) 促進經濟發展，同時擴大印地安人的政治權利
-
- 20 拿破侖對法國統治的一個重大影響是它導致
- (1) 加強羅馬天主教會的權力
 - (2) 大規模向美洲移民
 - (3) 與英國簽訂了貿易協定
 - (4) 恢復政治穩定
- 21 哪一種思想與不干預的經濟聯繫最密切？
- (1) 公社
 - (2) 工會主義
 - (3) 自給型農業
 - (4) 自由貿易
- 22 在十九世紀，愛爾蘭人向北美移民的一個主要原因是
- (1) 取得普選權
 - (2) 躲避瘧疾爆發
 - (3) 躲避大範圍的饑荒
 - (4) 逃避內戰

- 23 在印度的英軍中印度士兵叛變和在中國的義和團運動，兩者的主要目標都是
- (1) 把外國人逐出他們的國家
 - (2) 擴展各自的領土
 - (3) 得到國際上的軍事支援
 - (4) 恢復君主專制
- 24 歐洲人對非洲的早期探險活動被什麼阻礙？
- (1) 非洲缺乏自然資源
 - (2) 非洲各王國之間的聯合
 - (3) 歐洲君主的孤立主義政策
 - (4) 非洲多種不同的自然特點
- 25 明治政府採取的哪項行動鼓勵了在十九世紀日本的工業化？
- (1) 建設現代化的交通運輸系統
 - (2) 限制對外貿易的港口數目
 - (3) 強迫家庭到集體農場定居
 - (4) 建立一個貿易行會制度
- 26 國際聯盟的一個目標是
- (1) 促進全世界的和平關係
 - (2) 振興歐洲經濟
 - (3) 結束第一次世界大戰
 - (4) 促進強大的聯盟體系
- 27 • 五年計劃
• 農業集體化
• 大整肅
- 所有這些政策都與哪個人有關？
- (1) 希特勒
 - (2) 史達林
 - (3) 鄧小平
 - (4) 尼赫魯
- 28 日本入侵滿洲、義大利進攻衣索比亞以及德國突襲波蘭都是下列哪一項的例子？
- (1) 軍事侵略
 - (2) 姑息
 - (3) 抑制政策
 - (4) 骨牌 (domino) 理論
- 29 關於 1930 年代世界大蕭條的哪一項陳述是事實而不是觀點？
- (1) 政治領袖本應該防止大蕭條。
 - (2) 《凡爾賽和約》對德國的傷害超過大蕭條。
 - (3) 大蕭條的經濟動蕩有主要的政治影響。
 - (4) 第一次世界大戰是大蕭條的唯一原因。
- 30 哪個團體被遣責第二次世界大戰期間在南京侵犯人權？
- (1) 美國人
 - (2) 中國人
 - (3) 日本人
 - (4) 德國人
- 31 希特勒的德國青年團和中國紅衛兵的一個相似之處是這兩個組織都
- (1) 要求毫不質疑地效忠領袖
 - (2) 協助加強宗教寬容
 - (3) 阻礙帝國主義目標
 - (4) 領導民主促進運動
- 32 • 法國意圖在二次大戰後再次殖民印度支那
• 美國希望阻止共產主義擴張
• 美國在東南亞支援法國
- 這些計劃與哪一項的聯繫最密切？
- (1) 越南衝突的起因
 - (2) 國民黨在臺灣定居的原因
 - (3) 導致韓戰的因素
 - (4) 馬歇爾計劃的結果
- 33 「通行法」、「指定居住區」和「白人少數統治」這些詞和哪個國家的聯繫最密切？
- (1) 薩爾瓦多
 - (2) 南非
 - (3) 伊朗
 - (4) 以色列

根據下面的照片和你的社會科學知識回答第 34 題。



1925 年，聖雄甘地在米爾紮布用自己的手紡車示範紡棉紗。

資料來源: Stanley Wolpart, *Gandhi's Passion: The Life and Legacy of Mahatma Gandhi*, Oxford University Press

- 34 在印度獨立運動期間，這張照片顯示的活動鼓舞了印度人民
- (1) 停止購買英國商品
 - (2) 拒絕回教徒統治
 - (3) 加入印度軍隊
 - (4) 擴充英國的紡織製造業
-

根據以下的段落和你的社會科學知識回答第 35 題和第 36 題。

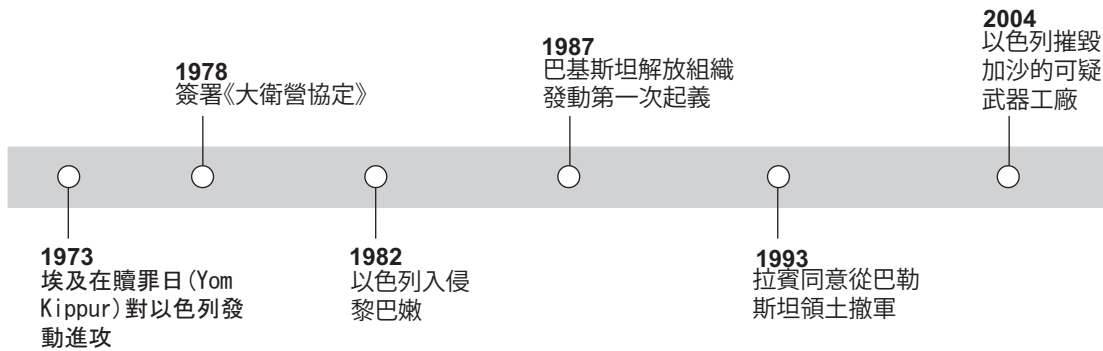
……(1) 對內，要喚醒人民群眾。也就是說，要聯合工人階級、農民、城市小資產階級和民族資產階級，組成工人階級領導下的國內聯合陣線，以此建立在工人階級領導下、以工農聯盟為基礎的人民民主專政國家。

(2) 對外，在共同鬥爭中要聯合平等對待我們的世界各國，並聯合世界各國人民。也就是說，我們自身要聯合蘇聯，聯合人民民主國家，聯合所有其它國家的無產階級和廣大人民群眾，建立國際聯合陣線……

資料來源: Mao Tse-Tung [Mao Zedong], *Selected Works*, Volume Five, 1945–1949, New York International Publishers

- 35 在這段話中，毛澤東 (Mao Tse-Tung) 提出中國應該
- (1) 建立實業家領導的政府
 - (2) 放棄獨立，成為蘇聯的一部分
 - (3) 依賴聯合國的經濟援助
 - (4) 聯合蘇聯，成為共產主義的夥伴
- 36 在這段話中，毛澤東 (Mao Tse-Tung) 運用了誰的思想？
- (1) 托馬斯·馬爾薩斯
 - (2) 亞當·史密斯
 - (3) 卡爾·馬克思
 - (4) 蔣介石
-

根據下面的時間線和你的社會科學知識回答第 37 題。



37 從這條時間線可以得出哪個結論？

- (1) 以色列退出了《大衛營協定》。
- (2) 巴勒斯坦軍隊優於以色列軍隊。
- (3) 中東的持久和平難以實現。
- (4) 鄰近國家沒有介入阿拉伯-以色列衝突。

38 柏林圍牆的倒塌和蘇聯的解體代表了

- (1) 冷戰結束
- (2) 塔利班垮臺
- (3) 華沙公約組織的效力
- (4) 歐洲聯盟的實力

39 在二十世紀，哪個因素影響了非洲、亞洲和拉丁美洲開發中國家的城市化？

- (1) 降低識字率
- (2) 削弱傳統的價值觀
- (3) 加強種姓制度
- (4) 增加婦女的孤立

40 關於非洲和東南亞兩地區愛滋病疫情的影響，哪一項陳述最準確？

- (1) 兩個地區的預期壽命都在縮短。
- (2) 低價藥品的可及性治癒了大多數受感染者。
- (3) 意識計劃的推出消除了這種疾病的威脅。
- (4) 新生兒和幼兒沒有受到這種疾病感染。

41 1990 年 8 月，伊拉克入侵科威特。聯合國的反應引發了 1991 年的波斯灣戰爭。這種反應是以下哪一種的例子？

- (1) 緩和政策
- (2) 建立帝國
- (3) 極權主義
- (4) 共同安全

42 羅馬帝國和奧托曼帝國的一個相似點是兩者都

- (1) 在同一時間達到了權力的頂峰
- (2) 發展了議會制政府
- (3) 確保了女性的平等地位
- (4) 由於政府腐敗而衰落

43 關於地理特點對日本的影響，以下哪一項陳述最準確？

- (1) 大平原成為征服者的入侵通道。
- (2) 貧瘠的沙漠和山脈造成與亞洲的隔離。
- (3) 自然資源的缺乏導致帝國主義政策。
- (4) 與非洲接近，促進了與埃及的廣泛貿易。

根據下面的地圖和你的社會科學知識回答第 44 題。



資料來源：Paul Halsall, ed., *Internet History Sourcebooks Projects* (經改編)

44 哪個革命導致了這些文明的發展？

- (1) 工業
- (2) 新石器
- (3) 綠色
- (4) 商業

45 大發現時代直接導致

- (1) 歐洲殖民地的建立
- (2) 清教徒革命的開始
- (3) 磁羅盤的發明
- (4) 維也納會議的失敗

46 哪個革命是由本綱要所述的因素導致的？

I. _____

- A. 國庫破產
- B. 第三個階層的稅收負擔
- C. 通貨膨脹
- D. 舊政權的苛政

- (1) 俄國
- (2) 墨西哥
- (3) 法國
- (4) 古巴

47 荷西•聖馬丁、卡米洛•賈富爾和喬莫•肯雅塔的一個相似之處是每個領袖

- (1) 都做出了重大的科學發現
- (2) 領導了民族主義運動
- (3) 與大英帝國主義作戰
- (4) 成為共產主義革命者

48 列寧的新經濟政策和戈巴契夫的改革政策的一個相似之處是兩者都

- (1) 在共產主義經濟體系中允許資本主義的要素
- (2) 加強他們國家的軍事防禦
- (3) 支持新聞和私人通信的審核制度
- (4) 加劇了冷戰時期的緊張局勢

49 哪一組在十九和二十世紀中國歷史上的事件的
時間順序是正確的？

- (1) 大躍進→鴉片戰爭→長征→四個現代化
- (2) 四個現代化→長征→鴉片戰爭→大躍進
- (3) 鴉片戰爭→長征→大躍進→四個現代化
- (4) 長征→四個現代化→大躍進→鴉片戰爭

50 對 1400 年代後期的西班牙、1900 年代初期的
巴爾幹各國和 1990 年代的盧安達以及當今中
亞的研究顯示

- (1) 公民不服從是引發變革的有效途徑
- (2) 人民被鼓勵質疑傳統
- (3) 殖民統治具有長期的影響
- (4) 種族衝突是歷史上反覆出現的問題

所有論文題的答案均應寫在分開的論文題本上。

回答第II部分的問題時，注意以下一般性定義：

- (a) **解釋**指「使之清楚或容易了解；提供理由或原因；顯示合乎邏輯的發展或關係」
(b) **論述**指「透過事實、推理和論證來對某件事發表意見；加以詳述」

第II部分

主題論文題

答題說明：撰寫一篇條理分明的論文，包含引言、與下列任務相關的幾個段落、以及結論。

主題：信仰體系

世界有許多不同的信仰體系。各具特色，但它們都極大地影響了信徒的生活及此信仰體系所實踐的社會。

任務：

- 選擇**兩個**主要的信仰體系，並對**每個**體系
- 說明關鍵的信條**和/或**實踐
 - 論述信仰體系對信徒的生活或其所實踐的社會的一個影響。

你可以運用從世界歷史學到的範例。你可能願意考慮的一些建議包括萬物有靈論、佛教、基督教、儒教、道教、回教、猶太教、法家主義和神道教。

您不必侷限於以上建議。

不要用美國來作為你的答案焦點。

指南：

在你的論文中請務必：

- 闡述任務的各個方面
- 引用相關事實、例證及詳細資料來支持主題
- 須合乎邏輯、條理分明，包括一個不只是重複主題的引言和結論

在回答第III部分的問題時，請注意以下一般性定義：

- (a) **描述**指「用文字闡述或陳述」
- (b) **論述**指「透過事實、推理和論證來對某件事發表意見；加以詳述」

第III部分

基於文件題

本問題是基於隨附的文件。該問題的設計是為了測驗你運用歷史文件的能力。其中一些文件是為這個問題編輯的。當你分析文件時，請參考每份文件的來源及文件中所論述的任何觀點。

歷史背景：

種族滅絕、對環境的威脅和大規模殺傷性武器是世界必須面對的問題。國際社會及其成員為處理和解決這些問題曾做出多種努力。

任務：運用文件資料和你的世界歷史知識，回答A部分每一份文件後面的問題。你對這些問題的回答將有助於你撰寫B部分的論文，在這篇論文中，你將被要求

選擇歷史背景中提到的**兩個**問題，並對**每個**問題

- 描述問題所在
- 論述為處理**和/或**解決這個問題所做的努力。

A部分 簡答題

答題說明： 分析以下文件，在所提供的空白處上回答每份文件後的簡答題。

文件 1

拉斐爾·萊默金 (Raphael Lemkin) 創造了「種族滅絕」一詞。他曾寫信給《紐約時報》編輯說明種族滅絕這個概念的重要性。

在聯合國面前的種族滅絕

給《紐約時報》編輯的信：

出席聯合國大會的古巴、印度和巴拿馬代表提出決議，呼籲聯合國研究種族滅絕問題，並起草報告說明宣佈種族滅絕做為國際犯罪以及確保國際合作防止和處罰，並建議應該像對待其它國際犯罪那樣就種族滅絕制定國內立法……

國際概念

種族滅絕概念建立在現有以及令人感觸深刻的道德概念基礎之上。不僅如此，它採用定義完善的現有法律觀念和制度為其要素。我們必須根據不斷進步的國際法律調整這些受到認可的制度，以此保護我們文明的重大價值。由於缺乏完善的規定，加上沒有以前制定的國際法條文，儘管紐倫堡法庭在判決書中認定「許多這些罪行令人感到震驚和恐怖」，但法庭仍然不得不駁回對納粹從納粹掌權到戰爭開始期間所犯罪行的指控。

聯合國現在的任務是把這三個會員國的高尚行為轉化為國際法，以防止違背「聯合國憲章」精神的其它屠殺[攻擊]文明的行為……

資料來源: Raphael Lemkin, *New York Times*, Nov. 8, 1946 (經改編)

- 1 根據拉斐爾·萊默金 (Raphael Lemkin)，國際社會可以處理種族滅絕問題的一種方式是什麼？ [1]

Score

文件 2a

.....在1948年，成立不久的聯合國大會通過了國際《防止和處罰種族滅絕罪公約》，它於1951年生效。該公約把種族滅絕定義為「以全部或部分地毀滅一個民族、種族或宗教群體為目的而實施的行為」，包括蓄意導致一個群體毀滅的情況.....

大屠殺的恐怖事件被揭露以後，「不再重演」成為當時的口頭禪[口號]。但是直到四十年後，隨著前南斯拉夫國際刑事法庭於1994年的成立，國際社會才最終再次聯合起來追究種族滅絕的罪行。

雖然柬埔寨、東帝汶和其它地區發生了暴行和大規模屠殺，為什麼等了這麼久才行動？.....

資料來源: Irina Lagunina, "World: What Constitutes Genocide Under International Law, and How Are Prosecutions Evolving?," Radio Free Europe/Radio Liberty, 9/10/2004

2a 根據莉娜·拉古麗娜 (Irina Lagunina)，對於國際社會對種族滅絕的反應的一項批評是什麼？ [1]

Score

文件 2b



資料來源: Steve Greenberg, *Seattle Post-Intelligence*, March 29, 1999 (經改編)

2b 根據 1999 年的這幅漫畫，指出曾經是種族滅絕受害者的兩個具體群體。 [1]

(1) _____

(2) _____

Score

文件 3

.....不可否認的，在柬埔寨、波士尼亞、盧安達曾經有可怕的侵犯人權事件。在那裏還有其它地區，國家憲法和國際法規未能阻止這種行為；國際組織和強國政府沒有做出迅速和充分的反應。（它們不會做出反應的預期結果，無疑是未能阻止踐踏人權的原因之一。）但是，不管曾有什麼樣的反應，不論多麼不充分，多麼不及時，都可以歸功於國際人權；而且國際人權鼓舞了人們後來採取所有不懈的努力，以處理可怕的侵犯。主要的大國有時宣稱嚴重侵犯人權的行為是「危及國際和平與安全」，要求聯合國安理會應當對此負起責任，這導致多次國際制裁（甚至 1999 年對科索沃的軍事干預）。國際法庭正在審理嚴重侵犯人權的人；正在成立常設的國際刑事法庭，「審判」種族滅絕罪、戰爭犯罪和反人類犯罪等罪行。各國政府已經展開行動支援國際人權，它們的雙邊和多邊影響力已經成為國際關係中確定的力量.....

資料來源: Louis Henkin, "Human Rights: Ideology and Aspiration, Reality and Prospect," *Realizing Human Rights*, St. Martin's Press, 2000

3 根據這份文件，指出為處理種族滅絕問題而做出的一項努力。 [1]

Score

文件 4

在二十一世紀初始，地球的物理和生物系統正面臨史無前例的壓力。世界人口在 2003 年達到 63 億，預計在下半個世紀將增加到 90 億左右。聯合國估計，全世界有三分之一的人口居住在淡水供應中等到嚴重短缺的國家，這一比例到 2025 年將增加一倍。許多世界最大的城市都面臨了日益嚴重的污染。隨著空氣中二氧化碳和其它溫室氣體的增多，地球的平均表面氣溫已達到以年為計曾測量過的最高水準。地球的生物多樣化也面臨巨大的壓力。科學家們認為植物和動物正在大量滅絕，預計到 2050 年，僅僅全球變暖就會導致所有物種的四分之一滅絕。毫無疑問，人類對生物圈的影響將成為本世紀最緊要的問題之一……

資料來源: Norman J. Vig, "Introduction: Governing the International Environment,"
The Global Environment: Institutions, Law, and Policy, CQ Press, 2005 (經改編)

4 根據諾曼 J. 維戈 (Norman J. Vig) ， 對世界構成威脅的**兩個**環境問題是什麼？ [2]

(1) _____

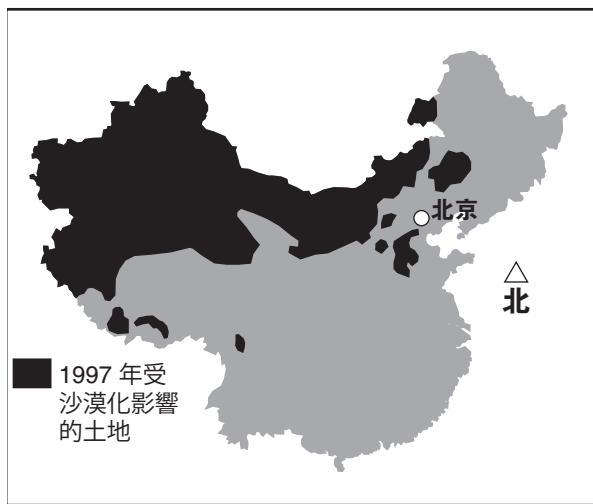
Score

(2) _____

Score

文件 5

沙漠化是一個重大的環境問題，幾乎地球四分之一的土地被此問題威脅。中國是這些地區之一。



資料來源: China National Committee for the Implementation of the U.N. Convention to Combat Desertification (經改編)

上個月，來自天漠的沙土在風的抽打下掃過這個村莊[龍寶山]，像一片刺雨一樣吹過風乾的玉米皮，劈哩啪啦地打在乾玉米皮上，並在樓房前堆積成小沙丘。

龍寶山，一個在北京西北面大約 40 英里的農業村，它處在中國防止沙漠不斷推進的失敗戰鬥的前線。在過度放牧、人口過多、乾旱和土地管理不善的推動下，沙漠正在慢慢吞噬這個國家的廣大土地，醞釀著一場生態災難。

官方的數字道出一個令人恐懼的故事。

在 1994-1999 年間，沙漠化的土地增加了 20,280 平方英里。沙漠覆蓋了中國四分之一以上的領土。在這個有五分之一世界人口和十五分之一世界可耕種土地的國家中，流沙威脅著牧民和農民。科學家警告政府，如果他們不能阻止沙土流動，大災難將會發生。

董光榮，一位中國科學研究院環境工程的研究員說：「沙土將會掩埋牧場、農田、鐵路和其它交通設施，人民將被迫遷移。」……

三月時，十年來最惡劣的沙暴遮蔽了整個首都，使其視野降低至小於一個足球場。天空被沙暴塗上黃色并吞沒了很多 40 層高的樓宇。當被稱為「黃龍」的季節性風暴向北京傾卸了 30,000 噸沙土時，市民出門時能感到嘴裏進了沙粒。街上的人用外科口罩捂著嘴或是用絲巾蒙住臉，希望能擋住沙土，但是卻徒勞無功。

當地官員試圖透過建設防護林阻擋風沙。一項旨在 2008 年夏季奧運會前保護北京的工程涉及開拓 75 個縣的沙化土地。

資料來源: Frank Langfitt, "Desertification," *The Post Standard*, May 13, 2002 (經改編)

5a 根據這份文件，陳述沙漠化在中國造成的一個問題。 [1]

Score

b 根據這份文件，陳述中國官員為處理沙漠化問題所做的一項努力。 [1]

Score

文件 6

保護環境的一些努力

1972	斯德哥爾摩—聯合國人類環境會議—國際社會有組織的保護環境的開始
1973	《瀕危野生動植物種國際貿易公約》（CITES）—限制 5,000 種動物和 25,000 種植物的貿易。
1987	《蒙特婁議定書》—保護臭氧層的約束性協定
1992	里約熱內盧「地球高峰會」—簽署關於氣候變化和生物多樣性的條約
1994	世界自然保護聯盟（IUCN）—公佈修改後的瀕危物種紅色名單，建立一個世界標準來衡量生物多樣性所受的威脅
1997	《京都議定書》—就削減大氣中溫室氣體的義務達成協定
2004	歐洲聯盟—發佈其史上第一份包含工業排放資料和代表在污染資訊公共化中「標誌性事件」的污染登記名冊
2006	聯合國大會—宣佈國際沙漠年，促成《聯合國防治沙漠化公約》

資料來源：“Environmental Milestones,” World Watch Institute（經改編）

6 根據這份文件，指出國際社會力圖解決環境問題所採取的**兩個**途徑。 [2]

(1) _____

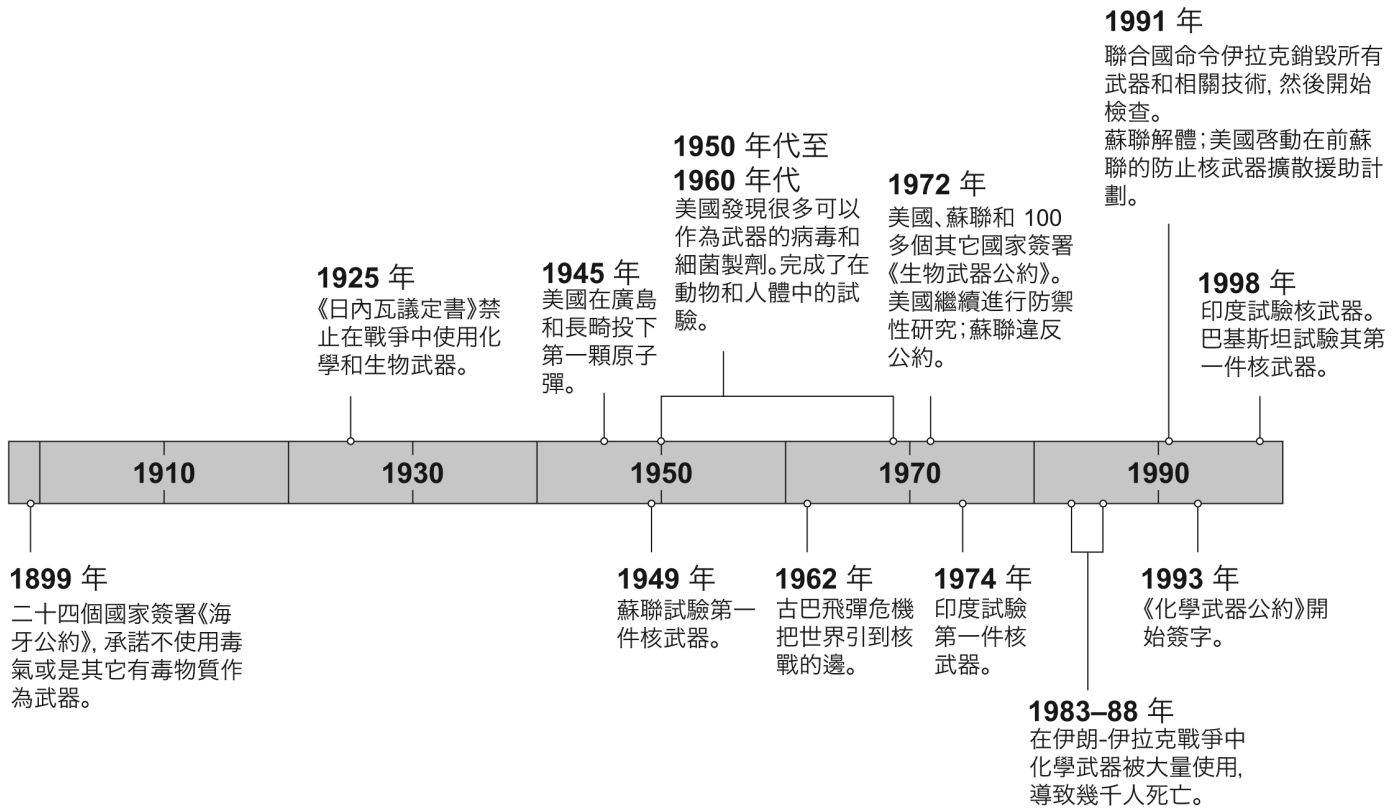
Score

(2) _____

Score

二十世紀的致命產物

大規模殺傷性武器一般是指
生物、化學與核武器



資料來源: "Weapons of Mass Destruction," *National Geographic*, November 2002 (經改編)

7a 運用這條時間線提供的資訊，指出一種使用大規模殺傷性武器的方式。 [1]

Score

b 運用這條時間線提供的資訊，指出為處理與大規模殺傷性武器相關的問題所採取的一項努力。 [1]

Score

文件 8



資料來源： Jeff Danziger, Tribune Media Services, January 4, 2002 (經改編)

8 根據這幅漫畫，陳述核武器對國際社會造成威脅的一個原因。 [1]

Score

文件 9

在非軍事場地發現民用鈾，用來從事科學和工業研究或是生產用於醫療的放射性同位素。這種鈾也可用來生產用於製造核武器的高濃縮鈾（HEU）。

民用鈾 235 的概況/獲取

- 如果恐怖份子獲得不到 100 公斤的高濃縮鈾（HEU），他們就能輕易地製造和引爆初級但有效的原子彈。對於那些力圖不必試驗就能秘密發展核武器的國家，HEU 也很有吸引力。
- 不幸的是，世界各地的核研究設施儲存了大量的 HEU—特別是在俄羅斯，經常處於極低的安全監護下。
- 美國及其盟國已經制定計劃加強安全措施，改造反應爐以使用低濃縮鈾（不能用來製造武器），並從世界各地的研究用核反應爐設施找回 HEU。但是，危險漏洞仍然存在。
- 高層政府關注加上相當小的額外投資，將有助於一勞永逸解決這個問題。

資料來源：Glaser and von Hippel, "Thwarting Nuclear Terrorism," *Scientific American*, February 2006

- 9 根據戈拉瑟爾（Glaser）和馮•希佩爾（von Hippel）的這篇文章，陳述美國及其盟國為加強高濃縮鈾（HEU）安全所做的一個努力。 [1]

Score

B部分 論文題

答卷說明： 撰寫一篇條理分明的論文，包含引言、幾個段落和結論。在你的論文中，引述取自最少**四個**文件中的證據。使用相關事實、例證、和細節支持你的回應。包括其他的外部資訊。

歷史背景：

種族滅絕、對環境的威脅和大規模殺傷性武器是世界必須面對的問題。國際社會及其成員為處理和解決這些問題曾做出多種努力。

任務： 運用文件中的資訊和你的世界歷史知識，撰寫一篇論文，在這篇論文中：

選擇歷史背景中提到的**兩個**問題，並對**每個**問題

- 描述問題所在
- 論述為處理**和/或**解決這個問題所做的努力。

指南：

在你的論文中，請務必：

- 闡述任務的各個方面
- 綜合來自**至少四份**文件的資料
- 綜合相關的外部資訊
- 引用相關事實、例證和細節來支持主題
- 須合乎邏輯、條理分明，包括一個不只是重複主題的引言和結論

世界歷史和地理

僅限用於2008年6月18日(星期三)下午1時15分至4時15分

答題紙

學生.....性別: 男性
 女性

教師.....

學校.....

第I部分的考題答案應填寫在本答題紙上。第IIIA部分的答案應填寫在考題本上，第II部分和第IIIB部分的答案填寫在分開的論文本上。

FOR TEACHER USE ONLY	
Part I Score	_____
Part III A Score	_____
Total Part I and III A Score	<input type="text"/>
Part II Essay Score	_____
Part III B Essay Score	_____
Total Essay Score	<input type="text"/>
Final Score (obtained from conversion chart)	<input type="text"/>

1.....	26
2.....	27
3.....	28
4.....	29
5.....	30
6.....	31
7.....	32
8.....	33
9.....	34
10.....	35
11.....	36
12.....	37
13.....	38
14.....	39
15.....	40
16.....	41
17.....	42
18.....	43
19.....	44
20.....	45
21.....	46
22.....	47
23.....	48
24.....	49
25.....	50

No.
Right

當你考完試之後，必須在以下聲明的下方簽名。

本人在此考試結束之際特此聲明，本人在此考試之前未非法獲得考題內容及答案，並且在考試中，既未向任何人提供幫助，也未從任何人處得到幫助。

簽名

沿此虛線撕下

沿此虛線撕下

沿此虛線撕下

沿此虛線撕下