

世界歷史 和地理

僅限用於2009年6月19日 (星期五) 上午9時15分至中午12時15分

學生姓名 _____

學校名稱 _____

請用工整字跡在以上直線上填寫你的姓名和學校名稱。然後翻到本考題本的最後一頁，即本考題本的第I部分答題紙。請沿齒孔線把最後一頁摺疊起來，慢慢地小心地將答題紙撕下。然後在你的答題紙上填寫各項抬頭。現在請用工整字跡在論文本的每一頁填寫你的姓名和學校名稱。

本次考試共有三個部分。你必須要回答每一部分的**所有**題目。用黑色或深藍色的水墨原子筆回答。

第I部分包括50道選擇題。請將答案記錄在分開的答題紙上。

第II部分包括一道以主題為主的論文題。請在論文本上寫下你對這個問題的答案，從第1頁開始。

第III部分基於幾份文件：

第IIIA部分包含這些文件。每一文件後有一或一個以上的問題要回答。在本考題本上，將各題的答案寫在各問題後的直線上。請務必在這部分的第一頁上填寫你的姓名和學校名稱。

第IIIB部分包括一個基於這些文件的論文題。請在論文本上寫下你對這個問題的答案，從第7頁開始。

在你答完題後，你必須簽署印在第I部分的答題紙上的聲明，表明你沒有非法得到本考試的試題或答案，而且在本考試中也沒有給予過或接受過任何的幫助。你如果不簽署本聲明，你的答題紙不會被接受。

在本考試中，嚴禁使用任何形式的通訊工具。如果你使用了任何的通訊工具，無論使用多久，你的考試都將無效，並且不會得到任何的分數。

未經指示請勿打開本考題本。

第I部分

請回答本部分的所有問題。

答題說明(1—50)：根據每一條題目的陳述或問題，在所給答案中選擇最恰當的詞或詞句，把代表該答案的**編號**寫在分開的答題紙上。

- 1 許多歷史學家研究地理的一個原因是
要
(1) 幫助預測政府的改變
(2) 顯示人與地方之間的關聯
(3) 分辨事件是在何時發生的
(4) 探討早期的人的價值體系
- 2 「希臘雕像在龐貝出土」
「辛巴威的挖掘發現了中國瓷器」
「阿茲特克廢墟附近發現了米絲特克人的紡織品」
這些標題說明了哪個概念？
(1) 殖民主義 (3) 種族中心論
(2) 孤立主義 (4) 文化傳播
- 3 新石器時代革命的結果是什麼？
(1) 文明發展。
(2) 人類第一次學會了用火。
(3) 預期壽命下降。
(4) 人們開始狩獵和採集食物。
- 4 「有一種理論認為過去有遷移潮，一個經過非洲東部，而另一個則是通過非洲大陸的中部。在尚比亞，有證據表明至少有三個遷移路線 — 分別從大湖區、從剛果森林和從安哥拉。」.
資料來源：BBC, The Story of Africa: Early History
這一段關於非洲早期歷史的短文描述了與哪一群人有關的遷移？
(1) 腓尼基人 (3) 摩爾人
(2) 班圖人 (4) 巴比倫人
- 5 哪種信仰系統被認為是一神教？
(1) 耆那教 (3) 猶太教
(2) 道教 (4) 神道教
- 6 義大利半島的地理如何影響了羅馬帝國的發展？
(1) 義大利半島北部不能通航的河流保護羅馬人不受他們的鄰國所侵犯。
(2) 惡劣的氣候阻礙到義大利半島上的農業生產。
(3) 漫長、崎嶇的海岸線鼓勵了對義大利半島的頻繁入侵。
(4) 義大利半島的位置有助於羅馬控制地中海地區。
- 7 • 印度教是佔主導地位的宗教。
• 壁畫是畫在阿姜塔 (Ajanta) 石窟的牆上。
• 零和十進位系統的概念被採用。
這些陳述描述了哪個帝國？
(1) 古普塔帝國 (3) 波斯帝國
(2) 孔雀王朝 (4) 大英帝國
- 8 俄羅斯文明的早期通過與什麼接觸而採行東正教、西里爾字母和不同的藝術和建築風格
(1) 來自中國的貿易者
(2) 征服蒙古入侵者
(3) 來自北歐的維京人
(4) 來自拜占庭帝國的傳教士
- 9 唐宋時期在技術方面取得的成就是很重要的，因為它們
(1) 被用來打敗忽必烈
(2) 促進了經濟成長和文化進步
(3) 增加了與美洲的接觸
(4) 導致男女間社會地位的平等

根據下面的地圖和你的社會科學知識回答第10題和第11題。

黑死病的蔓延



<http://www.wwnorton.com> (經改編)

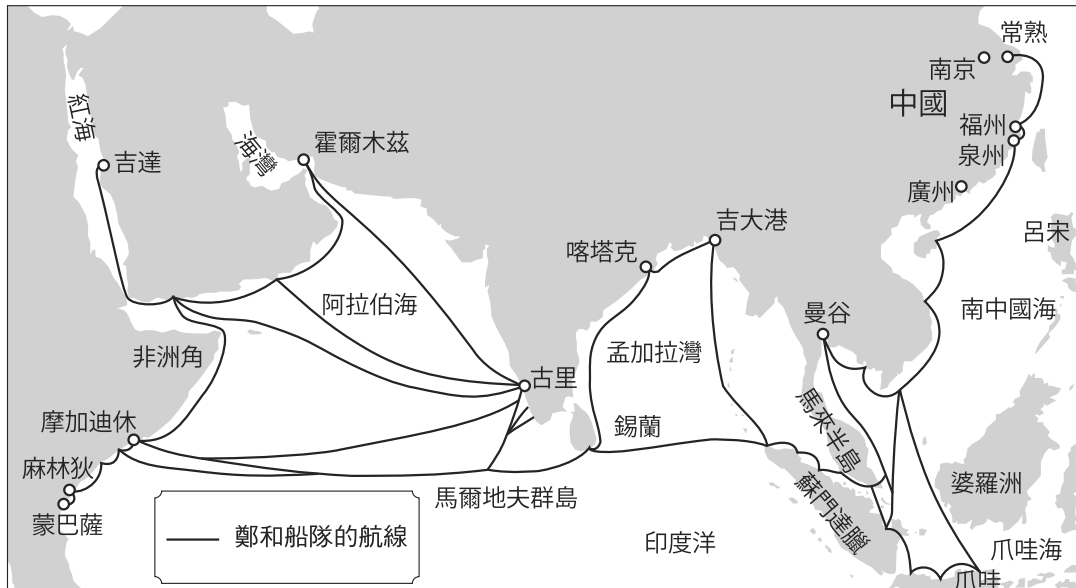
- 10 地圖上顯示的資訊暗示黑死病蔓延到歐洲是與什麼接觸的結果
- (1) 來自西非的商人
 - (2) 來自亞洲的貿易者
 - (3) 來自斯堪的那維亞的野蠻人
 - (4) 從美洲回來的探險者
- 11 根據這張地圖，什麼是有關黑死病的正確推論？
- (1) 日本是第一個發生的地方。
 - (2) 最高的死亡率發生在摩加迪休和福州。
 - (3) 北非、歐洲和亞洲的人都受到這一疾病的影響。
 - (4) 疫情的蔓延主要是從西到東。

- 12 什麼是歐洲文藝復興的一大特徵？
- (1) 世俗的成就得到強調。
 - (2) 賦予男人和女人普選的權利。
 - (3) 大多數文獻是用阿拉伯文寫的。
 - (4) 大多數的古希臘和羅馬思想都被否決。

- 13 什麼是馬可·孛羅旅行的一個結果？
- (1) 非洲仍然是孤立的。
 - (2) 顎圖曼帝國的勢力漸弱。
 - (3) 殖民地於日本成立。
 - (4) 對亞洲文化的興趣增加。

根據下面的地圖和你的社會科學知識回答第14題。

鄭和下西洋，1405-33

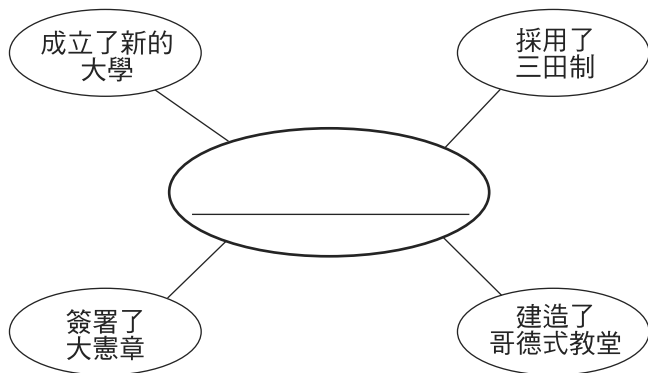


資料來源：Patrick K. O'Brien, ed., *Oxford Atlas of World History*, Oxford University Press (經改編)

14 根據這張地圖上的資料，關於鄭和下西洋的哪個結論是正確的？

- (1) 他的船隊最遠只航行到孟加拉灣。
- (2) 他的探險航線遠及亞洲和非洲的港口。
- (3) 他的船隊征服並控制了呂宋。
- (4) 他的探險與非洲的內部有直接貿易往來。

根據下面的組織圖和你的社會科學知識回答第15題。



15 哪個標題最能完成此組織圖？

- (1) 德川時代的改進
- (2) 歐洲中世紀的成就
- (3) 古代迦納的發展
- (4) 反宗教改革所造成的變化

16 在15世紀有哪一項技術進步徹底變革了思想傳遍西歐各地的方式？

- (1) 天象儀的開發
- (2) 電報的採用
- (3) 印刷機的改良
- (4) 望遠鏡的創造

17 哪個短語最能完成以下部分綱要？

I. 印加人的成就

- A. _____
- B. 使用魁普 (quipus) 保存記錄
- C. 不使用砂漿來建造石製結構

- (1) 鑄造銅像
- (2) 創造梯田農作系統
- (3) 發明腳鐙
- (4) 開發戰車

18 西班牙的價格隨著殖民地提供大量的黃金和白銀而上漲。這暗示西班牙進口黃金和白銀導致了

- (1) 糧食短缺
- (2) 失業
- (3) 通貨膨脹
- (4) 自給自足

19 哪一種政治領導形式與伊凡雷帝 (Ivan the Terrible)、蘇萊曼大帝 (Suleiman the Magnificent) 和西班牙菲利普二世 (Philip II) 最密切相關？

- (1) 民主制
- (2) 專制
- (3) 共產制
- (4) 神制

20 根據洛克 (John Locke)，政府的目的是為了

- (1) 保護個人的自然權利
- (2) 服侍君主
- (3) 建立海外殖民地
- (4) 刺激經濟

21 哪個特徵與建立在自由放任原則基礎上的經濟有關？

- (1) 價格是以供應和需求為基礎
- (2) 生產配額是由中央政府所制定
- (3) 貨物的分配是根據傳統社會的習俗而決定
- (4) 用某些貨物交換同等價值的其他商品

22 杜桑 (Toussaint L'Ouverture)、玻利瓦爾 (Simón Bolívar) 和聖馬丁 (José de San Martín) 的一個類似之處是他們

- (1) 支持恢復失地(Reconquista)
- (2) 領導獨立運動
- (3) 為美洲原住民爭取普選
- (4) 捍衛僱用當地土著的經濟制度

23 「印度兵變」(Sepoy Rebellion) 被認為是印度歷史上的一個重要事件，因為它是什麼的原因之一

- (1) 在印度的獨立運動
- (2) 孟加拉國脫離巴基斯坦
- (3) 在印度建立法國殖民地
- (4) 穆斯林建立了蒙兀兒帝國 (Mughal Empire)

24 帝國一詞最確切的定義是

- (1) 具有共同宗教信仰的一個政治單位
- (2) 被人民的意願所統治的政府
- (3) 在單一權威統治之下的廣大領土
- (4) 需要同化被征服的人民的一個國家

25 三國同盟 (Triple Alliance) 和三國協約 (Triple Entente) 透過什麼促成第一次世界大戰的發動

- (1) 未包括德國和法國為成員國
- (2) 威脅到西半球的國家
- (3) 允許日本侵略朝鮮
- (4) 歐洲國家之間的緊張加劇

根據下面的陳述和你的社會科學知識回答第26題。

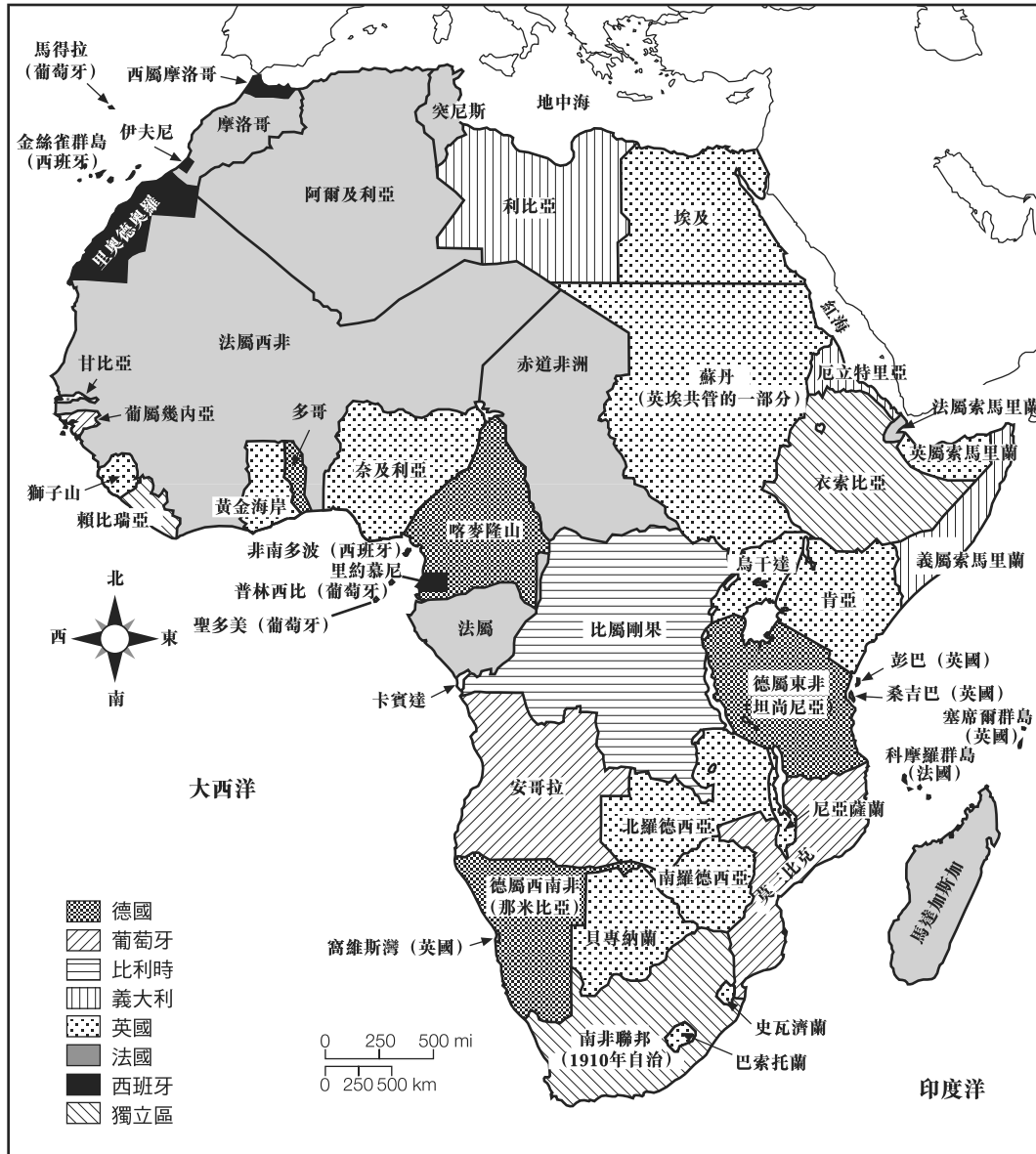
奧匈帝國的瓦解導致一些新的國家成立和其他國家擴大。這些新的國家很快便制定了貿易限制，並開始在貨物越過其邊界時徵收關稅。

26 哪一個關於奧匈帝國瓦解的結論最正確？

- (1) 國際合作使得邊界爭端得到解決。
 - (2) 從控制經濟過渡到自由市場經濟是很困難的。
 - (3) 政治獨立導致貿易壁壘。
 - (4) 關稅造成貿易量增加。
-

根據下面的地圖和你的社會科學知識回答第27題。

1913 年的歐洲殖民地



資料來源：Les Rowntree et al., *Diversity Amid Globalization*, Prentice Hall (經改編)

27 這張地圖上顯示的許多政治分割都與什麼直接相關

- | | |
|------------------------------|------------------------------|
| (1) 明治維新 (Meiji Restoration) | (3) 柏林會議 (Berlin Conference) |
| (2) 鴉片戰爭 (Opium Wars) | (4) 波爾戰爭 (Boer War) |

28 德國1930年代的經濟大蕭條促成納粹黨的崛起，因為

- (1) 經濟困難增加了政治上的不穩定
- (2) 共產黨的五年計劃失敗
- (3) 國會 (Reichstag) 將私人財產收歸國有
- (4) 魏瑪共和國 (Weimar Republic) 實行極權主義

29 甘地 (Mohandas Gandhi) 在印度獨立運動中的抗議活動往往是成功的，因為他應用了

- (1) 姑息政策
- (2) 非暴力反抗
- (3) 傳統的種姓信仰
- (4) 分而治之的原則

根據下面的漫畫和你的社會科學知識回答第30題。



資料來源：Kime, O'Donnell and Osborne,
World Studies: *Global Issues and Assessments*,
N & N Publishing

30 這名漫畫家認為俄羅斯在列寧的統治之下以什麼為特點

- (1) 繼續傳統的生活方式
- (2) 引進資本主義
- (3) 支持君主立憲制
- (4) 反對沙皇體制

31 聯合國的主要宗旨是

- (1) 控制世界糧食價格
- (2) 促進民主政府
- (3) 和平解決國家之間的衝突
- (4) 透過軍事聯盟團結所有國家

32 第二次世界大戰是許多在非洲和亞洲的歐洲殖民地的一個轉折點，因為戰爭導致

- (1) 大部分歐洲殖民地被聯合國部隊佔領
- (2) 這些殖民地更加努力試圖獲得獨立
- (3) 歐洲帝國主義的擴張
- (4) 歐洲人和他們的殖民地之間的摩擦減少

33 第二次世界大戰之後馬歇爾計劃 (Marshall Plan) 的目的是為了

- (1) 推廣軍國主義
- (2) 強迫戰敗國幫助在戰爭中被毀的地區
- (3) 重建民族經濟以穩定政府
- (4) 加強贏得這場戰爭的聯盟

34 石油輸出國組織 (OPEC) 最著名的是它企圖

- (1) 開發可行的化石燃料的替代品
- (2) 將西方的煉油技術引進中東
- (3) 停止向非阿拉伯國家出口石油
- (4) 設定生產配額以控制油價

35 韓戰和越戰的一個類似之處是兩者

- (1) 導致先前獨立的兩個國家統一
- (2) 反映了西方圍堵政策的成功
- (3) 試圖推翻法國帝國主義的統治
- (4) 從冷戰的緊張局勢引發而來

36 以古巴的卡斯楚 (Fidel Castro) 和尼加拉瓜的桑定 (Sandinistas) 為首的革命結果的一個類似之處是兩者

- (1) 恢復了君主制
- (2) 摧毀了神制
- (3) 遵循了馬克思主義的原則
- (4) 保護了新聞自由

根據下面的漫畫和你的社會科學知識回答第37題。



資料來源：Chan Lowe, *The South Florida Sun Sentinel*

37 這幅2005年的漫畫暗示著什麼？

- (1) 中東的不穩定一直持續著。
- (2) 中東的和平進程正在取得進展。
- (3) 中東三十年來有了很大的改變。
- (4) 媒體塑造社會對中東的看法。

38 大躍進和四個現代化的一個類似之處是分別企圖

- (1) 增加農業和製造業產出
- (2) 發展民主政體
- (3) 與共產主義鄰國加強經濟聯繫
- (4) 減少貧富差距

39 **綠色革命**一詞是指

- (1) 激進黨推翻政府
- (2) 在技術進步的基礎上增加農業生產
- (3) 環境中基於全球暖化的急劇變化
- (4) 恐怖主義造成的糧食產量下降

40 哪個關於今日日本經濟的陳述最準確？

- (1) 富饒的可耕地帶來了繁榮。
- (2) 擁有核子武器保證了強大的經濟。
- (3) 經濟發展在沒有政治自由的情況下發生。
- (4) 缺少自然資源並未限制經濟成長。

41 在伊斯蘭教和西非王國 (West African Kingdoms) 兩者的黃金時代所取得的許多成就就是以什麼方式到達歐洲社會

- (1) 在地中海地區的貿易網路
- (2) 中國和非洲之間的貿易探險
- (3) 麥哲倫的航行
- (4) 馬修·派瑞 (Matthew Perry) 准將的旅行

42 在歐洲和日本的封建社會，社會地位通常是由什麼決定的

- (1) 婚姻
- (2) 出生
- (3) 個人能力
- (4) 教育和訓練

43 建立殖民地並藉由控制殖民貿易以獲得財富的政策被稱為

- | | |
|-----------|----------|
| (1) 社會主義 | (3) 重商主義 |
| (2) 法西斯主義 | (4) 共產主義 |

44 哪份文件確立了英國有限君主制的原則？

- | | |
|-----------------------------|------------------------------------|
| (1) 十二銅表
(Twelve Tables) | (3) 最高權威法案
(Act of Supremacy) |
| (2) 大憲章
(Magna Carta) | (4) 貝爾福宣言
(Balfour Declaration) |

根據下面的地圖和你的社會科學知識回答第45題和第46題。



資料來源：Learning from Maps, Prentice Hall (經改編)

45 哪個字母指出伊斯蘭教的宗教中心麥加 (Mecca) 所在地的那個半島？

- (1) A
- (2) B
- (3) C
- (4) D

46 哪個字母指出越南戰爭和波布 (Pol Pot) 的暴行發生地的那個半島？

- (1) A
- (2) B
- (3) C
- (4) D

47 多年來，撒哈拉對歐洲人來說是一個障礙，而非洲人卻把沙漠當成公路。這項陳述支持哪個結論？

- (1) 非洲與歐洲之間的貿易減少。
- (2) 非洲帝國通常避免與歐洲人接觸。
- (3) 荒漠化減少了可供非洲人和歐洲人利用的耕地。
- (4) 最初，歐洲人缺乏在沙漠中旅行所需的知識和技能。

48 義和團 (Boxer Rebellion) 和孫中山 (孫逸仙) 先生的工作與什麼最密切相關

- (1) 長征
- (2) 中國黃金時代
- (3) 文化大革命
- (4) 中國民族主義的崛起

49 鐵幕一詞是指

- (1) 第一次世界大戰的戰壕在土地上留下的瘡痕
- (2) 波斯灣戰爭之後在伊拉克北部的禁飛區
- (3) 第二次世界大戰之後在印度和巴基斯坦之間設立的邊界
- (4) 在冷戰時期歐洲蘇聯統治的西部邊界

50 在1918年的波蘭人和1948年以前的猶太人都是什麼的例子

- (1) 沒有自己國家的人民
- (2) 大英帝國的殖民地人民
- (3) 加入北大西洋公約組織 (NATO) 的團體
- (4) 派代表參加了聯合國安理會的團體

所有論文題的答案均應寫在分開的論文題本上。

回答第II部分的問題時，注意以下一般性定義：

- (a) **解釋**指「使之清楚或容易了解；提供理由或原因；顯示合乎邏輯的發展或關係」
- (b) **描述**指「用文字闡述或陳述」
- (c) **論述**指「透過事實、推理和論證來對某件事發表意見；加以詳述」

第II部分

主題論文題

答題說明： 撰寫一篇條理分明的論文，包含引言、與下列任務相關的幾個段落、以及結論。

主題：人權

歷史上有許多一群人被剝奪人權的例子。個人、團體和政府都試圖結束許多對人權的侵犯，儘管他們並不總是能獲得成功。

任務：

選擇歷史上**兩個**有關一群人的人權被剝奪的不同例子，並對**每個**例子

- 解釋導致人權被剝奪的歷史條件
- 描述這個群體的人權如何被剝奪
- 論述個人、群體或政府試圖結束對人權的侵犯所採取的行動

你可以運用從世界歷史學到關於侵犯人權的任何範例。你可能願意考慮的一些建議包括拉丁美洲遭遇 (the Encounter) 期間的土著居民、俄羅斯大屠殺期間的猶太人、鄂圖曼帝國壓制下的亞美尼亞人、南非種族隔離制度下的黑人、天安門廣場的中國學生、前南斯拉夫的波士尼亞回教徒以及阿富汗在塔里班統治下的婦女。

你不必侷限於以上建議。

不要用發生在美國的侵犯人權的例子來作為你的答案。

指南：

在你的論文中請務必：

- 闡述任務的各個方面
- 引用相關事實、例證及詳細資料來支持主題
- 須合乎邏輯、條理分明，包括一個不只是重複主題的引言和結論

第III部分

基於文件題

本問題是基於隨附的文件。該問題的設計是為了測驗你運用歷史文件的能力。其中一些文件是為這個問題編輯的。當你分析文件時，請參考每份文件的來源及文件中所論述的任何觀點。

歷史背景：

雖然在整個歷史上經濟和社會都會發生變化，不過在特定時期內的變化尤其巨大。這些時期包括**中世紀**、**英國工業革命**和**全球化時代**。

任務：運用文件資料和你的世界歷史知識，回答A部分每一份文件後面的問題。你對這些問題的回答將有助於你撰寫B部分的論文，在這篇論文中，你將被要求

選擇歷史背景中提到的**兩個時期**，並對**每個時期**

- 描述在該時期內發生的**經濟及/或社會變化**
- 論述變化對社會或特定的一群人所帶來的**影響**

在回答第III部分的問題時，請注意以下一般性定義：

- 描述指「用文字闡述或陳述」**
- 論述指「透過事實、推理和論證來對某件事發表意見；加以詳述」**

A部分 簡答題

答題說明：分析以下文件，在所提供的空白處上回答每份文件後的簡答題。

文件1

從查理曼大帝時代以後在西方盛行的莊園制，原本其實並不利於農業和商業的發展。莊園往往能自給自足；因此經濟封閉。人們生活在他們的小世界裡對外頭陌生的世界總是感到恐懼，那裡只是罪惡的源頭。他們最大的希望只是忍受；因此他們便默默忍受著。

到了十一世紀和下面的幾個世紀，事情有了好的轉機。生活變得更加穩定；人口增加；新的土地被開墾耕種，並且致使[使得]原有的土地更具生產力。新的農業技術被採用。豆科植物[固氮植物]滋養和恢復耗盡土壤的能力被確認，並發展出施肥科學—泥灰岩[石灰質豐富的泥土]和骨灰被拿來和動物糞肥結合使用。牲口的品質由於選種和雜交而提高了。流水被派上用場，用於操作磨粉廠並為鍛造廠提供電力。風車在平原和丘陵地旋轉，人們甚至企圖建造潮汐磨坊，並取得了一些成功。...

資料來源: Morris Bishop, *The Middle Ages*, Houghton Mifflin

1 根據 Morris Bishop，在中世紀時期發生的**兩個**變化是什麼？ [2]

(1) _____

Score

(2) _____

Score

文件2

... 然後，正如十字軍至少有一部分是受到商業動機的鼓舞，東方與西方之間那兩百多年持續不斷的來來往往，顯然也對貿易產生了巨大的推動。商人們在研究那些鋪平了道路的跨旗手[十字軍]的行程[路線]時，發現了地中海東部港口和歐洲的心臟地帶之間最直接的路線。威尼斯是來自中東和印度進口貨物一個特別活躍的入境口岸。商品從那裡途經一條已經確立的路線，經由布侖納隘道上行萊茵河到布魯塞爾，然後往北到波羅的海。沿著這條路線的許多城鎮之所以存在，要歸功於中世紀歐洲人對來自於東方的異國商品的旺盛需求。...

資料來源: "Legacy of the Crusades," *Aramco World*

- 2 根據這一段取自 "Legacy of the Crusades" 的摘錄，中世紀時期十字軍所帶來的一個經濟變化是什麼？ [1]

Score

文件3

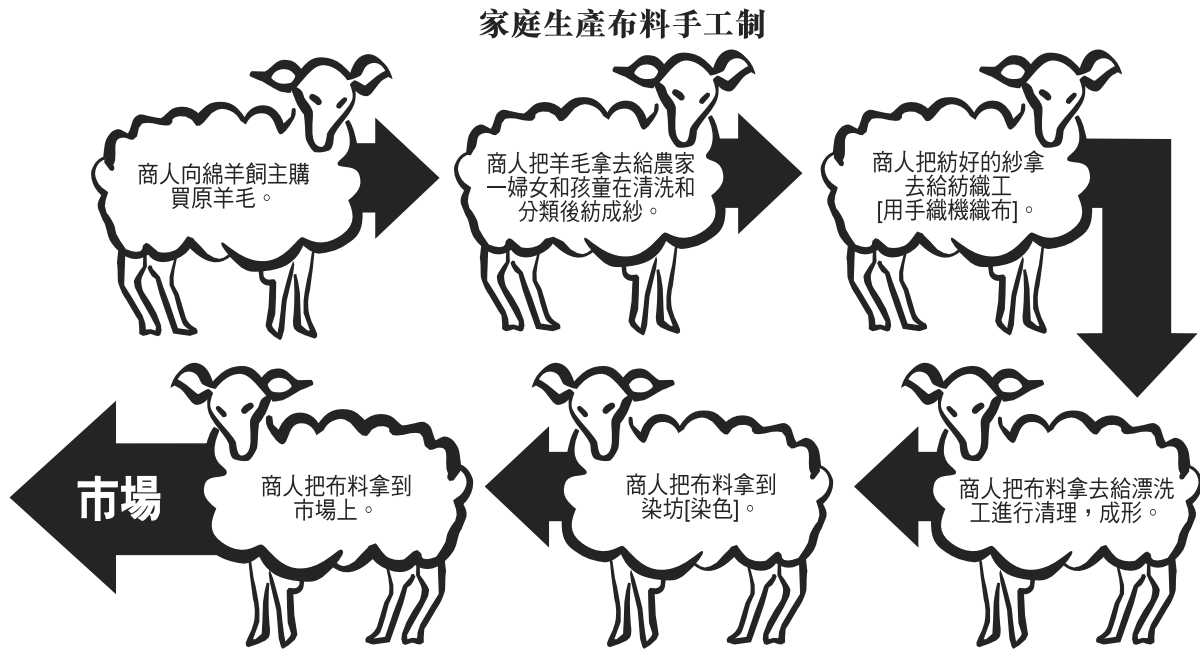
... 總之，歐洲正在從一個發展中的區域轉變成為一個發達的區域。工業的成長意味著城市的增長，從十一和十二世紀開始，它們不再扮演過去軍事總部和行政中心的角色，反而充滿了朝氣勃勃的商業和工業生活。有些城鎮如雨後春筍般出現，像曾經一度是羅馬村莊的熱內亞；而另一些城鎮則不知是從何處冒出來的，像威尼斯。還有其他一些由進步統治者所成立的城鎮，乾脆自稱為「新城市」（如：Villanova、Villeneuve、Neustadt）。這些城市非但不是隨便形成的，反而按規劃而建，通常是具有中心廣場、教堂和市場建築的網格模式。始於十世紀的義大利，許多城市的商人和工匠建立了他們所謂的「社區」，宣佈他們自己是自由人，只效忠於一個除了收稅以外不去打擾他們的主權。精明的領主紛紛頒布特許狀豁免城市居民的封建義務：「這樣一來，我的朋友們，部屬們，以及我 Binarville 鎮上的居民，都更願意留下來，」一位領主很理智地解釋。在「自由的空氣造就自由人」的標語下，甚至如果農奴能在城市中持續待上一年零一天，便能宣佈得到解放。...

資料來源: Frances & Joseph Gies, *Cathedral, Forge, and Water Wheel: Technology and Invention in the Middle Ages*, Harper Perennial (經改編)

- 3 根據Frances和Joseph Gies，歐洲城市的增長對中世紀的歐洲社會的一個影響是什麼？ [1]

Score

文件4a

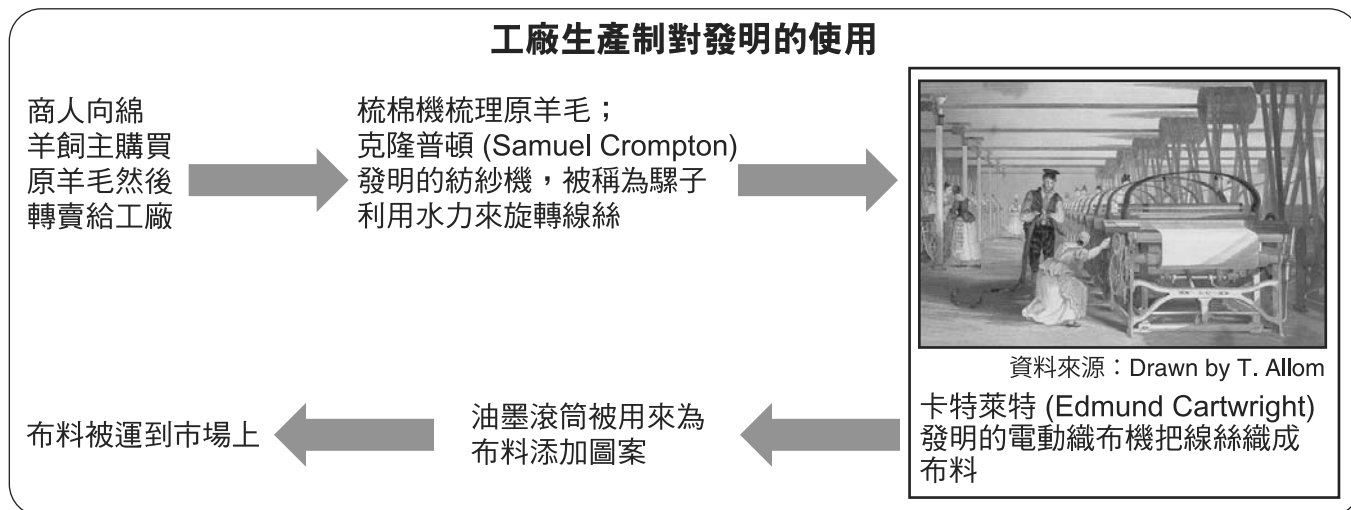


資料來源：Farah and Karls, *World History: The Human Experience*, Section Focus Transparencies, Glencoe McGraw-Hill (經改編)

4a 根據這個圖表，家庭手工制是如何生產布料的？ [1]

Score

文件4b



4b 根據這個圖表，工廠生產制是如何生產布料的？ [1]

Score

工業革命

... 工業革命的第一階段使得傳統社會過時[不再有用]，因為它已經不符合工業經濟的基本要求。這些要求中的一個是農業的商業化。土地勢必被當作一種可以買賣的商品，以便能生產足夠的糧食養活越來越多的城市人口，繼而導致一些農村有多餘的勞動力[過剩]，好讓人們轉移到城市中來在新的工廠裡工作。雖然全球各地的傳統社會有很大差別，但不管在哪裡，他們所依據的都是土地，況且土地在任何地方都不只被視為是商品而已。相反地，它是一個錯綜複雜的義務和特權網路的基礎，一個結合了業主和工人、地主和農民的社會結構。工業革命所威脅到的，而且最終所淘汰的，正是這些傳統的制度，這些社會世界。...

資料來源: Michael Mandelbaum, *The Ideas that Conquered the World*, Public Affairs

5 根據Michael Mandelbaum，工業革命造成的一個變化是什麼？ [1]

Score

文件6a

... 我經常與來自遠方的朋友一起造訪這附近的許多棉花廠；當我們出來的時候，總是有一種普遍的想法，那就是兒童是很不幸的受害者，而且似乎十分病態和不健康；被迫在這種不良的條件之下如此長時間的工作。因為我每天早上都會抽出一、兩個小時的時間來為窮人提供建議，所以我有太多的機會可以看到這種壓制對兒童健康的不良影響；這些父母經常說他們的孩子身體健康強壯，直到他們最後被送出去；正由於他們被如此嚴密且長時間地侷限在工廠裡，現在他們都已變得體弱多病。...

資料來源: Robert Agnew, M.D., "Observations on the State of the Children in Cotton Mills,"
Manchester, March 23, 1818

6a 根據 Agnew 醫生，工業革命對兒童造成的一個影響是什麼？ [1]

Score

文件6b

在這一段摘錄中，恩格斯 (Friedrich Engels) 與一名中產階級紳士的談話表明中產階級對於工廠工人生活條件的態度。

... 有一天我和其中的一個中產階級紳士走到曼徹斯特。我對他提到那些衛生條件不良的貧民窟令人感到可恥，並請他注意看看工廠工人所生活的城市那一部分令人厭惡的條件。我聲稱我一生當中從未見過建設得如此糟糕的城鎮。他耐心地聆聽，並且當我們在街角分手時，他如此說道：「然而，在這裡卻產生了大量的財富。祝您有個愉快的一天，先生。」...

資料來源: Friedrich Engels, *The Condition of the Working Class in England*, Stanford University Press (經改編)

6b 根據恩格斯 (Friedrich Engels)，工業革命對工廠工人的生活條件造成的一個結果是什麼？ [1]

Score

文件7

... 歡迎來到「全球化」的多元世界裡——一個不斷增長的全球交易市場，商業交易經常跨越地理疆界，使得國界也變得越來越模糊。但它並非總是如此。很有可能的是你的父母穿美國製的衣服，吃美國製的食品，開美國製的汽車。但是世界貿易的繁榮興旺已經改變了這一切。你買的東西可能只是它最小的一部分。

世界貿易的擴大產生了眾多戲劇性的變化。隨著外資湧入，建造工廠並給數以百萬計的人提供就業機會，整個國家看到他們的財富猛增。其他有些國家卻被拋在其後。在這個過程中，有數十億的人受到了或好或壞的影響。...

資料來源: Herbert Buchsbaum, "Living in a Global Economy," *Scholastic Update*,
March 7, 1997

7 根據Herbert Buchsbaum，由於全球化的結果而發生的一個經濟變化是什麼？ [1]

Score

文件8

你的抱怨繞地球一圈

... 當一個美國人在美國撥免付費電話號碼，表示家電發生故障或抱怨郵購毛衣訂單錯誤時，這通電話往往經由高速光纖電纜轉至印度的電話中心。...

印度一家科技行業貿易集團NASSCOM表示，設在印度的國際電話中心到了2008年將產生80億美元的收入。隨著全球化的腳步以及政府取消管制擴大了在印度的電信營運並降低其成本，成長正不斷在加速中。

24/7 Customer.com創始人兼總執行長Prakash Gurbaxani說道：「這方面的發展潛力不可限量。」這是一個位於邦加羅爾的客戶服務中心，其美國客戶包括AltaVista和Shutterfly.com等網站。該公司預期業務量還會增加，在超級市場般大小的電話中心內佈滿了黑螢幕電腦，使其300名員工顯得矮小。...

資料來源: Associated Press, *Syracuse Herald American*, June 24, 2001

8 根據這篇報紙的文章，全球化對印度帶來的一個影響是什麼？ [1]

Score

文件9

... 今日，**全球化**在世界各地受到挑戰。有人對全球化感到不滿，而且是有理由如此的。全球化可以成為一種好的力量：有關民主和文明社會的思想的全球化，已改變了人們的思考方式。同時全球政治運動導致了債務減免和簽訂有關地雷的條約。全球化使得數以億計的人們達到更高的生活水準，超出到不久以前他們或大多數經濟學家都無法想像的地步。經濟全球化使利用它來為其出口尋求新的市場並歡迎外國投資的國家受惠。即便如此，受益最多的國家，是那些把命運掌握在自己的手裡，承認政府在發展上可以發揮作用，而不依賴於自我調節市場修正自身問題這一觀念。

但是，對數以百萬計的人們來說，全球化並沒有奏效。實際上許多人的處境變得更糟，因為他們的工作被破壞，而且生活也變得更加不安全。他們越來越覺得無力反擊那些超出其控制能力之外的力量。他們看到他們的民主被削弱，他們的文化被侵蝕。

如果全球化一直繼續像過去一樣的方式進行，如果我們還是不能從我們的錯誤中學習，那麼全球化不僅不會成功促進發展，反而將繼續製造貧窮和動盪。如果不改革，已經開始的對抗情緒將上升，而且對全球化的不滿將會增加。...

資料來源: Joseph E. Stiglitz, *Globalization and Its Discontents*, W. W. Norton & Co., 2003

9a 根據Joseph E. Stiglitz，全球化的一個**正**面影響是什麼？ [1]

Score

b 根據Joseph E. Stiglitz，全球化的一個**負**面影響是什麼？ [1]

Score

B部份 論文題

答卷說明：撰寫一篇條理分明的論文，包含引言、幾個段落和結論。在你的論文中，引述取自最少**四**個文件中的證據。使用相關事實、例證、和細節支持你的回應。包括其他的外部資訊。

歷史背景：

雖然在整個歷史上經濟和社會都會發生變化，不過在特定時期內的變化尤其巨大。這些時期包括**中世紀**、**英國工業革命**和**全球化時代**。

任務： 運用文件資料和你的世界歷史知識撰寫一篇論文，在這篇論文中

選擇歷史背景中提到的**兩個**時期，並對**每個**時期

- 描述在該時期內發生的經濟**及/或**社會變化
- 論述變化對社會或特定的一群人所帶來的影響

指南：

在你的論文中，請務必：

- 闡述任務的各個方面
- 綜合來自至少**四份**文件的資料
- 綜合相關的外部資訊
- 引用相關事實、例證和細節來支持主題
- 須合乎邏輯、條理分明，包括一個不只是重複主題的引言和結論

世界歷史
和地理

僅限用於2009年6月19日(星期五)上午9時15分至下午12時15分

答題紙

男性

學生 性別： 女性

教師

學校

第I部分的考題答案應填寫在本答題紙上。第IIIA部分的答案應填寫在考題本上，
第II部分和第IIIB部分的答案填寫在分開的論文本上。

1.....	26.....
2.....	27.....
3.....	28.....
4.....	29.....
5.....	30.....
6.....	31.....
7.....	32.....
8.....	33.....
9.....	34.....
10.....	35.....
11.....	36.....
12.....	37.....
13.....	38.....
14.....	39.....
15.....	40.....
16.....	41.....
17.....	42.....
18.....	43.....
19.....	44.....
20.....	45.....
21.....	46.....
22.....	47.....
23.....	48.....
24.....	49.....
25.....	50.....

FOR TEACHER USE ONLY

Part I Score _____

Part III A Score _____

Total Part I and III A Score

Part II Essay Score _____

Part III B Essay Score _____

Total Essay Score

Final Score
(obtained from conversion chart)

No. Right

當你考完試之後，必須在以下聲明的下方簽名。

本人在此考試結束之際特此聲明，本人在此考試之前未非法獲得考題內容及答案，並且在考試中，既未向任何人提供幫助，也未從任何人處得到幫助。

簽名

沿此虛線撕下

沿此虛線撕下

