

# 世界歷史 和地理

僅限用於2012年1月27日(星期五)——上午9時15分至下午12時15分

學生姓名 \_\_\_\_\_

學校名稱 \_\_\_\_\_

請用工整字跡在以上直線上填寫你的姓名和學校名稱。I 份分開的第一部分專用答題紙會發給你。請遵循監考老師的指示在答題紙上填寫學生資料。然後再填寫論文題本的每一頁抬頭。

本次考試共有三個部分。你必須要回答每一部分的**所有**題目。請用黑筆或藍筆作答第 II 部分、第 III A 部分和第 III B 部分。

**第 I 部分**包括 50 道選擇題。請將答案記錄在分開的答題紙上。

**第 II 部分**包括一道以主題為主的論文題。請在論文本上寫下你對這個問題的答案，從第 1 頁開始。

**第 III 部分**基於幾份文件：

**第 III A 部分**包含這些文件。請務必在這部分的第一頁上填寫你的姓名和學校名稱。

每一文件後有一個或一個以上的問題要回答。在本考題本上，將各題的答案寫在各問題後面的直線上。

**第 III B 部分**包含一個基於這些文件的論文題。請在論文本上寫下你對這個問題的答案，從第 7 頁開始。

在本次考試結束後，你必須簽署印在答題紙最後的聲明，表明在考試之前你沒有非法得到本考試的試題或答案，並且在本考試中沒有給予過或接受過任何的幫助。你如果不簽署本聲明，你的答題紙將不會被接受。

在本考試中，嚴禁使用任何形式的通訊工具。如果你使用了任何的通訊工具，無論多短暫，你的考試都將無效，並且不會得到任何分數。

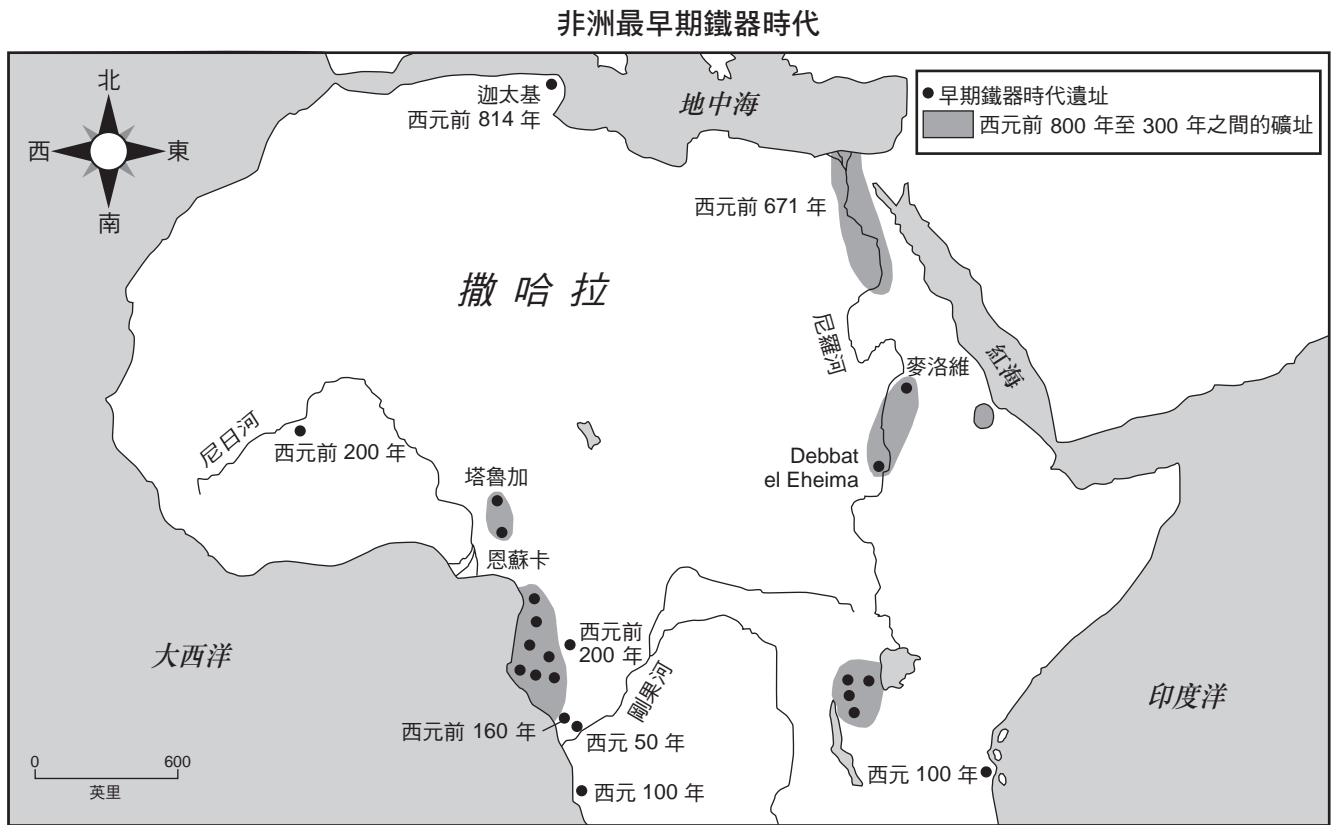
未經指示請勿打開本考題本。

## 第I 部分

請回答本部分的所有問題。

答題說明 (1–50)：對於每個陳述或問題，在分開的答題紙上寫下所提供的、最佳完成陳述或回答問題的詞或語句的編號。

依據以下地圖和你的社會學知識來回答第 1 題。



資料來源：Philip Curtin et al., *African History: From Earliest Times to Independence*, Longman (經改編)

1 這張地圖所提供關於非洲最早鐵器時代的資訊，支持以下哪項陳述？

- (1) 在西元前 300 年以前，鐵礦址只存在於河谷地區。
- (2) 鐵礦技術從西向東傳播。
- (3) 大量的鐵礦址集中在尼日地區。
- (4) 非洲大部分的鐵礦址位於撒哈拉以南地區。

2 關於法國大革命的一個主要來源是

- (1) 巴士底監獄囚犯的目擊者說法
- (2) 關於恐怖統治的百科全書條目
- (3) 羅伯斯比爾近年的傳記
- (4) 關於路易十六的電影

3 在純粹的市場經濟中，誰決定要生產哪些商品和服務以及要生產多少數量？

- (1) 政府機構
- (2) 消費者和生產者
- (3) 教會的聖品階級
- (4) 銀行和卡特爾

依據以下的照片和你的社會學知識來回答第 4 題。

中國南方河谷的梯田。



資料來源：Bentley and Ziegler, *Traditions & Encounters, A Global Perspective on the Past*  
McGraw Hill, 2006

馬丘比丘印加城的梯田。



資料來源：StevenTuriano, 1984

4 這些照片表明中國人和古代的秘魯人改造他們的環境以

- (1) 建立有效的貿易路線
- (2) 增加農業用地的數量
- (3) 把大量的水轉移到城市中
- (4) 提供有效的防禦

- 5 • 喀布爾是阿富汗的首都。  
• 印度毗鄰巴基斯坦、中國和孟加拉。  
• 中國的主要城市大多是在該國的東部地區。

哪種類型的地圖在確認所有這些資訊時最有用？

- (1) 政治
- (2) 氣候
- (3) 土地利用
- (4) 人口密度

6 哪種宗教體系需要在齋月期間禁食，每天祈禱五次，並且前往麥加朝聖？

- (1) 猶太教
- (2) 基督教
- (3) 伊斯蘭教
- (4) 印度教

7 那項關於古希臘的陳述是一種意見而不是事實？

- (1) 多山地形是希臘政治統一的障礙。
- (2) 斯巴達文化強調軍事技能。
- (3) 雅典只授予男性公民投票權。
- (4) 希臘建築優於波斯建築。

8 塔爾沙漠、恒河流域和德干高原都是哪裡的地理特徵

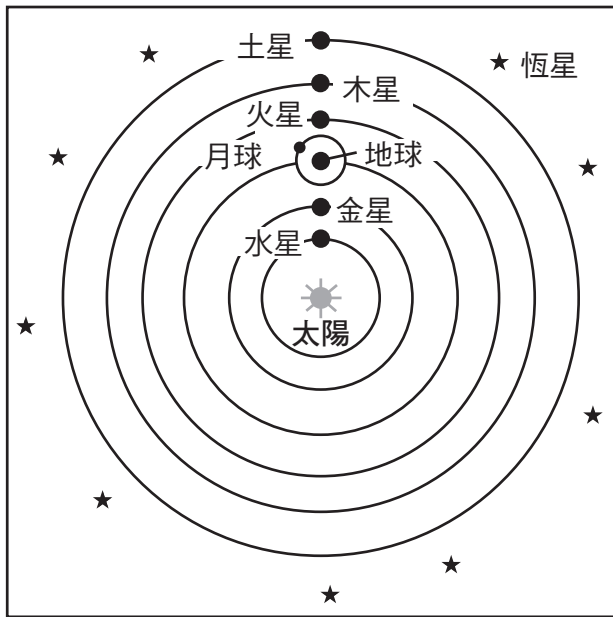
- (1) 日本
- (2) 中國
- (3) 印度
- (4) 印尼

- 9 哪種哲學與中國文官制度的發展最密切相關？
- (1) 法家
  - (2) 佛教
  - (3) 道家
  - (4) 儒家
- 10 拜占庭帝國對俄羅斯的發展有什麼影響
- (1) 防止蒙古人入侵
  - (2) 廢除立法部門的權力
  - (3) 確立以馬鈴薯作為主食
  - (4) 引進東正教信仰
- 11 農奴制度的一個經濟原因是維持
- (1) 受過教育的公民
  - (2) 穩定的勞動人口
  - (3) 海外貿易
  - (4) 宗教統一性
- 12 十字軍東征一個長期的影響是
- (1) 蒙古和平發展
  - (2) 明朝滅亡
  - (3) 歐洲人控制耶路撒冷
  - (4) 西歐貿易和城鎮的成長
- 13 日本德川幕府時代的封建主義與歐洲封建主義的一個不同之處是，日本封建主義在這個時期
- (1) 政治權力更為集中
  - (2) 外國傳教士受到歡迎
  - (3) 君主在政變中被推翻
  - (4) 最富有的商人能夠取得很高的社會地位
- 14 迦納、馬利和桑海王國會繁榮主要是由於其
- (1) 與印度港口的交流
  - (2) 阿拉伯海的直達通道
  - (3) 對貿易路線的控制
  - (4) 豐富的鑽石礦
- 15 商業革命如何改變了歐洲的經濟實踐？
- (1) 建立莊園制度。
  - (2) 發展資本主義經濟。
  - (3) 教會成為主要經濟力量。
  - (4) 殖民地被允許獨立。
- 16 古騰堡的印刷機對西歐的一個影響是
- (1) 馬丁路德的思想得以傳播
  - (2) 大學的數量減少
  - (3) 識字率下降
  - (4) 神聖羅馬帝國統一
- 17 葡萄牙的亨利王子 (Prince Henry of Portugal)、哥倫布 (Christopher Columbus) 和麥哲倫 (Ferdinand Magellan) 所做之努力的一個結果是什麼？
- (1) 確立了地中海貿易航線的重要性。
  - (2) 推動了普遍人權的現代觀念。
  - (3) 轉變了歐洲對於物理世界的看法。
  - (4) 瞭解文化多樣性的好處受到了鼓勵。
- 18 美洲的西班牙監護制導致
- (1) 原住民文化的加強
  - (2) 殖民地的政治獨立
  - (3) 對原住民的剝削
  - (4) 大多數農民的宗教自由
- 19 哪個地區的殖民地階級結構包括半島人、克里奧耳人以及印地安人與歐洲人的混血兒？
- (1) 西歐
  - (2) 撒哈拉沙漠以南的非洲
  - (3) 東亞
  - (4) 拉丁美洲
- 20 路易十四 (Louis XIV) 和蘇萊曼大帝 (Suleiman the Magnificent) 的政策的一個相似之處是，兩位領導人皆
- (1) 擴大他們在美洲的帝國
  - (2) 鼓勵民主的發展
  - (3) 增加中央政府的權力
  - (4) 廢除官僚制



- 21 克倫威爾 (Oliver Cromwell) 在英國領導清教徒革命是對什麼做出回應
- (1) 通過人權法案
  - (2) 國王的專制統治
  - (3) 實施重商主義
  - (4) 擊敗西班牙無敵艦隊

依據以下的插圖和你的社會學知識來回答第 22 題。



- 22 哪個人支持此插圖所代表的理論？
- (1) 蘇格拉底 (Socrates)
  - (2) 托勒密 (Ptolemy)
  - (3) 但丁 (Dante)
  - (4) 伽利略 (Galileo)
- 
- 23 哪個問題是法國大革命的原因？
- (1) 拿破崙的無效統治
  - (2) 教會國有化
  - (3) 對公共安全委員會使用斷頭台的憤怒
  - (4) 平民階級要求更大的政治權力
- 24 18 世紀工業革命在英國發展的一個主要原因是因為英國
- (1) 地理特徵
  - (2) 移民政策
  - (3) 使用集體化
  - (4) 取得進口石油

- 25 • 杜桑·盧維杜爾 (Toussaint L'Ouverture)  
• 貝爾納多·奧希金斯 (Bernardo O'Higgins)  
• 荷西·聖馬丁 (José de San Martín)

這些人對什麼造成了最大的影響

- (1) 義大利統一
- (2) 拉丁美洲獨立運動
- (3) 猶太復國主義運動
- (4) 天主教反改革

- 26 與馬克思主義相關的主要信念是什麼？

- (1) 無產階級會起來推翻資產階級。
- (2) 宗教應該比政治力量更重要。
- (3) 應擴大私人財產所有權。
- (4) 農民將獲得海外市場的控制權。

- 27 1884 年的柏林會議之所以重要是因為它

- (1) 推動比利時成為一個世界強權
- (2) 制定了歐洲的非洲分部規定
- (3) 呼籲對英國開戰
- (4) 確保中東的民族和睦

- 28 日本在 19 世紀末和 20 世紀初開始帝國主義的侵略政策，因為日本

- (1) 工廠需要原材料
- (2) 希望傳播神道
- (3) 尋求西方技術
- (4) 想報復鴉片戰爭

- 29 第一次世界大戰的直接原因是

- (1) 斐迪南大公遭刺殺
- (2) 日本與德國結盟
- (3) 在凡爾賽達成條約協議
- (4) 德國入侵波蘭

- 30 俄羅斯 1917 年的布爾什維克革命的部分原因是
- (1) 烏克蘭的強迫饑荒
  - (2) 沙皇尼古拉二世 (Czar Nicholas II) 援助塞爾維亞失敗
  - (3) 第一次世界大戰期間軍用物資和糧食短缺
  - (4) 制定列寧的新經濟政策 (NEP)

- 31 土耳其的凱末爾 (Kemal Atatürk) 和伊朗國王巴勒維 (Shah Reza Pahlavi) 的一個相似之處是，這兩個領導人皆
- (1) 實施方案使其國家現代化
  - (2) 支持增加少數族裔的權利
  - (3) 正式通過不結盟政策
  - (4) 根據伊斯蘭教建立神權政體

依據以下的敘述和你的社會學知識來回答第 32 題。

...德國人對此事袖手旁觀，沒有什麼比這個更加可悲。那些在街上胡作非為，整天飽足[沉醉]於殘酷和報復的最低本能的入侵者，才是真正的敵軍。沒有任何外來的入侵者會造成更多的傷害。最壞的打敗了最好的，這是德國最失敗的時刻。雖然有很多人抗議這種暴行，也有數百萬人因以他們的名義所犯下的罪行而感到厭恨和羞恥，但還是有許多人麻木或讚許地看著這些獵食者肆意獵殺，看著這些破壞者犯下惡行。甚至聽說有母親帶著孩子們去看熱鬧....

— *New York Times*, November 12, 1938

- 32 1938 年的這段話批評那些沒有做什麼事情的德國人
- (1) 參加這些示威
  - (2) 譴責水晶之夜的暴行
  - (3) 支持奧地利政府的政策
  - (4) 抗拒戰爭的努力

- 33 德國的哪個地理特徵影響了第一次世界大戰和第二次世界大戰的結果？

- (1) 多山的地勢保護德國不受敵方侵襲。
- (2) 德國缺乏通航河流減緩了交通運輸。
- (3) 優良的港口使德國得以戰勝英國的海軍力量。
- (4) 德國在歐洲的中心位置導致其不得不在兩條戰線上作戰。

- 34 印度次大陸的哪個歷史事件是最後發生的？

- (1) 食鹽進軍 (Salt March)
- (2) 阿姆利則血案 (Amritsar Massacre)
- (3) 建立巴基斯坦
- (4) 印度士兵起義 (Sepoy Rebellion)

- 35 在第二次世界大戰後的期間，北大西洋公約組織 (NATO) 和華沙公約組織 (Warsaw Pact) 的目的都是為了

- (1) 阻止宗教寬容
- (2) 建立軍事同盟
- (3) 促進經濟自給自足
- (4) 消除政治腐敗

- 36 卡斯楚 (Fidel Castro) 成功領導古巴革命，是因為他獲得誰的支持

- (1) 富有的地主
- (2) 政府官員
- (3) 農民
- (4) 外國投資者

- 37 20 世紀時，哪個東南亞國家在戰爭中對抗日本、法國和美國？

- (1) 緬甸
- (2) 泰國
- (3) 菲律賓
- (4) 越南

- 38 波爾布特 (Pol Pot) 和紅色高棉 (Khmer Rouge) 統治哪個國家？

- (1) 阿富汗
- (2) 哈薩克斯坦
- (3) 柬埔寨
- (4) 孟加拉

- 39 在天安門廣場學生抗議（1989 年）的主要目標是
- (1) 支持中國共產黨的政策
  - (2) 減少西方在中國的影響
  - (3) 鼓勵工業化在整個中國傳播
  - (4) 增加在中國的政治自由和權利

依據以下的敘述和你的社會學知識來回答第 40 題。

...我們已成功地在我們數百萬人民的心中植入了希望。我們簽訂了一項公約[協議]，其中指出我們應該建立一個社會，在那裡所有的南非人，不論是黑人或白人，都能抬頭挺胸，心中無所恐懼，確信他們擁有人類尊嚴不可剝奪的權利——一個與自己和世界和平共處的彩虹國度....

— Nelson Mandela, excerpt from Inaugural Address

- 40 這是 1994 年南非新當選的總統在稱讚他的同胞拒絕什麼時所說的話
- (1) 民族主義
  - (2) 泛非主義
  - (3) 種族隔離
  - (4) 民主

- 41 歐洲聯盟 (EU) 和北美自由貿易協定 (NAFTA) 的政策都導致
- (1) 相互依賴的增加
  - (2) 極權主義的擴張
  - (3) 抑制政策努力的改善
  - (4) 支持孤立主義的做法

- 42 哪些問題已經引起了亞馬遜河流域的重大環境問題？
- (1) 荒漠化
  - (2) 森林消失化
  - (3) 海嘯威脅
  - (4) 酸雨

- 43 許多科學家認為全球暖化是什麼的直接結果
- (1) 使用太陽能電池板
  - (2) 燃燒化石燃料
  - (3) 產生核能
  - (4) 生產水力發電

- 44 伊朗和北韓在 21 世紀初吸引了全世界的關注，因為它們都
- (1) 經歷了大規模的饑荒
  - (2) 發現了石油儲量
  - (3) 加強了人道主義做法
  - (4) 開發了核能力

依據以下的敘述和你的社會學知識來回答第 45 題。

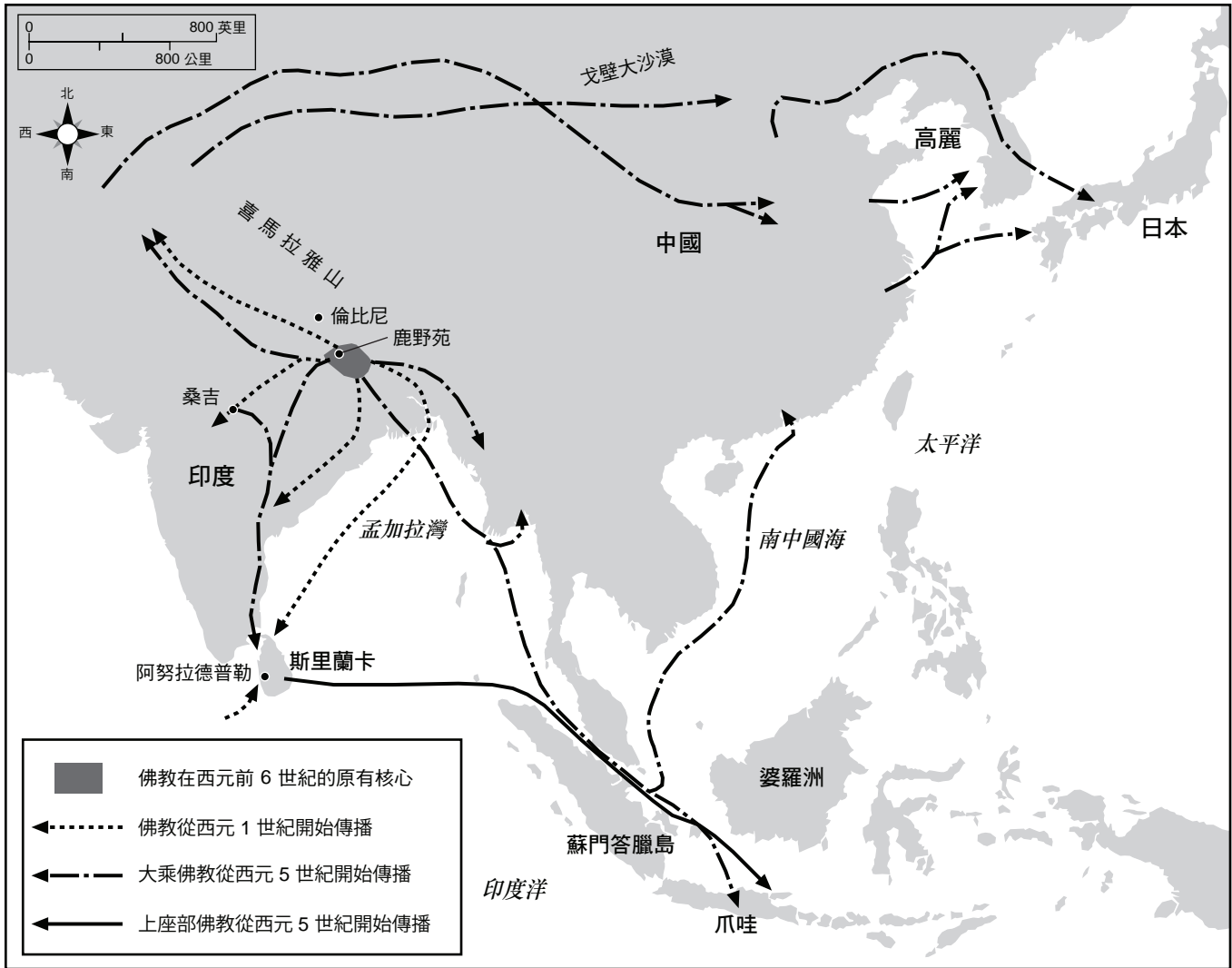
...這份如此瘋狂地拼湊起來的文件，它的廣泛性和簡單性卻令人吃驚。完全沒有提到國王、貴族或教會，宣告「人的自然、不可剝奪和神聖的權利」是任何和所有政府的基礎。它把主權指派給國家，而不是國王，表明在法律面前人人平等，這為有才幹和功績的人創造機會，並且不知不覺地消除了基於出生的所有特權。然而，比任何具體保證更引人注目的是，它所提出之主張的普遍性。「人們」、「人」、「每個人」、「所有人」、「所有公民」、「每個公民」、「社會」和「每個社會」這些用詞，份量遠遠超過只提到一次的「法國人」....

— Lynn Hunt, *Inventing Human Rights: A History*, Norton

- 45 這段話討論與什麼最直接相關的理想
- (1) 伊斯蘭教的黃金時代
  - (2) 查理曼大帝統治
  - (3) 宗教改革
  - (4) 啟蒙運動

- 46 新石器革命是一個歷史轉折點，因為
- (1) 工廠開始採用裝配線技術
  - (2) 新發明導致海外勘探
  - (3) 發展出狩獵和採集的替代品
  - (4) 使用化肥增加農業生產

依據以下地圖和你的社會學知識來回答第 47 題。



資料來源：Facts on File, Inc. (經改編)

47 哪個概念與亞洲地圖最密切相關？

- |         |          |
|---------|----------|
| (1) 不結盟 | (3) 殖民化  |
| (2) 城市化 | (4) 文化傳播 |

48 大西洋奴隸貿易和猶太人之散居世界各地的一個相似之處是，這兩者都

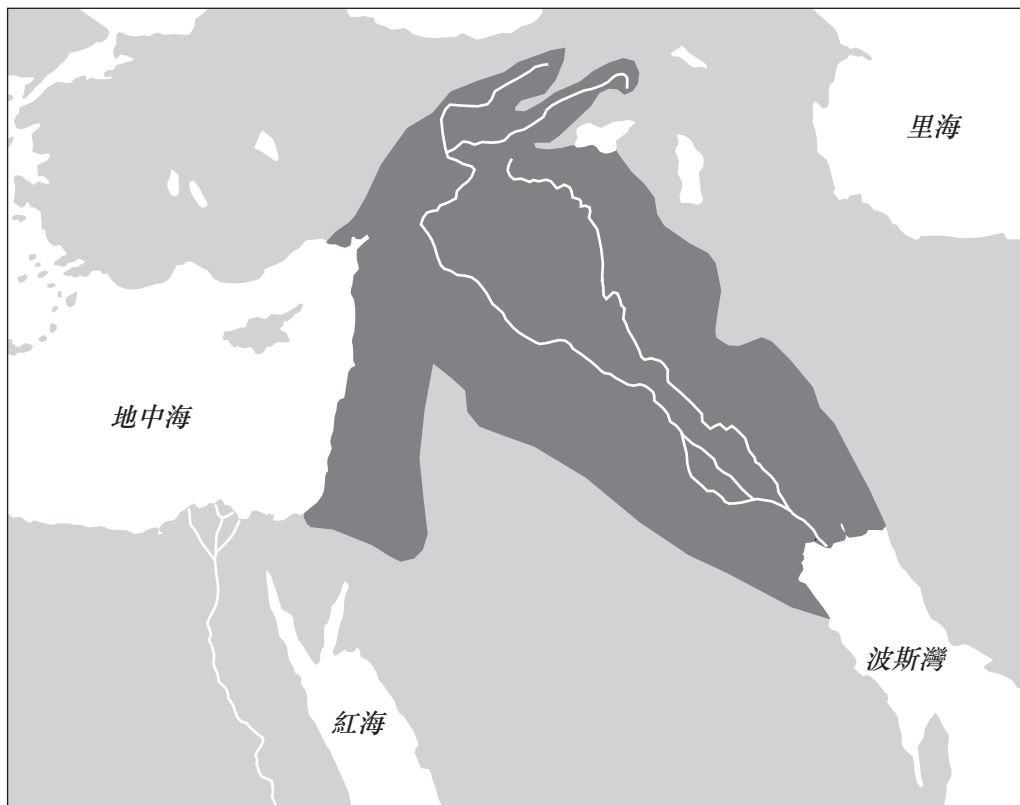
- (1) 迫使人們遷移
- (2) 鼓勵政教分離的增加
- (3) 創造了導致遭遇的條件
- (4) 造成君士坦丁堡沒落

49 彼得大帝對於俄羅斯等於明治天皇對於

- |        |        |
|--------|--------|
| (1) 蒙古 | (3) 印度 |
| (2) 日本 | (4) 高麗 |



依據以下地圖和你的社會學知識來回答第 50 題。



資料來源：Simon Adams et al., *Illustrated Atlas of World History*, Random House, 1992 (經改編)

50 哪組領導人與這張地圖上顯示的深灰色區域相關？

- (1) 鄭和與鄧小平
- (2) 伊達爾戈 (Miguel Hidalgo) 和皮諾契 (Augusto Pinochet)
- (3) 漢摩拉比 (Hammurabi) 和海珊 (Saddam Hussein)
- (4) 凱薩琳大帝 (Catherine the Great) 和普京 (Vladimir Putin)

論文題的答案應填寫在分開的論文本上。

在回答第 II 部分的問題時，請注意以下一般性定義：

- (a) **描述**指「用文字闡述或陳述」
- (b) **說明**指「使其平實易懂；提供原因或理由；顯示發展之邏輯或關係」
- (c) **論述**指「透過事實、推理和論證來對某件事發表意見；加以詳述」

## 第 II 部分

### 主題論文題

答題說明：撰寫一篇條理分明的論文，包括引言、解決以下任務的幾個段落、以及結論。

**主題： 改變--個人**

縱觀歷史，各種情況導致個人發展或修改想法。這些思想往往會影響社會。

**任務：**

從你所學到的世界歷史中選擇**兩個人**，並且對於**每個人**

- 闡述導致此人發展出一種思想或做出修正的歷史情況
- 說明此人因為這種思想所採取的行動
- 論述此人的思想對社會有什麼影響

你可以使用在學習世界歷史和地理時所學到的任何人。你不妨考慮的一些建議包括佩力克里斯 (Pericles)、馬丁路德 (Martin Luther) 伊莉莎白女王 (Queen Elizabeth I)、杜桑·盧維杜爾 (Toussaint L'Ouverture)、馬克思 (Karl Marx)、甘地 (Mohandas Gandhi)、喬莫·肯雅塔 (Jomo Kenyatta)、毛澤東、戈巴契夫 (Mikhail Gorbachev) 和泰瑞莎修女 (Mother Theresa)。

**你不必侷限於以上建議。**

**不要在你的回答中使用美國的人物。**

**指南：**

**在你的論文中，請務必**

- 闡述任務的各個方面
- 引用相關事實、例證及細節來支持主題
- 須合乎邏輯、條理分明，包括一個不只是重複主題的引言和結論

### 第 III 部分

#### 基於文件題

本問題是基於隨附的文件。該問題的設計是為了測驗你運用歷史文件的能力。其中一些文件是為這個問題編輯的。當你分析文件時，請參考每份文件的來源及文件中所論述的任何觀點。

#### 歷史背景：

縱觀歷史，各種社會利用運輸系統來統一和控制區域。這些系統包括**道路**、**運河**和**鐵路**。

**任務：**運用文件資料和你的全球歷史知識，回答 A 部分每一份文件後面的問題。你對這些問題的回答將有助於撰寫 B 部分的論文，在這篇論文中，你將被要求

選擇歷史背景中提到的**兩個**交通運輸系統，並且對於**每一項**

- 說明各種社會如何使用運輸系統來統一**和/或**控制區域

**不要在你的回答中使用美國的道路系統、運河系統或鐵路系統。**

在回答第 III 部分的問題時，請注意以下一般性定義：

**說明指「使其平實易懂；提供原因或理由；顯示發展之邏輯或關係」**

## A 部分 簡答題

答題說明：分析以下文件，在所提供的空白處上回答每份文件後的簡答題。

### 文件 1

#### 羅馬道路的用途及種類

羅馬人為何要修建道路？羅馬人認為一個組織嚴密而且有效的交通運輸系統，是妥善治理的基本要素，也是創建與維護羅馬國一個不可或缺的元素。最早的高速公路或主要道路是為了軍事用途而修建的，這些道路對平民的經濟利益是後來的副產品，並不是修建的主要原因。隨著羅馬人的領土擴張到義大利以外，道路的軍事性質仍然至關重要。在 *Arabia Petraea* 省（其中包括現在的約旦），修築 *Via Nova*（在被征服省份建設的許多 *viae militares* 或軍事道路之一）的首要原因，是為了便於軍隊移動以及軍隊和羅馬政府之間的溝通。不過，較小較短而且結構較差的地方道路 (*actus*) 或軌道 (*callis*) 在被羅馬控制之後，其涵蓋領域也有所增加。然而，主要的公共道路 (*viae publicae*) 通常始於軍事道路，後來才逐漸演變成民用管道[通道]。

資料來源：Virtual Karak Resources Project, An Appalachian College Association (經改編)

- 1 根據 Virtual Karak Resources Project 的這段摘錄，羅馬人以哪一種方式使用道路來控制他們的帝國？ [1]

Score

## 文件 2

...我們只能驚嘆於薩帕印加[首領]控制他廣大領土的能力，因為領地不僅彼此距離遙遠，海拔高度也大不相同。印加人的工程師在地球上某些最為崎嶇的地形上開發了一個大規模的道路系統，延綿了驚人的 19,000 英里（30,000 公里）的公路和軌道點陣[網路]。如果沒有這個運送重要官員、政府公函、整個軍隊和各種各樣的商品和貿易貨物的交通系統，印加帝國可能永遠也不會建立。道路建設早在印加時期之前就開始了，像海岸上 Chimor 這些早期的國家也需要連接廣泛分佈於山谷中的人數密集的農民。但印加人大幅度地擴展了網路。所產生的點陣是結繩文字創造者的一個概念框架，他們利用道路上的站點序列來彼此敘述不同的地區。人類學家 John Murra 把這些道路稱為印加國的「旗幟」，因為它們是人們和遠程中央政府之間清楚可見的連繫。相同的通訊點陣有助於定義象徵性的路線，連接神聖的聖壇與庫斯科的太陽神廟，甚至分開住在首都附近的不同的人群...

資料來源：Brian M. Fagan, *Kingdoms of Gold, Kingdoms of Jade: The Americas Before Columbus*, Thames and Hudson

2 根據 Brian M. Fagan 所言，印加人以哪**兩種**方式使用道路來統一他們的帝國？ [2]

(1) \_\_\_\_\_

Score

(2) \_\_\_\_\_

Score



### 文件 3a


德川幕府瞭解到與日本偏遠省份保持聯繫的重要性。東海道是其最重要的通行道路。

...也許道路最關鍵的用途是政府與各省份間的溝通。官方信使藉由步行、騎馬（戰時）和乘轎旅行。政府採用每隔七里 (*ri*) [3.9 公里]換班的信使中繼系統。政府信使的優先權在任何其他類型的旅客之前。他們可以優先使用途中河渡上的渡輪，並且在白天或晚上任何時候都可以自由地通過政府的路障。普通老百姓不得夜間出行；一連串的路障和沿路檢查站使他們無法這樣做....

資料來源：Patricia J. Graham, "The Political and Economic Importance of the Tōkaidō," *Tōkaidō: Adventures on the Road in Old Japan*, University of Kansas Spencer Museum of Art (經改編)

### 文件 3b

#### 中繼站：Hōeidō #53



...在這裡，一個人乘坐「快轎」，因為怕摔落而緊抓著韁繩。這些轎子的轎夫會在中繼站更換，但是遞送訊息的乘轎者則需要忍受艱苦的旅程，直到他到達目的地，並且親自傳遞他的秘密訊息為止。

資料來源：Patricia J. Graham, "The Political and Economic Importance of the Tōkaidō," *Tōkaidō: Adventures on the Road in Old Japan*, University of Kansas Spencer Museum of Art (經改編)

3 根據 Patricia J. Graham 所言，德川透過哪**兩種**方法來控制東海道公路的使用？ [2]

(1) \_\_\_\_\_

Score

(2) \_\_\_\_\_

Score

## 文件 4

### 中國京杭大運河

...京杭大運河比其他水道獲得了更多的關注，因為它是通往省會城市的主要途徑。官員用它前往宮廷。最重要的目的是從南到北運送糧食。賦稅以大米繳交，供宮廷食用並支付工人和軍隊的工資。

當運河荒廢的時候，糧食必須從海上運往北方。但帆船有風暴和海盜的風險。即使後來輪船固定行駛海岸線，糧食仍然經由大運河運送，直到 1901 年，因為這能為很多人提供工作....

資料來源：Lyn Harrington, *The Grand Canal of China*, Rand McNally & Company

4 根據 Lyn Harrington 所言，京杭大運河對中國人很重要的**兩個**原因是什麼？ [2]

(1) \_\_\_\_\_

Score

(2) \_\_\_\_\_

Score

## 文件 5

### 特諾奇蒂特蘭：阿茲特克人的首都

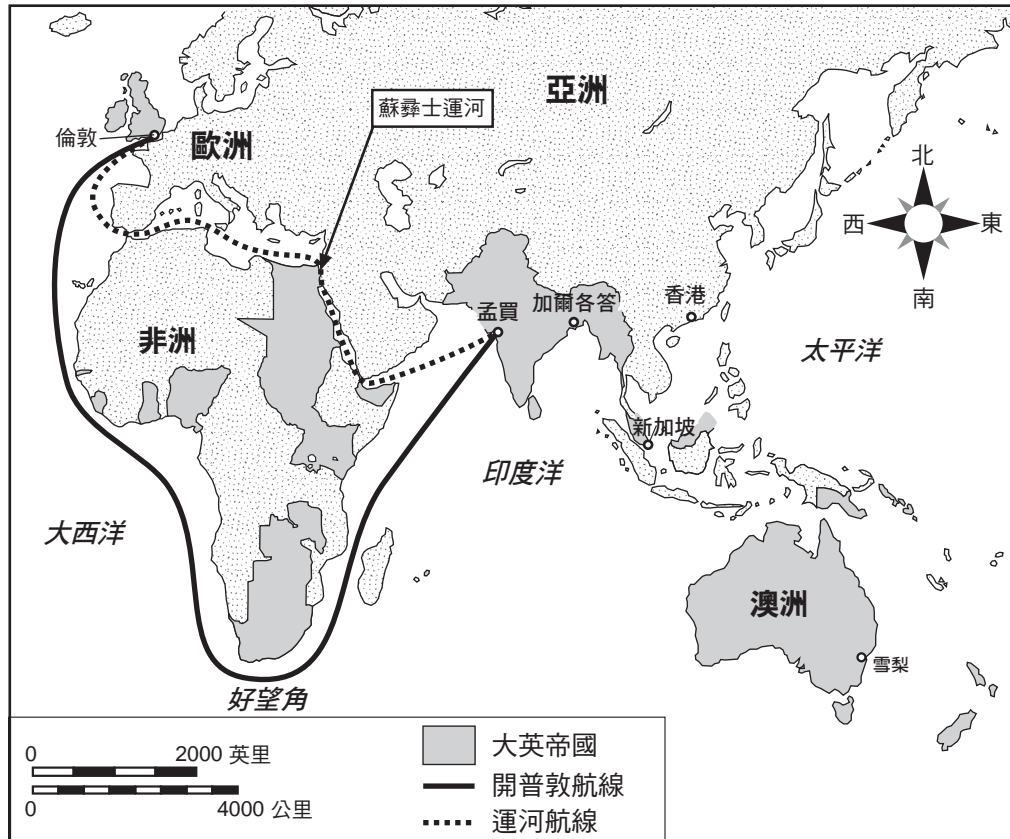
- 特諾奇蒂特蘭與運河縱橫交錯。
- 運河作為城市的主要街道。
- 商家划艇運載貨物到城市的主要市場 Tlatelolco。
- 貢物以金、銀、美麗的羽毛、可可、樹皮紙以及活人獻祭受害者等形式經由運河被帶到特諾奇蒂特蘭。

5 根據此文件，說明運河對阿茲特克人首都特諾奇蒂特蘭的運作至關重要的一**種**方式。 [1]

Score

文件 6a

輪船航線，大約 1914 年



資料來源: Abrams and Thurston, *World Geography*, Iroquois Publishing (經改編) 和 Patrick K. O'Brien, ed., *Oxford Atlas of World History*, Oxford University Press (經改編)

文件 6b

倫敦和東方之間的運輸距離		
	經過好望角	經過運河
倫敦-孟買	19,755 公里	11,619 公里
倫敦-加爾各答	22,039	14,970
倫敦-新加坡	21,742	15,486
倫敦-香港	24,409	18,148
倫敦-雪梨	23,502	22,493

資料來源: Daniel R. Headrick, *The Tentacles of Progress: Technology Transfer in the Age of Imperialism, 1850-1940*, Oxford University Press (經改編)

6 根據此文件，說明蘇彝士運河改善了大不列顛的貨物和部隊運送到其在東方的帝國的一種方式。 [1]

Score



## 文件 7

毛奇 (Moltke) 將軍認為鐵路將有助於俾斯麥 (Otto von Bismarck) 在 19 世紀 60 年代的普魯士軍事行動。

...鐵路提供了新的戰略機會。部隊的行動速度比拿破崙[1808–1812]的軍隊行進速度快六倍，而且所有戰略的基本要素，時間和空間，都呈現出新的面貌。一個有高度發達的鐵路交通系統的國家在戰爭中取得了重要的而且可能是決定性的優勢。軍隊動員和集結的速度成為戰略考慮的重要因素。事實上，動員和集合時間表，連同第一次的進軍指令，便形成了備戰軍事人員所制定的戰略計劃的核心....

資料來源：Hajo Holborn, "Moltke's Strategic Concepts," *Military Affairs* (經改編)

- 7 根據 Hajo Holborn 所言，毛奇 (Moltke) 將軍為什麼認為鐵路對俾斯麥 (Bismarck) 的普魯士的軍事行動具有重要的戰略意義？ [1]

Score

## 文件 8

大英帝國主義在印度留下的一個不朽的紀念碑，就是印度的鐵路系統，印度在 1947 年獨立當時的軌道里程，超過任何一個歐洲國家，只比美國、加拿大和蘇聯少。在印度於 1850 年鋪設了第一條鐵軌，至 1915 年止，印度有超過四萬英里的軌道，每年載運大約 1 億名鐵路旅客。印度鐵路建設得到一些強大的團體支持：英國的棉花生產商，對他們來說，鐵路是將棉花送往海岸運往英國的一種廉價且高效的方式；向印度供應大多數鋼軌、火車頭、移動貨櫃[鐵路車輛]和設備的英國工業家；殖民地官員，他們將鐵路視為快速移動部隊到事故現場的一種方法，而且也是印度郵政系統的重要組成部分；以及數百萬印度人，讓英國人驚訝的是，他們十分樂於[熱衷於]坐火車旅行....

資料來源：Andrea and Overfield, *The Human Record: Sources of Global History*, Houghton Mifflin

8 根據 Andrea Overfield 所言，英國在印度以哪**兩種**方式使用鐵路？ [2]

(1) \_\_\_\_\_

Score

(2) \_\_\_\_\_

Score

## 文件 9

...在非洲熱帶地區，法國人曾經一度非常熱衷於修築鐵路。1879 年，在開始滲透西部蘇丹後不久，他們擬定了從塞內加爾島鋪設鐵路的計劃。他們的第一條線路在 1885 年落成，從聖路易到達喀爾，總長 163 英里。另一條線路，從爾塞內加爾河的卡伊通到尼日上游地區的庫利科羅，是從 1881 年開始動工，並於 1906 年完工；這主要是一條軍事路線，其目的是將部隊運往未征服領土。還有另外一條連接法屬幾內亞的柯那克里 (Konakry) 與尼日上游地區的線路，建於 1899 年到 1914 年，大多用來出口天然橡膠。在那之後，法國人相對來說很少興建鐵路....

資料來源： Daniel R. Headrick, *The Tools of Empire: Technology and European Imperialism in the Nineteenth Century*, Oxford University Press (經改編)

9 根據 Daniel R. Headrick 所言，法國人在非洲熱帶地區修建鐵路的一**個**原因是什麼？ [1]

Score

## B 部分 論文題

答題說明：撰寫一篇條理分明的論文，包括引言、幾個段落、以及結論。在你的論文中，引述取自最少**四份**文件的證據。引用相關事實、例證及細節來支持你的答案。包括其他的外部資料。

### 歷史背景：

縱觀歷史，各種社會利用運輸系統來統一和控制區域。這些系統包括**道路**、**運河**和**鐵路**。

**任務：**運用文件資料和你的全球歷史知識撰寫一篇論文，在這篇論文中

選擇歷史背景中提到的**兩個**交通運輸系統，並且對於**每一項**

- 說明各種社會如何使用運輸系統來統一**和/或**控制區域

**不要在你的回答中使用美國的道路系統、運河系統或鐵路系統。**

### 指南：

**在你的論文中，請務必**

- 闡述任務的各個方面
- 綜合來自至少**四份**文件的資料
- 綜合相關的外部資料
- 引用相關事實、例證及細節來支持主題
- 須合乎邏輯、條理分明，包括一個不只是重複主題的引言和結論





