

## REGENTS HIGH SCHOOL EXAMINATION

**世界歷史  
和地理**

僅限用於 2017 年 1 月 24 日 (星期二) 上午 9 時 15 分至下午 12 時 15 分

學生姓名 \_\_\_\_\_

學校名稱 \_\_\_\_\_

在本考試中，嚴禁持有或使用任何形式的通訊工具。如果你持有或使用了任何的通訊工具，無論多短暫，你的考試都將無效，並且不會得到任何分數。

請用工整字跡在以上直線上填寫你的姓名和學校名稱。一份分開的第 I 部分專用答題紙會發給你。請遵循監考老師的指示在答題紙上填寫學生資料 然後再填寫論文題本的每一抬頭。

本次考試共有三個部分。你必須回答每一部分的所有考題。請用黑筆或藍筆作答第 II 部分、第 III A 部分和第 III B 部分。

**第 I 部分**包括 50 道選擇題。根據指示將答案記錄在答題紙上。

**第 II 部分**包括一道以主題為主的論文題。請在論文本上寫下你對這個問題的答案，從第 1 頁開始。

**第 III 部分**基於幾份文件：

**第 III A 部分**包含這些文件。請務必在這部分的第一頁上填寫你的姓名和學校名稱。

每一文件後有一個或一個以上的問題要回答。在本考題本上，將各題的答案寫在各問題後面的直線上。

**第 III B 部分**包含一個基於這些文件的論文題。請在論文本上寫下你對這個問題的答案，從第 7 頁開始。

在本次考試結束後，你必須簽署印在答題紙最後的聲明，表明在考試之前你沒有非法得到本考試的試題或答案，並且在本考試中沒有給予過或接受過任何的幫助。你如果不簽署本聲明，你的答題紙將不會被接受。

**未經指示請勿打開本考題本。**

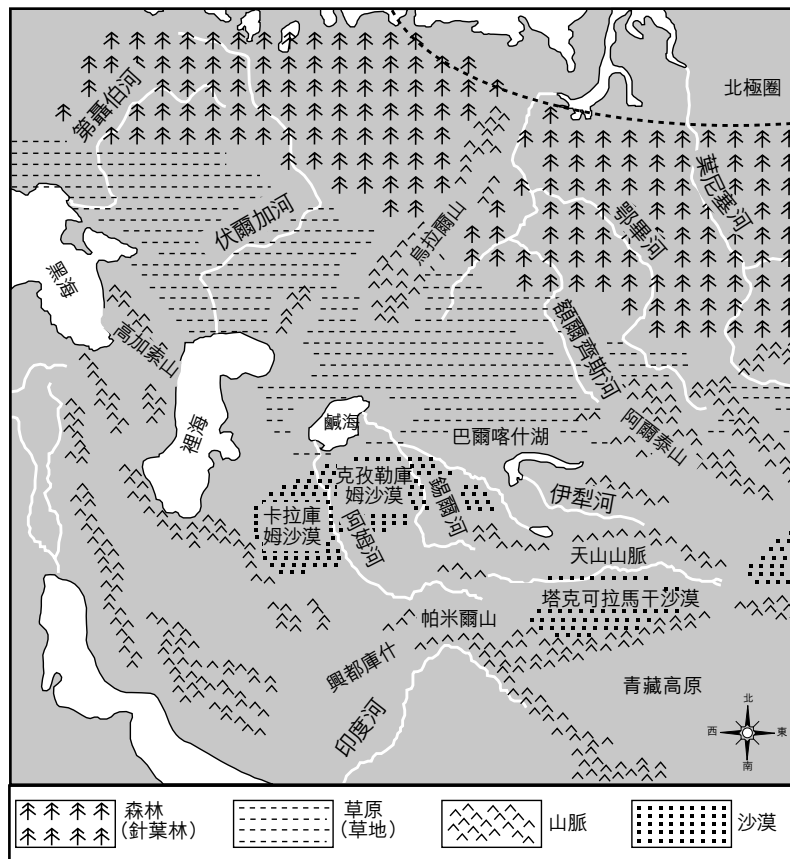
## 第 I 部分

請回答本部分的所有問題。

答題說明 (1–50)：對於每個陳述或問題，在分開的答題紙上寫下所提供的、最佳完成陳述或回答問題的詞或語句的編號。

根據以下地圖和你的社會學知識來回答第 1 題。

亞洲內陸的主要生態區



資料來源：From Silk to Oil: Cross-Cultural Connections Along the Silk Roads, China Institute, 2005 (經改編)

- 1 如果要在鹹海正南方地區種植棉花，最可能需要如何改變環境？
- (1) 需要建造梯田。
  - (2) 需要建立灌溉系統。
  - (3) 需要建造海水淡化廠。
  - (4) 需要開發水上花園。

2 歷史學家需要確定來源的真實性以便

- (1) 確定其有用性
- (2) 加強輿論
- (3) 證明宗教信仰的意義
- (4) 確定宣傳的特點

3 在傳統經濟中，習慣、習俗和儀式起著什麼作用

- (1) 領土邊界
- (2) 激勵改變
- (3) 獨立理論
- (4) 決策中的主要考慮因素

4 哪個標題最好地完成了下面的部分大綱？

- I. \_\_\_\_\_
- A. 城邦國家依靠與地中海人直接交換的貨物為生
  - B. 以城邦國家為中心的政治忠誠度
  - C. 共同的敵人波斯威脅到城邦自治

- (1) 笈多王朝的特色
- (2) 印度河谷文明的屬性
- (3) 古希臘的特點
- (4) 古中國的特徵

5 與亞歷山大大帝 (Alexander the Great) 的統治有關的希臘文化是什麼的結果

- (1) 民族中心主義
- (2) 文化擴散
- (3) 直接民主
- (4) 禁運

6 古代中美洲的金字塔和古羅馬渡槽證明這些早期文明

- (1) 使用大型木製結構以提供保護
- (2) 踐行宗教容忍
- (3) 能夠防止洪水
- (4) 科技先進

7 儒家學說和基督教之間的一個相似點是這兩種信仰體系都強調

- (1) 尊重他人
- (2) 每天祈禱五次
- (3) 轉化他人接受其教義
- (4) 向聖殿朝聖

8 拜占庭帝國與基輔俄羅斯之間的交流影響了俄羅斯人

- (1) 承認教皇的絕對政治權威
- (2) 採行東正教
- (3) 呼籲與回教徒結盟
- (4) 給查理曼帝國製造恐怖

根據以下工藝品和你的社會學知識來回答第9題。

### 唐朝的文物



資料來源：The Avery Brundage Collection, Asian Art Museum online

9 這件文物在哪一方面代表唐朝的文化？

- (1) 駱駝被貿易商沿著絲路使用。
- (2) 裝飾陶瓷主要從日本進口。
- (3) 農民使用駱駝在戈壁沙漠地區耕地。
- (4) 開發出鐵鎧並與蒙古人交易。

10 縱觀日本早期歷史，有助於其抵禦入侵的主要因素是

- (1) 島嶼位置
- (2) 優越的軍事技術
- (3) 與大陸上的鄰國聯盟
- (4) 權力分散的政府結構

根據下文和你的社會學知識來回答第 11 題。

...流行病對歐洲基督教的影響是眾所周知的，因為黑死病已經得到大量學者的關注。這種興趣導致人們誤解黑死病主要發生於歐洲。遺憾的是，黑死病在東方還沒有引起同等的興趣，但這種忽視不應該理解為其缺乏歷史意義。十四世紀著名的回教歷史學家伊本·赫勒敦 (Ibn Khaldūn) 在突尼斯黑死病期間失去了父母和一些老師，他認識到這種大流行病的傳入對回教文明：...

— Michael W. Dols, *Viator* (經改編)

11 哪項陳述表達了作者對黑死病相關誤解的論點？

- (1) 很難找到主要來源。
- (2) 關於黑死病的證詞是不可靠的。
- (3) 黑死病的原因不被歷史學家理解。
- (4) 歷史研究更側重於一個地區而不是其他地區。

12 希臘和羅馬文化對一些文藝復興時期藝術的影響體現在

- (1) 人體的真實寫照
- (2) 對古代宗教理想的挑戰
- (3) 莎士比亞 (William Shakespeare) 的著作在南歐的影響
- (4) 促進北歐和南歐藝術家之間的競爭

13 哪種情況是西歐新教徒改革的一個直接結果？

- (1) 教皇天主教領袖的地位被廢除。
- (2) 歐洲人的宗教變得更加多樣化。
- (3) 婦女在大多數基督教教派中擔任領導職務。
- (4) 歐洲統治者為他們的子民建立了宗教自由。

14 有關信風模式的知識和水手能夠在印度洋和大西洋航行中利用這種模型證明

- (1) 政府壟斷影響貿易
- (2) 地理和技術影響經濟活動
- (3) 經濟概念主導交通運輸的研究
- (4) 法律和海關管理國際水域的交流

15 在拉丁美洲的西班牙殖民地建立的西班牙賜封制度與歐洲的什麼制度最相似

- (1) 行會制度
- (2) 股份公司
- (3) 自給農業
- (4) 封建土地授予

16 哪項關於路易十四 (Louis XIV) 的陳述是一種意見而不是事實？

- (1) 他堅持要胡格諾派轉化為天主教。
- (2) 他通過集中政府來加強君主制。
- (3) 他參與的戰爭在法國歷史上最不成功。
- (4) 他建造的凡爾賽宮是他計劃控制貴族的一部分。

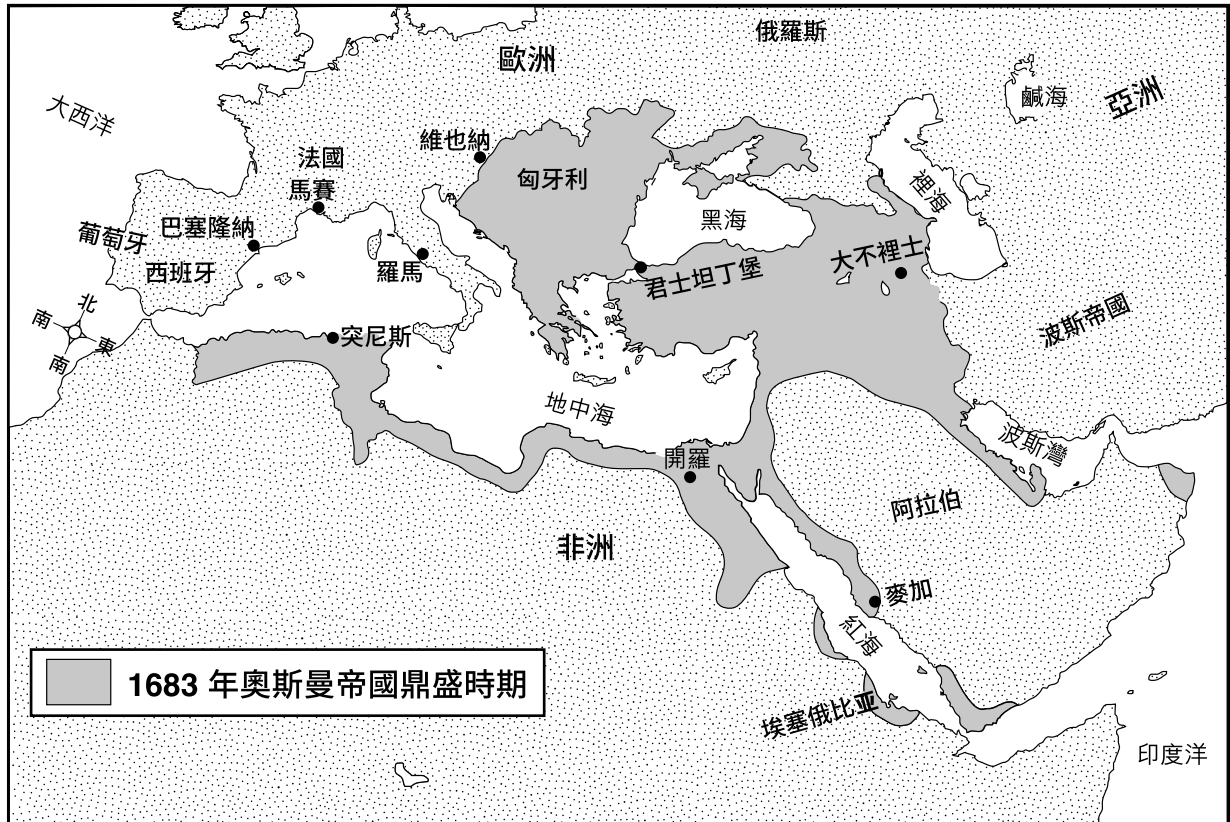
17 所有人生來就有生命、自由和財產的自然權利，這種觀點與哪位作家的著作最直接相關

- (1) 孟德斯鳩 (Montesquieu)
- (2) 托馬斯·霍布斯 (Thomas Hobbes)
- (3) 博絮埃 (Jacques-Bénigne Bossuet)
- (4) 約翰·洛克 (John Locke)

18 科學革命對歐洲的啟蒙運動有什麼影響？

- (1) 自然法則用於解釋人類事務。
- (2) 由於缺乏可用技術而使經濟成長放緩。
- (3) 科學真理被用來證明絕對君主制。
- (4) 強調宗教教義導致拒絕科學思想。

根據以下地圖和你的社會學知識來回答第 19 題。



資料來源：The Nystrom Atlas of World History, Herff Jones Education Division (經改編)

19 這張地圖顯示，在奧圖曼帝國鼎盛時期，帝國

- (1) 控制巴塞隆納和馬賽的港口城市
- (2) 治理波斯帝國
- (3) 囊括歐洲、非洲和亞洲的領土
- (4) 完全包圍紅海

20 哪個地理特徵輔助英國的工業化？

- (1) 良好的港口
- (2) 大森林
- (3) 高地氣候
- (4) 季風

21 資本主義之於私人所有權，就好比共產主義之於

- (1) 供需
- (2) 自由放任
- (3) 國家控制
- (4) 自決

22 《南京條約》(Treaty of Nanjing) 和《神奈川條約》(Treaty of Kanagawa) 的條款表明

- (1) 強調帝國主義特色的不平等關係
- (2) 伴隨傳教活動的人道主義理想
- (3) 科技對開發中經濟體的重要性
- (4) 與現代化有關的男性和女性角色改變

依據以下的摘錄和你的社會學知識來回答第 23 題和第 24 題。

...以下嚴重事故（輕傷未報告）記錄 1844 年 6 月 12 日至 8 月 3 日之間的 *Manchester Guardian* 中：

...1844 年 6 月 15 日：薩德沃思的一名年輕人被捲入機器後因傷勢過重而死亡。

1844 年 6 月 29 日：曼徹斯特附近格林埃克斯穆爾的一名年輕人在車間工作，他因為被磨石砸中，導致兩根肋骨斷裂，並且渾身上下也有很多傷口。...

1844 年 8 月 3 日：達金菲爾德的一名線軸工人被夾入皮帶，所有肋骨全都被夾斷。...

— Friedrich Engels

23 恩格斯 (Friedrich Engels) 利用這些例子來引起人們對什麼的注意

- (1) 工廠系統的效率
- (2) 工廠的工作條件
- (3) 城市的生活條件
- (4) 城市醫院的護理品質

24 議會對這種情況的反應是

- (1) 將大部分製造送往國外
- (2) 接管經營不善的企業
- (3) 向罷工工人提供支持
- (4) 採取安全改革

- 25
- 日本攻打中國。(1894 年)
  - 日本擊敗俄羅斯。(1905 年)
  - 日本併吞併韓國。(1910 年)

這些事件反映了日本日益增長的力量和它的願望要

- (1) 傳播神道
- (2) 獲得溫水港
- (3) 獲取自然資源
- (4) 抑制義和團之亂

根據下面的漫畫和你的社會學知識來回答第 26 題。



打開水管

資料來源：Greene in the *New York Evening Telegram, Literary Digest*, August 30, 1919 (經改編)

26 這幅 1919 年的漫畫中所示的情況與什麼最直接相關

- (1) 努力穩定全球經濟
- (2) 讓列寧 (Lenin) 垮臺
- (3) 普及德國勝利
- (4) 戰爭的後果

- 27
- 秘密聯盟的發展
  - 斐迪南大公 (Archduke Franz Ferdinand) 遇刺
  - 戰爭處於僵持階段

哪個衝突與這些事件最直接相關？

- (1) 普奧戰爭
- (2) 波爾戰爭
- (3) 第一次世界大戰
- (4) 第二次世界大戰

- 28 猶太復國主義這個詞被定義為一種
- (1) 不結盟政策
  - (2) 集體安全
  - (3) 民族主義
  - (4) 和平主義

- 29 • 對《凡爾賽條約》(Treaty of Versailles) 的怨恨
- 魯爾和海外殖民地的損失
  - 通貨膨脹和失業率上升

這些因素與什麼最密切相關

- (1) 法西斯主義在德國的興起
  - (2) 1917 年的俄國大革命
  - (3) 法國帝國主義在非洲
  - (4) 中國共產主義革命
- 30 哪些地理因素最直接促成第二次世界大戰期間納粹閃電戰的早期成功？
- (1) 阿爾卑斯山脈
  - (2) 英吉利海峽
  - (3) 泰晤士河
  - (4) 北歐平原

- 31 使用鐵幕一詞目的在象徵和突出什麼的差異

- (1) 宗教哲學
- (2) 政治意識形態
- (3) 藝術和建築
- (4) 資源和氣候

- 32 毛澤東(Mao Zedong)、胡志明(Ho Chi Minh)和卡斯楚(Fidel Castro)上臺的一個原因是這些領導人

- (1) 提倡資本主義和民主
- (2) 得到農民的支援
- (3) 代表富裕地主的利益
- (4) 希望他們國家強調宗教價值觀

- 33 南非反對種族分離和隔離政策的活動組織與哪個人最密切相關

- (1) 喬莫·肯雅塔 (Jomo Kenyatta)
- (2) 羅德斯 (Cecil Rhodes)
- (3) 曼德拉 (Nelson Mandela)
- (4) 恩克魯瑪 (Kwame Nkrumah)

- 34 從 20 世紀 70 年代晚期開始，鄧小平(Deng Xiaoping)為中國人民共和國制定的主要目標之一是

- (1) 鼓勵通過現代化實現經濟成長
- (2) 支持傳統宗教實踐
- (3) 減少對官僚機構的控制
- (4) 保護革命學說的純淨

- 35 • 在黑市上出售核材料
- 烏克蘭和摩爾多瓦的文化身份重申
  - 捷克共和國申請成為歐盟成員

哪些事件最直接影響了這些條件？

- (1) 蘇聯的瓦解
- (2) 柏林封鎖的失敗
- (3) 伊朗革命
- (4) 天安門廣場上的親民主抗議

- 36 世界銀行和國際貨幣基金組織(IMF)的一個主要目標是

- (1) 控制油價
- (2) 推動雨林的開發
- (3) 擴大政府對工業的控制
- (4) 鼓勵經濟發展

根據以下的漫畫和你的社會學知識來回答第 37 題。



資料來源：Chris Britt, *State Journal-Register*

37 這幅漫畫表達的主要觀點是什麼？

- (1) 和平談判導致停火。
- (2) 衝突即將結束。
- (3) 談判失敗。
- (4) 關鍵群體已來到和平談判桌前。

38 廣島和車諾比的一個相似之處是這兩個地方的人們

- (1) 因地震而流離失所
- (2) 受核輻射傷害
- (3) 受大規模石油洩漏的影響
- (4) 被生物戰爭蹂躪

39 阿拉伯之春和法國大革命的動機的一個相似之處是人們希望

- (1) 使社會擺脫世俗信仰
- (2) 更換政府以帶來改革
- (3) 通過非暴力手段實現改變
- (4) 利用社交媒體結束經濟不平等

40 聖索菲亞大教堂轉變為回教清真寺以及拆毀柏林牆的一個相似之處是這兩件事發生的原因都是

- (1) 政治權力的轉移
- (2) 強迫宗教團體移徙
- (3) 採用鋼鐵技術
- (4) 恢復國際貿易



根據下面的圖表和你的社會學知識來回答第 41 題和第 42 題。

世界上特定國家

國家	人口 (百萬)	面積 (千平方公里)	每平方公 里的人口	城市 百分比	可耕地 百分比	識字率 男/女	預期壽命 (年)男/女
法國	66.0	643.8	102.5	85.0	33.5	99.0 99.0	78.5 84.8
日本	127.3	377.9	336.1	91.3	11.3	99.0 99.0	80.9 87.7
奈及利亞	174.5	923.8	188.9	49.6	39.0	72.1 50.4	49.4 55.8
巴基斯坦	193.2	796.1	242.7	36.2	26.0	69.5 45.8	64.8 68.7
波蘭	38.4	312.7	122.8	60.9	35.5	99.9 99.6	72.5 80.6
委內瑞拉	28.5	912.0	31.3	93.0	2.9	95.7 95.4	71.1 77.5

— CIA World Factbook

41 根據這張圖表，哪項關於這些國家的陳述最準確？

- (1) 奈及利亞的男女識字率最低。
- (2) 日本是人口最密集的國家。
- (3) 委內瑞拉的城市化比例最低。
- (4) 法國人口最多。

42 使用這張圖表中的數據最能支持哪項概括？

- (1) 國家的人口越多，國家的面積越大。
- (2) 國家的可耕地越少，識字率就越低。
- (3) 較長的壽命往往與男性和女性的高識字率相關聯。
- (4) 國家每平方公里的人口越多，則其城市人口佔較高比重的可能性越大。


43 新石器革命期間出現了哪些發展？

- (1) 在種植園種植食品。
- (2) 石器首次被使用。
- (3) 工廠生產制取代家庭生產制。
- (4) 在河谷地區建立永久居住地。

44 漢薩同盟的擴張、義大利城邦國家的繁榮以及商品交易會的增長都影響了

- (1) 回教信仰的傳播
- (2) 羅馬和平時期的發展
- (3) 歐洲商業活動的成長
- (4) 維持西非的軍事前哨

根據下面的圖片和你的社會學知識來回答第 45 題和第 46 題。



資料來源: Whipple Collection, University of Cambridge

45 這張圖片中顯示的是哪個文明？

- (1) 孔雀王朝
- (2) 瑪雅
- (3) 回教
- (4) 柬埔寨

46 圖片中顯示的某些物品直接造成

- (1) 歐洲探索時代
- (2) 中亞人入侵
- (3) 祖魯人的衰落
- (4) 《查士丁尼法典》(Justinian Code) 的制定

47 鄭和 (Zheng He) 航行、青花瓷器的發展以及紫禁城的建立都與什麼有關

- (1) 德川幕府
- (2) 明朝
- (3) 阿克蘇姆王國
- (4) 倭馬亞王朝

48 • 蒙特祖瑪皇帝 (Emperor Montezuma) 政權倒台。  
• 大量的美洲原住民死於天花和其他疾病。

這些事件發生的原因是

- (1) 遭遇時期 (The Encounter)
- (2) 拉丁美洲獨立運動
- (3) 墨西哥革命
- (4) 古巴革命

49 彼得大帝 (Peter the Great) 和明治天皇 (Emperor Meiji) 統治的一個相似之處是他們的政府

- (1) 鼓勵人們改信基督教
- (2) 支持孤立主義政策
- (3) 實施立法機構的民主選舉
- (4) 通過採行西方技術開始現代化

根據下面的摘錄和你的社會學知識來回答第50題。

**年輕的土耳其人：奧圖曼帝國宣言，1908年**

...7. 土耳其語將依然是官方語言。官方通信和討論將以土耳其語進行。...

9. 不論其國籍或宗教，每個公民將享有完全的自由和平等，並承擔相同的義務。所有奧圖曼帝國的公民在法律面前人人平等，擁有國家相關的權利和責任，並且有資格根據他們個人的能力和教育程度獲得政府職位。軍法也同樣適用於非回教徒。...

—“The Young Turks,” A. Sarrou, trans., Paris, 1912

50 這個宣言納入什麼原則

- (1) 民族認同
- (2) 神聖的權利
- (3) 社會達爾文主義
- (4) 馬克思主義

論文題的答案應填寫在分開的論文本上。

在回答第 II 部分的問題時，請注意以下一般性定義：

- (a) 解釋指「使其平實易懂；提供原因或來由；顯示邏輯發展或關係」
- (b) 論述指「透過事實、推理和論證來對某件事發表意見；加以詳述」

## 第 II 部分

### 主題論文題

答題說明：撰寫一篇條理分明的論文，包括引言、解決以下任務的幾個段落、以及結論。

主題：需求和意願

縱觀歷史，對某些自然資源和產品的需求和渴望顯著影響了文明、帝國和地區的發展。這些自然資源和產品的可得性和獲取途徑同時幫助卻也阻礙了他們的發展。

任務：

選擇**兩種**不同的自然資源和/或產品，並且對於**每種**自然資源

- 解釋為什麼人們需要或渴望這種自然資源和/或產品
- 論述這種自然資源和/或產品如何顯著地影響文明、帝國和/或地區的發展

你可以使用在學習世界歷史和地理時所學到的任何自然資源或產品。你不妨考慮的一些建議包括煤、石油、鑽石、水、鹽、木材、橡膠、茶葉、棉花、香料和糖。

**你不必侷限於以上建議。**

**不要寫關於美國和它的資源。**

指南：

**在你的論文中，請務必**

- 闡述任務的各個方面
- 引用相關事實、例證及細節來支持主題
- 須合乎邏輯、條理分明，包括一個不只是重複主題的引言和結論

**第 III 部分****基於文件題**

本問題是基於隨附的文件。該問題的設計是為了測驗你運用歷史文件的能力。其中一些文件是為這個問題編輯的。當你分析文件時，請參考每份文件的來源及文件中所論述的任何觀點。請記住，文件中使用的語言可能反映出撰寫當時的歷史背景。

**歷史背景：**

被稱為「英屬印度」(Raj) 的英國統治期間 (1857–1947 年)，英國採取許多行動以加強和維護他們在印度次大陸的統治。英國統治對人民和地區的影響可以從不同的角度分析。

**任務：**運用文件資料和你的世界歷史和地理知識，回答 A 部分每一份文件後面的問題。你對這些問題的回答將有助於撰寫 B 部分的論文，在這篇論文中，你將被要求

- 論述英國在 1857 年至 1947 年間採取的行動如何加強和/或維護他們對印度次大陸的統治
- 從不同的角度論述英國統治對人民和/或地區的影響

在回答第 III 部分的問題時，請注意以下一般性定義：

**論述指「透過事實、推理和論證來對某件事發表意見；加以詳述」**

## A 部分 簡答題

答題說明：分析以下文件，在所提供的空白處上回答每份文件後的簡答題。

### 文件 1

...印度叛變 [1857 年] 令世人震驚，尤其是在英國對印度的統治看起來如此穩固的情況下。為了防止暴亂再次發生，治理英屬印度的有關當局被撤出約翰公司 (John Company) [英國東印度公司] 而由英國君主掌管。維多利亞女王 (Queen Victoria) 成為印度女皇，在印度代表她行事的是總督，接替地方行政長官，即由倫敦印度事務處控制的印度政府首腦。駐紮在這個國家的英國軍隊，而非現在所謂的印度軍隊，增加至 65,000 人，並且一般原則是每隊駐軍中至少要有一個英國團。...

資料來源：Charles Messenger, *British Army*, Bramley Books, 1997

- 1 根據梅森哲 (Charles Messenger) 所說，印度叛變後英國試圖加強他們對印度次大陸控制的一種方法是什麼？ [1]

Score

## 文件 2

...英屬印度處理 19 世紀 70 年代和 90 年代饑荒的方式在很大程度上證明了其特性。原本關於鐵路和運河擴建的預後[預測]可能是正確的，雖然沒有確切的方法可以精確計算因鐵路運送食品而得救的人數。但如果沒有擴建鐵路網死亡人數會更多；這一點我們可以肯定。同樣，如[英國總督]寇松 (Curzon) 在 1903 年啟動野心勃勃的新政策以挖掘更多運河時所理解的，人工灌溉能夠拯救生命。但人道主義總是被實用主義[實用性]所平衡，英屬印度從未忽略收回成本的需求。技術的改進使印度人面對自然力量不再那麼脆弱，同時也設法[計畫]通過稅收使他們[印度人民]和政府變得富裕。迄今綿延至信德和旁遮普乾旱地區的水道仍能有效增加政府的收入。灌溉之前年估價為 15,000 英鎊的旁遮普某地區，灌溉後的估價達到 24,000 英鎊。...

資料來源：Lawrence James, *Raj: The Making and Unmaking of British India*, St. Martin's Griffin, 1997 (經改編)

- 2 根據勞倫斯·詹姆斯 (Lawrence James) 所說，「英屬印度」(Raj) 採取的援助印度人民並加強英國統治的一項行動是什麼？ [1]

Score

### 文件 3

...英國、王侯政府、傳教士和私營企業都開辦了新學校。這些學校分屬包括大學在內的各個級別。所有高等教育的學校都使用英語。雖然只有極少數印度人就讀這些學校，但就讀的學生都能受到良好的英語教育（英語熟練度[流暢度]成為受過教育的人的標誌）。他們學習英國關於民主和民族主義的思想，並且後來成為印度獨立運動的領袖。...

資料來源：Milton Jay Belasco, *India-Pakistan: History, Culture, People*, Cambridge Book Company, 1968

3 根據 Milton Jay Belasco 所說，英國和其他國家影響印度文化的一種方法是什麼？ [1]

---

---

Score



## 文件 4

...如果英屬印度的官僚制度是一種專制，那麼這是一種極為特殊的專制，是印度人在英國人到來之前從未體驗過的專制。

首先，英屬印度比任何前身都更強大，甚至比莫臥兒帝國 (Mogul Empire) 還要強大，這使得它保證印度不受外部攻擊，而且內部團結和平，這是前所未有的。以往入侵的威脅被驅散[消除]。直到 1942 年之前都沒有敵軍越過邊境。農村地區也不再經常被交戰而劫掠的[侵略的]團體所掃蕩。主要公路上不再有土匪[強盜]團夥出沒。村民們晚上可以安心睡覺：他們的生命和財產比以前任何時候都更安全。

其次，英屬印度用法治代替獨斷專制。數百萬印度人在成為英國臣民之後，獲得了「一個法治而非人治的政府」，他們的人身權利得到客觀公正的充分保護，並與世界上其他任何人一樣享有廣泛的公民自由。至於法律的內容，現有法律按照「無可爭辯的原則」進行整合和編纂，如英國議會委員會所說的那樣：「當發生利益衝突時，本土臣民的利益應優於歐洲人而先得到考慮，因此應該調整法規，使之更適於當地人而非歐洲人的感覺和習慣」。採行英國司法程序有時也被認為是不明智的，因為它不適合印度農村落後的生活狀況。但建立公正的新法庭幾乎是完全有益的。一位經歷豐富的印度民族主義者寫道，他們獲得了歐洲統治領域外「亞洲從未見過的威信和權威」。他們在印度人腦海根植下對法律全新的尊重感，即使最強大的政府都必須遵守。這份禮物的價值尚未得到最後的證實；因為未來自由印度的和平與穩定主要必須依靠對主權法律的擁護。...

資料來源：Sir Reginald Coupland, *India: A Re-Statement*, Oxford University Press, 1945 (經改編)

4a 柯普蘭 (Reginald Coupland) 爵士認為「英屬印度」(Raj) 改善印度人的生活品質的一種方法是什麼？ [1]

Score

b 根據這段摘錄，柯普蘭 (Reginald Coupland) 爵士對印度人民有何看法？ [1]

Score

## 文件 5

...印度教和回教敵意[仇恨]的一部分原因是英國的政策。英國統治者為了保持在印度廣闊領土內的權威，鼓勵印度人將不滿歸結於其他印度人而非英國統治。由於印度人越來越渴望獨立，英國暗地裡破壞印度國民大會黨對回教徒的信任。回教徒擔心國會只會主張印度教的利益。一般來說，回教政黨—回教聯盟—與英國合作以換取安全保障和特許。當英國建立中央立法委員會 [1909 年]選舉制時，他們將回教徒劃分為單獨的選舉團體。英國的政策是「分而治之」。英國為了其自身利益而推動回教分裂。...

資料來源：Donald J. Johnson, et al., "Why Hindus and Muslims Speak Hate,"  
*Through Indian Eyes*, CITE Books

5a 根據《印度人的視角》(*Through Indian Eyes*) 中的這段摘錄，英國煽動對印度教和回教仇恨的一例子是什麼？ [1]

Score

b 根據《印度人的視角》(*Through Indian Eyes*) 的這段摘錄，回教聯盟因為擔心印度佔多數而採取了什麼行動？ [1]

Score

## 文件 6

...那麼我為什麼認為英國統治是災禍呢？

英國的逐步剝削制度和印度無法承擔的極為昂貴的軍政和民政，已使數百萬印度人陷入貧困。

在政治上它把我們的身份降為農奴。它破壞了我們的文化基礎。而且它通過解除武裝政策降低了我們的士氣。由於缺乏內在力量，普遍解除武裝的我們幾乎成為一個軟弱無助的國家。...

資料來源：Letter from M.K. Gandhi, Esq. to the Viceroy, Lord Irwin, March 2, 1930

6 根據甘地 (Gandhi) 所說，英國統治帶來的一個問題是什麼？ [1]

---

---

Score

## 文件 7

...1935 年的《印度法案》(India Act) 包括兩個部分，都成為憲法修正案。第一部分於 1937 年實行，賦予省級議會和行政機構對政府的完全自治權。然而總督保留推翻他們的權利。該法案的第二部分試圖建立一個聯邦，將英屬領土內的 560 多個土邦合併。英屬領土包括孟加拉、阿薩姆、旁遮普、信德、比哈爾、奧里薩、馬德拉斯、西北邊境省份、中部省份、聯合省份和孟買。...

資料來源：Warshaw and Bromwell with A.J. Tudisco,  
*India Emerges: A Concise History of India from Its Origin to the Present*, Benziger, 1975

- 7 根據《印度崛起》(*India Emerges*) 的這段摘錄，1935 年的《印度法案》(India Act) 規定，英國政府維持對印度控制的一種方法是什麼？ [1]

---

---

Score

## 文件 8

### 《英國在印度的統治》（1946 年）

...因此印度不得不承擔[支持]一些花費，包括自身的征服行動、從東印度公司轉讓（或出售）至英國君主、大英帝國擴展至緬甸和其他地方並探索非洲、波斯等地以及防禦印度人自己等等花費。她不僅被當作建立帝國的基地，且沒有任何回報，還要承擔在英國的英軍訓練費用—這些被稱為「人頭稅」。事實上，印度也不得不承擔英國產生[招致]的其他種種開支，例如維護英國在中國和波斯的外交和領事機構、從英格蘭到印度的所有電報線費用、英國地中海艦隊的部分費用，甚至包括在倫敦對土耳其蘇丹王的招待費用。...

資料來源：Jawaharlal Nehru, *The Discovery of India*, The John Day Company, 1946

8 根據尼赫魯 (Nehru) 的說法，印度必須支持大英帝國花費的一種方式是什麼？ [1]

Score

## 文件 9

...在第二次世界大戰中，英國最後要求印度成為其殖民地。英國採取嚴格[嚴酷]的強制措施來維護英屬印度，抵制印度民族主義，並且將印度作為供給和作戰基地。許多印度人在英國軍隊服役，印度工業得到擴張為戰爭供應物資。雖然印度的部分地區獲益於工業生產的增加，但戰爭造成的因素以及缺乏降雨共同導致糧食短缺，導致孟加拉 200 萬人在 1942 年至 1944 年期間因饑餓而死亡。...

資料來源：William Goodwin, *India*, Lucent Books

9 根據威廉·古德溫 (William Goodwin) 的說法，20 世紀 40 年代印度被要求支持英國的**兩種**方式是什麼？ [2]

(1) \_\_\_\_\_

Score

(2) \_\_\_\_\_

Score

## B 部分 論文題

**答題說明：**撰寫一篇條理分明的論文，包括引言、幾個段落、以及結論。在你的論文中，引述取自至少五份文件中的證據。引用相關事實、例證及細節來支持你的答案。包括其他的外部資料。

### 歷史背景：

被稱為「英屬印度」(Raj) 的英國統治期間 (1857-1947 年)，英國採取許多行動以加強和維護他們在印度次大陸的統治。英國統治對人民和地區的影響可以從不同的角度分析。

**任務：**運用文件資料和你的世界歷史和地理知識撰寫一篇論文，在這篇論文中

- 論述英國在 1857 年至 1947 年間採取的行動如何加強和/或維護他們對印度次大陸的統治
- 從不同的角度論述英國統治對人民和/或地區的影響

### 指南：

**在你的論文中，請務必**

- 闡述任務的各個方面
- 綜合來自至少五份文件的資料
- 綜合相關的外部資料
- 引用相關事實、例證及細節來支持主題
- 須合乎邏輯、條理分明，包括一個不只是重複主題的引言和結論

