

世界歷史 和地理

僅限用於 2012 年 6 月 13 日 (星期三) — 上午 9 時 15 分至下午 12 時 15 分

學生姓名 _____

學校名稱 _____

請用工整字跡在以上直線上填寫你的姓名和學校名稱。一份分開的第 I 部份專用答題紙會發給你。請遵循監考老師的指示在答題紙上填寫學生資料。然後再填寫論文題本的每一頁抬頭。

本次考試共有三個部分。你必須要回答每一部分的**所有**題目。請用黑筆或藍筆作答第 II 部分、第 III A 部分和第 III B 部分。

第 I 部分包括 50 道選擇題。根據指示將答案記錄在答題紙上。

第 II 部分包括一道以主題為主的論文題。請在論文本上寫下你對這個問題的答案，從第 1 頁開始。

第 III 部分基於幾份文件：

第 III A 部分包含這些文件。請務必在這部分的第一頁上填寫你的姓名和學校名稱。

每一文件後有一個或一個以上的問題要回答。在本考題本上，將各題的答案寫在各問題後面的直線上。

第 III B 部分包含一個基於這些文件的論文題。請在論文本上寫下你對這個問題的答案，從第 7 頁開始。

在本次考試結束後，你必須簽署印在答題紙最後的聲明，表明在考試之前你沒有非法得到本考試的試題或答案，並且在本考試中沒有給予過或接受過任何的幫助。你如果不簽署本聲明，你的答題紙將不會被接受。

在本考試中，嚴禁使用任何形式的通訊工具。如果你使用了任何的通訊工具，無論多短暫，你的考試都將無效，而且不會得到任何分數。

未經指示請勿打開本考題本。

第 I 部分

請回答本部分的所有問題。

答題說明 (1–50)：對於每個陳述或問題，在分開的答題紙上寫下所提供的、最佳完成陳述或回答問題的詞或語句的編號。

依據以下地圖和你的社會學知識來回答第 1 題和第 2 題。

亞述帝國



資料來源：Susan Wise Bauer, *The History of the Ancient World*, W. W. Norton, 2007 (經改編)

1 根據這張地圖顯示的資訊，亞述帝國位於哪個地區？

- (1) 西南亞
- (2) 西非
- (3) 南美
- (4) 西歐

2 亞述帝國所在的區域也被稱為

- (1) 次大陸
- (2) 聖地
- (3) 新月沃土
- (4) 世界屋脊

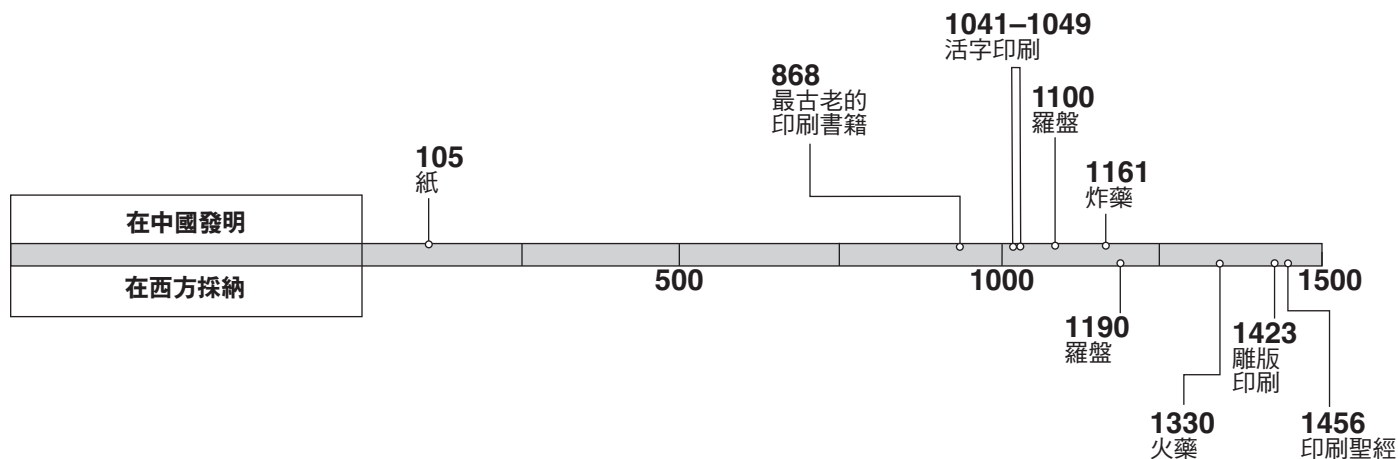
3 在研究聯合國時，什麼是第二手資料的一個例子？

- (1) 建立聯合國時簽署的憲章
- (2) 聯合國秘書長在聯合國成立 50 週年時發表的演說
- (3) 百科全書中有關聯合國安理會第一次會議的記述
- (4) 在聯合國原址舉行開幕式的照片

4 吐蕃王國的人民與印加帝國的人民一個相似之處是他們都

- (1) 開發了沿海港口
- (2) 適應了山區地形
- (3) 設計了船舶以進行全球貿易
- (4) 開始使用駱駝商隊作為他們的主要交通方式

根據以下的時間—事件示意圖表和你的社會學知識來回答第 5 題。



資料來源：China: A Teaching Workbook Columbia University (經改編)

5 這個時間—事件示意圖表所提供的資訊最能支持以下哪個概括性陳述？

- (1) 截至 1500 年，中國一直在引進西方技術。
- (2) 孤立主義阻礙中國開發新的發明。
- (3) 中國成功地防止其發明被西方間諜所竊取。
- (4) 在 1500 年之前，中國的科技超越了西方。

6 萬物有靈論、神道教和道教有何相似之處？

- (1) 強調與自然和諧共處
- (2) 一神論的信仰體系
- (3) 信仰涅槃重生的理念
- (4) 依賴吠陀經的教義

7 朝鮮 (韓國) 在東亞發展中扮演的一個角色是

- (1) 在中國西部邊疆保護中國免受日本侵略
- (2) 向日本對東南亞島嶼的控制權發起挑戰
- (3) 與越南結盟，意圖征服中國
- (4) 將文化理念從中國傳入日本

8 蒙古人征服了哪些區域並將其納入自己的帝國？

- (1) 中國、俄羅斯和伊朗
- (2) 阿克蘇姆、辛巴威和西非
- (3) 西班牙、法國和埃及
- (4) 日本、印度和東歐

9 歐洲商業革命的一個結果是什麼？

- (1) 中產階級規模縮小
- (2) 莊園制度擴張
- (3) 金融機構的發展
- (4) 以物易物制被更廣泛地應用

10 哪個因素促使馬利成為一個富裕的國度？

- (1) 實行重商主義政策
- (2) 與漢薩同盟結盟
- (3) 控制地中海的貿易航線
- (4) 主導黃金和食鹽的交易

11 在 14 世紀，黑死病成為廣泛流行的大瘟疫主要是因為

- (1) 貿易的復甦
- (2) 中國的海外探險
- (3) 歐洲的殖民政策
- (4) 新的農業實踐

依據下文和你的社會學知識來回答第 12 題和第 13 題。

... 除了女聖徒之外，拜占庭作家筆下描述得最詳盡的女性是皇后和女貴族。雖然她們擁有一定的自由，但這些女性與拜占庭社會的普通女性一樣，謹遵著幾乎相同的標準：端莊、虔誠和自我控制是一個理想女性的特質。為了維護她們的端莊，年輕的未婚女性很少獨自出門前往公共場所，而除了家務事以外沒有其他工作的已婚婦女通常也不出門，除非有特別原因，例如需要前往集市、教堂或浴場。在拜占庭帝國中期之前，婦女在出門的時候要用衣物遮住頭部，這麼做才被認為是得體的。...

— Molly Fulghum Heintz, "Work," in Ioli Kalavrezou, *Byzantine Women and Their World*, Harvard University Art Museums, 2003 (經改編)

- 12 這段話的主要主題是什麼？
- (1) 社會流動性 (3) 文化價值觀
(2) 經濟利益 (4) 自然權利
- 13 這段話最能支持以下有關拜占庭社會的哪項陳述？
- (1) 皇后和貴族比女聖徒更重要。
(2) 所有婦女都被期望要奉行類似的標準。
(3) 大多數婦女都要出門工作。
(4) 年輕的未婚女性被鼓勵要獨立。
-
- 14 哪個因素最有助於促成奧托曼帝國的文化多樣性？
- (1) 以「可蘭經」(Koran) 為基礎的法律制度
(2) 地處橫跨歐洲、非洲和亞洲的中心位置
(3) 與俄羅斯和哈布斯堡王朝結盟
(4) 依賴美洲的殖民地

依據以下說話者的陳述和你的社會學知識來回答第 15 題和第 16 題。

說話者 A：羅馬天主教會的主要問題在於出售贖罪券的做法。要讓基督徒得到救恩的唯一途徑就是透過信仰。

說話者 B：如果基督徒要得到救恩，他們應該施行善舉，尋求罪孽得赦。發放贖罪券的做法使基督徒的罪孽得以免除。

說話者 C：事實上，聖經才是宗教真理的終極根源，而不是神職人員。然而，上帝早已決定誰會得到救恩，誰不會得到救恩。

說話者 D：由於教皇不同意我的立場，我決定從羅馬天主教中分離出去。我現在不僅是英國的統治者，而且也是英國國教的領袖。

- 15 哪一位說話者最能反映馬丁·路德 (Martin Luther) 的想法？
- (1) A (3) C
(2) B (4) D
- 16 哪一位說話者最能支持約翰·加爾文 (John Calvin) 所教導的預定論思想？
- (1) A (3) C
(2) B (4) D
-
- 17 在 15 世紀後期和 16 世紀初期，開啟歐洲探險遠航的主要原因是什麼？
- (1) 啟蒙思想的引進
(2) 控制君士坦丁堡的欲望
(3) 快速工業化
(4) 需要其他貿易路線

- 18 對哥倫布發現新大陸之前中美洲文化的成就所做的一項研究顯示他們
- (1) 透過集約農業來維持密集的人口
 - (2) 在太平洋地區從事廣泛的探險
 - (3) 製造帶有輪子的運輸工具來運送貨物
 - (4) 發明了宣紙和雕版印刷

依據下文和你的社會學知識來回答第 19 題和第 20 題。

... 此外，在上一次交戰之後，他們對馬和槍，還有我們的利劍、弓弩和我們的驍勇善戰都十分懼怕。最重要的是上帝極大的憐憫，祂賜予我們力量繼續堅持戰鬥。...

—Bernal Díaz del Castillo, *The Bernal Díaz Chronicles*,
Doubleday & Company

- 19 這一段關於墨西哥衝突的描述表達了誰的觀點？
- (1) 阿茲特克戰士
 - (2) 西班牙征服者
 - (3) 葡萄牙探險家
 - (4) 印加皇帝
- 20 根據作者，哪個因素影響著這場衝突的結局？
- (1) 效率和教育
 - (2) 氣候和疾病
 - (3) 貢物和傳統
 - (4) 科技和恐懼
-
- 21 19 世紀拉丁美洲革命的其中一個影響是什麼？
- (1) 民主成為拉丁美洲的主導政治體制。
 - (2) 歐洲殖民主義取代了拉丁美洲原先的獨立政府。
 - (3) 許多拉丁美洲國家取得獨立。
 - (4) 拉丁美洲國家將大多數具有歐洲血統的人驅逐出境。
- 22 與伽利略 (Galileo Galilei) 和牛頓 (Sir Issac Newton) 最密切相關的是
- (1) 發起宗教改革
 - (2) 領導政治革命
 - (3) 進行研究實驗
 - (4) 從事對外征伐

- 23 羅伯斯比爾 (Maximilien Robespierre) 以及雅各賓派最出名的是
- (1) 實行恐怖統治
 - (2) 保護宗教自由
 - (3) 支持國王路易十六的統治
 - (4) 派遣法國軍隊為美國革命作戰

- 24 義大利的統一和德國的統一顯示
- (1) 社會主義是組織經濟的一種有效途徑
 - (2) 民族主義可以被用來鞏固政治利益
 - (3) 殖民主義可以被用來傳播歐洲文明
 - (4) 相互依賴是發動戰爭的一個重大障礙

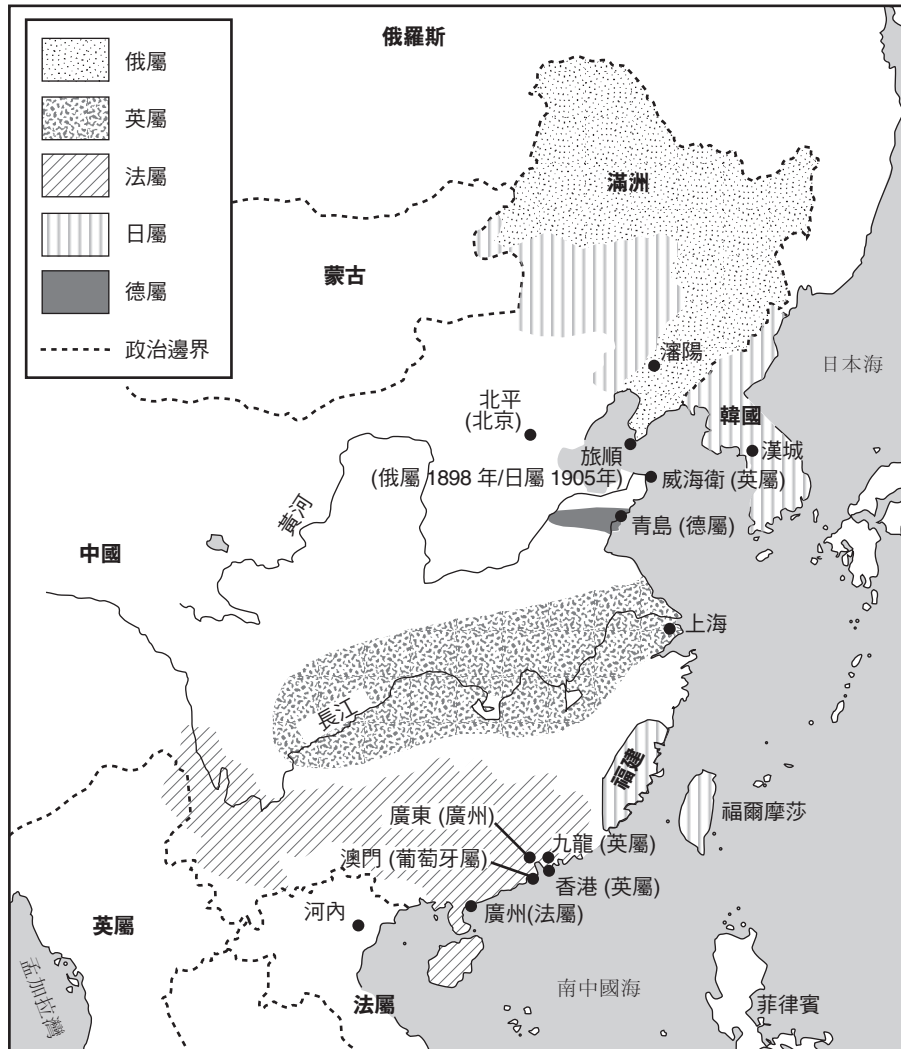
- 25 在工業革命時期，哪種發展是因其他三項所導致的？
- (1) 工廠條件影響人們的健康狀況。
 - (2) 工會形成。
 - (3) 無技能勞動者的工資很低。
 - (4) 機械代替工人。

- 26 以下哪個短句最能說明不干預資本主義政策的理論？
- (1) 企業經營很少受到政府監管影響
 - (2) 國家建立生產配額
 - (3) 中央計劃委員會制定商品價格
 - (4) 根據社區傳統作出分配的決定

- 27 根據馬爾薩斯 (Thomas Malthus)，人類人口成長的速率相對於糧食生產的增長速率成了一個問題。馬爾薩斯認為
- (1) 工業發展將會嚴重限制人口成長
 - (2) 饑荒和戰爭對人口成長有天然的抑制作用
 - (3) 人口較多的國家將征服人口較少的國家
 - (4) 糧食生產的增長速率將超過人口成長的速率

依據以下地圖和你的社會學知識來回答第 28 題。

中國，1895–1914 年



資料來源：Historical Maps on File (經改編)

28 這張地圖的主要重點是什麼？

- (1) 人口密度
- (2) 資源分配
- (3) 帝國主義
- (4) 城市化

29 一個無能的政府，在血腥星期日發生的大屠殺，以及第一次世界大戰的巨額花費導致了

- (1) 墨西哥革命
- (2) 義和團起義
- (3) 印度士兵叛變
- (4) 俄國革命

30 哪項改革措施與土耳其領導人凱末爾 (Kemal Atatürk) 最密切相關？

- (1) 實施伊斯蘭教法
- (2) 引進阿拉伯文
- (3) 建立共產主義政府
- (4) 採行西方文化

依據以下圖片和你的社會學知識來回答第31題。

負擔家計的納稅人



為什麼不是投票人？

資料來源：Common Cause, January 5, 1911 (經改編)

- 31 根據這張圖片，婦女應該獲得投票權，因為
- (1) 她們在許多方面為社會作出貢獻
 - (2) 她們需要享有投票權，才能獲得工業就業機會
 - (3) 只有婦女才瞭解如何撫養孩子
 - (4) 如果沒有投票權，就不能向婦女徵稅
-
- 32 哪位領導人與公民非暴力不合作和食鹽進軍有關？
- | | |
|--------------------------------|-----------------------------|
| (1) 夸梅·恩克魯瑪
(Kwame Nkrumah) | (3) 甘地
(Mohandas Gandhi) |
| (2) 喬莫·肯雅塔
(Jomo Kenyatta) | (4) 胡志明
(Ho Chi Minh) |

- 33 以下哪個事件序列是按照正確時間順序排列的？
- (1) 納粹主義的興起→凡爾賽條約→德國入侵蘇聯
 - (2) 凡爾賽條約→納粹主義的興起→德國入侵蘇聯
 - (3) 德國入侵蘇聯→納粹主義的興起→凡爾賽條約
 - (4) 凡爾賽條約→德國入侵蘇聯→納粹主義的興起

- 34 毛澤東 (Mao Zedong) 和長征的倖存者最後成為哪個國家的領導核心？
- | | |
|---------|----------|
| (1) 安哥拉 | (3) 中國 |
| (2) 柬埔寨 | (4) 尼加拉瓜 |

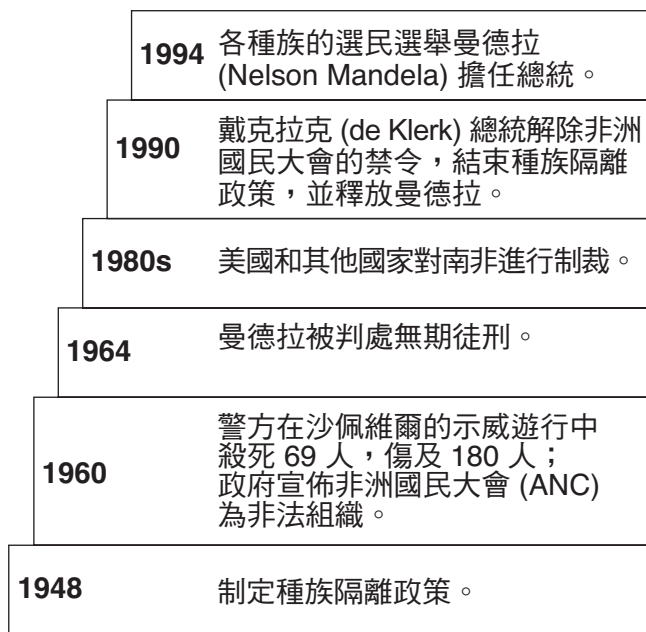
根據以下的摘錄和你的社會學知識來回答第35題。

... 這一切都意味著：任何一個國家的人民都有權利，而且應享有權力透過符合憲法的行動，透過自由不受約束[沒有限制]的選舉，用不具名投票的方式去選擇或改變他們所在之處的政府性質或形式；言論和思想自由應該擁有最高地位；司法法庭應從行政獨立，沒有任何政黨偏見，執行那些已獲得大多數人廣泛同意或者經由時間和習俗被視為神聖的法律。這就是每間小屋之家應有的自由地契。這就是英國人和美國人傳遞給人類的訊息。讓我們宣揚我們所實行的一讓我們實行我們所宣揚的。...

— Winston Churchill, *Sinews of Peace*
(the Iron Curtain speech), March 5, 1946

- 35 在這段節錄中，邱吉爾 (Winston Churchill) 主張一個國家的人民有權利享有
- (1) 經濟繁榮
 - (2) 集體安全
 - (3) 民族自決
 - (4) 宗教自由
-

根據下圖和你的社會學知識來回答第 36 題。



資料來源：Guide to the Essentials of World History, Prentice Hall, 2003 (經改編)

36 此圖所展示的是哪項政策？

- (1) 種族隔離
- (2) 孤立主義
- (3) 姑息政策
- (4) 中立政策

37 中國革命 (1945–1949 年) 和古巴革命 (1956–1959 年) 的一個相似之處在於兩場革命的領導人都

- (1) 接受資本主義思想
- (2) 拒絕工業發展
- (3) 利用和平手段實現自己的目標
- (4) 依賴農民的支持

38 哪項關於巴勒維 (Shah Reza Pahlavi) 和伊朗革命的陳述只是一種觀點，而不是事實？

- (1) 巴勒維受到西方強權的支持。
- (2) 回教神職人員反對巴勒維。
- (3) 革命發生的主要原因是巴勒維的批評者被流放。
- (4) 霍梅尼 (Ayatollah Ruhollah Khomeini) 的支持者推翻了巴勒維。

根據下面的詩和你的社會學知識來回答第 39 題。

在無聲的土地上 (In the Quiet Land)

(作者：翁山蘇姬 (Daw Aung San Suu Kyi))

在無聲的土地上，無人能知曉
是否有人在竊聽
他們可出售的秘密。
血染大地是告密者得到的報酬
獨裁者所不認可的事亦無人敢言。

在緬甸無聲的土地上，
無人歡笑，無人說出心中的想法。
在緬甸無聲的土地上，
你只聽見群眾靜默的蒼涼。...

39 作者用這首詩來譴責

- (1) 壓迫
- (2) 文盲
- (3) 非暴力
- (4) 抑制政策

40 到了 20 世紀 70 年代後期，中國人口數目不斷增加，迫使中國政府決定

- (1) 鼓勵人們移居到其他國家
- (2) 迫使家庭進入公社工作
- (3) 進行戰爭以擴張領土
- (4) 制定計劃生育政策

41 在冷戰期間，哪個事件最晚發生？

- (1) 古巴導彈危機
- (2) 柏林圍牆倒塌
- (3) 柏林空投行動
- (4) 蘇聯發射斯普特尼克號

依據以下地圖和你的社會學知識來回答第 42 題。



資料來源：Mountain High Maps, Digital Wisdom (經改編)

42 這張地圖中顏色最深的區域代表什麼？

- (1) 前蘇聯共和國
- (2) 目前的歐盟成員國
- (3) 原華沙條約組織成員國
- (4) 石油輸出國組織 (OPEC) 的新成員國

依據下文和你的社會學知識來回答第 43 題。

... 在佛里曼 (Thomas Friedman) 著名的構想中，通訊技術的擴展意味著世界更深入地彼此相連，世界變「平」了。廉價的電話和寬頻使人們能夠身在一個國家卻為另一個國家工作，——這標示著資本主義的發展進入了一個新的階段。隨著 15 世紀大型船舶的到來，商品開始流動。隨著 17 世紀現代銀行的興起，資本開始流動。到了 20 世紀 90 年代，勞動力開始流動。人們不一定需要四處尋找工作機會，工作機會卻可以自己找上門來。工作機會找到了印度的程式設計師、菲律賓的電話接線生和泰國的放射科醫生。貨物和服務的運輸成本數百年來一再下降。隨著寬頻時代的來臨[到來]，許多服務已不需任何運輸成本。並非所有工作都可以外包——這絕對不可能——但如今外包的影響卻四處可見。...

— Fareed Zakaria, *The Post-American World*,
W. W. Norton & Company, 2008 年

43 這段寫於 2008 年的文字最能支持哪個關於全球經濟的結論？

- (1) 亞洲勞動力市場依賴童工。
- (2) 科技進步降低了商業運營成本。
- (3) 資本主義無法滿足工人階級的需求。
- (4) 全球化創造的就業機會越來越少。

44 古雅典城邦和笈多王朝的一個相似之處在於兩者都

- (1) 允許普選
- (2) 發展出母系社會
- (3) 提倡藝術和文學
- (4) 建立種植農業

45 哪個標題最好地完成了下面的部分大綱？

- I. _____
- A. 穩定糧食供應的發展
 - B. 永久定居地的建立
 - C. 書寫系統和宗教的發展

- (1) 人口移居的影響
- (2) 新石器革命的結果
- (3) 封建主義的成就
- (4) 農業綠色革命的原因

46 巴比倫的漢摩拉比法典和拜占庭帝國的查士丁尼法典與以下何者的功用類似

- (1) 蘇美人的金字形神塔
- (2) 佛教的佛塔
- (3) 瑪雅的象形文字
- (4) 古羅馬人的十二板法

47 在英國，大憲章的主要原則是以下何者建立和發展的基礎

- (1) 民主
- (2) 神權政治
- (3) 專制主義
- (4) 共產主義

48 某些考古學家認為美洲最早出現的人類與什麼有關

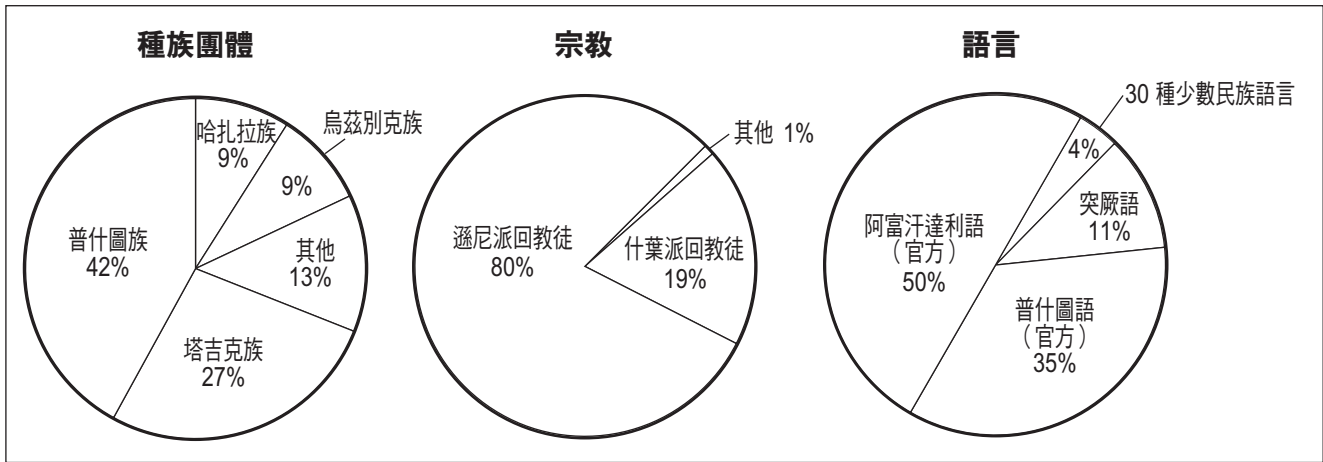
- (1) 游牧民族跨越白令海峽移居
- (2) 歐洲人對加勒比地區的探索
- (3) 班圖族移居過程中的部落移動
- (4) 貿易商人沿著絲綢之路的旅程

49 在 20 世紀 30 年代初期，數百萬烏克蘭人因什麼而喪生

- (1) 大起義
- (2) 開放政策
- (3) 一場人為饑荒
- (4) 壕溝戰

依據以下圖形和你的社會學知識來回答第 50 題。

阿富汗的人口組成



資料來源：The World Factbook, November 30, 2009 (經改編)

50 這些圖形顯示的資訊最能支持以下哪個概括性陳述？

- (1) 阿富汗宗教團體之間的衝突使國家四分五裂。
- (2) 西方國家對阿富汗的文化組成產生了重大影響。
- (3) 阿富汗的主要語言是突厥語。
- (4) 多樣性在阿富汗十分顯著。

論文題的答案應填寫在分開的論文本上。

在回答第 II 部分的問題時，請注意以下一般性定義：

論述指「透過事實、推理和論證來對某件事發表意見；加以詳述」

第 II 部分

主題論文題

答題說明：撰寫一篇條理分明的論文，包括引言、解決以下任務的幾個段落、以及結論。

主題：人文和自然地理

縱觀歷史，地理特徵影響著文明和區域的發展。地理特徵一方面促進了文明和區域之間的互動，一方面也限制了它們彼此的互動。

任務：

選擇**兩個**不同的地理特徵，並且對於**每一個**地理特徵

- 論述這個地理特徵對某一特定文明或區域的發展有何影響
- 論述這個地理特徵如何促進**和/或**限制一個文明或區域與另一個文明或區域之間的互動

你可以使用在學習世界歷史和地理時所學到的任何地理特徵。你不妨考慮的一些特徵包括尼羅河、大西洋、喜馬拉雅山、撒哈拉大沙漠、北部大平原、日本的地理位置、地中海、俄羅斯大草原、巴西熱帶雨林以及印度洋季風。

你不必侷限於以上建議。

在答題時，不要寫美國某一特定的地理特徵。

指南：

在你的論文中，請務必

- 闡述任務的各個方面
- 引用相關事實、例證及細節來支持主題
- 須合乎邏輯、條理分明，包括一個不只是重複主題的引言和結論

第 III 部分

基於文件題

本問題是基於隨附的文件。該問題的設計是為了測驗你運用歷史文件的能力。其中一些文件是為這個問題編輯的。當你分析文件時，請參考每份文件的來源及文件中所論述的任何觀點。

歷史背景：

縱觀歷史，專制統治者往往對他們的國家和人民的生活行使威權。專制統治者的行為為他們的國家和人民帶來了益處，也造成了傷害。這些統治者包括**秦始皇 (Shi Huangdi)**、**沙皇彼得大帝 (Peter the Great)** 以及**國王路易十四 (Louis XIV)**。

任務：運用文件資料和你的世界歷史知識，回答 A 部分每一份文件後面的問題。你對這些問題的回答將有助於撰寫 B 部分的論文，在這篇論文中，你將被要求

選擇歷史背景中提到的**兩位**統治者，並且對於**每一位**統治者

- 描述這位統治者所採取的行動如何顯示他是一位專制統治者
- 論述這位統治者運用專制權力在何種程度上為他的國家或人民帶來了利益和/或傷害

在回答第 III 部分的問題時，請注意以下一般性定義：

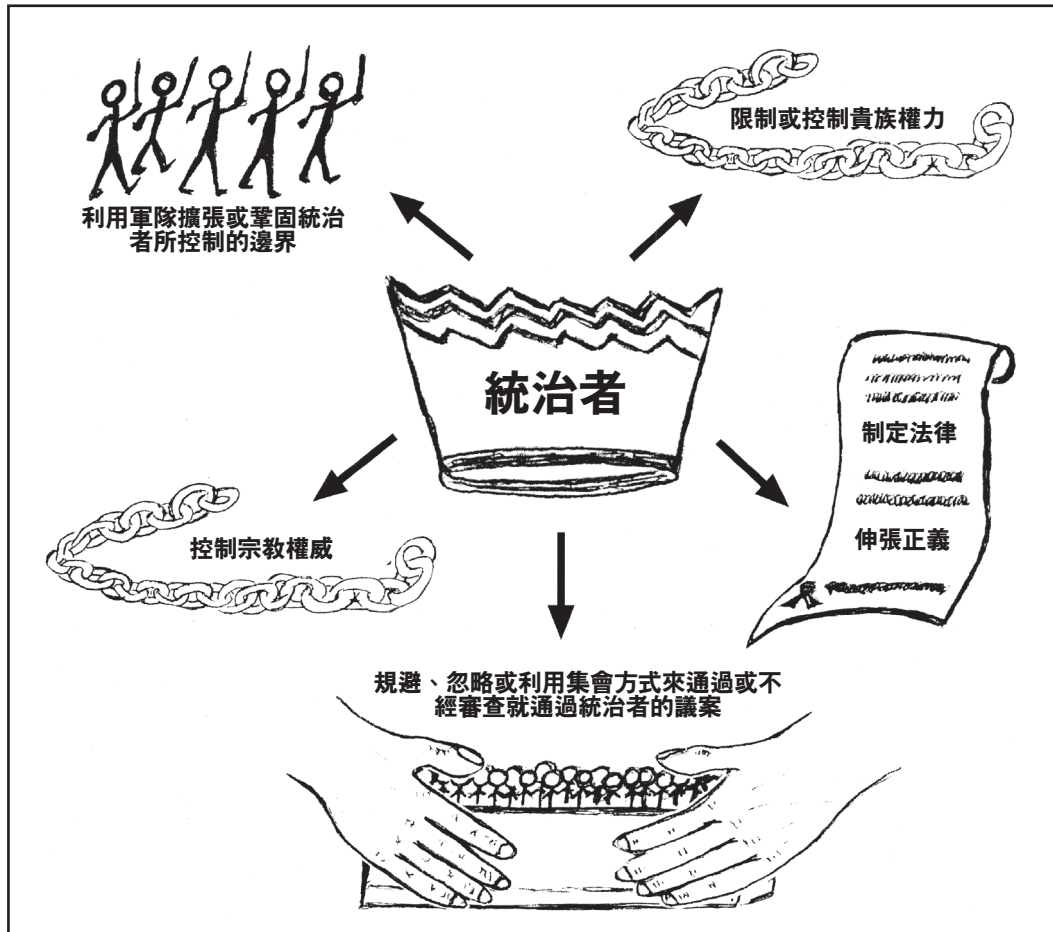
- (a) **描述**指「用文字闡述或陳述」
- (b) **論述**指「透過事實、推理和論證來對某件事發表意見；加以詳述」

A 部分 簡答題

答題說明：分析以下文件，在所提供的空白處上回答每份文件後的簡答題。

文件 1

專制統治者的幾個特點



1 根據此文件中顯示的特徵，專制統治者要達到什麼**總體**目標？ [1]

Score

文件 2

秦始皇是秦朝的第一位皇帝，他利用戰爭削弱了戰國七雄中其他六國的力量。他致力實現中國的統一，從而鞏固了自己的權力。

... [在秦始皇統治之下的]秦朝出現了許多促進中國統一且有助於行政工作的改變。首先，秦朝按照過去管轄疆域的方法，以法家之道治天下。全國分為 36 個郡，然後再細分為縣。郡設守 (掌治其郡)、尉 (負責軍事) 和監 (監禦史)。郡級官員必須向皇帝呈遞書面報告。秦朝以法家治國，施行獎懲制度來維持秩序。此外，國家對老百姓擁有的絕對控制權，而此前的貴族被剝奪一切權力。貴族從他們的家鄉被遷往京城。對全國百姓進行編制，五家為伍，十家為什，一人犯罪，有罪連坐。...

資料來源：“Qin Dynasty,” EMuseum, Minnesota State University at Mankato

2 根據此份電子博物館文件，秦始皇統治下的秦朝是透過哪**兩種**方式來控制中國？ [2]

(1) _____

Score

(2) _____

Score

文件 3a

... 他[秦始皇]最重大的改革是統一漢字[書寫]，統一度量衡，並且統一車軌，使每輛車得以在車轍中平穩運行。一個範圍遼闊的新道路和運河網路，改善了各省之間的貿易和軍隊往來。...

資料來源：“The Emperor with an ego big enough for all time,” *Timesonline*

3a 根據此文件，秦始皇的行為為中國帶來益處的一**個**方面是什麼？ [1]

Score

文件 3b

李斯是法家的堅定支持者，也是秦始皇的丞相。在這段話中，李斯對於一名認為秦始皇有違傳統價值觀的文人進行了回應。

... 「臣建議，除了秦朝的史書以外，其他歷史記錄都應該被燒掉。如果不是朝廷中的文官，則不能私自保留古詩、史書或諸子百家的著作，各郡的長官和軍隊首領應沒收這些材料並將其焚毀。如果有誰在談話中膽敢引用這些古詩和史書，將被公開處決；如果有誰用前朝的先例[例子]來反對當今的法規，將被連誅九族；如果有官員知道這些事卻不向上級彙報，他們將以同樣的方式受到處罰。

「如果這些書籍的擁有者在頒佈命令三十日以後依舊沒有將書銷毀，就要在他們臉上刺字，並將他們送往邊防修築長城。只有醫藥、占卜、農業方面的書籍無須銷毀。想學習法律的人可以向當地的官員學習。」秦始皇接受了這項建議。...

資料來源：Szuma Chien, *Records of the Historian*, The Commercial Press

3b 根據李斯的建議，秦始皇可以透過哪一**種**方式控制中國的百姓？ [1]

Score

文件 4

... 1700 年 8 月 8 日，彼得大帝作出了歷史性決定，宣佈對瑞典發起戰爭，目的是要透過征服波羅的海沿岸[沿海地區]，開闢一條從俄國通往西部的道路*。他與瑞典的敵對國波蘭和丹麥結盟，不過後來證明與這兩個國家的聯盟沒有什麼實效。由於彼得大帝無所依靠，只能憑藉自己的武力作戰，結果在納爾瓦戰役中被英勇的瑞典王查理斯十二世擊敗。但彼得並沒有因為戰敗而氣餒，他組建、裝備新的陸軍；他投入巨大精力組建了一支精良的炮兵部隊；他親自督造護衛艦[軍艦]，志在征服波羅的海。之後，他指揮紀律嚴明、訓練有素的兵團佔據了涅瓦[河]河口，確立了自己在這個夢寐以求[渴望]的沿岸地區的地位。1709 年 6 月 27 日，他在波爾塔瓦戰役中戰勝了他的強大對手，查理斯十二世。...

資料來源：Constantine de Grunwald, "A Window on the West," in Christopher Hibbert, ed., *The Pen and the Sword*, Newsweek Books (經改編)

*道路：一處比港灣更為開放、可供船舶錨泊的地方

4a 根據格林瓦勒德 (Constantine de Grunwald)，彼得大帝希望藉由對瑞典發動戰爭獲得什麼？ [1]

Score

b 根據格林瓦勒德，在納爾瓦戰役失利之後，彼得大帝採取哪一個行動以重新崛起？ [1]

Score

文件 5

... 1722 年，經過三個世紀的演進之後，官階表制度的建立終於使此過程有了合理的結果。它迫使各個階級的貴族都必須終生為國家服務。它在陸軍、海軍和政府官員體系中建立了十四個同等階級，並規定連出身顯赫的王子也要從最低一級做起，靠功績晉升。這種官階表制度使任何為國家服務的人得以享受原本僅屬於貴族的特權，根據個人對國家的貢獻決定應得的特權。...

資料來源：Peter Brock Putnam, *Peter, The Revolutionary Tsar*, Harper & Row, Publishers

5 根據普特南 (Peter Brock Putnam)，官階表的引入以何種方式削弱舊貴族的勢力？ [1]

Score

文件 6

... 彼得大帝對俄羅斯產生了多大的影響？ 當他即位之初，俄羅斯還是一個微不足道的小國。在他統治之下，俄羅斯成為令他國膽戰心驚的強權。在他登基[執掌政權]之時，俄羅斯除了一些低效且令人無法信任的射箭者[世襲的軍隊單位]之外，並沒有什麼武裝部隊。而當他去世時，俄羅斯已經擁有一支 210,000 人的專業軍隊。他從無到有創建了海軍，留下一支擁有四十八艘艦艇的艦隊和為數眾多的較小船隻。...

彼得顯然[顯而易見]沒能創造出俄羅斯所極需的一個數量龐大、蓬勃發展的中產階級。儘管付出了最大的努力，俄羅斯的工商業仍然依賴於這個沙皇；所以當他去世時，俄國缺乏富裕且具有遠見的工商界人士繼續發展他所開創的事業。直到 1917 年共產主義革命爆發之前，私有商業活動和企業的匱乏一直是俄羅斯社會最為突出的弱點之一。...

資料來源：Michael Gibson, *Peter the Great*, Wayland Publishers

6 根據吉布森 (Michael Gibson)，彼得大帝統治俄國時期產生的**兩個**影響是什麼？ [2]

(1) _____

Score

(2) _____

Score

文件 7

路易國王如何管理貴族

... 讓貴族服從國王，聽起來可能有些可笑。路易國王在巴黎近郊的凡爾賽建了一座輝煌的新宮殿，堪稱歐洲有史以來最美麗的宮廷。那些最有權勢的貴族早已厭倦了枯燥的生活，他們被鼓勵，甚至被命令離開他們的城堡，來到凡爾賽王宮與國王共同居住。國王在此處為他們提供娛樂，同時也對他們進行監視。貴族們住在國王的宮殿，吃著國王的美食，當然不會對國王有任何不禮貌、不順從之舉。久而久之，路易的貴族賓客們在不知不覺中養成了取悅國王的習慣。大家模仿著國王的舉止，重複著國王所說的話。國王微笑，眾人都微笑；國王憂傷，眾人都憂傷；「國王虔誠時，眾人都虔誠；國王生病時，眾人都因自己沒有生病而感到遺憾。」如果一名貴族在宮廷裡令國王不悅，他將被遣送回鄉下，住在自己的房子裡。當這種情況發生時，所有人—和他自己—都會覺得，這乃是奇恥大辱。...

資料來源：Carl L. Becker, *Modern History*, Silver, Burdett and Company

7 根據貝克 (Carl Becker)，路易十四企圖透過哪一種方式來控制貴族？ [1]

Score

文件 8

... 漸漸地，路易國王試圖對宗教事務進行統一。在 17 世紀 80 年代，他加劇對新教徒的迫害；他的行動使[南特]詔書變成了一紙空文。最後，他在 1685 年宣佈大多數法國新教徒已經皈依天主教，因此再也不需要實行該詔書了。因此該詔書被撤銷。

此時，路易展開了他的恐怖統治。他拒絕讓法國新教徒離開法國。他承諾那些人仍可私下信仰新教，並且不會遭到迫害，但他從來沒有履行他的諾言。他們的教堂被拆毀，他們的集會遭到禁止，他們的子女被強迫參加彌撒。瓦勒度教派的信眾在薩伏伊遭到屠殺，六百名新教徒因「被發現進行集會」而遭到處決。約有二十五萬人逃往國外，以逃避迫害。...

資料來源：Milton Meltzer, *Ten Kings and the Worlds They Ruled*, Orchard Books

8 根據梅爾策 (Milton Meltzer)，路易十四採取哪一個行動企圖控制法國的新教徒？ [1]

Score

文件 9

在這段節錄中，塔奇曼 (Barbara Tuchman) 評論路易十四對胡格諾派所採取之政策的影響。

... 最近 [20 世紀 60 年代和 70 年代] 的學術研究得出這樣一個結論，胡格諾派 [法國新教徒] 的外遷對法國經濟造成的損失被高估了，這只不過是戰爭所造成的巨大損失的其中一個因素而已。但是，政治方面的損害是無庸置疑的。胡格諾派教徒及其友人在他們定居的各城鎮印製並散發大量反對法國的傳單和諷刺文字，使得對法國的反對情緒愈演愈烈。布蘭登堡與荷蘭結成同盟，而較小的德意志公國也加入其中，從此對抗法國的新教聯盟的勢力大增。在法國，新教信仰反因迫害死灰復燃，與天主教徒的仇隙再起。在南部山區賽文斯山脈地區，加米薩胡格諾派的長期反抗引發殘酷的壓迫戰爭，削弱了法國的力量。此處和在法國其他地區活動的胡格諾群體成為日後法國革命的起源之地。...

資料來源：Barbara W. Tuchman, *The March of Folly: From Troy to Vietnam*, Alfred A. Knopf, 1984

9 根據塔奇曼，路易十四對胡格諾派的政策產生了哪一種政治影響？ [1]

Score

B 部分

論文題

答題說明：撰寫一篇條理分明的論文，包括引言、幾個段落、以及結論。在你的論文中，引述取自最少**四份**文件的證據。引用相關事實、例證及細節來支持你的答案。包括其他的外部資料。

歷史背景：

縱觀歷史，專制統治者往往對他們的國家和人民的生活行使威權。專制統治者的行為為他們的國家和人民帶來了益處，也造成了傷害。這些統治者包括**秦始皇**、**沙皇彼得大帝**以及**國王路易十四**。

任務：運用文件資料和你的世界歷史知識撰寫一篇論文，在這篇論文中

指出歷史背景中提到的**兩位**統治者，並且對於**每一位**統治者

- 描述這位統治者所採取的行動如何顯示他是一位專制統治者
- 論述這位統治者運用專制權力在何種程度上為他的國家或人民帶來了利益**和/或**傷害

指南：

在你的論文中，請務必

- 闡述任務的各個方面
- 綜合來自至少**四份**文件的資料
- 綜合相關的外部資料
- 引用相關事實、例證及細節來支持主題
- 須合乎邏輯、條理分明，包括一個不只是重複主題的引言和結論

REGENTS EXAM IN GLOBAL HISTORY AND GEOGRAPHY CHINESE EDITION

採用再生紙印製

REGENTS EXAM IN GLOBAL HISTORY AND GEOGRAPHY CHINESE EDITION