



REGENTS HIGH SCHOOL EXAMINATION

世界歷史 和地理

僅限用於 2013 年 6 月 13 日 (星期四) 上午 9 時 15 分至下午 12 時 15 分

學生姓名 _____

學校名稱 _____

在本考試中，嚴禁持有或使用任何形式的通訊工具。如果你持有或使用了任何的通訊工具，無論多短暫，你的考試都將無效，而且不會得到任何分數。

請用工整字跡在以上直線上填寫你的姓名和學校名稱。一份分開的第 I 部分專用答題紙會發給你。請遵循監考老師的指示在答題紙上填寫學生資料 然後再填寫論文題本的每一抬頭。

本次考試共有三個部分。你必須回答每一部分的**所有**考題。請用黑筆或藍筆作答第 II 部分、第 III A 部分和第 III B 部分。

第 I 部分包括 50 道選擇題。根據指示將答案記錄在答題紙上。

第 II 部分包括一道以主題為主的論文題。請在論文本上寫下你對這個問題的答案，從第 1 頁開始。

第 III 部分基於幾份文件：

第 III A 部分包含這些文件。請務必在這部分的第一頁上填寫你的姓名和學校名稱。

每一文件後有一個或一個以上的問題要回答。在本考題本上，將各題的答案寫在各問題後面的直線上。

第 III B 部分包含一個基於這些文件的論文題。請在論文本上寫下你對這個問題的答案，從第 7 頁開始。

在本次考試結束後，你必須簽署印在答題紙最後的聲明，表明在考試之前你沒有非法得到本考試的試題或答案，並且在本考試中沒有給予過或接受過任何的幫助。你如果不簽署本聲明，你的答題紙將不會被接受。

未經指示請勿打開本考題本。

第 I 部分

請回答本部分的所有問題。

答題說明 (1–50)：對於每個陳述或問題，在分開的答題紙上寫下所提供的、最佳完成陳述或回答問題的詞或語句的編號。

依據下文和你的社會學知識來回答第 1 題。

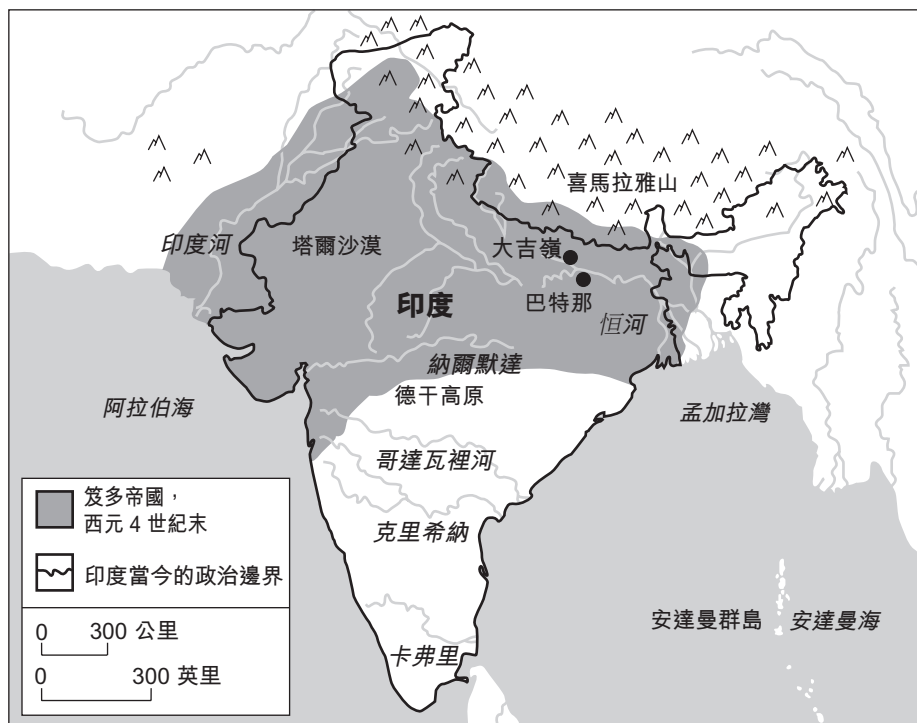
... 歐洲的水路也有得天獨厚的條件。河流緩緩流入不受風雨侵襲的適航海灣。萊茵河河面寬廣，流速緩慢，可作為貨運和客運的幹線。地中海風平浪靜，有如湖泊一般，周圍有許多大型港口。與非洲相比。儘管非洲是世界第二大洲，但是海岸線卻最短，而且大多太淺而無法建造主要港口。大多數的大河流速湍急、陡峭刺激而令人目眩[頭暈]並不適於航行。此外，非洲地處熱帶，天氣炎熱，有疾病蔓延和食物腐爛變質的傾向[趨勢]，所以從地理學的角度來解釋非洲發展落後的原因很有說服力；當然這並不是唯一的原因，但卻是很顯著的一個原因。...

— Fareed Zakaria, *The Post-American World*,
W. W. Norton & Company, 2008

- 1 這段話最能支持以下有關這些大洲的地理情況的哪項結論？
- (1) 歐洲和非洲的氣候條件相同。
 - (2) 歐洲和非洲有許多深水大港。
 - (3) 歐洲和非洲的水路都有得天獨厚的地理條件。
 - (4) 河流系統促進了歐洲的發展，卻阻礙了非洲的發展。
-
- 2 書面歷史材料中的觀點和偏見，說明我們需要意識到
- (1) 抄襲
 - (2) 轉捩點
 - (3) 人權
 - (4) 不同的觀點
- 3 哪類社會學家主要研究資源的缺乏以及貨物和服務的分佈？
- (1) 人類學家
 - (2) 政治學家
 - (3) 經濟學家
 - (4) 歷史學家

- 4 西元前 500 年至西元 1500 年之間，非洲班圖人的遷徙導致了什麼的傳播
- (1) 語言和冶金技術
 - (2) 瓷器和火炮
 - (3) 駱駝和回教
 - (4) 楔形文字和大槳船
- 5 漢朝和西羅馬帝國衰落的一個共同原因是什麼？
- (1) 不同宗教團體之間爆發戰爭
 - (2) 無法擊退外國侵略者
 - (3) 中產階級努力獲得權力
 - (4) 缺少通用的貨幣
- 6 《十誡》(Ten Commandments)、《八正道》(Eightfold Path) 和《信仰五支柱》(Five Pillars of Faith) 的作用是
- (1) 為追隨者提供生活的指導
 - (2) 建立司法體系
 - (3) 使社會各階層之間等級分明
 - (4) 為政府工作人員提供規範
- 7 以下列哪項關於早期印度河流域文明的陳述是觀點而非事實？
- (1) 農人種植的大麥、小麥和棗子有盈餘。
 - (2) 印度河流域的人發明了一套書寫系統。
 - (3) 規劃的城市表明技術的使用。
 - (4) 印度河流域的城邦國家是當時最為發達的地區。
- 8 西里爾字母和東正教傳入俄國與以下什麼最密切相關
- (1) 維京人的征服
 - (2) 拜占庭的傳教士
 - (3) 亞歷山大大帝的軍隊
 - (4) 奧圖曼帝國的擴張

依據以下地圖和你的社會學知識來回答第 9 題。



資料來源: MSN Encarta Encyclopedia (經改編)

9 哪項地理特徵最有可能阻礙了笈多王朝擴張到如今的中國？

- (1) 塔爾沙漠
- (2) 德干高原
- (3) 喜馬拉雅山脈
- (4) 孟加拉灣

10 歐洲商業革命的一個後果是什麼？

- (1) 香料貿易的沒落
- (2) 羅馬教廷遭到破壞
- (3) 資本主義的發展
- (4) 對以貨易貨的依賴性增強

11 • 佔領迦納

- 在芒薩姆薩 (Mansa Musa) 的統治下經歷了黃金時期
- 在廷巴克圖建立了清真寺和學校

哪項文明與這些描述最直接相關？

- (1) 阿克蘇姆
- (2) 貝寧
- (3) 庫什
- (4) 馬利

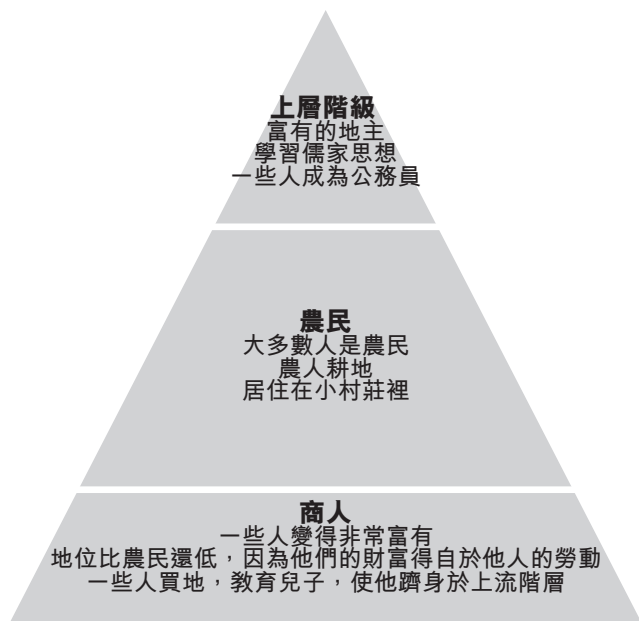
12 馬丁·路德 (Martin Luther) 的《九十五條論綱》(Ninety-five Theses) 與亨利八世《至尊法案》(Act of Supremacy) 的一個相似之處在於二者都

- (1) 強調聖經的重要性
- (2) 引發了三十年戰爭
- (3) 挑戰天主教教會的權威
- (4) 促進了基督教的統一

13 馬基維里 (Niccolò Machiavelli) 所著的《君主論》(The Prince) 指導了什麼的成功

- (1) 家庭生活
- (2) 政治
- (3) 經濟事業
- (4) 學術

依據下圖和你的社會學知識來回答第 14 題。



資料來源: Goldberg and DuPré,
Brief Review in Global History and Geography,
Prentice Hall, 2002 (經改編)

- 14 這張圖最能說明哪項概念？
- (1) 朝代更替 (3) 社會階層
(2) 行會制度 (4) 文化傳播
-
- 15 哪個事件標誌了 1453 年奧圖曼帝國的權力崛起？
- (1) 穆罕默德 (Muhammad) 誕生
(2) 征服君士坦丁堡
(3) 圍攻維也納
(4) 撒拉丁 (Saladin) 去世
- 16 恢復中國統治、鄭和下西洋、恢復科舉制度都與什麼有關
- (1) 明朝 (3) 桑海帝國
(2) 阿拔斯王朝 (4) 德里蘇丹國
- 17 凱薩琳大帝 (Catherine the Great) 採取的哪項措施與啟蒙運動的思想是一致的？
- (1) 下令焚書
(2) 加強農奴制
(3) 將俄羅斯邊境擴張至烏克蘭
(4) 考慮推行主張人人平等的法典

- 18 哪項陳述最能描述遭遇時期的阿茲特克文明？
- (1) 小型的游牧部族爭奪食物。
(2) 各個種族團體在立法機關都有代表。
(3) 缺少社會等級結構導致生活條件不穩定。
(4) 先進的農業實踐支持大型城市中心的發展。

- 19
- 美洲被稱為「新世界」。
 - 東亞被稱為「遠東」。
 - 西南亞被稱為「中東」的一部分。

這些區域的名稱最能代表誰的觀點？

- (1) 中國人 (3) 歐洲人
(2) 非洲人 (4) 印度人

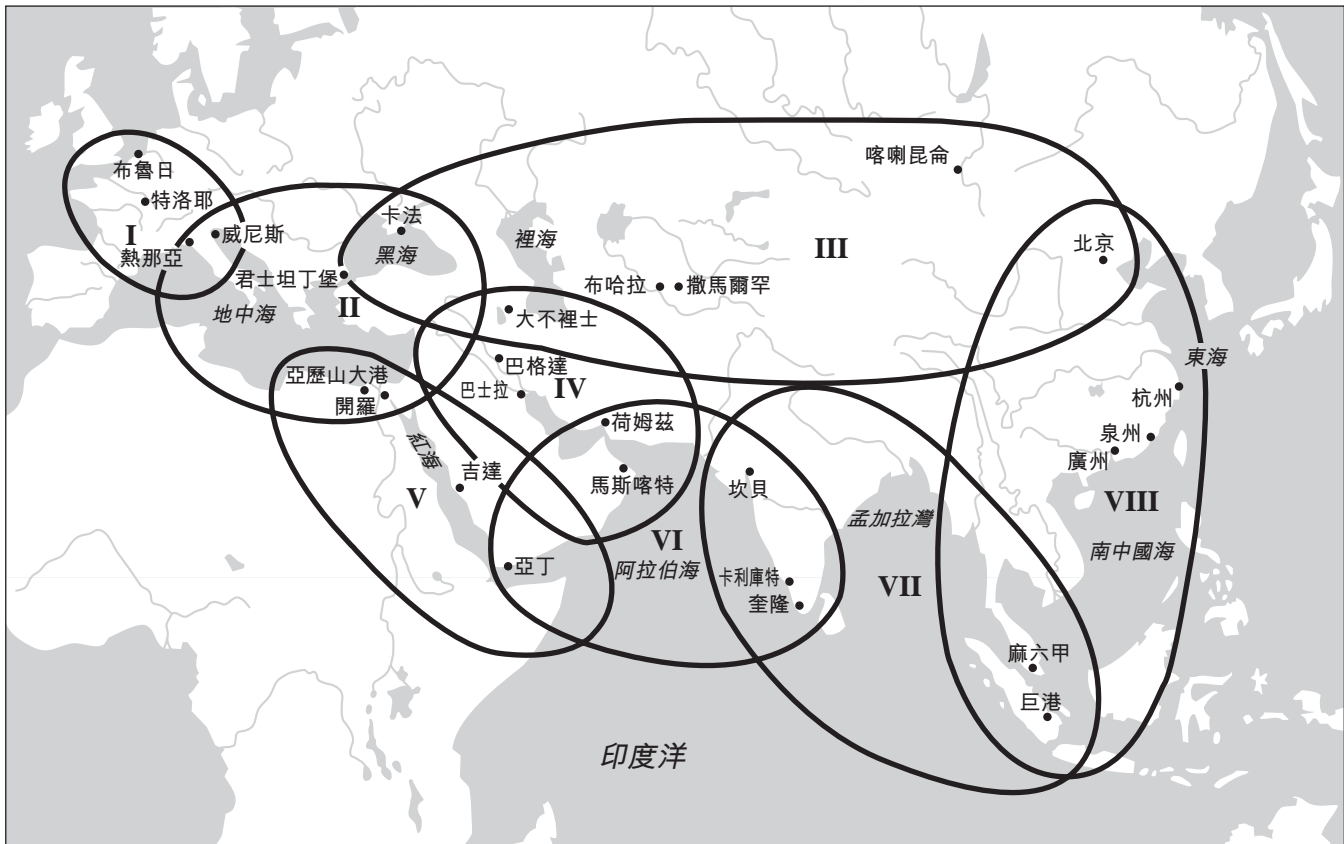
- 20 為什麼天主教是拉丁美洲的主要宗教？
- (1) 西班牙佔領了拉丁美洲的大部分地區並且在當地殖民。
(2) 教皇解決了拉丁美洲國際邊界的爭端。
(3) 非洲人的傳統觀念融入進了拉丁美洲的文化中。
(4) 教會為拉丁美洲提供了強大的中央政府。

- 21 哪項地理特徵阻礙了西蒙·玻利瓦爾省軍隊的進程？
- (1) 撒哈拉沙漠 (3) 東非大裂谷
(2) 安地斯山脈 (4) 麻六甲海峽

- 22 18 世紀英國工業革命與 19 世紀愛爾蘭馬鈴薯萎黃病的一個相似之處在於它們都直接導致了
- (1) 大規模的人類遷徙
(2) 財富分配更為公平
(3) 自給農民人數增加
(4) 糧食生產迅速增長

依據以下地圖和你的社會學知識來回答第 23 題和第 24 題。

13 世紀世界體系的八個環路



資料來源: Janet L. Abu-Lughod, *Before European Hegemony: The World System A. D. 1250-1350*, Oxford University Press, 1989 (經改編)

23 依據這幅 13 世紀世界體系地圖，以下哪一個環路僅限於一個大洲？

- (1) I (2) II (3) V (4) VI

24 這幅地圖上的資訊說明貿易使這些區域成為

- (1) 軍國主義 (2) 相互依存 (3) 孤立主義 (4) 種族中心主義


25 日本在明治維新期間採取了哪項行動？

- (1) 建立有益於武士的社會體系
(2) 派專家前往先進的西方國家學習
(3) 允許共產主義思想統治政府
(4) 推行宏偉的計劃以驅逐外國製造商

26 19 世紀後半葉，歐洲國家爭奪非洲控制權的主要原因是什麼？

- (1) 非洲擁有豐富的自然資源。
(2) 美洲需要奴隸做勞役。
(3) 非洲國家提供了宗教和政治自由。
(4) 歐洲需要為過剩的人口提供土地。

依據以下的漫畫和你的社會學知識來回答第 27 題。



最棒的縮減劑

資料來源: Ket, *Literary Digest*, September 27, 1919 (經改編)

27 這幅漫畫指的是哪次戰爭後發生的事件？

- | | |
|----------|-------------|
| (1) 普法戰爭 | (3) 第一次世界大戰 |
| (2) 日俄戰爭 | (4) 第二次世界大戰 |

28 全世界的工人階級聯合起來推翻壓迫者的信念是哪一種思想的核心

- (1) 社會達爾文主義
- (2) 馬克思主義
- (3) 保守主義
- (4) 自由放任的資本主義

29 勢力範圍、治外法權和委任統治等詞彙與什麼最密切相關

- | | |
|----------|----------|
| (1) 集體安全 | (3) 帝國主義 |
| (2) 軍國主義 | (4) 自給自足 |

30 歐洲在 20 世紀 30 年代的經濟不穩定性導致了

- (1) 法西斯專政崛起
- (2) 核武器發展
- (3) 放棄殖民地
- (4) 國際聯盟成立

依據下文和你的社會學知識來回答第 31 題和第 32 題。

對危害世界和平的罪行進行歷史上的第一次審判的特權具有重大的責任。這些罪行經過了精心的謀劃，邪惡卑鄙，極具破壞性，我們要進行譴責和懲罰。如果這樣的罪行重演，文明將被湮沒，因此決不能容忍這些罪行被忽視。四個偉大的戰勝國，滿懷勝利的喜悅，也承載著傷痛，阻止[停止]了復仇之手，他們自願將手中的戰俘交由法律判決處理，這是權力向理性獻上的最重要的貢品之一。...

— Chief Prosecutor Robert H. Jackson,
November 21, 1945, Nuremberg

31 這段話中所指的罪行包括

- (1) 義大利佔領衣索比亞
- (2) 蘇聯入侵阿富汗
- (3) 在集中營中屠殺猶太人和其他種族
- (4) 美國士兵在巴丹死亡行軍中死亡

32 發言者主張審判的指導原則將是

- (1) 支付賠償
- (2) 否認責任
- (3) 慶祝勝利
- (4) 法律判決

依據以下照片和你的社會學知識來回答第 33 題和第 34 題。

甘地 (Mohandas Gandhi)



資料來源：Stanley Wolpert, *Gandhi's Passion: The Life and Legacy of Mahatma Gandhi*, Oxford University Press

凱末爾 (Kemal Atatürk)



資料來源：Mustafa Kemal Atatürk, Compiled by İlhan Akşit, Istanbul (經改編)

33 印度的甘地 (Mohandas Gandhi) 和土耳其的凱末爾 (Mustafa Kemal Atatürk) 所穿的服裝表明這些領袖希望

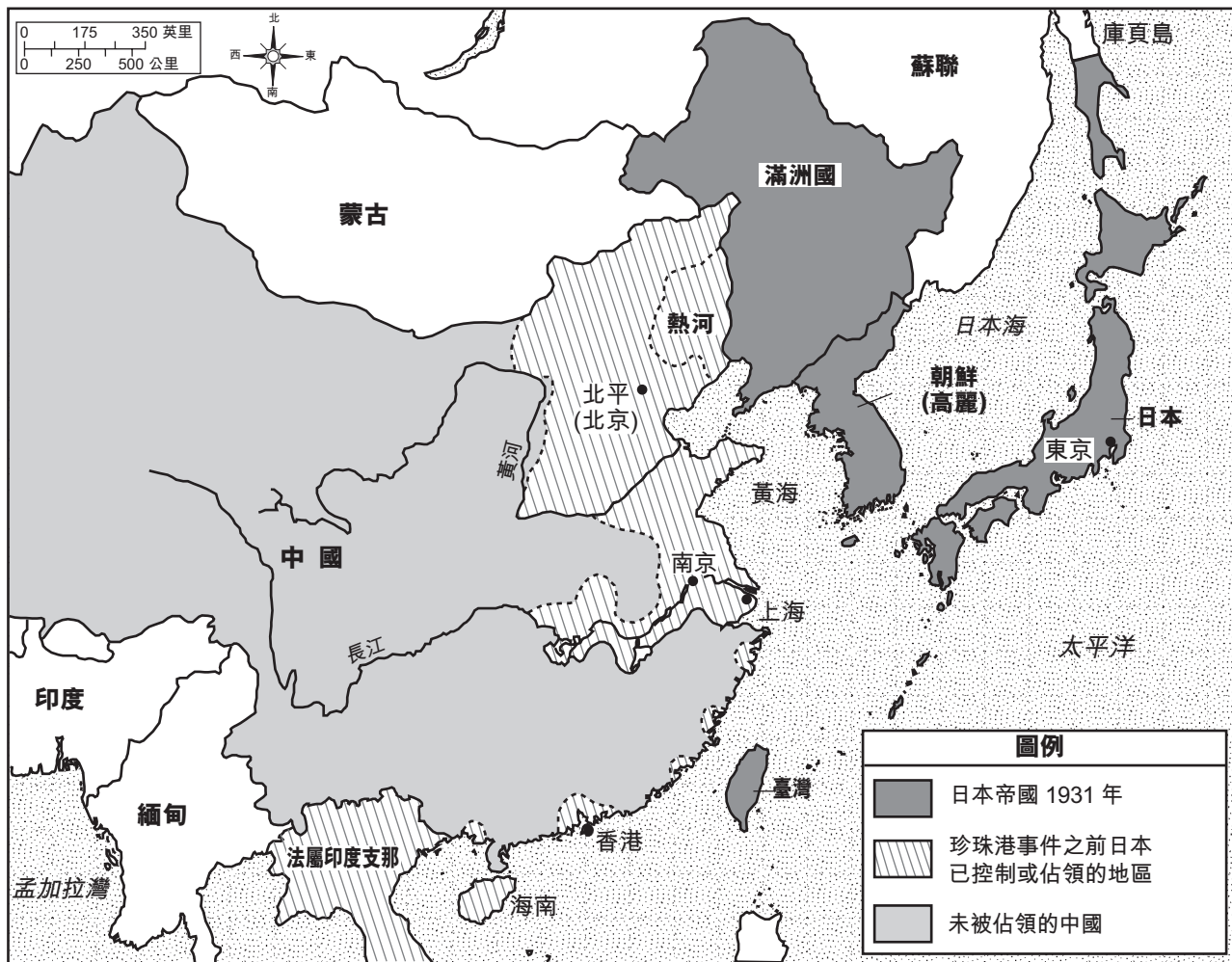
- (1) 符合傳統的宗教信仰
- (2) 適應城市生活的文化規範
- (3) 抗議共產主義統治的壓迫
- (4) 向他們各自的國家表明政治立場

34 這兩位領袖都因他們獻身於什麼而聞名

- | | |
|--------------|--------------|
| (1) 伊斯蘭原教旨主義 | (3) 非暴力不合作主義 |
| (2) 民族主義運動 | (4) 五年計劃 |

依據以下地圖和你的社會學知識來回答第 35 題。

日本帝國的成長，1931 年至 1941 年



資料來源: *Historical Maps on File, Revised Edition, Volume II, Facts on File* (經改編)

35 依據這幅地圖上提供的資訊，日本帝國的崛起對中國產生了怎樣的影響？

- (1) 中國獲得了日本的軍事技術。
- (2) 中國入侵了法屬印度支那。
- (3) 中國被迫接受韓國文化。
- (4) 中國失去了許多東部海港的控制權。

36 古巴歷史上最 早發生哪一件事

- (1) 美國強行對古巴實施海軍檢疫。
- (2) 蘇聯在古巴建立了導彈基地。
- (3) 卡斯楚 (Fidel Castro) 在古巴強行奪取政權。
- (4) 古巴的共產主義政府奪取了外國資產。

37 建立歐洲聯盟 (EU) 和北美自由貿易協定 (NAFTA) 的目的都在於

- (1) 藉由削減關稅而使會員國受益
- (2) 推行可持續的能源政策
- (3) 建立公正的法院系統
- (4) 成立更強大的區域性軍事聯盟

依據以下的漫畫和你的社會學知識來回答第 38 題。



資料來源: Cox & Forkum, Cox & Forkum Editorial Cartoons online, November 21, 2004 (經改編)

38 這幅 2004 年漫畫中的焦點問題是什麼？

- (1) 全球暖化
- (2) 全球移民
- (3) 種族關係緊張
- (4) 核擴散

- 39 • 美國對土耳其提供援助 (1947 年)。
• 蘇聯資助埃及的阿斯旺大壩 (1956 年)。
• 美國支持伊拉克的政變 (1963 年)。

從冷戰期間發生的事件中可以得出哪一項關於中東地區的結論？

- (1) 它是蘇聯的重要同盟。
- (2) 它採取了綏靖政策。
- (3) 它成為超級大國之間的戰略競爭之地。
- (4) 它允許聯合國制定該地區的外國政策。

40 翁山蘇姬 (Aung San Suu Kyi) 在哪個地理區域努力進行民主改革？

- (1) 東南亞
- (2) 中東
- (3) 中亞
- (4) 西非

依據下文和你的社會學知識來回答第 41 題。


... 奈及利亞曾被其他年輕的非洲民主國家看成是典範，但是也曾因四個主要部族之間持續的仇恨[敵意]而被壓垮：北方的回教豪薩人與胡蘭尼人，西方的約魯巴人與東方聰明的伊博人。1966 年 1 月，在獨立後第五年，東方的陸軍軍官帶領的部隊顛覆了阿布巴卡爾爵士 (Sir Abubakar Tafawa Balewa) 統治的北方政權，暴露了這些古老競爭對手的痛處。北方人對此政變進行了反擊，成立了戈翁將軍 ([General Yakubu] Gowon) 的新政府，而在成千上萬居住在北方的伊博人遭到屠殺之後，他們被壓抑已久的憤怒終於爆發了。...

— Time, June 9, 1967

41 這段話說明種族忠誠對什麼的影響

- (1) 維持殖民統治
- (2) 維持不結盟
- (3) 實現國家統一
- (4) 維護傳統宗教

依據以下漫畫和你的社會學知識來回答第 42 題和第 43 題。



資料來源：Godfrey Mwampembwa, *Nation*, Nairobi, Kenya, March 5, 2005

- 42 這幅漫畫的中心思想是那些最有能力協助貧窮國家的國家
- (1) 承擔了太多責任
 - (2) 提供極少的幫助
 - (3) 提供強大的力量
 - (4) 同意共同負擔責任

- 43 這幅漫畫的其中一個目的在於
- (1) 喚醒公眾意識
 - (2) 解釋外國方案
 - (3) 為中立主義辯護
 - (4) 暴露環境問題

44 漢摩拉比和查士丁尼的一個相似之處是他們都成功地

- (1) 建立了公共教育體系
- (2) 將帝國法律編成法典
- (3) 建立了民主政府
- (4) 使教權和政權分離

45 《南京條約》和《凡爾賽條約》的一個相似之處在於兩項條約的條款都要求

- (1) 君主回到應有的位置上
- (2) 戰敗國應支付賠款
- (3) 維持現有的邊界
- (4) 成立維護和平的組織

46 中國的長城和柏林圍牆都旨在

- (1) 阻止共產主義的蔓延
- (2) 孤立不得人心的政府
- (3) 限制人民運動
- (4) 禁止走私非法物品

47 伊達爾戈 (Miguel Hidalgo)、胡志明 (Ho Chi Minh) 和喬莫·肯雅塔 (Jomo Kenyatta) 的相似處之一是他們都是

- (1) 獨立運動領袖
- (2) 共產主義獨裁者
- (3) 開明的專制君主
- (4) 解放神學的擁護者

48 哪個標題最好地完成了下面的部分大綱？

I. _____

- A. 分權政府
- B. 莊園制度的廣泛運用
- C. 羅馬天主教會的權力增加

- (1) 西班牙收復失地的結果
- (2) 封建時期歐洲的特徵
- (3) 義大利城邦國家的基本特質
- (4) 光榮革命的後果

49 哥倫布大交換與什麼的興起最密切相關

- (1) 重商主義
- (2) 人本主義
- (3) 大規模生產
- (4) 科學社會主義

50 哪一種政府形式與蘇萊曼大帝 (Suleiman the Magnificent) 阿克巴大帝 (Akbar the Great) 和彼得大帝 (Peter the Great) 的統治相關？

- (1) 君主立憲制度
- (2) 直接民主
- (3) 神權政治
- (4) 絕對君主

論文題的答案應填寫在分開的論文本上。

在回答第 II 部分的問題時，請注意以下一般性定義：

- (a) **描述**指「用文字闡述或陳述」
- (b) **論述**指「透過事實、推理和論證來對某件事發表意見；加以詳述」

第 II 部分
主題論文題

答題說明：撰寫一篇條理分明的論文，包括引言、解決以下任務的幾個段落、以及結論。

主題：改變—革命

縱觀歷史，革命在多種情況下應運而生。這些革命通常會導致重大的政治、經濟和社會變革。

任務：

選擇**兩個**革命，並且對於**每個**革命

- 描述引發此次革命的歷史環境
- 論述此次革命的政治、經濟**和/或**社會影響

你可以使用在學習世界歷史和地理時所學到的任何革命。你不妨考慮的一些建議包括新石器革命、法國大革命、海地革命、工業革命、俄國革命、墨西哥革命、中國文化大革命和農業的綠色革命。

你不必侷限於以上建議。

在您的答案中不要使用美國歷史中的革命。

指南：

在你的論文中，請務必

- 闡述任務的各個方面
- 引用相關事實、例證及細節來支持主題
- 須合乎邏輯、條理分明，包括一個不只是重複主題的引言和結論

第 III 部分

基於文件題

本問題是基於隨附的文件。該問題的設計是為了測驗你運用歷史文件的能力。其中一些文件是為這個問題編輯的。當你分析文件時，請參考每份文件的來源及文件中所論述的任何觀點。

歷史背景：

蒙古人將弓和馬鐙結合使用、西班牙人使用輕帆船以及印度出現鐵路等科技進步對特定的文明與社會之間的互動產生了影響。這些互動造成了改變。

任務：運用文件資料和你的世界歷史知識，回答 A 部分每一份文件後面的問題。你對這些問題的回答將有助於撰寫 B 部分的論文，在這篇論文中，你將被要求

指出歷史背景中提到的**兩項**科技進步，並且對於**每一項**科技進步

- 說明此項技術進步如何對特定的文明或社會與其他團體之間的互動產生影響
- 論述這些互動所造成的改變

在回答第 III 部分的問題時，請注意以下一般性定義：

- (a) **說明**指「使其平實易懂；提供原因或理由；顯示發展之邏輯或關係」
- (b) **論述**指「透過事實、推理和論證來對某件事發表意見；加以詳述」

A 部分 簡答題

答題說明：分析以下文件，在所提供的空白處上回答每份文件後的簡答題。

文件 1a



資料來源：Mou-Sien Tseng, painting, New Masters Gallery online (經改編)

文件 1b

... 蒙古人發展出由筋和角製成的複合弓，並且擅長在騎馬時射擊，在與普通步兵作戰時佔了上風。這種弓的射程超過 350 碼，明顯優於當時[同期]射程僅為 250 碼的英國長弓。木頭與皮革製的馬鞍上塗抹羊脂以防龜裂或收縮，可以使馬長時間地承受騎士的重量，也可以使騎士的座位保持牢固。他們的鞍囊中有鍋、乾肉、優酪乳、水瓶和其他長途跋涉時的必需品。最後，堅固的馬鐙使騎士在馬上騎得更穩，因此射擊時更為精準。一名中國編年史學家體認到馬對蒙古人的價值，表示「他們[蒙古人]天生擅於騎射。因此他們可以憑藉弓和馬的優勢征服世界。」...

資料來源：Morris Rossabi, "All the Khan's Horses," *Natural History*, October 1994

1a 依據這些文件，馬鐙為蒙古武士帶來哪些好處？ [1]

Score

b 依據這些文件，蒙古人可以藉由將複合弓與馬鐙的技術相結合來做什麼？ [1]

Score

文件 2

... 儘管蒙古人在西征途中造成[帶來]了很多破壞，但是他們對歐洲的突擊[襲擊]和對回教地區的佔領也帶來一些好處。例如，他們教給了他們的土耳其和歐洲敵人新的作戰方法，向他們展現了火藥的威力。

正如我們所見的，蒙古人的征服促進[輔助]了歐亞大陸兩端的文明之間的貿易，使得食物、工具和思想能夠以前所未有的規模進行交流。復興的貿易路線為商人帶來了巨大的財富，例如在地中海東部、黑海沿岸、向東遠至裡海設立貿易站的北方義大利商人。由於威尼斯人和熱那亞人所建立的這些貿易帝國為後來葡萄牙人和英國人的海外擴張提供了先例[例子]，因此它們在全球歷史中具有特別的重要性。...

資料來源：Robert Guisepi, "The Last Great Nomadic Challenges - From Chinggis Khan to Timur,"
The Mongols, International World History Project online

- 2 根據羅伯特·顧瑟比 (Robert Guisepi) 的觀點，歐洲人和蒙古人之間的互動所造成的一個改變是什麼？ [1]

Score

文件 3

... 信仰基督教的歐洲與蒙古亞洲之間的外交交流使西方目擊者首次對遙遠的東亞有了親身體認。西方歐洲人第一次見識到歐亞大陸真正的幅員和範圍；他們接觸到不同的文化、信仰、價值觀、態度和制度；因此教皇和歐洲被迫揚棄他們狹隘的宗教地理觀；他們開始認識到自己必須與非基督教世界打交道並且建立關係，這些國家有著許多不同的人民、宗教和文化。歐洲人逐漸地在事物的自然秩序中給蒙古人和其他亞洲人分配了一片永久之地；歐洲人最初用狹隘的基督教觀點來理解世界和世界上所有的人，他們不再試圖強迫所有人都要從聖經中找到特定的位置或角色了。西方人認識到，他們不能僅僅因為世界上其他地方的人不信仰基督教就拒絕承認或拒絕與他們打交道，[而且]他們也不能忽視和假裝所有非基督教的人或文化是不存在的。因此，在 13 與 14 世紀，蒙古人和亞洲人融入了西方的知識架構中。...

資料來源：Gregory Guzman, "Christian Europe and Mongol Asia: First Medieval Intercultural Contact Between East and West," *Essays in Medieval Studies, Volume 2*, Proceedings of the Illinois Medieval Association online

- 3 根據格雷戈瑞·古茲曼 (Gregory Guzman) 的觀點，蒙古人對歐洲人的世界觀造成的一個影響是什麼？ [1]

Score

文件 4a

輕帆船



資料來源: George R. Schwarz,
Center for Maritime Archaeology and Conservation,
Texas A & M University (經改編)

文件 4b

輕帆船的優勢	輕帆船的使用
<ul style="list-style-type: none">• 快速• 機動性高• 易於在淺水中航行• 可以使用橫帆順風航行	<ul style="list-style-type: none">• 承載貨物• 作戰• 海盜• 探索美洲

4 依據這些文件，輕帆船對歐洲與其他群體的互動產生影響的 **兩種**方式是什麼？ [2]

(1) _____

Score

(2) _____

Score

文件 5

... 一切都源起於伊斯帕尼奧拉島[海地]上的蔗糖，蔗糖早在 15 世紀加那利群島和葡萄牙的大西洋島嶼上就已經是一種有利可圖的種植園作物。1478 年，哥倫布 (Columbus) 他自己便已將蔗糖從馬德拉島運往熱那亞，他的第一任妻子的母親在那座島上擁有一個蔗糖種植園。他於 1493 年將甘蔗帶往伊斯帕尼奧拉島，甘蔗在美洲的土壤上生長良好。但是製糖業卻一直發展緩慢，直到查理五世 (Charles V) 干預，下令從加那利群島聘僱技藝高超的製糖業者和製糖廠技術員，並授意發放貸款在伊斯帕尼奧拉島上建立製糖廠。到 16 世紀 30 年代後期，島上有 34 家製糖廠，蔗糖是島上經濟的兩大主要支柱之一（另一個是養牛），直到 16 世紀後半葉。...

資料來源：Alfred W. Crosby Jr., *The Columbian Exchange: Biological and Cultural Consequences of 1492*, Greenwood Publishing (經改編)

- 5 根據艾爾弗雷德·克羅斯比 (Alfred W. Crosby) 的觀點，西班牙在伊斯帕諾拉島殖民地化的一個影響是什麼？ [1]

Score

文件 6

... 種植甘蔗成為大型業務。起先，美洲原住民被迫在蔗糖種植園中勞動，這是種植園所有人或監工所經營的大型莊園。他們受到虐待，許多人因此死去。然後西班牙人從非洲帶來奴隸從事勞務。

形成了一種新的社會結構。西班牙出生的人具有最高的社會階級。出生在殖民地的歐洲人後裔位居其次。歐洲人和印第安人或非洲人的混種後裔居於中間。美洲原住民和非洲人的後裔處於最低階層。...

資料來源：*Guide to the Essentials of World History*, Prentice Hall

6 依據此文件，美洲與西班牙的互動所造成的**兩個**改變是什麼？ [2]

(1) _____

Score

(2) _____

Score

文件 7a



資料來源: Ashok K. Dutt et al., *India in Maps*,
Kendall/Hunt Publishing Company (經改編)

文件 7b

鐵路時代發揮了重要的作用並且支持了帝國主義新時期的發展。

... 因此，殖民地鐵路是帝國及其經濟模式、思想和制度擴張過程中的一部分。在世界各地，這個過程基本上都是相同的：生產新的商品以滿足西方新興[快速成長]的產業的需要；進行生產的新勞動人口；土地所有權的新模式，往往涉及驅逐原住民；為了能夠安全地投資與開發被佔領區域而制定新的法規。任何帝國擴張的地方都是這樣。...

資料來源：Robert Lee, "Potential Railway World Heritage Sites in Asia and the Pacific,"
Institute of Railway Studies and Transport History, The University of York

7 依據這些文件，鐵路使得殖民帝國可以做什麼？ [1]

Score

文件 8

這段節錄從印度民族主義的角度分析了 1880 年至 1905 年的印度鐵路系統。

... 檢討現有的鐵路政策使得他們（印度民族主義領袖）斷定，這些政策主要並非是為了維護印度人民的利益；而且在很大程度上忽略了印度人的需求，尤其是工業需求，而主要是為了滿足英國的經濟和政治利益。他們注意到，鐵路在使印度的經濟帶有殖民色彩方面發揮了重要的作用。他們甚至能看到落後國家的鐵路發展與先進的宗主國金融力量的成長之間日益密切的聯繫，以及隨之而來的政治影響。

他們希望鐵路能夠刺激經濟發展以符合國家的經濟利益，繼而又促成工業和農業的發展。對他們而言，適當的鐵路政策能夠推動印度工業的發展，而適當的公共工程政策會優先考慮灌溉工程和農業發展。他們希望鐵路政策能夠對印度的金融和經濟狀態給予應有的重視。...

資料來源：Bipan Chandra, "Economic Nationalism and the Railway Debate, circa 1880–1905," in *Our Indian Railway*, Foundation Books (經改編)

- 8 根據畢班·錢德拉 (Bipan Chandra) 的觀點，印度民族主義領袖對英國鐵路政策的一個顧慮是什麼？ [1]

Score

文件 9

... 鐵路促進、連接與協調了各種各樣的社會經濟過程，並與其他大規模的交通和通訊系統進行合作。例如，鐵路使得 19 世紀 80 年代出現了糧食穀物價格趨於一致[減少價格之間的差異]的國內市場；同樣的鐵路也使得農民能夠在農忙的短暫休息[放鬆]期間快速完成朝聖（在幾天或更短的時間以內）。由於鐵路能夠迅速將部隊運往動亂地區，因此可以減少英國對印度殖民統治的中堅力量，即英國士兵和武器的駐紮地。大量湧現的許多由印度人所擁有並以印度語和英語發行的新聞出版物找到了利潤豐厚的銷售市場。鐵路與郵局共同[相互]合作，使得書籍、雜誌和報紙能夠以低廉的方式大規模運輸，其中許多內容帶有民族主義色彩。...

資料來源：Ian J. Kerr, *Engines of Change: The Railroads That Made India*, Praeger

9 根據伊恩·克爾 (Ian Kerr) 的觀點，英國建造鐵路所造成的**兩個**改變是什麼？ [2]

(1) _____

Score

(2) _____

Score

B 部分 論文題

答題說明：撰寫一篇條理分明的論文，包括引言、幾個段落、以及結論。在你的論文中，引述取自最少**四份**文件中的證據。引用相關事實、例證及細節來支持你的答案。包括其他的外部資料。

歷史背景：

蒙古人將弓和馬鐙結合使用、西班牙人使用輕帆船以及印度出現鐵路等科技進步對特定的文明與社會之間的互動產生了影響。這些互動造成了改變。

任務：運用文件資料和你的世界歷史知識撰寫一篇論文，在這篇論文中

指出歷史背景中提到的**兩項**科技進步，並且對於**每一項**科技進步

- 說明此項技術進步如何對特定的文明或社會與其他團體之間的互動產生影響
- 論述這些互動所造成的改變

指南：

在你的論文中，請務必

- 闡述任務的各個方面
- 綜合來自至少**四份**文件的資料
- 綜合相關的外部資料
- 引用相關事實、例證及細節來支持主題
- 須合乎邏輯、條理分明，包括一個不只是重複主題的引言和結論

