

世界歷史 和地理

僅限用於 2015 年 6 月 17 日 (星期三) 上午 9 時 15 分至下午 12 時 15 分

學生姓名 _____

學校名稱 _____

在本考試中，嚴禁持有或使用任何形式的通訊工具。如果你持有或使用了任何的通訊工具，無論多短暫，你的考試都將無效，並且不會得到任何分數。

請用工整字跡在以上直線上填寫你的姓名和學校名稱。一份分開的第 I 部分專用答題紙會發給你。請遵循監考老師的指示在答題紙上填寫學生資料。然後再填寫論文題本的每一抬頭。

本次考試共有三個部分。你必須回答每一部分的**所有**考題。請用黑筆或藍筆作答第 II 部分、第 III A 部分和第 III B 部分。

第 I 部分包括 50 道選擇題。根據指示將答案記錄在答題紙上。

第 II 部分包括一道以主題為主的論文題。請在論文本上寫下你對這個問題的答案，從第 1 頁開始。

第 III 部分基於幾份文件：

第 III A 部分包含這些文件。請務必在這部分的第一頁上填寫你的姓名和學校名稱。

每一文件後有一個或一個以上的問題要回答。在本考題本上，將各題的答案寫在各問題後面的直線上。

第 III B 部分包含一個基於這些文件的論文題。請在論文本上寫下你對這個問題的答案，從第 7 頁開始。

在本次考試結束後，你必須簽署印在答題紙最後的聲明，表明在考試之前你沒有非法得到本考試的試題或答案，並且在本考試中沒有給予過或接受過任何的幫助。你如果不簽署本聲明，你的答題紙將不會被接受。

未經指示請勿打開本考題本。

第 I 部分

請回答本部分的所有問題。

答題說明 (1–50)：對於每個陳述或問題，在分開的答題紙上寫下所提供的、最佳完成陳述或回答問題的詞或語句的編號。

根據下文和你的社會學知識來回答第 1 題。

... 自從人類存在以來，就有了口述歷史。在書寫發明之前，資訊以口述形式代代相傳。世界上許多地方的人們仍在用口述的傳統來傳遞知識和智慧。對社區長者和歷史事件見證者的採訪和錄音，為我們提供了動人的故事、趣聞軼事和關於過去的其他資料。...

—Library of Congress

- 1 根據這篇文章，歷史學家應該將口述歷史和口述傳統作為
 - (1) 有說服力的論據
 - (2) 統計數據
 - (3) 不偏不倚的來源
 - (4) 文化證據
- 2 哪個學科主要學習政府的角色和職能？
 - (1) 政治學
 - (2) 人類學
 - (3) 地理學
 - (4) 經濟學
- 3 在新石器時代，糧食生產過剩直接導致
 - (1) 游牧生活方式
 - (2) 對石製武器的仰賴
 - (3) 人口增加
 - (4) 對狩獵和採集的依賴
- 4 在哈拉帕和摩亨佐·達羅發現網格狀排列的街道和排水管道系統，說明南亞這些古老的河谷城市有
 - (1) 有組織的政府
 - (2) 溫飽型經濟
 - (3) 多神教信仰
 - (4) 僵化的社會階層

根據下文和你的社會學知識來回答第 5 題。

... 全國各地都依賴季風為農作物生長提供水分。然而，超強季風可能會引發洪水，造成很高的死亡人數。為了工業和農業用途而過度砍伐山林，也使洪水問題加重[變得更壞]。獲得充足的水量灌溉稻田，以及過多的水量毀壞農作物、房屋甚至危及生命，這兩者之間存在一種微妙的平衡。除了洪災還有可能出現饑荒。不過，印度的基礎建設現在已經能夠成功地解決這些問題：當季風未能給某個地區帶來充足的雨水時，軍隊能夠移動供應品以支援乾旱嚴重的地區。這種組織動員結果使得只有少數人死於 1965–66 年和 1974–75 年間的馬哈拉斯特邦饑荒，但 1943 年的孟加拉饑荒卻導致兩百多萬人喪生。

—Louise Nicholson, *National Geographic Traveler: India*, 2007

- 5 根據這篇文章，近年來人們如何減少季風帶來的負面影響？
 - (1) 軍隊修建水壩以阻擋洪水。
 - (2) 農民開始種植需水量較少的農作物。
 - (3) 洪災地區的房屋建設受到政府規章管制。
 - (4) 改善基礎建設可以為需要幫助的地區帶來供應品。
- 6 埃及人使用象形文字的方式與蘇美人使用哪種文字的方式相同
 - (1) 表意文字
 - (2) 書法
 - (3) 楔形文字
 - (4) 字母

- 7 哪一種地理特徵阻礙了古希臘的政治統一並且促進了獨立城邦的興起？
- (1) 廣大的平原
 - (2) 山脈
 - (3) 通航河流
 - (4) 眾多港口
- 8 唐朝對中國文化的貢獻在於
- (1) 創建幕府
 - (2) 生產瓷器並發明雕版印刷
 - (3) 將印度教作為重要哲學引入中國
 - (4) 制定了一套法律並刻在岩石和柱子上
- 9 歐洲十字軍在中東地區戰鬥的主要目的是
- (1) 為義大利商人建立市場
 - (2) 從拜占庭營救教皇烏爾班二世 (Pope Urban II)
 - (3) 阻止蒙古軍隊在亞洲草原的前進
 - (4) 保衛耶路撒冷的基督教聖地
- 10 中世紀後期歐洲貿易和商業的增加導致
- (1) 公會成員生活水準降低
 - (2) 更多的鄉鎮和城市得到發展
 - (3) 國王之間的敵對減少
 - (4) 自給自足的莊園數量增加
- 11 馬可波羅 (Marco Polo) 和伊本·巴圖塔 (Ibn Battuta) 的著作激發了
- (1) 探險和貿易
 - (2) 重要的軍事遠征
 - (3) 政治自由運動
 - (4) 回教傳入東南亞
- 12 南京、威尼斯和摩加迪休在 13 世紀都是強大且具有影響力的城市，因為他們都
- (1) 發展以農業為基礎的經濟
 - (2) 是宗教朝聖地
 - (3) 建立民主政府
 - (4) 利用位置優勢
- 13 迦納、馬利和桑海等西非帝國能繁榮發展是因為
- (1) 這些國家控制金鹽貿易
 - (2) 對這些國家的牧群需求量大
 - (3) 這些國家的軍隊控制非洲大部分地區
 - (4) 這些國家採行基督教作為主要宗教
- 14 黑死病導致的一個直接後果是什麼？
- (1) 勞動力短缺
 - (2) 海外勘探
 - (3) 反猶太主義減少
 - (4) 醫學獲得改善
- 15 哪一項陳述是對人本主義的最佳表達？
- (1) 上帝選擇應該得救的人。
 - (2) 教皇傳達上帝的最終指令。
 - (3) 人們有能力透過學習來自我提升。
 - (4) 地球上一個人的生命僅僅是為了來生做準備。
- 16 哪一項發展與印加早期的成就最密切相關？
- (1) 發明輪子作為交通運輸設備
 - (2) 改進鐵製武器
 - (3) 擴大全球貿易
 - (4) 適應多山的環境
- 17 哥倫布大交換的一個主要影響是什麼？
- (1) 歐洲經濟崩潰
 - (2) 歐洲引入新的糧食作物
 - (3) 歐洲人口減少
 - (4) 整個歐洲民主權利擴張
- 18 一個國家管理其殖民地進出口以實現貿易順差所使用的政策是什麼？
- (1) 禁運
 - (2) 外包
 - (3) 重商主義
 - (4) 移居

根據以下的海報和你的社會學知識來回答第 25 題。

沙皇、教士和財主站在勞動者的肩膀上



**ЦАРЬ, ПОП И БОГАЧ
НА ПЛЕЧАХ У ТРУДОВОГО НАРОДА.**

資料來源：A. Apsit, Coloured Lithograph, 1918 (經改編)

- 25 在 20 世紀初葉的俄羅斯，哪個團體有可能藉由流傳這幅海報而獲得支持？
- (1) 貴族主義者
 - (2) 布爾什維克黨
 - (3) 君主主義者
 - (4) 東正教神職人員

- 26 不干預資本主義政策理論建議政府應該採取哪一種行動方針？
- (1) 為需要的人們提供幫助
 - (2) 建立企業以創造工作機會
 - (3) 讓自然法則調控經濟
 - (4) 控制國家的礦產資源
- 27 英國地主制度於 19 世紀中葉在愛爾蘭和 20 世紀初葉在印度所造成的一種影響是，這些地主制度
- (1) 造成饑荒和苦難
 - (2) 使當地經濟繁榮發展
 - (3) 注重糧食作物而非礦業
 - (4) 引發農業革命
- 28 海軍準將馬修·佩里 (Matthew Perry) 以哪一項行動而聞名？
- (1) 領導英國東印度公司
 - (2) 在義和團起義中解救歐洲人
 - (3) 為歐洲在中國的勢力範圍辯護
 - (4) 開放日本接受美國和歐洲的影響
- 29 在第一次世界大戰期間，軍事技術的發展導致
- (1) 同盟國初期獲得勝利
 - (2) 建立工業資本主義
 - (3) 使用有毒氣體和潛水艇攻擊
 - (4) 西歐種族關係更為緊張
- 30 國際聯盟失敗的一個主要原因是它
- (1) 未包含在《凡爾賽條約》(Versailles Treaty) 內
 - (2) 由共產主義俄羅斯所控制
 - (3) 強大的軍事力量使許多國家感到恐懼
 - (4) 在危機時缺乏許多世界大國的支持
- 31 日本的哪一種地理特徵對其在 20 世紀初葉至中葉發展帝國主義的決定影響最大？
- (1) 多山地形
 - (2) 缺乏天然資源
 - (3) 豐富的河流
 - (4) 島嶼位置
- 32 史達林 (Joseph Stalin) 的計劃經濟所導致的結果是什麼？
- (1) 農民受到鼓勵出售餘糧以追求個人收益。
 - (2) 消費品產量增加。
 - (3) 國民收入增加，促進個人消費增加。
 - (4) 政府透過集體農場控制農業。
- 33 第一次世界大戰後，義大利墨索里尼 (Benito Mussolini) 和德國希特勒 (Adolf Hitler) 的崛起與什麼最密切相關
- (1) 法西斯主義的發展
 - (2) 對遏制政策的慾望
 - (3) 對民主傳統的強調
 - (4) 回歸保守宗教傳統
- 34 第二次世界大戰後，蘇聯在東歐建立衛星國的主要原因是什麼？
- (1) 與西方發展更好的貿易關係
 - (2) 建立緩衝區以抵禦未來入侵
 - (3) 參與聯合國維持和平任務
 - (4) 控制石油輸出國組織 (OPEC)

根據以下的摘錄和你的社會學知識來回答第 35 題。

... 南非黑人學生與白人學生之間的成績差距非常大。在 2005 年，西開普省以黑人為主的學校中，在 1,000 名六年級學生當中，只有 2 名學生在數學測驗中達到年級平均水準，而過去專收白人如今為綜合學校中，每 3 名學生當中就有 2 名學生達到這個水準，但這些學校通常位於較為富裕[比較有錢]的社區。...

—Celia W. Dugger

35 導致這種成績差異最顯著的根本歷史因素是什麼？

- (1) 在種族隔離政策之下種族之間存在不平等
- (2) 學校社區受到經濟制裁
- (3) 政府對白人教育計劃缺乏支持
- (4) 一段政治暗殺和內戰時期

36 「印度獲得獨立後實施分治」
「塞爾維亞人在科索沃引燃衝突」
「不滿導致胡圖族與圖西族分歧對立」

這些標題支持以下哪一項結論？

- (1) 文化多樣性會導致穩定的社會。
- (2) 種族和宗教差異是關係緊張的根源。
- (3) 經濟合作可以克服政治問題。
- (4) 性別差異比社會地位差異更強大。

37 第二次世界大戰戰後，中東地區許多衝突的直接起因是

- (1) 阿拉伯國家聯盟解散
- (2) 伊朗和中國的邊境衝突
- (3) 涉及到巴勒斯坦的紛爭
- (4) 埃及的分割

根據下文和你的社會學知識來回答第 38 題。

... 在「元年」30 多年後，以及「回歸民主」十多年後，柬埔寨仍然處在痛苦、腐敗和冷漠之中。只有最頑強、最不擇手段的人才能「實現目標」並獲得成功。幾乎沒有任何社交網可言；赤棉 (Khmer Rouge) 的野蠻瘋狂行為被野蠻資本主義所取代，但統治者還是同一批人。...

— Andre Vitcek,
“A Tortured History and Unanswered Questions”

38 這篇 2006 年的文章作者做出什麼結論？

- (1) 隨著民主發展，社會情況也有所改善。
- (2) 雖然政府有所改變，但社會情況往往一成不變。
- (3) 新領袖決心要取代赤棉。
- (4) 艱困的生活條件使人們過分依賴社交網。


39 鄧小平 (Deng Xiaoping) 採取了哪一項行動以改善中國的經濟？

- (1) 阻攔外國投資
- (2) 鼓勵某些資本主義實踐
- (3) 組織紅衛兵
- (4) 實行開放政策

40 哪一項革命藉由使用轉基因種籽以及大量的化肥和農藥，促使全球糧食產量增加？

- (1) 文化
- (2) 光榮
- (3) 科學
- (4) 綠色

根據以下的漫畫和你的社會學知識來回答第 41 題。



資料來源：Arend Van Dam, <http://www.politicalcartoons.com>, July 22, 2010 (經改編)

- 41 這幅 2010 年的漫畫表達的主要觀點是什麼？
- (1) 巴基斯坦在阿富汗事務中僅扮演次要的角色。
 - (2) 美國和巴基斯坦將聯手剷除塔利班。
 - (3) 巴基斯坦和阿富汗之間的水權紛爭持續製造挑戰。
 - (4) 美國離開之後，塔利班會對阿富汗造成威脅。
-
- 42 世界貿易組織 (WTO)、北美自由貿易協定 (NAFTA) 和歐洲聯盟 (EU) 的共同首要目標是
- (1) 發展太空探索和維護衛星
 - (2) 增加對發展中國家的經濟援助
 - (3) 鼓勵國家之間的貿易並且降低貿易壁壘
 - (4) 制定法規以保護環境

- 43 十進位的使用、醫學的進步以及印度教寺廟的修建與哪個黃金時代最密切相關
- (1) 阿拔斯王朝
 - (2) 漢朝
 - (3) 古普塔帝國
 - (4) 羅馬帝國
- 44 《查士丁尼法典》(Justinian Code) 意義重大的一個原因是它
- (1) 成為許多西方國家現代法律體系的基礎
 - (2) 為《漢摩拉比法典》(Code of Hammurabi) 的發展奠定基礎
 - (3) 將亞洲和歐洲的所有法律融為一體
 - (4) 導致保護羅馬領土上不可剝奪的權利
- 45 哪一項技術發展對宗教改革的成功有最直接的貢獻？
- (1) 星盤
 - (2) 羅盤
 - (3) 車輪
 - (4) 印刷術
- 46 革命分子用「自由、平等、博愛」與「和平、土地和麵包」等標語來代表
- (1) 經濟穩定的架構
 - (2) 政治和經濟的理想
 - (3) 維持社會階層的計劃
 - (4) 政治改革的方法
- 47 俾斯麥 (Otto von Bismarck) 和加富爾 (Camillo Cavour) 的一個相似之處是這兩個領袖都
- (1) 採行孤立主義政策
 - (2) 採取教皇政策
 - (3) 領導非洲獨立運動
 - (4) 促進統一以形成新的民族國家

48 哪個標題最好地完成了下面的部分大綱？

I. _____

- A. 在 19 世紀初葉，拿破崙 (Napoleon Bonaparte) 大軍橫掃東歐。
- B. 在第一次世界大戰期間，德國經由比利時入侵法國。
- C. 在第二次世界大戰期間，德國閃電突襲西歐。

- (1) 河流作為入侵路線的重要性
- (2) 塹壕戰僵局
- (3) 利用北部大平原征伐
- (4) 戰爭中海上封鎖的作用

49 俄羅斯彼得大帝 (Peter the Great) 和日本明治天皇 (Emperor Meiji) 統治的一個相似之處是這兩個領袖都

- (1) 解放農奴
- (2) 賦予女性平等
- (3) 鼓勵現代化
- (4) 依據憲法進行統治

50 紐倫堡大審和南非的真相與和解委員會的一個目的是

- (1) 解決人權濫用問題
- (2) 支持建立民主政府
- (3) 在世界各地建立自由貿易區
- (4) 為鐵幕後的人們予以鼓勵

論文題的答案應填寫在分開的論文本上。

在回答第 II 部分的問題時，請注意以下一般性定義：

論述指「透過事實、推理和論證來對某件事發表意見；加以詳述」

第 II 部分

主題論文題

答題說明：撰寫一篇條理分明的論文，包括引言、解決以下任務的幾個段落、以及結論。

主題：信仰體系—運動

信仰體系是團體或個人看待宗教信仰或哲學原則的一種既定且有序的方式。某些信仰體系已經傳播到發源地以外的地區。這些信仰體系的傳播以不同的方式對其他社會和地區造成影響。

任務：

選擇**兩種**傳播至發源地以外地區的信仰體系，對於**每一個**體系

- 討論這種信仰體系的核心原則
- 討論這種信仰體系如何傳播到另一個地區
- 討論這種信仰體系的傳播對另一個社會或地區所造成的影響

你可以使用在學習世界歷史和地理時所學到的信仰體系。你不妨考慮的一些建議包括佛教、儒家思想、猶太教、基督教、回教和共產主義。

你不必侷限於以上建議。

不要以美國作為信仰體系傳播的地區。

指南：

在你的論文中，請務必

- 闡述任務的各個方面
- 引用相關事實、例證及細節來支持主題
- 須合乎邏輯、條理分明，包括一個不只是重複主題的引言和結論

第 III 部分

基於文件題

本問題是基於隨附的文件。該問題的設計是為了測驗你運用歷史文件的能力。其中一些文件是為這個問題編輯的。當你分析文件時，請參考每份文件的來源及文件中所論述的任何觀點。請記住，文件中使用的語言可能反映出撰寫當時的歷史背景。

歷史背景：

縱觀歷史，**羅馬**、**奧圖曼**和**大英帝國**等帝國出現過各種問題最終導致其衰落。這些帝國的衰落對社會和地區的變化造成影響。

任務：運用文件資料和你的世界歷史知識，回答 A 部分每一份文件後面的問題。你對這些問題的回答將有助於撰寫 B 部分的論文，在這篇論文中，你將被要求

指出歷史背景中提到的**兩個**帝國，並且對於**每一個**帝國

- 指出導致帝國衰落的問題
- 討論帝國的衰落對社會和/或地區的變化造成影響

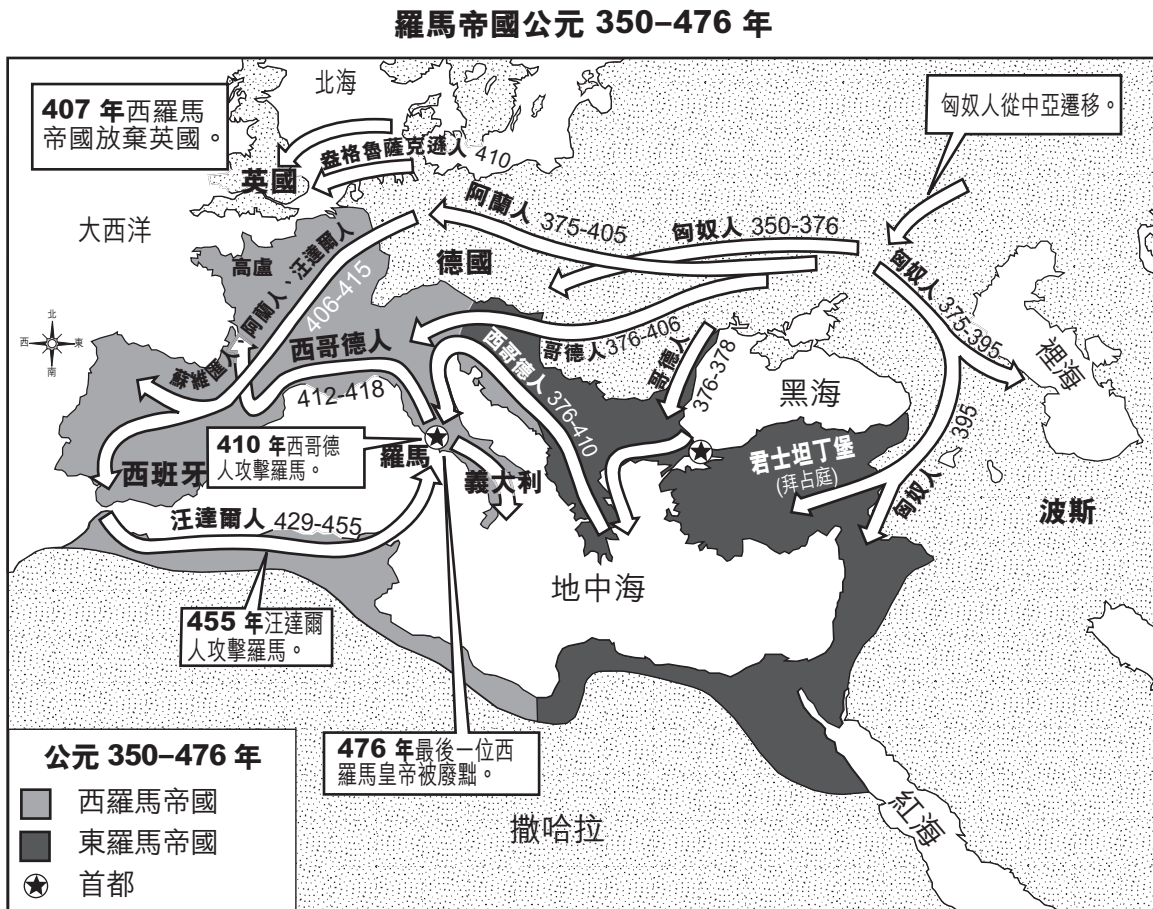
在回答第 III 部分的問題時，請注意以下一般性定義：

- (a) **描述**指「用文字闡述或陳述」
- (b) **論述**指「透過事實、推理和論證來對某件事發表意見；加以詳述」

A 部分 簡答題

答題說明：分析以下文件，在所提供的空白處上回答每份文件後的簡答題。

文件 1



1 根據這幅地圖上所顯示的資訊，說明導致羅馬帝國衰落的一個問題。 [1]

Score

文件 2

... 2 世紀中葉義大利[羅馬帝國內部]處於衰落狀態。在戴克里先 (Diocletian) 統治時期，即 4 世紀初葉，整個帝國呈現明顯的衰退。由於缺乏顧客、海盜活動和陸地上道路的不安全，商業基本上已經消失。一般來說，當時的購買力局限於公職人員、軍官和大地主。日常用品貿易幾乎完全消失，但奢侈品貿易卻很興盛。除了政府集中的地區以外，西方城市一般都處於衰落狀態；其商業和工業階層已經消失，舊的貿易商已經被外來的東方貿易商所取代，其中最臭名昭彰的是敘利亞人。對外貿易大大削減。政府在不同時期試圖禁止出口各種商品，包括葡萄酒、油、穀物、鹽、武器、鐵和黃金。除了出口限制之外，政府也試圖控制某些進口，這一點可由國家專營絲綢證明。這兩項行動阻礙了帝國以外的商業交易，幾乎破壞了所剩無幾的對外貿易。...

資料來源：Louis C. West, "The Economic Collapse of the Roman Empire," *The Classical Journal*, November 1932

2 根據 Louis C. West 所說，羅馬帝國在衰落時期所面臨的**兩個**經濟問題是什麼？ [2]

(1)

Score

(2)

Score

文件 3

... 隨著西歐遭受德國侵略，帝權轉至拜占庭帝國，即東羅馬帝國，其首都是君士坦丁堡。東羅馬帝國的省份數量一直都多於西羅馬帝國。東羅馬帝國文明比西羅馬帝國文明古老得多，城市的規模更大，數量也比西羅馬帝國更多。...

資料來源：Steven Kreis, *The History Guide: Lectures on Ancient and Medieval European History*, Lecture 17, History Guide online

3 根據 Steven Kreis 所說，西羅馬帝國衰落所帶來的一**個**改變是什麼？ [1]

Score

文件 4

在 1683 年第二次也是最後一次試圖征服維也納時，[奧圖曼]帝國的力量開始減弱[衰落]。入侵最終失敗。由於未能征服歐洲，也未能獲得大量新財富，奧圖曼帝國失去了發展動力，逐漸開始衰落。

其他幾個因素也導致[奧圖曼]帝國的衰落。

- 美洲貿易帶來的競爭
- 來自印度和遠東廉價產品的競爭
- 其他貿易路線的發展
- 帝國內部失業人數增加
- 奧圖曼帝國集中化程度降低，中央控制削弱
- 蘇丹王在管理帝國中維持嚴格誠信標準的嚴苛程度降低
- 蘇丹王對輿論的敏感度降低

資料來源：“Ottoman Empire (1301–1922),” BBC online, 2009 (經改編)

4a 根據 BBC 的報導，導致奧圖曼帝國衰落的一個經濟問題是什麼？ [1]

Score

b 根據 BBC 的報導，導致奧圖曼帝國衰落的一個政治問題是什麼？ [1]

Score

文件 5

... 1875 年，生活在奧圖曼帝國波士尼亞和赫塞哥維納省（現在的波士尼亞與赫塞哥維納聯邦）的斯拉夫人，發動了推翻奧圖曼帝國的起義以獲得自由。奧圖曼帝國的普遍弱勢導致兩個獨立的斯拉夫鄰國，蒙特內哥羅和塞爾維亞援助這次叛亂。不到一年，叛亂就傳播至奧圖曼帝國的保加利亞省。這次叛亂也是大型政治運動泛斯拉夫運動的一部分，後者的目標是統一所有斯拉夫民族，並且在俄羅斯的保護之下形成單一政治團結，其中大多數民族都在奧地利、德國和奧圖曼帝國的控制之下。由於俄羅斯人也急於入侵奧圖曼帝國並攻佔伊斯坦堡，他們與反叛者、塞爾維亞和蒙特內哥羅聯合對奧圖曼宣戰。...

資料來源：Richard Hooker, "European Imperialism and the Balkan Crisis," *The Ottomans, World Cultures*

5 根據 Richard Hooker 所說，奧圖曼帝國在衰落期面臨的一個問題是什麼？ [1]

Score

文件 6

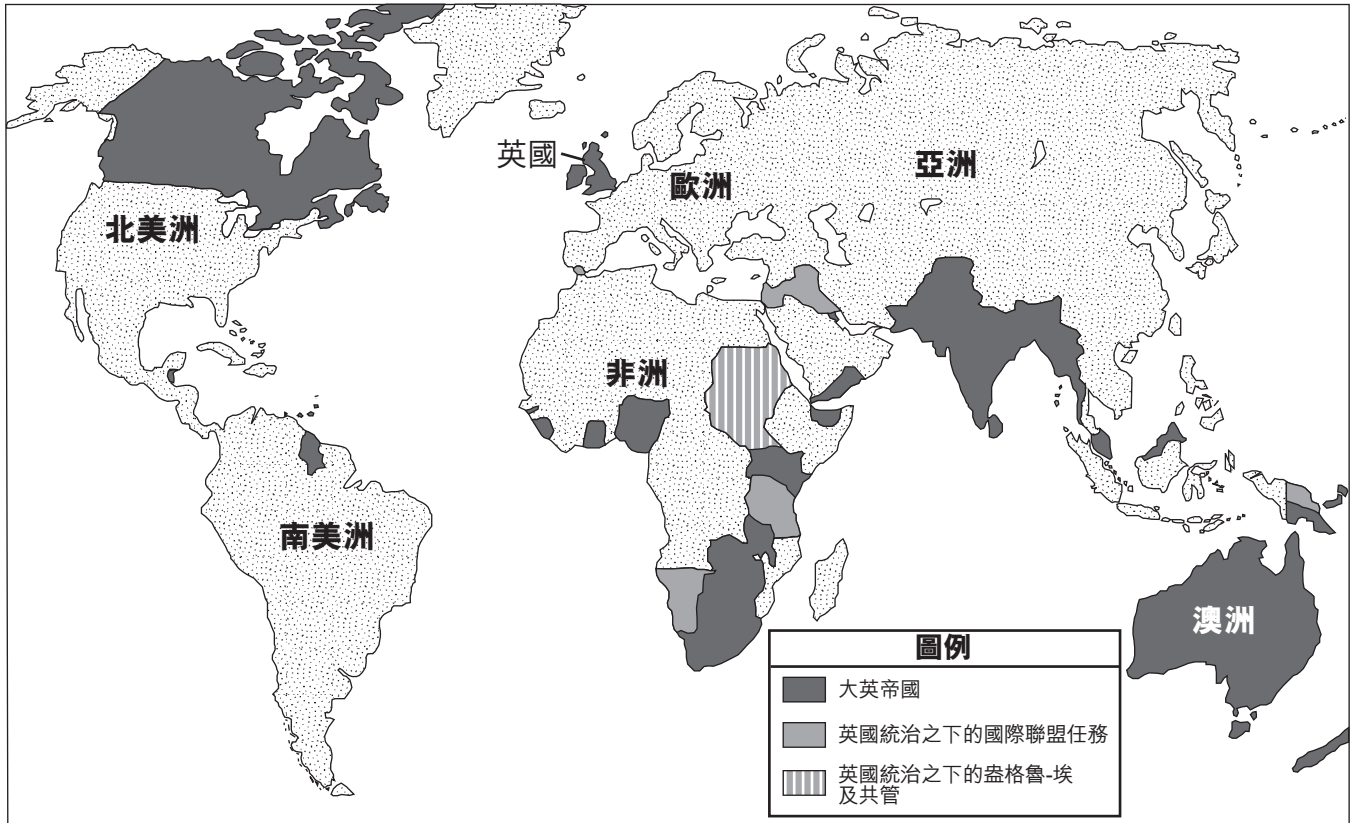
... 凱末爾 (Mustafa Kemal [Atatürk]) 是世俗民族主義者，他認為奧圖曼帝國的所有傳統都應該被遺棄，土耳其應該轉變為現代歐洲國家。這牽涉到與過去突然快速中斷，但並沒有看起來那麼徹底。*坦茲馬特 (Tanzimat)* 改革[1839 年至 1876 年間]為世俗國家的形成奠定基礎，青年土耳其黨人 (Young Turks) 儘管是在試圖保護帝國，但也為土耳其民族主義事業提供了強大動力[推動]。在戰爭期間 [1914–1918 年]，教育與宗教分離的行動持續開展，大學和公共職位對女性開放。由宗教當局所控制的一些法院設於司法部之下。1916 年的一項法律對結婚和離婚進行了改革。...

資料來源：Peter Mansfield, *A History of the Middle East*, Viking

6 根據 Peter Mansfield 所說，在奧圖曼帝國衰落以及新的土耳其國開始形成期間發生的一個變化是什麼？ [1]

Score

20 世紀 20 年代初期的大英帝國和任務



資料來源：Encyclopedia Britannica Kids (經改編)

7 根據這幅地圖上所顯示的資訊，英國所面臨的造成其帝國統治困難的一個問題是什麼？ [1]

Score

文件 8

... 第二次世界大戰大幅地改變英國對印度自由的態度。認為印度獨立後不會償還英國債務的這種顧慮不再合理。實際上英國欠印度十億多英鎊。認為印度軍官人數不足以從英國手中接管印度軍隊的這種顧慮也不再合理。戰爭的結果是，印度有一萬五千多名軍官可用。此外，許多從印度服役歸來的英國士兵意識到他們的政府在印度人民心目中是多麼不受歡迎。在英國，克萊門特·艾德禮 (Clement Attlee) 領導的工黨擊敗溫斯頓·邱吉爾 (Winston Churchill) 領導的保守黨而接管政府。...

工黨本就贊同印度獨立，當時又面臨印度國內的大量騷亂。1945–46 年的寒冬使缺衣少食的情況更加嚴重。許多剛從監獄中釋放出來的民族主義領袖紛紛發表演講以鼓勵人民採取暴力行動以獲取自由。在加爾各答，遊行示威活動導致暴亂，造成三十多人死亡，數百人受傷。...

資料來源：*Indian Independence and the Question of Pakistan*, Choices Program, Watson Institute for International Studies, Brown University

8 根據取自「*Indian Independence and the Question of Pakistan*」(印度獨立和巴基斯坦問題)的這段摘錄，使英國更願意賦予印度獨立的**兩個**因素是什麼？ [2]

(1)

Score

(2)

Score

文件 9

... 大英帝國在過去 60 年[自 1928 年以來]間逐漸解體。大多數成員國要求並且獲得了獨立。隨著帝國的瓦解，英國失去了主要的財富來源。與此同時，也失去了長期以來的工業優勢。...

資料來源：Clare McHugh, *Scholastic World Cultures: Western Europe*, Scholastic, 1988

9 根據 Clare McHugh 所說，帝國瓦解導致英國面臨的**一個**改變是什麼？ [1]

Score

B 部分 論文題

答題說明：撰寫一篇條理分明的論文，包括引言、幾個段落、以及結論。在你的論文中，引述取自最少**四份**文件中的證據。引用相關事實、例證及細節來支持你的答案。包括其他的外部資料。

歷史背景：

縱觀歷史，**羅馬**、**奧圖曼**和**大英帝國**等帝國出現過各種問題最終導致其衰落。這些帝國的衰落對社會和地區的變化造成影響。

任務：運用文件資料和你的世界歷史知識撰寫一篇論文，在這篇論文中

指出歷史背景中提到的**兩個**帝國，並且對於**每一個**帝國

- 指出導致帝國衰落的問題
- 討論帝國的衰落對社會和/或地區的變化造成影響

指南：

在你的論文中，請務必

- 闡述任務的各個方面
- 綜合來自至少**四份**文件的資料
- 綜合相關的外部資料
- 引用相關事實、例證及細節來支持主題
- 須合乎邏輯、條理分明，包括一個不只是重複主題的引言和結論

