

세계사 및 지리

2010년 6월 15일, **화요일** — 오후 1시 15분 - 오후 4시 15분까지만 실시

학생 이름 _____

학교명 _____

자신의 이름과 학교명을 인쇄체로 기입하십시오. 이 책자의 마지막 페이지에 있는 파트 I의 답안지를 여십시오. 점선을 따라서 마지막 페이지를 접은 다음 천천히 주의해서 답안지를 절취하십시오. 다음, 답안지의 윗부분을 기입하십시오. 에세이 책자의 각 페이지 윗부분에 자신의 이름과 학교명을 인쇄체로 기입하십시오.

이 시험은 세 파트로 구성되어 있습니다. 모든 파트의 **모든** 질문에 답하십시오. 검정 혹은 진한 청색 잉크를 사용하여 답하십시오.

파트 I에는 50개의 선다형 문제가 있습니다. 이 문제에 대한 답은 별도의 답안지에 기입하십시오.

파트 II에는 한 개의 주제를 다루는 에세이 문제가 있습니다. 이 문제에 대한 답은 에세이 책자 1페이지부터 기입하십시오.

파트 III는 여러 개의 문서에 기반을 둡니다.

파트 III A에는 여러 문서가 포함되어 있습니다. 각 문서에는 하나 이상의 문제가 따릅니다. 각 문제들의 답은 시험책자 안의 질문을 뒤따르는 줄에 기입하십시오. 이 부분의 첫 장에 자신의 이름과 학교명을 반드시 기재하십시오.

파트 III B에는 주어진 문서를 바탕으로 하는 한 개의 에세이 문제가 있습니다. 이 문제에 대한 답은 에세이 책자의 7페이지부터 기입하십시오.

시험을 마친 후 파트I의 답안지에 인쇄된 진술문에 서명함으로써 이 시험을 치르기 전에 문제나 답에 대한 불법적인 지식이 없었으며 시험을 치르는 동안 어떤 문제에 답하는데 있어서도 도움을 주거나 받지 않았음을 표시하십시오. 이 진술문에 서명하지 않은 학생의 답안지는 인정하지 않습니다.

이 시험 중에는 통신 장비의 사용을 철저히 금합니다. 만일 아주 잠시라도 통신 장비를 사용하는 경우, 시험은 무효화되며 시험 점수를 받을 수 없게 됩니다.

지시가 있을 때까지 이 시험 책자를 열지 마십시오.

파트 I

이 파트의 모든 문제에 답하십시오.

지시사항(1-50): 각 문제의 문장이나 질문에 가장 적절한 답의 번호를 별도의 답안지에 기입하십시오.

1 다음 중 1차적 자료에 속하는 문서는?

- (1) 백과사전 조항
- (2) 현대 교과서
- (3) 전기(biography)
- (4) 개인적으로 주고 받은 편지

2 아래 나열된 부분적 개요들을 가장 적절하게 나타내는 제목은?

I. _____

- A. 화산 및 지진 지역에 위치함
- B. 한정된 광물 자원을 가짐
- C. 해안평야에 인구가 집중됨

- (1) 일본의 지리적 특징
- (2) 몽골의 환경적 난제
- (3) 사우디 아라비아가 직면한 경제적 문제
- (4) 영국 공업화에 영향을 주는 요인들

3 다음 신석기혁명의 발전 사항 중 나머지 셋의 발생을 유발시킨 것은?

- (1) 복합 문명
- (2) 식량의 잉여
- (3) 작업의 분담
- (4) 동물의 가축화 및 식물의 가내 재배화

4 • 갠지스 강은 힌두교 신자들에게 신성한 곳이다.
 • 신도 신사는 보통 산이나 호수 근처에 위치한다.
 • 요단강은 많은 기독교 세례식이 행해지는 곳이다.

신앙체계와 관련한 위의 서술들에 근거하여 가장 타당한 결론은?

- (1) 이 신앙체계의 발생지는 중동이다.
- (2) 이 신앙체계에 있어 물은 중요한 역할을 한다.
- (3) 이 신앙체계는 산간 지역으로의 순례를 권장한다.
- (4) 자연을 이해하는 것은 이 신앙체계들의 필수사항이다.

5번 문제는 아래의 그림과 본인의 사회과학 지식을 바탕으로 답하십시오.



출처: Wilson G. Turner, *Maya Designs*, Dover Publications

5 이 마야 그림이 가장 잘 보여주는 문명의 요소는?

- (1) 도시화
- (2) 교육체계
- (3) 법전
- (4) 사회 계층

6 중국 당나라 및 송나라와 가장 밀접한 연관이 있는 업적은?

- (1) 바퀴와 등자
- (2) 차이남파스(chinampas)와 달력
- (3) 화약과 목활자
- (4) 모자이크와 돔(반구형 지붕)

7 한국은 다음 중 어느 두 나라들의 중간에서 문화적 가교 역할을 빈번히 했는가?

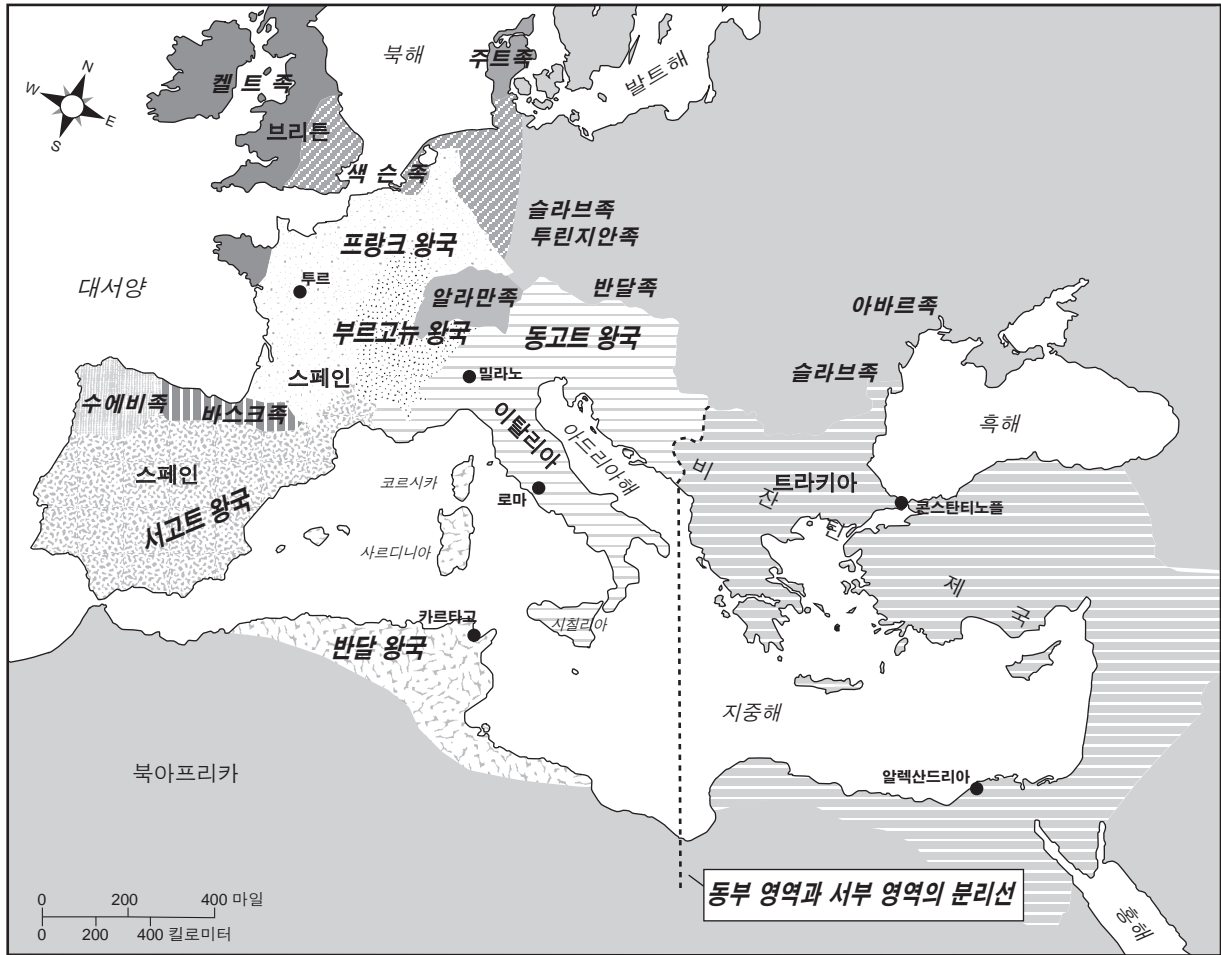
- (1) 캄보디아와 베트남
- (2) 러시아와 인도
- (3) 타이와 인도네시아
- (4) 중국과 일본

8 다음 중 중세 서유럽을 통합시키는 데 주요한 역할을 한 제도는?

- (1) 입법기관
- (2) 교회
- (3) 군주제
- (4) 군대

9번 문제는 아래의 지도와 본인의 사회과학 지식을 바탕으로 답하십시오.

서기 526년경 로마 세계의 새로운 세력들



출처: Lim and Smith, *The West in the Wider World, Sources and Perspectives, Vol. 1*, Bedford/St. Martin's (개정판)

9 이 지도의 정보에서 서기 526년경 로마 세계에 대해 유출할 수 있는 결론은?

- (1) 갈리아(Gaul) 사람들이 지중해의 무역을 지배했다.
- (2) 로마가 서부 지역 전체의 수도였다.
- (3) 동부 지역은 비잔틴 제국 아래 통합되었다.
- (4) 동로마와 서로마의 분단은 자연 경계선을 따라 이루어졌다.

10 다음 중 마틴 루터가 기독교 교회 관습에 대해 변경할 것을 제안한 사항은?

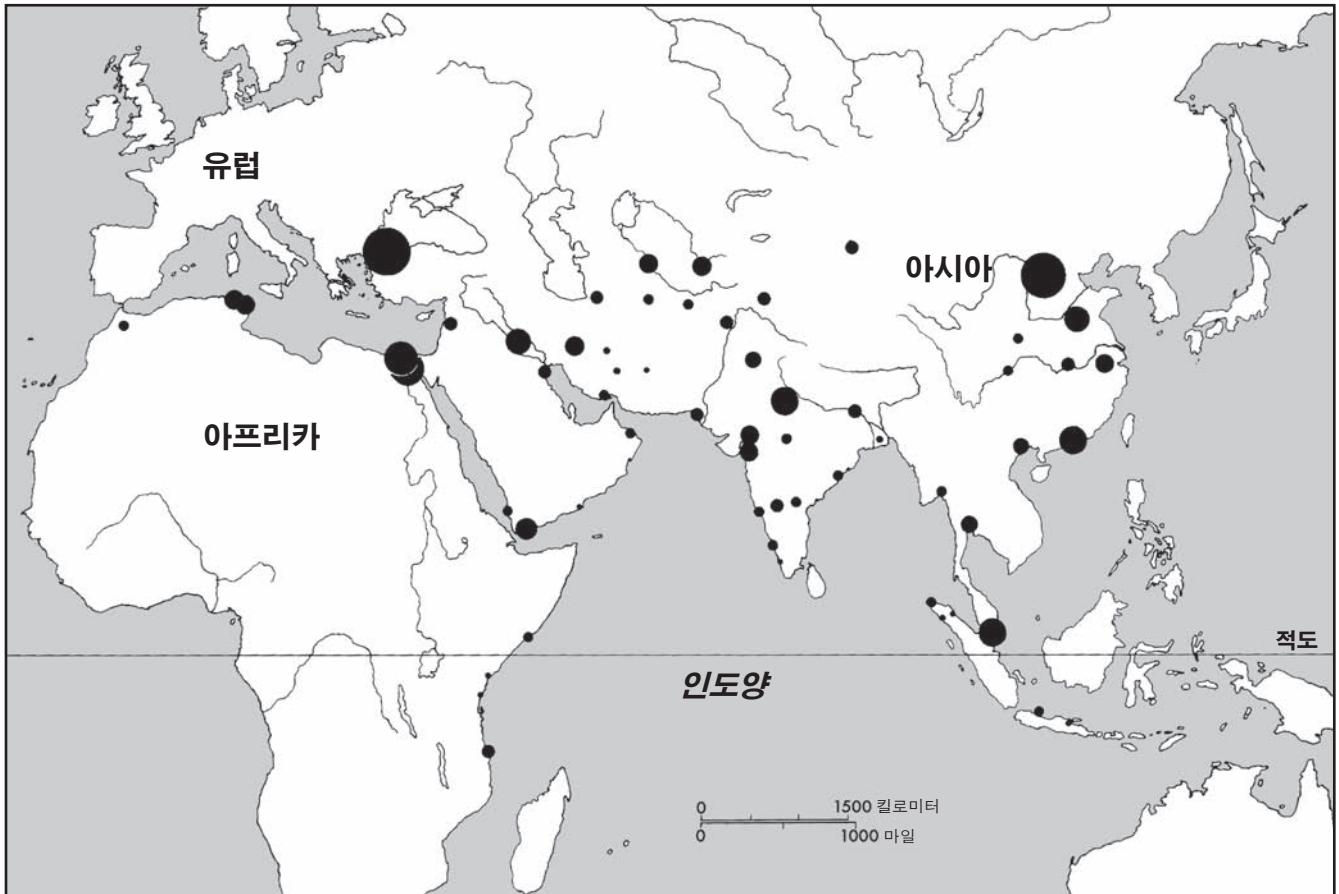
- (1) 면죄부 판매의 증가
- (2) 교회에 성인(saints) 조각상 설치
- (3) 신자들이 라틴어를 배울 수 있도록 미사를 라틴어로 하기
- (4) 모든 사람들이 성경을 읽을 수 있도록 자국어에 성경을 인쇄하기

11 서아프리카 문명들에 의해 이루어졌던 사하라 중단 무역에서 교환이 가장 많이 되었던 두 물품은?

- (1) 금과 소금
- (2) 상아와 비단
- (3) 은과 차(tea)
- (4) 단단한 나무와 동물의 가죽

12번 문제는 아래의 지도와 본인의 사회과학 지식을 바탕으로 답하십시오.

도시화 형태: 650년 -1500년 1차 및 2차 형성 도시들



출처: K. N. Chaudhuri, *Trade and Civilisation in the Indian Ocean*, Cambridge University Press (개정판)

12 다음 중 이 지도에서 알 수 있는 650년도부터 1500년도 사이의 도시 지역들에 관한 정보는?

- (1) 도시화의 대부분이 남반구에서 이루어졌다.
- (2) 도시화의 대부분이 열대 기후와 연관이 있다.
- (3) 대부분의 도시 지역들이 유럽에 위치했다.
- (4) 대부분의 도시 지역들이 수로 근처에 개발되었다.

13 다음 중 중국이 자칭 “중화 제국(The Middle Kingdom)”이라고 하는 것과 관련 있는 것은?

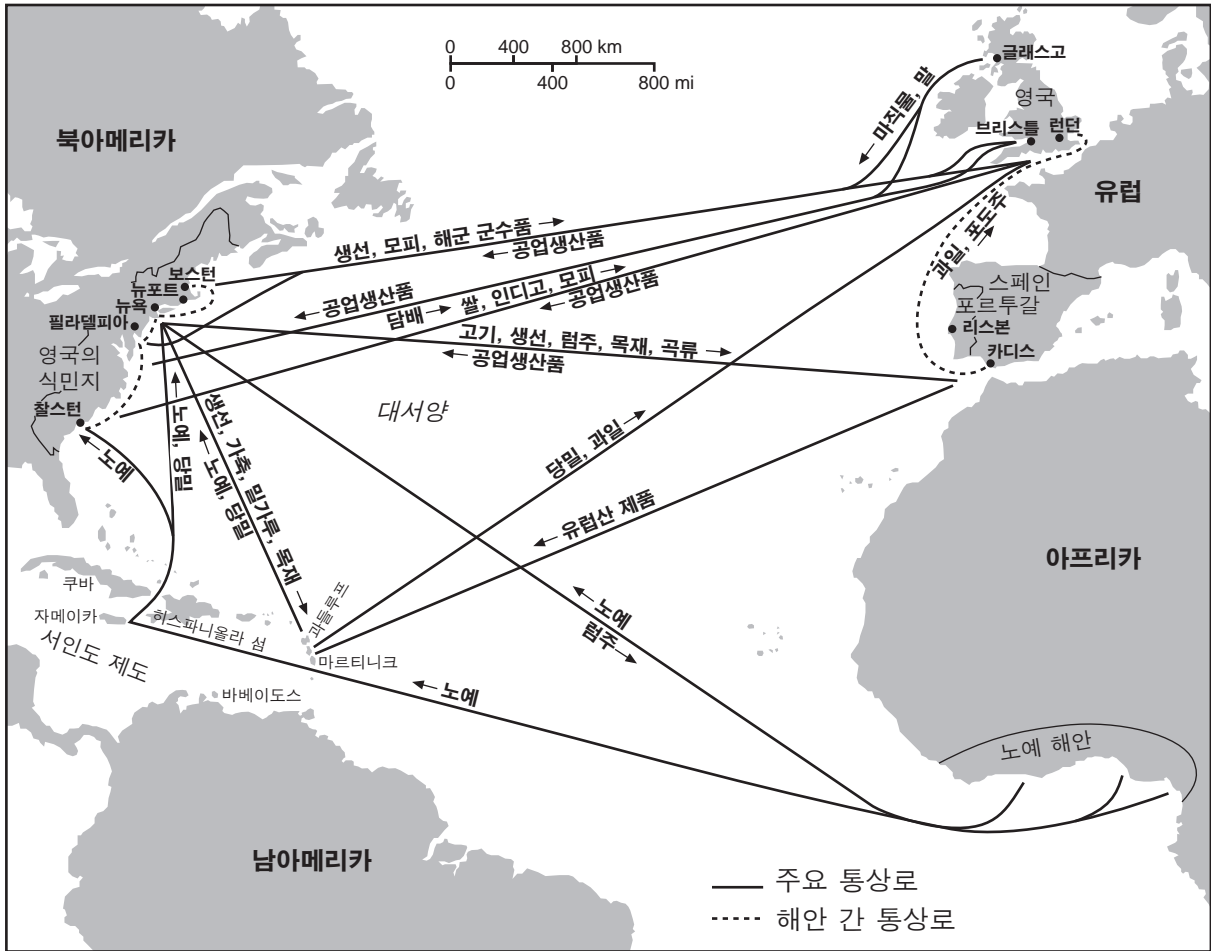
- (1) 외국의 사상과 영향을 환영함
- (2) 서부 종교와 전통 중국 철학을 혼합함
- (3) 다른 문화와의 접촉을 통제함
- (4) 중국 내의 무역 확장을 위해 대운하 건축

14 콜럼버스가 미 대륙을 발견하기 이전 시대의 남아메리카에 다양한 문화들이 발달하는 데 가장 큰 영향을 준 요인은?

- (1) 무역 협상
- (2) 지리적 특징들
- (3) 수입된 종교적 사상들
- (4) 농민의 반란

15번 문제는 아래의 지도와 본인의 사회과학 지식을 바탕으로 답하십시오.

구세계와 신세계 간의 통상로



출처: Marvin Perry et al., *Western Civilization: Ideas, Politics & Society*, Houghton Mifflin, 2000 (개정판)

15 이 지도에서 대부분의 공업생산품이 생산된 지역은?

- (1) 서인도 제도
- (2) 유럽
- (3) 영국의 식민지
- (4) 아프리카

16 16세기와 17세기 전제 군주제의 주요 특징은?

- (1) 중앙 집중적인 정부의 권위
- (2) 농민과 농노의 정치적 권리 증가
- (3) 종교의 자유
- (4) 견제와 균형의 체제

17 1215년 마그나카르타 헌장의 서명과 1688년의 명예혁명이 영국 역사의 주요 사건으로 여겨지는 것은 다음 중 어떤 결과를 가져왔기 때문인가?

- (1) 프랑스와의 동맹을 형성함
- (2) 신교도 귀족들을 패배시킴
- (3) 군주제의 권력을 제한함
- (4) 영토의 합병

18번 문제는 아래의 지문과 본인의 사회과학 지식을 바탕으로 답하십시오.

... 몽골족은 획기적인 기술 개발을 한 적도 없고 새로운 종교를 창시한 적도 없으며, 책이나 연극도 거의 쓰지 않았고 새로운 농산물이나 농작법을 세계에 전해주지도 않았다. 그들의 공예가들은 천을 짜지도 못했고 금속을 주조할 줄도 몰랐고 도자기를 만들거나 심지어 빵을 구울 줄도 몰랐다. 그들은 자기와 도기를 제조하지도 않았고 그림도 그리지 않았고 건물도 짓지 않았다. 하지만, 그들의 군대가 다른 문화들을 하나씩 정복하는 과정에서 위의 모든 기술들을 수집하여 다른 문명으로 전파하였다....

— Jack Weatherford

18 이 지문에서 유도하는 몽골족에 대한 결론은?

- (1) 몽골족은 기술을 거부했다.
- (2) 몽골족은 평화로운 민족이었다.
- (3) 몽골족은 도시화되었다.
- (4) 몽골족은 문화의 전파에 공헌했다.

19 많은 계몽주의 철학자들이 이성을 사용해서 한 일은?

- (1) 전통적인 신념의 강화
- (2) 종교적 권위의 강화
- (3) 자연법칙을 알림
- (4) 검열을 권장함

20 오토 폰 비스마르크 통치 아래 이루어진 독일의 통일이 증명하는 것은?

- (1) 마르크스주의 이데올로기의 영향
- (2) 민족주의의 영향
- (3) 시민 불복종의 힘
- (4) 민주주의적 이상의 힘

21 산업 혁명이 유럽에 가져온 결과는?

- (1) 중산 계급의 성장
- (2) 가축 유목의 증가
- (3) 도시 인구수 감소
- (4) 국제 무역의 감소

22 수에즈 운하가 이집트를 제외한 다른 나라들에게 전략상 중요했던 이유 한 가지는?

- (1) 수에즈 운하는 북대서양과 인도양 사이에 더욱 빠른 이동을 가능하게 했다.
- (2) 수에즈 운하는 유럽 사람들이 서반구 탐험을 가능케 했다.
- (3) 수에즈 운하는 러시아가 좀 더 쉽게 아프가니스탄을 장악할 수 있게 했다.
- (4) 수에즈 운하는 오스트리아-헝가리 제국이 남아시아에 위치한 식민지들을 출입할 길을 제공했다.

23 다음 중 어느 지역의 대부분이 19세기 유럽의 식민 지배를 받았나?

- (1) 일본
- (2) 서남아시아
- (3) 아프리카
- (4) 라틴 아메리카

24 인도의 세포이의 항쟁과 중국의 의화단 사건이 갖는 유사한 공통점은?

- (1) 외국의 영향을 제거하려는 시도였다.
- (2) 공산주의 정부를 설립하려는 운동이었다.
- (3) 무역 독점을 복구하려는 노력이었다.
- (4) 문화를 서구화하려는 노력이었다.

25번 문제는 아래의 지문과 본인의 사회과학 지식을 바탕으로 답하십시오.

제1차 세계대전 참전 용사의 관찰

일병 Archie Surfleet, 1918년 2월 8일 —우리가 Écurie에 있는 숲 근처 캠프에 머무른 지 이제 며칠이 지났는데 우리보다 더 비참한 존재가 있다는 건 상상하기도 어려울 지경이다. 불안과 불확실 외엔 아무 것도 없고 여기에 있는 모든 사람들은 완전히 지칠대로 지친 상태에 있다.

— Malcolm Brown, *Tommy Goes to War*

25 다음 중 이 글이 가장 잘 뒷받침하는 서술은?

- (1) 연합군은 제1차 세계대전의 승리 직전에 있었다.
- (2) 항공기 기술의 발전이 군사적 교착상태를 초래했다.
- (3) 러시아 내의 혁명이 제1차 세계대전의 종말을 재촉했다.
- (4) 어려운 상황이 군대의 사기를 저하시켰다.

26 국제 연맹(the League of Nations)이 세계 기관으로서 실패한 이유 한 가지는?

- (1) 국제 연맹은 파시스트 국가의 상습을 지지했다.
- (2) 국제 연맹은 분쟁을 해결할 수 있는 군사력이 부족했다.
- (3) 국제 연맹은 해상 봉쇄를 통해 분쟁을 처리했다.
- (4) 국제 연맹은 무력적으로 영토를 합병하는 것을 권장했다.

27 1937년 일본이 중국을 침입한 사건과 1939년 독일이 폴란드를 공격한 사건이 직접적으로 초래한 것은?

- (1) 아시아와 유럽에서 제2차 세계대전 시작
- (2) 미국과 소련의 얄타회담
- (3) 유럽 지도자들의 뮌헨회담
- (4) 영국과 프랑스의 유럽 모임에서의 탈퇴

28 뉘른베르크 재판을 20세기의 중요한 하나의 사건으로 여기는 이유는?

- (1) 종족학살을 종식시켰다.
- (2) 핵무기 사용을 비난했다.
- (3) 전쟁 후 독일 점령 조항에 대한 판결을 내렸다.
- (4) 인권 침해에 대한 책임 원칙을 설립했다.

29 북대서양 조약 기구(NATO)가 창설된 초기 목적은?

- (1) 종교적 자유를 증진시키기 위해
- (2) 소비에트의 침공으로부터 서유럽을 방어하기 위해
- (3) 회원국들을 그 외의 국가들로부터 격리시키기 위해
- (4) 회원국들 사이의 이민의 흐름을 중단시키기 위해

30 다음 중 1949년 이후 마오쩌둥에 의한 중국의 사회 변화 한 가지는?

- (1) 남자와 여자의 법적 평등을 승인함
- (2) 중매 결혼을 요구함
- (3) 전족(foot binding) 관습을 채용함
- (4) 유교를 국가 철학으로 지정함

31번과 32번 문제는 아래의 만화와 본인의 사회과학 지식을 바탕으로 답하십시오.



출처: Dana Summers, *The Orlando Sentinel*, 1989

31 이 1989년의 만화가 중국과 동독 두 정부에 대해 암시하는 내용은?

- (1) 군대를 정권에서 제거함
- (2) 독재 정치에서 파시즘으로 권력을 이동하게 함
- (3) 국민에게 통치 방법을 결정할 권리를 줌
- (4) 공산주의 정부를 유지하는 능력의 한계에 직면함

32 이 1989년의 만화에서 “햇불을 든 여인(Lady with the Light)”이 상징하는 중국의 사건은?

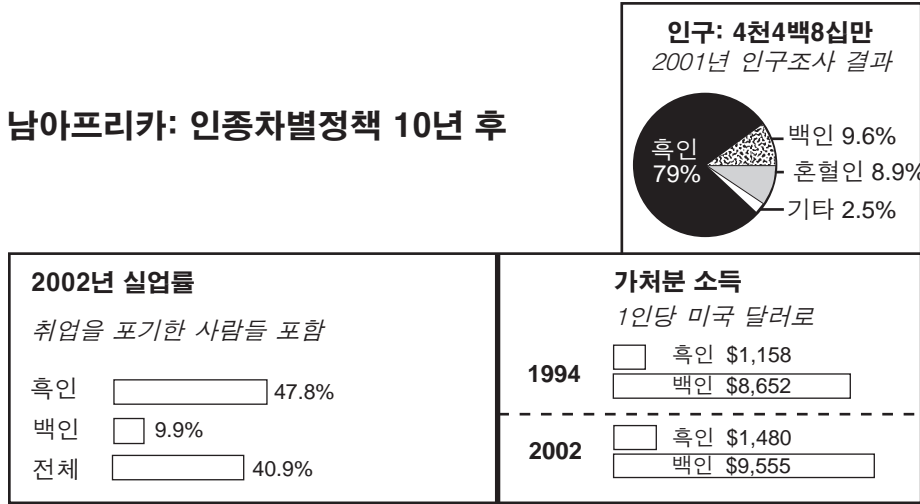
- (1) 대장정(Long March)
- (2) 대약진 정책
- (3) 문화 대혁명
- (4) 천안문 사건

33 국제 연합(the United Nations)에 대한 다음의 서술 중 개인적 의견이 아니고 사실인 것은?

- (1) 국제 연합에는 너무 많은 위원회가 있어 효율적이지 않다.
- (2) 국제 연합 본부를 유럽으로 이동한다면 더욱 효율적이 될 것이다.
- (3) 국제 연합은 창립 이래 계속 회원국을 늘려왔다.
- (4) 국제 연합은 대부분의 목적을 성공적으로 달성했다.

34번 문제는 아래의 도표와 본인의 사회과학 지식을 바탕으로 답하십시오.

남아프리카: 인종차별정책 10년 후



출처: New York Times, April 26, 2004 (개정판)

34 이 도표에서 남아프리카 공화국의 경제에 대해 이끌어낼 수 있는 결론은?

- (1) 인종차별정책이 폐지된 이래 대부분의 흑인들은 경제적인 평등을 얻었다.
- (2) 경제의 어떤 부문에서는 흑인들의 수입이 백인들보다 더 높다.
- (3) 인종차별정책이 폐지됨에도 불구하고 많은 흑인들은 계속 경제적인 어려움을 겪고 있다.
- (4) 흑인들을 위한 경제적 기회는 교육 개혁과 직접적인 관련이 있다.

35 다음 중 아랍-이스라엘 분쟁과 가장 깊은 관련이 있는 문서는?

- (1) 뵈푸어 선언(Balfour Declaration)
- (2) 교토 의정서(Kyoto Protocol)
- (3) 공산당 선언(*Communist Manifesto*)
- (4) 난징 조약(Treaty of Nanjing)

36 “수입 석유에 대한 의존이 중국, 유럽 및 미국에서 문제시 되다”

“코카 콜라, 인도에서 귀한 물 낭비로 비난받다”
“코발트 광산을 지배하려는 경쟁이 콩고 공화국에서 폭동을 일으키다”

이 기사 제목들이 가장 잘 보여주는 경제 개념은?

- (1) 인플레이션
- (2) 통상 금지
- (3) 상품에 대한 불매운동
- (4) 자원의 희소성

37 개발 도상국에서 급속한 산업화로 인해 주로 초래되는 현상은?

- (1) 도심지 안의 저조한 성장
- (2) 오염도의 감소
- (3) 직장에서 전통적인 사상의 유지
- (4) 빈부의 격차 증가

38 이집트의 아스완 댐(Aswan Dam)과 중국의 쑤샤 댐(Three Gorges Dam)이 갖고 있는 공통점 한 가지는?

- (1) 바닷물을 민물로 변환
- (2) 자연력을 동력화해서 에너지 생산
- (3) 농산물을 위한 비료 제공
- (4) 작은 수역을 더 큰 수역과 연결시킴

39번 문제는 아래의 지문과 본인의 사회과학 지식을 바탕으로 답하십시오.

... 끔찍한 사실은 테러리즘의 근본 원인들을 제거(파괴)하는 데 실패한 것이 테러리즘의 시대를 연장하게 될 것이 거의 분명하다는 것이다. 테러리즘의 근본 원인들이 제거될 수 있을지는 확실하지 않다. 과격주의자들의 비유를 맞추는 것은 쉬울지 모르지만 효과가 없을 수도 있다. 그들이 승리하도록 두는 것은 악의 우월함을 인정하는 것이 될 것이다. 민주주의와 개방 정치를 장려하는 것이 궁극적인 해결책일지는 모르지만 그것은 세계와 다양한 문화들에 대한 검증되지 않은 가설의 불안정한 개념적 토대에 근거한다.

유감스럽게도 현재 세계는 테러리즘의 위험성은 볼 수 있지만 해결책은 보지 못 하는 지점에 서있다. 더 안 좋은 사실은 해결책이 존재하지 않을 지도 모른다는 것이다.

- Steven Metz, "테러리즘에 대한 해결책은 있는가?," Project Syndicate

39 이 2006년은 글의 저자가 테러리즘에 대해 내린 결론은?

- (1) 테러리즘은 뿌리를 내리는 데 실패했다.
- (2) 테러리즘은 강력한 군사적 대응을 필요로 한다.
- (3) 테러리즘을 패배시킨다는 것은 대단히 어렵다.
- (4) 테러리즘은 외교로 극복할 수 있을 것이다.

40 알렉산더 대왕, 살라딘, 샤카 주루, 이 세 인물이 공통적으로 한 일 한 가지는?

- (1) 적군을 물리치기 위해 군사전략을 수행했다.
- (2) 정치적 권력을 정의하기 위해 헌법을 제정했다.
- (3) 종교 박해 증가를 위한 정책을 세웠다.
- (4) 인권 보호를 위한 법적 변경을 수행했다.

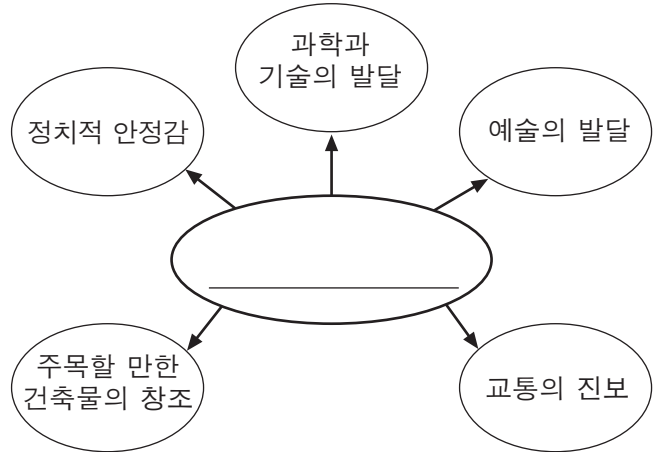
41 전통적인 힌두교의 카스트 제도와 식민지 시대 라틴 아메리카의 사회 계급 제도에서 보통 한 사람의 신분을 결정하는 것은?

- (1) 교육
- (2) 재산
- (3) 태생
- (4) 권력

42 마르코 폴로의 여행과 이븐 바투타의 여행의 공통점 한 가지는?

- (1) 유럽에서 대규모의 이동을 시작했다.
- (2) 다른 문화들에 대한 관심을 자극시켰다.
- (3) 식민지를 설립하는 결과를 가져왔다.
- (4) 아프리카에서 고고학적 발견을 가져왔다.

43번 문제는 아래의 도표와 본인의 사회과학 지식을 바탕으로 답하십시오.



43 이 도표의 제목으로 가장 알맞는 것은?

- (1) 잉카 황금시대의 특징
- (2) 국토 회복 운동(the Reconquista)의 동기
- (3) 레닌의 신경제정책의 결과
- (4) 마셜 플랜의 특징

44번 문제는 아래의 지문과 본인의 사회과학 지식을 바탕으로 답하십시오.

... 서기 632년 예언자 마호메트의 사망 이후 누가 그의 후계자가 될 것이냐에 관한 논란으로 인해 분열이 일어났다. 어떤 추종자들은 마호메트의 후계자는 부족의 여론에 의해 결정되어야 한다고 믿고 마호메트의 측근자들 중 한 명을 첫번째 칼리프 또는 영적지도자로 선택했다. 하지만 어떤 사람들은 후계자는 예언자의 가족 중에서 나와야 한다고 생각해서 마호메트의 사촌이자 사위였던 알리를 지명했다. . . .

출처: National Geographic, June 2004

44 이 글에 묘사되어 있는 상황이 초래한 사건은?

- (1) 러시아에서의 소수 민족 학살들
- (2) 콘스탄티노플의 멸망
- (3) 수니파와 시아파 분열
- (4) 신교도들과 구교도들간의 긴장

45번 문제는 아래의 목판화 그림과 본인의 사회과학 지식을 바탕으로 답하십시오.



출처: James L. Huffman, *Modern Japan, A History in Documents*,
Oxford University Press

45 이 목판화 그림이 보여주는 변화는 일본 역사 중 어느 시기에 일어난 일인가?

- (1) 헤이안 시대
- (2) 도쿠가와 막부
- (3) 메이지 유신
- (4) 미국 점령

46 다음 중 1300년과 1600년 사이에 국제 무역의 변화의 결과로 개발되기 시작한 경제체제는?

- (1) 사회주의 (3) 공산주의
- (2) 자본주의 (4) 장원제도

47 1400년대 말에 작은 범선, 나침반, 천문 관측 장치(astrolabe)를 모두 사용하여 일어난 일은?

- (1) 반투족의 이주
- (2) 남북 아메리카의 탐험
- (3) 동아시아에 불교 도입
- (4) 정화(Zheng He)의 항해

48 • 개인 성취에 중점을 둠
• 고전 그리스와 로마 문화의 사상 사용
• 레오나르도 다 빈치의 예술 작품

다음 중 위의 특징들과 가장 깊은 관련이 있는 시대는?

- (1) 헬레니즘의 황금시대
- (2) 중세 초
- (3) 유럽 르네상스
- (4) 과학 혁명

49 • 로마인들의 예루살렘 성전 파괴
• 영국 관리들의 인도 분할
• 르완다 내전의 후투족과 투치족의 전투

이 사건들이 초래한 공통적인 결과는?

- (1) 통일된 법률의 설립
- (2) 사람들이 고국을 떠나 이민을 감
- (3) 연합 군대 세력의 중재
- (4) 새로운 정치 경계선 인정

50 다음 중 20세기 공산주의 혁명의 주요 지지자 그룹은?

- (1) 성직자들과 장인들
- (2) 중산계급과 귀족
- (3) 사업가들과 자본주의자들
- (4) 노동자들과 농민들

이 페이지는 의도적으로 비워둔 것입니다.

다음 페이지로 가십시오. ⇨

에세이 문제의 답안은 별도의 에세이 책자에 작성하십시오.

파트 II의 답을 작성할 때 다음의 일반적 정의를 염두에 두십시오.

- (a) **설명하십시오**란 “이해하기 쉽고 분명하게 하고, 이유와 원인을 제공하며 논리적인 사고 전개와 관계를 보여준다”는 의미입니다.
- (b) **구체적으로 묘사하십시오**란 “무엇에 관해 글로 설명하거나 혹은 그것에 대해 말한다”는 의미입니다.
- (c) **논하십시오**란 “사실과 추론 및 논증을 이용하여 어떤 것에 대해 관찰하고, 어느 정도 상세한 정보를 포함하여 진술한다”는 의미입니다.

파트 II

주제형 에세이 문제

지시사항: 서론과 아래의 과제를 다루는 여러 개의 문단 및 결론을 포함하는 잘 구성된 에세이를 작성하십시오.

주제: 사상의 변화

개인들의 사상이 그룹과 국가 및 지역에 중요한 영향을 미쳐 왔습니다.

과제:

두 명의 인물을 선택하고 **각** 인물에 대해

- 그 인물이 개발한 특정한 사상 한 가지를 설명하십시오.
- 그 사상의 개발을 둘러싼 역사적 배경을 구체적으로 묘사하십시오.
- 그 사상이 그룹 **또는** 국가 **또는** 지역에 어떤 영향을 주었는지 논하십시오.

세계사를 통해 배운 중요한 영향을 준 사상을 소유한 인물들 중 누구든 선택할 수 있습니다. 다음의 제안을 참고해도 좋습니다. 공자, 니콜로 마키아벨리, 갈릴레오 갈릴레이, 존 로크, 시몬 볼리바르, 카를 마르크스, 케말 아타튀르크, 넬슨 만델라, 덩샤오핑, 미하일 고르바초프

선택할 수 있는 인물은 위에 제안된 인물에 국한되지 않습니다.

단, 미국 역사 인물은 선택대상에서 제외됩니다.

지침사항:

에세이 작성 시, 반드시

- 과제의 모든 측면을 전개시키십시오.
- 관련 사실과 사례 및 자세한 내용으로 주제를 뒷받침하십시오.
- 답안을 논리적이고 명확하게 구성하고 서론과 결론에서 주제를 단순히 반복하지 마십시오.

파트 III

문서에 기초한 문제

이 문제는 함께 제공되는 문서를 기반으로 합니다. 이 문제는 역사적 문서를 처리하는 능력을 시험하기 위한 의도로 고안되었습니다. 문서의 일부 내용은 이 문제의 목적에 맞게 편집된 것입니다. 문서를 분석할 때 각 문서의 출처와 문서에 나타난 관점을 참작하십시오.

역사적 배경:

역사 전반에 걸쳐 **사막**, **계절풍(몬순)** 및 **추운 기후**와 같은 지리적 요소들이 다른 지역들에 다양한 영향을 미쳤습니다.

과제: 문서들이 제공하는 정보와 본인의 세계사 지식을 활용하여 파트 A의 각 문서 뒤에 이어지는 문제들에 답하십시오. 이 문제들에 대한 답은 파트 B의 에세이를 작성하는데 도움이 될 것입니다. 참고로 아래는 파트 B에서 작성하게 될 에세이 문제입니다.

역사적 배경에 언급된 지리적 요소들 중 **두 가지**를 선택하고 **각** 지리적 요소에 대해

- 그 지리적 요소를 구체적으로 묘사하십시오.
- 그 지리적 요소가 특정한 한 지역이나 또는 여러 지역에 미친 영향들에 대해 논하십시오.

파트 III의 답을 작성할 때 다음의 일반적 정의를 참고하십시오.

- (a) **구체적으로 묘사하십시오**란 “무엇에 관해 글로 설명하거나 혹은 그것에 대해 말한다”는 의미입니다.
- (b) **논하십시오**란 “사실과 추론 및 논증을 이용하여 어떤 것에 대해 관찰하고, 어느 정도 상세한 정보를 포함하여 진술한다”는 의미입니다.

파트 A 단답형 문제

지시사항: 문서를 분석하고, 각 문서 아래에 있는 단답형 문제의 답을 주어진 공간에 쓰십시오.

문서 1

. . . 북아프리카 대초원의 건조함이 세계에서 가장 광대한 사막인 사하라 사막의 황량함으로 변한다. 사람들이 보통 사하라 사막을 생각하면 모래 언덕으로 이루어진 황야로 상상하는데 실상 사하라 사막은 가장 다양한 풍경을 가진 지역이다. 특이한 암석층과 높은 화산 봉우리로 이루어진 티베스티와 아하가르의 거대한 대산괴(고원)으로부터 시작해서 광대하게 뻗어있는 자갈 평양 또는 끊임없이 변하는 언덕들로 이루어진 넓고 긴 지대까지 그 풍경은 다양하다. 사하라 사막은 물이 전혀 없는 지역은 아니다. 어떤 부분, 특별히 북부 가장자리 부분은 풍성한 지하수 공급으로 풍부한 오아시스 문화를 유지할 수 있게 한다. 또한 사하라 사막은 초목이 전혀 없는 지역도 아니다. 그러므로 사람들은 사하라 사막 기후에도 오아시스 지역에서 경작자로 일하거나 다른 지역에서 목양업자(목자)로 일하며 생활을 유지할 수 있다는 걸 알게 되었다. . . .

출처: Robin Hallett, *Africa to 1875: A Modern History*, The University of Michigan Press, 1970

1 Robin Hallett에 의하면 사하라 사막의 특징 **한 가지**는 무엇인가? [1]

Score

문서 2

... 수 세기 동안 (북아프리카와 아프리카 내륙 사이) 이러한 접촉들은 사하라 사막 존재 자체로 인해 제한되었다. 면적이 3백만 평방 마일이 넘는 사하라 사막은 세계에서 가장 큰 사막이다. 낮의 기온이 화씨 120도까지 올라갈 수 있고 물이 부족해서 사하라 사막을 횡단하는 40일의 여행은 용기와 집념 그리고 치밀한 계획이 필요했다. 여행 중 일행으로부터 떨어진 여행자들은 거의 다시 볼 수 없었다. 사하라 횡단의 긴 여행은 서기 4세기 이후 말 대신 낙타를 사용하면서부터 다소 쉬워졌다. 낙타는 물 없이도 장거리를 갈 수 있고 낙타의 넓은 발굽이 모래 사이로 움직이는 것을 좀 더 수월하게 한다. 하지만 북아프리카와 아프리카 내륙 사이의 대대적인 접촉은 그 지역의 정치와 종교 생활에 획기적인 변화가 생겼던 7세기에서야 비로소 시작되었다. 이 즈음 이미 지중해와 중동의 예전 왕국들이 쇠퇴하고 있거나 폐허가 되어 있었다. 그 왕국들 대신 강력한 하나의 새로운 세력이 등장하였는데, 그것은 이슬람이었다. . . .

출처: Philip Koslow, *Ancient Ghana: The Land of Gold*, Chelsea House Publishers

2a Philip Koslow에 의하면 사하라 사막 횡단여행이 어려웠던 이유 **한 가지**는 무엇인가? [1]

Score

b Philip Koslow에 의하면 사하라 횡단을 좀 더 수월하게 하기 위해 4세기 후에 채용된 변화는 무엇인가? [1]

Score

문서 3

... 사막화는 12억 명의 사람들에게 직접적인 영향을 끼치고 있고 매년 점점 많은 경작지를 잃어가게 하고 있다. 이것은 수 년 동안 110개 국 이상의 국가 내의 정부와 원조 단체들에게 난제가 되어 왔으며, 또한 수단 공화국의 예와 같이, 빈곤과 지역 분쟁의 원인이 되고 있다. 또한 이것은 국토의 90%가 사막인 이집트에서도 큰 문제가 되고 있다. 인구 증가에 직면한 이집트 정부는 거주할 수 있고 작업할 수 있는 공간을 늘리기 위해 다수의 정착지 개발 및 관개 프로젝트를 착수해야 했다. 중국에서는 거의 국토의 3분의 2 그리고 4억이 넘는 사람들이 영향을 받고 있고, 그 중 가장 타격이 심한 지역은 중국 북서부의 고비 사막과 서부의 타클라마칸 사막이다...

출처: Ute Schaeffer, "Deutsche Welle reporters on the ground,"
Down to Earth: News & Views on Desertification,
UNCCD, June 2006, Volume 21

3 Ute Schaeffer에 의하면 사막화로 인해 지역들이 직면한 난제 **한 가지**는 무엇인가? [1]

Score

문서 4

인도의 아대륙

...오직 북부 산악지역에서만 기온이 영하로 내려간다. 더운 계절은 3월에 오는데 해안선 지역은 기온이 80도에서 90도 사이이고 인도 갠지스 평원은 100도를 훨씬 넘기도 한다. 장마철은 인도양에서 수분을 실어오는 남서 계절풍(몬순)으로 인해 오는데 6월부터 9월에 걸친 기간이다. 여기서 말하는 수분이란 서해안의 몇몇 지역과 북동부 말단 아삼주에서 많게는 450인치까지 내리는 강우량을 의미한다. 내륙지방과 동해안에서는 여름 계절풍이 수분을 이미 거의 다 잃었기에 강우량이 평균 40인치에서 80인치 정도 밖에 되지 않을 수도 있다. 벵갈 만으로부터의 수분은 인도의 북동부지역과 방글라데시에 120인치 정도의 비를 내리게 한다. 계절풍(몬순)은 한 계절 내내 부는 바람으로 일년에 두 번 찾아온다. 대부분의 아대륙에서는 북동계절풍 또는 겨울 계절풍이 내륙으로부터 바다로 불기 때문에 비가 거의 내리지 않는다. . . .

출처: James I. Clark, *India: The Subcontinent: India, Pakistan, and Bangladesh*, McDougal, Littell & Company

4 James I. Clark에 의하면 계절풍(몬순)이란 무엇인가? [1]

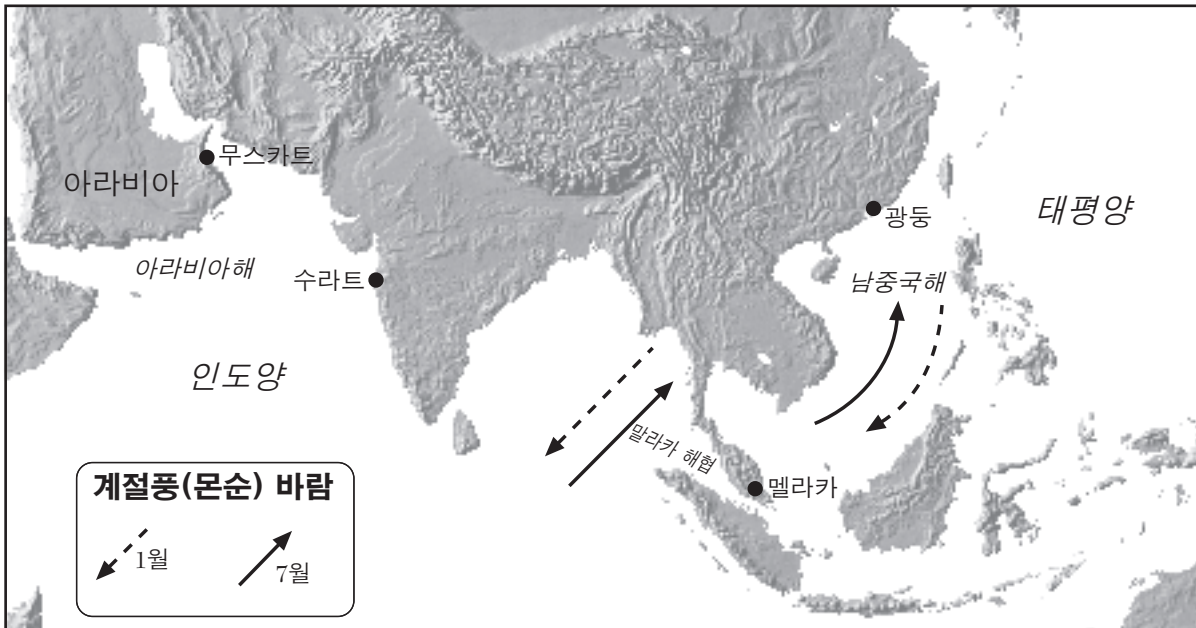
Score

문서 5a

. . . 자연은 운송을 제한(방해)함으로써 무역이 일어나는 때와 장소를 결정하기도 했다. 광둥(중국)에서부터 모카(남부 아라비아)까지 걸친 해양아시아 전체의 무역 일정은 계절풍(몬순) 바람에 의해 결정되었다. 강한 바람이 한 방향으로 수개월 동안 끊임없이 불다 그친 다음 또 반대 방향으로 수개월 동안 끊임없이 불었기 때문에 그 바람들을 거스르는 것은 합리적이지 않았다. 상인(대부분이 남자)은 한쪽 방향으로 최대한 갈 수 있을 때까지 간 후 바람의 방향이 반대 방향으로 바뀔 때까지 그곳에 머물렀다. 이 상인의 물품은 먼저 도착했던 다른 상인이 사갔으며, 그 상인은 다음 철 언제까지 최대한 길고 안전하게 그곳에 머무를 수 있는가를 정확히 알고 있었다. 이는 그가 집에 돌아가는 방향으로 부는 바람이 언제까지 부는 지를 잘 알고 있었기 때문이었다. 그러므로 중국 상인들에게는 두 철(및 해) 혹은 더 오랜 시간에 걸쳐 계절풍(몬순)을 겪으며 비단을 가지고 멀리 페르시아까지 항해하는 대신에, 한 계절풍 동안 항해하여 중간 지점에 위치한 중개자와 물품을 교환한 후 유향과 양탄자를 가지고 집으로 돌아가는 것이 더 합리적이었다. 여러 상업(무역 중심지)들이 멜라카(말라카), 수라트(인디아), 머스캣(오만)과 같은 위치에 발달되었는데, 이런 상업 중심지들의 위치는 지역에서 생산되는 물품에 따라 결정되기 보다는 상인들이 한 항해 계절 동안 얼마나 멀리 여행할 수 있는가에 의해 결정되었다. 그 결과로 아시아 해안을 따라 아주 활기차고 국제적인 항구도시들이 줄지어 생겨났다. 그러나 대부분의 경우 이러한 항구도시들은 육지 쪽으로 근접한 배후 지역(항구에 접한 내륙 지역)과는 활발한 교류가 없었다. . . .

출처: Pomeranz and Topik, *The World That Trade Created*, M. E. Sharpe, 1999 (개정판)

문서 5b



출처: "The West and the Spice Trade," Calliope, Cobblestone (개정판); Mountain High Maps, Digital Wisdom (개정판)

5 이 문서들에 의하면 계절풍(몬순)이 동남아시아의 무역에 끼친 영향 **한 가지**는 무엇인가? [1]

Score

1983년 여름



계절풍(몬순) 비로 인해 갠지스 강물이 독을 넘쳐 우타르프라데시 주의 바라나시(바나라스) 시가 홍수로 범람하면 미는 것이 페달 밟기를 대체한다. 작년 (1983년) 이 도시는 하수의 오수와 섞어가는 곡물 및 물에 떠다니는 동물의 시체가 섞인 물 아래에 잠겼다. 이 주의 다른 곳에서는 갑작스런 홍수로 기관차와 철도 차량 세대가 휩쓸려갔다.

출처: Priit J. Vesilind, "Monsoons: Life Breath of Half the World,"
National Geographic, December 1984, Photograph by Steve McCurry
(개정판)

6a 이 *National Geographic* 사진과 지문에 의하면 1983년 여름 계절풍(몬순)이 왔을 때 인도의 바라나시 지역의 주민들이 직면했던 문제 **한 가지**는 무엇인가? [1]

Score

문서 6b

늦은 계절풍(몬순)

6월 9일 [1984년]

. . . 자정에 숨막히는 정적이 내려 앉았다. 전기 배급 제한이 트리반드룸[시]의 일반 가정들에게까지 미치자 에어컨들이 딸꾹질 소리를 내며 꺼졌다. 중공업 사용자용 전기량은 이미 다 소비가 되었다. 현재 극장들은 하루에 한 번만 상영하도록 제한되었고 네온사인도 법적으로 금지되었으며 상점들은 해 지기 전에 문을 닫도록 강요받았다. . . .

비가 앞바다에서만 빙빙 맴돌자 인도 전역에 걸쳐 저수지 물이 줄어들어 웅덩이같이 되었다. 인도 전기의 절반 정도가 수력발전으로 생성된다. 즉 계절풍(몬순)으로 생산된다고도 할 수 있다. 정부 관계자들은 신문을 통해 비가 내리지 않아 선거 1년 전인 이 시점에 식량 생산이 지연(방해)되고 인플레이션이 악화되며 또 물가가 상승될 거라고 걱정을 털어놓았다. 유럽 방문 중에 있던 인디라 간디 국무총리는 자신에게 해주는 일 일 정치브리핑에 계절풍(몬순)에 대한 일기예보도 포함해줄 것을 요청했다. . . .

출처: Priit J. Vesilind, "Monsoons: Life Breath of Half the World," *National Geographic*, December 1984

6b 이 Priit J. Vesilind의 기사 발췌글을 바탕으로 할때, 계절풍(몬순)이 늦게 올 경우 인도 내 지역들이 직면하는 문제 **두 가지**를 서술하십시오. [2]

(1) _____

Score

(2) _____

Score

문서 7

. . . 러시아는 국토 크기와 빼곡한 배치로 인해 대체로 대륙성 기후를 갖는다. 국토의 대부분이 바다로부터 400킬로미터 이상 떨어져 있고, 중심은 바다로부터 3,840킬로미터 떨어져 있다. 게다가 주로 남부와 동부에 위치해 있는 러시아의 산맥들이 인도양과 태평양에서 오는 온화한 기온을 가로막고 있으며, 유럽에 속한 러시아와 북부 시베리아는 북극과 북대서양으로부터 그와 같은 지형상의 보호를 받지 못한다. . . .

길고 추운 겨울은 러시아 연방의 생활 거의 모든 면에 큰 영향을 주고 있다. 그것은 사람들이 어디서 얼마나 오랫동안 살고 일하며, 어떤 농작물을 재배하고 어디서 재배하는가에 (러시아에는 1년 내내 농사지을 수 있는 지역이 없다) 영향을 준다. 길고 혹독한 겨울과 더불어, 여름과 겨울 평균 기온의 지극히 변덕스러운 변화는 러시아 경제의 여러 부서에 특별한 요구사항을 강요한다. 영구 동토대 지역에서는 말뚝 위에 건물을 지어야 하고, 기계들은 특별히 단단한 강철로 만들어져야 하며, 또한 교통 시설은 극도로 낮거나 높은 기온에도 문제없이 작동할 수 있도록 설계되어야만 한다. 또한, 어둠과 추위가 장기간 지속될 때에는 에너지 및 의료, 의류 수요가 증가한다. . . .

출처: www.country-studies.com/Russia/climate.html

7 위의 Country Studies 정보에 따르면, 추운 겨울이 러시아의 영구 동토대 지역에 영향을 미치는 방법 **한 가지**는 무엇인가? [1]

Score

겨울 할아버지



출처 : Leslie Gilbert Illingworth, November 10, 1941,
Library of Wales, Aberystwyth (개정판)

8 위의 Leslie Gilbert Illingworth의 삽화에 의하면, “겨울 할아버지”는 러시아의 방위에 어떤 역할을 했는가? [1]

Score

문서 9

. . . 아르달린(러시아 북극의 한 지역)의 독특한 생태환경으로 인해 그 지역에서 일하고 있는 러시아인들과 서방의 직원들은 파손되기 쉬운 북극 툰드라의 생태환경을 보존할 수 있는 새로운 방법을 모색해야 했다. 툰드라는 특별히 여름에 피해를 입기 쉽기 때문에, 툰드라를 해로운 영향으로부터 보호하기 위하여 건축과 땅을 파는 작업은 겨울에만 수행되었다. 장비와 공급품을 먼 곳으로 운반하기 위하여 얼음 위에 도로가 만들어졌다. 땅이 녹으면, 헬리콥터를 사용하여 장비와 공급품을 운반했다. . . .

출처: IPIECA, "Conoco in the Russian Arctic: Preserving delicate Arctic ecology by minimizing the development footprint and environmental impact"

9 국제석유산업 환경보전연합(International Petroleum Industry Environmental Conservation Association, IPIECA)에 따르면, 러시아인들이 툰드라를 개발하는 난제에 적응한 **두 가지** 방법은 무엇인가? [2]

(1) _____

Score

(2) _____

Score

파트 B 에세이

지시사항: 서론과 여러 개의 문단 및 결론을 포함하는 잘 구성된 에세이를 작성하십시오. **최소 네 개의** 문서에서 근거를 찾아 에세이에 사용하십시오. 관련 사실과 사례 및 자세한 내용으로 본인의 답변을 뒷받침하십시오. 다른 출처의 정보를 추가 포함시키십시오.

역사적 배경:

역사 전반에 걸쳐 **사막, 계절풍(몬순) 및 추운 기후**와 같은 지리적 요소들이 다른 지역들에 다양한 영향을 미쳤습니다.

과제: 문서들이 제공하는 정보와 본인의 세계사 지식을 활용하여 다음 사항들에 맞게 에세이를 작성하십시오.

역사적 배경에 언급된 지리적 요소들 중 **두 가지**를 선택하고 **각** 지리적 요소에 대해

- 그 지리적 요소를 구체적으로 묘사하십시오.
- 그 지리적 요소가 특정한 한 지역이나 또는 여러 지역에 미친 영향들에 대해 논하십시오.

지침사항:

에세이 작성 시, 반드시

- 과제의 모든 측면을 전개시키십시오.
- **최소 네 개의** 문서로부터 찾은 정보를 포함시키십시오.
- 관련된 다른 출처의 정보도 포함시키십시오.
- 관련 사실과 사례 및 자세한 내용으로 주제를 뒷받침하십시오.
- 답안을 논리적이고 명확하게 구성하고 서론과 결론에서 주제를 단순히 반복하지 마십시오.

세계사 및 지리

2010년 6월 15일, **화요일** - 오후 1시 15분 - 오후 4시 15분까지만 실시

답안지

학생 성별: 남 여

교사

학교명

파트 I에 대한 답은 이 답안지에 기입하십시오. 파트 II 및 III B에 대한 답은 시험 책자에 기입하며, 파트 II 및 III B의 답은 별도의 에세이 책자에 기입하십시오.

| | |
|---------|---------|
| 1..... | 26..... |
| 2..... | 27..... |
| 3..... | 28..... |
| 4..... | 29..... |
| 5..... | 30..... |
| 6..... | 31..... |
| 7..... | 32..... |
| 8..... | 33..... |
| 9..... | 34..... |
| 10..... | 35..... |
| 11..... | 36..... |
| 12..... | 37..... |
| 13..... | 38..... |
| 14..... | 39..... |
| 15..... | 40..... |
| 16..... | 41..... |
| 17..... | 42..... |
| 18..... | 43..... |
| 19..... | 44..... |
| 20..... | 45..... |
| 21..... | 46..... |
| 22..... | 47..... |
| 23..... | 48..... |
| 24..... | 49..... |
| 25..... | 50..... |

| 교사 전용 | |
|---|---|
| Part I Score | _____ |
| Part III A Score | _____ |
| Total Part I and III A Score | <input style="width: 80px; height: 25px;" type="text"/> |
| Part II Essay Score | _____ |
| Part III B Essay Score | _____ |
| Total Essay Score | <input style="width: 80px; height: 25px;" type="text"/> |
| Final Score (obtained from conversion chart) | <input style="width: 80px; height: 25px;" type="text"/> |

No. Right

시험을 완료한 학생은 아래 진술문에 서명해야 합니다.

본인은 시험을 치르기 이전 문제나 답에 대해 어떠한 불법적인 사전 지식도 없었으며 시험을 치르는 동안 문제를 푸는 데 있어 어떠한 도움도 주고 받은 사실이 없음을 본 시험의 종료와 함께 확인하는 바입니다.

서명

정답지

정답지

