

# 세계사 및 지리

2016년 1월 26일 **화요일** — 오전 9시 15분 - 오후 12시 15분까지만 실시

학생 이름 \_\_\_\_\_

학교명 \_\_\_\_\_

**이 시험 중에는 모든 통신 장비의 소지 및 사용을 철저히 금지합니다. 잠시라도 통신 장비를 소지하거나 사용할 경우, 시험은 무효화되며 시험 점수를 받을 수 없게 됩니다.**

위 칸에 자신의 이름과 학교명을 인쇄체로 기입하십시오. 파트 I에 대한 별도의 답안지가 제공되었습니다. 감독관의 지시에 따라 답안지에 학생 정보를 기입하십시오. 그런 다음, 에세이 책자 각 페이지 윗부분에 기입하십시오.

이 시험은 세 파트로 구성되어 있습니다. 모든 파트의 **모든** 질문에 답하십시오. 파트 II, 파트 III A, 그리고 파트 III B의 답안을 작성할 때는 검정색이나 진한 청색 펜을 사용하십시오.

**파트 I**에는 50개의 선다형 문제가 있습니다. 이 문제들에 대한 답은 답안지에 지시된 대로 기입하십시오.

**파트 II**에는 한 개의 주제를 다루는 에세이 문제가 있습니다. 이 문제에 대한 답은 에세이 책자 1페이지부터 기입하십시오.

**파트 III**는 여러 개의 문서에 기반을 둡니다.

**파트 III A**에 그 문서들이 포함되어 있습니다. 시험의 이 파트를 하게 될 때, 이 부분의 첫 페이지에 자신의 이름과 학교명을 기재하십시오.

각 문서에는 하나 이상의 문제가 따릅니다. 각 문제의 답은 이 시험책자 안의 문제 아래에 있는 칸에 기입하십시오.

**파트 III B**에는 그 문서들을 바탕으로 하는 한 개의 에세이 문제가 있습니다. 이 문제에 대한 답은 에세이 책자 7페이지부터 기입하십시오.

시험을 마친 후, 답안지 마지막 부분에 인쇄된 진술문에 서명함으로써 이 시험을 치르기 전에 문제나 답에 대한 불법적인 지식이 없었으며 시험을 치르는 동안 어떤 문제에 답하는 데 있어서도 도움을 주거나 받지 않았음을 표시하십시오. 이 진술문에 서명하지 않은 학생의 답안지는 인정하지 않습니다.

**지시가 있을 때까지 이 시험 책자를 열지 마십시오.**

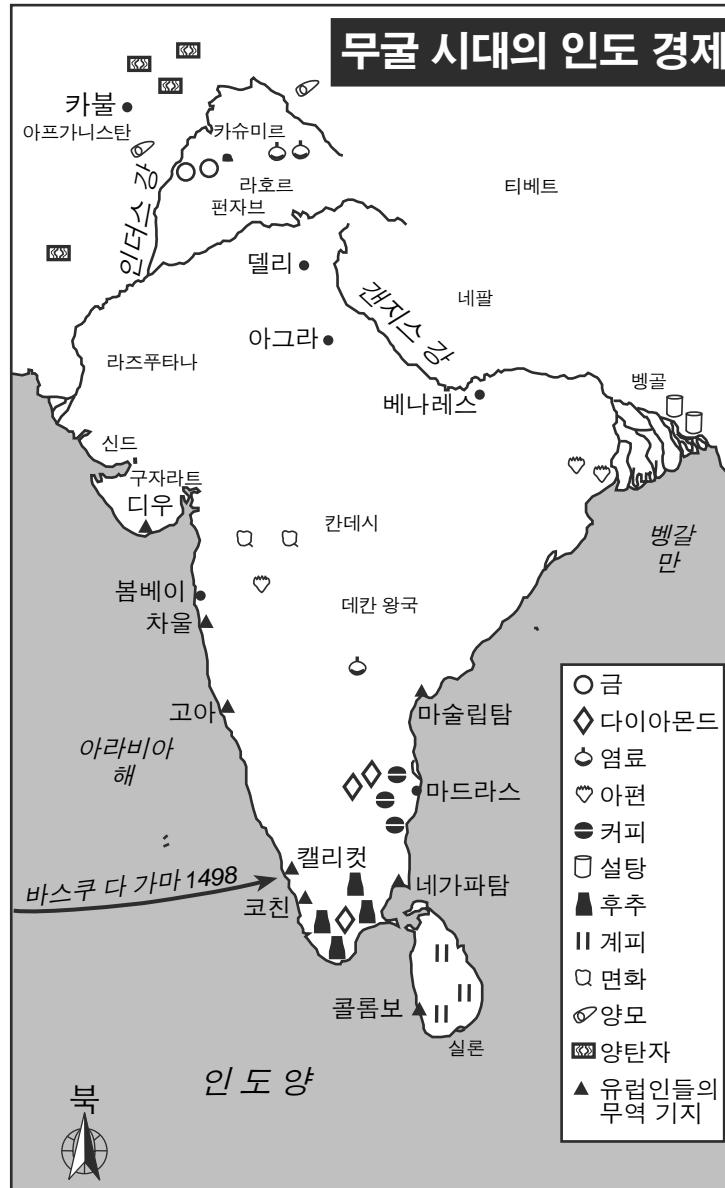
## 파트 I

### 이 파트의 모든 문제에 답하십시오.

지시사항 (1-50): 각 문제에 가장 적절한 답의 번호를 별도의 답안지에 기입하십시오.

- 1 다음 중 희소성, 자원 및 이윤 동기에 관한 연구에 중점을 두는 사회 과학자들은?  
(1) 고고학자들 (3) 경제학자들  
(2) 역사가들 (4) 사회학자들
- 2 지리학자는 주로 다음 중 어느 것을 함으로써 패턴들과 과정들을 이해하고 해석하고자 합니까?  
(1) 정치 이론을 조사함  
(2) 구전 역사를 입증함  
(3) 수요와 공급 모델을 연구함  
(4) 다양한 규모의 공간적 데이터를 분석함
- 3 과반수를 차지하는 당이 없는 여러 개의 정당들이 있는 의회 체제에서, 선거는 대개 어떤 결과를 가져옵니까?  
(1) 명령 경제  
(2) 종교적 갈등  
(3) 연합 정부  
(4) 분리주의 운동
- 4 신석기 시대 동안 일부 영구적인 정착지 건설에 가장 큰 영향을 미쳤던 요인은?  
(1) 잉여 식량의 생산  
(2) 동굴에 그린 벽화들  
(3) 불을 이용하는 능력  
(4) 낚시 그물의 도입
- 5 로마인들이 그들의 제국을 통일하는 데 가장 중요한 도움을 주었던 지리적 요인은?  
(1) 알프스 산맥 (3) 지중해  
(2) 티베르 강 (4) 그레이트 리프트 밸리
- 6 다음 중 유교, 불교 및 힌두교의 발상지는?  
(1) 아프리카 (3) 유럽  
(2) 아시아 (4) 남아메리카
- 7 다음 중 초기 중국과 일본 간의 문화적 다리 역할을 했던 지역은?  
(1) 페르시아 (3) 인도  
(2) 러시아 (4) 한국
- 8 아프리카에서 이슬람교 종교 지도자들의 역할은 무엇이었습니까?  
(1) 사성제의 전파  
(2) 조상 숭배 중요성을 강조  
(3) 카스트 제도를 장려  
(4) 쿠란(코란)의 가르침을 도입
- 9 아바스 왕조와 움마야드 왕조는 다음 중 어느 것과 가장 밀접한 연관이 있습니까?  
(1) 서로마 제국의 멸망을 초래함  
(2) 이슬람 황금 시대를 탄생시킴  
(3) 말라카 해협에서의 무역을 장악함  
(4) 나침반과 화약을 발명함
- 10 유럽의 장원 제도는 다음 중 어느 것과 가장 밀접한 연관이 있습니까?  
(1) 사회적 계급 이동을 촉진함  
(2) 학습을 부활시키고 보존함  
(3) 사회의 영적 필요에 부응함  
(4) 경제적 자급자족을 유지함

11번과 12번의 문제는 아래의 지도와 자신의 사회과학 지식을 바탕으로 답하십시오.



출처: World History: Patterns of Interaction: In Depth Resources, McDougal Littell, 1999 (개정판)

- 11 이 지도에 의하면, 유럽인들의 대부분의 무역 기지들이 위치했던 지역은?  
 (1) 갠지스 강 강변 (3) 아라비아 해 해안  
 (2) 인더스 강 강변 (4) 벵갈 지역의 만
- 12 다음 중 이 지도에 나타난 정보에 의하여 가장 잘 뒷받침되는 무굴 시대 동안의 인도 경제에 대한 결론은?  
 (1) 계피와 후추가 카슈미르의 주요 생산품이었다.  
 (2) 대부분의 직물과 관련된 상품들은 데칸 왕국 북쪽에서 생산되었다.  
 (3) 다이아몬드와 금은 벵갈 지역에서 채굴되었다.  
 (4) 많은 열대 생산품들이 델리 인근에서 재배되었다.

13번 문제는 아래의 만화와 자신의 사회과학 지식을 바탕으로 답하십시오.

### 비텐베르크 교회



출처: Paula J. Becker (개정판)

13 다음 중 이 만화에서 보여지는 일의 결과로써 시작된 시대는?

- (1) 이탈리아 르네상스
- (2) 종교 개혁
- (3) 과학적 혁명
- (4) 명예 혁명

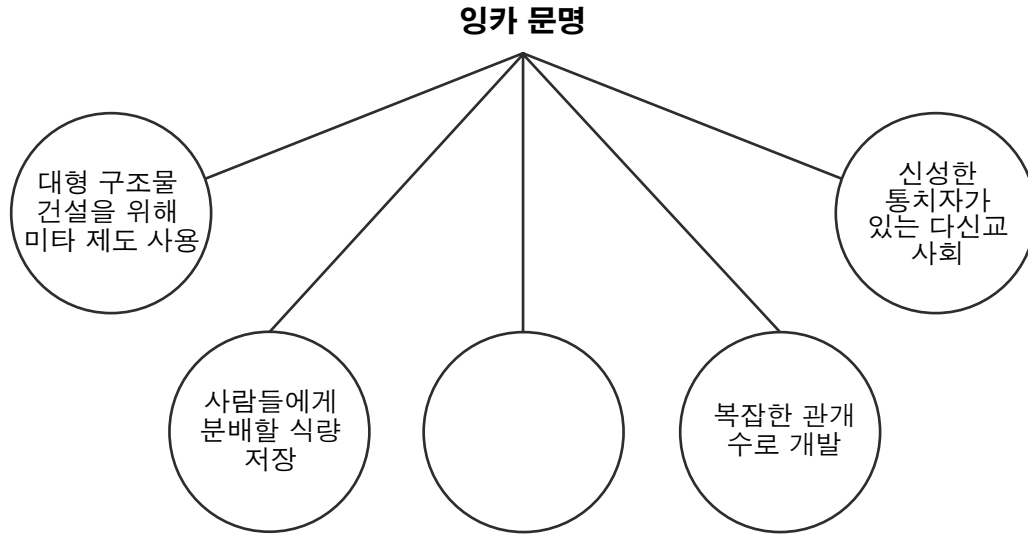
14 가나와 말리 왕국이 번성하고 강력해진 이유는 무엇이었습니까?

- (1) 그들이 금과 소금 무역에 참여했기 때문
- (2) 이집트인들이 그들에게 군사적 보호를 제공했기 때문
- (3) 그들이 사회를 통제하기 위해 율법주의에 의존했기 때문
- (4) 그들이 기독교 선교사들에게 거둬들인 세금 수입 때문

15 중국이 중화 제국이었다는 중국인들의 신념은 다음 중 어느 것의 한 예입니까?

- (1) 치외 법권
- (2) 자기 민족 중심주의
- (3) 효
- (4) 천명

16번 문제는 아래의 도표와 자신의 사회과학 지식을 바탕으로 답하십시오.



16 다음 중 이 도표를 가장 잘 완성하는 구절은?

- (1) 수천만 마일의 도로 건설
- (2) 대규모의 해군 함대 유지
- (3) 수백 권의 책들로 가득찬 국립 도서관 설립
- (4) 낙타 대상에 의존

- 17 • 일부 중앙아시아 유목민들은 실크 로드를 따라 무역을 발전시킴으로써 그들의 생계를 유지했다.
- 중앙아시아 유목민들은 기후적인 변화가 그들의 식량 공급에 영향을 미칠 때 마을과 도시를 침략했다.
  - 일부 중앙아시아 유목민들은 이슬람교를 채택했으며 일부는 이슬람 문화를 받아들였다.

중앙아시아 유목민들에 대한 다음의 일반화 중, 위의 서술들에 의해 가장 잘 뒷받침되는 것은?

- (1) 그들은 정착 사회들에 거의 문제를 일으키지 않았다.
- (2) 그들은 공동의 적을 물리치기 위해 이웃의 정착민들과 연합했다.
- (3) 그들은 정착 사회들과 교류했다.
- (4) 그들은 그들의 정착 이웃민들의 문화에 거의 기여하지 않았다.

18 오스만 투르크가 콘스탄티노플을 전략적으로 중요하게 여겼던 이유는?

- (1) 콘스탄티노플이 선지자 무하메드의 탄생지였기 때문
- (2) 콘스탄티노플이 그들로 하여금 바티칸을 장악할 수 있게 해줄 것이었기 때문
- (3) 콘스탄티노플이 유럽과 아시아 간의 교차로였기 때문
- (4) 콘스탄티노플이 그들로 하여금 페르시아만으로 접근할 수 있게 해줄 것이었기 때문

19 중국의 영락제에 의해 허가된 정허의 항해들과 스페인의 페르디난드 국왕과 이사벨라 여왕에 의해 원조된 탐험들 간의 유사점 한 가지는?

- (1) 이 항해들과 탐험들이 현재의 상황을 유지하기 위한 점점 더 많은 노력을 초래했다
- (2) 이 항해들과 탐험들이 무력과 문화 확산을 초래했다
- (3) 이 항해들과 탐험들이 식민지 제국의 탄생을 초래했다
- (4) 이 항해들과 탐험들이 경쟁국들 간의 해상 전쟁을 초래했다

20 다음 중 라틴아메리카로 알려진 지역에 위치한 나라는?

- (1) 포르투갈                      (3) 베트남
- (2) 소말리아                    (4) 아르헨티나

21 다음 중 스페인이 아메리카 대륙을 식민지화함으로써 발생한 의도하지 않았던 결과는?

- (1) 무역 흑자를 확립함
- (2) 엔코미엔다 체제를 도입함
- (3) 전염병들을 전파시킴
- (4) 새로운 대륙에서 자원들을 착취함

22 술레이만 1세와 루이 14세의 유사했던 점 한 가지는?

- (1) 정치 권력을 중앙 집권화하였다
- (2) 새로운 국가 종교를 도입하였다
- (3) 귀족의 권한을 강화시켰다
- (4) 농부들을 봉건적인 의무로부터 해방시켰다

23 16세기와 17세기에 태양 중심설이 어느 것 사이의 주요 논쟁거리가 되었습니까?

- (1) 자본주의와 공산주의
- (2) 과학과 종교
- (3) 식민주의와 민족주의
- (4) 분리주의와 세계주의

24 계몽주의 사상이 프랑스 혁명에 어떠한 영향을 주었습니까?

- (1) 미신과 무지를 장려했다.
- (2) 중상주의 원칙들을 미화했다.
- (3) 왕의 신성한 권리 이론을 도전했다.
- (4) 범죄 행위에 대한 처벌들이 복수에 기반했다.

25 라틴아메리카의 지리학적인 다양성은 새롭게 독립한 국가들에 어떠한 영향을 미쳤습니까?

- (1) 크리올의 군사력을 제한함
- (2) 교회가 토지 개혁을 보장하도록 함
- (3) 정치적 통합을 어렵게 함
- (4) 스페인에 대한 의존을 필요하게 함

26 다음 중 나폴레옹이 러시아의 지리를 이해하지 못한 것에 대한 결과를 가장 잘 묘사하는 것은?

- (1) 발트 해의 거친 파도가 그의 함대를 파괴하였다.
- (2) 혹독한 겨울이 그의 군대에 대한 보급품을 단절시켰다.
- (3) 그의 군대는 높은 우랄 산맥을 횡단하지 못했다.
- (4) 장기간의 더위와 수분 부족이 그의 군대를 압도했다.

27번 문제는 아래의 발췌문과 자신의 사회과학 지식을 바탕으로 답하십시오.

... 식사 시간을 제외하고, 규정된 노동 시간이 열 시간을 넘지 않는 경우가 드물었으며; 어느 경우에는 열 한시간이었고, 더 흔하게는 열 두시간이었으며; 많은 경우 근무는 열다섯 시간, 열여섯 시간, 심지어는 열여덟 시간까지 연이어 계속되었다.

대부분의 경우 아동들의 노동 시간은 어른들과 같았으며; 쉬는 시간 없이 열여섯 시간, 심지어는 열여덟 시간 동안 일해야 했다....

— *The Physical and Moral Condition of the Children and Young Persons Employed in Mines and Manufactures*, 1843

27 이러한 유형의 증거는 다음 중 어느 것을 주장하는 데 사용되었습니까?

- (1) 자유방임주의적 관행을 수정
- (2) 공산주의의 확장을 반대
- (3) 투표권을 제한
- (4) 토지 소유 체제를 개혁

28번 문제는 아래의 글과 자신의 사회과학 지식을 바탕으로 답하십시오.

... 모든 생산 설비의 급격한 개선과 통신 수단의 거대한 발전으로 인해, 자본가 계급은 대부분의 미개한 나라를 포함한 모든 국가들을 문명으로 끌어들이고 있습니다. 그들이 만든 물품들의 저렴한 가격은 매우 강력한 무기가 되는데 이는 중국의 모든 벽을 무너뜨리고, 미개한 나라의 매우 완고한 [끈질긴] 외국인들에 대한 증오를 굴복하게 [포기하게] 만듭니다. 이는 소멸의 고통에 있는 모든 국가들에게 자본가의 생산 방식을 채택하도록 강요하며; 소위 문명화라고 불리는 것을 그들의 내부로 도입할 것을 강요하는 데, 이는 이들 자신이 곧 자본가 계급이 되는 것을 뜻합니다. 한마디로 말해, 이는 자신의 형상을 따서 또 하나의 세계를 만드는 것입니다...

- Karl Marx and Friedrich Engels

28 다음 중 이 글에 표현된 관점을 지지하는 것은?

- (1) 자본가 계급은 시장 개척을 위해 군사력을 사용할 필요가 있다.
- (2) 자본가 계급은 미개한 나라들과 비교할 때 뒤쳐져 있다.
- (3) 외국인들과 자본가 계급은 문화의 소멸을 막기 위해 함께 힘을 합쳐야 한다.
- (4) 저렴한 가격과 산업 개선들은 자본가 계급이 자신들의 가치 관념을 강요하는데 쓰는 도구들이다.

29 • 1791—여자와 여성 시민의 권리 선언 (프랑스)

- 1829—사티의 금지 (인도)
- 1857, 1882—기혼 여성의 재산법 (영국)

다음 중 여성에 관한 이 국제적인 발전들에 의해 제안되는 인식의 변화는?

- (1) 여성의 정치적 권한의 감소
- (2) 여성의 경제적 지위의 감소
- (3) 여성의 대우에 대해 늘어나는 관심
- (4) 전세계적으로 여성의 착취 증가

30 아이티 혁명과 세포이의 항쟁은 다음 중 어느 것에 대한 반응으로 발생했습니까?

- (1) 유럽의 식민지 정책들
- (2) 토착 민족 간의 경쟁들
- (3) 도시 개발
- (4) 종교적 분리

31번 문제는 아래의 광고문과 자신의 사회과학 지식을 바탕으로 답하십시오.

**광고!**

대서양 횡단 여행을 하려는 여행객들은 독일 및 독일의 연합국들과 영국 및 영국의 연합국들 사이에 전쟁이 있으며; 전쟁 지역은 영국 제도에 인접하는 해역을 포함하며: 독일 제국 정부에 의해 공식적으로 통보된 바에 따라 영국의 국기나 영국 연합군의 국기를 달고 항해하는 모든 배들은 이 해역에서 격침될 수 있으며 이 전쟁 지역에서 항해하는 영국이나 혹은 영국 연합국들의 배를 타는 여행자들은 이러한 위험이 있음을 상기하여야 합니다.

독일 제국 대사관,  
워싱턴 D. C., 1915년 4월 22일

출처: *New York Times*, May 1, 1915 (개정판)

31 다음 중 위의 독일의 광고문과 가장 밀접하게 연관이 있는 제1차 세계대전의 기술적인 혁신은 어느 것입니까?

- (1) 탱크
- (2) 비행기
- (3) 잠수함
- (4) 기관총

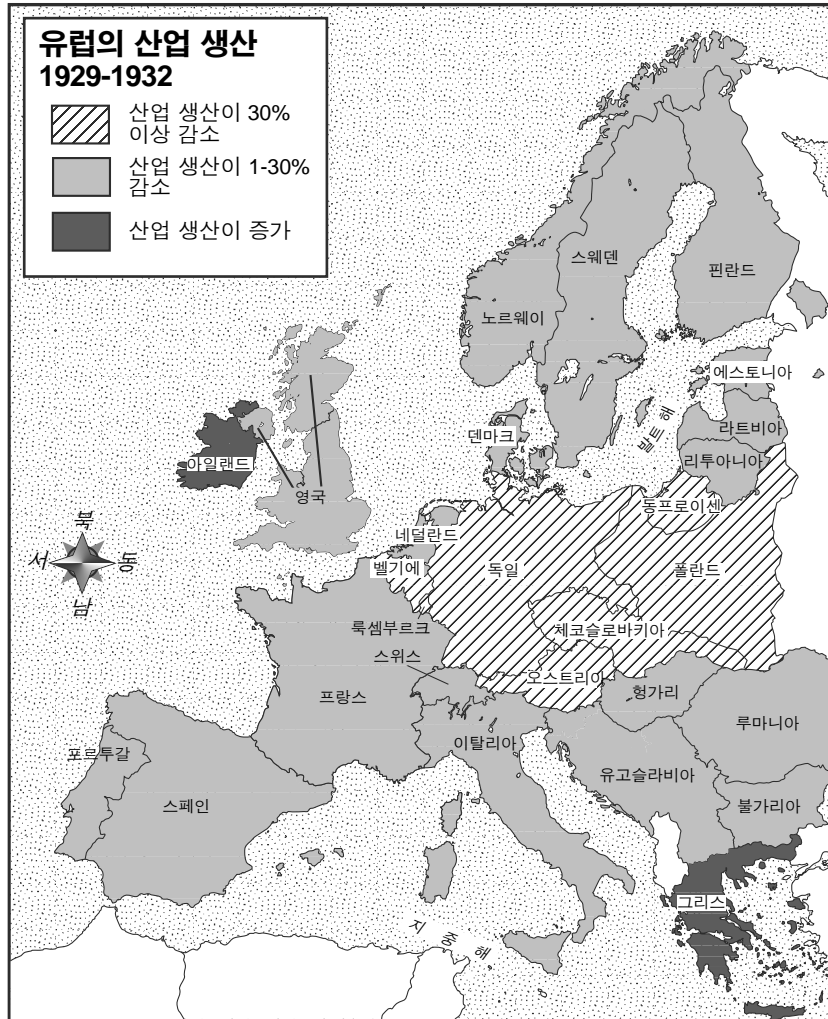
32 시오니즘의 주된 목표는 무엇이었습니까?

- (1) 중국에 대표 정부를 형성하는 것
- (2) 팔레스타인 지역에 유대인 조국을 건설하는 것
- (3) 개발 도상국들에서 향상시키는 것
- (4) 세계 분쟁을 해결하기 위한 국제 평화 유지 기구를 창설하는 것

33 소련에서 일어난 다음의 사건들 중 나머지 세 가지 사건의 직접적인 원인이 된 것은?

- (1) 우크라이나의 기근
- (2) 5년 계획의 실행
- (3) 집단 농장의 설립
- (4) 중공업의 발전

34번 문제는 아래의 지도와 자신의 사회과학 지식을 바탕으로 답하십시오.



출처: World History on File, Facts on File (개정판)

34 이 지도에 의하면, 1929년과 1932년 사이에 가장 심한 산업 생산의 축소를 겪었던 지역은?

- (1) 서유럽
- (2) 북유럽
- (3) 중유럽
- (4) 동남유럽

35 극단적인 민족주의, 국가를 위해 존재하는 개인들, 그리고 지도자에 대한 무조건적인 충성은 다음 중 어느 것을 정의하는 특징들입니까?

- (1) 파시즘
- (2) 자유주의
- (3) 민주주의
- (4) 신권정치

36 북대서양 조약 기구(NATO)의 형성에 반응하여 소련이 창설한 것은?

- (1) 마셜 안
- (2) 바르샤바 협정
- (3) 트루먼 독트린
- (4) 유럽 연합



37번 문제는 아래의 삽화와 자신의 사회과학 지식을 바탕으로 답하십시오.



출처: Leslie Illingworth, June 23, 1941, The National Library of Wales (개정판)

37 이 삽화에 표현된 히틀러의 행동은 스탈린이 어떤 일을 하도록 만들었습니까?

- (1) 유화 정책을 채택함
- (2) 독일의 산업을 장악함
- (3) 독일에 맞서 싸우는 연합국들에 동참함
- (4) 소련의 군대 규모를 줄임

38 다음 중 20세기 중동 지역의 문화와 역사에 있어서의 지리학적 영향에 관하여 가장 정확한 것은?

- (1) 사막들이 군사적인 침입을 막았다.
- (2) 불균형한 자원의 분배가 갈등을 야기시켰다.
- (3) 풍부한 물이 농업적인 자급자족에 기여하였다.
- (4) 산맥들이 문화적인 확산을 막았다.

39번과 40번의 문제는 아래 노랫말과 자신의 사회과학 지식을 바탕으로 답하십시오.

### 동쪽은 붉어라

동쪽은 붉어라, 태양이 떠오르네.  
중국에 마오쩌둥이 나타나셨네.  
그가 인민들을 부자로 만드네,  
만세, 그는 인민들의 구원자로다.

마오 주석은 인민들을 사랑하며,  
새로운 중국을 건설할  
우리의 지도자로다,  
만세, 그가 우리를 앞으로 이끄시도다!

공산당은 태양과 같아,  
비추는 곳마다 밝게 빛나네.  
공산당이 있는 곳마다,  
만세, 인민들이 해방되도다!

39 1960년대의 이 중국 노래의 주된 사상은 무엇입니까?

- (1) 중국 공산주의에 태양은 절대 지지 않을 것이다.
- (2) 공산주의 정책이 마오쩌둥을 해방시킬 것이다.
- (3) 중국 인민들은 공산주의 체제 아래에서 부유해질 것이다.
- (4) 새로운 중국을 건설하는 데 있어 마오쩌둥이 공산당을 이끌 것이다.

40 1960년대의 이 중국 노래는 다음 중 어느 기간 동안 불렸을 가능성이 가장 높습니까?

- (1) 홍콩의 반환
- (2) 문화 혁명
- (3) 의화단 운동
- (4) 천안문 광장 사건

41 냉전 기간 동안, 인도가 미국이나 소련 그 어느 쪽도 지지하지 않았던 결정은 다음 중 어느 정책에 기반한 것이었습니까?

- |           |          |
|-----------|----------|
| (1) 비동맹주의 | (3) 봉쇄   |
| (2) 고립주의  | (4) 분리주의 |

- 42 • 베트남이 정글이 우거진 곳으로 사라졌다.  
 • 모래바람이 이라크에서 헬리콥터가 비행하는 것을 막았다.  
 • 아프간의 산악지역 동굴들이 오사마 빈 라덴의 은신처가 되었다.

다음 중 이 상황들에 가장 잘 적용될 수 있는 일반화는?

- (1) 발전된 기술이 승리를 보장한다.  
 (2) 종교적 갈등이 종종 분쟁을 야기한다.  
 (3) 대부분의 군사적 대립에는 생물학적 무기들이 사용된다.  
 (4) 지리는 종종 분쟁의 과정 중에 영향을 미친다.
- 43 지구 온난화 문제를 해결하는 정책을 만드는 데 있어서 가장 주된 장애물은 어느 사이의 갈등입니까?  
 (1) 이주 노동력과 토착 노동자들  
 (2) 사회주의 정부와 민주주의 정부  
 (3) 핵무기를 소지하고 있는 나라들과 핵무기를 소지 않은 나라들  
 (4) 경제 발전과 환경 보호
- 44 가축들을 풀과 관목에 지나치게 많이 방목하게 하는 것과 연료를 위해 나무를 벌채하는 관습들은 다음 중 어느 것을 야기했습니까?  
 (1) 해안의 오염                      (3) 산성비  
 (2) 사막화                              (4) 염분 제거
- 45 1970년대 후반, 중국 정부는 한 자녀 정책을 수립하였는데, 이는 중국의 지도자들이 인구 성장이 다음 중 어느 것과 직접적인 상관관계가 있다는 것을 깨달았기 때문입니까?  
 (1) 군사력                              (3) 사회적 이동성  
 (2) 경제적 발전                      (4) 정치적 관용

- 46 인도의 두 지도자들 아쇼카 대왕과 아크바 대왕은 다음 중 어느 것을 공통적으로 장려했던 것으로 알려졌습니까?  
 (1) 종교적 관용 정책  
 (2) 죄수들의 노예화  
 (3) 힌두교 신자들에 대한 특별세 부과  
 (4) 불교의 전파

- 47 러시아가 정통 기독교와 키릴 문자를 채택한 것은 다음 중 어느 것을 입증합니까?  
 (1) 이븐 바투타의 여행이 미친 영향  
 (2) 개혁 기간 동안의 출판의 역할  
 (3) 표트르 대제의 지도력  
 (4) 비잔틴 제국의 영향

- 48 1914년 세르비아에 대한 오스트리아-헝가리의 최후 통첩과 2001년 아프가니스탄에서 시작된 미국의 군사 조치는 다음 중 어느 것에 대한 반응이었습니까?  
 (1) 제국주의                              (3) 공산주의  
 (2) 고립주의                              (4) 테러리즘

- 49 다음 중 1959년의 쿠바 혁명과 가장 직접적인 연관이 있는 지도자들은?  
 (1) 에밀리아노 사파타와 프란시스코 빌라  
 (2) 후안 페론과 우고 차베스  
 (3) 피델 카스트로와 체 게바라  
 (4) 베르나르도 오이긴스와 미겔 이달고


50번 문제는 아래의 사진들과 자신의 사회과학 지식을 바탕으로 답하십시오.

**케말 아타튀르크**



출처: İlhan Akşit, Compiler,  
*Mustafa Kemal Atatürk*, Akşit

**레자 팔라비**



출처: Iran Politics Club online,  
Mohamad Reza Shah Pahlavi Photo Album

50 이 사진에서 보이는 터키의 케말 아타튀르크와 이란의 레자 팔라비가 입은 옷의 스타일은 이 지도자들이 다음 중 어느 것을 원했던 것을 가리킵니까?

- (1) 그들의 나라를 서구화하기
- (2) 민족주의 운동을 지지하기
- (3) 근본적인 이슬람 원칙을 강화하기
- (4) 그들 나라의 물리적 기후에 적응하기

에세이 문제의 답은 별도의 에세이 책자에 쓰십시오.

파트 II의 답을 작성할 때, 다음의 일반적 정의를 참고하십시오.

**논하십시오**란 “사실과 추론 및 논증을 이용하여 어떤 것에 대하여 관찰하고, 어느 정도 상세한 정보를 포함하여 서술한다” 는 의미입니다

## 파트 II

### 주제형 에세이 문제

지시사항: 서론, 아래 과제를 다루는 여러 개의 문단 및 결론을 포함하는 잘 구성된 에세이를 작성하십시오.

#### 주제: 제국주의

1500년 이후, 여러 국가들은 다양한 이유로 제국주의라고 알려진 팽창주의 정책을 추구해왔습니다. 이 정책의 영향은 다양한 관점들에서 살펴볼 수 있습니다.

#### 과제:

1500년 이후 제국주의에 가담한 국가 **하나**를 선택하고

- 이 국가가 제국주의에 가담한 이유를 논하십시오
- 제국주의의 영향을 정복 당한 사람들이나 사회의 관점에서 **그리고/또는** 정복자의 관점에서 논하십시오

세계사와 지리 공부를 통해 배운 1500년 이후 제국주의에 가담한 나라 중 어느 나라를 사용해도 됩니다. 고려해볼 만한 나라로는 포르투갈, 스페인, 영국, 프랑스, 이탈리아, 벨기에 및 일본 등이 있습니다.

**답안에 사용할 수 있는 것은 위에 제안된 것에 국한되지 않습니다.**

**단 답변의 초점으로 미국을 사용하지 마십시오.**

#### 지침사항:

##### 에세이 작성 시, 반드시

- 과제의 모든 측면을 전개시키십시오
- 관련 사실, 사례 및 상세한 정보로 주제를 뒷받침하십시오
- 주제의 단순 반복이 아닌 서론과 결론을 포함한 논리적이고 명확한 구성 계획을 사용하십시오

## 파트 III

## 문서에 기초한 문제

이 문제는 주어진 문서들을 바탕으로 합니다. 이 문제는 역사적 문서를 처리하는 능력을 시험하기 위한 의도로 고안되었습니다. 문서들의 일부 내용은 이 문제의 목적에 맞도록 편집되었습니다. 문서들을 분석할 때, 각 문서의 출처와 문서에 나타난 관점을 참작하십시오. 각 문서에 사용된 언어는 그 문서가 쓰여진 시기의 역사적인 상황을 반영할 수 있다는 점을 참고하십시오.

## 역사적 배경:

역사 전반에 걸쳐, 정부들은 여러가지 이유로 법률들과 법령들을 발전시켜 제정해왔습니다. **도쿠가와 쇼군 시대의 무사에 관한 법률들, 제3제국 시대의 나치 법령들과 법률들** 및 **남아프리카 공화국의 통행법**은 사회와 지역, 그리고 사람들의 집단에 많은 영향을 미쳤습니다.

**과제:** 문서들이 제공하는 정보와 자신의 세계사 지식을 활용하여 파트 A의 각 문서 아래에 있는 문제들에 답하십시오. 이 문제들에 대한 답은 파트 B의 다음 에세이를 작성하는 데 도움이 될 것입니다.

위의 역사적 배경에 언급된 법률들 및/또는 법령들 중 **두 가지**를 선택한 다음, **각각**에 대하여,

- 정부가 이 법률들 및/또는 법령들을 제정함으로써 달성하고자 했던 것이 무엇이었는지 설명하십시오
- 이 법률들 및/또는 법령들이 특정 사회, 지역, 혹은 사람들의 집단에 미치는 영향을 논하십시오

파트 III의 답을 작성할 때 다음의 일반적 정의를 참고하십시오.

- (a) **설명하십시오**란 “이해하기 쉽게 혹은 명백하게 하고, 이유나 원인을 제공하며, 논리적인 사고 전개 혹은 관계를 보여준다” 는 의미입니다
- (b) **논하십시오**란 “사실과 추론 및 논증을 이용하여 어떤 것에 대하여 관찰하고, 어느 정도 상세한 정보를 포함하여 서술한다” 는 의미입니다

## 파트 A

### 단답형 문제

지시사항: 문서들을 분석하고, 각 문서 아래에 있는 단답형 문제의 답을 주어진 칸에 쓰십시오.

#### 문서 1

1603년까지, 도쿠가와 이에야스는 내전에서 승리하여 일본의 최고 지도자인 쇼군이 되었다. 그의 후계자인 히데타다 쇼군은 무사 집안들에 대한 법률을 제정하였다. 이 집안들에는 다음과 같은 무사 계급의 구성원들이 포함되었다: 다이묘, 높은 지위의 사무라이, 그리고 그보다는 낮은 지위의 사무라이.

#### 무사 집안을 다스리는 법률 (1615년), 발췌문

... [4] 영주 (다이묘), 소 영주 및 관료들은 그들의 가신 [봉신]이나 신복 중에서 반역을 꾀했거나 살인을 저지른 자를 즉각 그들의 영토에서 추방해야 한다. ...

[6] 영지 내에 있는 성을 보수하고자 할 때는, [쇼군]에게 반드시 알려야 한다. 새로운 성의 건설은 중단되어야 하며 엄중하게 [엄격하게] 금지되어야 한다.

“커다란 성은 국가에 위협이 된다.” 성벽과 그 아래의 연못은 큰 혼란을 야기시킨다.

[7] 계획 중인 혁신이나 인접한 영토에서 일어나고 있는 분당적인 음모[반대파에 의한 책략]는 즉각 보고되어야만 한다. ...

출처: Compiled by Ryusaku Tsunoda, et al., *Sources of the Japanese Tradition*, Columbia University Press (개정판)

1 이 문서에 의하면, 이 법률들이 무사 계급의 행동을 제한한 방식 **한 가지**는 무엇입니까? [1]

Score

## 문서 2

산킨 코타이 혹은 인질 제도는 무사 계급 법률의 일부로써 포함되었다.

거주지 교체 의무, 즉 산킨코타이는 전시 시대에 발전되어 도쿠가와 쇼군에 의해 완성된 체제였다. 본질적으로, 이 체제는 다이묘가 에도에 있는 도쿠가와 성 및 다이묘 자신의 성에서 일정 기간 동안 번갈아가며 살 것을 요구하였다. 다이묘가 도쿠가와 성에서 기거하지 않는 동안에는, 그의 가족은 그의 상관의[쇼군의] 성에 남아있어야만 했다. 단순히 볼 때, 이는 다이묘 자신이나 그의 가족(매우 중요한 상속자를 포함) 중 한 명은 반드시 신체적으로 상관의 손아귀에 있어야만 하는 일종의 인질 체제였다. . . .

출처: "Sankin Kotai and the Hostage System," *Nakasendo Way, Walk Japan*

- 2 이 문서에 의하면, 다이묘가 도쿠가와 성의 인질 제도(거주지 교체 의무)에 의해 영향을 받은 **한 가지**는 무엇입니까? [1]

Score

### 문서 3

... 이 조치들[인질 체제, 고립 정책 및 총기 금지]로 인하여 이전의 유혈이 난자한 전쟁들에 종지부를 찍는 데 성공했다. 그러나 쇼군은 저변에서 끊임없이 변화하는 사회를 막지는 못했다. 에도 지방에 모여든 영주들과 그들의 가족들로 인해, 그들과 그들의 가신들을 먹여 살리기 위한 쌀 무역이 증가하였고, 그들의 필요를 충족시키기 위한 도시 장인들과 무역업자들이 확산[증가]하였다. 일본의 도시들은 세계에서 가장 큰 도시들 중의 하나로 성장하였다. 비록 낮은 지위로 여겨졌던 상인 계급은 점점 더 중요하게 되었고, 국가의 공식 문화와는 많은 점에서 달랐던 대중적인 시, 연극 및 소설 등의 새로운 도시 문화가 발전하였다. 1720년 이후 서양 서적에 대한 금지가 완화되었고, 이는 몇몇 지식인들이 서구 사상에 관심을 가지게 만들었으며, '네덜란드식 학교 교육'이 과학, 농경학[농업] 및 코페르니쿠스 천문학 분야에서의 학습을 시작하였다. 돈이 점점 더 중요해짐에 따라, 많은 *사무라이*들이 가난하게 되었고, 이로 인해 그들은 빛을 갖기 위해 그들의 무기를 팔고 농사를 짓거나 공예품을 만들도록 강요되었다. 한편 반복된 기근이 농부들을 덮쳤으며—1732년에 (2천 6백만 명의 인구 중) 백만 명에 가까운 사람들이 사망, 1775년에 200,000명이 사망, 1780년대에 수십만 명이 사망함—지역적인 농민 봉기들이 이어졌다. 도쿠가와이의 정치적인 상부 구조는 완벽하게 건재했다. 그러나 그 기저에는 르네상스 시기 동안의 서유럽에서의 사회적인 힘과 몇몇 유사점을 지니는 사회적인 힘이 생겨나고 있었다. ...

출처: Chris Harman, *A People's History of the World*, Verso (개정판)

- 3 Chris Harman에 따르면, 인질 제도와 고립주의적 정책의 결과로 일본에서 발생한 변화 **한 가지**는 무엇입니까? [1]

Score



문서 4a

[나치]당의 보이콧 명령으로부터의 발췌문, 1933년 3월 28일

... 3. 행동 위원회는 선전과 계몽을 통하여 보이콧을 즉각 대중화시켜야만 한다. 원칙은 다음과 같다: 독일인은 이제 더 이상 유대인으로부터 물품을 구입하지 말아야 하며 유대인이나 유대인 동조자들이 그들의 상품을 홍보하지 못하게 해야 한다. 보이콧은 반드시 보편화되어야 한다. 이는 모든 독일 국민에 의해 지원을 받아야 하며 유대인들의 가장 민감한 곳에 타격을 주어야 한다. ...

8. 모든 준비가 즉시 수행될 수 있도록, 보이콧은 조직화되어야 하며 동일한 시간에 모든 장소에서 시작되어야 한다. 보이콧이 시작되는 순간부터 국민들이 유대인 가게에 들어가지 않도록 경비를 세워 경고하도록 SA와 SS에 명령이 하달될 것이다. 보이콧의 시작은 포스터나 신문 및 전단 등에 의해 발표될 것이다. 보이콧은 4월 1일 토요일, 10시 정각에 시작될 것이다. 보이콧은 당의 지도부에서 중지 명령이 내릴 때까지 계속될 것이다. ...

출처: J. Noakes and G. Pridham, eds., *Documents on Nazism, 1919-1945*, The Viking Press

4a 이 발췌문에 의하면, 1933년 나치 당이 유대인들에 반대하여 독일 국민들이 취하기를 원했던 행동 **한 가지**는 무엇입니까? [1]

Score

문서 4b

독일의 경제 생활에서 유대인들을 제거하는 법령, 1938년 11월 12일

... 조항 1

1. 1939년 1월 1일부로 소매점이나 통신 판매점 및 개인 무역의 운영이 모든 유대인들에게 금지된다. ...

출처: J. Noakes and G. Pridham, eds., *Documents on Nazism, 1919-1945*, The Viking Press

4b 이 나치 법령의 결과로써 유대인들에게 닥친 특정한 경제 상황 **한 가지**는 무엇입니까? [1]

Score

문서 5a

“깨어진 유리로 가득했던 밤”



출처 : Anne Frank Guide online

문서 5b

. . . 나치들은 크리스탈나흐트가 일반 독일인들에 의한 폭동이었다고 주장했다. 실제로, 이는 주도면밀하게 계획된 것이었다. 정부는 나치 돌격대의 분대들을 거리로 나가도록 명령했다. 그들의 임무는 파괴시키고 공포에 떨게 만드는 것이었다. 게슈타포, 즉 비밀 경찰은 이 폭력을 막지 말라는 명령을 받았다. 그 대신, 이들은 불타는 마을들을 휩쓸며 유대인들을 체포해야 했다.

크리스탈나흐트가 전환점이 되었다. 나치들은 독일 경제에서 “유대인 축출”을 한층 더 강화하였다. 히틀러가 정권을 잡은 후 유대인들은 그들의 재산을 잃어가고 있었다. 이제는, 그들에게서 재산을 빼앗는 것이 공식적인 정책이 되어버렸다.

11월 12일, 독일 정부는 독일의 유대인 집단에 10억 제국마르크의 벌금을 부과하였다. 이는 말썽을 일으킨 어느 한 십대 유대인에 대한 벌금이었다.\* 이에 더하여, 크리스탈나흐트의 유대인 피해자들은 그들 자신의 돈으로 손실에 대하여 보상해야 했다. 그들은 그들의 손실을 보상해줄 보험료를 받지 못했다. . . .

출처: Linda J. Altman, *The Jewish Victims of the Holocaust*, Enslow Publishers (개정판)

\* Herschel Grynszpan은 그의 부모를 추방시킨 데 대해 화가 나 파리에 있는 독일 대사관에서 독일인 한 명을 죽였다. 독일 정부는 이 행동을 크리스탈나흐트의 조치들을 정당화하는 데 사용했다.

5 이 사진과 글에 의하면, 독일에 거주하는 유대인들에게 크리스탈나흐트 정책이 끼친 영향 **두 가지**는 무엇입니까? [2]

(1) \_\_\_\_\_

\_\_\_\_\_ Score

(2) \_\_\_\_\_

\_\_\_\_\_ Score

## 문서 6

- 1996년 9월: 런던의 *Jewish Chronicle*의 한 보고서는 제2차 세계대전 중 나치가 유대인들과 다른 사람들로부터 강탈한 40억 달러(1996년 기준으로 650억 달러\*)가 스위스 은행으로 옮겨졌다고 주장한다. 이 금액은 스위스가 이전에 인정한 금액의 20배에 달하는 액수이다. ...
- 1996년 10월 29일: ...나치가 오스트리아 유대인들의 집에서 강탈한 미술품, 주화 및 기타 물품들이 비엔나의 어느 한 경매장에서 판매되었다. 경매를 조직한 사람들의 의도는 이 물품들이 유대 사회에 남아있게 만드는 것이었습니다. 그날의 경매가 끝날 때까지, 총 1천3백2십만 달러가 모아졌고, 그 수익금은 홀로코스트의 생존자나 그들의 후손들을 돕는 데 쓰였다. ...
- 1997년 2월 12일: 전쟁 중에 나치 독일이 유대인으로부터 강탈한 자금을 받아 세탁했다는[그 출처를 숨겼다는] 주장에 가책을 느낀 스위스 정부는 홀로코스트의 생존자와 그들의 후손을 위해 7천백만 달러를 조성하기로 합의했다.

출처: *The Holocaust Chronicle*, Publications International, 2000

\*제2차 세계대전 중의 40억 달러는 1996년의 650억 달러와 비슷한 가치를 가진다.

- 6 *The Holocaust Chronicle*에 나와 있는 이 정보에 기반하여, 제2차 세계대전이 끝나고 수 년이 지난 후 홀로코스트 생존자들과 그들의 후손들에게 보상하려는 시도로 취해진 조치 **한 가지**를 적으십시오. [1]

Score

문서 7a

**원주민 법 개정안, 1952년도의 법률 54조항, 남아프리카 연방**

... 29 (1). 도시 구역 내 혹은 이십삼 조항에 명시된 지역 내에 있는 어떠한 원주민 [흑인 남아프리카인]이 권한을 부여받는 경찰관의 눈에—

(a) 불량자라고 믿을 만한 이유가 있을 경우—

(i) 즉, 상습적으로 무직 상태이며 충분한 생계 수단이 없는 경우. ...

권한을 부여받은 경찰관은 언제라도 영장 없이 그 원주민을 체포하거나 체포되게 만들 수 있다. 모든 유럽 출신 경찰관 혹은 이십삼 조항의 하부 조항 (1)에 명시된 경찰관은 그러한 원주민을 원주민 출신의 경찰국장이나 치안 판사에게 데려가 이들로 하여금 원주민들에게서 충분히 납득할만한 진술을 받도록 한다. ...

출처: Native Laws Amendment Act, Act No. 54 of 1952, Digital Innovation South Africa online (개정판)

7a 1952년도의 남아프리카 연방 법률 54조항 하에서, 상습적인 실업 상태의 원주민에게 어떤 일이 일어날 수 있었습니까? [1]

Score

문서 7b

**원주민(통행 정지 및 문서 조정) 법,  
1952년도의 법률 67조항, 남아프리카 연방**

... 모든 경찰관은 신분증[통행증]을 발급받을 나이인 16세가 지난 아프리카인[흑인]을 언제든지 검문할 수 있다. 만약 신분증이 발급되었음에도 불구하고 검문 시에 이를 소지하고 있지 않아 신분증을 제시하지 못한다면, 이는 범죄 행위를 저지르는 것이며 십 파운드 이하의 벌금이나 한 달 이하의 감금에 처해질 수 있다. ...

출처: Leslie Rubin and Neville Rubin, *This is Apartheid*, Christian Action, London (개정판)

7b 1952년도의 남아프리카 연방 법률 67조항 하에서, 16세 이상의 아프리카계 흑인이 자신의 신분 증명서를 제시하지 못할 경우 어떤 벌칙을 받게 됩니까? [1]

Score

## 문서 8

이 발췌문은 Peter Abrahams의 기억과 그의 남아프리카인 흑인 상사인 짐과의 대화에 기반한 것입니다.

... 짐이 트란스발 북부에 있는 그의 페디 마을을 떠났을 때, 그는 가까운 경찰서나 원주민 업무 부서로 가야만 했다. 그곳에서 그는 트랙 통행증을 발급받았다. 이 통행증은 그가 요하네스버그로 여행을 할 수 있게 해주었다. 도시에 도착했을 때, 그는 신분 증명 통행증과 육일의 특별 통행증을 발급받았다. 신분 증명 통행증에 대해 그는 매달 2실링을 지불해야 했다. 육일의 특별 통행증은 일자리를 구하는 동안 그를 보호해주었다. 도시에서의 처음 육일 동안 그는 일자리를 구하지 못했다. 그는 육일의 특별 통행증을 갱신하기 위해 통행증 사무소에 가지 않았다. 그는 팔일째 되는 날 체포되었고, 부랑자[주거가 없거나 일자리가 없는 사람]로 감옥에서 2주를 지내야 했다. 이 일은 그에게 통행증 사무소에 정기적으로 가야함을 가르쳐주었다....

출처: Peter Abrahams, *Tell Freedom: Memories of Africa*, Alfred A. Knopf

8 Peter Abrahams에 따르면, 통행법이 그의 상사인 짐에게 영향을 미친 방식 **한 가지**는 무엇이었습니까? [1]

Score

## 문서 9

백인 우월주의에 대한 저항은 계속되었으나 성공적이지 못했다. 흑인들이 그들의 삶을 그토록 비참하게 만들었던 아파르트헤이트 법에 반대하여 봉기할 때마다 남아프리카의 경찰과 군대가 동원되었다. 1960년 3월 21일, 비무장의 한 흑인 집단이 통행증 법에 반대하여 평화로운 시위를 하기 위해 샤프빌(흑인 거주지역)의 경찰서를 향해 전진했다. 남아프리카 흑인들은 그 누구라도 통행증이 없이는 여행이나 주거, 혹은 일을 할 수 없었다. 이 증오스러운 문서는 백인 정부가 정의한 개인의 삶을 기록한 것이었다. 수천 명의 시위자들이 통행증을 집에 두고 나왔으며 체포될 것을 예상하고 있었다. 그들은 수천 명이 체포된다면 정부의 이러한 정책이 계속되지 못할 것이라고 생각했다. 그러나 이 평화로운 시위는 총격으로 진압되었다. 시위가 끝났을 때, 육십 구 명의 흑인이 사망했으며, 이들은 총격이 시작되자 도망치려다 경찰이 쏜 총에 등을 맞아 사망했다. 그들의 죽음은 시위가 전 국가로 번지는 데 불씨가 되었다.

출처: Blauer and Lauré, *South Africa*, Children's Press

9a 이 문서에 의하면, 흑인 남아프리카인들이 통행법에 반대하여 취한 행동은 무엇이었습니까? [1]

---

---

Score

b 이 문서에 의하면, 1960년 3월 21일 샤프빌의 상황에 대응하여 남아프리카 정부가 취한 반응은 무엇이었습니까? [1]

---

---

Score

## 파트 B 에세이 문제

**지시사항:** 서론, 여러 개의 문단 및 결론을 포함하는 잘 구성된 에세이를 작성하십시오. **최소한 네 개의** 문서에서 증거를 찾아 에세이에 사용하십시오. 관련 사실, 사례 및 자세한 정보를 사용하여 자신의 답안을 뒷받침하십시오. 다른 출처의 추가 정보도 포함시키십시오.

### 역사적 배경:

역사 전반에 걸쳐, 정부들은 여러가지 이유로 법률들과 법령들을 발전시켜 제정해왔습니다. **도쿠가와 쇼군 시대의 무사에 관한 법률들, 제3제국 시대의 나치 법령들과 법률들** 및 **남아프리카 공화국의 통행법**은 사회와 지역, 그리고 사람들의 집단에 많은 영향을 미쳤습니다.

**과제:** 문서들이 제공하는 정보와 자신의 세계사 지식을 활용하여 다음 사항들에 맞게 에세이를 작성하십시오.

위의 역사적 배경에 언급된 법률들 및/또는 법령들 중 **두 가지**를 선택한 다음, **각각**에 대하여,

- 정부가 이 법률들 및/또는 법령들을 제정함으로써 달성하고자 했던 것이 무엇이었는지 설명하십시오
- 이 법률들 및/또는 법령들이 특정 사회, 지역, 혹은 사람들의 집단에 미치는 영향을 논하십시오

### 지침사항:

#### 에세이 작성 시, 반드시

- 과제의 모든 측면을 전개시키십시오
- **최소 네 개의** 문서로부터 찾은 정보를 포함시키십시오
- 관련된 다른 출처의 정보도 포함시키십시오
- 관련 사실, 사례 및 상세한 정보로 주제를 뒷받침하십시오
- 주제의 단순 반복이 아닌 서론과 결론을 포함한 논리적이고 명확한 구성 계획을 사용하십시오

