

## REGENTS HIGH SCHOOL EXAMINATION

# 세계사 및 지리

2012년 6월 13일, **수요일**—오전 9시 15분 - 오후 12시 15분에만 실시

학생 이름 \_\_\_\_\_

학교명 \_\_\_\_\_

위 칸에 자신의 이름과 학교명을 인쇄체로 기입하십시오. 파트 I을 위한 별도의 답안지가 제공되었습니다. 감독관의 지시에 따라 답안지에 학생 정보를 기입하십시오. 그런 다음, 에세이 책자 각 페이지 윗부분에 기입하십시오.

이 시험은 세 파트로 구성되어 있습니다. 모든 파트의 **모든** 질문에 답하십시오. 파트 II, 파트 III A, 그리고 파트 III B의 답안을 쓸 때는 검정색이나 진한 청색 펜을 사용하십시오.

**파트 I**에는 50개의 선다형 문제가 있습니다. 이 문제들에 대한 답은 답안지에 지시된 대로 기입하십시오.

**파트 II**에는 한 개의 주제를 다루는 에세이 문제가 있습니다. 이 문제에 대한 답은 에세이 책자 1페이지부터 기입하십시오.

**파트 III**는 여러 개의 문서에 기반을 둡니다.

**파트 III A**에 그 문서들이 포함되어 있습니다. 시험의 이 파트를 하게 될 때, 이 부분의 첫 페이지에 자신의 이름과 학교명을 기재하십시오.

각 문서에는 하나 이상의 문제가 따릅니다. 각 문제의 답은 이 시험책자 안의 문제 아래에 있는 칸에 기입하십시오.

**파트 III B**에는 그 문서들을 바탕으로 하는 한 개의 에세이 문제가 있습니다. 이 문제에 대한 답은 에세이 책자 7페이지부터 기입하십시오.

시험을 마친 후, 답안지 마지막 부분에 인쇄된 진술문에 서명함으로써 이 시험을 치르기 전에 문제나 답에 대한 불법적인 지식이 없었으며 시험을 치르는 동안 어떤 문제에 답하는데 있어서도 도움을 주거나 받지 않았음을 표시하십시오. 이 진술문에 서명하지 않은 학생의 답안지는 인정하지 않습니다.

이 시험 중에는 통신 장비의 사용을 철저히 금합니다. 만일 아주 잠시라도 통신 장비를 사용하는 경우, 시험은 무효화되며 시험 점수를 받을 수 없게 됩니다.

**지시가 있을 때까지 이 시험 책자를 열지 마십시오.**

## 파트 I

### 이 파트의 모든 문제에 답하십시오.

지시사항 (1-50): 각 문제의 문장이나 질문에 가장 적절한 답의 번호를 별도의 답안지에 기입하십시오.

1번과 2번의 문제의 답은 아래의 지도와 자신의 사회과학 지식을 바탕으로 구하십시오.

### 아시리아의 중왕국



출처: Susan Wise Bauer, *The History of the Ancient World*, W. W. Norton, 2007 (개정판)

1 이 지도가 보여주는 정보에 의하면, 아시리아의 중왕국은 다음 중 어느 지역에 위치했습니까?

- (1) 서남아시아
- (2) 서아프리카
- (3) 남아메리카
- (4) 서유럽

2 아시리아의 중왕국이 위치했던 지역은 다음 중 또한 무엇이라고도 알려졌습니까?

- (1) 아대륙
- (2) 성지
- (3) 비옥한 초승달 지대
- (4) 세계의 지붕

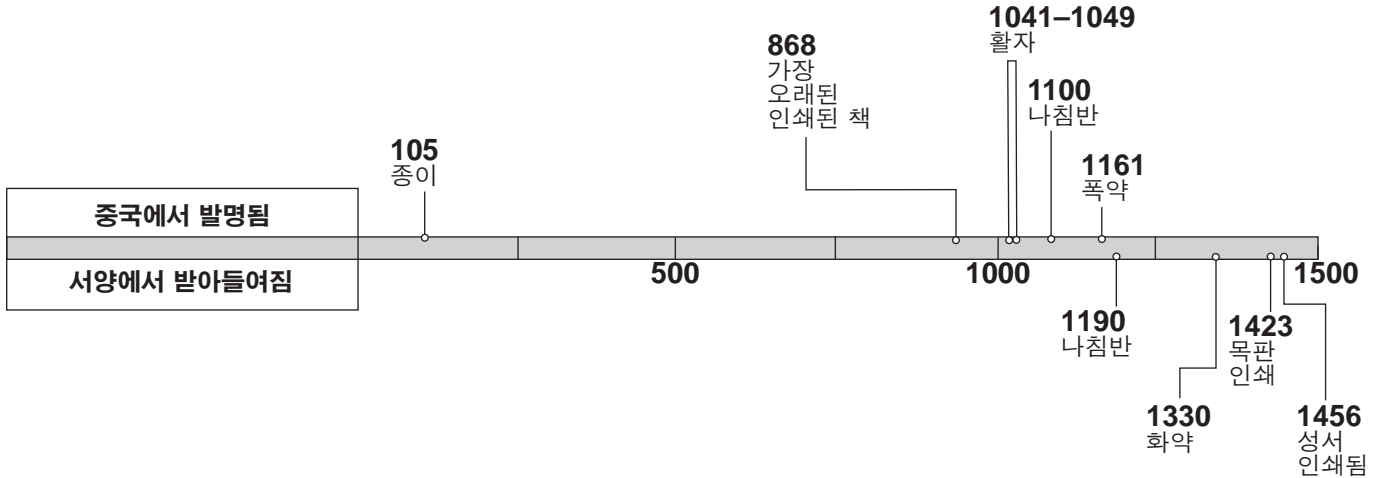
3 국제연합을 공부하는 데 있어서의 이차 자료의 예라고 할 수 있는 것은?

- (1) 국제연합 창설 헌장
- (2) 국제연합의 50주년을 기념하며 사무총장이 쓴 연설문
- (3) 백과사전에 있는 국제연합 안전 보장 이사회의 첫 번째 세션에 관한 설명
- (4) 국제연합 원래의 위치에서의 개막식 사진

4 티벳 왕국 사람들과 잉카 제국 사람들의 유사점 한 가지는?

- (1) 해안의 항구들을 개발했다
- (2) 산악지대들을 개간했다
- (3) 국제적인 무역을 행하기 위해 선박들을 설계했다
- (4) 그들의 주요 교통 수단으로 낙타 캐러밴을 도입했다

5번 문제는 아래의 연대표와 자신의 사회과학 지식을 바탕으로 답하십시오.



출처: China: A Teaching Workbook, Columbia University (개정판)

5 다음 중 이 연대표에서 제시되는 정보로 가장 잘 뒷받침되는 일반화된 개념은?

- (1) 1500년도에 이르기까지 중국인들은 서양의 기술을 수입하고 있었다.
- (2) 고립주의가 중국인들이 새로운 발명품을 개발하는 것을 방해하였다.
- (3) 중국인들은 서양의 스파이들로부터 자국의 발명품들을 성공적으로 보호하였다.
- (4) 1500년 이전에는 중국의 기술이 서양의 기술을 능가했다.

6 애니미즘, 신도 및 도교의 유사점 한 가지는?

- (1) 자연과의 조화에 대한 강조
- (2) 일신교적 믿음 체제
- (3) 열반 사상에 대한 신념
- (4) 베타의 가르침에 의존

7 동아시아의 개발에 한국이 했던 역할 한 가지는?

- (1) 중국의 서부 국경을 따라 침공했던 일본으로부터 중국을 보호함
- (2) 서남아시아 섬들에 대한 일본의 통제에 도전함
- (3) 중국을 정복하기 위하여 베트남인들과 동맹을 맺음
- (4) 중국으로부터의 문화적인 사상을 일본으로 전해줌

8 다음 중 몽골족이 정복한 후 그들의 제국으로 합병한 지역들은?

- (1) 중국, 러시아, 이란
- (2) 약숨, 짐바브웨, 서아프리카
- (3) 스페인, 프랑스, 이집트
- (4) 일본, 인도, 동유럽

9 유럽의 상업혁명의 결과 한 가지는?

- (1) 중산층 크기의 감소
- (2) 장원제도의 확장
- (3) 금융기관들의 개발
- (4) 물물교환 사용 증가

10 다음 중 말리가 부유한 왕국이 된 것에 기여한 요인은?

- (1) 중상주의 정책의 시행
- (2) 한자 동맹과 연합
- (3) 지중해 무역로들의 통제
- (4) 금과 소금 무역의 장악

11 14세기 중, 흑사병이 널리 퍼진 전염병이 되었던 주요 원인은?

- (1) 무역의 부활
- (2) 중국의 해외 탐사
- (3) 유럽의 식민지 정책들
- (4) 새로운 농경법들

12번과 13번의 문제는 아래의 글과 자신의 사회과학 지식을 바탕으로 답하십시오.

... 비잔틴 시대의 작가들이 상세하게 묘사한 여성들은 여자 성자들 외에, 여제들과 귀족들이었다. 이 여성들은 어느 정도의 자유는 있었지만, 비잔틴 사회에서 보통 여성들에게 요구되는 다음과 같은 기준을 거의 똑같이 지켜야 했다. 정숙함, 경건함 및 자기통제는 이상적인 여성의 덕목이었다. 젊은 미혼녀들은 정숙함을 지키기 위해 공공 장소에 혼자 나가는 일이 거의 없었고, 집 밖에서 일하지 않는 미혼녀들은 장을 보거나, 교회를 가거나, 또는 목욕탕을 가는 것같이 특정한 이유가 있을 때만 외출을 했다. 중기 비잔틴 시대까지, 여자들이 외출할 때는 머리를 가리는 것이 옳다고 여겨졌다....

— Molly Fulghum Heintz, "Work," in Ioli Kalavrezou, *Byzantine Women and Their World*, Harvard University Art Museums, 2003 (개정판)

12 이 글의 주요 주제는?

- (1) 사회적 이동성                      (3) 문화적 가치
- (2) 경제적 관심                        (4) 기본권

13 비잔틴 사회에 관한 다음 서술 중 이 글이 가장 잘 뒷받침 하는 것은?

- (1) 여제들과 귀족들은 여자 성자들보다 더 중요했다.
- (2) 모든 여성들에게 비슷한 기준들을 지킬 것이 기대되었다.
- (3) 거의 모든 여성들이 집 밖에서 일하였다.
- (4) 젊은 미혼녀들은 독립적이 되도록 장려되었다.

14 다음 중 오토만 제국의 문화적 다양성에 가장 많이 기여한 요인은?

- (1) 코란(Koran) 기반을 둔 법률 제도
- (2) 유럽, 아프리카 및 아시아를 포함하는 중심적인 위치
- (3) 러시아인들과 합스부르크가와의 동맹
- (4) 남북아메리카의 식민지들에 의존

15번과 16번의 문제는 아래의 화자들의 말과 자신의 사회과학 지식을 바탕으로 답하십시오.

화자 A: 로마 카톨릭 교회의 주요 문제는 면죄부를 파는 것에 있습니다. 기독교인들이 구원을 받을 수 있는 유일한 길은 오직 믿음을 통해서입니다.

화자 B: 기독교인들이 구원을 받고 싶다면, 그들은 좋은 일들을 행해야 하고 죄에 대한 용서를 구해야 합니다. 면죄부를 부여하는 것은 기독교인들에게 그들의 죄를 용서받을 수 있게 하는 것입니다.

화자 C: 궁극적인 종교 진리의 원천은 성직자들이 아니고 성경이라는 것이 맞습니다. 하지만, 신은 누가 구원을 받을 것이고 누가 구원을 받지 못 할 것인가를 이미 결정하였습니다.

화자 D: 교황이 저의 의견에 동의하지 않기 때문에, 저는 로마 카톨릭 교회를 떠나기로 결정했습니다. 저는 지금 영국의 지도자일 뿐만 아니라 영국 국교회의 지도자입니다.

15 다음 중 마틴 루터의 사상을 가장 잘 반영하는 화자는?

- (1) A    (3) C
- (2) B    (4) D

16 다음 중 존 캘빈이 가르친 예정설을 가장 옹호하는 화자는?

- (1) A    (3) C
- (2) B    (4) D

17 1400년대 말과 1500년대 초, 유럽인들이 탐험을 위한 항해를 떠난 주요 이유는 무엇이었습니까?

- (1) 계몽주의 사상의 도입
- (2) 콘스탄티노플을 통제하려는 의욕
- (3) 급속한 산업화
- (4) 대체 무역로들의 필요

- 18 다음 중 콜럼버스 이전 시대의 메소아메리카 문명의 업적들을 공부하여 알 수 있는 것은?
- (1) 그들은 집약 농업(intensive agriculture)을 통하여 높은 인구 밀도를 유지하였다
  - (2) 그들은 태평양을 살살이 탐험하였다
  - (3) 그들은 물건들을 운반하기 위해 바퀴가 달린 운반기구들을 만들었다
  - (4) 그들은 화선지와 목판 인쇄를 개발하였다

19번과 20번의 문제는 아래의 글과 자신의 사회과학 지식을 바탕으로 답하십시오.

... 더군다나, 지난 최근의 전투 후에 그들은 말과 총, 우리의 칼과 석궁, 그리고 우리의 전투력을 두려워했다. 무엇보다도 중요했던 것은 우리가 계속 싸울 수 있도록 우리에게 힘을 주신 신의 커다란 자비였다....

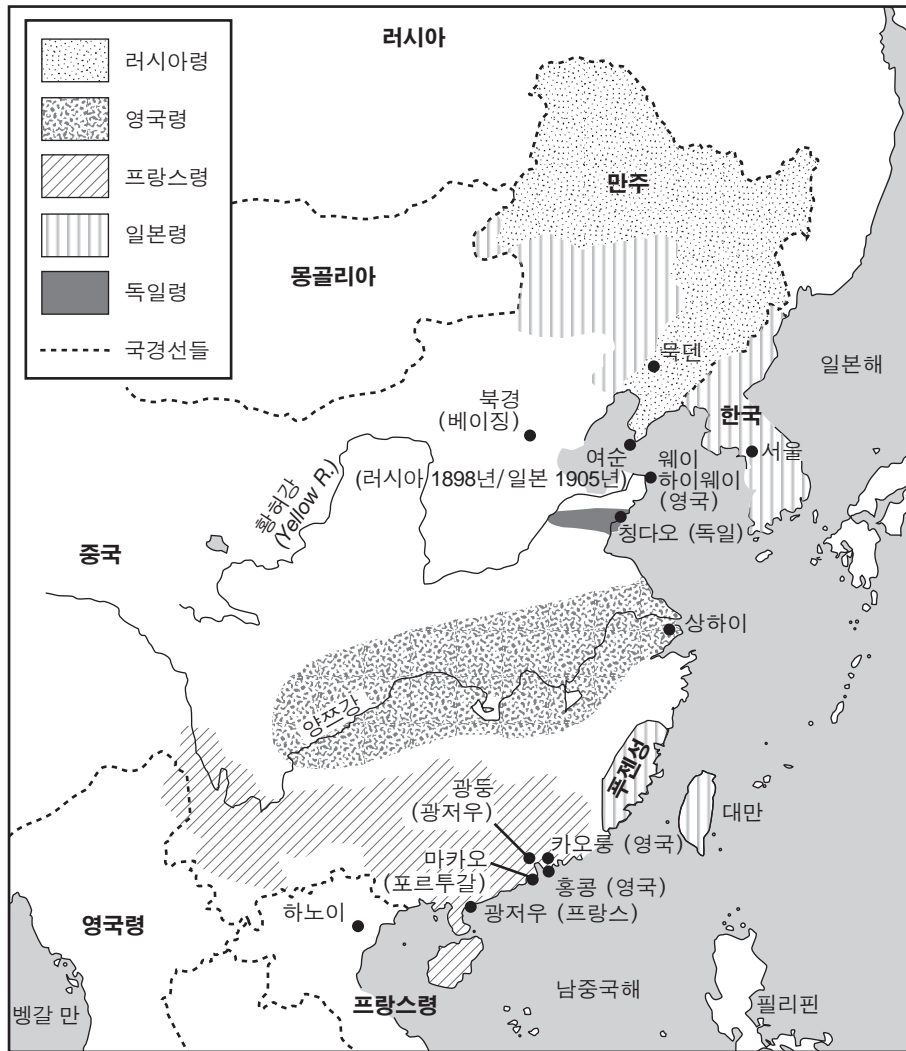
— Bernal Díaz del Castillo, *The Bernal Díaz Chronicles*, Doubleday & Company

- 19 멕시코에서의 한 전투에 관한 이 글에는 누구의 관점이 표현되어 있습니까?
- (1) 아즈텍족 전사
  - (2) 스페인의 정복자
  - (3) 포르투갈의 탐험가
  - (4) 잉카 황제
- 20 이 저자에 따르면, 다음 중 어느 요인들이 전투의 결과에 영향을 주었습니까?
- (1) 능률과 교육
  - (2) 기후와 질병
  - (3) 공물과 전통
  - (4) 기술과 두려움
- 
- 21 다음 중 19세기의 라틴 아메리카 혁명들의 영향 한 가지는?
- (1) 민주주의가 라틴 아메리카의 주요 정치체계가 되었다.
  - (2) 유럽의 식민주의가 라틴 아메리카의 독립적인 정부들을 대치하였다.
  - (3) 라틴 아메리카의 많은 국가들이 독립을 성취하였다.
  - (4) 라틴 아메리카의 국가들이 유럽계 후손들의 대부분을 강제로 추방하였다.
- 22 다음 중 갈릴레오 갈릴레이와 아이작 뉴턴 경 간에 가장 밀접한 관련이 있는 것은?
- (1) 종교적인 개혁들을 시작함
  - (2) 정치적인 혁명들을 주도함
  - (3) 탐구적인 실험들을 함
  - (4) 외국 정복에 참여함

- 23 막시밀리안 로베스피에르와 자코뱅파는 다음 중 어느 것으로 가장 잘 알려져 있습니까?
- (1) 공포 정치를 시작함
  - (2) 종교의 자유를 보호함
  - (3) 루이 16세 왕의 정권을 지지함
  - (4) 미국 혁명에서 싸우기 위해 프랑스 군대를 파병함
- 24 이탈리아의 통일과 독일의 통일이 보여주는 것은?
- (1) 사회주의는 경제를 체계화하는 데 효과적인 방법이였다
  - (2) 민족주의는 정치적인 이해들을 통합하는 데 사용될 수 있다
  - (3) 식민주의는 유럽의 문명을 전파하는 데 사용될 수 있다
  - (4) 상호 의존은 전쟁을 벌이는 데 큰 장애물이였다
- 25 다음 중 산업혁명 시대 동안, 다른 나머지 세 가지로부터 초래되었던 일은?
- (1) 공장 환경이 사람들의 건강에 영향을 끼쳤다.
  - (2) 노동 조합이 형성되었다.
  - (3) 특별한 기술이 없는 노동자들은 낮은 임금을 받았다.
  - (4) 기계가 노동자들을 대체하였다.
- 26 다음 중 자유방임적 자본주의 이론의 가장 좋은 예가 되는 것은?
- (1) 정부의 통제가 거의 없는 사업을 운영한다
  - (2) 정부가 생산 할당량을 정한다
  - (3) 중앙 계획 위원회에서 상품의 값을 정한다
  - (4) 분배와 관련된 결정들을 지역 사회의 전통에 근거하여 한다
- 27 토머스 맬서스에 따르면, 식량 생산 증가율에 따른 인구 증가율이 문제였습니다. 다음 중 맬서스의 견해를 나타내는 것은?
- (1) 산업 발달이 인구 성장을 매우 제한할 것이다
  - (2) 기근과 전쟁이 인구 성장을 자연적으로 제한하였다
  - (3) 인구가 많은 나라들이 인구가 적은 나라들을 정복할 것이다
  - (4) 식량 생산이 인구 증가보다 더 빠른 비율로 증가할 것이다

28번 문제는 아래의 지도와 자신의 사회과학 지식을 바탕으로 답하십시오.

중국, 1895-1914년



출처: Historical Maps on File (개정판)

28 이 지도의 주요 초점은 무엇입니까?

- (1) 인구 밀도
- (2) 자원 분배
- (3) 제국주의
- (4) 도시화

29 다음 중 무능력한 정부, 피의 일요일의 대학살, 그리고 제1차 세계대전의 막대한 비용이 초래한 것은?

- (1) 멕시코 혁명
- (2) 의화단 운동
- (3) 세포이 항쟁
- (4) 러시아 혁명


30 다음 중 터키의 지도자 케말 아타튀르크와 가장 밀접한 연관이 있는 개혁은?

- (1) 이슬람 법의 실행
- (2) 아랍 문자의 도입
- (3) 공산주의 정부의 수립
- (4) 서양 문화의 채택



31번 문제는 아래의 그림과 자신의 사회과학 지식을 바탕으로 답하십시오.

## 생계비를 버는 사람 납세자



## 투표자는 왜 아닌가?

출처: *Common Cause*, January 5, 1911 (개정판)

- 31 이 그림에 따르면, 여성들이 투표권을 가질 권리가 있는 이유는 무엇입니까?
- (1) 여성이 사회에 여러 면에서 공헌하기 때문
  - (2) 여성이 투표를 할 수 있어야만 산업계에 취직할 수 있기 때문
  - (3) 오직 여성들만이 육아의 어려움을 이해하기 때문
  - (4) 여성들에게 투표권이 없이는 세금을 부과할 수 없기 때문
- 
- 32 다음 중 시민 불복종 및 소금 행진과 연관이 있는 지도자는?
- |             |             |
|-------------|-------------|
| (1) 콰메 은크루마 | (3) 모한다스 간디 |
| (2) 조모 케냐타  | (4) 호치민     |

- 33 다음 중 사건들의 순서를 발생한 시간 순서대로 바르게 나열한 것은?
- (1) 나치주의의 상승 → 베르사유 조약 → 독일의 소련 침공
  - (2) 베르사유 조약 → 나치주의의 상승 → 독일의 소련 침공
  - (3) 독일의 소련 침공 → 나치주의의 상승 → 베르사유 조약
  - (4) 베르사유 조약 → 독일의 소련 침공 → 나치주의의 상승
- 34 마오쩌둥 및 대장정 의(the Long March)생존자들 몇몇은 다음 중 어느 나라의 중심 지도자들로 부상했습니까?
- |          |          |
|----------|----------|
| (1) 앙골라  | (3) 중국   |
| (2) 캄보디아 | (4) 니카라과 |

35번 문제는 아래의 인용문과 자신의 사회과학 지식을 바탕으로 답하십시오.

... 이 모든 것이 의미하는 바는, 모든 나라의 국민들은 그들이 살아갈 정부의 특성이나 형태를 바꿀 권리가 있으며 그 권한은 헌법 조치, 자유롭고 제한받지 않는(규제가 없는) 비밀 투표 등에 의해 주어져야 한다는 것입니다. 또한 언론과 생각의 자유가 있어야 하고, 행정부에서 독립되고 어떠한 정당으로부터도 간섭받지 않는 사법부가 대다수 사람들로부터 광범위한 동의를 얻었거나 혹은 오랜 세월이나 관습에 의해 존중되어진 법을 제정해야 한다는 것입니다. 모든 가정에 있어야 할 자유의 권리증서들이 바로 이것입니다. 인류를 향한 영국과 미국 국민들의 메시지가 바로 이것입니다. 우리가 실천하는 것을 설교하고 —우리가 설교하는 것을 실천합시다....

— Winston Churchill, *Sinews of Peace*  
(the Iron Curtain speech), March 5, 1946

- 35 이 인용문에서, 윈스턴 처칠이 주장하는 한 국가의 국민들이 가져야 하는 권리는 무엇입니까?
- (1) 경제적 번영
  - (2) 집단 안전 보장
  - (3) 자기 의지
  - (4) 종교의 자유

36번 문제는 아래의 도표와 자신의 사회과학 지식을 바탕으로 답하십시오.

1994	모든 인종들의 투표자들이 만델라를 대통령으로 선출함.
1990	드 클레르크 대통령이 ANC 금지령 해제하고, 인종차별 정책을 없앴으며, 만델라를 풀어줌.
1980s	미국 및 다른 국가들이 남아프리카 공화국에 제재를 가함.
1964	넬슨 만델라가 종신형을 선고 받음.
1960	샤프빌 시위에서 경찰이 69명을 살해하고, 180명에 부상을 입힘, 정부가 아프리카 민족 회의 (ANC)를 불법화함.
1948	인종차별 정책이 시작됨.

출처: *Guide to the Essentials of World History*, Prentice Hall, 2003 (개정판)

36 다음 중 이 도표의 초점이 되는 정책은?

- (1) 인종 차별 정책      (3) 유화정책  
(2) 고립주의              (4) 중립주의

37 중국 혁명(1945-1949)과 쿠바 혁명(1956-1959), 이 두 혁명의 지도자들의 유사점 한 가지는?

- (1) 자본주의의 사상들을 적극적으로 받아들였다  
(2) 산업 발전을 거부했다  
(3) 그들의 목적을 달성하기 위해 평화적인 방법을 사용했다  
(4) 농민들의 지지에 의존했다

38 리자 샤 팔레비와 이란 혁명에 관한 다음 서술 중 사실이라기보다는 하나의 의견인 것은?

- (1) 리자 샤 팔레비는 서양의 주 세력들의 지지를 받았다.  
(2) 이슬람교의 성직자들은 리자 샤 팔레비를 반대했다.  
(3) 혁명의 주요 원인은 리자 샤 팔레비를 비판하는 사람들의 망명이었다.  
(4) 아야톨라 루홀라 호메이니의 지지자들이 리자 샤 팔레비를 타도했다.

39번 문제는 아래의 시와 자신의 사회과학 지식을 바탕으로 답하십시오.

### 조용한 나라에서

(다우 아웅 산 수지가 씀)

조용한 나라에서는, 그들이 팔 수 있는 비밀을 듣는 사람이 있는지 아무도 알 수 없다. 정보원들은 그 땅의 피로 보수를 받고 독재자들이 참지 못하는 것을 감히 말하려는 사람은 아무도 없다.

버마의 조용한 나라에서는, 아무도 소리내어 웃지 않고 아무도 생각을 드러내지 않는다. 버마의 조용한 나라에서는, 군중의 침묵 속에서 그것을 들을 수 있다....

39 이 저자가 이 시를 사용하여 비난하는 것은?

- (1) 억압                                      (3) 비폭력  
(2) 문맹                                      (4) 봉쇄

40 1970년대 후반까지, 증가하는 중국의 인구수는 중국 정부가 어떤 정책을 결정하는 데 영향을 주었습니까?

- (1) 국민들에게 다른 나라로 이민가기를 권장함  
(2) 가정들이 인민 공사에서 강제적으로 일하도록 함  
(3) 영토를 얻기 위해 전쟁에 참여함  
(4) 한 자녀 정책을 수립함

41 다음의 냉전시대 동안 발생한 사건 중, 가장 나중에 일어난 것은?

- (1) 쿠바 미사일 위기  
(2) 베를린 장벽의 파괴  
(3) 베를린 공수 작전  
(4) 소련의 스푸트닉 발사



42번 문제는 아래의 지도와 자신의 사회과학 지식을 바탕으로 답하십시오.



출처: Mountain High Maps, Digital Wisdom (개정판)

42 다음 중 이 지도에서 가장 진한 부분이 나타내는 것은?

- (1) 전 소비에트 연방 공화국
- (2) 유럽 연합의 현재 회원국들
- (3) 바르샤바 협정의 창시 회원국들
- (4) 석유 수출국 기구(OPEC)에 최근 추가된 국가들

43번 문제는 아래의 글과 자신의 사회과학 지식을 바탕으로 답하십시오.

... 커뮤니케이션의 확장은 세계가 더 깊게 연결되고, 또 토머스 프리드먼의 유명한 공식에 의하면 “평평해”짐을 의미했다. 저렴한 전화비와 광대역 회선은 사람들로 하여금 한 나라의 일을 다른 나라에서도 할 수 있게 했다—이로 인해 지금도 진행 중인 자본주의의 진일보한 단계에 도달하게 되었다. 15세기의 큰 수송선의 개발로, 물품들을 손쉽게 이동할 수 있게 되었다. 17세기의 현대 금융으로, 자본들을 쉽게 이동할 수 있었다. 1990년대에 들어 노동력은 이동성을 가지게 되었다. 사람들은 일자리가 있는 곳에 꼭 갈 수 있었던 건 아니었지만, 일자리가 사람들을 찾아가게 되었다. 일자리들은 인도에 있는 프로그래머들한테 갔고, 또한 필리핀의 전화교환원들과 태국의 방사선 전문의들한테 갔다. 수 세기 동안 물건과 서비스들을 운반하는 비용은 하락해 왔다. 광대역 회선의 출현(생김)으로, 많은 서비스들의 운반 비용이 전혀 들지 않는 경우까지 생겼다. 모든 일자리들이—단기적으로 봤을 때—아웃소싱될 수 있는 것은 결코 아니지만, 아웃소싱의 영향은 모든 곳에서 느낄 수 있다....

— Fareed Zakaria, *The Post-American World*, W. W. Norton & Company, 2008

- 43 다음 중 2008년의 이 글이 가장 잘 뒷받침하는 세계 경제에 관한 결론은?
- (1) 아시아의 노동 시장은 아동 노동에 의존한다.
  - (2) 기술이 사업 운영 비용을 감소시켰다.
  - (3) 자본주의는 노동자 계급의 필요를 충족시키지 못했다.
  - (4) 세계화는 더 적은 수의 일자리를 만들고 있다.
- 
- 44 고대 아테네의 도시 국가와 굽타 제국의 유사점 한 가지는?
- (1) 보통 선거를 허용했다
  - (2) 모계 사회를 발달시켰다
  - (3) 예술과 문학을 장려했다
  - (4) 농장 농업을 수립했다

45 아래의 미완성된 개요를 완성시키는 제목으로 가장 적합한 것은?

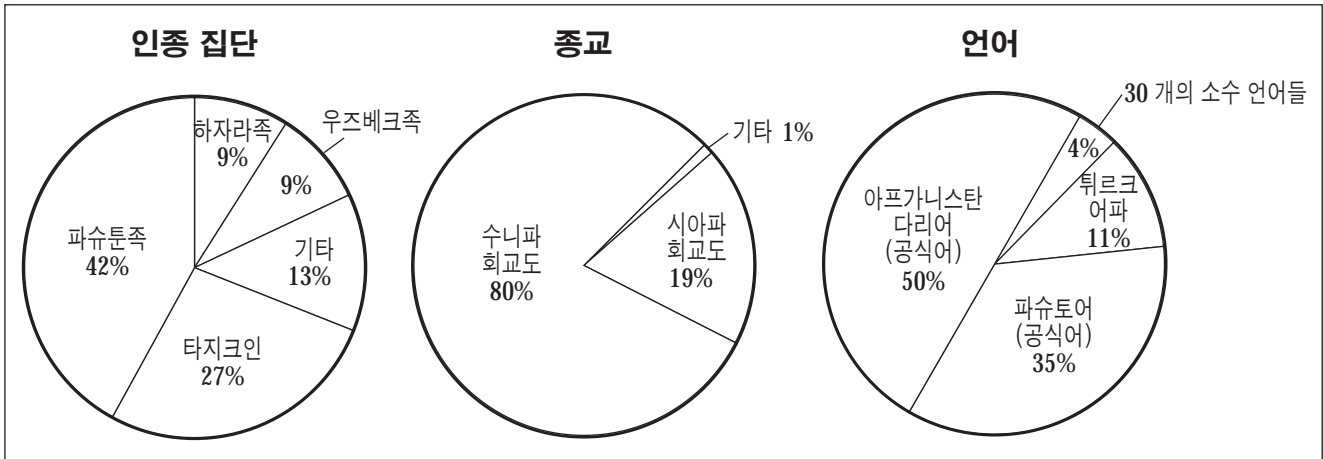
I. \_\_\_\_\_

- A. 안정된 식량 공급의 개발
- B. 영구 정착지들의 설립
- C. 문자 체계들과 종교들이 생겨남

- (1) 사람들 이주의 영향들
  - (2) 신석기 혁명의 결과들
  - (3) 봉건제도 시대의 업적들
  - (4) 농업의 녹색 혁명의 원인들
- 46 다음 중 바빌론의 함무라비 법전과 비잔틴 제국의 유스티니아누스 법전이 가졌던 기능과 유사한 기능을 가진 것은?
- (1) 수메리아의 신전들
  - (2) 불교의 사리탑들
  - (3) 마야 상형문자
  - (4) 로마의 십이표법
- 47 영국에서 마그나 카르타 대헌장의 주요 원칙들은 다음 중 어느 것의 발전과 성장에 기초가 되었습니까?
- (1) 민주주의
  - (2) 신권정치
  - (3) 절대주의
  - (4) 공산주의
- 48 일부 고고학자들의 견해에 따르면, 남북 아메리카에 최초로 인간이 존재한 것은 다음 중 어느 것과 연관이 있다고 합니까?
- (1) 베링 해협을 가로지른 유목민들의 이동
  - (2) 유럽인들의 카리브 해 탐험
  - (3) 반투족 이주 중의 부족들의 이동
  - (4) 비단길들을 따라 이동한 상인들의 여행
- 49 1930년대 초, 수백만의 우크라이나 사람들의 사망을 초래한 사건은?
- (1) 아랍인 반란
  - (2) 글라스노스트
  - (3) 강제적인 기근
  - (4) 참호전

50번 문제는 아래의 그래프들과 자신의 사회과학 지식을 바탕으로 답하십시오.

### 아프가니스탄의 구성



출처: The World Factbook, November 30, 2009 (개정판)

50 이 그래프들의 정보로 가장 잘 뒷받침할 수 있는 일반화된 개념은?

- (1) 아프가니스탄 내의 종교 그룹들 간의 갈등들이 아프가니스탄을 분열시켰다.
- (2) 서양 국가들은 아프가니스탄의 문화적인 구성에 주요한 영향을 미쳤다.
- (3) 아프가니스탄의 주요 언어는 투르크어다.
- (4) 아프가니스탄에는 다양성이 분명하다.

에세이 문제의 답은 별도의 에세이 책자에 쓰십시오.

파트 II의 답을 작성할 때 다음의 일반적 정의를 참고하십시오.

논하십시오란 “사실과 추론 및 논증을 이용하여 어떤 것에 대하여 관찰하고 어느 정도 상세한 정보를 포함하여 진술한다” 를 의미합니다.

## 파트 II

### 주제형 에세이 문제

지시사항: 서론, 아래 과제를 다루는 여러 개의 문단 및 결론을 포함하는 잘 구성된 에세이를 작성하십시오.

#### 주제: 인간과 자연 지리학

모든 역사를 통해, 지리적 요소들은 문명과 지역의 발달에 영향을 주었습니다. 지리적 요소들은 다른 문명들 및 지역들과의 접촉을 촉진시키기도 했고 제한하기도 했습니다.

#### 과제:

**두 가지**의 다른 지리적 특징들을 선택한 후 **각** 특징에 대하여

- 이 지리적 특징이 한 특정한 문명이나 지역의 발달에 어떠한 영향을 끼쳤는지 논하십시오.
- 이 지리적 특징이 이 문명 또는 지역과 **다른** 문명 또는 지역과의 교류를 어떻게 촉진 **및/또는** 제한했는지 논하십시오.

세계사와 지리학 공부를 통해 배운 어떠한 지리적 특징을 사용해도 됩니다. 고려해 볼 만한 것으로는 나일강, 대서양, 히말라야 산맥, 사하라 사막, 북부 대평원, 일본의 위치, 지중해, 러시아의 스텝 지대, 브라질의 열대 다우림 및 인도양 몬순 등이 있습니다.

답안에 사용할 수 있는 인물들은 위에 제안된 인물들에 국한되지 **않습니다**.

답안에 미국 내의 특정 지리적 특징은 사용하지 **마십시오**.

#### 지침사항:

##### 에세이 작성 시, 반드시

- 과제의 모든 측면을 전개 시키십시오.
- 관련 사실, 사례 및 상세한 정보로 주제를 뒷받침하십시오.
- 답안을 논리적이고 명확하게 구성하고 주제를 단순히 반복하는 것 이상의 서론과 본론을 포함하십시오.

### 파트 III

#### 문서에 기초한 문제

이 문제는 주어진 문서들을 바탕으로 합니다. 이 문제는 역사적 문서를 처리하는 능력을 시험하기 위한 의도로 고안되었습니다. 문서들의 일부 내용은 이 문제의 목적에 맞도록 편집되었습니다. 문서들을 분석할 때, 각 문서의 출처와 문서에 나타난 관점을 참작하십시오.

#### 역사적 배경:

모든 역사를 통하여, 독재적인 지도자들은 그들의 나라와 국민들의 생활에 권위를 행사했다. 독재적인 지도자들은 그들의 나라와 국민들을 돕는 동시에 피해를 주었다. 그런 지도자들의 예로는 **진시황제**, **프르 대제** 및 **루이 14세** 등이 있다.

**과제:** 문서들이 제공하는 정보와 자신의 세계사 지식을 활용하여 파트 A의 각 문서 아래에 있는 문제들에 답하십시오. 이 문제들에 대한 답은 파트 B의 다음 에세이를 작성하는 데 도움이 될 것입니다.

위의 역사적 배경에 언급된 지도자들 중 **두 명**의 지도자를 선택한 다음, **각** 지도자에 대하여,

- 그 지도자가 취한 행동들 중에서 그가 독재자라는 것을 보여주는 행동들을 묘사하십시오.
- 그 지도자의 독재적인 권력 사용이 얼마만큼 그 나라 혹은 국민들에게 도움 **및/또는** 피해를 주었는지 논하십시오.

파트 III의 답을 작성할 때, 다음의 일반적 정의를 참고하십시오.

- (a) **묘사하십시오**란 “무엇에 관해 글로 설명하거나 그것에 대하여 말한다” 를 의미합니다.
- (b) **논하십시오**란 “사실과 추론 및 논증을 이용하여 어떤 것에 대하여 관찰하고 어느 정도 상세한 정보를 포함하여 진술한다” 를 의미합니다.

파트 A  
 단답형 문제

지시사항: 문서들을 분석하고, 각 문서 아래에 있는 단답형 문제의 답을 주어진 칸에 쓰십시오.

문서 1

독재자의 일부 특징들



1 이 문서에서 보여진 특징들에 의하면, 독재자의 **전반적인** 목표는 무엇입니까? [1]

---



---

Score



## 문서 2

진나라의 최초 황제였던 시황제는 춘추 전국시대의 일곱 나라 중 여섯 나라를 약화시키기 위해 전쟁을 사용했습니다. 중국을 통일하고자 하는 그의 노력은 그의 세력을 강화했습니다.

... 진나라는 [시황제 지도 아래] 중국을 통일하고 행정적인 과제들을 도우려는 목적으로 많은 변화들을 일으켰다. 첫째, 진나라는 이전에 진 영토에서 통치되었던 것과 같은 법가 사상에 근거한 정부를 구성하였다. 그 지역은 36군으로 나뉘어졌고, 각 군은 현들로 세분되었다. 이런 군들에는 민간 수령과 군 사령관 및 제국 감독관이 배정되었다. 이런 군의 지도자들은 황제에게 보고서를 보내야 했다. 법가적 정부는 질서를 유지하기 위하여 상과 벌을 사용했다. 또한 정부는 백성들에게 절대적인 지배력을 가졌고, 이전의 귀족들은 그들의 모든 권한을 잃었다. 그리고 귀족들은 그들의 고향에서 수도로 이주되었다. 다섯 가정에서 열 가정 사이의 단위로 그룹들이 구성되었고, 그런 다음 각 그룹은 그룹에 속한 어느 개인의 잘못에 대해서도 집단으로 책임을 지었다....

출처: "Qin Dynasty," EMuseum, Minnesota State University at Mankato

2 이 EMuseum 문서에 의하면, 시황제의 통치 아래 진나라가 중국을 통제하려고 시도한 **두 가지** 방법은 무엇이었습니까? [2]

(1) \_\_\_\_\_

Score

(2) \_\_\_\_\_

Score

### 문서 3a

... 그(시황제)의 가장 중요한 개혁들은 중국 문자(쓰기)와 도량형을 통일시킨 것과, 모든 수레가 수레 바퀴자국을 따라 잘 갈 수 있도록 수레 바퀴의 폭까지도 통일시킨 것이었다. 곳곳에 빠짐없이 건설된 새로운 도로망과 수로망들은 지방 간의 무역과 군대의 이동을 개선시켰다....

출처: "The Emperor with an ego big enough for all time," *Timesonline*

3a 이 문서에 의하면, 시황제의 활동들이 중국에 도우며 된 **한 가지** 방식은 무엇이었습니까? [1]

Score

### 문서 3b

이사(Li Si)는 법가 사상의 강력한 지지자였고 승상(Grand Counselor)으로서 시황제를 섬겼습니다. 이 글에서, 이사는 시황제가 전통적인 가치관에서부터 멀어져 가는 것에 대해 도전했던 한 학자에게 답변하고 있습니다.

... “저는 진(진)나라 역사 기록 문서를 제외한 모든 역사 기록 문서를 불살라 버릴 것을 겸손하게 제안합니다. 궁정학자가 아닌 누군가가 감히 고전 시, 역사 기록 문서들 또는 백가의 글들을 소장하고 있다면, 지방 수령과 군 사령관이 그 문서들을 압수해서 불에 태워야 합니다. 감히 고전 시와 글들을 논하는 사람들은 공개적으로 처형을 받아야 하고, 새 질서에 반대하기 위해 오래된 전례(예)를 사용하는 사람들은 그들 가족 모두가 몰살되어야 합니다. 또한 그런 일들을 알고도 보고하지 않은 관료들 역시 같은 방법으로 처벌을 받아야 합니다.

“만일 이 명령이 내리고 삼십 일이 지난 후에도, 그런 책들의 주인들이 그 책들을 없애지 않았다면, 그들의 얼굴에는 문신이 새겨지고 만리장성에서의 고된 노동의 처형을 받아야 합니다. 파괴되지 않아도 되는 서적들은 의약, 점술 및 농업을 다루는 서적들뿐입니다. 법률을 공부하고 싶은 사람들은 관료들한테 배울 수 있습니다.” 시황제는 이 제안을 승인했다....

출처: Szuma Chien, *Records of the Historian*, The Commercial Press

3b 이사의 제안에 따르면, 시황제가 중국의 백성들을 통제할 수 있었던 방법 **한 가지**는 무엇이었습니까? [1]

Score

## 문서 4

...1700년 8월 8일, 표트르 대제는 발트 해의 연안 지방(해안 지역)을 정복함으로써, 러시아에서 서양으로 가는 길\*을 열기 위하여 스웨덴에 전쟁을 선포하기로 역사적인 결정을 내렸다. 그는 폴란드와 덴마크의 협력을 보장 받았지만, 스웨덴의 경쟁국인 이 두 나라와의 동맹은 별로 도움이 되지 않았다. 자국의 힘 외에 의존할 데가 없었던 표트르 대제는 나르바에서 용맹한 스웨덴의 왕인 찰스 12세에게 패배했다. 그 패배에 좌절하지 않고, 표트르 대제는 새로운 군대들을 양성하고 준비시켰다. 그는 좋은 포병대를 만드는 데 엄청난 노력을 쏟았고, 발트 해에서 호령할 수 있는 소형 구축함(전투함)의 건설에 직접 참여하였다. 그 후, 그의 단련되고 잘 훈련된 군대들이 네바[강] 어귀를 점령했으며, 그토록 원했던(바랬던) 연안 지역에 굳건히 자리를 잡았다. 그는 1709년 6월 27일 폴타바에서의 전투에서 그의 숙적인 찰스 12세를 패주시켰다....

출처: Constantine de Grunwald, "A Window on the West," in Christopher Hibbert, ed., *The Pen and the Sword*, Newsweek Books (개정판)

\*길: 항구보다는 덜 둘러막힌 곳으로서 배들이 닻을 내릴 수 있는 곳

- 4a 콘스탄틴 데 그룬왈드에 따르면, 표트르 대제가 스웨덴과의 전쟁을 통해 성취하고자 했던 것은 무엇이었습니까? [1]

Score

- b 콘스탄틴 데 그룬왈드에 따르면, 표트르 대제가 나르바 전투에서의 패배를 극복하기 위해 취한 행동 **한 가지**는 무엇이었습니까? [1]

Score

## 문서 5

...1722년 관리 등급표의 제정은 논리적 결론을 가져왔는데 이는 삼 세기에 걸쳐 진화된 과정이었다. 그것은 모든 계급의 귀족층이 의무적으로 평생 동안 정부에 봉사하도록 만들었다. 이는 육군, 해군 및 행정 관직에 열네 개의 동등한 등급을 만들었고, 최고 고위층 가정의 왕자라도 가장 낮은 등급에서 시작하여 올라가도록 하였다. 관리 등급표는 정부에 봉사한 사람이면 누구에게나 귀족의 특권을 제공했고, 정부에 봉사하는 것이 특권을 받을 수 있는 가장 주요한 근거가 되게 하였다....

출처: Peter Brock Putnam, *Peter, The Revolutionary Tsar*, Harper & Row, Publishers

- 5 피터 브록 퍼트남에 따르면, 관리 등급표 도입은 구 귀족주의의 영향을 어떤 식으로 감소시키려고 했습니까? [1]

Score

## 문서 6

... 표트르 대제가 러시아에 미친 영향은 얼마나 컸나? 그가 왕위에 올랐을 때 러시아는 보잘 것 없는 나라였다. 그는 러시아를 모두가 두려워하는 위대한 나라로 만들었다. 그의 즉위(왕위에 오름) 당시, 러시아에는 비효율적이고 믿음직하지 못한 사격단(세습되는 군사 단위) 이외에는 군사력이 없었다. 그가 사망할 당시 210,000명의 직업 군인으로 이루어진 군대가 있었다. 그는 아무 것도 없는 것에서 시작하여 해군을 구축하였고, 마흔 여덟 척의 배로 구성된 함대와 많은 작은 군함들을 남겼다....

표트르 대제는 러시아에게 필요했던 잘 사는 대규모의 중산층을 형성하는 일에는 뚜렷하게(눈에 띄게) 실패하였다. 최선의 노력을 다했음에도 불구하고, 러시아의 상업과 산업은 구식 체제에 의존한 채로 남아 있었기에, 표트르가 사망했을 때에는 그가 시작한 것을 발전시킬 부유하고 선견지명이 있는 상인들과 산업가들이 부족했다. 1917년 공산주의 혁명이 일어나기 전까지, 민간 의지와 기업의 부족은 러시아의 가장 큰 사회적 약점으로 남아 있었다....

출처: Michael Gibson, *Peter the Great*, Wayland Publishers

6 마이클 깁슨에 따르면, 표트르 대제의 통치가 러시아에 미친 영향 **두 가지**는 무엇이었습니까? [2]

(1) \_\_\_\_\_

Score

(2) \_\_\_\_\_

Score

## 문서 7

### 루이 왕이 귀족들을 통제한 방법

... 유럽에서 가장 뛰어난 궁전을 파리 근교의 베르사유에 새로 건축한 루이 왕을 귀족들이 따르는 것이 재미있었을 것이다. 가장 영향력이 있던 귀족들은 기껏해야 생활이 단조롭기만 했던 시골에 있는 그들의 성을 떠나 베르사유에 와서 왕과 함께 살도록 장려되었고 심지어는 그런 명령이 내려지기도 했다. 그곳에서 왕은 그들에서 즐거움을 제공하며 그들의 거동을 지켜볼 수도 있었다. 궁전에서 살며 왕의 식탁에서 식사를 하던 귀족들은 왕에게 무례하거나 불순종할 수 없었다. 자신들이 거의 느끼지 못한 채, 루이 왕의 귀족 손님들은 왕을 기쁘게 하려고 노력하는 것이 습관이 되었다. 왕의 매너가 모방되었고 그의 말을 따라하게 되었다. 왕이 웃으면 모두 웃었고, 왕이 슬프면 모두가 슬펐다. “왕이 독실하면 모두가 독실했고, 왕이 아프면 모두는 같이 아프지 않은 것에 대해 애석하게 생각했다.” 왕을 불쾌하게 한 귀족은 시골의 자신의 집으로 되돌려 보내졌는데 이러한 일은 모든 사람이 —그리고 본인 자신도—큰 수치로 여겼다....

출처: Carl L. Becker, *Modern History*, Silver, Burdett and Company

7 칼 베커에 따르면, 루이 14세가 귀족들을 통제하기 위해 시도한 일 **한 가지**는 무엇이었습니까? [1]

Score



## 문서 8

... 루이 왕은 점점 더 종교적인 일들에 획일성을 강요했다. 1680년대에 그는 신교도들에 대한 박해를 강화시켰다. 그의 행동들은 [낭트의] 칙령을 종이 한 장에 불과하게 만들었다. 결국 1685년에 그는 대다수의 프랑스인 신교도들이 카톨릭교로 개종하였기에 그 칙령의 필요성이 없어졌다고 선언하였다. 이는 무효화되었다.

이에 루이 왕은 공포의 정치를 시작하였다. 그는 프랑스인 신교도들이 나라를 떠나는 것을 허용하지 않았다. 그는 프랑스에 남아 있는 사람들은 박해가 없이 개인적으로 예배를 드릴 수 있게 할 거라고 약속했지만, 그 약속을 전혀 지키지 않았다. 그들의 교회들은 파괴되었고, 그들의 집회들은 금지되었으며, 그들의 자녀들은 미사에 참가하도록 강요되었다. 사보이의 발도파 교도들은 학살되었고 “집회를 소집하다가 잡힌” 육백 명의 신교도들은 사형되었다. 박해를 피하기 위해 이십오만 명이 외국으로 도피한 것으로 추측되어진다....

출처: Milton Meltzer, *Ten Kings and the Worlds They Ruled*, Orchard Books

- 8 밀튼 멜처에 따르면, 루이 14세가 프랑스에 있는 신교도들을 통제하기 위해 취한 행동 **한 가지**는 무엇이었습니까? [1]

Score

## 문서 9

이 인용문에서 바바라 투크먼은 위그노 교도들에 대한 루이 14세 정책의 영향들에 대해 언급하고 있습니다.

... 최근 [1960년대와 1970년대 학술] 연구들은 위그노 교도[프랑스인 신교도들]의 이민이 프랑스의 경제에 준 피해가 과장되었으며, 그것은 전쟁들로 인해 생긴 더 큰 피해의 한 요소에 불과했다는 결론을 내렸다. 하지만 정치적인 피해에 대해서는 의문의 여지가 없다. 그들이 정착한 모든 도시들에서 쏟아져 나오는 위그노 교도의 인쇄업자들과 그들의 친구들이 발행한 반 프랑스 팸플릿과 풍자들이 프랑스에 대해 교도의 반감을 불러 일으켰다. 프랑스에 저항했던 신교도 연맹은 브란덴부르크가 홀란드와 더 작은 독일의 공국들과 동맹을 맺었을 때 강화되었다. 프랑스 자체 내에서 신교도의 신앙은 핍박에 의해 다시 피어났고 카톨릭교와의 갈등도 되살아나게 되었다. 남부의 산악지대인 세벰에서의 오래 지속되었던 위그노 반란군의 반란은 프랑스 정부를 약화시키면서 억압으로 가득 찬 잔인한 전쟁을 불러왔다. 프랑스에 남아있던 이곳과 다른 곳의 위그노 공동체들 사이에서 장차 다가올 혁명을 맞이하는 기초가 형성되었다....

출처: Barbara W. Tuchman, *The March of Folly: From Troy to Vietnam*, Alfred A. Knopf, 1984

9 바바라 투크먼에 따르면, 위그노 교도들에 대한 루이 14세의 정책의 정치적인 결과 **한 가지**는 무엇이었습니까? [1]

Score

## 파트 B

### 에세이 문제

**지시사항:** 서론, 여러 개의 문단 및 결론을 포함하는 잘 구성된 에세이를 작성하십시오. **최소한 네개**의 문서에서 근거를 찾아 에세이에 사용하십시오. 관련 사실, 사례 및 자세한 정보를 사용하여 자신의 답안을 뒷받침하십시오. 다른 출처의 추가 정보도 포함시키십시오.

#### 역사적 배경:

모든 역사를 통하여, 독재적인 지도자들은 그들의 나라와 국민들의 생활에 권위를 행사했다. 독재적인 지도자들은 그들의 나라와 국민들을 돕는 동시에 피해를 주었다. 그런 지도자들의 예로는 **진시황제**, **포트르 대제** 및 **루이 14세** 등이 있다.

**과제:** 문서들이 제공하는 정보와 자신의 세계사 지식을 활용하여 다음 사항들에 맞게 에세이를 작성하십시오.

위의 역사적 배경에 언급된 지도자들 중 **두 명**의 지도자를 선택한 다음, **각** 지도자에 대하여,

- 그 지도자가 취한 행동들 중에서 그가 독재자라는 것을 보여주는 행동들을 묘사하십시오.
- 그 지도자의 독재적인 권력 사용이 얼마만큼 그 나라 혹은 국민들에게 도움 **및/또는** 피해를 주었는지 논하십시오.

#### 지침사항:

##### 에세이 작성 시, 반드시

- 과제의 모든 측면을 전개시키십시오.
- **최소 네 개**의 문서로부터 찾은 정보를 포함시키십시오.
- 관련된 다른 출처의 정보도 포함시키십시오.
- 관련 사실, 사례 및 상세한 정보로 주제를 뒷받침하십시오.
- 답안을 논리적이고 명확하게 구성하고 주제를 단순히 반복하는 것 이상의 서론과 본론을 포함하십시오.

