

세계사 및 지리

2016년 6월 14일, **화요일** — 오전 9시 15분 - 오후 12시 15분까지만 실시

학생 이름 _____

학교명 _____

이 시험 중에는 모든 통신 장비의 소지 및 사용을 철저히 금지합니다. 잠시라도 통신 장비를 소지하거나 사용할 경우, 시험은 무효화되며 시험 점수를 받을 수 없게 됩니다.

위 칸에 자신의 이름과 학교명을 인쇄체로 기입하십시오. 파트 I에 대한 별도의 답안지가 제공되었습니다. 감독관의 지시에 따라 답안지에 학생 정보를 기입하십시오. 그런 다음, 에세이 책자 각 페이지 윗부분에 기입하십시오.

이 시험은 세 파트로 구성되어 있습니다. 모든 파트의 **모든** 질문에 답하십시오. 파트 II, 파트 III A, 그리고 파트 III B의 답안을 작성할 때는 검정색이나 진한 청색 펜을 사용하십시오.

파트 I에는 50개의 선다형 문제가 있습니다. 이 문제들에 대한 답은 답안지에 지시된 대로 기입하십시오.

파트 II에는 한 개의 주제를 다루는 에세이 문제가 있습니다. 이 문제에 대한 답은 에세이 책자 1페이지부터 기입하십시오.

파트 III는 여러 개의 문서에 기반을 둡니다.

파트 III A에 그 문서들이 포함되어 있습니다. 시험의 이 파트를 하게 될 때, 이 부분의 첫 페이지에 자신의 이름과 학교명을 기재하십시오.

각 문서에는 하나 이상의 문제가 따릅니다. 각 문제의 답은 이 시험책자 안의 문제 아래에 있는 칸에 기입하십시오.

파트 III B에는 그 문서들을 바탕으로 하는 한 개의 에세이 문제가 있습니다. 이 문제에 대한 답은 에세이 책자 7페이지부터 기입하십시오.

시험을 마친 후, 답안지 마지막 부분에 인쇄된 진술문에 서명함으로써 이 시험을 치르기 전에 문제나 답에 대한 불법적인 지식이 없었으며 시험을 치르는 동안 어떤 문제에 답하는 데 있어서도 도움을 주거나 받지 않았음을 표시하십시오. 이 진술문에 서명하지 않은 학생의 답안지는 인정하지 않습니다.

지시가 있을 때까지 이 시험 책자를 열지 마십시오.

파트 I

이 파트의 모든 문제에 답하십시오.

지시사항 (1-50): 각 문제에 가장 적절한 답의 번호를 별도의 답안지에 기입하십시오.

- 1 역사학자들이 일차적인 자료에 의존하는 이유는?
 (1) 그 자료들이 이차적인 자료들보다 자세하기 때문
 (2) 그 자료들이 사건들에 대한 목격자들의 이야기를 제공하기 때문
 (3) 그 자료들이 종교 지도자들의 승인을 받기 때문
 (4) 그 자료들이 역사를 기록하는 규칙을 확립하기 때문
- 2 • 정치 제도를 연구한다
 • 공공 정책 제안을 만든다
 • 선거 여론조사 및 결과를 분석한다
 이러한 활동들을 전문적으로 하는 사람을 일컫는 말은?
 (1) 경제학자 (3) 사회학자
 (2) 정치학자 (4) 인류학자
- 3 다음 중 몬순의 영향을 가장 많이 받는 두 나라는?
 (1) 가나와 아르헨티나
 (2) 알제리와 터키
 (3) 인도와 중국
 (4) 쿠바와 아프가니스탄
- 4 신석기 혁명을 인류의 역사에 있어 하나의 전환점으로 보는 주된 이유는?
 (1) 농경으로 인해 정착 사회가 이루어졌기 때문
 (2) 사람들이 동물 가죽으로 옷을 만들기 시작했기 때문
 (3) 석기 도구를 향상시키기 위해 구리가 최초로 사용되었기 때문
 (4) 동굴 벽화가 유목민 무리들의 활동을 기록하였기 때문
- 5 다음 중 초기 메소포타미아 문명과 가장 밀접하게 연관된 활동은?
 (1) 옥수수를 재배하기 위해 공중 정원을 건설함
 (2) 대의 민주주의를 확립함
 (3) 설형 문자를 사용하여 글자를 개발함
 (4) 힌두 사원들을 건설함

- 6 다음 중 비단길로 직접적으로 연결되었던 주요 두 지역은?
 (1) 유럽과 남아메리카
 (2) 중앙아메리카와 아프리카
 (3) 아시아와 아프리카
 (4) 아시아와 유럽
- 7 도교, 신도 및 애니미즘의 종교들이 강조하는 것은?
 (1) 평화롭게 살기 위해 자연과 조화를 이룸
 (2) 구원을 얻기 위해 유일신을 믿음
 (3) 사회 질서를 유지하기 위해 적절한 행동을 함
 (4) 해탈에 이르기 위해 카스트 규율에 복종함
- 8 • 유스티니아누스가 새로운 법령을 도입하였다.
 • 하기아 소피아 성당의 완공이 콘스탄티노플을 더욱 아름답게 만들었다.
 • 그리스-로마의 전통의 보존되었다.
 이 문장들이 묘사하는 제국은?
 (1) 비잔틴 (3) 마우리아
 (2) 페르시아 (4) 오토만
- 9 632년부터 750년 사이에 있었던 이슬람의 팽창이 가져온 한 가지 영향은 무엇이었습니까?
 (1) 칼리프에 의해 무력 정벌이 금지되었다.
 (2) 넓은 지역에 걸쳐 문화적 및 상업적 연결이 확립되었다.
 (3) 서유럽 인구의 대다수가 개종하였다.
 (4) 단일 중앙 집권 세력이 지중해로부터 인더스강에 이르는 지역을 통치하였다.
- 10 십자군 전쟁의 최종 결과는 무엇이었습니까?
 (1) 셀주크 투르크족이 스페인을 정복했다.
 (2) 예루살렘이 여전히 이슬람교도들의 통치하에 있었다.
 (3) 샤를마뉴가 프랑크 제국을 건국했다.
 (4) 교황이 동방 정교회의 지도자가 되었다.

11번 문제는 아래 차트와 자신의 사회과학 지식을 바탕으로 답하십시오.

러시아, 페르시아 및 중국에서의 몽골의 통치

<p>러시아</p> <ul style="list-style-type: none"> • 몽골은 러시아의 왕자들에게 통치하게 하고 그들로부터 조공을 받았다. • 몽골은 지역적인 종교 활동을 용인했다.
<p>페르시아</p> <ul style="list-style-type: none"> • 몽골은 페르시아인들에게 하급 정부 관료, 총독 및 국가 관료직을 주었다. • 페르시아에 있는 대부분의 몽골인들은 이슬람교로 개종하였다.
<p>중국</p> <ul style="list-style-type: none"> • 몽골은 정부를 운영하기 위해 외국인 관리자들을 데려왔다. • 몽골은 유학자의 특권을 없앴고 유교 시험 제도를 폐지했다.

11 이 차트의 정보에 의하면, 다음 중 러시아, 페르시아 및 중국에서의 몽골 통치의 영향을 가장 잘 요약한 것은?

- (1) 몽골 제국 전역에 걸쳐 지방 관료들이 통치하도록 허락되었다.
- (2) 몽골인들은 피정복인들에게 이슬람교로 개종할 것을 요구했다.
- (3) 몽골인들은 정복한 다른 민족들을 다양한 방법으로 통치하였다.
- (4) 정복된 모든 지역에서 정부 관료를 선출하기 위해 공무원 시험 제도가 사용되었다.

12 다음 중 14세기에 일어난 흑사병에 관한 서술로 가장 정확한 것은?

- (1) 위생 체계의 향상으로 흑사병의 위협이 제거되었다.
- (2) 의학의 발달로 흑사병의 확산을 중지시켰다.
- (3) 유럽과 아시아 간의 교역이 흑사병이 발생하기 직전에 중단되었다.
- (4) 흑사병으로 인한 사망이 노동력의 부족을 초래했다.

13 다음 중 이탈리아의 도시 국가에서 르네상스가 시작된 주요 이유는?

- (1) 라인강이 이탈리아 산업에 동력을 제공했다.
- (2) 알프스 산맥이 이 도시 국가들을 나머지 유럽 지역으로부터 고립시켰다.
- (3) 이 도시 국가들이 지중해에 위치하고 있어 교역이 수월했다.
- (4) 이탈리아의 살기 좋은 기후가 농산품에 의존하도록 만들었다.

14번 문제는 아래의 대화와 자신의 사회과학 지식을 바탕으로 답하십시오.

...“그렇다면 아키야마 주군이 무엇을 하든지 상관없이 — 설령 그가 타케다 주군에게 불충성하더라도, 저는 아키야마 주군에게 여전히 충성을 다해야 합니까?” 라고 나는 물었다.

“물론이다!” 간스케의 대답에는 추호의 의심도 없었다. “너의 주군은 너의 아버지와 같으며, 너는 그가 서쪽의 어디로 이끌든지, 설령 그곳이 죽음이라 할지라도, 그를 반드시 따라야 한다.” ...

— Erik Christian Haugaard, *The Samurai's Tale*, Houghton Mifflin

14 다음 중 이 *사무라이의 이야기*의 발췌문에서 표현된 전통적인 신념은?

- (1) 환생
- (2) 무사도
- (3) 성지 순례
- (4) 열반

15번 문제는 아래의 그림과 자신의 사회과학 지식을 바탕으로 답하십시오.



출처: *Ancient Middle America*, University of Minnesota at Duluth

15 위에 보여진 수준의 발전을 이룩하기 위해 아즈텍인들이 먼저 해야 했던 일은?

- (1) 건축 자재를 운반하기 위해 바퀴가 달린 수레를 발명했다
- (2) 농업을 돕기 위해 가축을 사용했다
- (3) 조직화된 정부와 전문화된 노동력을 확립했다
- (4) 유럽의 문화에서 전파된 발전된 공학 기술을 채택했다

16 가나, 말리 및 송가이 제국이 황금 시대를 성취할 수 있었던 이유들 중 하나는?

- (1) 그들이 나이지 삼각주의 사탕수수 농장에 의존했기 때문
- (2) 그들이 사하라 횡단 무역로들을 장악했기 때문
- (3) 그들이 기니만의 석유 매장지를 발견했기 때문
- (4) 그들에게 대서양 연안의 자연적인 항구들을 이용할 수 있는 능력이 있었기 때문

17 1500년대 말 즈음, 오토만 제국이 지배했던 지역은 어느 지역까지 확장되었습니까?

- (1) 서남아시아에서 동유럽 및 북아프리카까지
- (2) 북아프리카 넘어 아라비아 반도에서 스페인 남부까지
- (3) 중앙아시아 왕국들 넘어 몽골까지
- (4) 인도 아대륙에서 말라카 해협까지

18번 문제는 아래의 발췌문과 자신의 사회과학 지식을 바탕으로 답하십시오.

인간과 시민의 권리 선언

1. 인간은 자유롭게 태어나서 자유롭게 살며 평등할 권리가 있다. 사회적 차별은 공공의 이익이 될 때에만 둘 수 있다.
2. 모든 정치적 결합의 목적은 그 무엇도 침해할 수 없는[빼앗을 수 없는] 인간의 자연권을 보전하는 데 있다. 이는 자유, 재산, 안전 및 압제에 대한 저항할 수 있는 권리이다....

— French National Assembly, 1789

여자와 여성 시민의 권리 선언

1. 여성은 자유롭게 태어나고 남성과 동등한 권리를 가진다. 사회적 차별은 공공의 이익을 위해서만 가능하게 된다.
2. 모든 정치적 결합의 목적은 그 무엇도 침해할 수 없는 여성과 남성의 자연권을 보전하는 데 있다. 이는 자유, 소유, 안전, 그리고 무엇보다도 압제에 대해 저항할 수 있는 권리이다....

— Olympe de Gouges, 1791

18 이 발췌문들에 의하면, 올랭프 드 구주가 지원했을 가능성이 가장 높은 행동은?

- | | |
|----------------|--------------------------|
| (1) 왕을 처형함 | (3) 더 많은 급진적인 군사 전략들을 만들 |
| (2) 교육 기회를 제한함 | (4) 평등에 대한 정의를 확대함 |

19 다음 중 러시아의 피터 대제와 가장 밀접한 연관이 있는 변화는?

- (1) 모스크바를 수도로 정함
- (2) 러시아의 국경을 카우커스 북부와 우크라이나로 확장함
- (3) 나라를 서구화 및 현대화 함
- (4) 사유지에서 농노를 해방시킴

20 콜럼버스 교환의 경제적인 결과는 무엇이었습니까?

- (1) 유럽에서 봉건제도의 토지 제도를 정착시킴
- (2) 유럽이 지배하는 세계적인 교역망이 발달함
- (3) 아메리카 대륙에 화전 농업 기술이 도입됨
- (4) 한자 동맹이 결성됨

21 다음 중 스페인이 식민지 라틴 아메리카의 농업에 노동력을 공급하기 위해 이용한 토지 제공 및 세금 정책을 가리키는 용어는?

- | | |
|--------------|-----------|
| (1) 엔코미엔다 제도 | (3) 중간 항로 |
| (2) 상업주의 | (4) 자본주의 |

22 아래의 미완성된 개요를 완성시키는 제목으로 가장 적합한 것은?

- I. _____
- A. “피와 철”
 - B. 오스트리아-프러시아 전쟁
 - C. 프랑스-프러시아 전쟁
 - D. 카이저 빌헬름 1세

- (1) 비엔나 회의
- (2) 아프리카 분할
- (3) 절대주의 시대
- (4) 독일의 통일

23 수에즈 운하 및 파나마 운하의 주요 목적은 무엇이었습니까?

- (1) 식민지로의 이민을 통제
- (2) 노예 무역을 제한
- (3) 관개 시설을 확장
- (4) 교역로의 거리를 단축

24번 문제는 아래의 그림과 자신의 사회과학 지식을 바탕으로 답하십시오.



출처: *Punch*, September 25, 1852 (개정판)

24 1852년의 이 그림은 다음 중 어느 것의 개선을 주장하고자 사용되었을 가능성이 가장 높습니까?

- | | |
|------------|-----------|
| (1) 작업장 규칙 | (3) 공장 여건 |
| (2) 위생 규정 | (4) 투표권 법 |

25번과 26번의 문제는 아래의 글과 자신의 사회과학 지식을 바탕으로 답하십시오.

...경제 개혁에는 엔화에 기초한 통일된 근대적인 화폐, 은행, 교역 및 과세법, 증권 거래 및 통신망을 포함했습니다. 발달된 자본주의 경제에 어울리는 근대화된 제도적인 체계를 확립하는 데는 시간이 걸렸지만 1890년대까지는 완성되었습니다. 그 즈음, 정부는 주로 재정적인 이유로 근대화 과정을 직접 통제하는 것을 대부분 포기했습니다. 많은 이전의 *다이묘*들은 한꺼번에 많은 연금을 받았으며, 이를 새로 생겨나는 산업에 투자함으로써 커다란 이득을 얻었습니다. 메이지 유신 전에 해외 교역에 비공식적으로 관여했던 사람들 역시 큰 이득을 보았습니다. 전통적인 방법을 고수하던 예전의 *막부*를 위해 일하던 기업들은 이 새로운 사업 환경에서 실패했습니다....

— *Japan: A Country Study*, Library of Congress

25 이 글에 따르면, 이 나라가 시행하고자 했던 것은?

- (1) 다이묘에게 혜택을 제공하기
- (2) 전통적인 사업을 위해 안정망을 만들기
- (3) 산업화된 민족 국가가 되기
- (4) 해외 교역에 대한 통제를 포기하기

26 이 글에 묘사된 근대화 과정을 직접적으로 진보시켰던 요인들은 다음 중 어느 것입니까?

- (1) 고립주의 정책, 과세 정책, 일시불
- (2) 자본 투자, 정부의 영향, 경제 개혁
- (3) 해외 교역, 직접적인 정부의 통제, 예전의 막부를 위해 일하는 기업들
- (4) 통신망, 관행, 연금 폐지

27 아르메니아 대학살(1910년대) 및 우크라이나에서의 강요된 기근(1930년대)은 다음 중 어느 것의 예입니까?

- (1) 국제적인 테러리즘
- (2) 종교적 갈등
- (3) 게릴라전
- (4) 인권 침해

28 검열, 일당 독재 및 종교적 사상을 국가의 사상으로 대체하는 것은 다음 중 어느 것의 특징입니까?

- (1) 민주 정부
- (2) 입헌 군주국
- (3) 독재 정권
- (4) 의회 제도

29 조셉 스탈린의 5개년 계획의 주요 목적은 무엇이었습니까?

- (1) 농업 및 산업 생산을 늘림
- (2) 상류층의 부를 제한함
- (3) 소비재의 생산이 늘림
- (4) 소수 민족의 이민을 제한함

30 1930년대 동안, 일본의 제국주의 정책은 주로 무엇에 의해 이끌어졌습니까?

- (1) 일본의 도시들을 폭격한 것에 대한 복수
- (2) 천연 자원의 필요
- (3) 전통적인 가치를 지키고자 하는 열망
- (4) 선불교를 전파하려는 의지

31 • 대약진 정책
• 문화 혁명
• 4대 근대화


이 정책들과 연관이 있는 나라는?

- (1) 인도
- (2) 이탈리아
- (3) 칠레
- (4) 중국

32 다음 중 석유 수출국 기구(OPEC)의 대다수의 회원국들이 위치하고 있는 지역은?

- (1) 라틴 아메리카
- (2) 유럽
- (3) 중동
- (4) 동아시아

33번 문제는 아래의 삽화와 자신의 사회과학 지식을 바탕으로 답하십시오.



출처: John Trever, Albuquerque Journal, 1998 (개정판)

- 33 이 1998년 삽화의 주요 견해는?
- (1) 미국이 러시아의 경제적 변화를 성공적으로 이끌고 있다.
 - (2) 러시아가 공산주의에서 자본주의로 바뀌어가는 데 어려움을 겪고 있다.
 - (3) 대부분의 러시아인들이 공산주의로 되돌아가는 것을 지지한다.
 - (4) 러시아 정부가 질서를 유지하는 데 실패했다.
-
- 34 세계 인권 선언은 다음 중 어느 것에 대한 반응으로 작성되었습니까?
- (1) 2차 세계대전 동안 행해진 잔혹 행위
 - (2) 르완다에서 후투 족 집들을 불태움
 - (3) 과테말라에서 라틴 아메리카 농부들에 대한 더 나은 처우를 요구함
 - (4) 크메르 루즈의 통치 하에 도시 사람들을 강제로 이주시킴
-
- 35 20세기의 녹색 혁명이라는 용어는 다음 중 어느 분야의 두드러진 발전을 가리킵니까?
- (1) 전자 통신
 - (2) 식량 생산
 - (3) 인구의 제로 성장
 - (4) 생물학전

36번 문제는 아래의 글과 자신의 사회 지식을 바탕으로 답하십시오.

...투표를 하기 위해 기다는 줄[행렬]에서 있었던 —백인, 흑인, 유색인종, 인도인— 모두는 자신들이 같은 나라 사람[동포]이라는 것을 깨달았습니다. 남아프리카 공화국의 백인들은 무겁게 누르던 죄책감이 없어지는 것을 느낄 수 있었습니다. 그들은 우리가 늘 그들에게 해왔던 말들—즉, 자유는 누구에게나 같은 것이며, 흑인 해방은 필연적으로[반드시] 백인의 해방을 의미한다는 것을 알게 되었습니다. 우리는 우리의 눈앞에서 기적이 펼쳐지는 것을 보았으며—이것은 꿈이 이루어지는 것입니다. 이는 모든 남아프리카 공화국 사람들의 승리입니다. 이는 민주주의와 자유의 승리입니다....

— Bishop Desmond Tutu, *The Rainbow People of God: The Making of a Peaceful Revolution*

- 36 이 글에 묘사된 사건은 다음 어느 정책의 종말을 의미합니까?
- (1) 인종 차별 정책
 - (2) 긴장 완화 정책
 - (3) 식민주의 정책
 - (4) 유화 정책

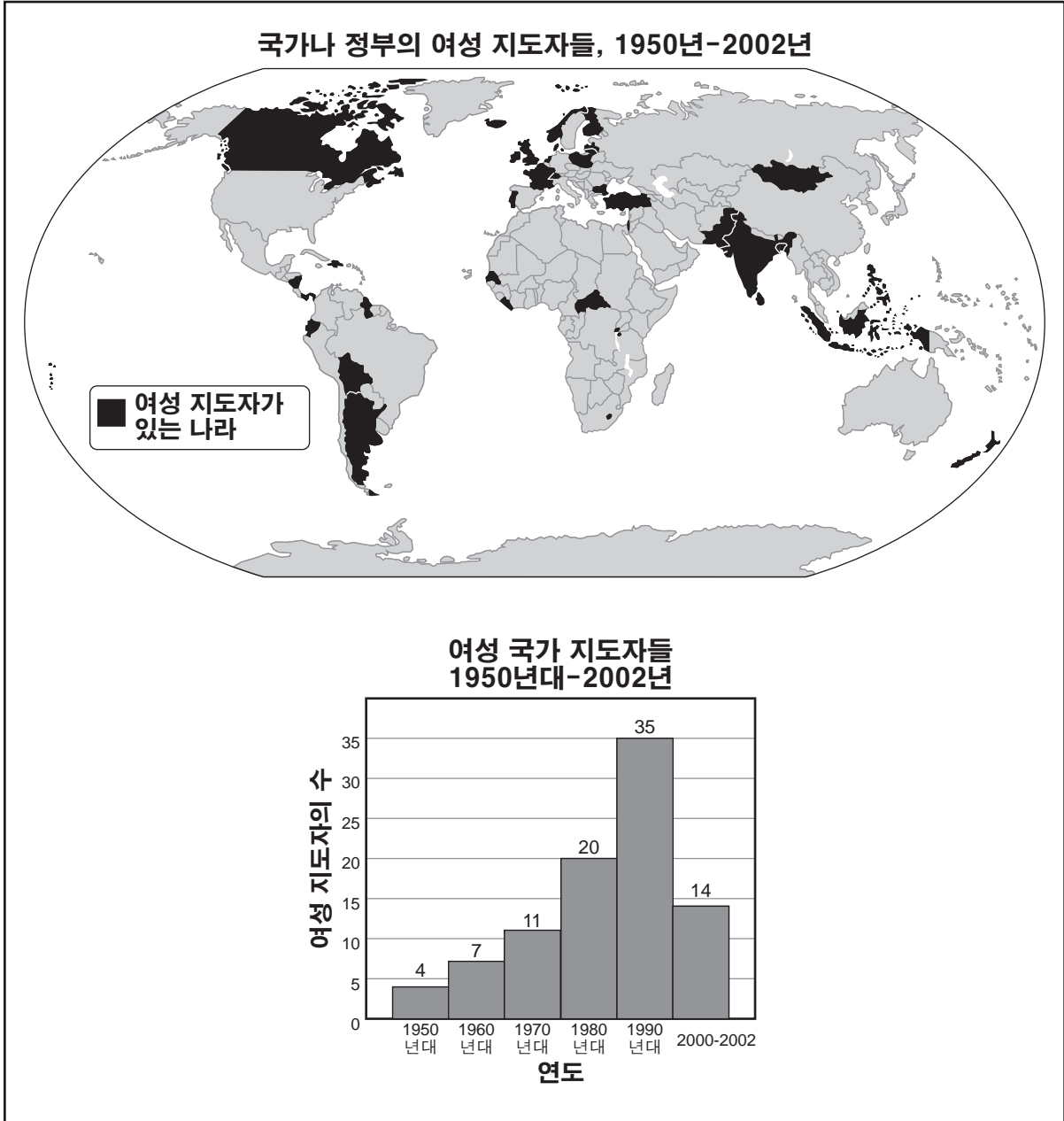
37번 문제는 아래의 글과 자신의 사회과학 지식을 바탕으로 답하십시오.

요하네스버그—아프리카는 종종 전세계로 원조를 호소하는 전쟁, 질병 및 가난으로 가득찬 지역으로 묘사됩니다. 그러나 최근 한 보고에 따르면 아프리카는 국민 경제가 성장하고 있고, 소비자층이 늘어나고 있기에 해외 투자자들에게 있어 개발 도상국 중 가장 높은 이익을 가져다주는 대륙의 모습으로 낙관적으로 그려집니다....

— “Report Offers Optimistic View of Africa’s Economies,” *New York Times*, June 24, 2010

- 37 이 글의 주장을 가장 잘 뒷받침할 수 있는 추가적인 증거는?
- (1) 대부분의 아프리카 국가들에서 빈곤 비율이 증가함
 - (2) 아프리카 어린이들의 사망율이 증가함
 - (3) 일부 아프리카 국가들의 국내 총생산이 증가함
 - (4) 아프리카 전역에서 높은 물가 상승률이 계속됨

38번 문제는 아래의 지도와 그래프 및 자신의 사회과학 지식을 바탕으로 답하십시오.



출처: John T. Rourke, *International Politics on the World Stage*, McGraw-Hill, 2003 (개정판)

38 이 지도와 그래프가 제공하는 정보에 의하면, 다음 중 올바른 것은?

- (1) 여성들은 오직 서구 민주주의 국가들에서만 국가적인 지도자 위치에 올랐다.
- (2) 여성들의 정치적인 권력은 1960년대 이래로 꾸준히 감소하였다.
- (3) 여성 국가 지도자들은 아프리카 정부들에서 주를 이루었다.
- (4) 여성들은 세계의 거의 모든 지역들에서 국가적인 지도자들이 되어왔다.

39번 문제는 아래의 삽화와 자신의 사회과학 지식을 바탕으로 답하십시오.



출처 : Jimmy Margulies, *The Record*, Hackensack, N.J., January 14, 2010 (개정판)

39 다음 중 이 삽화의 주요 견해는?

- (1) 지진이 발생한 후, 아이티 정부는 국민들의 요구에 신속하게 반응했다.
- (2) 아이티 국민들은 2010년의 지진 이전에 심각한 경제적인 문제들을 겪고 있었다.
- (3) 2010년 지진은 아이티 국민들에게 재정적인 도움을 가져왔다.
- (4) 비록 지진으로 인해 막대한 재산 피해가 발생했지만, 부상을 입거나 목숨을 잃은 아이티 국민은 거의 없었다.

40 “**캄보디아의 최고 법원이 선거에 대한 불만사항들을 심사하기 시작하다**”
 “**케냐의 논란이 된 선거에서 현 정부가 당선자를 선포하다**”
 “**로버트 무가베 선거 부정 혐의로 짐바브웨 선거가 손상되었다**”

이 기사 제목들은 일부 국가들에서 무엇에 대한 고전이 계속되고 있음을 보여줍니까?

- (1) 공평한 민주적인 절차를 만들기
- (2) 언론의 자유를 지키기
- (3) 공정한 법원을 만들기
- (4) 집회의 자유를 보장하기

41 *The Futurist* 잡지에 실린 “소수 민족의 언어는 생존할 수 있을까?”라는 기사의 제목은 다음 중 어느 것의 갈등을 가장 잘 시사합니까?

- (1) 생산성 대 수입
- (2) 자유 대 독재
- (3) 종교 대 세속주의
- (4) 세계화 대 다양성

42 다음 중 바빌론, 하라파 및 키예프 도시가 문명의 중요한 중심지가 된 주요 원인은?

- (1) 하곡 무역이 이 도시들을 주요 경제 지역으로 만들었다.
- (2) 이 도시들은 인근의 해협들을 지배함으로써 유력해졌다
- (3) 바다로 직접 연결되어 있어 성지 순례 장소가 되었다.
- (4) 산을 통과하는 요충지 인근에 자리잡아 다른 지역들의 관문이 되었다.

43 • 갈릴레오가 망원경을 이용하여 그 시대의 가르침에 도전하였다.

- 아이작 뉴턴 경이 중력의 법칙을 발견하였다.
- 코페르니쿠스가 태양이 우주의 중심임을 밝혀냈다.

다음 중 이 사건들과 가장 직접적으로 연관이 있는 시기는?

- (1) 초기 중세
- (2) 과학 혁명
- (3) 종교 개혁
- (4) 산업 혁명

44 다음 중 가장 먼저 일어난 기술 혁신은?

- (1) 증기 기관
- (2) 화약
- (3) 나무 쟁기
- (4) 작은 범선

45 • 영국의 제임스 2세가 프랑스로 도피하다.

- 윌리엄과 메리가 영국의 왕좌에 오르다.
- 영국의 권리장전이 제정되다.

다음 중 영국의 역사에 있어 이 일들과 가장 직접적으로 연관된 사건은?

- (1) 영국 국교회의 창설
- (2) 스페인 무적 함대의 패배
- (3) 명예 혁명
- (4) 청교도 혁명

46번의 문제는 아래의 화자들의 말과 자신의 사회과학 지식을 바탕으로 답하십시오.

화자 A: 무역 박람회와 길드가 제가 살아있는 동안 생겨났습니다. 저는 수공업자들과 교역하기 위하여, 그리고 개척된 무역로를 따라 동양으로부터 들어온 새로운 물건들을 찾기 위하여 이 마을 저 마을을 다녔습니다.

화자 B: 국경선이나 충성심은 제가 사는 동안 덜 중요하게 되었습니다. 많은 나라들이 관세를 없앴고 새로운 국제 무역 기구들이 창설되었습니다.

화자 C: 우리 가족은 우리 소유의 땅에서 독립적으로 일했습니다. 우리는 우리가 먹고살기에 충분한 식량을 재배했고 우리의 노동력으로 우리가 필요한 거의 모든 것을 해결했습니다.

46 다음 중 이 화자들의 말의 주요 쟁점이 되는 주제는?

- (1) 시민권
- (2) 도시화
- (3) 인권
- (4) 경제학

47 프랑스 혁명(1789년)과 러시아 혁명(1917년)의 비교는 다음 중 어느 것을 보여줍니까?

- (1) 정치 및 경제적 불평등은 종종 변화에 대한 요구로 이어진다
- (2) 민주 정부는 대개 혁명으로부터 만들어진다
- (3) 혁명은 하나의 불만으로 부터 시작된다
- (4) 사유화는 궁극적으로 계급 투쟁으로 이어진다

48 인도에서 일어난 세 포이의 항쟁과 남아프리카에서 일어난 줄루족 저항의 목표는 무엇이었습니까?

- (1) 자신들의 나라를 분할하기
- (2) 신권 통치 정부를 수립하기
- (3) 민족주의 운동을 반대하기
- (4) 외국에 의한 통치를 없애기

49번과 50번의 문제의 답은 아래의 삽화와 자신의 사회과학 지식을 바탕으로 답하십시오.

다리에 있는 틈



출처: Leonard Raven-Hill, *Punch* (개정판)

49 이 삽화가 다음 중 어느 전쟁 직후의 국제적인 정치에 대해 언급하고 있습니까?

- (1) 나폴레옹 전쟁
- (2) 제1차 세계대전
- (3) 제2차 세계 대전
- (4) 냉전

50 이 삽화가 국제 연맹이 실패할 것이라고 시사하는 이유는?

- (1) 프랑스와 영국이 핵심적인 위치에 있기 때문
- (2) 미국이 영국과 이탈리아의 원조에 지나치게 의존하고 있기 때문
- (3) 미국이 회원국이 되지 않았기 때문
- (4) 영국과 이탈리아가 벨기에와 프랑스로부터 도움 받기를 원하지 않기 때문

에세이 문제의 답은 별도의 에세이 책자에 쓰십시오.

파트 II의 답을 작성할 때 다음의 일반적 정의를 참고하십시오.

- (a) **설명하십시오**란 “이해하기 쉽게 혹은 명백하게 하고, 이유 혹은 원인을 제공하며 논리적인 사고 전개 혹은 관계를 보여준다” 는 의미입니다
- (b) **논하십시오**란 “사실과 추론 및 논증을 이용하여 어떤 것에 대하여 관찰하고, 어느 정도 상세한 정보를 포함하여 서술한다” 는 의미입니다

파트 II

주제형 에세이 문제

지시사항: 서론, 아래 과제를 다루는 여러 개의 문단 및 결론을 포함하는 잘 구성된 에세이를 작성하십시오.

주제: 인간과 자연 지리학

자연 지형은 때때로 사회에 어려움을 가져다줍니다. 사회는 이러한 어려움을 극복하기 위해 다양한 기술적인 혁신을 사용함으로써 변화를 가져왔습니다.

과제:

한 사회에 어려움을 준 자연 지형 **두 가지**를 선택하고, **각** 지형에 대하여

- 왜 이 자연 지형이 한 사회에 어려움을 주었는지를 설명하십시오
- 이 지형이 준 어려움을 극복하기 위해 기술적인 혁신을 사용한 결과로 일어난 변화들에 대해 논하십시오

세계사와 지리학 공부를 통해 배운 어떠한 자연 지형을 사용해도 됩니다. 고려해볼 만한 자연 지형으로는 대서양(작은 범선), 안데스 산(길), 사하라 사막(낙타 대상), 아마존 우림(불/절단 기구), 러시아의 툰드라(특화된 드릴 기구), 인도양 몬순(대형 삼각돛), 중국의 동쪽으로 흐르는 강(대운하) 및 나일강 홍수(댐) 등이 있습니다.

답안에 사용할 수 있는 것은 위에 제안된 것에 국한되지 않습니다.

답안에는 미국에 어려움을 끼친 자연 지형은 사용하지 마십시오.

지침사항:

에세이 작성 시, 반드시

- 과제의 모든 측면을 전개시키십시오
- 관련 사실, 사례 및 상세한 정보로 주제를 뒷받침하십시오
- 주제의 단순 반복이 아닌 서론과 결론을 포함한 논리적이고 명확한 구성 계획을 사용하십시오

이 페이지는 의도적으로 백지로 두었습니다.

다음 페이지를 여십시오 ⇨

파트 III

문서에 기초한 문제

이 문제는 주어진 문서들을 바탕으로 합니다. 이 문제는 역사적 문서를 처리하는 능력을 시험하기 위한 의도로 고안되었습니다. 문서들의 일부 내용은 이 문제의 목적에 맞도록 편집되었습니다. 문서들을 분석할 때, 각 문서의 출처와 문서에 나타난 관점을 참작하십시오. 각 문서에 사용된 언어는 그 문서가 쓰여진 시기의 역사적인 상황을 반영할 수 있다는 점을 참고하십시오.

역사적 배경:

제2차 세계대전 이후, **독일**, **팔레스타인** 및 **영국령 인도**는 여러가지 이유로 분할되었습니다. 각 분할은 이 지역에 사는 사람들, 지역 및 다른 나라들에 영향을 미쳤습니다.

과제: 문서들이 제공하는 정보와 자신의 세계사 지식을 활용하여 파트 A의 각 문서 아래에 있는 문제들에 답하십시오. 이 문제들에 대한 답은 파트 B의 다음 에세이를 작성하는 데 도움이 될 것입니다.

위의 역사적 배경에 언급된 지역들 중 **두** 지역을 선택한 다음, **각** 지역에 대해

- 분할을 초래한 역사적인 상황들을 묘사하십시오
- 이 지역의 분할이 이 지역의 사람들, 이 지역 및/또는 다른 나라들에 어떠한 영향을 미쳤는지 논하십시오

파트 III의 답을 작성할 때 다음의 일반적 정의를 참고하십시오.

- (a) **묘사하십시오**란 “무엇에 관해 글로 설명하거나 그것에 대하여 말한다” 를 의미합니다
 (b) **논하십시오**란 “사실과 추론 및 논증을 이용하여 어떤 것에 대하여 관찰하고, 어느 정도 상세한 정보를 포함하여 서술한다” 는 의미입니다

파트 A
단답형 문제

지시사항: 문서들을 분석하고, 각 문서 아래에 있는 단답형 문제의 답을 주어진 칸에 쓰십시오.

문서 1

나치 독일 1933년-1939년



출처: Patrick K. O'Brien, general editor, *Oxford Atlas of World History*, Institute of Historical Research, University of London (개정판)

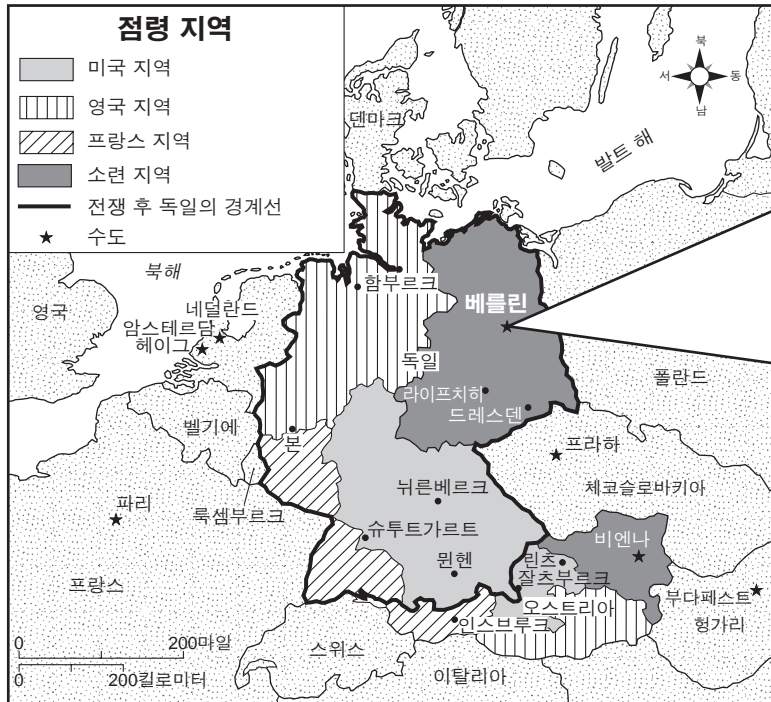
* 슬로바키아의 보호국은 비록 독일과 연합하였지만 독립국으로 남아있었다.

1 이 지도에 근거하여, 1938년과 1939년 사이에 독일에 의해 합병된 영토 **하나**를 밝히십시오. [1]

Score

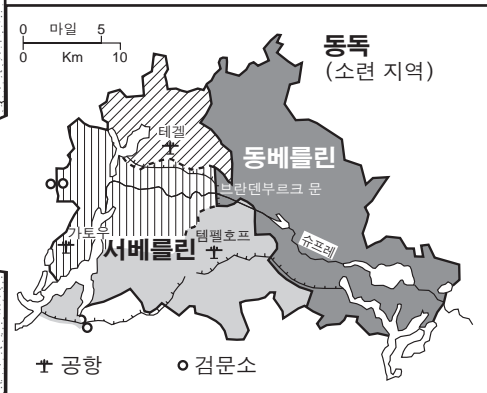
문서 2

제2차 세계대전 이후의 독일



출처 : World History: Perspectives on the Past, Geography Skills Worksheets, D.C. Heath (개정판)

베를린, 1948년-1989년



출처 : Richard Natkiel, Atlas of the 20th Century, Facts on File (개정판)

2 이 지도들에 근거하여, 제2차 세계대전이 독일에 미친 영향 **두 가지**를 밝히십시오. [2]

(1) _____

Score

(2) _____

Score

문서 3a

... 2차 세계대전 이후, 서베를린은 철의 장막 뒤의 하나의 섬이 되어, 서구 세력들에 의해 포위된 전초 지대가 되었습니다.

동베를린인들은 무리를 지어 서베를린으로 이주하기 시작했습니다. 실제로, 장벽이 건설되기 이전에는 한 주당 2,000명의 사람들이 동에서 서로 이동했다고 추정되었습니다....

동과 서 간에 장벽을 설치한 것은 한밤중에 일어났으며 철저히 비밀에 쌓여있었습니다....

1961년 8월 13일 이른 새벽에 장벽이 설치되었고, 이는 근본적으로 [동독에 있는] 1천7백만 명의 사람들을 가두는 것이었습니다....

출처: "Building the Berlin Wall," BBC World Service

문서 3b

“얼마나 많은 사람들이 우리 편에 있는지 보시오.”



출처: Don Wright, *The Miami News*, 1961

3 이 문서들에 근거하여, 베를린 장벽의 건설이 베를린 사람들에게 가져온 결과 **한 가지**를 적으십시오. [1]

Score

문서 4

1917년 11월 2

로스차일드 경께,

저는 내각에 제출하여 승인된 유대인 시온주의자의 염원을 담은 다음의 지지 선언을 저희 [영국] 정부를 대신하여 귀하께 전달하게 된 것을 기쁘게 생각합니다.

“국왕 폐하의 정부는 팔레스타인 지역에 유대인들을 위한 국가를 세우는 것을 좋게 생각하며, 그 목표를 달성하기 위하여 최선을 다할 것이며, 팔레스타인에 존재하는 비유대인 집단의 인권 및 종교적인 권리, 또는 기타 다른 나라에서 유대인들이 누려온 권리 및 정치적인 지위를 침해[해]하는 어떠한 일도 생기지 않을 것을 분명히 해두는 바입니다.”

이 선언을 시온주의 연합에 전달해주시면 감사하겠습니다.

존경을 표하며,

아서 제임스 밸푸어

출처: Balfour Declaration, 1917

4a 밸푸어 선언에 따르면, 영국 정부가 1917년 유대인들에게 제공한 지원은 무엇입니까? [1]

Score

b 밸푸어 선언에 따르면, 영국 정부가 팔레스타인에 있는 비유대인 집단에 보장한 것은 무엇입니까? [1]

Score

문서 5a

...영토는 (현재 인구의 3분의 1을 차지하며 토지의 약 6%를 소유한) 유대인 이민자들과 토착 아랍인들 사이에 끊임없는 분쟁에 휩싸여 있습니다. 이러한 상황은 유럽에서 나치의 처형을 피해 도망친 수십만 명의 유대인들의 이동으로 더욱 심각해졌습니다. 제2차 세계대전 동안 유대인 대학살로 인해 육백만 명 이상의 유대인들이 살해되었습니다.

국제 연합은 특별 위원회를 설치하여 이 영토를 유대인 국가와 팔레스타인 국가로 나눌 것을 제안했습니다. 아랍 최고 위원회로 알려진 팔레스타인 측의 대표자들은 이 제안을 거절한 반면, 유대인 대표자들은 이를 수락했습니다.

이 분할 계획안은 [영국의 위임 통치 하에 있는] 팔레스타인의 56.47%를 유대인 국가에 주고 43.53%를 아랍 국가에 주며, 예루살렘 주위는 국제관리 구역으로 지정하는 것을 포함했습니다. 1947년 11월 29일, 국제 연합의 총회에서 33개국이 분할에 관해 찬성하였으며, 13개국이 반대를 하고 10개국이 기권했습니다. 팔레스타인들에 의해 거부된 이 계획안은 결국 실현되지 못했습니다....

출처: BBC News

문서 5b

국제 연합의 분할 계획, 1947년



출처: Peter N. Stearns, et al., *World Civilizations: The Global Experience*, Pearson Longman, 2006 (개정판)

5a BBC News에 따르면, 팔레스타인 분할 제안의 이유 **한 가지**는 무엇입니까? [1]

Score

b 이 지도에 보이는 경계선에 의하면, 국제 연합의 분할 계획이 야기할 수 있는 문제점 **한 가지**는 무엇입니까? [1]

Score

문서 6

이스라엘-팔레스타인 지역의 사건들
1948년-1950년

1948년	<ul style="list-style-type: none"> • 이스라엘이 독립 국가임을 선포하다 • 전쟁이 발발하다 • 평화를 가져오려는 국제 연합의 노력이 실패로 돌아가다 • 국제 연합 결의 194호는 모국으로 돌아가 평화롭게 살기를 희망하는 난민들이 가장 빠른 시일 내에 그렇게 하도록 허락하며 돌아가기를 원하지 않는 사람들에게는 재산에 대한 보상을 하도록 허락하는 조항을 포함한다. [이 결의안에 대한 수차례의 투표가 있었지만, 단 한 번도 시행되지는 않았다.]
1949년	<ul style="list-style-type: none"> • 이슬라엘과 이집트, 레바논, 요르단 및 시리아 간의 휴전 협정이 조인되다 • 웨스트 뱅크가 요르단의 통치 하에 들어가다 • 가자 지구가 이집트 점령 하에 들어가다
1950년	<ul style="list-style-type: none"> • 동예루살렘을 포함한 웨스트 뱅크가 요르단 왕국에 의해 병합되다

출처: Based on The Avalon Project at Yale Law and The Jewish Virtual Library

6 이 차트에 근거하여, 1947년 국제 연합의 이스라엘-팔레스타인 지역에 대한 분할 계획의 실패가 가져온 결과 **한 가지**를 적으십시오. [1]

Score

문서 7

이슬람 동맹

모든 인도인들이 국민 회의당의 접근법이나 목표에 동의하지는 않았습니다. 많은 이슬람교도들은 국민 회의당의 종교적인 요소에 대해 불편하게 느꼈습니다. 많은 이슬람교도들에게 간디의 전략들—예를 들어, 단식이나 비폭력적 저항 등은 힌두교에 기반한 것으로 보였습니다. 국민 회의당은 단지 힌두교를 지지하는 것에 그치는 것이 아니라 이슬람교에 반대하는 것으로 보였습니다.

늘어나는 분파주의로 인하여 심지어 온건적인 이슬람교 지도자들마저도 국민 회의당에 협조하는 것을 꺼려하기 시작했습니다. 일부 사람들은 대영 제국의 대표 민주주의와 같은 대표 민주주의가 인도에서는 성공할 수 없을 것이라고 우려했습니다. 그들은 인구수의 다수를 차지하는 힌두교도들이 소수의 이슬람교도들을 압도할 것이라고 믿었습니다. 또한 일부 사람들은 이슬람교도들이 힌두교도들에 비해 이제는 페르시아어 대신에 영어가 기반이 된 정규 교육에서 뒤쳐져 있다고 느꼈습니다. 이슬람교도들은 또한 통상, 산업 및 지방 정부로의 진출이 훨씬 적었습니다....

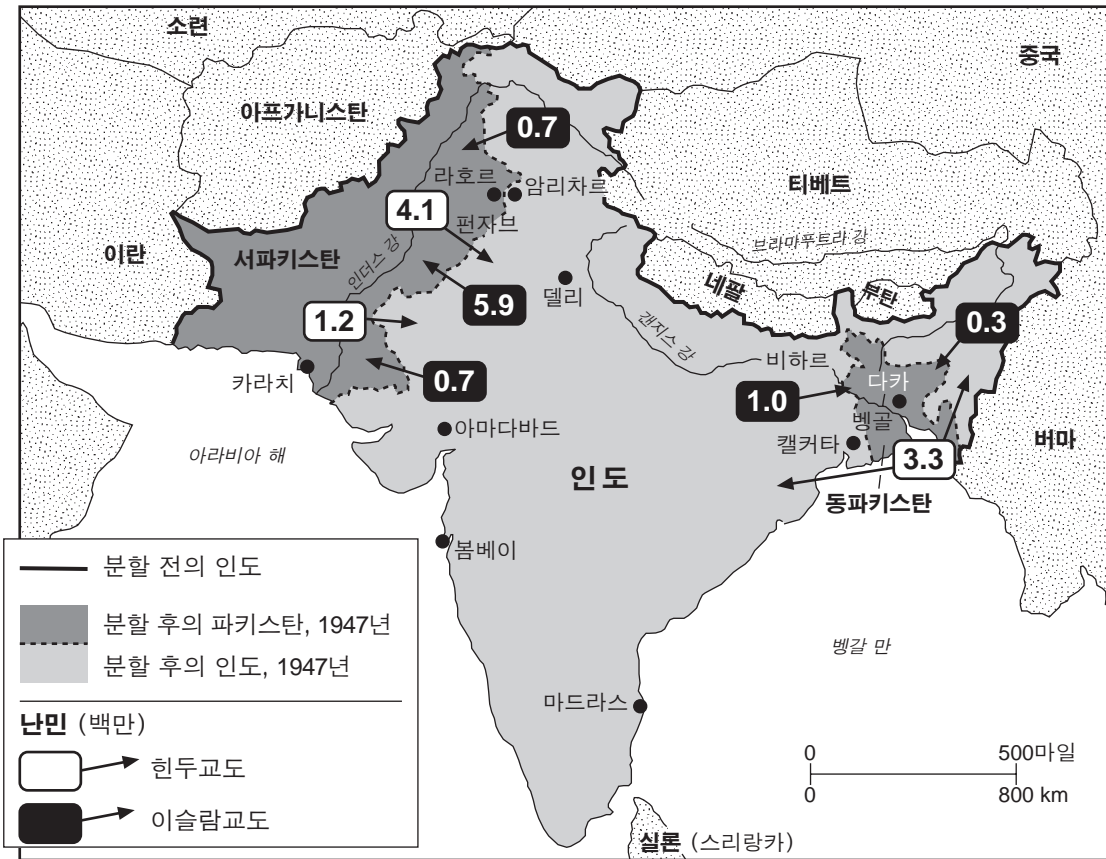
출처: *Indian Independence and the Question of Pakistan*, Choices Program, Watson Institute for International Studies, Brown University

7 이 발췌문에 따르면, 일부 이슬람교도들이 국민 회의당을 불신한 이유 **한 가지**는 무엇입니까? [1]

Score

문서 8

인도의 분할



출처: Christine Hatt, *Judge for Yourself: Mahatma Gandhi*, World Almanac Library (개정판)

8 이 지도에 근거하여, 인도의 분할이 가져온 영향 **한 가지**를 적으십시오. [1]

Score

문서 9a



1947년 8월 15일에 분할이 일어난 일주일 후, 인도와 파키스탄이 탄생하였고, 다수의 이슬람교도가 사는 카슈미르의 히말라야 영토는 인도 지역(잠무와 카슈미르)과 파키스탄 지역(아자드 카슈미르)으로 점령되고 나뉘었으며, 이는 두 나라 사이의 불안정한 영토 분쟁을 야기했다. 그 후, 인도군과 파키스탄군 간에 두 차례의 무력 분쟁(1965년과 1999년)이 발발했으며 수많은 충돌이 이어져왔다.

출처: Philippe Rekacewicz, *Le Monde diplomatique*, English edition, January 2000 (개정판)

문서 9b

다음은 카슈미리 호텔의 지배인 모하마드 사디크와의 인터뷰에서 발췌한 글입니다. 이 호텔은 카슈미르의 인도 통치 지역인 카르길에 위치하고 있습니다.

저는 지난 17년 동안 카르길 마을에서 시아첸 호텔을 운영해왔습니다. 이 호텔은 1986년에 세워졌습니다[열었습니다].

[2002년] 올해의 사업은 인도와 파키스탄 간의 국경 분쟁으로 인해 최악이었습니다. 외국인 관광객이 거의 없었으며 해외에서 예약을 취소하려는 사람들의 전화가 빗발쳤습니다.

히말리아 산을 등반하는 것을 즐기는 산악인들에게 이 지역은 주요한 통과 지역입니다. 그러나 올해 관광객들은 사라졌고 우리는 손해가 막심합니다.

1999년 인도와 파키스탄 간의 카르길 분쟁 이후 사정이 조금 나아졌습니다. 작년에는 관광객의 수가 증가했습니다. 그러나 올해는 그렇지 않습니다.

우리는 인도와 파키스탄이 이 문제를 완전히 해결하기를 간절히 바랍니다. 너무나도 많은 폭력이 있었고 이러한 폭력을 빨리 종식시켜야 합니다.

우리는 전선 지역 바로 인근에 위치하고 있기 때문에 사정이 매우 나쁩니다.

파키스탄에서 쏜 심한 포격이 이곳에 떨어져 우리의 생명을 앗아가고 있습니다.

매번 두 나라 간의 갈등이 심해질 때마다 우리는 심한 포격을 당합니다.

우리는 우리의 집과 재산, 생명을 포기해야 합니다. 이로 인해 우리는 파괴되고 고통받고 있습니다....

출처: "Voices from Kashmir," 2003 BBC News

9 이 문서들에 의하면, 인도와 파키스탄 간의 국경 지대 분쟁이 가져온 결과 **두 가지**는 무엇입니까? [2]

(1) _____

Score

(2) _____

Score

파트 B 에세이 문제

지시사항: 서론, 여러 개의 문단 및 결론을 포함하는 잘 구성된 에세이를 작성하십시오. **최소한 네 개의** 문서에서 증거를 찾아 에세이에 사용하십시오. 관련 사실, 사례 및 자세한 정보를 사용하여 자신의 답안을 뒷받침하십시오. 다른 출처의 추가 정보도 포함시키십시오.

역사적 배경:

제2차 세계대전 이후, **독일, 팔레스타인** 및 **영국령 인도**는 여러가지 이유로 분할되었습니다. 각 분할은 이 지역에 사는 사람들, 지역 및 다른 나라들에 영향을 미쳤습니다.

과제: 문서들이 제공하는 정보와 자신의 세계사 지식을 활용하여 다음 사항들에 맞게 에세이를 작성하십시오.

- 위의 역사적 배경에 언급된 지역들 중 **두** 지역을 선택한 다음, **각** 지역에 대해
- 분할을 초래한 역사적인 상황들을 묘사하십시오
 - 이 지역의 분할이 이 지역의 사람들, 이 지역 및/또는 다른 나라들에 어떠한 영향을 미쳤는지 논하십시오

지침사항:

에세이 작성 시, 반드시

- 과제의 모든 측면을 전개시키십시오
- **최소 네 개의** 문서로부터 찾은 정보를 포함시키십시오
- 관련된 다른 출처의 정보도 포함시키십시오
- 관련 사실, 사례 및 상세한 정보로 주제를 뒷받침하십시오
- 주제의 단순 반복이 아닌 서론과 결론을 포함한 논리적이고 명확한 구성 계획을 사용하십시오

