



Chinese Edition
Grade 3 Mathematics, Book 1
Sample Test 2005

數學
第 1 冊

3 年級

2005 年模擬測驗

模擬測驗作答說明

以下建議可協助你獲得好成績：

- 請務必仔細閱讀測驗本中的所有指示說明。
- 可以用工具來協助解答測驗中的任何問題。
- 仔細閱讀每一題，思考答案，然後再選擇答案。



此圖表示你會用到尺。



此圖表示你會用到圖案塊。



此圖表示你會用到計數器。

例題 A

$$\begin{array}{r} 227 \\ + 14 \\ \hline \end{array}$$

- A 311
- B 241
- C 231
- D 232

例題 B



接下來會叫到哪個號碼？



F



G



H



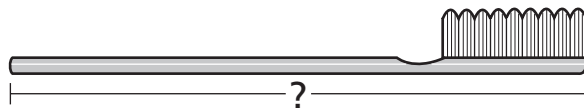
J

例題 C



用尺來協助解答。

下面所示的牙刷有幾英寸長？



A 2

B $2\frac{1}{2}$

C 3

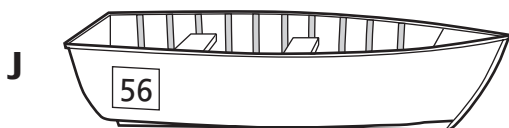
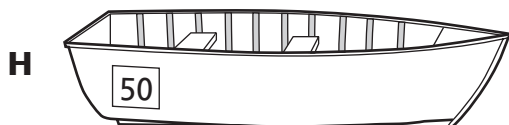
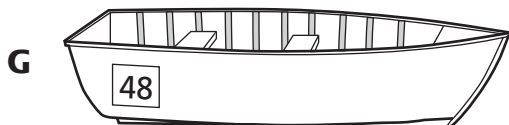
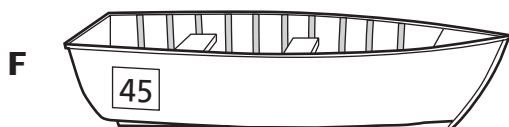
D $3\frac{1}{2}$

停

1 哪個數字和兩百零七相同？

- A 27
- B 207
- C 270
- D 277

2 哪艘船上有一個奇數？



繼續

3

桃樂絲花 \$0.52 買了一顆蘋果。哪組銅板代表 \$0.52 ？



4

公園裡種了 143 棵樹。143 四捨五入至最接近的 10 位數應是下列哪一個？

- F 100
- G 140
- H 145
- J 150

5

李寫出下面一個數語句。

$$26 + 14 = \square + 26$$

框內應填入哪個數字，才能使數語句正確？

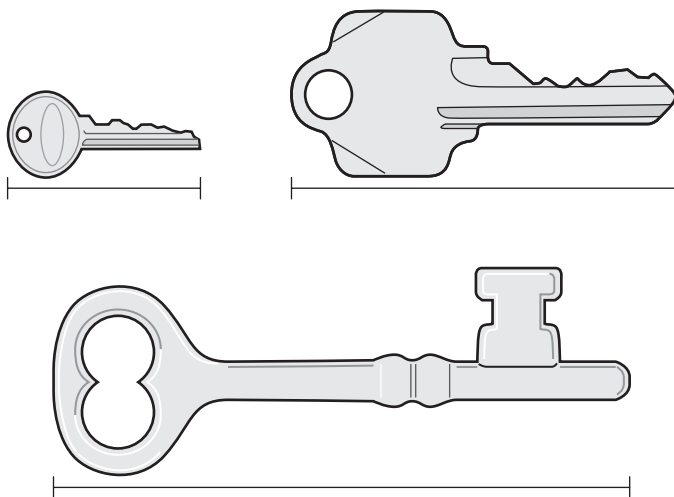
- A 66
- B 40
- C 26
- D 14

6



用尺來協助解答。

山奇斯先生有三把下面所示的鑰匙。



最長的鑰匙有幾英寸長？

- F 1
- G 2
- H 3
- J 4

繼續

7 以下數列中缺少一個數字。

25, 50, 75, 100, _____, 150, 175

此數列中缺少哪個數字？

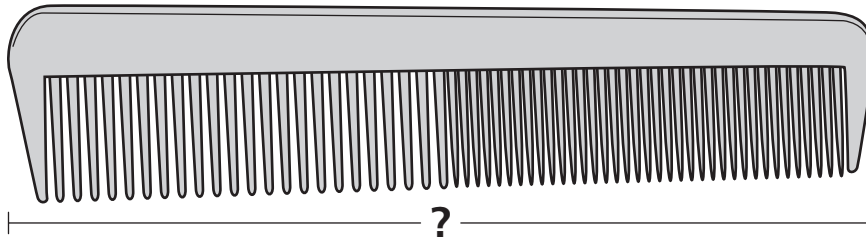
- A 101
- B 105
- C 125
- D 140

8



用尺來協助解答。

下面所示的梳子圖畫有幾英寸長？




- F 4
- G $4\frac{1}{2}$
- H 5
- J $5\frac{1}{2}$

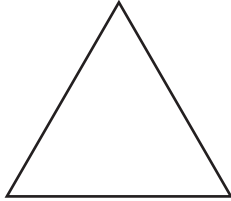
9

哪個形狀是六邊形？

A



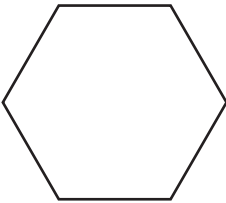
B



C



D



10

莎拉寫出以下的數列。

15, 20, 25, 30, 35, _____

莎拉應如何找出數列中的下一個數字？

F 35 加 5

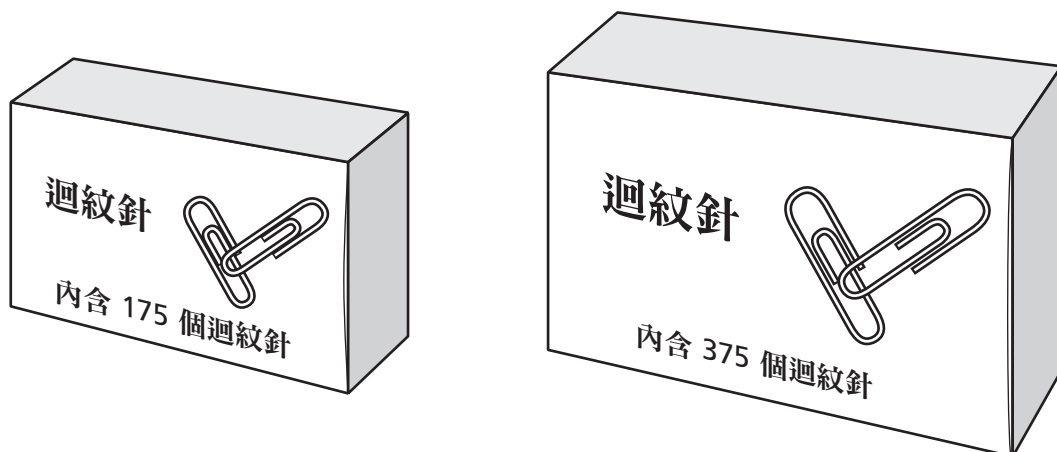
G 35 減 5

H 35 乘以 5

J 35 除以 5

繼續

11 丹買了下面所示的兩盒迴紋針。



這兩個盒子當中總共有多少個迴紋針？

- A 440
- B 450
- C 540
- D 550

12 蘇菲班上的學生做了 721 朵紙花。他們把 413 朵紙花給了另一班。那麼蘇菲的班上還剩多少朵紙花？

- F 208
- G 308
- H 312
- J 318


13

亞力想把 27 張棒球卡分給 3 個朋友。每個朋友都要分到數目相同的棒球卡。那麼亞力要給每個朋友多少張棒球卡？

- A 3
- B 7
- C 8
- D 9

14

貝絲買了兩張下面所示的貼紙。她總共花了大約 60¢。



13¢



21¢



38¢



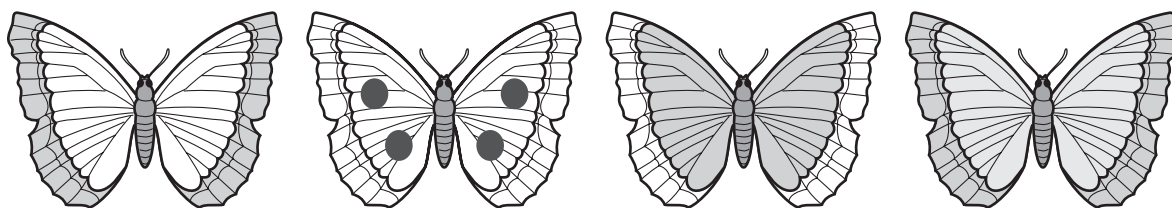
29¢

貝絲買的兩張貼紙的價錢是多少？

- F 13¢ 和 38¢
- G 21¢ 和 29¢
- H 21¢ 和 38¢
- J 29¢ 和 38¢

繼續

15 安娜畫了下图所顯示的幾隻蝴蝶。



這組蝴蝶中有點的蝴蝶佔幾分之幾？

A $\frac{1}{2}$

B $\frac{1}{3}$

C $\frac{1}{4}$

D $\frac{1}{5}$

16 維爾寫出下面一個數語句。

$$438 > \square$$

框內應填入哪個數字，才能使數語句正確？

F 428

G 438


H 439

J 449

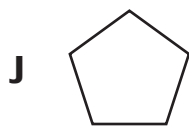
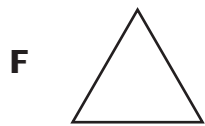
17 如果把 23 的 2 這個數字換成 6 這個數字，那麼值改變了多少？

- A 4
- B 6
- C 40
- D 60

18 泰勒把他的球員卡存放在下面所示的盒子裡。







哪個圖形會是泰勒的盒子一邊的形狀？



繼續

19

星期六從 12:30 開始下雪。哪個時鐘顯示了開始下雪的時間？



20 哪個數字和 1 千相同？

- F 1 百
- G 10 個一
- H 10 個一百
- J 100 個一

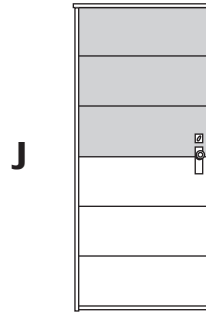
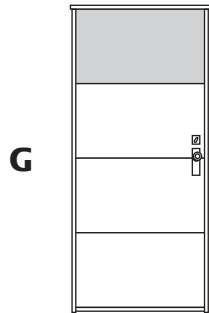
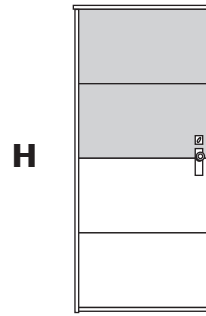
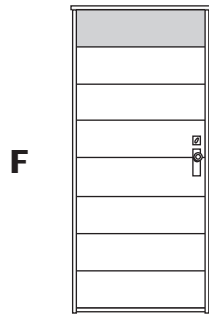
21 曼蒂在花園裡種了 4 排蕃茄樹。每排有 8 顆蕃茄樹。那麼曼蒂的花園裡總共種了多少顆蕃茄樹？

- A 12
- B 28
- C 32
- D 36

繼續

22

德奈爾把他 $\frac{1}{4}$ 的門漆成了灰色。哪張圖畫可能是德奈爾的門？



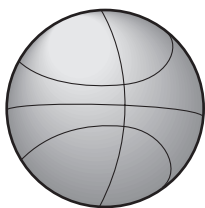
23

哪個測量單位**最適合**用來測量牙刷長度？

- A 英尺
- B 碼
- C 英寸
- D 磅

24

下面所示的籃球是什麼形狀？



F 圓錐體

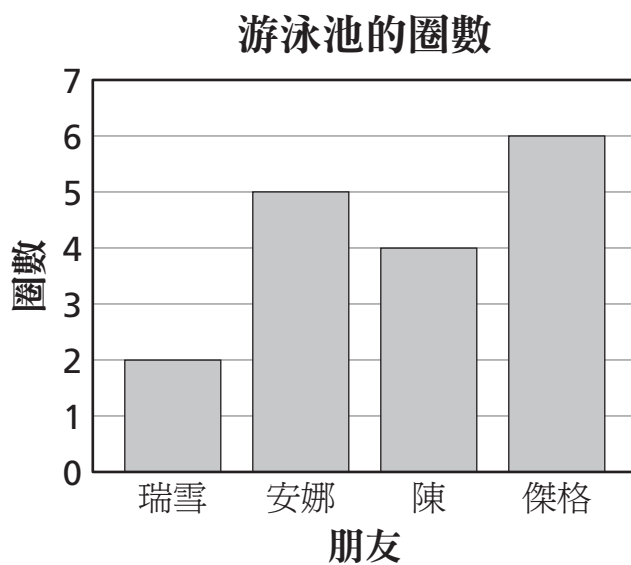
G 立方體

H 稜柱體

J 圓球體

25

瑞雪和她的朋友在游泳池中比賽游幾圈。下面所示的條形圖說明每個朋友所游的圈數。



傑格比瑞雪多游了幾圈？

A 2

B 4

C 6

D 8

停



3 年級
數學
第 1 冊
2005 年模擬測驗

The McGraw-Hill Companies
