

五年級

初級程度 社會科學測驗

第一卷

選擇題和問答題

2003年11月19日

學生姓名 _____

學校名稱 _____

請用工整字跡在以上劃線部份填寫您的姓名和學校名稱。

本測驗包含三部份。本卷包含第一部份和第二部份第二卷包含第三部份。

第一部份包含35道多種選擇題。請在單獨的答卷紙上標出答案。在答卷紙上僅限使用2號鉛筆。

第二部份包含幾道簡短的問答題。請把第二部份答案寫在本卷中。

第一卷的答題時間為一個半小時。

在接到指令前請勿打開本考卷。

第一部份

說明

本測驗第一部份共有35道題，每一道題後列出四項選擇答案，標為(A)-(D)。請認真閱讀每一道題，選擇正確的答案。請在單獨的答卷紙上代表每個問題的圓圈行標出您的答案，方法是塗黑與您選擇的答案字母相同的圓圈。請用鉛筆在答卷紙上作標記。

請閱讀以下例題：

例題

哪一個城市是紐約州的首府？

- (A) 尤蒂卡(Utica)
- (B) 奧爾巴尼(Albany)
- (C) 紐約市(New York City)
- (D) 布法羅(Buffalo)

正確的答案是「奧爾巴尼(Albany)」，該答案的編號是B。在您的答卷紙上找到代表同一例題選擇答案的圓圈。由於選擇B是例題的正確答案，標有B的圓圈被塗黑。


請回答本試卷第一部份的所有35個問題。每道題僅限塗黑一個圓圈。如果需要改動，請務必用橡皮擦把原來填寫的答案擦乾淨。您可能不知道某些問題的答案，但請儘量回答每一道題。

第一部份結束後，請繼續做第二部份。

第一部份

請回答本部份的所有問題。

請根據下圖和你的社會學知識回答第1題。



資料來源：《社區》(Communities)，Harcourt Brace Jovanovich 出版公司

1 本圖片顯示的是哪類社區？

- (A) 鄉村
- (B) 城郊
- (C) 都市
- (D) 城市

2 一位生活在很久以前的家庭成員可以稱為

- (A) 公民
- (B) 市長
- (C) 祖先
- (D) 成人

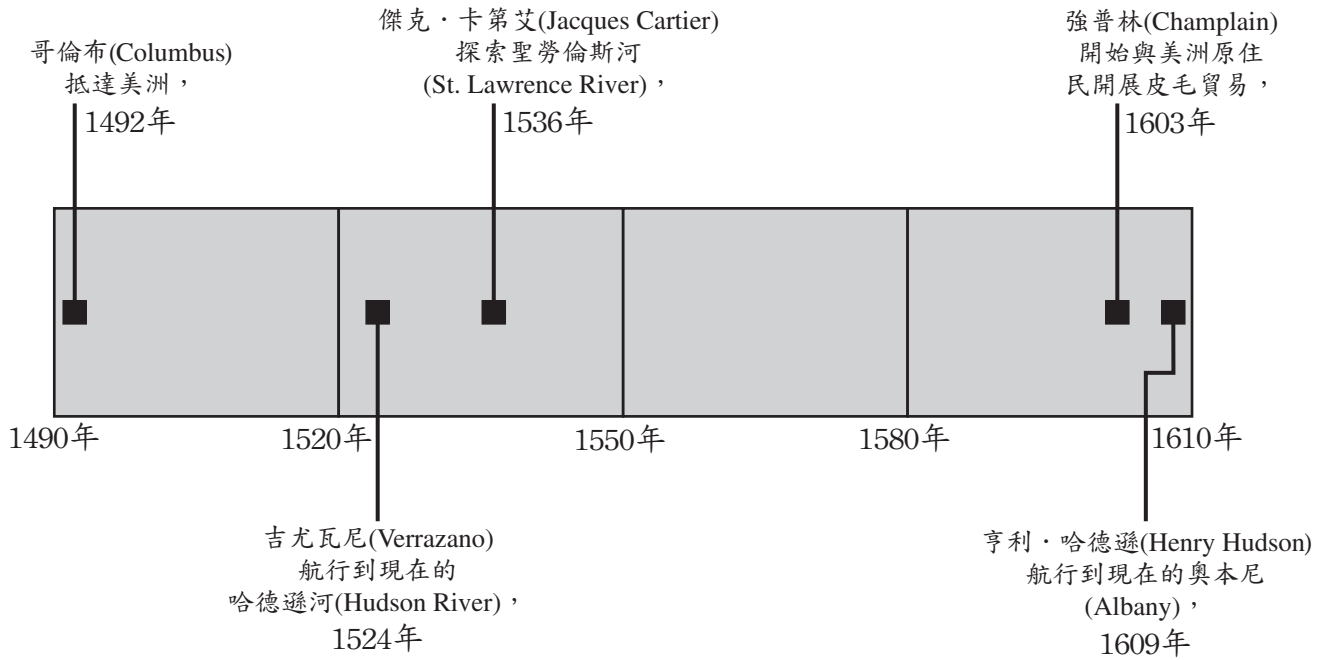
3 游牧民族最可能

- (A) 形成永久定居地
- (B) 四處遷移
- (C) 建立一個農業社區
- (D) 創辦一所學校

- 4 船舶裝卸貨物的地方被稱為
- (A) 車站 (C) 海峽
(B) 峽谷 (D) 港口
- 5 在北極地區最可能發現哪類地理特徵？
- (A) 草原 (C) 沃土
(B) 凍原 (D) 雨林
- 6 當某人購買一件產品時，他或她就成為了
- (A) 生產商 (C) 供應商
(B) 出口商 (D) 消費者
- 7 以下哪些產品是自然資源？
- (A) 罐裝食品 (C) 水
(B) 麵包 (D) 比薩餅
- 8 以下哪個詞彙是最先被創造的？
- (A) 無線電 (C) 飛機
(B) 蒸汽機 (D) 電視
- 9 以下哪項流程透過使用裝配線來製造大量商品？
- (A) 大批量生產 (C) 投資
(B) 採礦 (D) 灌溉
- 10 當一間企業支付了工人工資和所有帳單之後，剩下的錢被稱為
- (A) 利息 (C) 稅款
(B) 債務 (D) 利潤

- 11 早期美洲殖民地的殖民者以哪種方式滿足自己的部分基本需要？
- (A) 他們搜尋黃金和白銀。
 - (B) 他們種植菸草。
 - (C) 他們種植玉米和打獵。
 - (D) 他們創辦學校。
- 12 城市或村莊的領導者通常被稱為
- (A) 州長
 - (B) 市長
 - (C) 總統
 - (D) 法官
- 13 以下哪個詞可用來表示公正：
- (A) 公平
 - (B) 競爭
 - (C) 安全
 - (D) 政府
- 14 當人們從其他國家遷移到美國並在美國定居時，它叫做
- (A) 移民
 - (B) 革命
 - (C) 工業化
 - (D) 歸化
- 15 哪個歐洲族裔最早在紐約市和紐約州哈德遜(Hudson)河谷地區定居？
- (A) 荷蘭人
 - (B) 英國人
 - (C) 愛爾蘭人
 - (D) 法國人

請根據下面的時間表以及你的社會學知識回答第16題和第17題。



資料來源：《紐約：時空探索》(New York: Adventures in Time and Place)，MacMillan/McGraw-Hill (經改編)

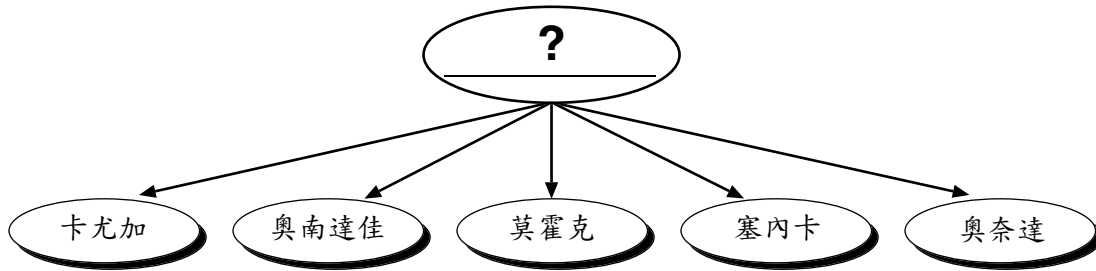
16 哪個人在1603年開始與美洲原住民開始皮毛貿易？

- (A) 吉尤瓦尼
- (B) 強普林
- (C) 卡第艾
- (D) 哈德遜

17 下列哪一項是這個時間表的最佳標題？

- (A) 哈德遜河(Hudson River)的歷史
- (B) 北美洲的歐洲探索者
- (C) 北美洲地理
- (D) 在北美洲的航行

根據下圖和你的社會科學知識回答第18題。



18 哪個印地安族裔包括上圖顯示的五個部落？

- (A) 阿爾貢金(Algonquian)
- (B) 蘇人(Sioux)
- (C) 切諾基(Cherokee)
- (D) 豪登諾薩尼 (易洛魁)
(Haudenosaunee [Iroquois])

請根據下段引述和你的社會科學知識回答第19題。

「康科德之歌(Concord Hymn)」是一首由拉爾夫·沃爾多·埃默森(Ralph Waldo Emerson)創作的詩歌，曾在馬薩諸塞州(Massachusetts)康科德紀念碑竣工時頌唱。這首詩寫道：

簡陋的拱橋下河水流淌，
旗幟迎著四月的微風飄揚，
從戎征戰的農夫，
在此打響了聲震全球的一槍。...

(經改編)

19 這個儀式是為紀念哪個事件？

- (A) 法印戰爭(French and Indian War)開始
- (B) 獨立戰爭(Revolutionary War)開始
- (C) 起草《獨立宣言》(Declaration of Independence)
- (D) 批准《美國憲法》(United States Constitution)

- 20 在1776年，殖民者起草了哪份文件，以告訴英國他們希望脫離英國的統治？
- (A) 《邦聯條例》(Articles of Confederation)
 - (B) 《權利法案》(Bill of Rights)
 - (C) 《獨立宣言》(Declaration of Independence)
 - (D) 《美國憲法》(United States Constitution)
- 21 通常被稱為獨立戰爭(Revolutionary War)轉折點的戰鬥發生在紐約州哪個地區附近？
- (A) 水牛城(Buffalo)
 - (B) 雪城(Syracuse)
 - (C) 羅徹斯特(Rochester)
 - (D) 薩拉托加(Saratoga)
- 22 在《美國憲法》(United States Constitution)成為法律之前，必須得到核準。核準這個詞的另一種說法是：
- (A) 修改
 - (B) 批准
 - (C) 否決
 - (D) 起草
- 23 在伊利運河(Erie Canal)開通之後，橫貫紐約州的運輸費用從每噸100美元降到每噸6美元。以下哪項是運輸費用降低所帶來的一個結果？
- (A) 運河很快成為最受歡迎的貨物運輸方式。
 - (B) 紐約州的一些商業流向其它州。
 - (C) 農民仍然選擇使用馬匹和馬車運送小麥。
 - (D) 不鼓勵旅行者去西部旅行。

請根據下面紐約州州印章和你的社會學知識回答第24題。



(經改編)

24 紐約州州印章上刻畫的兩位婦女代表什麼？

- (A) 快樂和幸福
- (B) 力量和軍力
- (C) 自由和公正
- (D) 勇氣和智慧

25 在紐約州，所有成年公民都具有以下哪項公民義務

- (A) 通過州法律
- (B) 競選公職
- (C) 選舉投票
- (D) 為政治運動捐款


26 個人權利受到《美國憲法》前十個修正案的保護。這些修正案被稱為

- (A) 《五月花號公約》
(Mayflower Compact)
- (B) 《權利法案》(Bill of Rights)
- (C) 《獨立宣言》
(Declaration of Independence)
- (D) 《印花稅法》(Stamp Act)

27 美國國會的一個部分被稱為

- (A) 內閣
- (B) 參議院
- (C) 行政機構
- (D) 最高法院

請根據下面的自由女神像圖和你的社會學知識回答第28題。

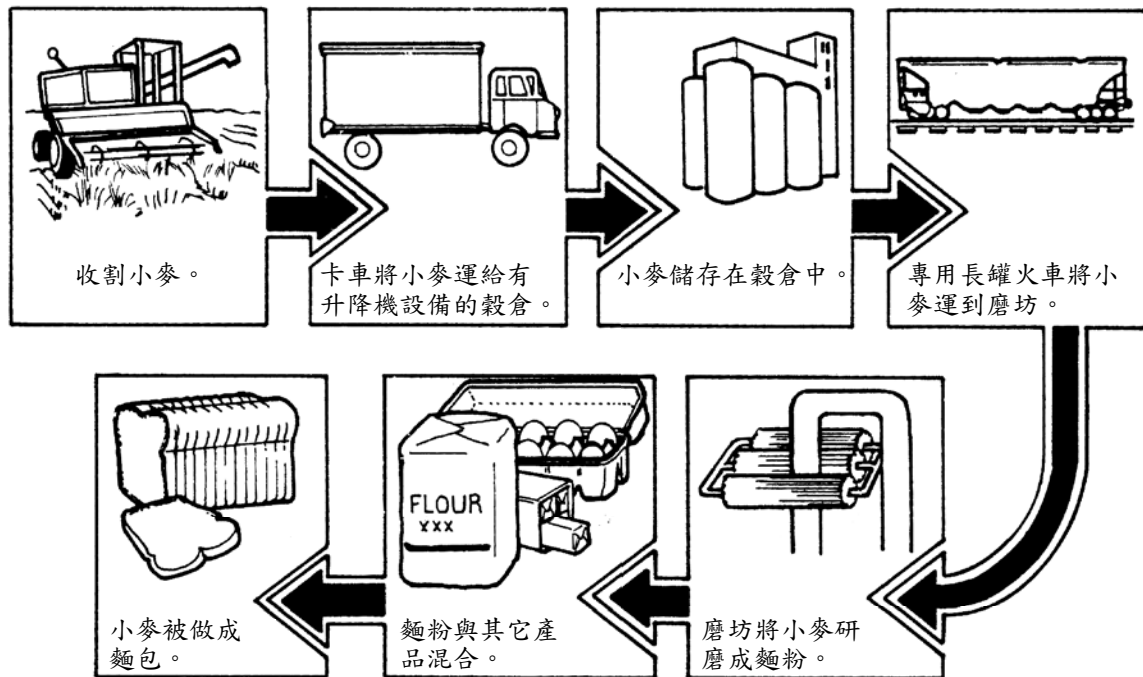


資料來源：Edward Moran，
紐約市博物館（經改編）

28 自由女神像代表什麼？

- (A) 獨立宣言
 - (B) 一曲讚歌或獻辭
 - (C) 對於來到美國的人而言是一種自由的標誌
 - (D) 法律在美國的重要性
-

請根據以下流程圖和你的社會學知識回答第29題和第30題



資料來源：《遠近社區》(Communities Near and Far)，MacMillan/McGraw-Hill 出版公司（經改編）

29 該流程圖表示

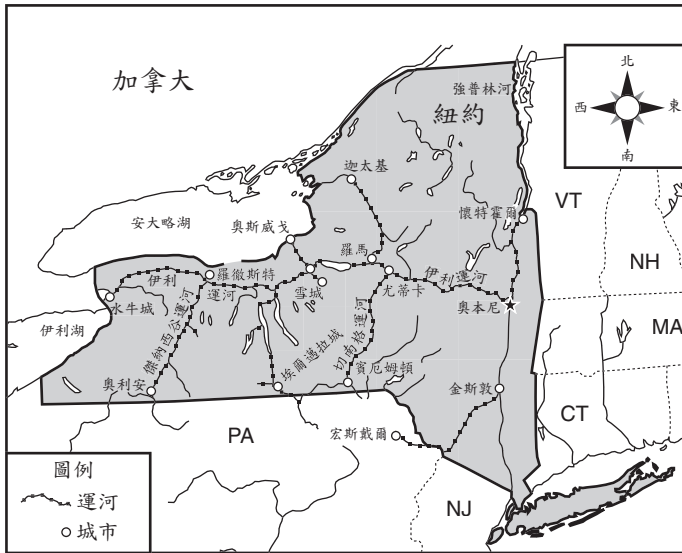
- (A) 歷史事件的次序
- (B) 機器組裝的說明
- (C) 完成一項工作所需的時間
- (D) 產品製造流程的步驟次序

30 根據此圖，以下哪句陳述是正確的？

- (A) 在小麥被研磨成麵粉之前會被儲存在具有升降機的穀倉中。
- (B) 卡車將小麥運到磨坊。
- (C) 在磨坊將小麥研磨成麵粉之後，麵粉被儲存在具有升降機的穀倉中。
- (D) 農民控制將小麥磨成麵粉的整個生產過程。

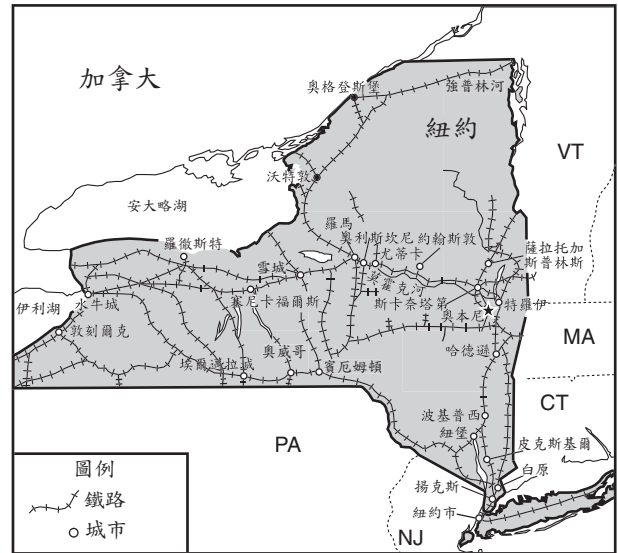
根據以下兩幅地圖和你的社會學知識回答第31題。

紐約州運河，1850年



資料來源：E. Farran和R. Wattman著，《紐約與國家》(New York and the Nation)，AMSCO (經改編)

紐約州鐵路，1870年



資料來源：James A. Banks等著，《紐約：時空探索》(New York: Adventures in Time and Place)，McGraw-Hill出版 (經改編)

- 31 比較這兩幅地圖，紐約州到1870年發生了什麼？
- (A) 與運河相比，所建成的鐵路連接更多的地區。
 - (B) 大部分紐約州都變成了農田。
 - (C) 運河系統的擴建已連接紐約州的各個地區。
 - (D) 紐約市成為紐約州首府。

根據以下地圖和你的社會科學知識回答第32題和第33題。

紐約州:經度和緯度

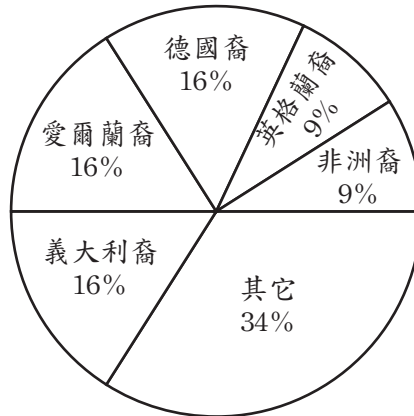


資料來源：James A. Banks 等著,《紐約：時空探索》(New York: Adventures in Time and Place), McGraw-Hill 出版 (經改編)

- 32 哪個城市距離北緯43度，西經76度最近？
- (A) 水牛城 (B) 雪城 (C) 賓厄姆頓 (D) 沃特敦
- 33 如果在地圖上標出哈德遜河(Hudson River)，那麼該河的位置離哪條經線最近？
- (A) 西經79度 (B) 西經76度 (C) 西經74度 (D) 西經73度

請根據下面的圖示和你的社會學知識回答第34題和第35題。

紐約人的國民
血統，1990年



資料來源：James Killoran 等著，
《紐約：土地和人民》
(*New York: Its Land and Its People*)，
Jarrett 出版公司（經改編）

34 根據此圖，哪三種國民血統族裔於1990年在紐約州佔有相同的百分比？

- (A) 非洲裔、英格蘭裔和德國裔
- (B) 英格蘭裔、德國裔和愛爾蘭裔
- (C) 愛爾蘭裔、義大利裔和非洲裔
- (D) 德國裔、愛爾蘭裔和義大利裔

35 根據本圖，在1990年，大多數紐約人的祖籍可追溯到哪塊大陸？

- (A) 非洲
- (B) 亞洲
- (C) 歐洲
- (D) 南美洲

請直接翻到下一頁。 ⇨

FOR TEACHER USE ONLY

Part I Score _____

Maximum Total is 35 Points

第二部份

說明：在本測驗卷中留出的空白處填寫問題答案。

根據下面圖表提供的資料和你的社會學知識回答第1題到第3題。

比較獨立戰爭的雙方

	強項	弱項
美洲殖民地	<ul style="list-style-type: none">• 士兵熟悉鄉村地區• 士兵習慣於偏遠地區作戰• 為自身的自由而戰• 獲得法國的援助	<ul style="list-style-type: none">• 陸軍人數少、訓練差• 軍事領袖缺乏經驗• 沒有海軍• 缺少提供軍需物資的工廠• 缺乏支援戰爭的資金
英國	<ul style="list-style-type: none">• 陸軍人數多、訓練有素• 軍事領袖經驗豐富• 海軍實力強大• 有很多提供軍需物資的工廠• 有足夠的資金支援戰爭	<ul style="list-style-type: none">• 士兵不熟悉農村地區• 士兵偏遠地區作戰的經驗不足• 來自英國本土的供給和定貨長期延遲• 英國政府中許多人反對戰爭

資料來源：《紐約：我們的州和社區》(New York: Our State and Its Communities)，Scott, Foresman and Company 出版社（經改編）

1 哪個國家在獨立戰爭期間幫助過美洲殖民地？ [1]

Score - 得分

2 使用上表，確定兩個用於說明美洲殖民地軍隊的詞彙。 [1,1]

a

Score - 得分

b

Score - 得分

3 儘管英國擁有強大的海軍和訓練有素的陸軍，但仍在這場戰爭中失敗。請用該表提供的資料，舉出英國在獨立戰爭中失敗的兩個原因。 [1,1]

a _____

Score - 得分

b _____

Score - 得分

請直接翻到下一頁。 ⇨

根據下面的事實和信仰列表提供的資料和你的社會學知識回答第4題到第9題。本表表示美洲原住民和早期歐洲殖民者之間的差異。每個事實或信仰所描述的或者是美洲原住民，或者是早期歐洲殖民者。

4-9 將每個事實或信仰的字母填寫在表內正確的位置。例如，「A — 土地是財富」是早期歐洲殖民者關於土地的文化信仰。因此，字母A應寫在第7行（如下）。現在請填寫下表，每個字母只可使用一次。 [5]

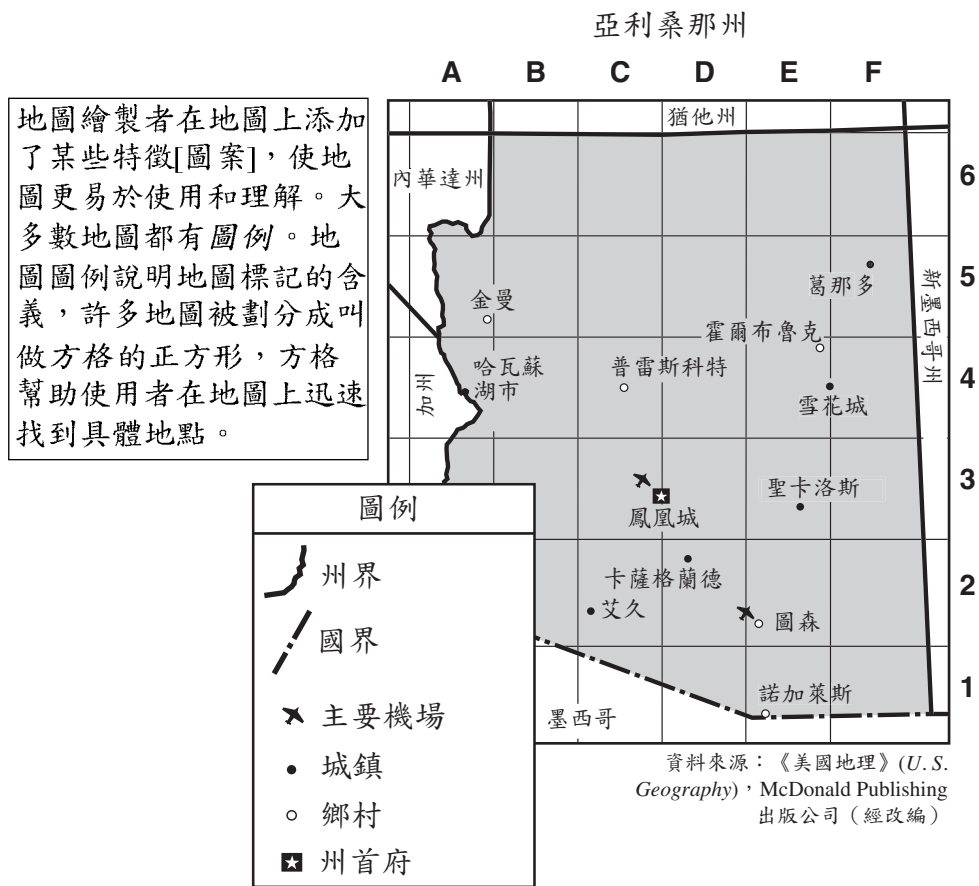
事實和信仰

- A** — 土地是財富
- B** — 使用金屬工具，如鋸和犁
- C** — 使用石頭和木制工具
- D** — 遍布北美洲的森林和大草原
- E** — 大西洋沿岸的殖民地
- F** — 不能擁有土地，土地屬於每個人

組別	有關土地的文化信仰	工具	地理位置
美洲原住民	4 _____	5 _____	6 _____
早期歐洲殖民者	7 <u> A </u>	8 _____	9 _____

Score - 得分

請根據下面的地圖和資料以及你的社會學知識回答第10題和第11題



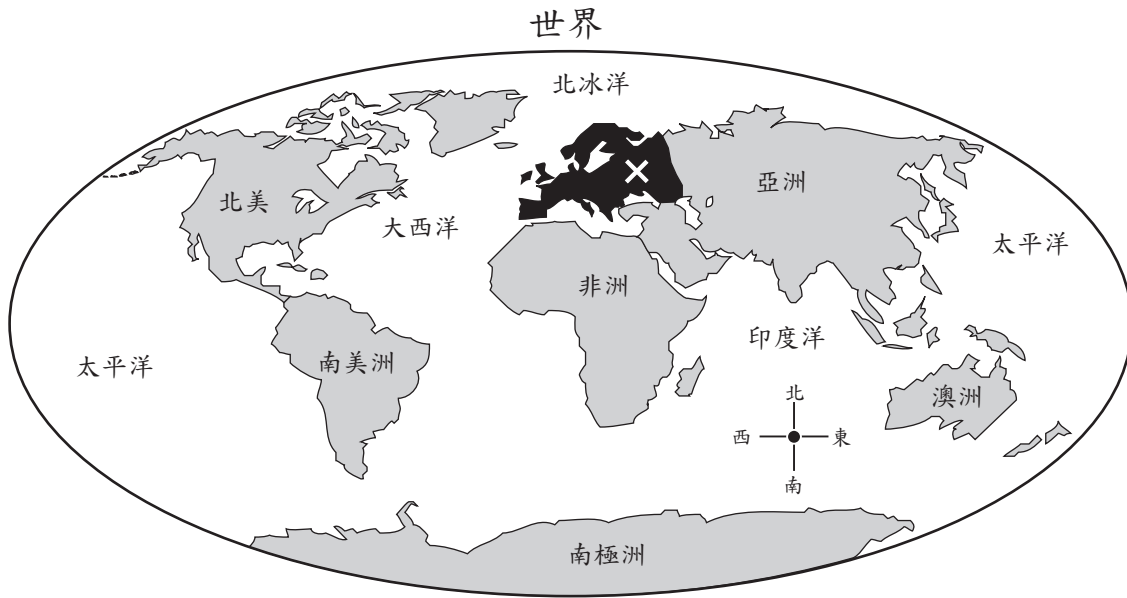
10 地圖的哪個部分告訴我們地圖所採用的標記的含義？ [1]

Score - 得分

11 聖卡洛斯(San Carlos)位於哪個方格內？ [1]

Score - 得分

請依據下面的世界地圖和你的社會學知識回答第12題至第13題。



12 哪塊大陸以印度洋和大西洋為界？ [1]

Score - 得分

13 地圖上的 X 標記表示哪塊大陸？ [1]

Score - 得分

FOR TEACHER USE ONLY
Part II Score _____
Maximum Total is 14 Points