

THE UNIVERSITY OF THE STATE OF NEW YORK

5年級

CHINESE EDITION
GRADE 5 SOCIAL STUDIES
BOOK I
ELEMENTARY LEVEL

初級程度 社會科學

第一卷 選擇題和問答題

2004年11月17日

姓名 _____

學校 _____

請用工整字跡在以上畫線部份填寫你的姓名和學校名稱。

本測驗包含三部份。本卷包含第一部份和第二部份；第二卷包含第三部份。

第一部份包括35道多重選擇題。請在另外的答案卷上標出答案。在答案卷上僅限使用2號鉛筆。

第二部份包含幾道簡答題。請把第二部份的答案寫在本卷中。

第一卷的答題時間為一個半小時。

在接到指令前請勿打開本考卷。

第一部份

答題說明

第一部分考試共有**35**道考題。每道考題有四個答案供選擇，分別標為**A**至**D**。請仔細閱讀考題，選出一個正確的答案。然後在另外分開的答卷紙上，根據你選擇的答案號碼把該考題下豎列的相應答案圓圈塗黑。在答卷紙上請使用鉛筆。

請閱讀以下**例題**：

例題

哪一個城市是紐約州的首府？

- (A) 尤蒂卡(Utica)
- (B) 奧爾巴尼(Albany)
- (C) 紐約市(New York City)
- (D) 布法羅(Buffalo)

正確的回答是**Albany**，答案號碼為**B**。在答卷紙上，你可看到方框內示範考題下豎列的答案圓圈。由於示範考題的正確答案為**B**，所以**B**號圓圈已被塗黑。

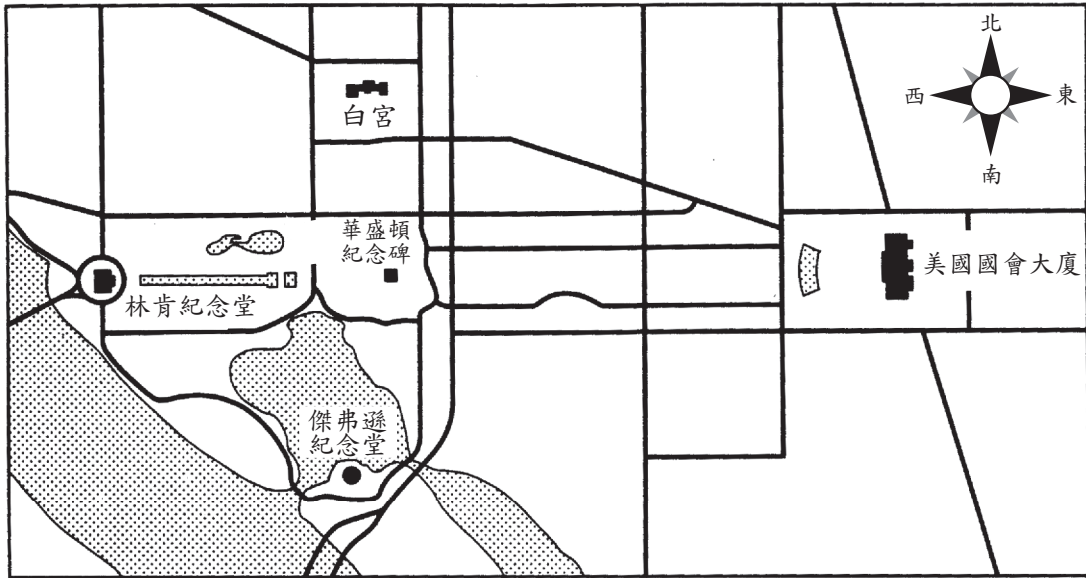
請回答本試卷第一部份的所有**35**個問題。每道題僅限塗黑一個圓圈。如果需要改動，請務必用橡皮擦把原來填寫的答案擦乾淨。您可能不知道某些問題的答案，但請儘量回答每一道題。

第一部份結束後，請繼續做第二部份。

第一部份

請回答本部份的所有問題

請根據下面的地圖和你的社會科學知識回答第1題和第2題。

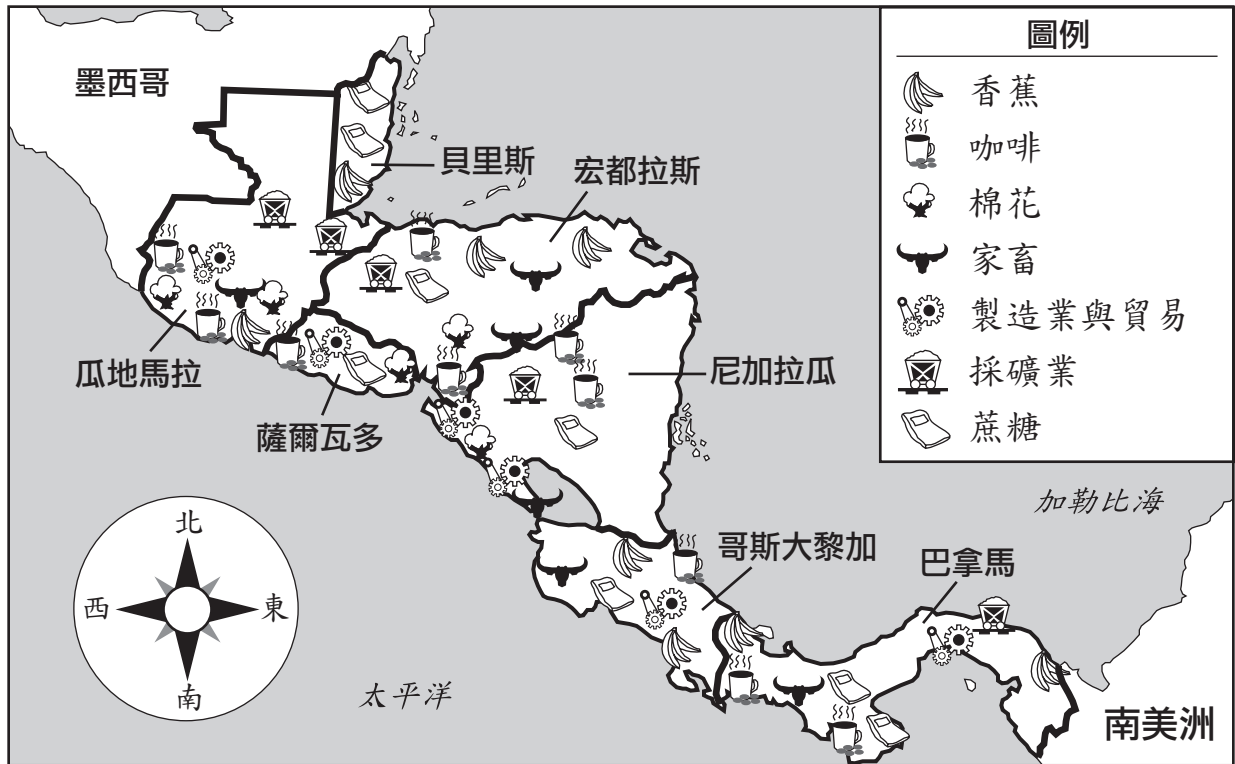


資料來源：Communities Near and Far Workbook，Macmillan Publishing（經改編）

- 1 這幅地圖表示哪個城市的一部分？
 - (A) 賓州費城
(Philadelphia, Pennsylvania)
 - (B) 紐約州紐約市
(New York, New York)
 - (C) 內布拉斯加州林肯
(Lincoln, Nebraska)
 - (D) 華盛頓哥倫比亞特區
(Washington, D.C.)
 - 2 一個人如果從傑弗遜紀念堂前往林肯紀念堂，應向什麼方向走？
 - (A) 東北
 - (B) 西北
 - (C) 南
 - (D) 東
-
- 3 中國兒童慶賀新年的方式是收取裝有壓歲錢的紅包和觀看舞龍表演，這些活動是中國人在下列哪方面的例子？
 - (A) 需求
 - (B) 食品
 - (C) 風俗
 - (D) 責任

請根據下面的地圖回答第4題和第5題。

中美洲物產圖



資料來源：Comprehensive Social Studies Assessment, Elementary Level, Options Publishing, Inc., 2002年（經改編）

4 哪兩個國家與哥斯大黎加交界？

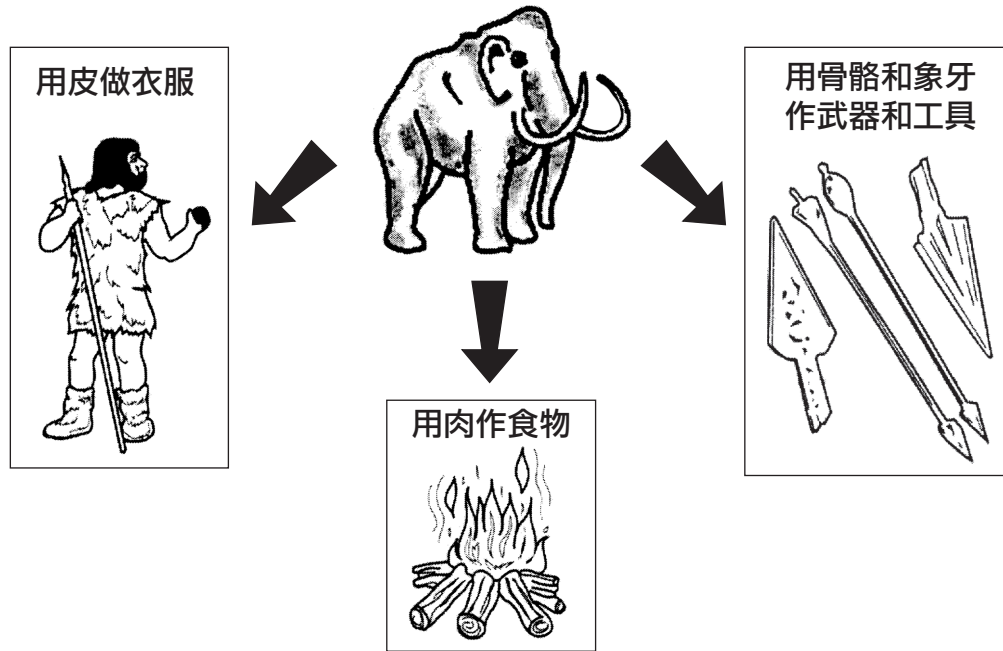
- (A) 巴拿馬和尼加拉瓜
- (B) 薩爾瓦多和巴拿馬
- (C) 尼加拉瓜和薩爾瓦多
- (D) 宏都拉斯和瓜地馬拉

5 除了貝里斯以外的所有中美洲國家都種植哪種產物？

- (A) 咖啡
- (B) 棉花
- (C) 香蕉
- (D) 蔗糖

請根據下面的插圖回答第6題。

狩獵-採集社會(Hunter-Gatherers)如何利用長毛象(Woolly Mammoth)



資料來源：Comprehensive Social Studies Assessment, Elementary Level,
Options Publishing, Inc. · 2002年（經改編）

6 狩獵者和採集者用長毛象的骨骼來

- (A) 做衣服
(B) 提供肉類
(C) 製作武器和工具
(D) 生火

7 所有最初的十三個殖民地都位於鄰近的

- (A) 墨西哥灣 (Gulf of Mexico) (C) 大西洋 (Atlantic Ocean)
(B) 莫霍克河 (Mohawk River) (D) 大湖區 (Great Lakes)

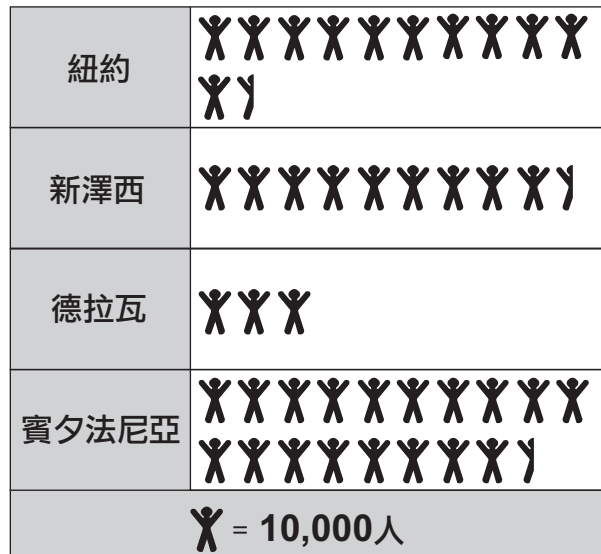
8 邊界可被最恰當地定義為一條什麼樣的假想線？

- (A) 將一個州或國家與另一個分隔開
(B) 環繞地球
(C) 分隔東、西半球
(D) 分隔山脈與河流

- 9 居住在乾旱地區的農民最通常透過修建下列哪一項來將水引入其田地
- (A) 柏油路 (C) 橋樑和隧道
(B) 灌溉系統 (D) 鐵軌
- 10 自然資源的例子有
- (A) 工廠、良好的道路和眾多人口
(B) 土壤、森林和礦藏
(C) 汽車、乳牛場和政府
(D) 商店、化工公司和車衣廠
- 11 社會制定規則與法律的主要原因是為了
- (A) 鼓勵人們和家庭離開
(B) 提供更好的交通運輸系統
(C) 管理和保護其公民
(D) 為公民提供工作機會
- 12 在美國，州長 (governor) 領導一個
- (A) 半球 (C) 州
(B) 國家 (D) 城市
- 13 豪登諾索人 (Haudenosaunee，即伊洛垮人<Iroquois>) 用木頭修建長屋。這個例子表示豪登諾索人如何依賴他們的
- (A) 環境 (C) 貿易體系
(B) 代表 (D) 政府
- 14 在1600年代，北美洲和南美洲大陸被歐洲人稱為新大陸 (New World)，這是因為
- (A) 這些大陸上的人講一種不同的語言
(B) 在這些大陸上發現了金子和香料
(C) 在歐洲人達到之前，這些大陸沒有人居住
(D) 歐洲人以前並不知道這些大陸的存在

請根據下面的圖表回答第15題。

1760年中部各殖民地人口



資料來源：The United States: Its History and Neighbors，
Harcourt Brace Jovanovich, Inc. 出版（經改編）

15 在1760年，紐約的人口是多少？

(A) 60,000人

(C) 110,000人

(B) 95,000人

(D) 115,000人

16 《獨立宣言》(Declaration of Independence) 的主要目的是為了

(A) 提供一種選舉新總統的方式

(B) 鼓勵經濟成長

(C) 迫使英國結束其與法國的戰爭

(D) 解釋了殖民地居民為什麼想從英國的統治下解放出來

請根據下面的廣告回答第17題和第18題。

紐約中央鐵路

可向
所有
地點
托運
行李



從奧本尼
開往西
北、西南
和正西方
向的所有
地點

從新英格蘭所有地點開出的最短、最直接的路線。
每天從奧本尼開出五次特快列車

透過水牛城連接
湖畔至水牛城至
休倫湖鐵路

連接吊橋與
大西部鐵路

資料來源：New York: *Our State and Its Communities* · Scott, Foresman, and Co. 出版（經改編）

17 哪條鐵路利用這張海報做廣告宣傳？

- (A) 大西部鐵路 (C) 新英格蘭鐵路
(B) 紐約中央鐵路 (D) 休倫湖鐵路

18 旅行者為什麼可能使用這條鐵路？

- (A) 它是從新英格蘭所有地點開出的最短、最直接的路線。
(B) 它是前往紐約市的最短、最快的路線。
(C) 它連接了水牛城與伊利運河（Erie Canal）。
(D) 它是第一條越州鐵路（transcontinental railroad）。

請根據下面的資訊和你的社會科學知識回答第19題。



發明家伊萊亞斯·豪(Elias Howe)透過與五名手工縫紉的婦女比賽，來展示其縫紉機的速度。豪的發明幫助紐約州成為全國的主要車衣中心。

資料來源：Monique Avakian，
A Historical Album of New York，
Millbrook Press (經改編)

- 19** 伊萊亞斯·豪於1845年發明了縫紉機，這對紐約州有什麼影響？
- (A) 工廠車衣成為紐約州的一個重要行業。
 - (B) 紐約州工廠成衣的價格上漲。
 - (C) 結束了紐約州的奴隸制。
 - (D) 紐約州的大部分棉紡廠都被迫停業。
-

請根據下面的表格回答第20題。

1850–1900年紐約州的農田和耕地		
年份	農田數量	用於農耕的土地
1850	171,000	1千9百萬英畝
1860	195,000	2千1百萬英畝
1870	216,000	2千1百萬英畝
1880	241,000	2千4百萬英畝
1890	226,000	2千2百萬英畝
1900	227,000	2千3百萬英畝

資料來源：1850-1900年美國人口普查（經改編）

20 農田的數量和用於農耕的英畝數量在哪個十年期間有所下降？

(A) 1860–1870年

(C) 1880–1890年

(B) 1870–1880年

(D) 1890–1900年

21 哪個節日紀念為那些保衛美國而戰的所有男女？

(A) 總統日

(C) 退伍軍人節

(B) 勞動節

(D) 感恩節

22 一個人要在全國大選中投票，必須是美國公民，並且

(A) 可以讀懂英文

(B) 已在這個國家居住五年

(C) 至少滿18歲

(D) 有一份工作

23 美國總統選舉每幾年舉行一次？

(A) 八年

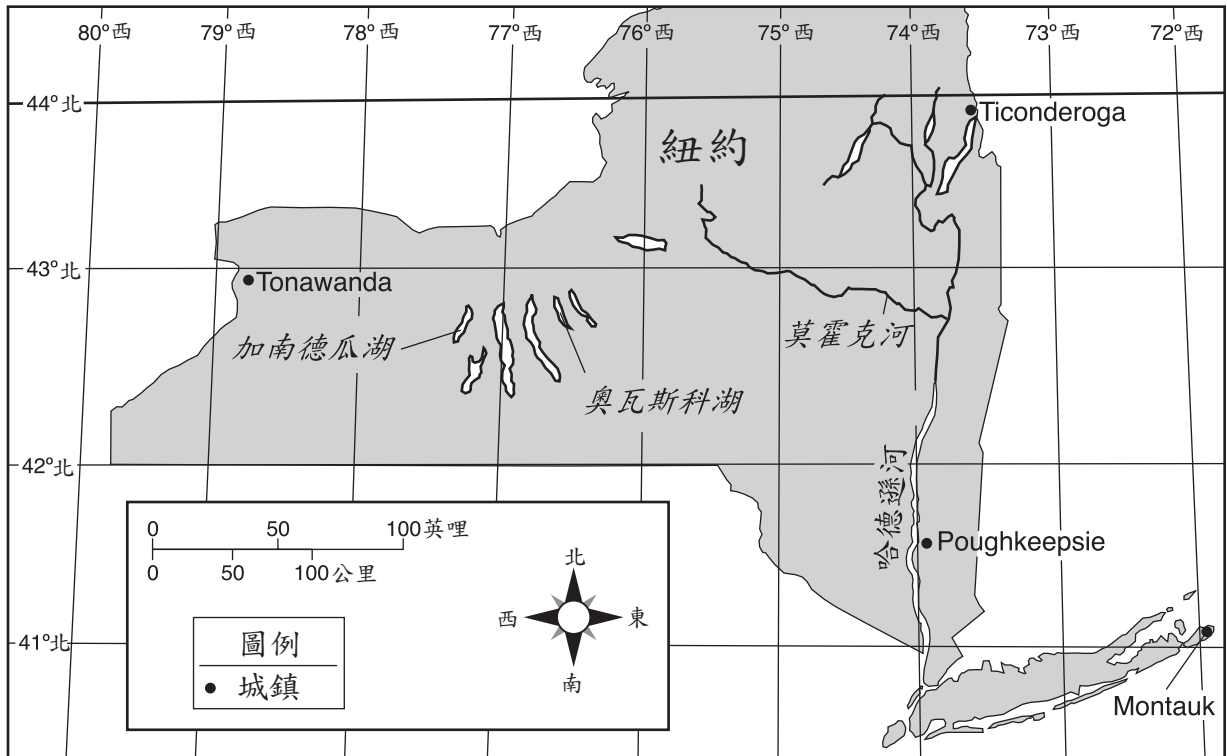
(C) 三年

(B) 五年

(D) 四年

- 24** 政黨可以被描述為一群什麼樣的人？
- (A) 為賺取利潤而買賣商品
 - (B) 將原料製成商品
 - (C) 對於如何管理政府具有類似的想法
 - (D) 是共同的祖先的後裔
- 25** 在民主國家，政府由誰管理？
- (A) 被任命的終身制官員
 - (B) 透過武力取得權力的人
 - (C) 最富有的人
 - (D) 由人民選舉的領袖
- 26** 在紐約州，一份提案成為州法律的正確步驟是什麼？
- (A) 擬寫提案 → 州長簽名 → 眾議院批准 → 參議院批准
 - (B) 擬寫提案 → 參議院批准 → 州長簽名 → 眾議院批准
 - (C) 擬寫提案 → 眾議院批准 → 州長簽名 → 參議院批准
 - (D) 擬寫提案 → 眾議院批准 → 參議院批准 → 州長簽名

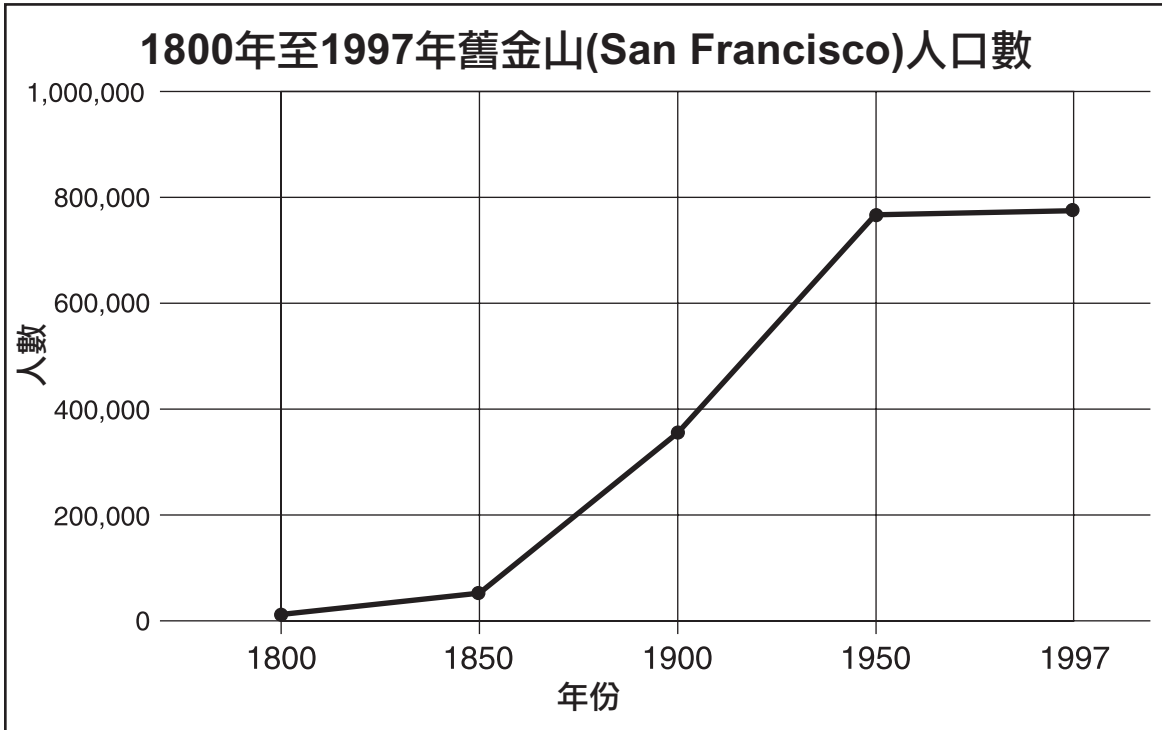
請根據下面的紐約州地圖回答第27題和第28題。



資料來源：New York Social Studies, Scott Foresman (經改編)

- 27 波基普西 (Poughkeepsie) 到提康得羅加 (Ticonderoga) 大約是多少英哩？
- (A) 50 (B) 100 (C) 170 (D) 270
- 28 加南德瓜湖 (Canandaigua Lake) 介於哪兩條經度線之間？
- (A) 北緯 43° - 北緯 44° (B) 西經 77° - 西經 78° (C) 北緯 42° - 北緯 43° (D) 西經 76° - 西經 77°
-

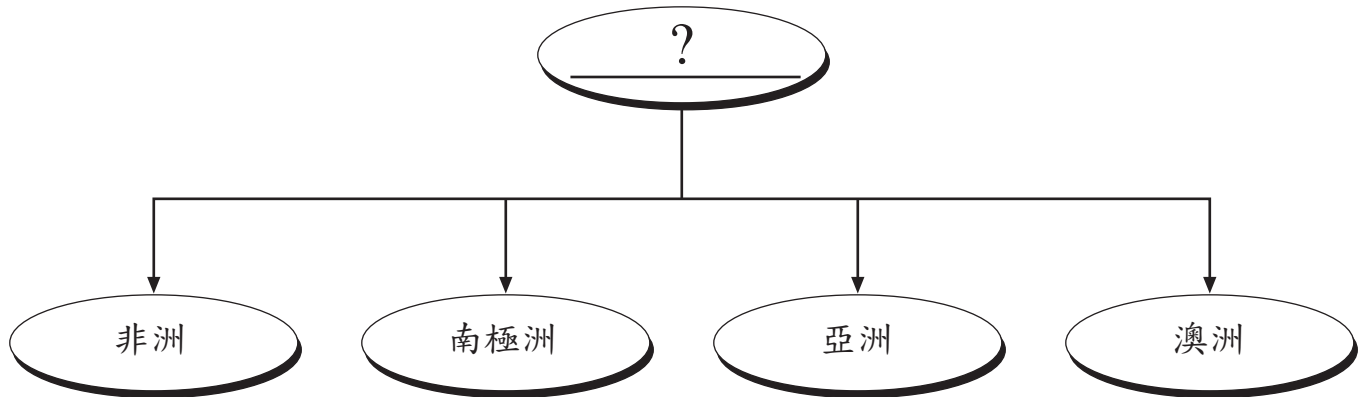
請根據下面的圖表回答第29題和第30題。



資料來源：James A. Banks 等著，*Communities - Adventures in Time and Place*，McGraw-Hill 出版（經改編）

- 29** 在1900年，舊金山的人口大約是多少？
- (A) 250,000 (C) 350,000
(B) 300,000 (D) 400,000
- 30** 舊金山的人口在哪個年代期間增長最多？
- (A) 1800 - 1850 (C) 1900 - 1950
(B) 1850 - 1900 (D) 1950 - 1997
-

請根據下面的圖示和你的社會科學知識回答第31題。



31 此幅圖示的最佳標題是什麼？

- (A) 國家
- (B) 大洲
- (C) 社區
- (D) 城市

32 下列哪項關於紐約州的陳述是一種觀點？

- (A) 伊利運河 (Erie Canal) 連通了奧本尼 (Albany) 和水牛城 (Buffalo) 這兩個城市。
- (B) 紐約州與加拿大交界。
- (C) 紐約州是美國最好的州。
- (D) 紐約市是紐約州最大的城市。

33 美國公民的基本自由受到下列哪項的保護？

- (A) 《權利法案》 (Bill of Rights)
- (B) 《獨立宣言》 (Declaration of Independence)
- (C) 《五月花號公約》 (Mayflower Compact)
- (D) 《奧本尼聯盟計劃》 (Albany Plan of Union)

請根據下面方框中的資訊回答第34題。

- 德國兒童在12月6日慶祝聖尼古拉斯日（St. Nicholas Day）。
- 泰國人慶賀兩次新年，一次是1月1日，另一次是四月中三天。
- 1月26日是澳洲國慶日，在那一天人們慶祝歐洲人初次在該國定居。
- 巴西和秘魯人每年歡慶一次嘉年華。

34 這些陳述表明世界不同國家有不同的

- (A) 政府類型 (C) 教育體系
(B) 經濟體系 (D) 節日和慶典
-

35 在紐約州，村、鎮、市和州法院隸屬於哪個政府部門？

- (A) 立法 (C) 司法
(B) 執法 (D) 總統
-

請直接翻到下一頁。 ⇨

FOR TEACHER USE ONLY

Part I Score _____

Maximum Total is 35 Points

第二部份

說明: 在本測驗卷中留出的空白處填寫問題答案。

請根據下面的時間線索回答第1題至第3題。

紐約州地區的早期歐洲探險家

1500	1550	1600	1650
<p>1524年 吉尤瓦尼·維拉扎諾 (Giovanni da Verrazano) 率領法國遠征隊進入紐約灣 (New York Bay)</p>	<p>1535年 傑克·卡第艾 (Jacques Cartier) 沿聖勞倫斯河 (St. Lawrence River) 順流而上</p>	<p>1609年 薩米爾·強普林 (Samuel de Champlain) 探索紐約北部。在休倫人 (Hurons) 和阿爾貢金 (Algonquians) 人的幫助下，他在強普林湖 (Lake Champlain) 打敗了伊洛垮人 (Iroquois)</p> <hr/> <p>1609年 亨利·哈德遜 (Henry Hudson) 率領荷蘭遠征隊沿哈德遜河 (Hudson River) 航行</p>	<p>1615年 強普林 (Champlain) 跨越安大略湖，並到達了伊洛垮人的奧納達加 (Onondaga) 地區</p>

資料來源：Vivienne Hodges, *New York State Elementary Social Studies Coach* (經改編)

1 強普林在哪一年探索了奧納達加地區？ [1]

Score

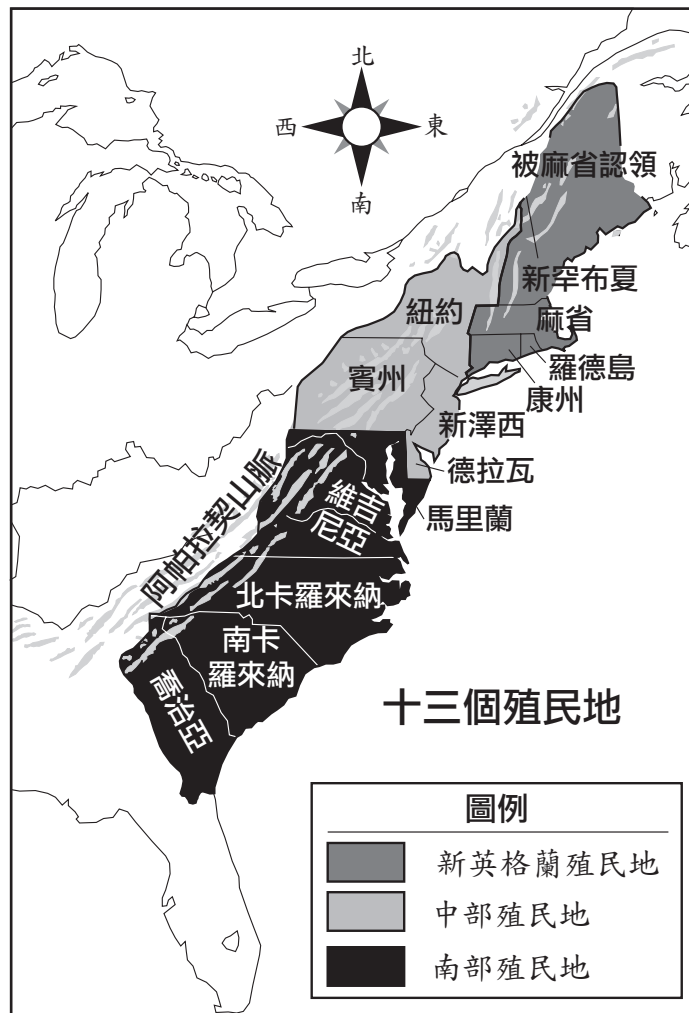
2 根據這條時間線索，歐洲人在紐約州地區探索的**第一條**河流是什麼？ [1]

Score

3 這條時間線索中的哪項陳述支援荷蘭人對今天紐約州的認領要求？ [1]

Score

請根據下面的地圖回答第4題至第6題。



資料來源：Exploring American History，Globe Book Company 公司（經改編）

4 指出這十三個殖民地分為哪三組殖民地。 [1]

a _____

b _____

c _____

Score

5 根據這幅地圖，紐約殖民地屬於這十三個殖民地中的哪一組？ [1]

Score

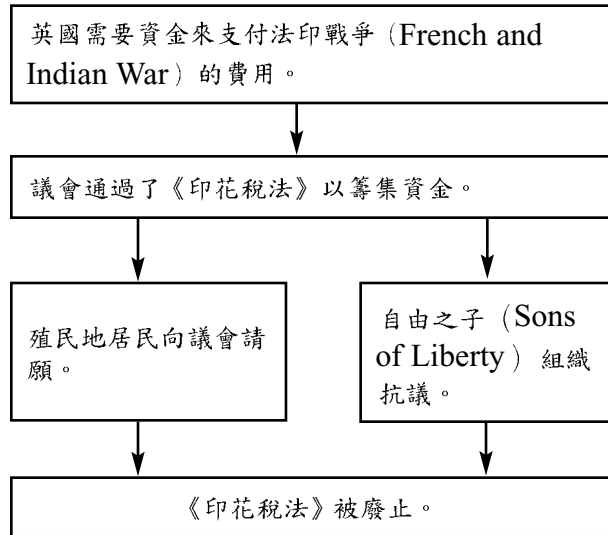
6 哪條自然界限使殖民者難以向西行進？ [1]

Score

請直接翻到下一頁。 ➡

請根據下列圖表和你的社會學知識回答第7題至第9題。

獨立戰爭 (Revolutionary War) 之前圍繞通過《印花稅法》 (Stamp Act) 的事件



7 英國人需要資金來支付法印戰爭的費用，這一事實最直接的結果是什麼？ [1]

Score

8 圖表中的哪項事實表明殖民地居民和自由之子的抗議是成功的？ [1]

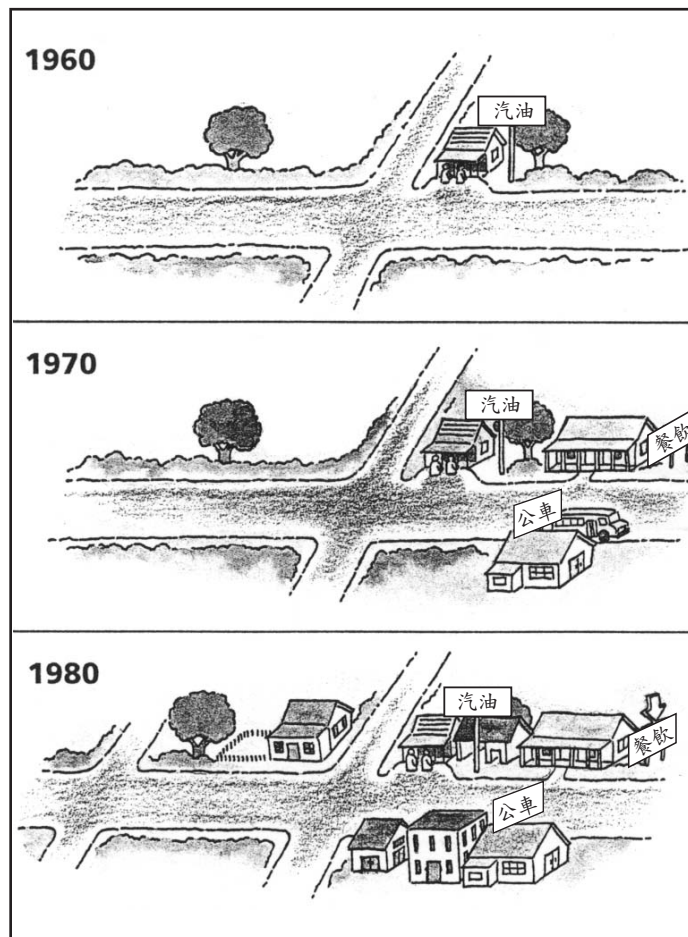
Score

9 今天，公民可以透過做什麼來和平抗議反對政府所採取的行動？ [1]

Score

請直接翻到下一頁。 ⇨

請根據下面的圖片回答第10題至第12題；該圖表示城鎮會如何隨著時間的推移而變遷。



資料來源：Living in Our World, Harcourt/Brace (經改編)

10 在1960年，這個城鎮裡經營哪種生意？ [1]

Score

11 描述這些圖片中所示在1960年至1980年之間在這個城鎮發生的**兩個**不同變化。 [1,1]

a _____

_____ Score

b _____

_____ Score

12 根據1960年至1980年的變化規律，2000年的時候這個城鎮可能會是什麼樣子？ [1]

_____ Score

<p>FOR TEACHER USE ONLY</p> <p>Part II Score _____</p> <p>Maximum Total is 13 Points</p>
