

初級程度 社會科學測驗

第一卷

選擇題和問答題

2006年11月15日

姓名 _____

學校 _____

請用工整字跡在以上畫線部分填寫你的姓名和學校名稱。

本測驗包含三部分。本卷包含第一部分和第二部分；第二卷包含第三部分。

第一部分包括35道多重選擇題。請在另外的答案卷上標出答案。在答案卷上僅限使用2號鉛筆。

第二部分包含幾道簡答題。請把第二部分的答案寫在本卷中。

第一卷的答題時間為一個半小時。

在接到指令前請勿打開本考卷。

第一部分

答題說明

第一部分考試共有**35**道考題。每道考題有四個答案供選擇，分別標為**A**至**D**。請仔細閱讀考題，選出一個正確的答案。然後在另外分開的答卷紙上，根據你選擇的答案號碼把該考題下所列的相應答案圓圈塗黑。在答卷紙上請使用鉛筆。

請閱讀以下**例題**：

例題

哪一個城市是紐約州的首府？

- (A) 尤蒂卡(Utica)
- (B) 奧爾巴尼(Albany)
- (C) 紐約市(New York City)
- (D) 布法羅(Buffalo)

正確的回答是**奧爾巴尼(Albany)**，答案號碼為**B**。在答卷紙上，你可看到方框內示範考題下豎列的答案圓圈。由於示範考題的正確答案為**B**，所以**B**號圓圈已被塗黑。

請回答本試卷第一部分的所有**35**個問題。每道題僅限塗黑一個圓圈。如果需要更改答案，請務必用橡皮擦把原來填寫的答案擦乾淨。你可能不知道某些問題的答案，但請儘量回答每一道題。

第一部分結束後，請繼續做第二部分。

第一部分

請回答本部分的所有問題。

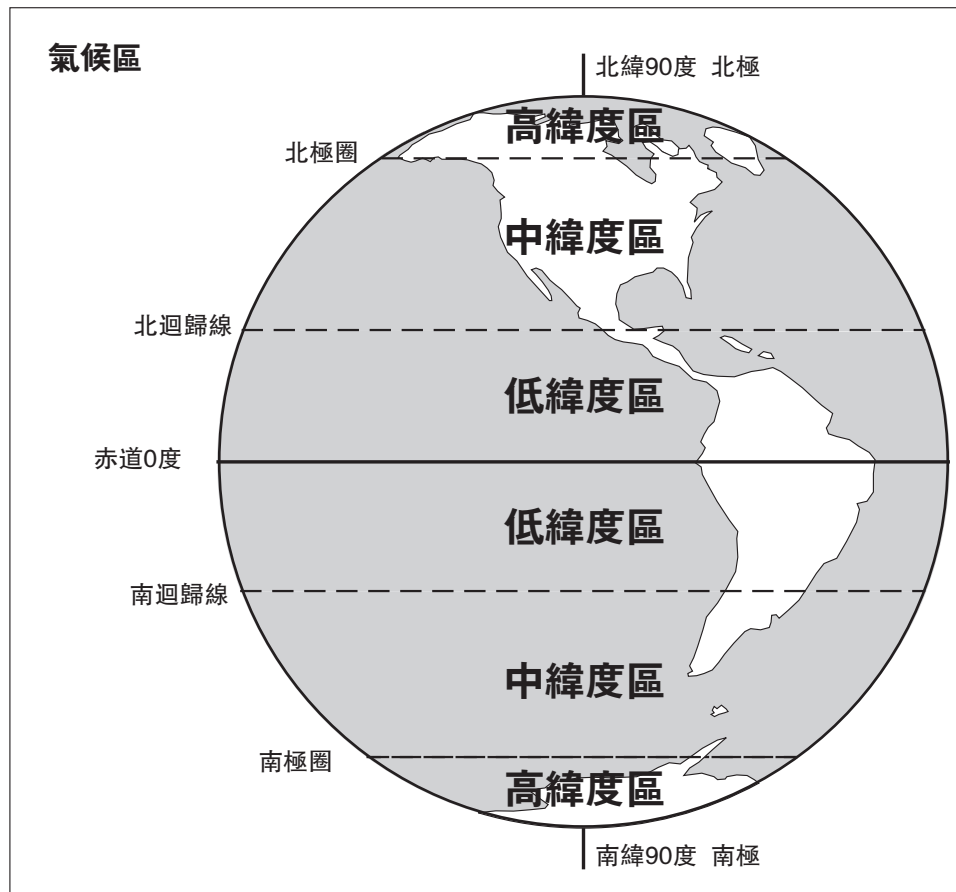
- 1 一群人共同使用相同的語言、習俗和信仰是____的一部分。
(A) 經濟 (C) 文化
(B) 環境 (D) 政府

- 2 數千年來，人們透過____傳遞自己的價值觀、想法和傳統。
(A) 收音機和電視 (C) 書本和電影
(B) 報章和雜誌 (D) 傳奇和民間故事

- 3 美國和墨西哥都位於哪一洲上？
(A) 北美洲 (C) 非洲
(B) 南美洲 (D) 歐洲

- 4 以下哪一項科目涵蓋研究某一特定地區的氣候、地形、水源和自然資源？
(A) 公民學 (C) 經濟學
(B) 地理學 (D) 歷史學

根據以下的氣候區地圖和你的社會科學知識回答第5和第6題。



資料來源: Stephanie A. Hirsh, ed., *The United States: Its History and Neighbors*,
Harcourt Brace Jovanovich, 1988 (改編)

- 5 世界上哪一地區天氣最冷？
- (A) 北迴歸線與赤道之間
 - (B) 南極圈與南極之間
 - (C) 北極圈與北迴歸線之間
 - (D) 赤道與南迴歸線之間
- 6 美國大陸位於哪一個氣候區？
- (A) 北中緯度區
 - (B) 北低緯度區
 - (C) 南高緯度區
 - (D) 南中緯度區

根據以下的圖示、資料和你的社會科學知識回答第7題。

潔西卡的早餐



瓜地馬拉的蜜瓜



美國的玉米片和牛奶



迦納的熱可可



厄瓜多的香蕉

- 7 從潔西卡的早餐食物中，可以看出她社區裡的人們是
- (A) 倚賴世界其他社區供應他們的需求
 - (B) 通常與其他文化族群住在一起
 - (C) 倚賴當地產品
 - (D) 融合很多不同的習俗與傳統
-
- 8 員工領到的錢稱為
- (A) 稅
 - (B) 工資
 - (C) 價錢
 - (D) 以貨易貨
- 9 被選舉為管理城市的政府官員稱為
- (A) 公爵夫人
 - (B) 州長
 - (C) 市長
 - (D) 首相
- 10 當地政府機關很重要因為它們為___做決定
- (A) 社區
 - (B) 州
 - (C) 國家
 - (D) 世界

根據下圖和你的社會科學知識回答第11題。

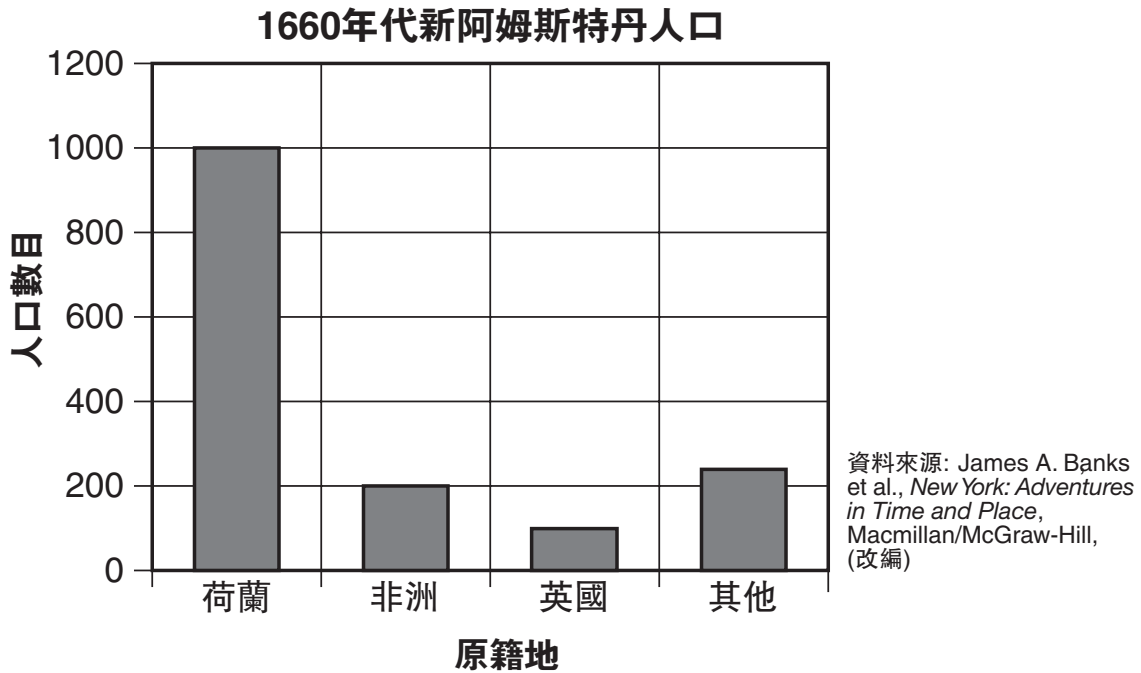


資料來源: James A. Banks, et al., *New York: Adventures in Time and Place*, Macmillan/McGraw-Hill, 1998
(改編)

- 11** 在伊洛克(哈德諾薩尼)村會議中，村民有權利去
- (A) 指定會議領袖 (C) 制定會議計劃
(B) 做決定 (D) 擁有會議發言權
-
- 12** 包括委拉扎諾(Verrazano)和卡地亞(Cartier)，歐洲人探索北美大陸是因為他們試圖
- (A) 替英國獲取領土
(B) 找出誰住在那裡
(C) 找出一條到亞洲較短的貿易航線
(D) 和美洲印第安人進行貿易

- 13** 早期的伊洛克(哈德諾薩尼)村莊通常位於哪裡附近？
- (A) 溪流 (C) 高山
(B) 沙漠 (D) 海洋
- 14** 早期的伊洛克人(哈德諾薩尼)通常都住在哪一種房子裡？
- (A) 冰屋 (C) 小木屋
(B) 圓錐形帳篷 (D) 長屋
- 15** 以下哪一個名詞意思為居留地被另一個國家統治？
- (A) 州 (C) 地區
(B) 村莊 (D) 殖民地
- 16** 以下選項中，哪一個人擬訂了大部分的獨立宣言，也是美國革命中的政治領袖，之後並成為美國總統？
- (A) 班傑明·法蘭克林(Benjamin Franklin) (C) 派翠克·亨利(Patrick Henry)
(B) 湯姆斯·傑佛遜(Thomas Jefferson) (D) 亞伯拉罕·林肯(Abraham Lincoln)
- 17** 哪一個是早期殖民地中有許多非洲人的主要原因？
- (A) 他們被迫到美國成為奴隸。
(B) 非洲並沒有他們想要的農地。
(C) 他們正在美國尋找宗教自由。
(D) 他們想要住在擁有民主的地方。

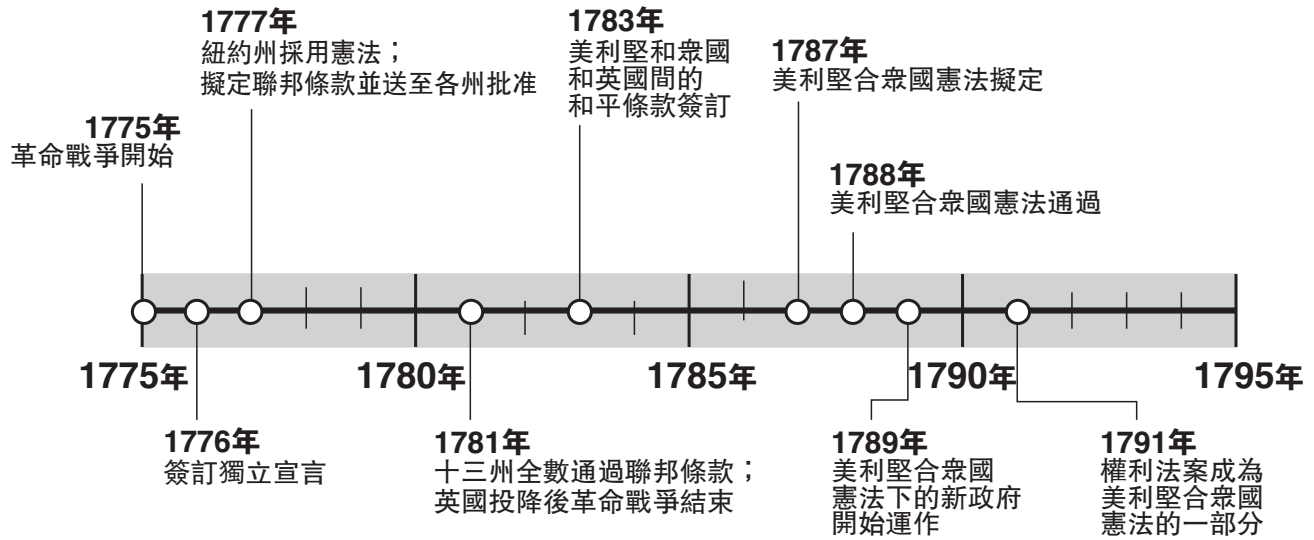
根據以下的圖表和運用你的社會科學知識回答第18和19題。



- 18** 在1660年代，大約有多少英國移民者住在新阿姆斯特丹？
- (A) 1000 (C) 150
(B) 220 (D) 100
- 19** 在1660年代，大多數住在新阿姆斯特丹的人來自於何處？
- (A) 非洲 (C) 大不列顛
(B) 荷蘭 (D) 法國
-

請翻下頁 ⇨

根據下表的時間序列和運用你的社會科學知識回答第20和21題。



資料來源: Robert M. Goldberg, *New York State History*, Globe Book Company (改編)

20 紐約州在哪一年採用其憲法？

- (A) 1777年
- (B) 1787年
- (C) 1789年
- (D) 1791年

21 根據上面的時間序列表所提供的資訊，哪一個敘述為真？

- (A) 革命戰爭開始前就已簽署獨立宣言。
- (B) 最早期的美利堅合眾國憲法就已包含權利法案。
- (C) 在憲法擬定前，美國和英國之間就已經簽署和平協議結束革命戰爭。
- (D) 聯邦條款和憲法在同年通過。

22 以下哪一種方法可以節約使用紐約的資源？

- (A) 開車而不走路
- (B) 每天都洗車
- (C) 離開房間時關燈
- (D) 在大熱天開冷氣

23 為何伊利(Erie)運河對美國極為重要？

- (A) 它連結了五大湖(Great Lakes)區和聖勞倫斯(St. Lawrence)河。
- (B) 它提供移民者一條進入紐約市的捷徑。
- (C) 它得到州長德威特·柯林頓(De Witt Clinton)的支持。
- (D) 它提供一種更方便、更快速和更直接的運貨路徑。

24 從早期到近期，紐約州的運輸工具是依照哪一種順序發展？

- (A) 蒸氣船 → 汽車 → 火車 → 飛機
- (B) 蒸氣船 → 火車 → 汽車 → 飛機
- (C) 火車 → 蒸氣船 → 飛機 → 汽車
- (D) 汽車 → 蒸氣船 → 飛機 → 火車

25 美國國旗上的條紋象徵什麼？

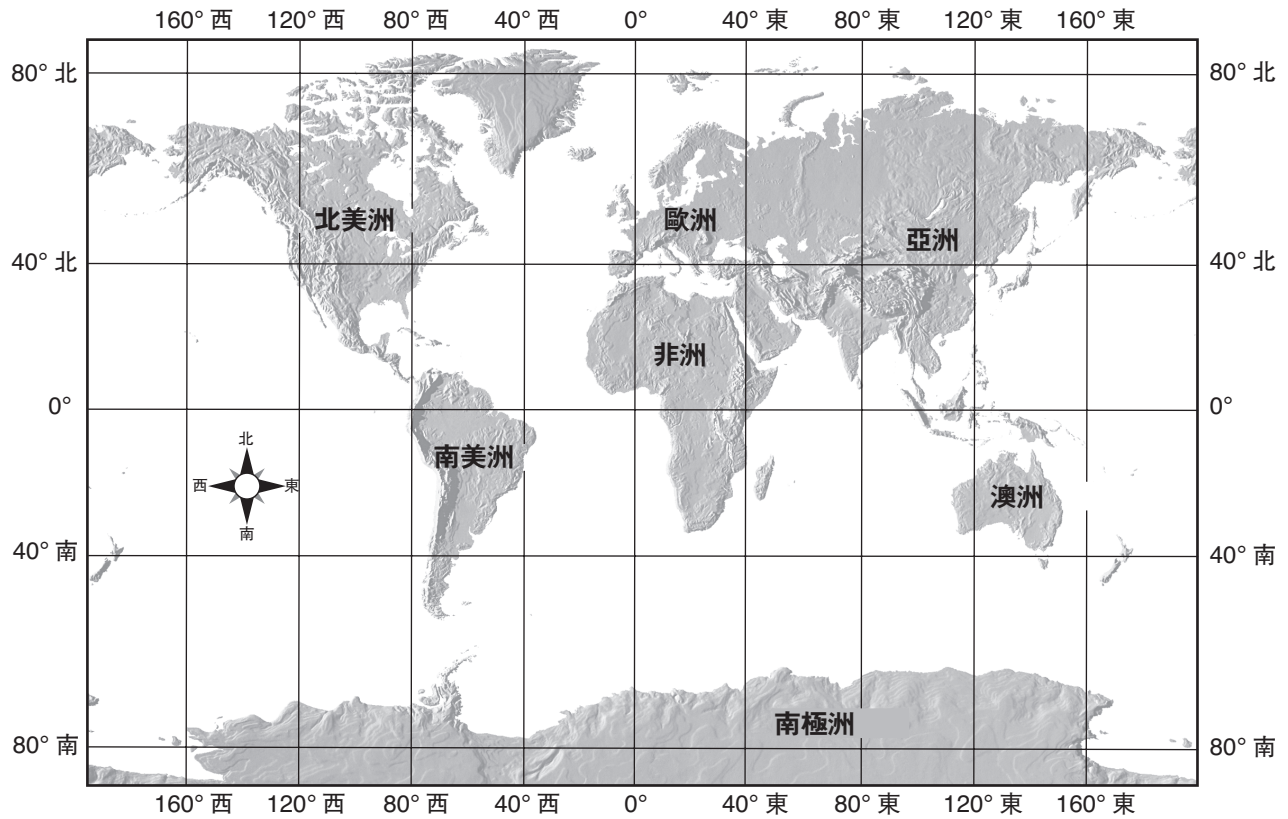
- (A) 力量和性格
- (B) 誠實和承諾
- (C) 最初十三個殖民地
- (D) 一年中的每個月份

26 哪一個節日是美國特別用來紀念戰爭時期中為國捐軀的勇士？

- (A) 陣亡將士紀念日
- (B) 獨立紀念日
- (C) 勞工節
- (D) 馬丁·路德·金(Martin Luther King Jr.)紀念日

- 27** 美國每隔十年就會做一次人口普查來決定各州的__
- (A) 地點 (C) 傳統
(B) 習俗 (D) 人口
- 28** 美國最高等和最重要的法院稱為__。
- (A) 北紐約地方法院
(B) 美國上訴法院
(C) 美國最高法院
(D) 紐約州上訴法院
- 29** 朗誦美國的效忠誓辭、尊重美國國旗和慶祝七月四日都是__的典範。
- (A) 不忠誠 (C) 愛國主義
(B) 地方主義 (D) 低劣的公民權
- 30** 我們的國家、州和地方政府都稱為代表制政府。試問公民在代表制政府中扮演何種角色？
- (A) 他們直接參與所有政府的決策。
(B) 他們在政府決策中沒有發言權。
(C) 他們選出聯邦法官，之後由聯邦法官指派政府領袖。
(D) 他們選舉出為他們做決策的政府官員。

根據下面的世界地圖和你的社會科學知識回答第31題。



資料來源: Mountain High Maps, Digital Wisdom, 1995 (改編)

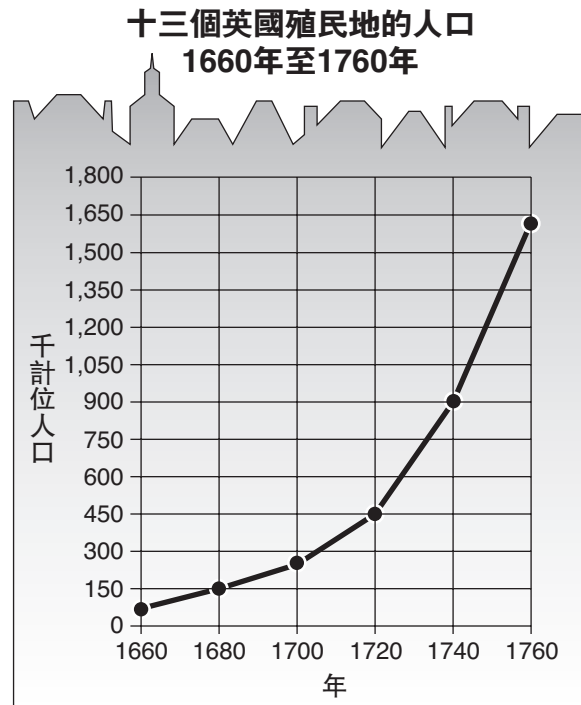
31 哪兩個洲全部位於赤道以南？

- (A) 歐洲和非洲
- (B) 非洲和澳洲

- (C) 澳洲和南極洲
- (D) 亞洲和南美洲

請翻下頁 ⇨

根據下面的圖表和你的社會科學知識回答第32和33題。

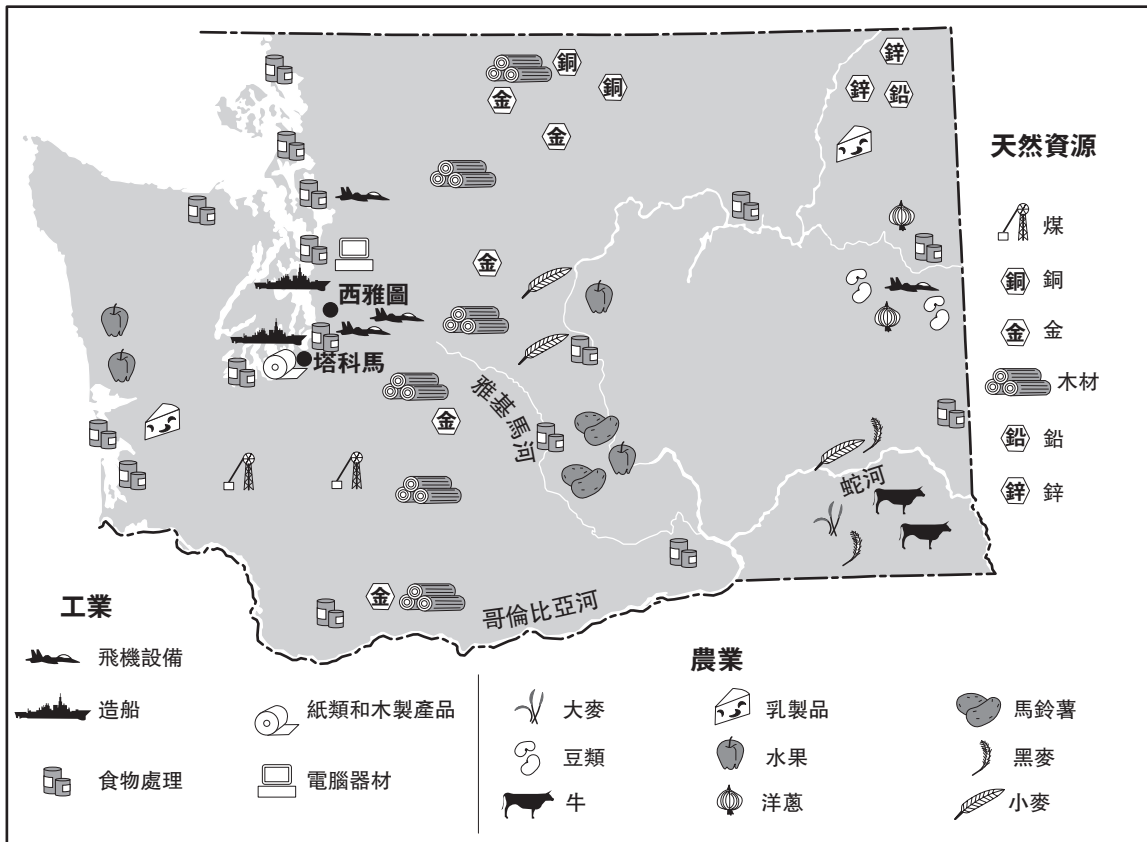


資料來源: James A. Banks, et al., *United States: Adventures in Time and Place*, Macmillan/McGraw-Hill (改編)

- 32** 哪一年十三個殖民地人口總和達到450,000人？
- (A) 1680年 (C) 1720年
(B) 1700年 (D) 1760年
- 33** 在哪一個二十年間，十三個殖民地人口總和增加最多？
- (A) 1680至1700年之間 (C) 1720至1740年之間
(B) 1700至1720年之間 (D) 1740至1760年之間
-

根據下面的地圖和你的社會科學知識回答第34題。

華盛頓州



資料來源: Rebecca Stefoff, *Celebrate the States: Washington*, Benchmark Books, 1999 (改編)

34 這張地圖的資料大部分是有關於什麼方面？

- (A) 地形和緯度
- (B) 物產和資源
- (C) 海拔高度
- (D) 人口

請翻下頁 ⇨

根據以下短文和你的社會科學知識回答第35題。

..... 美利堅合眾國憲法可以增修新法稱為修正案，修正案必須達到四分之三州批准(同意)，才能被增加在憲法裡。前十項修正案統稱為權利法案。人民都應該知道每項修正案的意義。我相信權利法案包含憲法中最重要修正案.....

資料來源: James A. Banks, et al., *New York: Adventures in Time and Place*, Macmillan/McGraw Hill, 1998

35 以上短文中哪一句僅是個人意見？

- (A) 美利堅合眾國憲法可以增修新法稱為修正案。
 - (B) 必須達到四分之三州批准，修正案才能被增加在憲法裡。
 - (C) 前十項修正案統稱為權利法案。
 - (D) 我相信權利法案包含憲法中最重要修正案。
-

FOR TEACHER USE ONLY

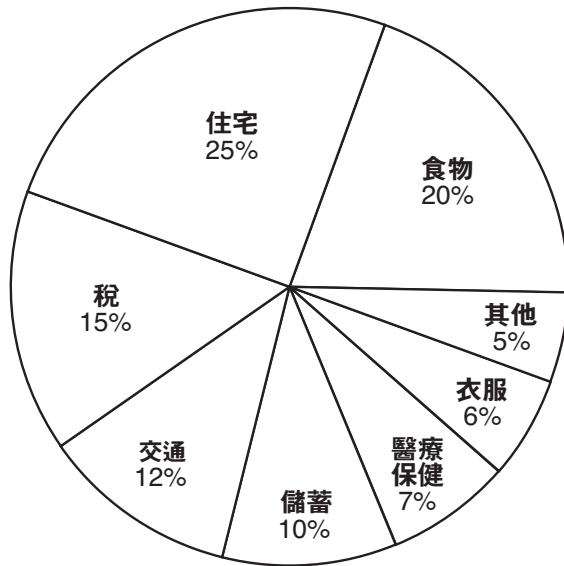
Part I Score _____

Maximum Score is 35

第二部分

說明：在本考試卷留出的空白處寫下你對這些問題的答案。

根據下面的圖表和你的社會科學知識，回答第**1**至第**3**題。圖表上顯示一個家庭如何運用所賺的錢買他們需要買的東西。



1 這個家庭最大的開銷是哪一項？ [1]

_____ Score

2 請列出任何**三**項開銷總和超過家庭總開支的一半。 [1]

_____ Score

3 所有的人都有基本需求。請從圓表中列出**三**種基本需求。 [3]

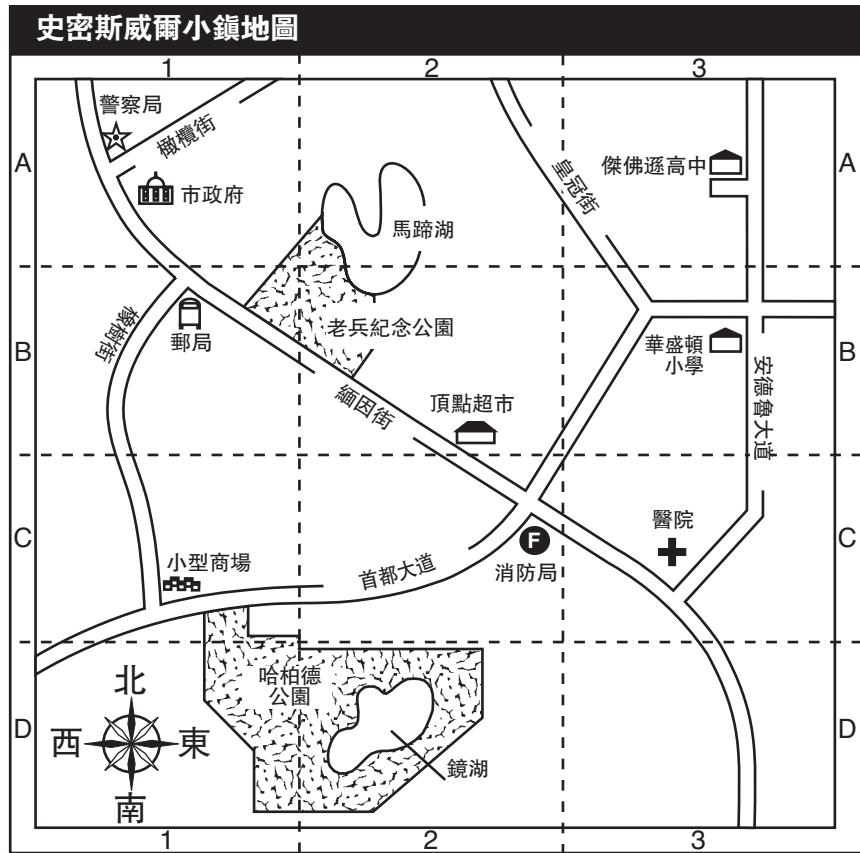
a _____

b _____

c _____

Score

根據下面的地圖、座標方格和你的社會科學知識回答第4至第7題。



資料來源: Communities Activity Book, Harcourt Brace & Co. (改編)

4 請列出**兩**條在A-1交會〔接連在一起〕的街道。 [1]

_____ 和 _____

Score

5 運用地圖座標方格的字母**與**數字，寫下醫院所在的區域。 [1]

Score

6 如果一個人要從華盛頓小學到傑佛遜高中，應朝哪個主要方向行走？ [1]

_____ Score

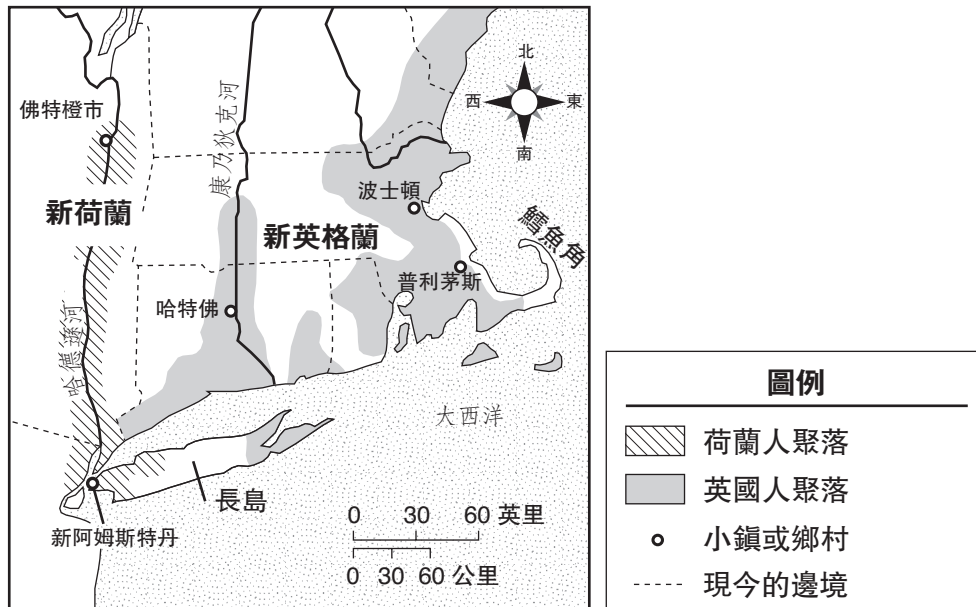
7 如果要走最短的捷徑，哪兩條街可以**從**頂點超市**走到**小型商場？ [1]

從_____ 到 _____ Score

請翻下頁 ⇨

根據下面的地圖和你的社會科學知識回答第8至第10題。

1650年 英國人與荷蘭人的居留地



資料來源: James A. Banks, et al., *New York: Adventures in Time and Place*, Macmillan/McGraw-Hill (改編)

8 荷蘭人沿哪一條河建立居留地？ [1]

Score


9 波士頓(Boston)到普利茅斯(Plymouth)相隔幾英里？ [1]

Score

10 為何早期的居留地都建於河岸或水域附近？請闡述一個主因。 [1]

Score

根據下面的圖畫和你的社會科學知識回答第11至第13題。



一群稱為自由之子(Sons of Liberty)的愛國份子為抗議他們認為英國不公正的課稅，進而在英國收稅官員身上塗柏油及黏上羽毛。

資料來源: Library of Congress (改編)

11 稅賦徵收官員代表哪一個國家？ [1]

Score

12 為何自由之子(Sons of Liberty)要在英國收稅官員身上塗柏油及黏上羽毛？ [1]

Score

13 這些自由之子(Sons of Liberty)和其他愛國份子的行動導致哪場戰爭的發生？ [1]

Score

FOR TEACHER USE ONLY

Part II Score _____

Maximum Score is 15

