

THE UNIVERSITY OF THE STATE OF NEW YORK

5年級

初級程度 社會科學測驗

第一卷

選擇題和問答題

2009年11月16日

學生姓名 _____

學校名稱 _____

請用工整字跡在以上畫線部分填寫你的姓名和學校名稱。

本考試包含三部分。第一卷包含第I部分和第II部分；第二卷包含第III部分。

第I部分包含35道選擇題。請在另外的答案卷上標出答案。在答案卷上僅限用2號鉛筆。

第II部分包含幾道簡答題。請把第II部分的答案寫在本卷中。

第一卷的答題時間為一個半小時。

在接到指令前請勿打開本考卷。

第I部分

答題說明

第I部分考試共有35道考題。每道考題有四個答案供選擇，分別標為A至D。請仔細閱讀考題，選出一個正確的答案。然後在另外的答案卷上，根據你選擇的答案號碼把該考題下所列的相應答案圓圈塗黑。在答案卷上請使用鉛筆。

請閱讀以下**例題**：

例題

哪個城市是紐約州的首府？

- (A) 尤蒂卡(Utica)
- (B) 奧爾巴尼(Albany)
- (C) 紐約市(New York City)
- (D) 布法羅(Buffalo)

正確的回答是**奧爾巴尼(Albany)**，答案號碼為**B**。在答案卷上，你可看到方框內例題下豎列的答案圓圈。由於例題的正確答案為**B**，所以**B**號圓圈已被塗黑。

請回答本試卷第一部分的所有35個問題。每道題僅限塗黑一個圓圈。如果需要更改答案，請務必用橡皮擦把原來填寫的答案擦乾淨。你可能不知道某些問題的答案，但請儘量回答每一道考題。

第I部分結束後，請繼續做第II部分。

第I部分

請回答本部分的所有問題。

- 1 在世界上的許多國家中，家庭往往會訴說故事來記住他們的過去。這些故事是屬於一個家庭的
- (A) 口述歷史 (C) 公民義務
(B) 書面規定 (D) 經濟資源
- 2 哪個用語涵蓋其它三個用語？
- (A) 藝術 (C) 語言
(B) 文化 (D) 宗教

請依據以下段落和你的社會學知識來回答第3題。

「我和我的家人是希臘人，每次過新年時，我們都會拿出新年蛋糕 (Vasilopita) 來紀念聖巴西略！新年蛋糕是一種上面有杏仁片的特製糕餅。它的裡面藏了一枚硬幣。我的祖父會切開蛋糕，讓在場的每位家人都分到一塊。每個人在拿到後，都急著看看裡面有沒有硬幣，因為這硬幣會為明年帶來好運！」

- 3 在新年假期，在新年蛋糕裡面藏一枚硬幣是希臘的一種
- (A) 法律 (C) 民間故事
(B) 神壇 (D) 傳統
-

請依據以下地圖和你的社會學知識來回答第4題和第5題。

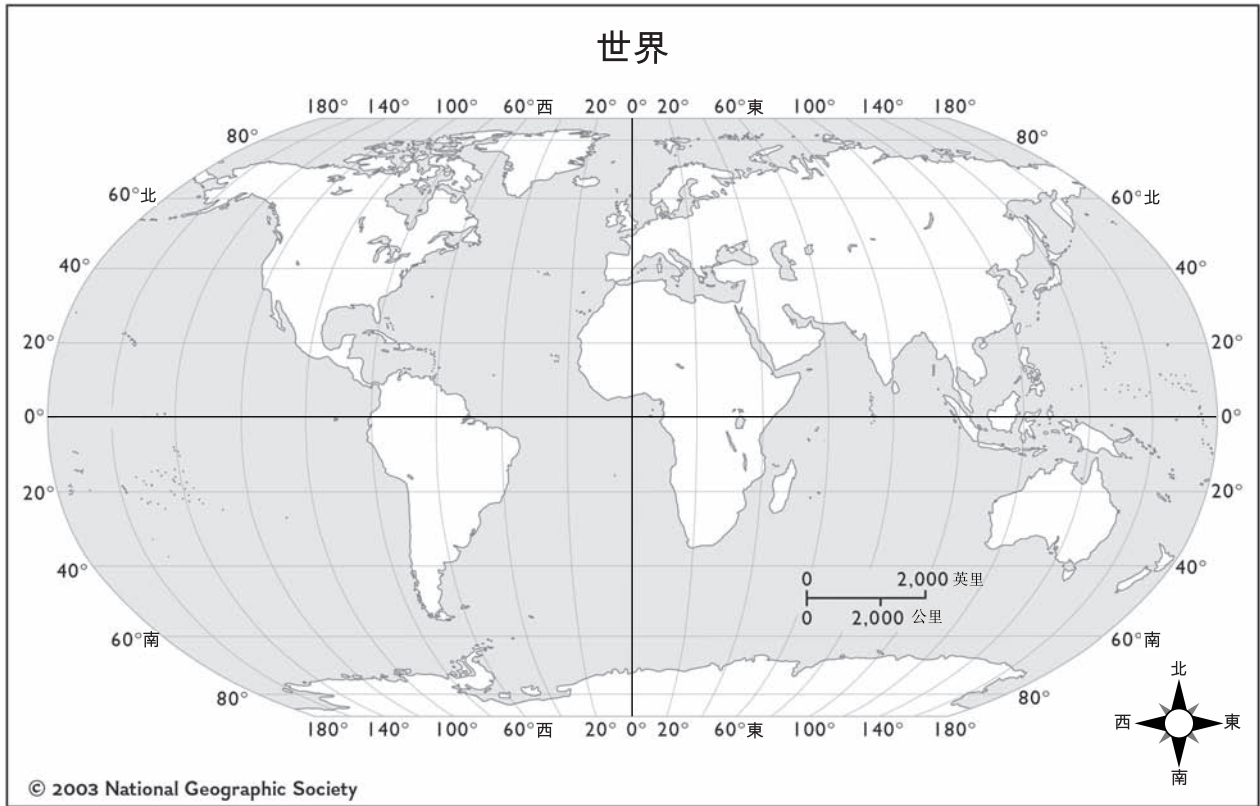
墨西哥合眾國



資料來源: Catherine Yuh, illustrator, *Mexico: World Neighbor Series*, Creative Teaching Press, 1994 (經改編)

- 4 在墨西哥的哪個地區氣候最乾燥？
- (A) 東北部 (B) 西北部 (C) 東南部 (D) 西南部
- 5 遊客會去哪個渡假村享受海灘和觀賞雨林？
- (A) 馬札蘭 (B) 波多維雅塔 (C) 阿卡波可 (D) 坎昆

請依據以下地圖和你的社會學知識來回答第6題和第7題。



資料來源: National Geographic Society (經改編)

6 哪兩個洲完全位於西半球？

- (A) 亞洲和澳洲
- (B) 南美洲和非洲
- (C) 北美洲和南美洲
- (D) 南極洲和澳洲

7 北緯60° 線通過哪些洲？

- (A) 北美洲和南美洲
- (B) 南極洲和澳洲
- (C) 亞洲、歐洲和北美洲
- (D) 非洲、南美洲和亞洲

請依據下表和你的社會學知識來回答第8題和第9題。

政府特性	英國議會民主制	美國代議民主制
國家政府的結構	議會（下議院和上議院）、女王政府（首相和部長）與司法部	國會（眾議院和參議院）、行政單位（總統和行政部門）與司法部
立法院的選擇	下議院由公民選出；上議院大部分席位是經由任命。	眾議院和參議院都由公民選出。
最高行政長官的選擇	首相是由人民透過議會多數黨的選擇而間接選出。	總統是由選舉團間接選出，而該團的代表是由人民選出。總統所屬的政黨可能與控制國會的政黨不同。

資料來源: *Faces*, Cobblestone Publications, 2001 (經改編)

8 英國下議院和美國眾議院的一個類似點在於其成員

- (A) 由公民選舉出
- (B) 由法官遴選
- (C) 由選舉團間接選舉出
- (D) 由議會的多數黨選擇

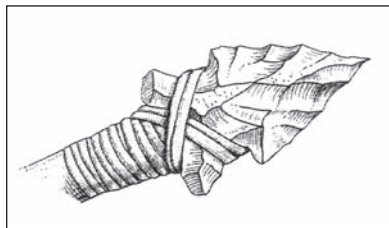
9 英國的最高行政長官叫做

- (A) 女王
- (B) 總統
- (C) 首相
- (D) 約克公爵

請依據以下資料和你的社會學知識來回答第10題和第11題。

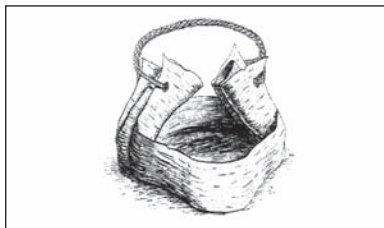
早期人類的文物

考古學家研究文物來得知遠古人類的生活。以下四個例子即是紐約早期人類的文物。



矛頭

將火石或石頭的邊緣砍削成尖銳狀而製成。然後將削尖的火石接在木柄上。用來打獵。



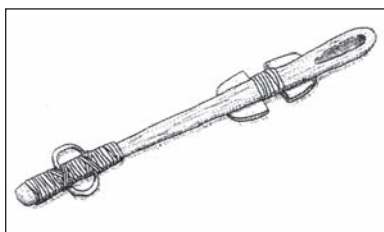
樺樹皮籃

將樺樹皮摺成籃狀然後以線或手柄固定在一起而製成。用來儲存與烹煮食物。



陶器

以陶土混入植物纖維、砂和壓碎的貝殼，然後捲成薄片後重疊而製成。用來儲存和烹調食物。



梭標投射器

以木頭或骨頭製成的短棍，用來做為投矛用的槓桿。也叫做狩獵射矛器。

資料來源: Harcourt Brace Horizons (經改編)

10 磨利後可用於打獵的火石被做成

(A) 矛頭

(B) 梭標投射器

(C) 鍋子

(D) 籃子

11 樺樹皮籃和陶器文物告訴我們，早期的人類

(A) 縫紉獸皮

(B) 儲存食物

(C) 使用金屬

(D) 狩獵水牛

- 12** 以下哪一種人製造貨品，而非提供服務？
- (A) 老師 (C) 警察
(B) 推銷員 (D) 工廠的工人
- 13** 以下何者可以滿足家庭的一種基本需要？
- (A) 訂購花卉 (C) 購買雜貨
(B) 租用光碟片 (D) 渡假
- 14** 在易洛魁(Iroquois) (豪德諾索尼(Haudenosaunee)) 政府中扮演重要角色的年長女性叫做
- (A) 族母(clan mothers) (C) 部落會議(tribal councils)
(B) 酋長(sachems) (D) 三姊妹(the three sisters)
- 15** 哪兩個美國印地安原住民部落是屬於易洛魁(Iroquois) (豪德諾索尼(Haudenosaunee)) 民族？
- (A) 蒙托克(Montauk)和席納考克(Shinnacock) (C) 伊利(Erie)和密西根(Michigan)
(B) 徹洛基(Cherokee)和蘇(Sioux) (D) 塞內卡(Seneca)和莫荷克(Mohawk)

請翻下頁 ⇨

16 亨利哈德遜(Henry Hudson)最著名的事蹟是探索何地？

- (A) 為法國人探索加拿大
- (B) 為荷蘭人探索紐約
- (C) 為英國人探索維吉尼亞
- (D) 為西班牙人探索佛羅里達

17 哪個用語的定義是由其他國家所統治的土地？

- (A) 殖民地
- (B) 郊區
- (C) 社區
- (D) 庇護所

18

I. 美國革命的起因

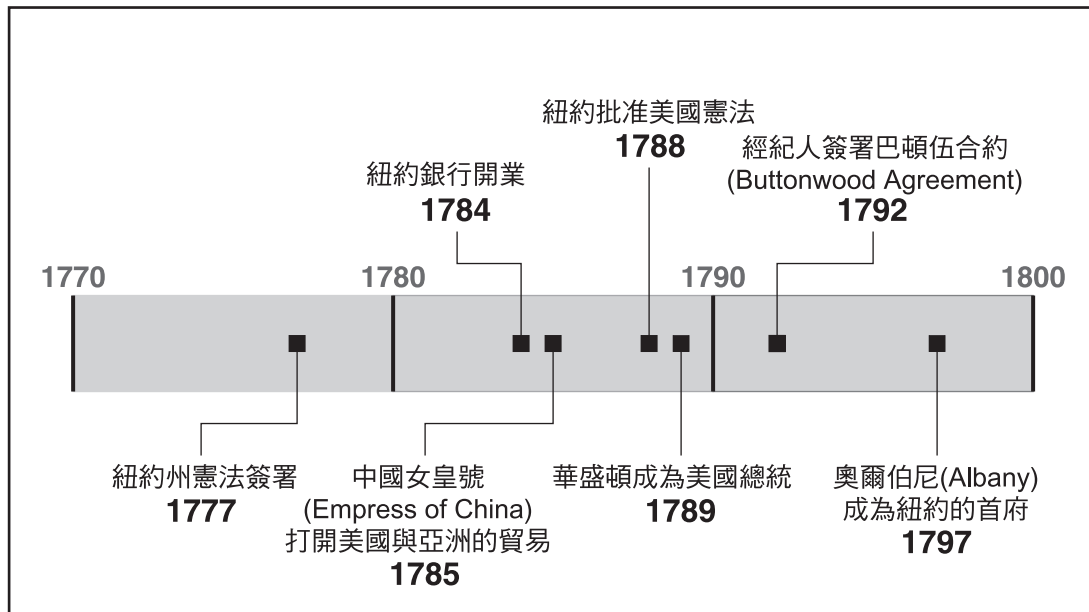
- A. 議會通過印花稅法案(Stamp Act)但是殖民地的人抗議。
- B. 議會通過湯生法案(Townshend duties)。
- C. 殖民地的人在波士頓大屠殺(Boston Massacre)中被英國士兵殺害。
- D. _____

哪句話最能完成這個未完成綱要？

- (A) 自由之子(Sons of Liberty)帶領波士頓茶葉黨(Boston Tea Party)。
- (B) 紐約市被英國人佔領。
- (C) 殖民軍在薩拉托加(Saratoga)打敗了英國軍隊。
- (D) 華盛頓將軍在佛吉谷(Valley Forge)安頓他的軍隊。

請依據以下年代表和你的社會學知識來回答第19題和第20題。

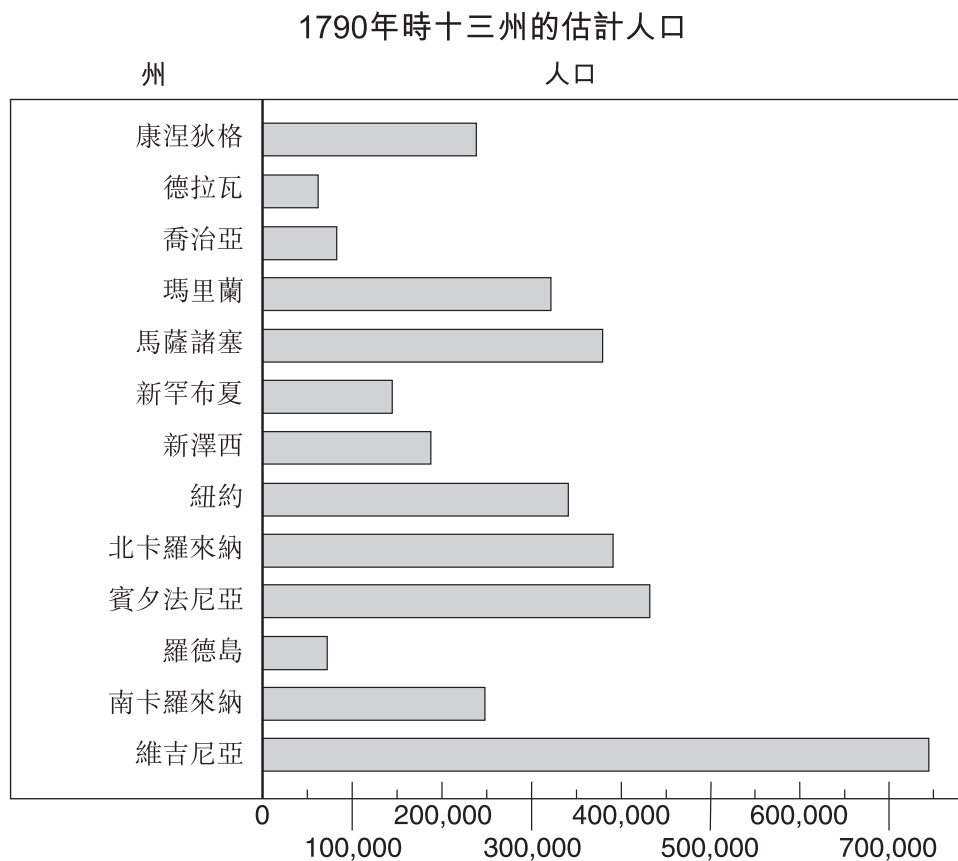
美國大事紀（1770年至1800年）



資料來源: *New York: Adventures in Time and Place*, MacMillan McGraw Hill, 1998 (經改編)

- 19** 這個年代表中的哪一個事件顯示美國正在從其他國家輸入貨品，同時向其他國家外銷貨品？
- (A) 紐約州憲法獲得簽署。
 - (B) 紐約銀行(Bank of New York)開業。
 - (C) 華盛頓成為美國總統。
 - (D) 名為中國女皇號(Empress of China)的船隻打開美國與亞洲的貿易。
- 20** 這份年代表中的資料支持哪一種說法？
- (A) 奧爾伯尼(Albany)在1800年成為紐約州首府。
 - (B) 這份年代表涵蓋了50年的時間。
 - (C) 紐約州憲法是在紐約批准美國憲法之前所簽署的。
 - (D) 喬治·華盛頓(George Washington)是在紐約銀行(Bank of New York)開業的三年後成為美國總統。

請依據以下圖表和你的社會學知識來回答第21題。



- 21** 有關美國1790年人口的哪種說法，最能獲得這份圖表中的資料的支持？
- (A) 維吉尼亞的人口不到500,000人。
 - (B) 紐約和馬薩諸塞都多於300,000人。
 - (C) 新澤西的人口多於北卡羅來納。
 - (D) 賓夕法尼亞的人口最多。

- 22** ● 紐約市是新的國家的第一個首都。
● 華盛頓總統是在紐約市就職的。
● 來自每一州的代表聚集於紐約市，為新國家制定法律。

由這幾句話可以得出哪個結論？

- (A) 紐約市歡迎許多新移民。
(B) 紐約市的人為新國家制定法律。
(C) 革命期間許多戰役都是在紐約市展開的。
(D) 紐約市在新國家的早期扮演了重要角色。

- 23** 勞勃·佛頓(Robert Fulton)在1800年代早期改進了哪種旅行方式？

- (A) 蒸氣船
(B) 鐵路
(C) 運河船
(D) 汽車

- 24** 伊利運河(Erie Canal)對於美國經濟的成長有何貢獻？

- (A) 該運河用於將南方的棉花運往英國工廠。
(B) 荷蘭殖民地的人出售運河附近的土地而致富。
(C) 該運河直接連通美國的東西兩岸。
(D) 紐約市和五大湖區之間的貨物運輸更方便。

- 25** 有關早期工業革命(Industrial Revolution)的敘述，何者正確？

- (A) 孩童可以安全地在工廠工作。
(B) 鐵路的使用減少了。
(C) 新發明使貨物的製造更容易。
(D) 許多人從城市搬到鄉間去。

請依據下表和你的社會學知識來回答第26題和第27題。

制衡的體系

<p>行政部門 (總統執行法律)</p>	<p>對立法部門的制約</p> <ul style="list-style-type: none"> • 對司可以否決法律 <p>對司法部門的制約</p> <ul style="list-style-type: none"> • 可以赦免聯邦罪犯
<p>立法部門 (國會制定法律)</p>	<p>對行政部門的制約</p> <ul style="list-style-type: none"> • 可以推翻總統的否決 • 可以宣戰 <p>對司法部門的制約</p> <ul style="list-style-type: none"> • 可以提出修正案以推翻司法判決
<p>司法部門 (最高法院詮釋法律)</p>	<p>對行政部門的制約</p> <ul style="list-style-type: none"> • 可以宣布行政做法違憲 <p>對立法部門的制約</p> <ul style="list-style-type: none"> • 可以宣稱國會的做法違憲

資料來源: James West Davidson, *The American Nation*, Prentice Hall, 2005 (經改編)

26 立法部門可以如何制約司法部門？

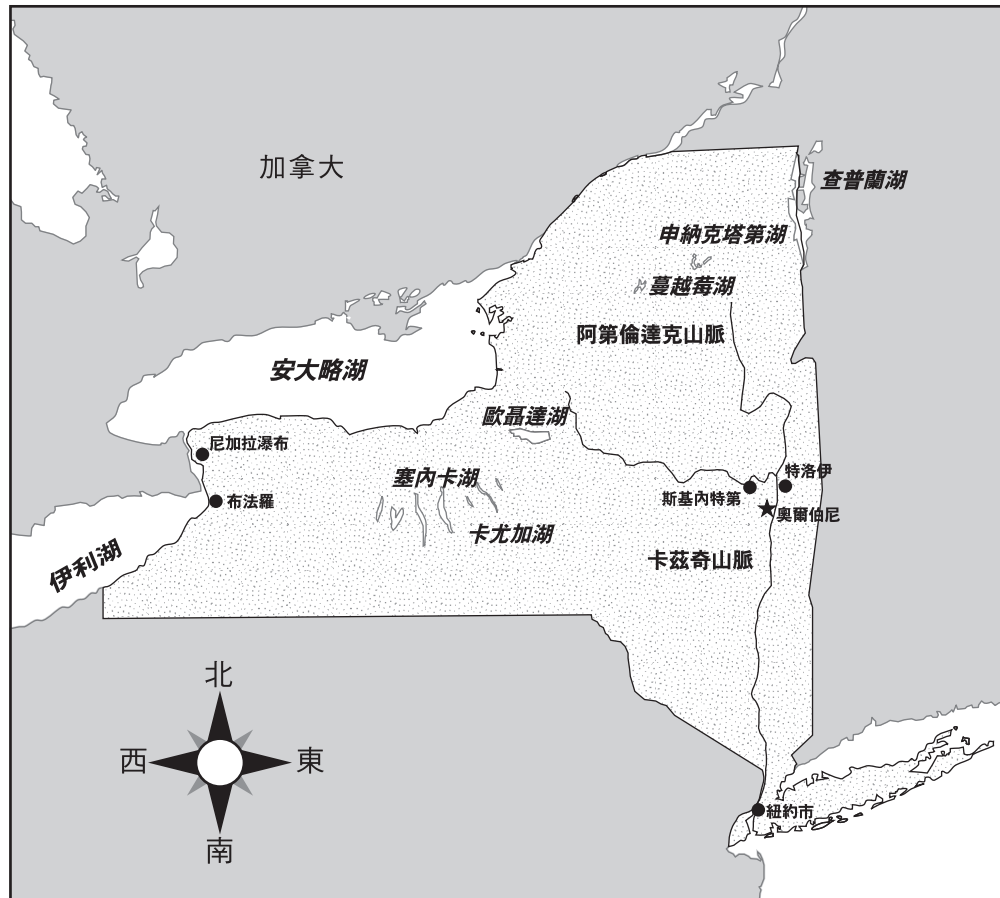
- (A) 否決法律
- (B) 赦免聯邦罪犯
- (C) 宣稱國會的做法違憲
- (D) 提出修正案來推翻司法判決

27 憲法的作者為何納入一個制衡的體系？

- (A) 為了確保每位公民都有相同的自由
- (B) 為了允許國會每20年改寫憲法
- (C) 為了保證政府的任何一個部門都不會比其它兩個部門更強大
- (D) 為了使州政府比聯邦政府更強大

請依據以下地圖和你的社會學知識來回答第28題和第29題。

紐約州



資料來源: Mountain High Maps, Digital Wisdom (經改編)

- 28** 史密斯家庭在紐約州旅行時，從阿第倫達克(Adirondack)山脈旅行到卡茲奇(Catskill)山脈。他們大致是朝哪個方向移動？
- (A) 南 (C) 西
(B) 北 (D) 東
- 29** 這張紐約州地圖上的哪兩個湖是屬於五大湖？
- (A) 歐聶達(Oneida)和查普蘭(Champlain)
(B) 伊利(Erie)和安大略(Ontario)
(C) 卡尤加(Cayuga)和塞內卡(Seneca)
(D) 蔓越莓(Cranberry)和薩拉納克(Saranac)

30 每年11月11日的退伍軍人日(Veterans Day)是要銘記

- (A) 曾在美國軍隊中服役的軍人
- (B) 新總統的選舉
- (C) 萊星頓(Lexington)和康括德(Concord)的戰役
- (D) 林肯的誕辰

31 在紐約州，政府行政部門的首長叫做

- (A) 首席法官(chief judge)
- (B) 州長(governor)
- (C) 市長(mayor)
- (D) 總指揮官(commander in chief)

32 哪一個字的意思是節省天然資源？

- (A) 愛國(patriotism)
- (B) 製造(manufacturing)
- (C) 傳統(heritage)
- (D) 保育(conservation)

請依據下表和你的社會學知識來回答第33題和第34題。

農業	1990	1995	2000	2001	2002
農場 (以千為單位)	2,146	2,196	2,172	2,156	2,158
農地 (百萬英畝)	987	963	943	941	941
農場收入 (十億美元)	44.6	36.9	47.8	50.6	35.3

資料來源: U.S. Census Bureau (經改編)

33 哪一年農場的收入最高？

- (A) 1990年
- (B) 1995年
- (C) 2001年
- (D) 2002年

34 美國在1990年和2000年之間的農地英畝數有何變化？

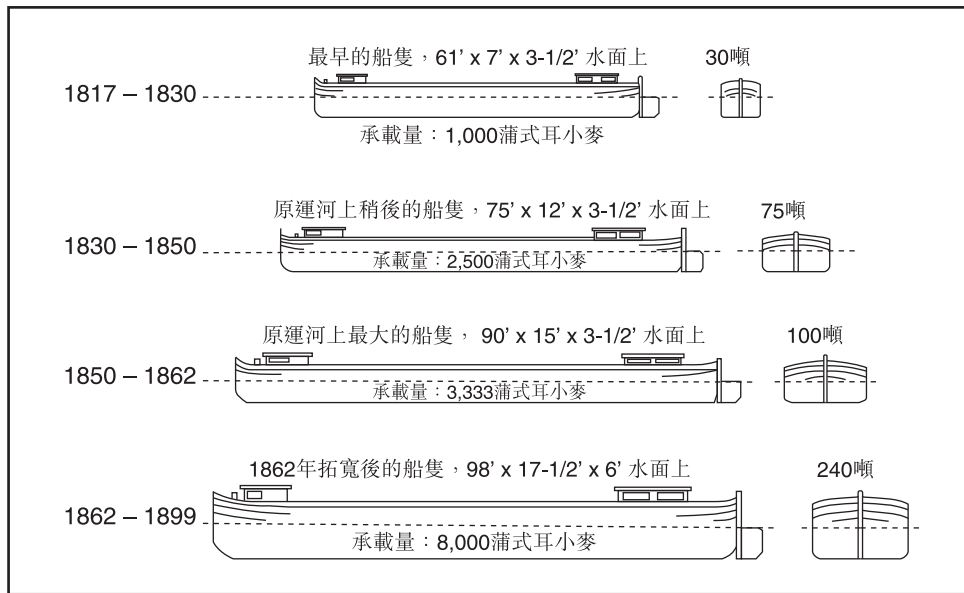
- (A) 完全沒變。
- (B) 先增後減。
- (C) 有所增加。
- (D) 有所減少。

第II部分

答題說明：請把以下問題的答案寫在本卷中的空白處。

請依據以下繪圖和你的社會學知識來回答第1和第2題。

伊利運河上使用船隻的演進，1825年–1899年



資料來源: University of Rochester (經改編)

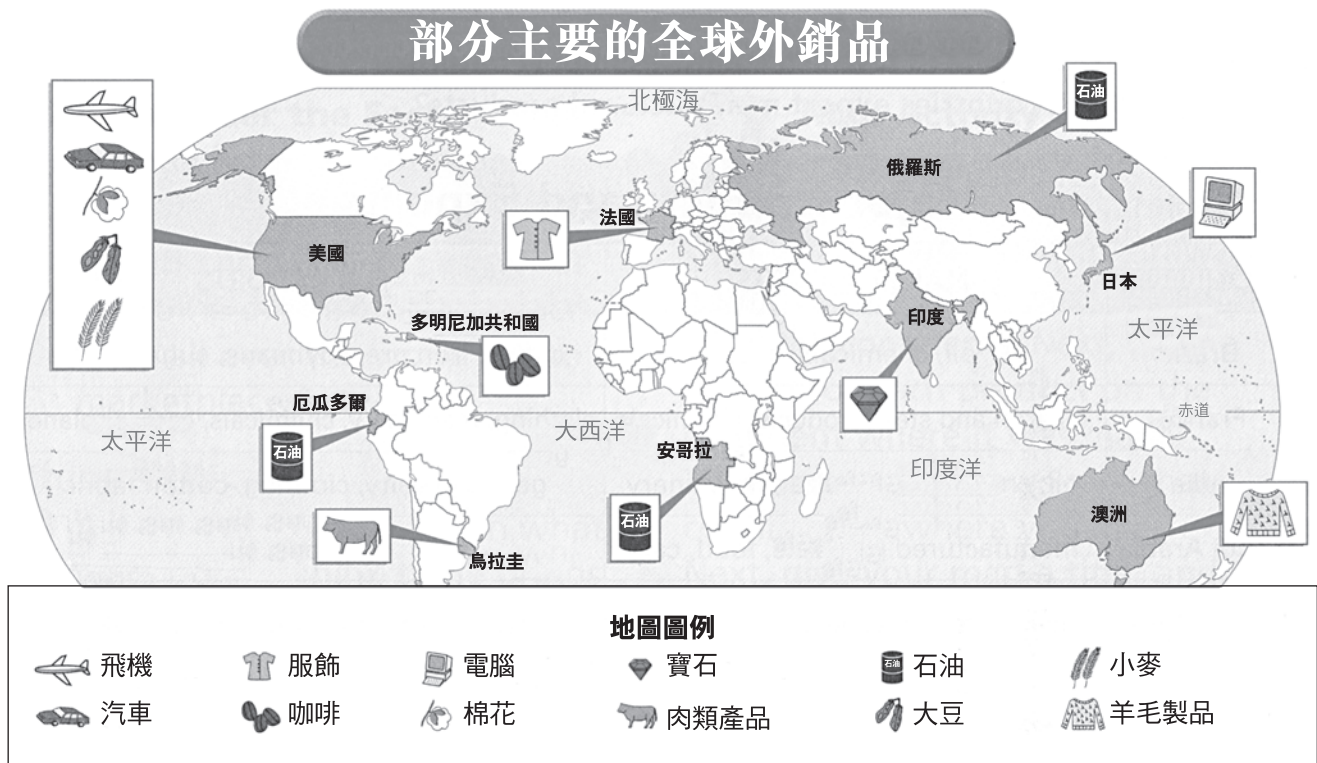
1 在哪幾年間用於伊利運河(Erie Canal)上的船隻最短？ [1]

Score

2 隨著時間過去，為什麼所用的運河船隻尺寸越來越大？ [1]

Score

請依據以下地圖和你的社會學知識來回答第3題至第5題。



資料來源: Richard G. Boehm, et al., *Communities*, Harcourt Brace & Company, 2000 (經改編)

3 請依據這張地圖列出三個石油輸出國。 [1]

(1) _____

(2) _____

(3) _____

Score

4 請依據這張地圖寫出日本所輸出的一種產品。 [1]


Score

5 國家將貨物輸出到其他國家的一個原因是什麼？ [1]

Score

請依據以下資料和你的社會學知識來回答第6題至第8題。

挖掘紐約市地下鐵隧道



資料來源: David Weitzman, *A Subway for New York*, Farrar, Straus and Giroux (經改編)

地下鐵的大部分工作都是以鋤頭和鏟子、電鑽和錘子來完成的。有時也會用到炸藥。7,700名工人主要是愛爾蘭人和義大利人。無技術的工人每小時可賺20分錢。有技術的工人每小時可賺25分錢。

6 寫出工人用來挖掘紐約市地下鐵系統的**兩件**工具。 [2]

(1) _____
Score

(2) _____
Score

7 寫出挖掘紐約市地下鐵隧道的**兩**群工人。 [2]

(1) _____
Score

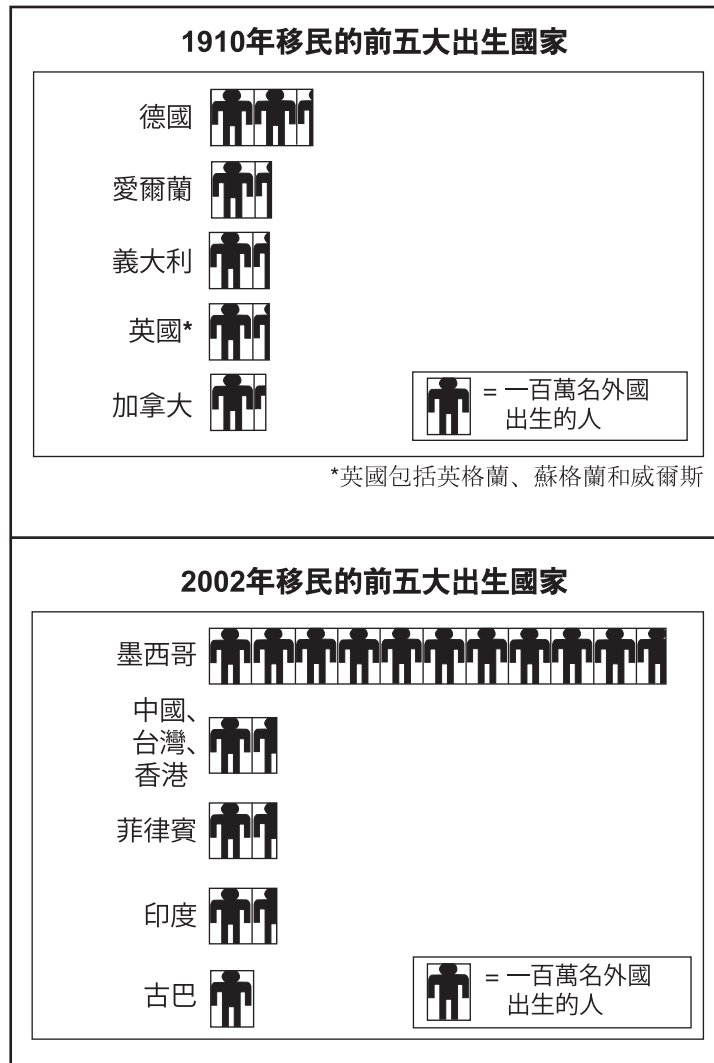
(2) _____
Score

8 地下鐵系統對於紐約市為什麼很重要？ [1]

Score

請依據以下圖表和你的社會學知識來回答第9題至第11題。

住在美國而在外國出生的人



資料來源: *Time for Kids*, January 30, 2004 (經改編)

9 依據這些圖表，在1910年，在哪個國家出生而居住於美國的人民最多？ [1]

Score

10 根據這些圖表，在2002年，在哪個國家出生而居住在美國的人民最少？ [1]

Score

11 移民來到美國的三個原因為何？ [3]

(1) _____

Score

(2) _____

Score

(3) _____

Score

FOR TEACHER USE ONLY

Total Part II Score _____

Maximum Score is 15

