

The University of the State of New York

REGENTS HIGH SCHOOL EXAMINATION

美國歷史和政府

僅限用於2006年1月26日(星期四)上午9時15分至下午12時15分

學生姓名 _____

學校名稱 _____

請以工整字跡在以上直線上填寫你的姓名和學校名稱, 然後翻到本考題本的最後一頁, 即本考題本第**I**部份的答題紙。請沿著虛線把最後一頁折疊起來, 慢慢地小心地將答題紙撕下, 然後在你的答題紙上填寫各項擡頭。現在你要在申論題考題本內每頁的擡頭上用工整字跡填寫你的姓名和學校名稱。

本考試共有三個部份。你必須要回答每一部份的**所有**題目。用黑色或深藍色的水墨原子筆回答考題。

第I部份包括50道選擇題。請將答案記錄在另外一張答題紙上。

第II部份包括一道以主題為主的申論題。從本考題本的第1頁起開始回答該申論題。

第III部份是以下列文件為基礎的:

第IIIA部份包含各種文件。每一文件後有一個或多個問題要回答。在本考題本上, 將各題的答案寫在各問題之後的直線上。請以工整字跡在這一部份的第1頁上填寫你的姓名和學校名稱。

第IIIB部份包括一個以各文件為基礎的申論題。請將申論題的答案寫在本考題本的第7頁。

在本次考試結束後, 你必須在第**I**部份的答題紙上簽署聲明, 表明你沒有非法得到本考試的試題或答案, 在本考試中沒有給予或接受過任何的幫助。你如果不簽署本聲明, 你的答題紙不會被接受。

在本考試中, 嚴禁使用任何形式的通訊工具。如果你使用了任何的通訊工具, 無論使用多久, 你的考試都將無效, 並且不會得到任何的分數。

未經指示請勿打開本考題本。

第I部份

回答本部份的所有問題。

答題說明(1 - 50): 根據每一個陳述或問題, 在所給答案中選擇最恰當的詞或語句, 並在另外的答題紙上寫下代表該答案的編號。

- 1 • 詹姆斯敦, 1607年建立
• 普利茅斯殖民地, 1620年建立
• 新阿姆斯特丹, 1625年建立

這些早期殖民地都很相似因為每一個地點位於
 - (1) 在山脈的底部
 - (2) 靠近海岸線
 - (3) 在乾燥的氣候中
 - (4) 在近海島嶼上
- 2 在十八世紀早期到中期之間, 對美國殖民地有益地忽略的英國政策促使了:
 - (1) 殖民地製造業的衰退
 - (2) 北方殖民地中奴隸制度的衰退
 - (3) 法國人和西班牙人減少對北美洲的影響
 - (4) 獨立殖民地貿易業務的發展
- 3 在獨立宣言中, 從英國統治中, 解放的論點主要地根據於:
 - (1) 由詹姆士一世(James I)所表達的君權神授論
 - (2) 由亞當·史密斯(Adam Smith)所提出的經濟學原理
 - (3) 由約翰·洛克(John Locke)發展的政府社會契約理論
 - (4) 由亞歷山大·漢米敦(Alexander Hamilton)所表達的強大中央政府理念
- 4 將教會與政府分開的憲法依據是
 - (1) 第一條修正案的建立條款
 - (2) 第五條修正案的雙重危險規定
 - (3) 第十條修正案的保證權力
 - (4) 第十四條修正案的平等保護條款
- 5 哪個聲明描述由聯邦條款所建立政府的特徵?
 - (1) 最高法院有權宣告違反憲法的國會行為。
 - (2) 國家政府控制了州際貿易。
 - (3) 總統持有外交策略的專屬控制。
 - (4) 成立了一個州擁有多數權力的系統。
- 6 哪次行動在華盛頓的任職期間導致了在賓夕法尼亞州西部的威士忌叛亂?
 - (1) 通過一個新的消費稅
 - (2) 建立一個總統內閣
 - (3) 創立美國銀行
 - (4) 在西北領地對奴隸制的禁令
- 7 喬治·華盛頓、湯瑪士·傑佛遜,和詹姆士·門羅的外交政策相似, 是因為他們每個都
 - (1) 支持與英國的戰爭
 - (2) 沒有獲得新領土
 - (3) 試圖避免介入歐洲事務
 - (4) 幫助法國人以換得在美國獨立革命戰爭期間他們的協助
- 8 哪個行動被認為是不成文憲法的一部份?
 - (1) 由參議院批准的一個條約
 - (2) 最初兩個政黨的成立
 - (3) 創立聯邦法院系統, 包括最高法院
 - (4) 國會通過了總統否決法案

請根據下面的漫畫和你的社會科學知識回答第9題。

早安，醫生



來源: John Chase, *New Orleans Item*, January 17, 1938 (節選)

9 哪個憲法原則可由這個漫畫最好地圖解出來？

- (1) 聯邦主義
- (2) 人民的主權論
- (3) 司法審核
- (4) 制約和平衡

10 “本憲法對某些權利的列舉〔列表〕，不得被解釋〔詮釋〕為否定或輕視〔變弱〕由人民保留的其他的權利。”

— 美國憲法第九條修正案

這條修正案被加入人權法案中的最可能原因是

- (1) 增加對民眾的聯邦權力
- (2) 擴展州政府對個體公民的控制
- (3) 保護那些超出憲法列舉之外的權利
- (4) 防止國會對個體授予額外的權利

11 “合眾國公民的選舉權，合眾國或任何州政府不得因種族、膚色或因為以往奴隸身份，而加以拒絕或剝奪……”

— 美國憲法第十五條第一款修正案，1870年

南方各州採取哪些行動以阻礙非裔美國人從這條修正案中行使權利保證？

- (1) 暫停人身保護令和拒絕給予婦女投票權
- (2) 領取人頭稅和要求識字能力測試
- (3) 建立為了投票要求有宗教信仰和持有財產的必要條件
- (4) 通過限制黑人自由的法律和建立種族隔離的學校

12 最高法院在1896年的**普萊西訴佛格森案** (*Plessy v. Ferguson*) 的決議對於非裔美國人生活有主要的影響在於它裁決了

- (1) 在教育機構中的種族隔離制度是違法的
- (2) 投票是由憲法保證的權利
- (3) 分開但平等的公共設施是合法的
- (4) 南方的軍事佔領是不合乎憲法規定的

13 哪次行動是聯邦政府在十九世紀末期期間所做的本土主義的例子？

- (1) 排華法案的通過
- (2) 東部部落保留地的創立
- (3) 對西部農夫給予的經濟援助津貼
- (4) 對於橫貫大陸的鐵路建造的支持

14 哪個在十九世紀末期主要人口轉移的現象是因為工業化？

- (1) 北方人到陽光地帶
- (2) 鄉村居民移到市區
- (3) 工人階級從城市到郊區
- (4) 非裔美國人從北方到南方

請根據下面的漫畫和你的社會科學知識回答第15題和第16題。



“The American Beauty Rose(美國大紅玫瑰花)只能靠著犧牲在它附近長大的初生苞芽來培植出它所有的璀璨。”

—小約翰·D·洛克斐勒

來源: Guy R. Spencer, *The Literary Digest*,
May 1905 (節選)

- 15 哪個十九世紀末期的想法最有可能和這個漫畫通聯想在一起?
- (1) 管制資本主義
 - (2) 累進所得稅
 - (3) 社會達爾文主義
 - (4) 財富的福音
- 16 在1890年代的早期期間，聯邦政府處理了像這個漫畫呈現的情況經由
- (1) 提高對進口石油的關稅稅率
 - (2) 提供經濟援助給小企業
 - (3) 控告商人貪污和腐敗
 - (4) 通過反托拉斯法

17 在十九世紀末期期間，許多農夫支持自由和無限制鑄造銀幣的想法會造成

- (1) 終止農業補助
- (2) 幫助農夫償還他們的貸款
- (3) 導致消費品降低價格
- (4) 減低農田的價格

18 哪個名稱最好地描述提奧多·羅斯福、約翰·米爾，和吉福德·平肖？

- (1) 慈善家
- (2) 環保專家
- (3) 黃色新聞記者
- (4) 工業界鉅子

19 在前進年代，許多州政府和地方政府都採取主動性、人民復決、和召回程序以至於

- (1) 消滅了對選舉團的需要
- (2) 創造了政治行動委員會(PACs)
- (3) 授予選民能給政府一個更直接的回應
- (4) 加強了總統內閣的角色

20 1911年的Triangle Shirt Company(三角女衫公司)大火悲劇引起了全國關注到需要

- (1) 限制從南歐來的移民
- (2) 建立全職的消防隊
- (3) 保護勞工的安全
- (4) 改善公寓居民情況

21 伍德魯·威爾遜總統的十四個論點提議在第一次世界大戰期間主要朝向

- (1) 為美國定義戰後宗旨
- (2) 為美國概述軍事戰略
- (3) 說服其它民主國家加入聯合國
- (4) 加強美國的孤立主義政策

22 為了改善金錢的流通和保證充分貨幣供應量，伍德魯·威爾遜總統要求國會去

- (1) 消滅黃金本位制度
- (2) 限制外國投資
- (3) 為銀行存款提供保險
- (4) 建立聯邦儲備制度

23 明顯而立即的危險學說形成在1919年的**申克訴美國案**(*Schenck v. United States*)，其允許政府去

- (1) 宣戰於攻擊美國的任何一個國家
- (2) 限制威脅國家安全的言論
- (3) 分裂限制企業競爭的壟斷
- (4) 禁止威脅他人公民權的組織

24 在1920年，婦女獲取了投票權是由於

- (1) 總統命令
- (2) 最高法院決定
- (3) 全國大選
- (4) 憲法修正案

25 反共恐慌、在1920年代的原國籍法案、和薩柯-萬澤蒂案裁決都是消極美國人態度的例子對於

- (1) 移民
- (2) 商業領袖
- (3) 非洲裔美國人
- (4) 工會領導人

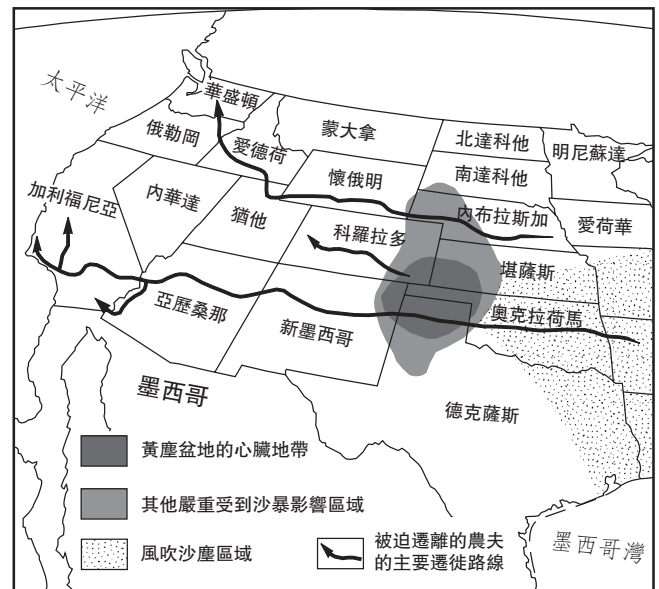
26 改善的大量生產技術能影響了1920年代的美國經濟是通過

- (1) 減低消費品的價格
- (2) 降低多數產品的品質
- (3) 造成更多的失業
- (4) 減少工業製造品的數量

27 1925年的斯科普斯審判案是下列哪項的例子

- (1) 美國文化同化的結果
- (2) 在科學想法和宗教信仰之間的衝突
- (3) 在美國社會暴行的增加
- (4) 政府干預種族衝突

請根據下面的地圖和你的社會科學知識回答第28題。



來源: Robert A. Divine et al., *America: Past and Present* HarperCollins, 1995 (節選)

28 哪個美國的地區最直接遭受了黃塵盆地的影響?

- (1) 西南部
- (2) 太平洋西北部
- (3) 落磯山脈
- (4) 北美大平原

29 哪個聲明關於富蘭克林·D.羅斯福的新政是最準確的？

- (1) 保護關稅稅率增加了。
- (2) 擴展了社會保障計劃。
- (3) 減少了政府對商業的法規。
- (4) 終止了環境保護的政府支持。

請根據下面的引言和你的社會科學知識回答第30題。

“.....那些防衛他們自己的歐洲人並未要求我們替他們戰鬥。他們向我們要的是戰爭的工具、飛機、坦克、槍、和貨輪，這些能夠使他們去為他們的自由和我們的安全奮戰。顯然地我們必須提供這些武器給他們，以充足的數量並儘快地提供給他們，以便我們和我們的孩子可以避免那些其他人不得不忍受的戰爭的極度痛苦和苦難.....”

— 富蘭克林·D.羅斯福總統的“爐邊談話”，1940年12月29日

30 在這個聲明中，富蘭克林·D.羅斯福總統要求國家去

- (1) 支持對納粹德國宣戰
- (2) 採取遏制政策
- (3) 參加國家同盟
- (4) 成為“民主世界的軍火庫”

31 哪個因素造成了在第二次世界大戰期間日本美國人被拘留？

- (1) 在戰爭期間勞動力不足
- (2) 種族偏見的影響
- (3) 恐怖分子活動在西岸增加
- (4) 擔心失去工作給日本勞工

32 在第二次世界大戰以後，埃莉諾·羅斯福最著名於

- (1) 支持在美軍中的種族隔離
- (2) 創造聯合國世界人權宣言的角色
- (3) 反對杜魯門政府
- (4) 努力終止使用地雷

請根據下面的漫畫和你的社會科學知識回答第33題。

終究發生的事，為何現不做？



來源: Jay Norwood "Ding" Darling, 1945

33 這幅1945年漫畫的主要想法是什麼？

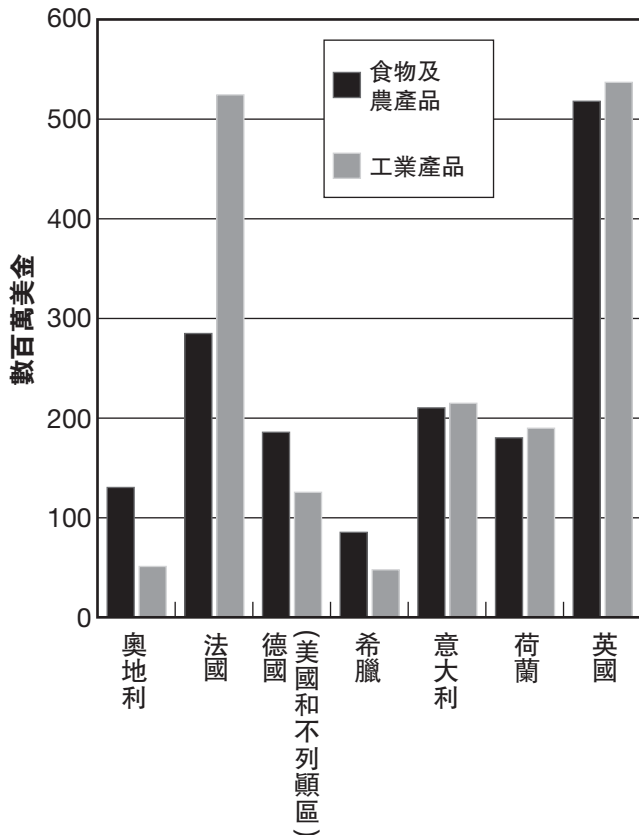
- (1) 世界社區需要停止核武器的散播。
- (2) 韓國的原子彈發展威脅了世界和平。
- (3) 凡爾賽條約成功地阻止第二次世界大戰。
- (4) 應該批評德國因其使用原子彈。

34 在1950年代的早期期間，約瑟夫·麥卡錫參議員的戰術被批評是因為他

- (1) 違犯重要的憲法自由
- (2) 在他的問題中顯示種族偏見
- (3) 反對忠誠誓言的使用
- (4) 忽略蘇聯進行間諜的證據

請根據下面的圖表和你的社會科學知識回答第35題。

美國對歐洲的援助，1948年



來源: *The Americans: In Depth Resources*
McDougal Littell, 1998 (節選)

35 由圖表提供的資訊表明，馬歇爾計劃設法防止共產主義在歐洲的傳播由

- (1) 提供軍事援助給法國和英國
- (2) 恢復整個西歐的經濟穩定
- (3) 鼓勵歐洲的國內革命
- (4) 使歐洲國家依賴於聯合國

36 1960年在格陵斯堡，北卡羅來納的一些非州裔美國學生，當他們拒絕離開“只限白人”的午餐櫃檯時，是使用哪個策略？

- (1) 經濟制裁
- (2) 絕食
- (3) 請願活動
- (4) 非暴力反抗

37 “.....我們選擇去月球。我們選擇在這個十年去月球和做其他的事，不是因為他們容易，是因為他們是艱難的，因為那個目標將能組織和測量我們活力與能力最好的一面，因為那個挑戰是一個我們願意去接受，一個我們將不願意延期，和一個我們打算贏取，並且也有其他的.....”

— 約翰·甘乃迪(John F. Kennedy)總統，稻穗大學演講，1962年9月12日

這個演講的主要目的在贏取公眾的支持於

- (1) 在月球上建立一個飛彈防禦系統
- (2) 與共產主義國家合作去探索太空
- (3) 在太空競賽中超過蘇聯
- (4) 控制核武器散播

38 所有人被拘捕時必須告知他們的法定權利起因於

- (1) 採取英國普通法的慣例
- (2) 由國會所公佈法律
- (3) 美國最高法院的決定
- (4) 美國原始的憲法的具體聲明

39 哪個聲明最佳地描述了水門事件對美國社會的衝擊？

- (1) 現代環保運動開始了。
- (2) 民眾對政府的信任減低了。
- (3) 選舉的選民投票率增加了。
- (4) 經濟衰退結束了。

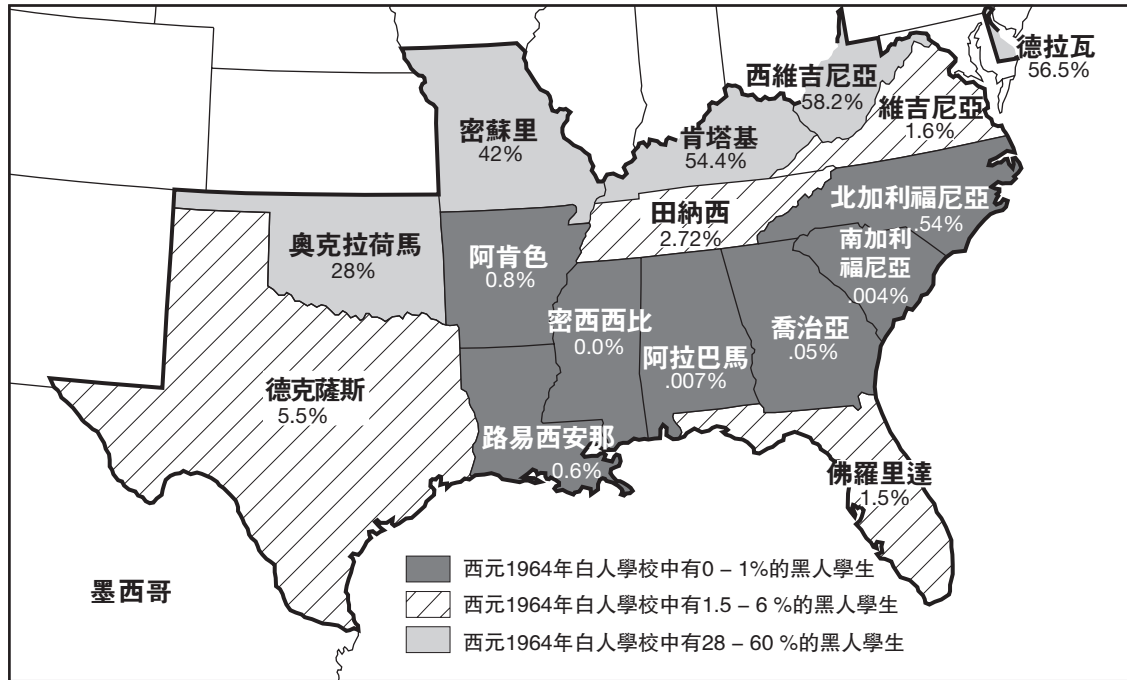
40 美國介入到越南戰爭中一部份原因是有意望去

- (1) 防止在太平洋重新恢復的日本擴張主義
- (2) 保證可以從中東獲得充分的石油供應
- (3) 牽制在東南亞的共產主義
- (4) 保護美國在中國的商業利益

請根據下面的地圖和你的社會科學知識回答第41題和第42題。

這張地圖顯示了在公立學校種族隔離由法律強制執行直到1954年。

1954年至1964年在南方公立學校中消除種族隔離



來源: Mary Beth Norton et al., *A People and a Nation*, Houghton Mifflin, 1986 (節選)

41 由地圖提供的資訊最清楚地說明了到1964年廢除種族隔離法在南方學校裡提出的結果是

- (1) 在俄克拉何馬州、密蘇里州、肯塔基州、和西維吉尼失敗
- (2) 被多數南方選民支持
- (3) 在南方各州以不同的速率進行
- (4) 在1960年代中期完成

42 在地圖上顯示的學校廢除種族隔離受到最大影響經由

- (1) 三K黨的衰落
- (2) 通過平權法
- (3) 非裔美國人選舉權的擴展
- (4) 最高法院在**布朗訴托皮卡教育委員會案** (*Brown v. Board of Education of Topeka*)的決定

43 古巴導彈危機〔1962年〕影響了約翰·甘乃迪總統的決定於

- (1) 與蘇聯談判有限制的禁止核試條約
- (2) 降低對北大西洋公約組織〔NATO〕的國家承諾
- (3) 禁止美國人和拉丁美洲進行貿易和旅行
- (4) 派遣和平部隊志願者去援助發展中國家

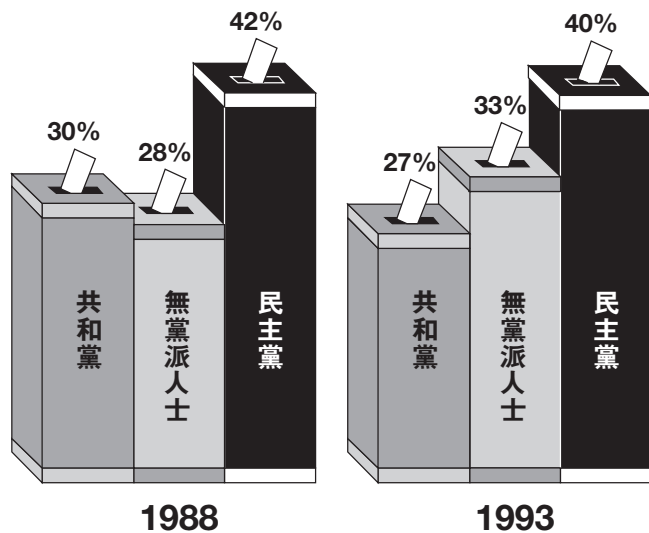
44 “**戈巴契夫提議減少核武器**”
“**在東德和西德間柏林市民自由地旅行**”
“**俄國尋求加入北大西洋公約組織(NATO)**”

這些標題最有可能相關於

- (1) 軍事軍備競賽
- (2) 減少冷戰的敵意
- (3) 遏制政策的失敗
- (4) 在蘇聯共產主義的成功

請根據下面的圖表和你的社會科學知識回答第45題。

投票人說他們屬於__的比率是：



來源: The Gallup Organization. Bruce S. Glassman, ed., *Macmillan Visual Almanac* Blackbirch Press, 1996 (節選)

45 由圖表提供的資訊顯示在1988年和1993年之間,有增加的需要對於主要政黨的候選人贏取誰的支持？

- (1) 少數民族
- (2) 年長公民
- (3) 獨立選民
- (4) 勞工投票

46 厄普敦·辛克萊(Upton Sinclair)所著作的「叢林」(*The Jungle*)和拉爾夫·納得(Ralph Nader)所著的「在任何速度都不安全」(*Unsafe at Any Speed*)都打算去

- (1) 公佈美國社會持續擴大的暴力
- (2) 暗示窮人能努力工作而變得富有
- (3) 鼓勵移民改革
- (4) 使大眾注意到劣質的某些產品

47 聯邦政府針對北方證券公司、美國電話電報公司、和微軟的訴訟案件上，強制執行反壟斷法是為了努力去

- (1) 增加企業競爭
- (2) 國有化重要產業
- (3) 改進民眾對於公司領導者的信任
- (4) 引起更多的投資資本

48 在1990年代，美國干預海地和波士尼亞以

- (1) 對新市場能夠進入
- (2) 獲取殖民地給經濟帝國
- (3) 停止那些國家之內衝突
- (4) 打亂國際毒品交易

49 哪個標題能最佳地完成下列的不完整綱要？

- I. _____
- A. 柏林
 - B. 德國
 - C. 韓國
 - D. 越南

- (1) 由於戰爭結果區域被劃分
- (2) 美國的主要盟友
- (3) 國家憲章同盟的原始簽名人
- (4) 在第二次世界大戰期間的中立國家

50 哪個關於安德魯·約翰遜(Andrew Johnson)總統和比爾·克林頓(Bill Clinton)總統的彈劾案是最準確的？

- (1) 眾議院沒有投票支持彈劾狀。
- (2) 只有約翰遜總統被判了罪並被撤職。
- (3) 只有克林頓總統被判了罪並被撤職。
- (4) 參議院未能將任何一個總統定罪。

所有申論題的答案均寫在另外的申論題本中

在回答第 II 部份的問題時，請注意以下一般性定義：

- (a) **論述**指“用事實、理由、和論點來作觀察評論；並描述其細節”
- (b) **解釋**指“使其簡單或可理解；提出原因或起因；表明出邏輯發展或彼此關聯性”

第II部份

主題申論題

答題說明: 寫一篇條理分明的短文，包括引語、與以下內容相關的幾個段落、以及結論。

主題： 個體、群組和機構 – 爭議性議題

許多爭議性的 **國內**問題已造成美國人民分裂。
美國政府已經針對這些問題採取行動。

任務:

請指出**一個**讓美國人民分裂的爭議性**國內**問題，以及

- 論述這個爭論的歷史背景
- 解釋那些支持這個問題的人的觀點
- 解釋那些反對這個問題的人的觀點
- 論述**一個**美國政府針對這個問題已經採取的行動

你可以使用造成美國人分裂的任何一個爭議性**國內**問題。你也許可以考慮一些建議包括在保留地安置美洲原住民印第安人、奴隸制、婦女的選舉權、禁令、童工的使用，和無限制的移民政策。

你不必侷限於以上的建議。

指南：

在你的短文中請務必：

- 完成以上任務的各個方面
- 用相關事實、例證和細節支持主題
- 做到邏輯清楚、條理分明。請包括一段引言和結論，但不要只重複主題的論點

姓名 _____ 學校 _____

在回答第 III 部份的問題時，請注意以下一般性定義：

論述指“用事實、理由、和論點來作觀察評論；並描述其細節”

第III部份

歷史文件題

這部份問題基於隨附的幾份歷史文件。主要是用來測驗你分析歷史文件的能力。在編寫本問題時,有些文件經過編輯。當你分析文件時,請考慮其來源和它所表述的觀點。

歷史背景:

在十九世紀和二十世紀期間，地理影響了許多美國擴張領土或保護其國家利益的行動

任務：根據文件所示資訊和你的美國歷史知識，回答 A 部份中每一份文件後的問題。你對問題的答案將有助於回答 B 部份的申論題。你將被要求：

- 討論在十九世紀和二十世紀期間，地理怎麼影響了領土擴張**和/或**保護美國國家利益的行動

A 部份 簡答問題

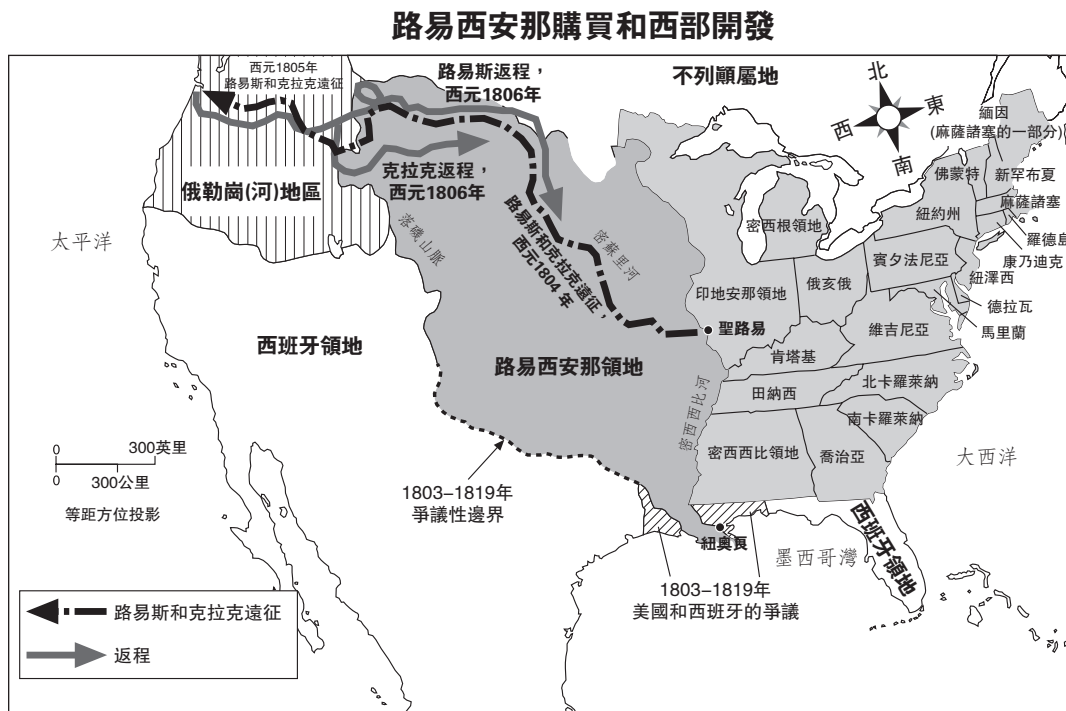
指示: 分析以下的文件，並在空白處簡要地回答每一份文件後面的問題。

文件1a

……你的任務目標就是要探索密蘇里河(Missouri River)和它主要的支流，因為透過其水道與它和太平洋水域之間的水運交通，可以提供這一大陸上最直接和可行的水運方式，為了商業的目的……

— 湯瑪斯·傑佛遜(Thomas Jefferson)總統，給梅里韋瑟·路易斯(Meriwether Lewis)的訓令，1803年6月20日美國國會圖書館湯瑪斯·傑佛遜總統收藏展

文件1b



來源: Joyce Appleby et al., *The American Journey*, Glencoe McGraw-Hill, 2003 (節選)

- 1 根據這些文件，當托馬斯·傑佛遜總統指示梅裡韋瑟·路易斯探索密蘇里河的時候，總統的目的之一是什麼？ [1]

Score

文件2

……除了對那些失去、或是被我們1818年的外交政策危害到的〔受危害〕的國土的收復，俄勒岡〔河〕的開拓者們還將為我們收復和開放**前往印度的北美之路**！這條路位於南部通道〔South Pass〕和俄勒岡河流的開口處；而且一旦殖民建成後，我們所在的這部份北美大陸將立即在這條嶄新的國家級通道上展開對亞洲的貿易。在許多年前，我曾探索過這一問題，只是現在才指出是為了給等待著的俄勒岡谷地人們瞥見光明的未來。

二十二年前，門羅(Monroe)總統在給國會參眾兩院的一項咨文中聲稱這個原理對美國政策來講是主要的，北美的任何一部份都不接受歐洲的殖民、權勢、干涉或是任何影響〔門羅主義〕(Monroe Doctrine)。這一宣言也論及英國和俄勒岡〔地區〕，並在所有美國人的心中引起共鳴。時間並沒有削弱這種共鳴，反而加強了它；而且如果任何歐洲大國想發展有關德克薩斯州的藍圖，那種共鳴也會再次響起……

— 來源： Senator Thomas Hart Benton, Speech to the Senate on the Oregon Territory, June 3, 1844, *Congressional Globe*, 28th Congress, 1st Session

2a 根據這一文件，美國從控制俄勒岡中將會如何收益？[1]

Score

b 根據本頓參議員〔Senator Benton〕，門羅主義〔Monroe Doctrine〕的哪一特徵可用來保護美國在俄勒岡領地的國家利益？[1]

Score

文件3a

“在我們去里約格蘭德河的路上”

墨西哥人在我們的土地上
他們希望我們捲入戰爭
他們施展渾身解數來挑釁〔焦慮〕我們
在德克薩斯謀殺我們的勇士
我們正在往里約格蘭德河的路上
我們正在往里約格蘭德河的路上
備足了武器〔槍〕、他們會發現我們準備好了……

來源：George Washington Dixon, 1846 song about the Mexican War; Erik Bruun and Jay Crosby, eds. *Our Nation's Archive*, Black Dog & Leventhal Publishers, 1999

文件3b

在墨西哥戰爭之前，波爾克(Polk)總統派遣美國談判者約翰·斯萊德爾(John Slidell)，去墨西哥提出解決兩個國家的爭端的辦法。

……而且再一次地，在他〔波爾克總統〕的1847年12月的咨文中說，“墨西哥政府甚至拒絕聽取他〔我們的和平使者〕授權提出的調停條款，而且最後，憑著完全不正當的托辭〔理由〕，入侵德克薩斯州的領土、打出頭砲、令我們的公民血灑**自己的土地**，將兩個國家扯進了戰爭：”

而且儘管本院〔眾議院〕渴望得到有關所有事實的完整情報，這些事實將可證明是否當時那個我們的公民血灑上的某一個特定地點是我們**自己的土地**：……

來源：Abraham Lincoln, “Spot” Resolutions in the House of Representatives, December 22, 1847; *Congressional Globe*, 30th Congress, 1st Session

3 根據這些文件，里約格蘭德河在墨西哥戰爭當什麼角色？[1]

Score

文件4

我在這封信中提出這樣的考慮於我來說是切實〔適切〕而可行的，這些考慮支持盡快地建設一條鐵路，將我們東部鐵路網絡中的某個地點和太平洋的水路相連……

6. 我們已花費好幾百萬美元來修築設防，而且仍舊急須花費更多的金錢。尤其是在太平洋地區，建立這些要塞的需求更是急切。對於這種需求究竟有多快、或是這種需求究竟會發展至何種程度，以及應如何回應這樣的需求，我並不作出決定；但我確實地說，一條太平洋鐵路可把山區的槍手在3天內運至太平洋地區、密蘇里的槍手在10天內運抵，因此它比起許多曾花費巨大無比而價格昂貴的設防而言，將給舊金山帶來更大的安全……

但此首旨〔話題〕已足夠。

一條太平洋鐵路帶來的社會、道德和智力的恩惠幾乎不可能在一篇文章的局限中窺見一斑。但我現在僅僅是提出來，就已經足夠。

1. 我們的郵件現在通過汽船運抵加利福尼亞、或從那裡運來，經過巴拿馬運河需要二十至三十天，每隔十四天一班。信件從大西洋沿岸各州的寫信者手上運至太平洋地區的收信者，平均時間超過三十天。如果有一條太平洋鐵路，時間將縮短至十天；對於那些在伊利諾州或是密西根州寫的信，寄達加州採礦各郡收信地點的時間，將比從紐約或是費城寄達舊金山的信還要快。如果有每日的郵件鐵路從各個大西洋沿岸城市往返於加利福尼亞的信件，信件和印刷物的運輸量、還有因此產生的郵資，幾乎不可能不迅速增加四倍……

來源：Horace Greeley, *An Overland Journey from New York to San Francisco, in The Summer of 1859*, C. M. Saxton, Barker & Co., 1860

4 根據這份文件，說明一條通往太平洋地區的鐵路有助於克服地理距離障礙的**兩種**方式。[2]

(1) _____

Score

(2) _____

Score

文件5

……參議員和其他人也已逐漸了解到，國務卿斯圖爾特提出的應該獲取的偉大領土[阿拉斯加]，它具有都比反對獲取這一領土的人剛開始時所認知的許多的極高價值、相對性和本質性。我們並不特別重視某個杰出的官員的論點，即我們國家的“美德”將經過獲取屬於俄羅斯人的那部份美洲而得到強化，我們也不鼓勵其他許多冒出的任何觀點。但當有人使得**煤層**看似“西卡崎嶇的田地相接壤”，而且當羅傑斯艦隊司令官提及這個海岸，**木材**的生長，對於像太平洋海岸地這樣光禿的地區特別的寶貴，而且當高層官員告訴我們，**漁業**所帶來的財富不可低估，正如同它現在對紐芬蘭的重要性，將可能也對我們下一代一樣重要；而且當一家波士頓的報紙再提醒我們麻薩諸塞州對北太平洋和巴林海峽偉大捕**鯨**業深感興趣的時候，我們就會注意到一些事情，而且這些事在這裡就會像是在太平洋沿岸一樣容易令人欣賞。而且除了所有這些考慮之外，我們還被提醒說，在和中國和日本的開放貿易之中——我們期望看到這一貿易在二十五年中發展到相當大的規模——已提出的割讓領土中的阿留申群島，幾乎可以用作一個中間站——經過遙遠的北方，繞上一個大圈、順應著洋流連接兩個大陸的通道；而且我們可以在這些群島配備在那部份海洋堪稱最威風的軍港——不管怎樣，這一問題與大陸間的關係有關，這點必須為所有各方承認。我們不會懷疑，參議員們在過去一週內，已經適當地權衡了類似的這些觀點；而且在他們投票通過該條約時，這些觀點不會對他們的投票不起作用……

來源：“The Russian Treaty Before the Senate”, *The New York Times*, April 8, 1867 (節選)

5 根據這一歷史文件，說明兼並阿拉斯加的**兩個**地理上的益處 [2]

(1) _____

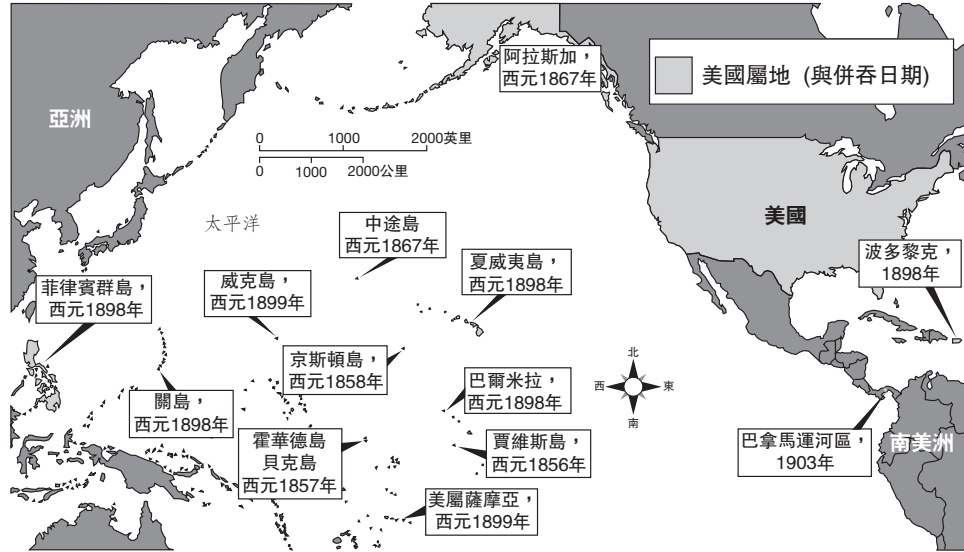
Score

(2) _____

Score

文件6

美國的擴展，1857年至1903年



來源: Briggs and Fish-Petersen, *Brief Review in United States History and Government* Prentice Hall, 2001 (節選)

6 根據這張地圖，這些屬地的位置如何提升或保護美國利益？ [1]

Score

文件7

…… 在過去，我們當中的許多人對國外的事件視而不見——因為出於完全善意的信念，他們相信了他們的美國同伴所說的，即正在歐洲發生的事不是我們的事；而且不管在那裡發生了什麼，美國總是可以在世界上繼續追求它的和平和特有的事業。

出於缺乏興趣或是知識，我們當中的許多人曾閉上眼睛，誠實而真誠地認為，無數個成百上千英里的鹽水令美洲半球如此之遙遠，以至於北美、中美和南美的人們可以在他們所擁有的巨大資源之中繼續生活，不用提及世界上其他的洲，也沒有任何來自這些洲的威脅。

我們當中有一些人被少數人說服，從而認為，我們只要退縮在我們大陸的邊界之內——東部到大西洋、西部到太平洋，北部到加拿大、南部到墨西哥——就能保持身體上的安全。在上週我給國會的咨文中，我也已闡述這一思想的徒勞性——無可能性。顯然，據此形成的防禦政策只能招致未來的攻擊……

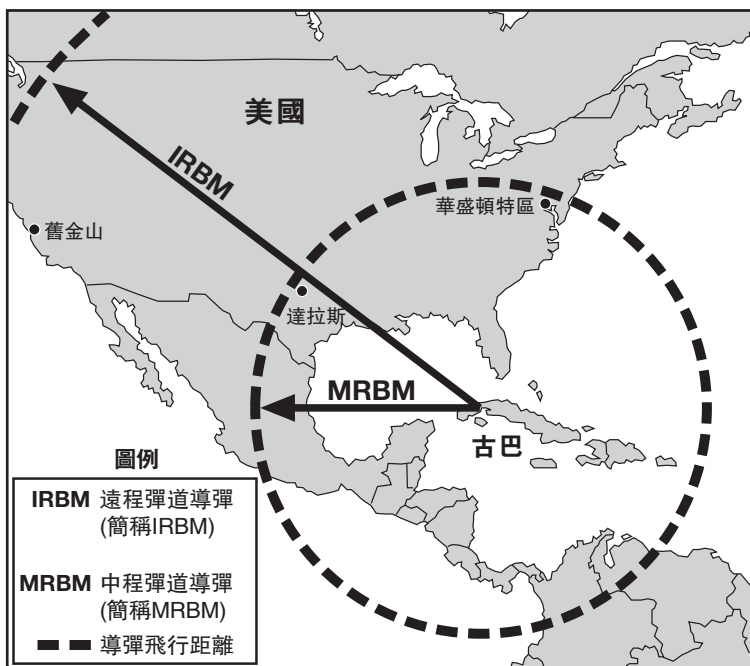
— President Franklin D. Roosevelt,
Radio Address “On National Defense”, May 26, 1940; FDR Library.

7 根據這份文件，為什麼一些人認為美國不會受到外國的威脅？ [1]

Score

文件8

古巴的攻擊性導彈的飛行距離



來源: James H. Hansen, "Soviet Deception in the Cuban Missile Crisis," *Studies in Intelligence: Journal of the American Intelligence Professional* 2002 (節選)

8 根據這張地圖，古巴導彈危機中地理引所起的作用是什麼？ [1]

Score

文件9

美國在波斯灣的利益對國家安全至關重要。這些利益包括接近石油, 以及這一地區關鍵的友好國家的安全和穩定。如果有必要且是適當的, 美國將通過使用軍隊保護在這一地區的主要利益, 來反對跟我們的利益敵對的〔不友好的〕任何政權。美國也將在這一地區, 支持友好國家的個人和集體的自衛, 以使他們在自我防衛中起到更為積極的作用。為了促進我們在波斯灣的共同利益, 美國將鼓勵盟國和其他友好國家有效地表示支持並參與其中.....

來源： National Security Directive 45, “U.S. Policy in Response to the Iraqi Invasion of Kuwait,”
08/20/1990, George H. W. Bush Library

9 根據這份文件, 說明地理對美國國家利益在波斯灣施加影響的**一種**方式。 [1]

Score

B部份 申論題

答題說明: 寫一篇條理分明的短文，包括一段引言、幾個段落和一個結論。在短文中應使用**至少五份**文件的例證。用相關事實、例子和細節來支持你的論點。請包含其它補充資訊。

歷史背景:

在19世紀和20世紀，地理影響了許多美國所採取的擴張領土或保護國家利益的行動。

任務: 根據文件所示資訊和你的美國歷史知識寫一篇短文。在短文中，你必須

- 討論在19世紀和20世紀期間，地理怎麼影響了領土擴張**和/或**保護美國國家利益的行動

指南:

在短文中，請務必

- 完成任務的各個方面
- 併入**至少五份**文件的資訊
- 併入相關外來的資訊
- 用相關事實、例子和細節支持主題
- 使用邏輯清楚、條理分明的結構，請包括一段引言和一個結論，但不要簡單地重複主題

美國歷史和政府

僅限用於2006年1月26日(星期四)上午9時15分至下午12時15分

答題紙

學生..... 性別: 男 女

教師.....

學校.....

第I部份的考題答案則應寫在本答題紙上。把第IIIA部份的答案寫在考題本上,並把第II部份和把第IIIB部份的答案寫在另外的申論題考題本內。

1.....	26.....
2.....	27.....
3.....	28.....
4.....	29.....
5.....	30.....
6.....	31.....
7.....	32.....
8.....	33.....
9.....	34.....
10.....	35.....
11.....	36.....
12.....	37.....
13.....	38.....
14.....	39.....
15.....	40.....
16.....	41.....
17.....	42.....
18.....	43.....
19.....	44.....
20.....	45.....
21.....	46.....
22.....	47.....
23.....	48.....
24.....	49.....
25.....	50.....

FOR TEACHER USE ONLY	
Part I Score	_____
Part III A Score	_____
Total Part I and III A Score	<input style="width: 80px; height: 25px;" type="text"/>
Part II Essay Score	_____
Part III B Essay Score	_____
Total Essay Score	<input style="width: 80px; height: 25px;" type="text"/>
Final Score (obtained from conversion chart)	<input style="width: 80px; height: 25px;" type="text"/>

No. Right

當你考試完畢之後,必須在以下聲明的下方簽名。

本人在此考試結束之際特此聲明,本人在此次考試之前未非法獲得考題內容及答案,並且在考試中,既未向任何人提供幫助亦未從任何人處得到幫助。

簽名

沿此虛線撕下

沿此虛線撕下

