

ফিজিকাল সেটিং  
ভূ-বিজ্ঞান  
v202

উত্তর পুস্তিকা

শিক্ষার্থী .....

শিক্ষক .....

স্কুল ..... গ্রেড .....

অংশ B-2 এবং অংশ C এর প্রশ্নগুলোর জন্য আপনার উত্তর এই পুস্তিকাটিতে লিপিবদ্ধ করুন।

অংশ B-2

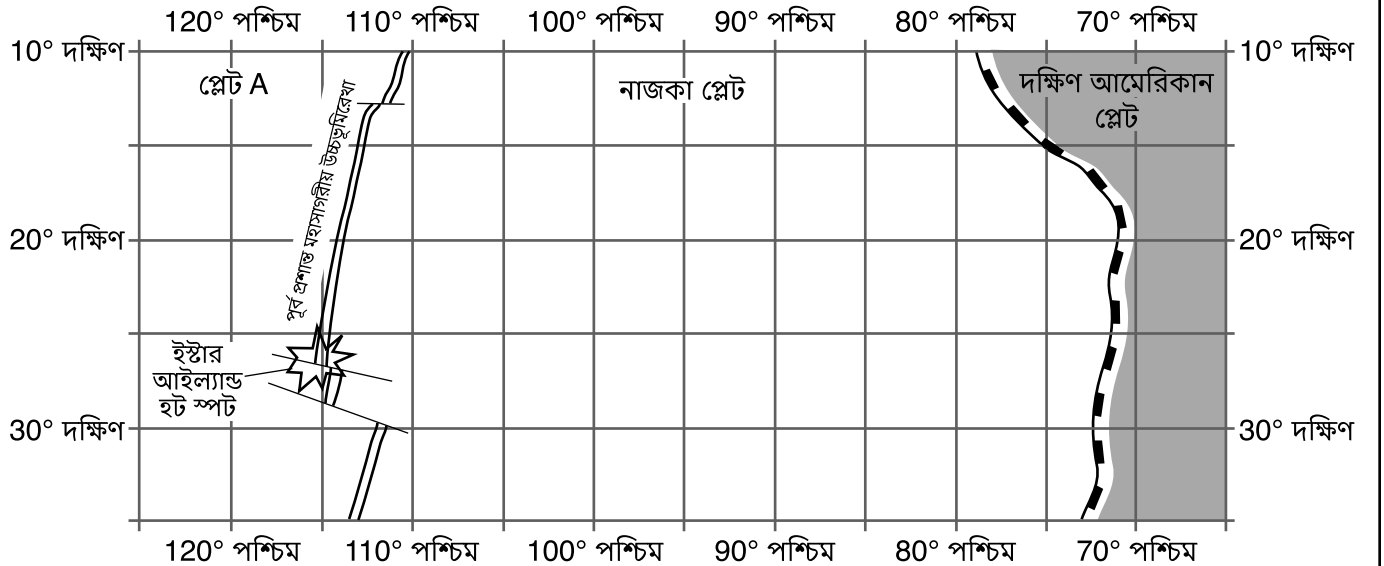
51 \_\_\_\_\_ যুগ

52 \_\_\_\_\_

53 \_\_\_\_\_

54 \_\_\_\_\_

দক্ষিণপূর্ব প্রশান্ত মহাসাগর



55 \_\_\_\_\_ প্লেট

56 \_\_\_\_\_  
\_\_\_\_\_


57 \_\_\_\_\_ J/g

58 B: \_\_\_\_\_ এবং C: \_\_\_\_\_

59 \_\_\_\_\_

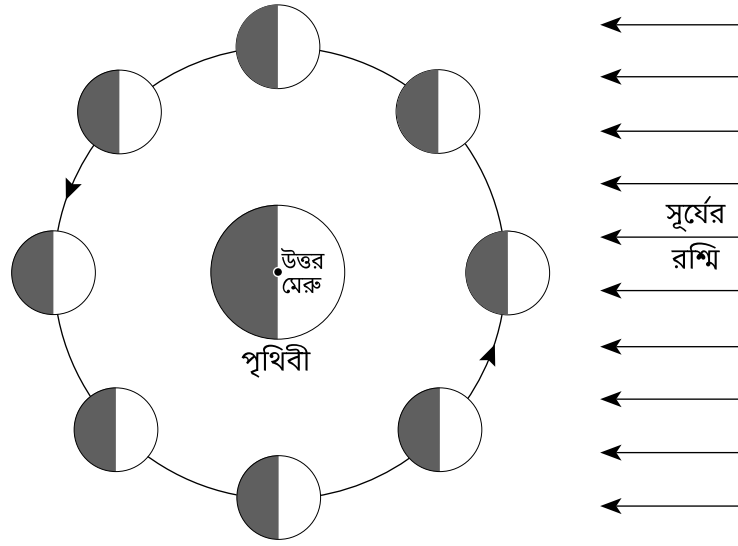
60 \_\_\_\_\_ পারদের ইঞ্চি

61



62 \_\_\_\_\_

63-64

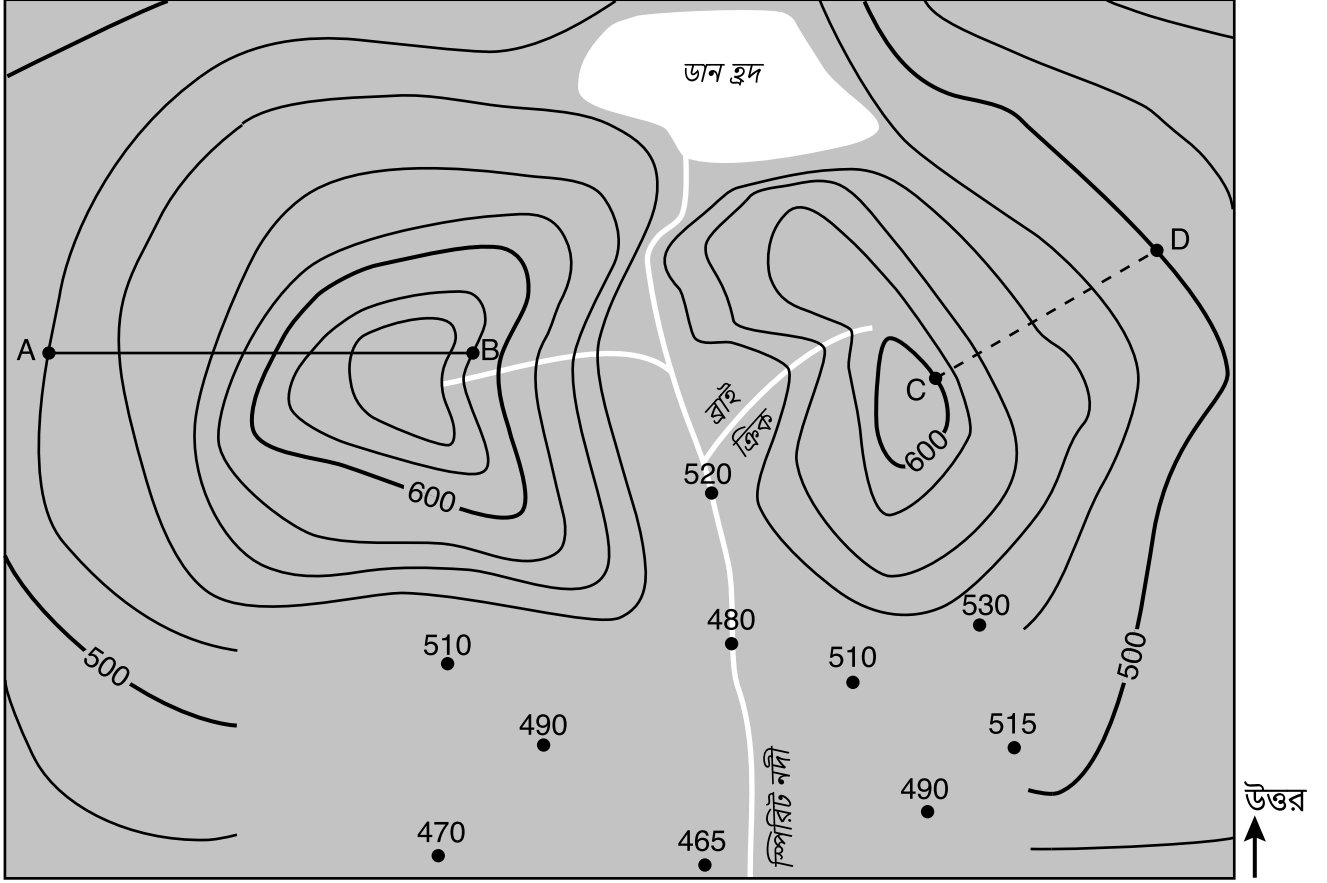


(আনুপাতিক মাপে আঁকা নয়)

65 ফেব্রুয়ারি \_\_\_\_\_, 2019

অংশ C


66



0 1 2 3 4 5 6 7 8 কিলোমিটার

সম্মুখিতা বিরতি = 20 মিটার

67



68 \_\_\_\_\_ মি/কিমি

69 \_\_\_\_\_

\_\_\_\_\_

70 \_\_\_\_\_

71 চাপের পরিবর্তন: \_\_\_\_\_

তাপের পরিবর্তন: \_\_\_\_\_

72 \_\_\_\_\_

\_\_\_\_\_

73 \_\_\_\_\_

74 \_\_\_\_\_

75 \_\_\_\_\_ এবং \_\_\_\_\_

76 \_\_\_\_\_

77 \_\_\_\_\_

78 \_\_\_\_\_

79 \_\_\_\_\_

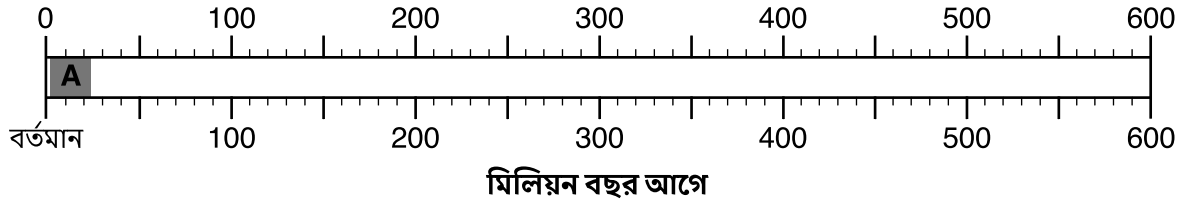
80 ক্যালগারিতে বৃষ্টিপাতের ধরন: \_\_\_\_\_

মন্টেরেতে বৃষ্টিপাতের ধরন: \_\_\_\_\_

81 \_\_\_\_\_

82 \_\_\_\_\_

83



84 \_\_\_\_\_

85 সবচেয়ে নবীন: \_\_\_\_\_



\_\_\_\_\_

\_\_\_\_\_

সবচেয়ে প্রাচীন: \_\_\_\_\_

