

物理環境 地球科學

僅限用於 2018 年 1 月 25 日（星期四）上午 9 時 15 分至下午 12 時 15 分

答題本

學生.....

教師.....

學校..... 年級.....

請在本答題本中填寫 B-2 部分和 C 部分的答案。

B-2 部分

51 _____

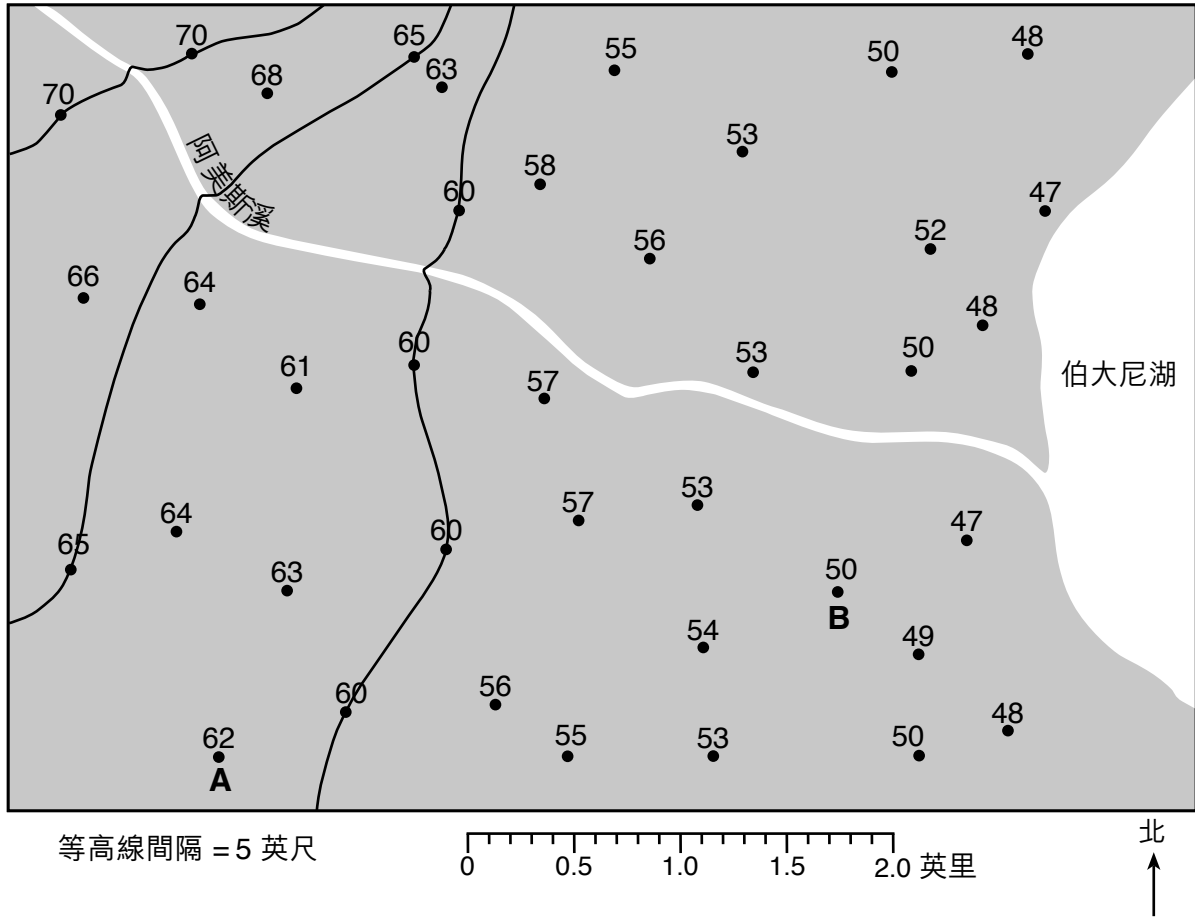
52 _____

53 星球 C 的相對時間：_____

解釋：_____

54 _____

55 _____

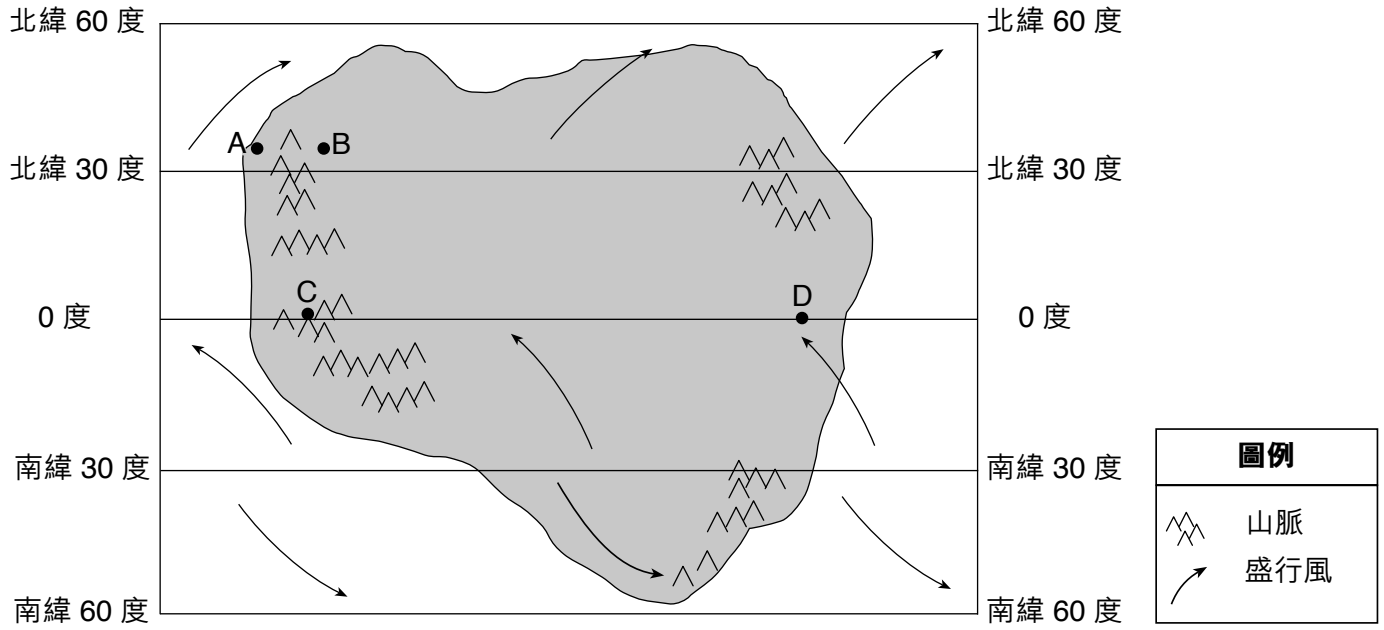


57 _____ 英尺/英里

58 羅盤方向： _____

證據： _____

59



60 B 點的相對平均氣溫： _____

B 點的相對平均濕度條件： _____

61 _____

62 _____

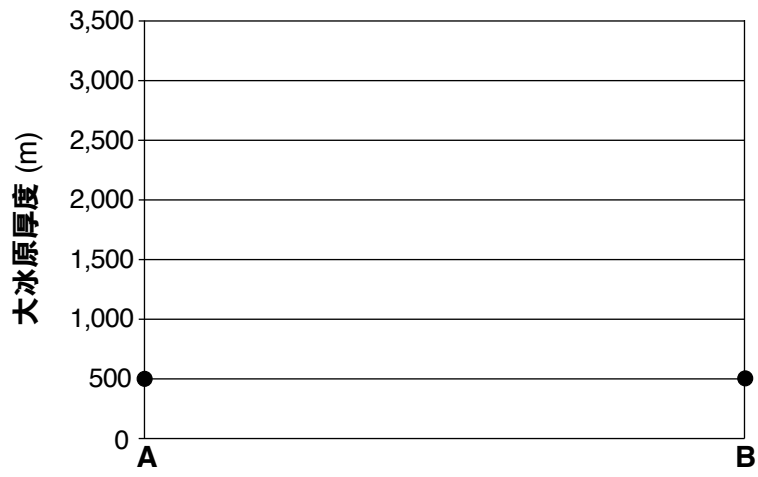
63 _____ 小時

64 _____

65 _____ °

C 部分

66

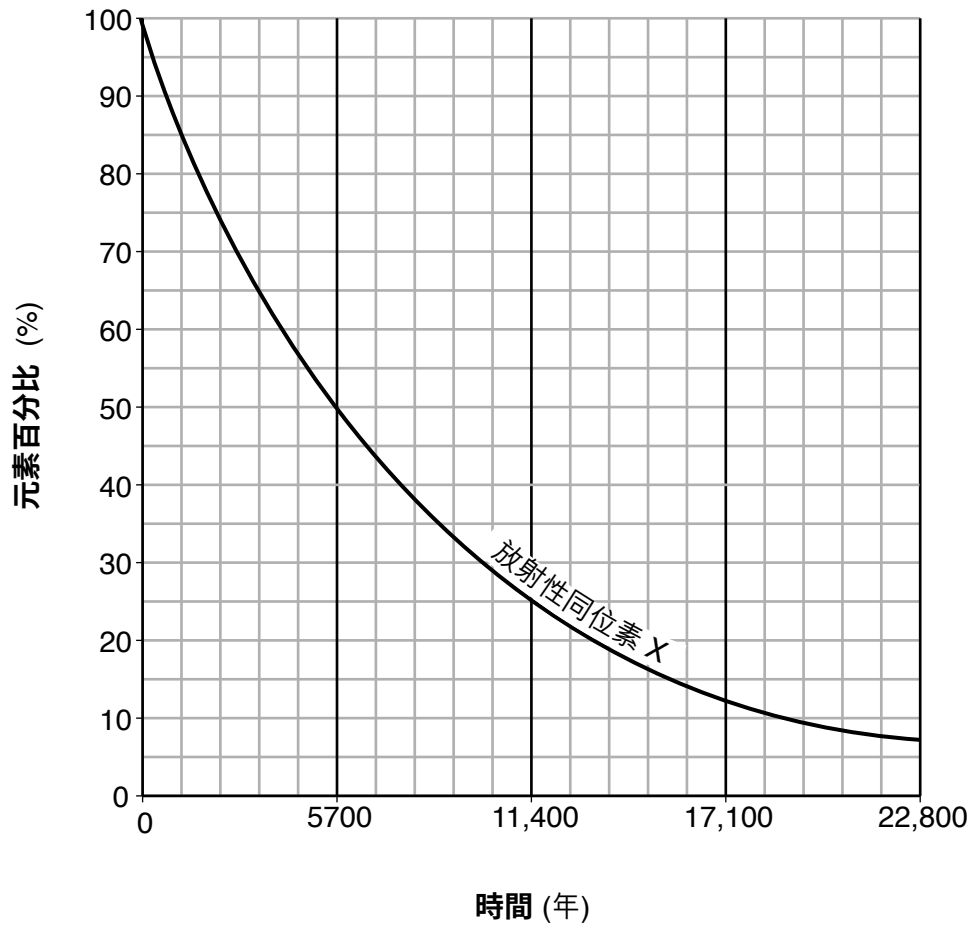


67 _____

68 _____

與 _____

X 的放射性衰變

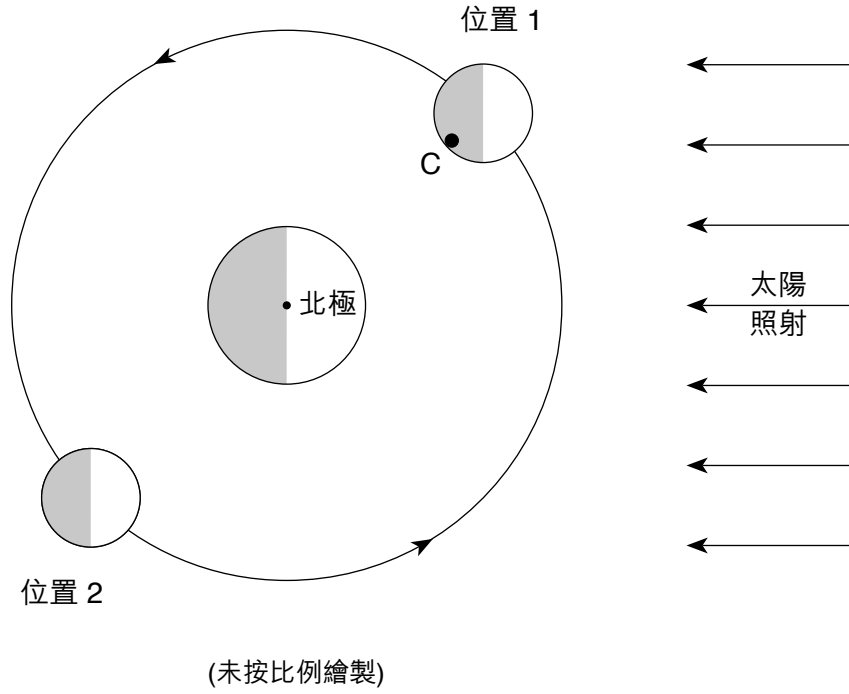


70 _____ 年

71 放射性同位素 X : _____


穩定衰變產物 : _____

72-73



74 _____ 天

75



76

喬治亞州亞特蘭大	
天氣變數	實際數值
氣溫	°F
氣壓	毫巴
風速	節
風向	吹自

77 _____ 鋒面

78 _____

79 地點 A : _____ 板塊

地點 B : _____ 板塊

80 地點 D 的相對年齡 : _____

解釋 : _____

81 巨大海浪名稱 : _____

緊急行動 : _____

82

字母	缺少的資訊
A	
B	
C	
D	

83 _____ 與 _____

84 _____

85 _____

