

ФИЗИЧЕСКИЕ ХАРАКТЕРИСТИКИ ЕСТЕСТВОЗНАНИЕ

v202

БУКЛЕТ ДЛЯ ОТВЕТОВ

Учащийся.....

Преподаватель.....

Школа..... Класс.....

Запишите в этом буклете свои ответы на вопросы части В-2 и части С.

Часть В-2

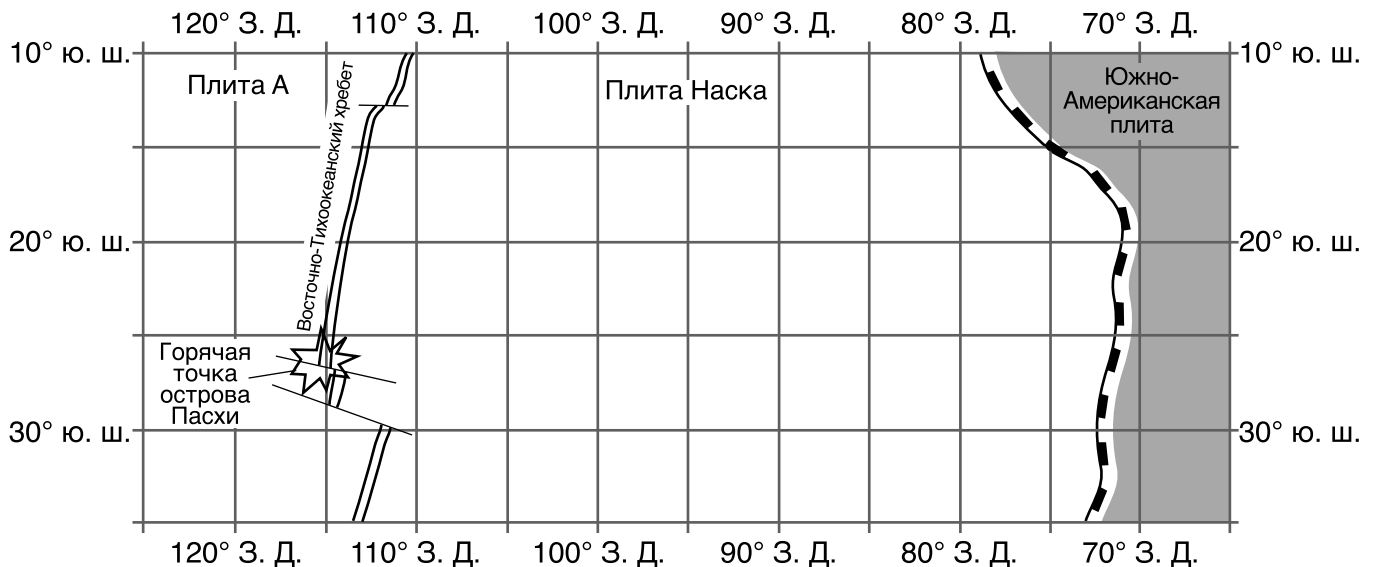
51 _____ эпоха

52 _____

53 _____

54 _____

Юго-Восточная часть Тихого океана



55 _____ **плита**

56 _____


57 _____ **Дж/г**

58 *B*: _____ и *C*: _____

59 _____

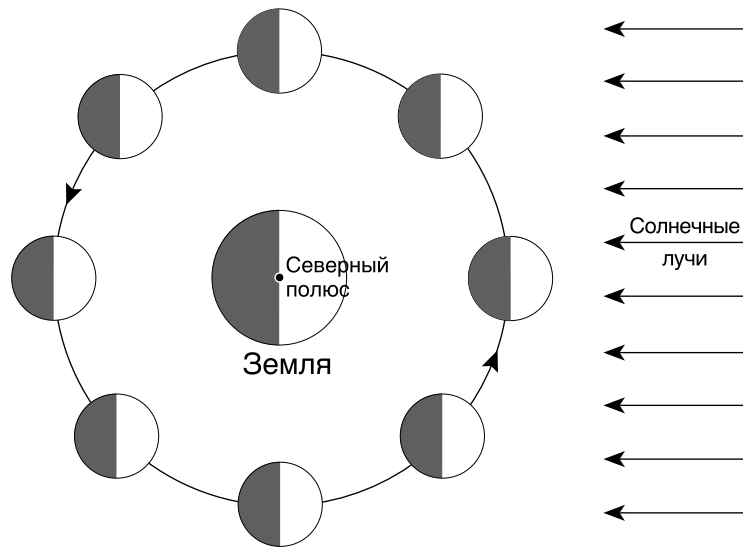
60 _____ **мм рт. ст.**

61



62 _____

63-64

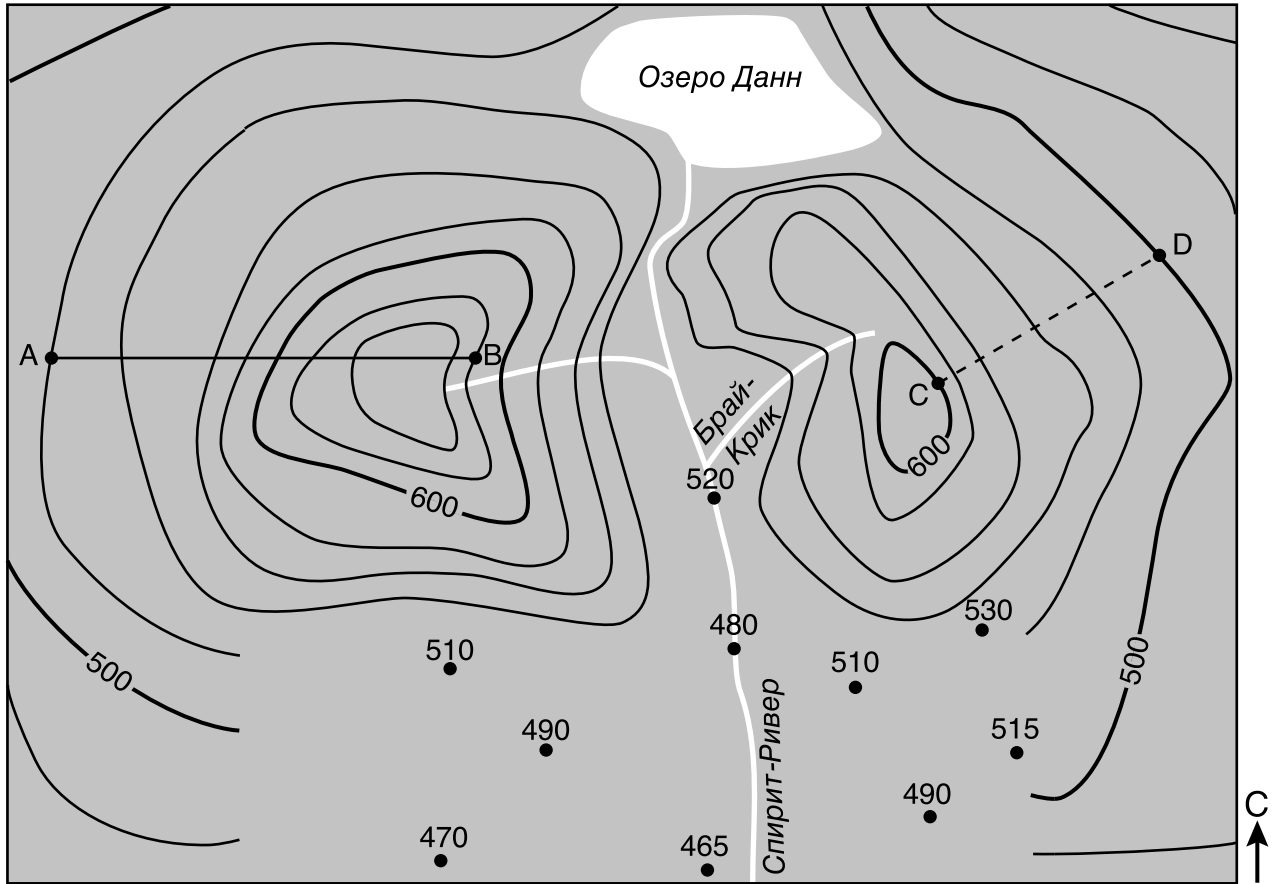


(Без учета масштаба)

65 _____ февраля 2019 г.

Часть С


66



0 1 2 3 4 5 6 7 8 километры

Перепад между изолиниями = 20 м

67



68 _____ м/км

69 _____

70 _____

71 Изменение давления: _____

Изменение температуры: _____

72 _____

73 _____

74 _____

75 _____ и _____

76 _____

77 _____

78 _____

79 _____

80 Тип осадков в Калгари: _____

Тип осадков в Монтеррее: _____

81 _____

82 _____

83



84 _____

85 Самые молодые: _____



Самые старые: _____

