

ФИЗИЧЕСКИЕ ХАРАКТЕРИСТИКИ ЕСТЕСТВОЗНАНИЕ

Четверг, 14 июня 2018 г. — Время строго ограничено с 9:15 до 12:15

БУКЛЕТ ДЛЯ ОТВЕТОВ

Учащийся

Преподаватель

Школа Класс

Запишите в этом буклете свои ответы на вопросы части В–2 и части С.

Часть В–2

51 _____ и _____

52 Блеск: _____

Твердость: _____

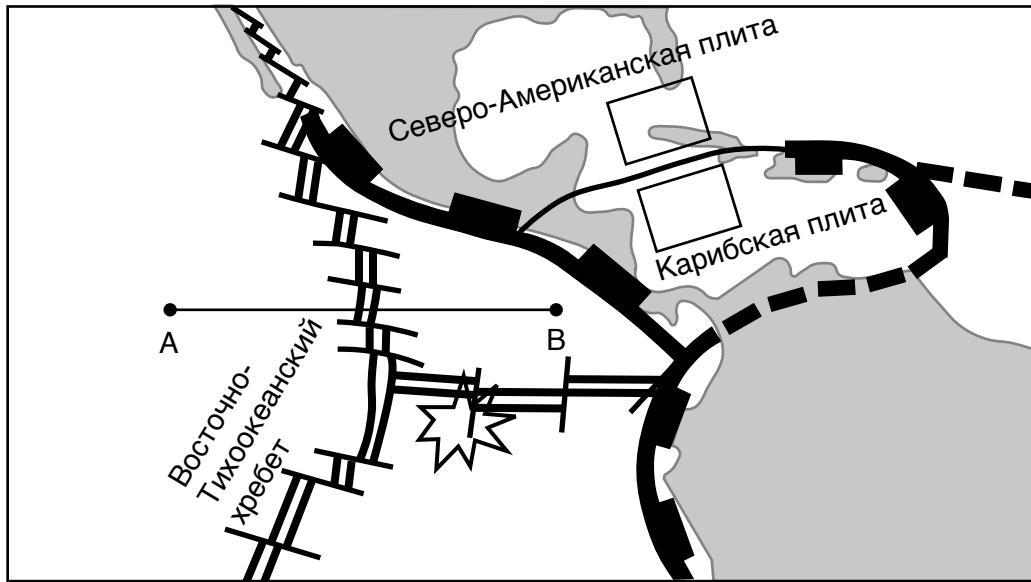
Преобладающая форма разлома: _____

53 _____

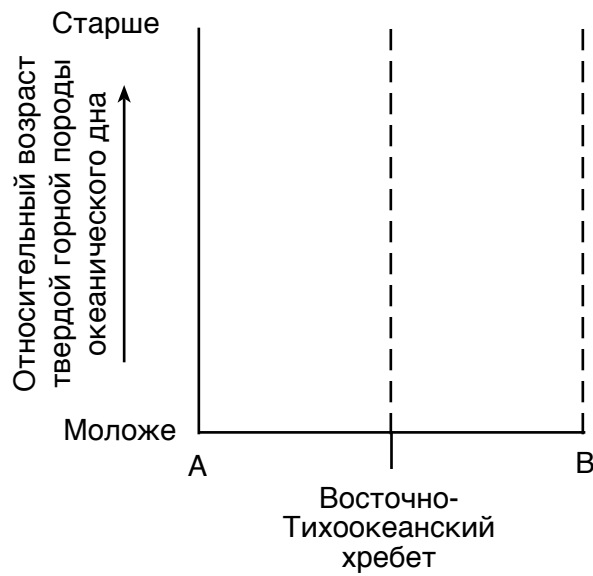
54 Окружающая среда на момент формирования: _____

Относительная скорость охлаждения: _____

59



60



61 _____ Горячая зона

_____ Плита

62 Тип твердой горной породы: _____

Плотность: _____ г/см³

63 _____

64 _____ см/с

65 _____

Часть С

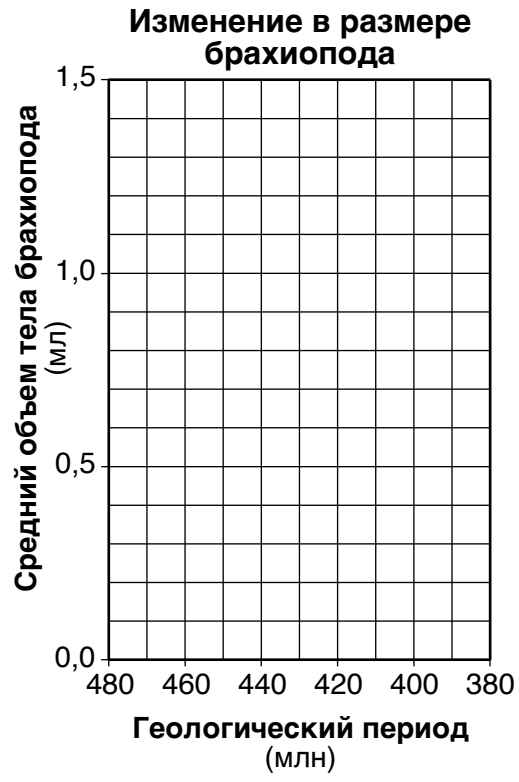
66 _____

67

Олбани, штат Нью-Йорк

Погодная переменная	Погодные данные
Точка росы	°F
Облачность	%
Фактическое атмосферное давление	мбар

68 _____

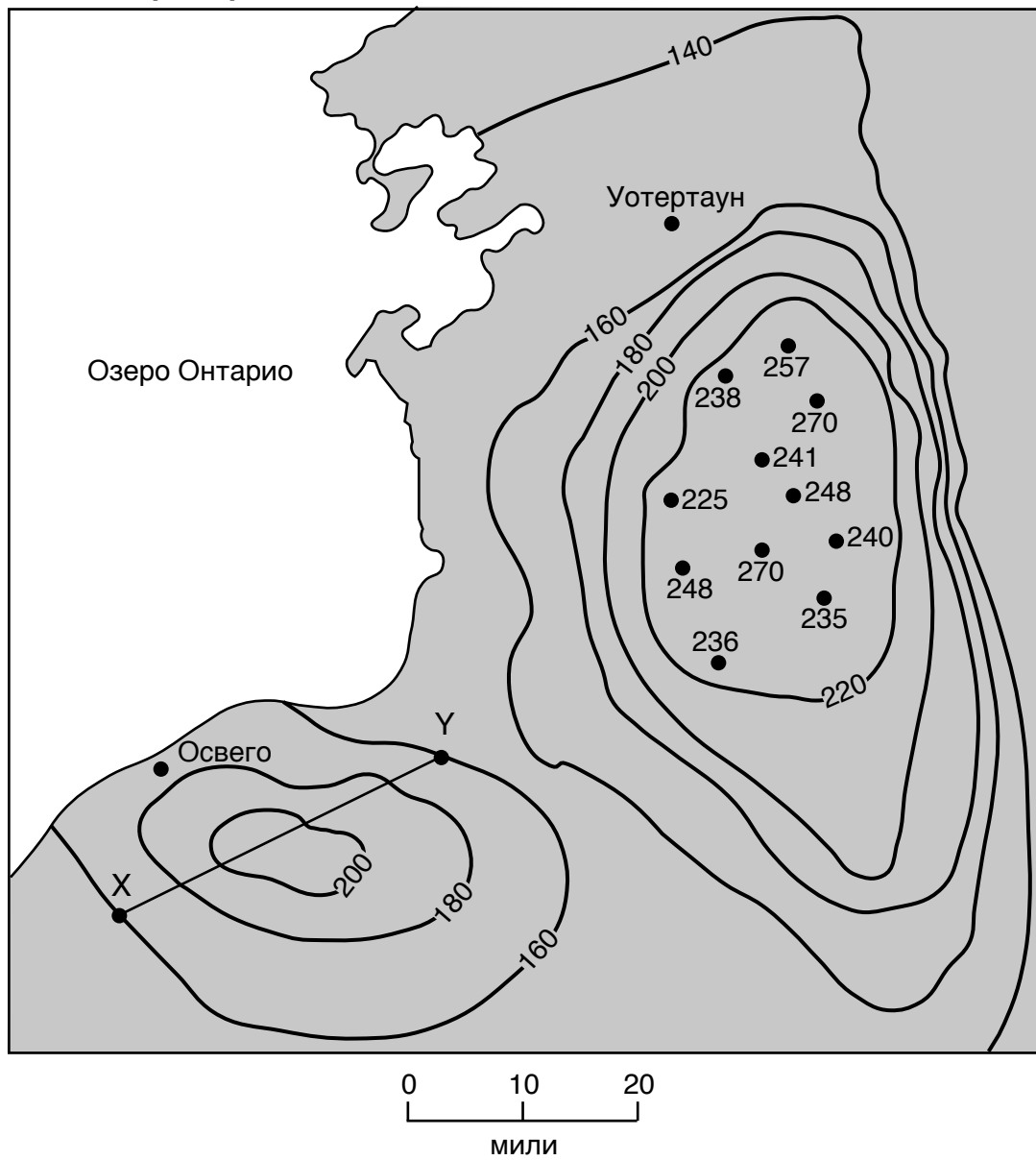


70 _____ Период и _____ Период

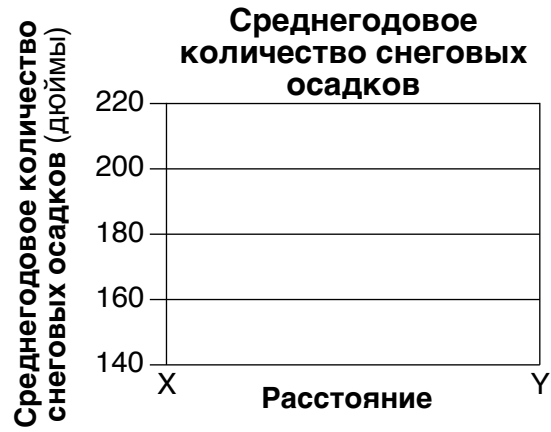
71 _____ и _____

72 _____

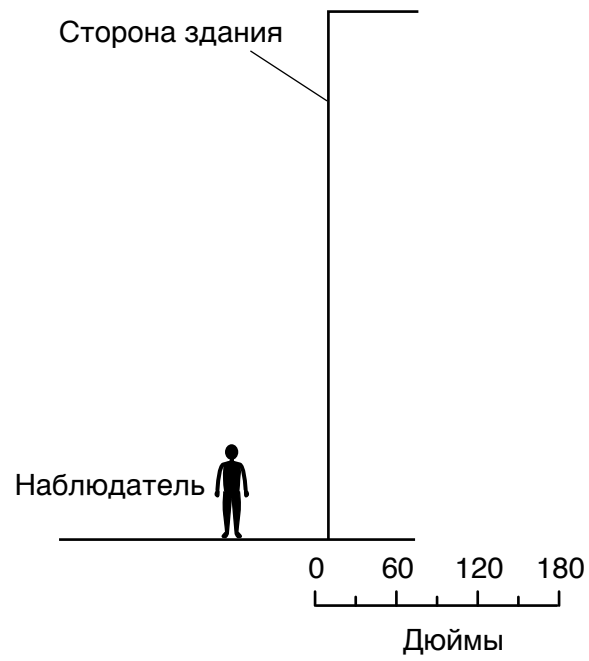
Карта среднегодового количества снеговых осадков



74



75



76 _____

77 _____

78 Излучаемая электромагнитная энергия: _____

Относительная длина волны (обведите кружком одну): короче длиннее одинаковая

79 _____

80 _____

81 Название планеты: _____

Объяснение: _____

82 _____ и _____

Объяснение: _____

83 _____

84 _____ → _____ → _____ → _____

Самая ранняя стадия

_____ → _____

Самая поздняя стадия

85 _____ эпоха