

# 8年級

## 中等程度測驗 社會科學

### 第一卷 選擇題和問答題

2004年6月2-3日

姓名 \_\_\_\_\_

學校 \_\_\_\_\_

請用工整字跡在以上畫線部份填寫你的姓名和學校名稱。

本測驗包含三部份。本卷包含第一部份和第二部份；第二卷包含第三部份。

**第一部份**包括45道多重選擇題。請在另外的答案卷上標出答案。在答案卷上僅限使用2號鉛筆。

**第二部份**包含幾道簡答題。請把第二部份的答案寫在本卷中。

第一卷的答題時間為一個半小時。

**在接到指令前請勿打開本考卷。**

Copyright 2004  
THE UNIVERSITY OF THE STATE OF NEW YORK  
THE STATE EDUCATION DEPARTMENT  
ALBANY, NEW YORK 12234



## 第一部份

### 答題說明

第一部分考試共有**45**道考題。每道考題有四個答案供選擇，分別標為**1**至**4**。請仔細閱讀考題，選出一個正確的答案。然後在另外分開的答卷紙上，根據你選擇的答案號碼把該考題下豎列的相應答案圓圈塗黑。在答卷紙上請使用鉛筆。

請閱讀以下例題：

#### 例題

哪一個城市是美國的首都？

- (1) 波士頓(Boston)
- (2) 哥倫比亞特區華盛頓市(Washington, D.C.)
- (3) 紐約市(New York City)
- (4) 費城(Philadelphia)

正確的回答是**哥倫比亞特區華盛頓市(Washington, D.C.)**，答案號碼為**2**。在答卷紙上，你可看到方框內示範考題下豎列的答案圓圈。由於示範考題的正確答案為**2**，所以**2**號圓圈已被塗黑。

請以同樣的方式回答第一部份的所有問題。每道題只能塗黑一個圓圈。如果需要更改，請用橡皮擦把原來填寫的答案擦乾淨。你也許不知道某些問題的正確答案，但請盡力回答每一道題。


第一部份結束後，請繼續做第二部份。

## 第一部份

### 請回答本部份的所有問題

答題說明(1-45)：在另外的答案紙上，根據每一題的陳述或問題，填入代表最適當答案的編號。

請根據下圖和你的社會學知識回答第1題。



資料來源：F. Daniel Larkin 等著，《紐約的過去和現在》(New York Yesterday and Today)，Silver Burdett and Ginn 出版（經改編）

1 圖中所示的美國原住民印地安人(Native American Indians)生活在北美洲的哪個地區？

- (1) 西南部沙漠地區
- (2) 東部森林地區
- (3) 中部大平原(Great Plains)
- (4) 海灣沿岸地區(Gulf Coast)

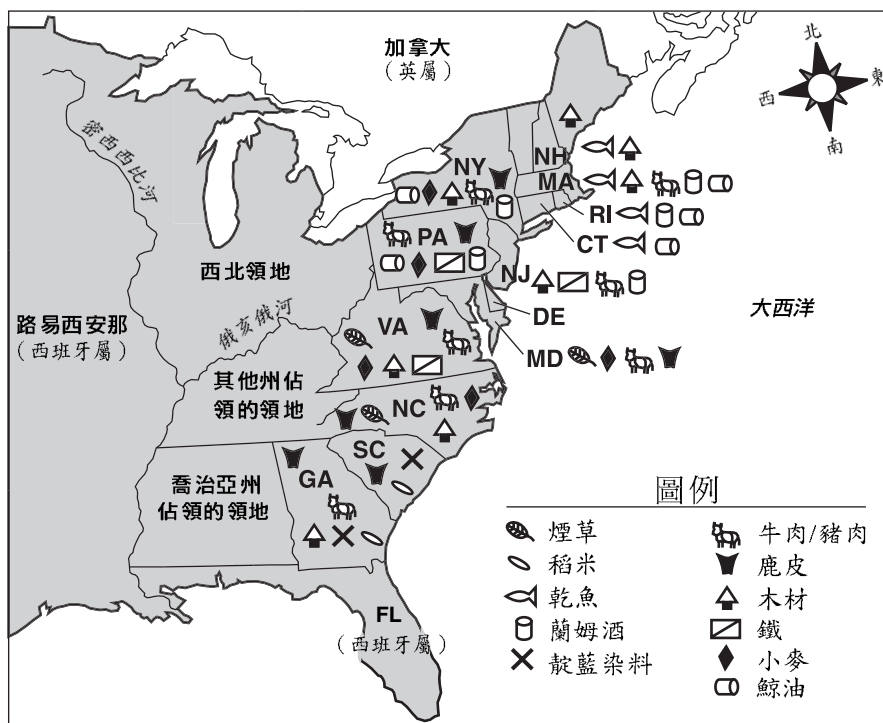
2 到達新世界(New World)的早期歐洲探險家曾經尋找一條西北通道，這是為了

- (1) 證明世界是圓形的
- (2) 改進與美國原住民印地安人之間的貿易
- (3) 探索大湖區(Great Lakes)
- (4) 尋找通向亞洲更近的路線

3 什麼是美國原住民印地安人與西班牙探險者接觸之後發生死亡的主要原因？

- (1) 遷移
- (2) 奴隸制
- (3) 疾病
- (4) 饑餓

請依據下面的地圖及你的社會學知識回答第4題和第5題。



資料來源：Alice Hanson Jones，《未來國家的財富》(Wealth of a Nation to Be)，哥倫比亞大學出版社（經改編）

- 4 木材、乾魚和蘭姆酒是下列哪些地區的主要產品？
- (1) 新英格蘭(New England)各州
  - (2) 大西洋沿岸中部各州
  - (3) 南方各州
  - (4) 西北領地(Northwest Territory)
- 5 下列哪兩項之間的差別是造成美國不同地區產品多樣性的主要原因？
- (1) 家庭結構與教育
  - (2) 地理與氣候
  - (3) 政治與社會制度
  - (4) 原國籍與文化

6 經濟學研究著重於

- (1) 各種產品和服務的生產、銷售與消費
- (2) 地球及其與我們所在的環境之間的關係
- (3) 不同的政府種類及其運作方式
- (4) 不同族裔過去的文化

7 關於人類最早向美洲遷移的最廣為接受的理論是人們

- (1) 跨越挪威到加拿大北部的極地冰帽 (polar ice cap)
- (2) 步行跨越亞洲到阿拉斯加的陸橋 (land bridge)
- (3) 使用航海船舶從非洲航行到中美洲
- (4) 用筏舟和小船從太平洋各海島來到南美洲

請根據下圖及你的社會學知識回答第8題。



資料來源：Benjamin Franklin，賓夕凡尼亞報(*The Pennsylvania Gazette*)，1754年5月9日(經改編)

8 下列哪項陳述最準確地表達了這幅1750年代漫畫的中心思想？

- (1) 不合併的殖民地是不忠誠的。
- (2) 殖民地除非合併，否則就不能生存。
- (3) 每個殖民地應保持獨立。
- (4) 任何不願意合併的殖民地將受到攻擊。

9 為什麼大多數殖民地時期的農民在靠近海洋或海岸水路的地方定居？

- (1) 居住在這些地區的美國原住民印地安人更少。
- (2) 當地政府付錢給農民這樣做。
- (3) 砍伐樹木和搬移石頭方面的問題更少。
- (4) 產品的運輸更加容易。

10 什麼是直接導致美國革命(American Revolution)的「法國與印地安戰爭」(French and Indian War)的一個結果？

- (1) 英國喪失其在美國的大部分殖民地。
- (2) 法國殖民地擴展到阿帕拉契山脈(Appalachians)以西。
- (3) 美國原住民印地安人被給予阿帕拉契山脈以西的土地。
- (4) 英國決定讓美國殖民者幫助支付戰爭債務。

11 殖民地的存在是為了有利於祖國經濟的信仰被稱為

- (1) 三角貿易
- (2) 重商主義
- (3) 自由貿易
- (4) 本土主義

12 下列哪一份文件是關於美國革命的主要資料來源？

- (1) 重現一次戰役的一卷錄影帶
- (2) 由一位大陸士兵(Continental soldier)撰寫的事件日記
- (3) 一本社會學教科書
- (4) 由一位歷史教師撰寫的已發表的文章

請根據下面發言者A與發言者B之間的辯論及你的社會學知識回答第13題。

### 關於批准《美國憲法》(United States Constitution) 的辯論

發言者A：「我們的自由取決於受保障的個人權利，具有這些權利的公民將能夠做出有益於整個國家的決策。」

發言者B：「我讚賞你的樂觀；但是，只有一群受過良好教育的當選官員才能值得信任，做出有益於全體人民的決策。」

發言者A：「我們決不允許少數具有特權的官員將權力凌駕于普通公民的意志之上。」

發言者B：「一個由當選官員組成的強權中央政府將按照全體公民的最佳利益行使權力。」

發言者A：「恐怕你忽略了人民的需要。必須保證，公民的自由不會遭到一個強權國家政府的踐踏。」

13 在發言者A和發言者B的辯論中，發言者A最有可能同意，國家領導者應該

- (1) 建立君主政體
- (2) 給憲法增加一項權利法案
- (3) 加強聯邦政府的權力
- (4) 將選舉權僅限制於財產擁有者

14 出席1787年制憲會議(Constitutional Convention)的代表起草了一部新憲法，原因是

- (1) 獨立戰爭已經結束
- (2) 《邦聯條例》(Articles of Confederation)即將失效
- (3) 他們希望增加各州的權力
- (4) 他們認為需要一個更強大的中央政府

15 最初十三個殖民地的殖民者大多經歷過歐洲的宗教歧視，這種情況對《美國憲法》的起草者們產生影響，要求

- (1) 政教分離
- (2) 攜帶武器的權力
- (3) 向政府請願的自由
- (4) 免受殘酷和非人道刑罰的自由

16 • 總統任命最高法院的新法官。

- 總統任命的最高法院法官人選必須經過參議院批准。
- 最高法院能夠宣佈國會制定的法律違憲。

以上陳述說明哪項憲法原則？

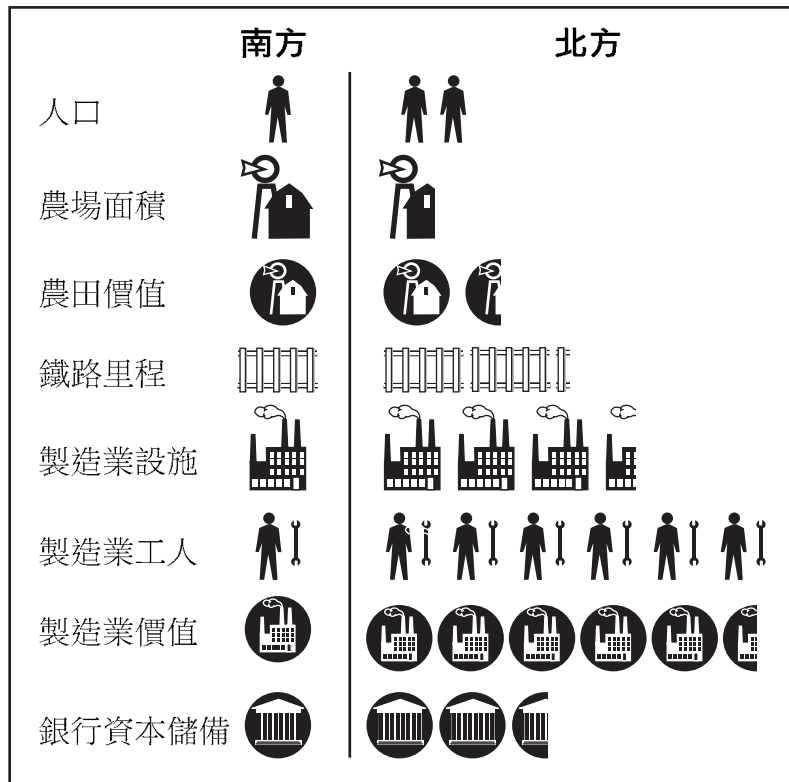
- (1) 靈活原則
- (2) 聯邦主義
- (3) 制衡原則
- (4) 聯邦最高原則

17 伊萊·惠特尼(Eli Whitney)和撒母爾·斯拉特(Samuel Slater)對於早期美國工業革命(Industrial Revolution)十分重要，因為他們

- (1) 開發出新製造方法
- (2) 發明了新的運輸方式
- (3) 建造了以蒸汽為動力的機器
- (4) 改進了鋼鐵生產技術

請根據下面的圖表和你的社會學知識回答第18和19題。

### 1860年：比較



資料來源：Melvin Schwartz 和 John R. O'Connor，  
《探索美國歷史》(Exploring American History)，Globe Book 出版 (經改編)。

18 在南北戰爭爆發之初，南方比北方在哪個方面具有優勢：

- (1) 銀行資本
- (2) 農田價值
- (3) 農場面積
- (4) 鐵路里程

19 本圖表中的資料最明確地支持哪項有關南北戰爭的結論？

- (1) 預計北方將很快贏得戰爭。
- (2) 南方將在持久戰中擁有優勢。
- (3) 南方將擁有規模更大、裝備更精良的作戰部隊。
- (4) 南北雙方的戰爭準備勢均力敵。





22 最高法院在馬伯裡訴麥迪遜案(*Marbury v. Madison*)(1803年)中的決定確立了以下哪項原則？

- (1) 司法審查
- (2) 權力分開
- (3) 人身保護權
- (4) 聯邦法令廢止權

23 安德魯·傑克遜(*Andrew Jackson*)總統的哪項措施造成「血淚小路(*The Trail of Tears*)」？

- (1) 將美國原住民印地安人從密西西比河以東的所有土地逐出
- (2) 教授美國原住民印地安人美國生活方式
- (3) 將部落土地歸還給美國原住民印地安人
- (4) 允許原住民部落在州界內實行自治

24 自由企業經濟體系獨有的一項特徵是：

- (1) 政府擁有大部分公司
- (2) 政府嚴格監控企業
- (3) 生產工具私有化
- (4) 政府規定工資和物價

25 哪個標題能夠最恰當地補充下面的摘要片斷？

I. \_\_\_\_\_

- A. 工人面對困境
- B. 勞工改革得到發展
- C. 城鎮擴張
- D. 大型企業創建

- (1) 政府結束對公司的監管
- (2) 進步運動(*Progressive Movement*)改變美國生活
- (3) 美國公民承擔新的義務
- (4) 美國成為一個工業國家

請根據下圖和你的社會學知識回答第26題和第27題



資料來源：Melvin Schwartz 和 John R. O'Connor，  
《探索美國歷史》(*Exploring American History*)，  
Globe Book 出版 (經改編)

26 這幅插圖所示的情形說明了以下哪項的作用？

- (1) 《解放宣言》(*Emancipation Proclamation*)
- (2) 人頭稅
- (3) 奴隸法典
- (4) 吉姆·克勞法(*Jim Crow laws*)

27 哪個詞最恰當地說明了此幅插圖所示的做法？

- (1) 民粹主義
- (2) 種族融合
- (3) 社會主義
- (4) 種族隔離

28 在1890年至1910年期間，大多數來自東歐和南歐的移民在美國東部的大城市定居，主要原因是：

- (1) 農田已變得非常缺乏
- (2) 沒有技能的工人也可在工廠中就業
- (3) 這些城市的歧視較少
- (4) 他們主要來自原籍國的大城市

29 在1800年代後期，西方國家分割中國的勢力範圍，目的是

- (1) 支援中國企業的利益
- (2) 獲取貿易特權
- (3) 保護外交官免受外國攻擊
- (4) 限制中國向他們的國家移民

30 哪項海外行動最能說明西奧多·羅斯福(Theodore Roosevelt)大棒外交政策的運用？

- (1) 從俄羅斯購買阿拉斯加
- (2) 1917年對德國宣戰
- (3) 佔領夏威夷群島
- (4) 支援巴拿馬革命

31 醜聞揭發者(muckrakers)的著作，全美有色人種進步協會(NAACP)的成立，以及蘇珊·安東尼(Susan B. Anthony)的作品都說明了

- (1) 對社會變革的需要
- (2) 對更多公立學校的渴望
- (3) 中央政府的權力
- (4) 移民法律的重要性

32 在1914年，戰爭迅速升級，從歐洲的地區衝突發展成世界大戰，原因是

- (1) 幾個國家在該地區擁有殖民地
- (2) 東南歐是一個主要石油產區
- (3) 強國遇到反對聯盟
- (4) 國際聯盟實現停火的努力失敗

33 1920年代期間移民法確立的配額制度的主要目標是

- (1) 防止非法移民
- (2) 減少來自某些國家的移民人數
- (3) 鼓勵富有且受過良好教育的移民
- (4) 收納以前曾被禁止移民的人士

請根據下面的詩歌和你的社會學知識回答第34題。

### 夢想

緊緊抓住夢想  
夢想若是消亡  
生命就象鳥兒折了翅膀  
再也不能飛翔

緊緊抓住夢想  
夢想若是消喪  
生命就象貧瘠的荒野  
雪覆冰封，萬物不再生長。

— 蘭斯頓·休斯(Langston Hughes)

34 這首創作于哈萊姆文藝復興(Harlem Renaissance)時期的詩，很可能是為了鼓勵非洲裔美國人

- (1) 逃離奴隸制
- (2) 接受種族隔離
- (3) 展望未來
- (4) 應對經濟大恐慌(Great Depression)

35 1929年股市崩盤的主要原因是

- (1) 融資購買股票
- (2) 將股票用作貨幣
- (3) 限制銀行貸款
- (4) 法律禁止分期付款

36 哪項新政(New Deal)計劃今天仍然存在？

- (1) 工作進步總署(Works Progress Administration)
- (2) 聯邦緊急情況救助署(Federal Emergency Relief Administration)
- (3) 平民保護隊(Civilian Conservation Corps)
- (4) 社會保障總署(Social Security Administration)

37 在第二次世界大戰(World War II)之後，紐倫堡(Nuremberg)戰爭罪審判的一項結果是

- (1) 個人對其在戰爭時期的行為負責
- (2) 一些國家被迫賠償戰爭損失
- (3) 戰爭雙方的領導人被判有罪
- (4) 只有軍事領袖才被控有罪

請根據下面的漫畫及你的社會學知識回答第38題。

### 「讓我們把這個東西鎖起來」



資料來源：Herblock，《華盛頓郵報》(Washington Post)，1962年11月1日(經改編)

請根據下面的漫畫和你的社會學知識回答第40題。



資料來源：Thomas Engelhardt，《聖路易郵報》(St. Louis Post-Dispatch) (經改編)

38 這幅漫畫應在哪次事件以後不久發表？

- (1) 韓戰(Korean War)
- (2) 越南戰爭(Vietnam War)
- (3) 柏林空運(Berlin airlift)
- (4) 古巴飛彈危機(Cuban missile crisis)

39 很多美國人抗議美國捲入越南戰爭的理由是什麼？

- (1) 南越政府不希望美國參戰。
- (2) 共產黨從未對南越構成威脅。
- (3) 聯合國要求美國置身戰爭之外。
- (4) 這是一場內戰，美國不應干涉。

40 下列哪項陳述最恰當地描述了以上漫畫的中心思想？

- (1) 一門經濟學課程對於找工作至關重要。
- (2) 良好工作和教育密不可分。
- (3) 大多數具有技能的工人都是輟學學生。
- (4) 小班教學可節省稅金。

41 馬丁·路德·金(Martin Luther King, Jr.)用哪種方法來抗議社會不公正？

- (1) 組建綠色和平組織(Greenpeace)
- (2) 公民抗命
- (3) 武裝暴動
- (4) 支援新興政黨

42 在第二次世界大戰期間，哪兩個國家是美國的盟友，但卻在冷戰(Cold War)時期成為美國的敵人？

- (1) 英國和義大利
- (2) 朝鮮和日本
- (3) 法國和德國
- (4) 中國和蘇聯

43 紙張募捐、食品和汽油配給以及勝利花園都是以下哪項事件的要素？

- (1) 1800年代後期工業增長
- (2) 本土支援第二次世界大戰
- (3) 南北戰爭後經濟增長
- (4) 新政救濟計劃

44 哪本書直接影響了北方人對奴隸制的態度？

- (1) 《常理》(*Common Sense*)
- (2) 《窮查理的年鑒》(*Poor Richard's Almanac*)
- (3) 《寂靜的春天》(*Silent Spring*)
- (4) 《湯姆叔叔的小屋》(*Uncle Tom's Cabin*)

45 「…我一定會回來！」  
「…一個永遠蒙羞的日子。…」  
「牢記珍珠港！」

這些引文與哪次戰爭關聯最密切？

- (1) 獨立戰爭(*Revolutionary War*)
- (2) 南北戰爭(*Civil War*)
- (3) 第二次世界大戰
- (4) 韓戰

請直接翻到下一頁。 ⇨


**FOR TEACHER USE ONLY**

Part I Score \_\_\_\_\_

## 第二部份

請把問題的答案寫在本測驗卷的空白處。

答題說明：請根據下面的漫畫及你的社會學知識回答第1題至第3題。



資料來源：Melvin Schwartz 和John R. O'Connor，《探索美國歷史》  
(Exploring American History)，Globe Book 出版（經改編）

1 這幅漫畫指的是美國歷史上的哪次衝突？ [1]

Score

2 漫畫中個頭較大的人代表哪個群體？ [1]

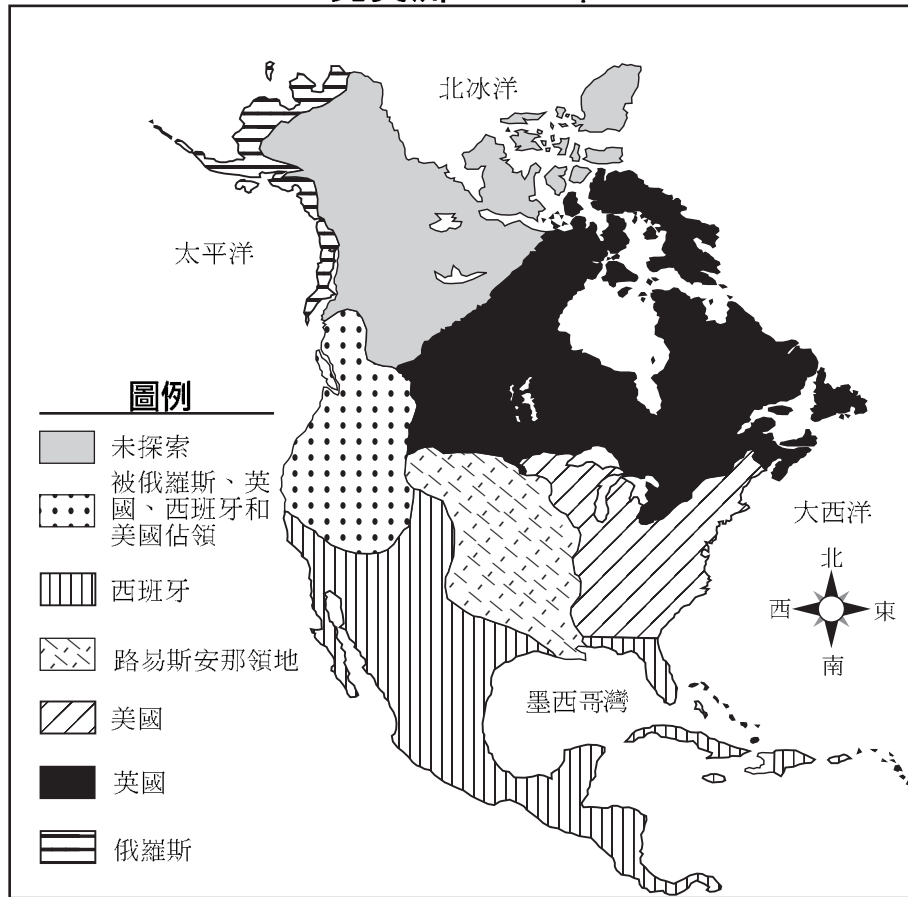
Score

3 拿著彈弓的人代表哪個群體？ [1]

Score

請根據下面的地圖及你的社會學知識回答第4題至第6題。

### 北美洲，1803年



資料來源：《歷史地圖檔案》(Historical Maps on File)，2002年資料檔案公司出版（經改編）

4 湯瑪斯·傑弗遜(Thomas Jefferson) 總統在地圖上為美國獲取的地區的名稱是什麼？ [1]

Score


5 指出美國取得已被俄羅斯、英國或西班牙佔領的土地所採取的**一種**方式。 [1]

Score

6 指出墨西哥灣沿岸的**一個**由原為西班牙擁有的土地最終形成的州。 [1]

Score

請根據下面的漫畫和你的社會學知識回答第7題和8題。



先生們，試試你們的力氣！  
你們打的越重，它就走的越高

資料來源：Puck，1909年5月12日（經改編）

<p>7 說明漫畫中表示的<b>兩個</b>群體的名稱。 [1]</p>	<p>8 說明「關稅」影響第7題中指出的<b>每一個</b>群體的一種方式。 [2]</p>
<p>群體1 _____</p> <p>_____</p> <p>Score <input type="text"/></p>	<p>群體1 _____</p> <p>_____</p> <p>Score <input type="text"/></p>
<p>群體2 _____</p> <p>_____</p> <p>Score <input type="text"/></p>	<p>群體2 _____</p> <p>_____</p> <p>Score <input type="text"/></p>



請根據下面的報紙公告和你的社會學知識回答第9題和10題。

## 公告!

我們提醒計劃踏上大西洋行程的旅客，德國及其盟軍與大不列顛及其盟軍正處於交戰狀態，戰爭區域包括不列顛群島附近水域；並且，根據德意志帝國政府發出的正式公告，懸掛英國或任何其盟軍國旗的船隻處於上述水域時均可能被摧毀，乘坐英國或其盟軍船隻在戰爭區域航行的旅行者後果自負。

### 德意志帝國大使館

華盛頓哥倫比亞特區，1915年4月22日。

資料來源：《紐約時報》(New York Times)，  
1915年5月1日(經改編)

9 這篇報紙公告對哪個國家的船隻發出了威脅？ [1]

Score

10 這篇報紙公告的目的是什麼？ [1]

Score

**FOR TEACHER USE ONLY**

Part II Score \_\_\_\_\_





