

UNIVERSITY OF THE STATE OF NEW YORK

8年級

CHINESE EDITION
SOCIAL STUDIES—GRADE 8
MULTIPLE-CHOICE &
CONSTRUCTED-RESPONSE
QUESTIONS
BOOKLET 1

中級程度考試 社會科學

第一卷

選擇題和問答題

2008年6月3日

學生姓名 _____

學校名稱 _____

請以工整字跡在以上劃線部份填寫你的名字和學校的名稱。

本考試共有三部分。本卷包含第I部分和第II部分。第二卷包含第III部分。

第I部分包括45道選擇題。請將答案寫在另外的答案紙上。請僅限用2號鉛筆在答案紙上書寫。

第II部分包括一些簡答題。請把第II部分的答案填寫在本考題本上。

你將有一個半小時解答第一卷的**所有**問題。

未經指示請勿打開本頁。

第I部分

答題說明

第一部分考試共有45道考題。每道考題有四個答案供選擇，分別標為1至4。請仔細閱讀考題，你將決定一個給的文字和表達，如何最好的完成報告和回答考題。然後在另外的答案紙上，在每一個考題的一排圓圈，塗黑跟你選擇的答案同樣號碼的圓圈。在答案紙上請使用鉛筆。

請閱讀下面的示範題：

示範題

哪個城市是美國的首府？

- (1) 波士頓
- (2) 華盛頓哥倫比亞特區
- (3) 紐約市
- (4) 費城

正確的回答是**華盛頓哥倫比亞特區**，答案號碼為**2**。在答案紙上，你可看到方框內顯示示範題的一排答案圓圈。由於示範題的正確答案為**2**，所以**2**號圓圈已被塗黑。

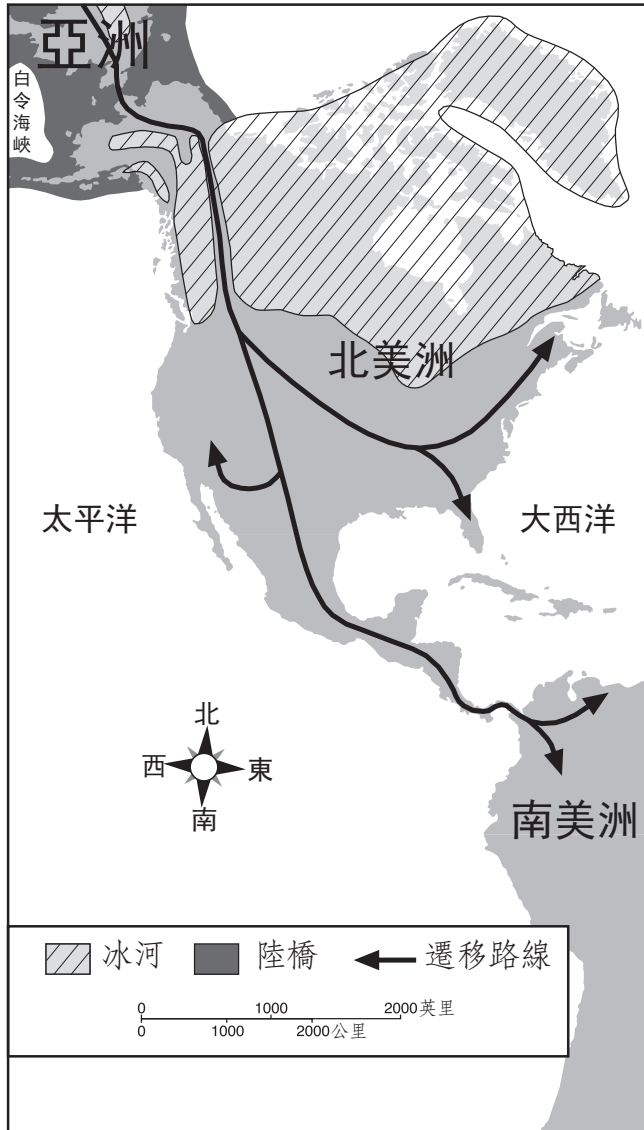
請回答本試卷第**I**部分的所有考題。每道考題僅限塗黑一個圓圈。如果需要更改答案，請務必用橡皮擦把原來填寫的答案擦乾淨。你可能不知道某些考題的答案，但請盡量回答每道考題。

第**I**部分結束後，請繼續做第**II**部分。

第I部分

請回答本部分的所有問題。

請根據下面的地圖及你的社會科學知識，回答第1題。



1 這幅地圖說明的是

- (1) 哥倫布的動植物交換
- (2) 亞洲早期人口的遷移
- (3) 歐洲人在美洲定居
- (4) 瑪雅帝國的疆域

2 因紐特人穿海豹和馴鹿皮製成的衣服。普韋布洛人穿棉布製成的衣服。阿爾岡琴人穿鹿皮製成的衣服。這些衣服上的差異最可能的結果是

- (1) 傳統的宗教習俗
- (2) 可以利用的自然資源
- (3) 家族血親關係的要求
- (4) 相互競爭的衣著風俗

3 賓州的貴格教徒信奉宗教寬容，這意欲著他們

- (1) 支持政府控制宗教
- (2) 要求孩子們上教會學校
- (3) 拒絕加入一個戰爭的任一方面
- (4) 允許其他人信仰自己的宗教

4 殘忍待遇

- 惡劣的衛生狀況
- 饑餓和疾病
- 過度擁擠和監禁

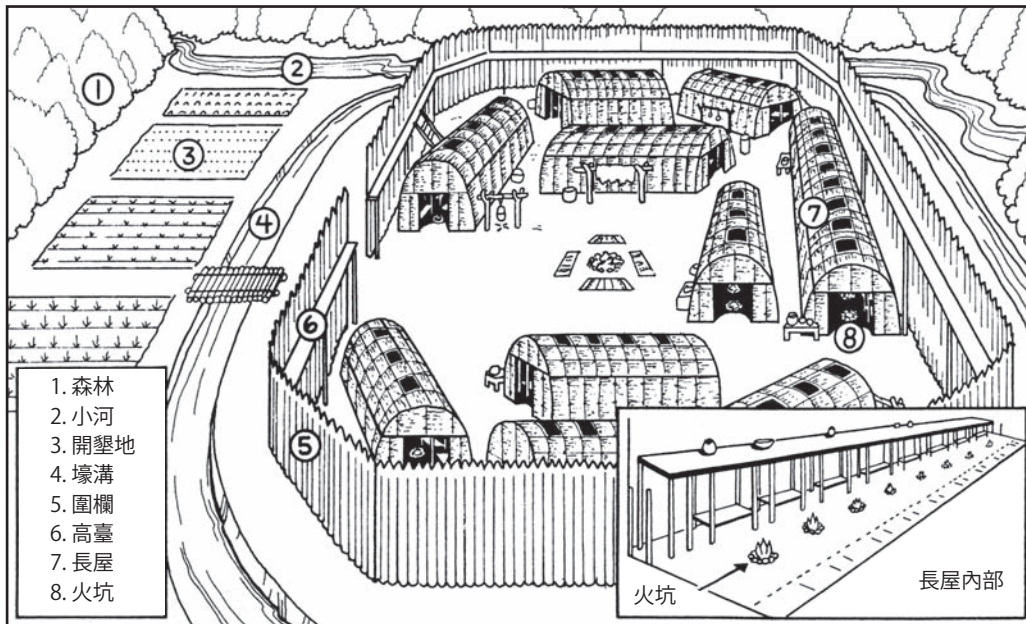
哪個群體經歷了這些狀況？

- (1) 五月花號船上的清教徒
- (2) 地下鐵乘客
- (3) 中央航路上的非洲黑奴
- (4) 隨著法國皮毛商人旅行的美洲印第安原住民

5 新英格蘭市鎮會議和維吉尼亞城鎮市民會議是為殖民地的努力去？

- (1) 實施自治政府
- (2) 成立所有殖民地的聯盟
- (3) 招募殖民地民兵
- (4) 鼓勵殖民地貿易

請根據下面的圖示及你的社會科學知識，回答第6題及第7題。



資料來源: Robert Goldberg, *New York State History*, Globe Book Co.

6 這個易洛魁人 (Haudenosaunee) 村莊的排列顯示有

- (1) 已經成立了五個民族的聯盟
- (2) 必須與附近部落合作
- (3) 防禦敵人很重要
- (4) 由奴隸從事農耕

7 這個圖示表明易洛魁人 (Haudenosaunee) 是

- (1) 遊牧民族
- (2) 父系社會
- (3) 集體生活的組織
- (4) 依賴狩獵獲取食物

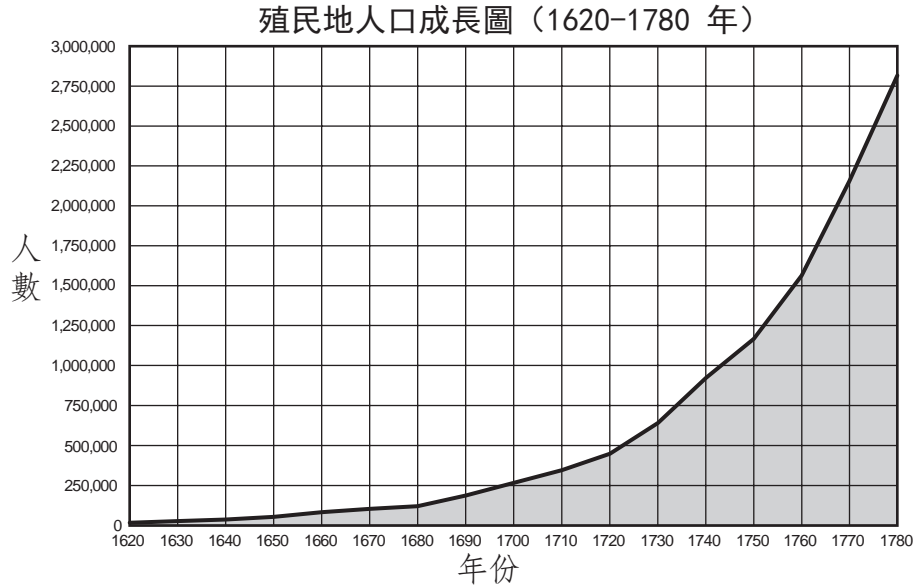
8 《印花稅法》(1765年)對殖民地貿易有什麼主要的影響?

- (1) 英國拒絕出售殖民地居民的某些出產品。
- (2) 這項法律導致殖民地貨幣貶值。
- (3) 殖民地居民不再需要英國商品。
- (4) 許多殖民地居民聯合抵制英國商品。

9 哪一個陳述與1770年代保皇黨員的觀點最為一致?

- (1) 殖民地居民應當感謝英國的統治和保護。
- (2) 徵稅而不准選舉代表是虐政。
- (3) 在英國的統治下，公民有權宣布獨立。
- (4) 國王侵犯了英國公民的權利。

請根據下圖及你的社會科學知識，回答第10題。



資料來源：*Historical Statistics of the United States*, 人口普查局 (經改編)

10 圖中資料最明顯支持哪個結論？

- (1) 殖民地人口在 1600 年代成長最快。
- (2) 殖民地人口在 1620 到 1780 年持續成長。
- (3) 法國與印第安人戰爭 (1754-1763年) 導致殖民地人口減少。
- (4) 1775 年革命戰爭爆發時，殖民地人口已經達到三百萬。

11 • 控訴英國的暴行

- 宣佈生存、自由和追求幸福的天賦權利
- 建立美利堅合眾國

哪個文件與這些行動有關？

- (1) 《奧本尼聯盟計畫》
- (2) 《獨立宣言》
- (3) 《聯邦條款》
- (4) 《美國憲法》

12 殖民地歷史上的哪一事件與新聞出版自由的最有密切的關聯？

- (1) 賽倫女巫審判
- (2) 波士頓傾茶事件
- (3) 成立自由之子組織
- (4) 約翰·彼得·曾格 (John Peter Zenger) 案

- 13 在 1787 年的立憲大會會議上，人口大州與人口小州之間的衝突結果創立了
- (1) 總統和副總統職位
 - (2) 政府的三個分支
 - (3) 聯邦法院體系
 - (4) 兩院制立法機構
- 14 如果普查資料顯示一個州的人口總數發生變化，很可能影響到這個州的哪個方面？
- (1) 邊界線
 - (2) 郡縣的數目
 - (3) 在美國眾議院的代表權人數
 - (4) 在美國參議院的參議員人數
- 15 有些公民舉行公開會議討論對於當地政府的顧慮。他們採用這種行動是在行使哪種權利？
- (1) 攜帶武器
 - (2) 陪審團審判
 - (3) 集會自由
 - (4) 聘請律師權
- 16 解除總統職務的彈劾程序的**第一步**是什麼？
- (1) 最高法院進行審判
 - (2) 全體參議員舉行調查庭
 - (3) 副總統接替總統職務
 - (4) 眾議院對總統提出控告
- 17 紐約州憲法和美國憲法的相同之處是兩者都規定允許
- (1) 宣戰
 - (2) 向公民徵稅
 - (3) 建立郵局
 - (4) 貨幣鑄造權
- 18 歷史學家認為喬治·華盛頓是偉大總統的一個主要原因是他
- (1) 創立了至今仍為政府採用的許多重要慣例
 - (2) 使美國成為世界強國
 - (3) 結束了美洲印第安原住民之間的衝突
 - (4) 將選舉權賦予整個美國的大多數自由男子
- 19 湯瑪斯·傑弗遜總統支持購買路易斯安那領地的一個重要原因是這項購買
- (1) 使美國取得對佛羅里達的擁有權
 - (2) 使美國取得對加利福尼亞的控制權
 - (3) 使美國取得對紐奧良港的控制權
 - (4) 把西班牙人趕出北美洲
- 20 很多的美國人在 1840 年代開拓西部的的理由是根據在
- (1) 信奉天定命運
 - (2) 需要保護自然環境
 - (3) 門羅主義的權力
 - (4) 《人權法案》中的憲法原則

請根據下面的圖表及你的社會科學知識，回答第21題。

1860

北方	南方
工業	農業
更多城市	主要是鄉村
許多工廠	工廠很少
普遍反對奴隸制	普遍支持奴隸制

21 從這份表格的資訊可以得出關於內戰的哪個結論？

- (1) 南方的大城市多於北方。
- (2) 地方主義是根據社會和經濟差異。
- (3) 南方為打敗北方做了精良的準備。
- (4) 農業對美國經濟不再重要。

22 南方各州在開始內戰之前退出聯盟的直接原因是什麼？

- (1) 亞伯拉罕·林肯當選總統
- (2) 《堪薩斯-內布拉斯加法案》獲得通過
- (3) 約翰·布朗突襲哈帕斯渡口
- (4) 最高法院對於德雷德·史考特案的判決

23 1800 年代中期工廠數量增加導致

- (1) 更加依賴家庭製作的產品
- (2) 城市化增加
- (3) 水和空氣污染程度降低
- (4) 來自歐洲的移民減少

24 最高法院在普里斯和弗格森案（1896 年）中確立了「隔離但平等」的原則被用來

- (1) 向美洲印第安原住民提供保留地
- (2) 作為公共設施種族隔離的理由
- (3) 結束使用童工
- (4) 擴大《人權法案》保證的自由

25 在 1800 年代後期和 1900 年代初期，對「新」移民的偏見增多的主要原因是這些移民

- (1) 來自與大多數美國人不同的文化背景
- (2) 企圖以他們自己的政府制度代表美國民主
- (3) 成立他們自己的工會可獲得更高的工資
- (4) 工作技能優於大多數美國工人

26 醜聞揭露者是指哪些作家或者記者？

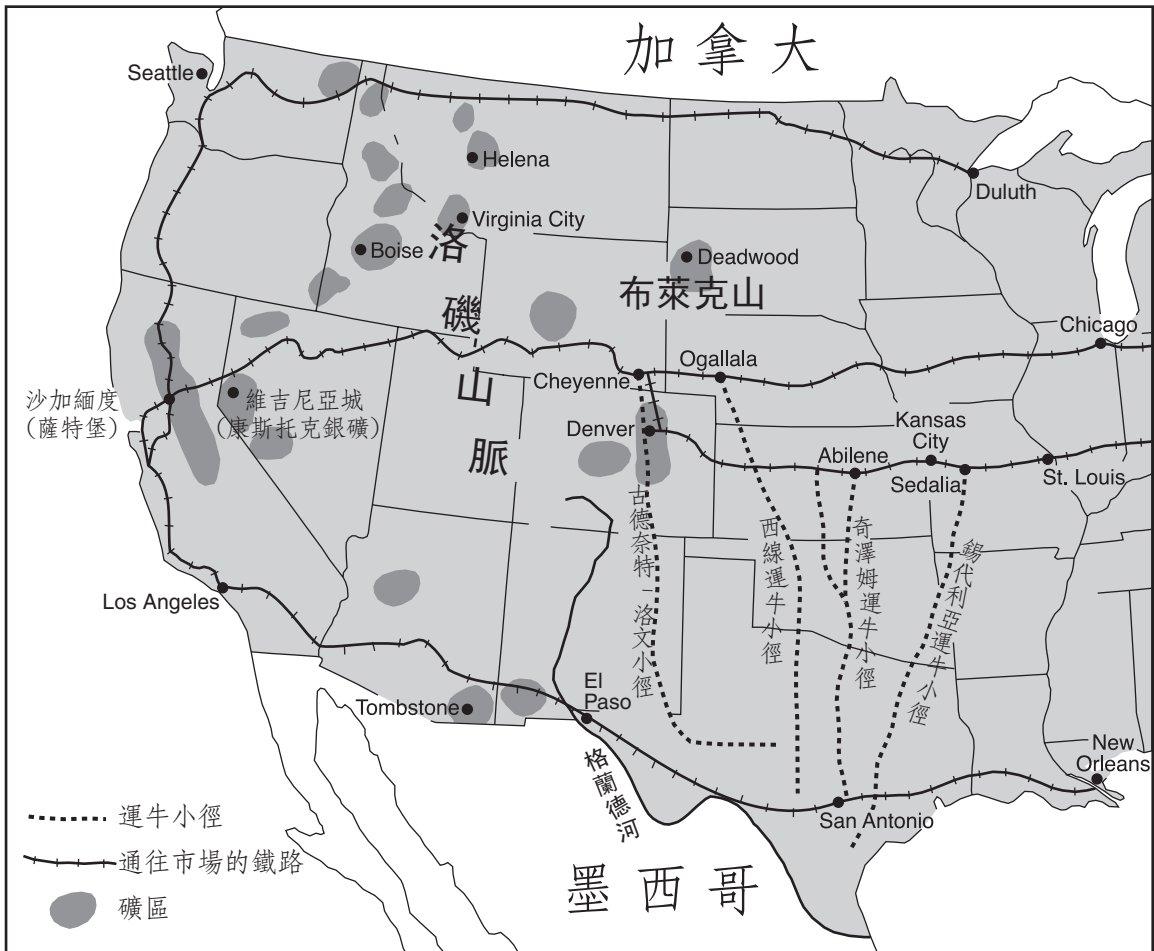
- (1) 支持壟斷
- (2) 反對工會成長
- (3) 鼓勵結束奴隸制
- (4) 揭露政府和企業的腐敗

27 1890 年代報紙利用黃色新聞

- (1) 影響大眾的意見
- (2) 促進古巴和平
- (3) 推翻總統選舉
- (4) 支持一個孤立主義者的外交政策

請根據下面的地圖及你的社會科學知識，回答第28題

西部礦工和運牛小徑



資料來源：Mary Beth Norton et al., *A People and a Nation*, Houghton Mifflin (經改編)

28 地圖的資訊最明顯支持哪個陳述？

- (1) 運牛大多數是從東部到西部。
- (2) 多數礦區位於沿海地帶。
- (3) 運牛小徑用於把牛羣運到市場。
- (4) 有許多鐵路連接墨西哥和加拿大。

29 什麼是第一次世界大戰（1914年）爆發的直接原因？

- (1) 成立秘密聯盟
- (2) 競爭亞洲和非洲的殖民地
- (3) 軍火武器的累積
- (4) 奧地利的斐迪南大公遇刺

30 伍德羅·威爾遜總統提出的十四點原則是計畫去

- (1) 獲得歐洲的殖民地
- (2) 控制歐洲的貿易
- (3) 防止將來的戰爭
- (4) 限制美國的進口

31 1900 年代早期，大批南方的非裔美國人在哪裡找到了更好的工作？

- (1) 北方的城市
- (2) 太平洋沿岸的伐木場
- (3) 西南部的大牧場
- (4) 大平原的農場

32 什麼是1920 年代有組織犯罪增加的一個主要原因？

- (1) 更多人住在鄉村地區。
- (2) 酒精飲料的生產與銷售違法。
- (3) 聯邦法律限制了警員權力。
- (4) 汽車使出入郊區更加方便。

請根據下面的陳述及你的社會科學知識，回答第33題。

發言人 A: 政府必須承擔責任，幫助失業和挨餓的公民。

發言人 B: 政府沒有權利干涉個人生活。


發言人 C: 這一類的政府支出是對美國企業威脅，和將會增加國家的在負債。

33 這些發言人最有可能在討論

- (1) 反共恐慌
 - (2) 禁酒令的效果
 - (3) 移民限制措施
 - (4) 新政
-

請根據下面的照片及你的社會科學知識，回答第34題。

大蕭條時期的棚戶區

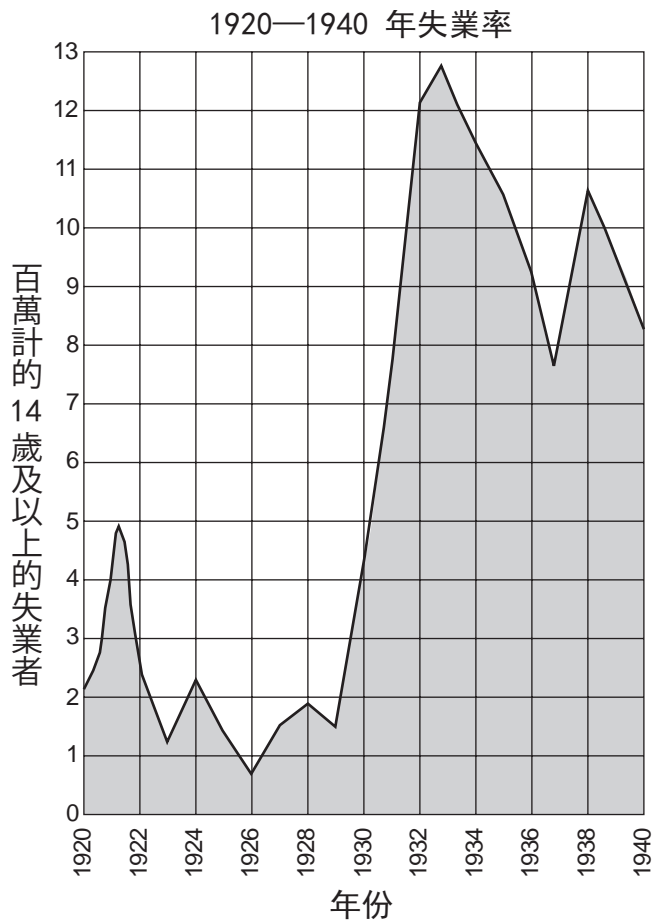


資料來源: Herman J. Viola, *Why We Remember*, Addison-Wesley (經改編)

34 作為 1930 年代早期批評聯邦政府的一種方式，照片中所指示的區域經常指示為

- | | |
|-----------|----------|
| (1) 共同住宅 | (3) 利維頓城 |
| (2) 集中居住區 | (4) 胡佛村 |
-

請根據下圖及你的社會科學知識，回答第35題及第36題。



資料來源：*Historical Statistics of the United States*
美國人口普查局（經改編）

35 大蕭條時期的失業率在下列哪兩年之間達到最高？

- (1) 1928 至 1930 年 (3) 1932 至 1934 年
(2) 1930 至 1932 年 (4) 1934 至 1936 年

36 如果把這幅圖延伸到 1945 年，失業率仍將持續下降，原因是

- (1) 軍用品產量增加
(2) 消除童工
(3) 大學入學人數下降
(4) 採用工傷賠償保險

37 「鉚釘工人露茜 (Rosie the Riveter)」是婦女在戰時哪一方面職能凸顯的象徵？

- (1) 教育 (3) 家庭
(2) 工廠 (4) 軍隊

38 馬歇爾計畫、柏林空運、北大西洋公約組織 (NATO) 的成立都是美國在哪一時間採取的步驟：

- (1) 冷戰 (3) 越戰
(2) 韓戰 (4) 波斯灣戰爭

39 「……所以，我們身為美國公民，不要問國家能為你做些什麼——而是要問你能為國家做些什麼……」

— 約翰·F·甘迺迪總統在 1961 年的就職演說

甘迺迪總統在這段講話中呼籲公民

- (1) 促進對外貿易
(2) 平衡預算
(3) 支持聯合國
(4) 自願者幫助美國

40 美國在 1960 年代初期軍事介入越南的主要原因是

- (1) 防止共產主義擴張
(2) 支持法國殖民主義
(3) 獲取更多自然資源
(4) 防止日本控制東南亞

41 1957 年，德懷特·D·艾森豪派遣部隊進入阿肯色州小岩城的中央高中。他在執行最高法院的哪項判決？

- (1) 馬布里訴麥迪森案
(2) 德雷德·史考特訴桑福德案
(3) 布朗訴托皮卡教育委員會案
(4) 米蘭達訴亞利桑那案

- 42 「艾森豪在蘇伊士運河危機中站在蘇聯一邊」
「簽了《大衛營協定》——和平可能嗎？」
「陸軍報稱大批伊拉克部隊投降」

這些頭條新聞說的是美國介入世界哪個地區的事務？

- (1) 歐洲 (3) 亞撒哈拉非洲下
(2) 中東 (4) 東亞

- 43 「先生，我不要你的百萬錢財，
我不要你的鑽戒。
先生，我只要生存的權利，
讓我再回去上班吧。

先生，我不要你的勞斯萊斯，
我不要你的遊艇。
我只想讓我的小寶貝有東西吃，
把原來的工作還給我吧……」

—吉姆·加蘭，《我只要》

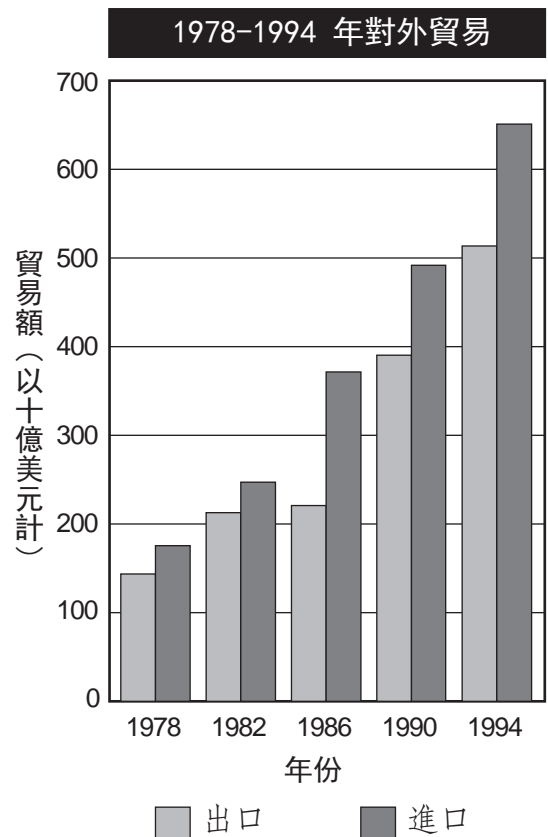
這首歌的歌詞反映了哪個時期？

- (1) 進步時代 (3) 大蕭條時期
(2) 怒吼的二十年代 (4) 鍍金時代

- 44 蘇珊·B·安東尼、伊莉莎白·凱迪·史坦頓和葛洛莉亞·史坦能共同之處是都曾為何而鬥爭？

- (1) 廢除奴隸制
(2) 環境保護
(3) 全國禁酒令
(4) 婦女權利

請根據下圖及你的社會科學知識，回答第45題。



45 圖中的資訊最明顯支持哪一結論？

- (1) 從 1982 到 1986 年間，出口減少。
(2) 從 1978 到 1994 年，進口額超過出口額。
(3) 出口每隔四年穩定成長。
(4) 自 1978 年以來，進口與出口差額保持不變。

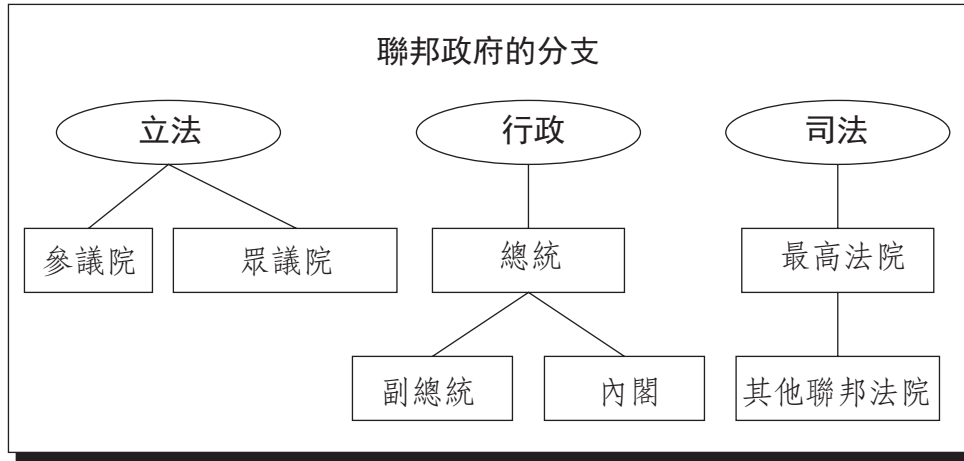
FOR TEACHER USE ONLY

Part I Score _____

第II部分

答題說明： 請在此考題本問題下面空白處填寫你的答案。

請根據下面的表格及你的社會科學知識，回答第1題至第3題。



1 最高法院屬於聯邦政府的哪個分支？ [1]

Score

2 政府的立法部門的**一項**職能是什麼？ [1]

Score

3 根據憲法，為了防止一個聯邦政府分支獲得過多的權力，採用了哪種制度？ [1]


Score

請根據下面的同樣三個兒童的不同照片及你的社會科學知識，回答第4題至第6題。

Photograph A



Photograph B



Source: New York Public Library Digital Gallery (adapted)

4 照片 A 中的男孩代表哪個群體？ [1]

Score

5 指出照片 B 中男孩外觀的一項變化。 [1]

Score

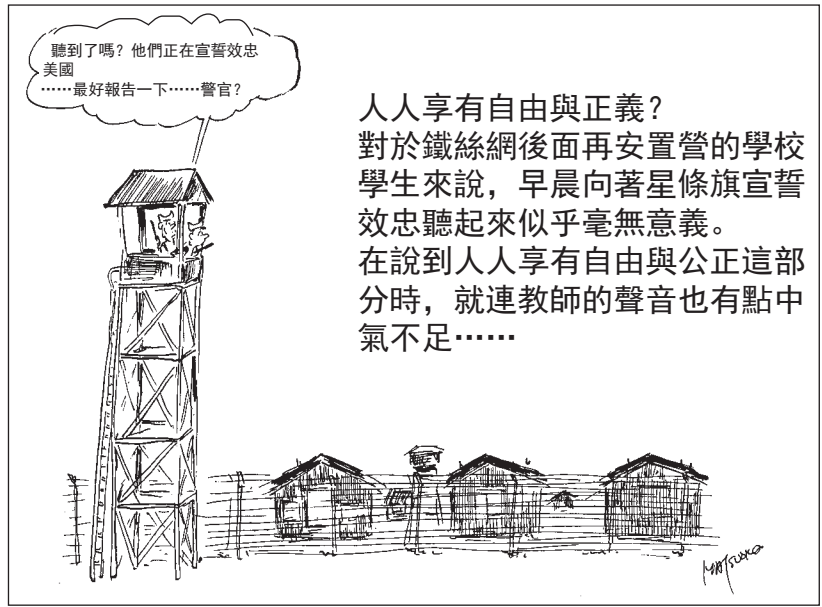
6 說明美國政府強制這個群體做出改變的一個消極結果。 [1]

Score

請根據下面的照片和素描及你的社會科學知識，回答第7題至第10題。



資料來源：Smithsonian, *A More Perfect Union* (經改編)



資料來源：Source: Jack Matsuoka, *Camp II, Block 211*

7 從照片上來看，在美國歷史的這段期間哪個群體被關在再安置中心或營區？ [1]

Score

8 哪起國際事件導致建造這些再安置營？ [1]

Score

9 插畫家寫到早晨的宣誓效忠對講這些話的學生和老師而言「似乎毫無意義」時，他指的是什麼？ [1]

Score

10 說明這項再安置營政策在聯邦法院受到挑戰的一個原因。 [1]

Score

根據下表和你的社會科學知識回答第11題至第14題。

一些主要的非裔美國人組織

組織	成立時間	背景
全國有色人種進步協會 (NAACP)	1909	由黑人和白人進步黨員創建；杜布斯 (W. E. B. Du Bois) 是著名領導人；運用法庭抨擊種族隔離政策。
種族平等國會 (CORE)	1942	由國際反戰團體唯愛社建立；採取靜坐等非暴力的直接行動；1960年代的「自由乘車大遊行」協助廢止了州際公共交通領域的種族隔離。
南方基督教領袖會議 (SCLC)	1957	由馬丁·路德·金建立，旨在聯合非裔美國人教會，採用非暴力的消極抵抗去實現民權目標。
學生非暴力統一行動委員會 (SNCC)	1960	由年輕人建立，僅採取靜坐等非暴力方式；1960年代中期接受斯托科雷·加麥克爾的「黑權」理念，暴力傾向有所增強。

11 根據這份表格，指出馬丁·路德·金建立的組織。 [1]

Score

12 根據這份表格，這些組織的**一個**共同目標是什麼？ [1]

Score

13 根據這份表格，說明這些組織運用的**一種**公民違命的方式。 [1]

Score

14 說明這些組織的努力取得的**一個**成效。 [1]

Score

FOR TEACHER USE ONLY

Part II Score _____

