

THE UNIVERSITY OF THE STATE OF NEW YORK

8年級

CHINESE EDITION
SOCIAL STUDIES—GRADE 8
MULTIPLE-CHOICE &
CONSTRUCTED-RESPONSE QUESTIONS
BOOKLET 1

**中級程度測驗
社會科學**

第一卷

選擇題和問答題

2009年6月2日

學生姓名 _____

學校名稱 _____

請用工整字跡在以上劃線部分填寫你的名字和學校名稱。

本測驗包含三部分。你今天要考第I部分和第II部分。

第I部分包括45道選擇題。請將答案寫在另外的答案紙上。請僅限用2號鉛筆在答案紙上書寫。

第II部分包括一些簡答題。請把第II部分的答案填寫在本考題本上。

你將有一個半小時解答第一卷的**所有**問題。

未經指示請勿打開本頁。

第I部分

答題說明

第一部分考試共有45道考題。每道考題有四個答案供選擇，分別標為1至4。請仔細閱讀考題，你將決定一個給的文字和表達，如何最好的完成報告和回答考題。然後在另外的答案紙上，在每一個考題的一排圓圈，塗黑跟你選擇的答案同樣號碼的圓圈。在答案紙上請使用鉛筆。

請閱讀下面的示範題。

示範題

哪個城市是美國的首府？

- (1) 波士頓
- (2) 華盛頓哥倫比亞特區
- (3) 紐約市
- (4) 費城

正確的回答是華盛頓哥倫比亞特區**Washington, D.C.**，答案號碼為**2**。在答案紙上，你可看到方框內顯示示範題的一排答案圓圈。由於示範題的正確答案為**2**，所以**2**號圓圈已被塗黑。

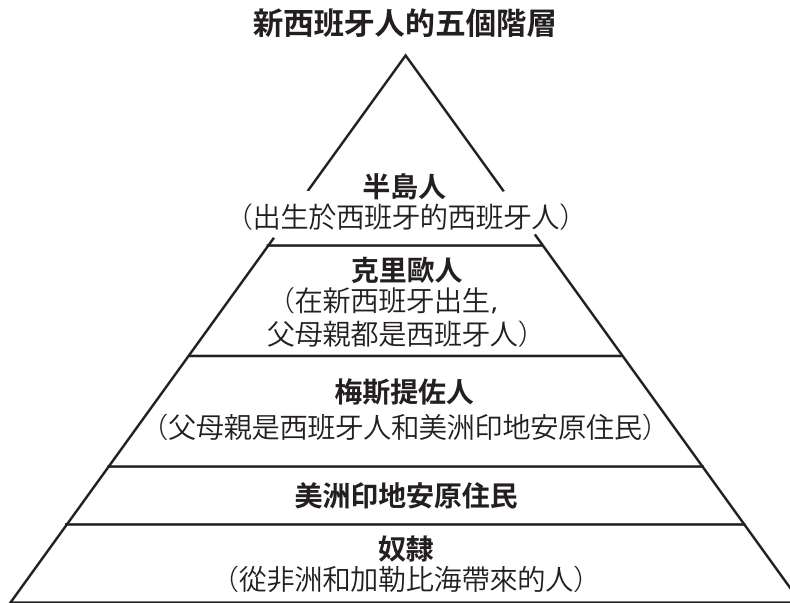
請回答本試卷第I部分的所有考題。每道考題僅限塗黑一個圓圈。如果需要更改答案，請務必用橡皮擦把原來填寫的答案擦乾淨。你可能不知道某些考題的答案，但請盡量回答每道考題。

第I部分結束後，請繼續做第II部分。

第I部分

請回答本部分的所有問題。

請根據下面的圖表及你的社會科學知識，回答第1題。



1 這五個社會階層在新西班牙發展的原因是

- | | |
|---------|----------|
| (1) 殖民 | (3) 孤立主義 |
| (2) 工業化 | (4) 愛國主義 |

2 許多人類學家認為人們從亞洲越過陸橋來到北美洲是為了

- (1) 逃離宗教迫害
- (2) 狩獵遷徙性動物
- (3) 捉捕此地區的原住民
- (4) 尋找黃金和其他財富

3 哪一種情況提供易洛魁人(Iroquois)(豪德諾索尼(Haudenosaunee))適應了他們的自然環境的最佳證據？

- (1) 居住在以木材和樹皮搭建的長屋裡
- (2) 和他們的鄰族講不同的語言
- (3) 與阿爾岡京人(Algonquins)結盟
- (4) 讓女性參與治理過程

4 水牛是以下哪裡的美洲印第安原住民的主要食物、住所、衣服和工具來源

- | | |
|-----------|----------|
| (1) 東南部 | (3) 東區林地 |
| (2) 太平洋沿岸 | (4) 大平原 |

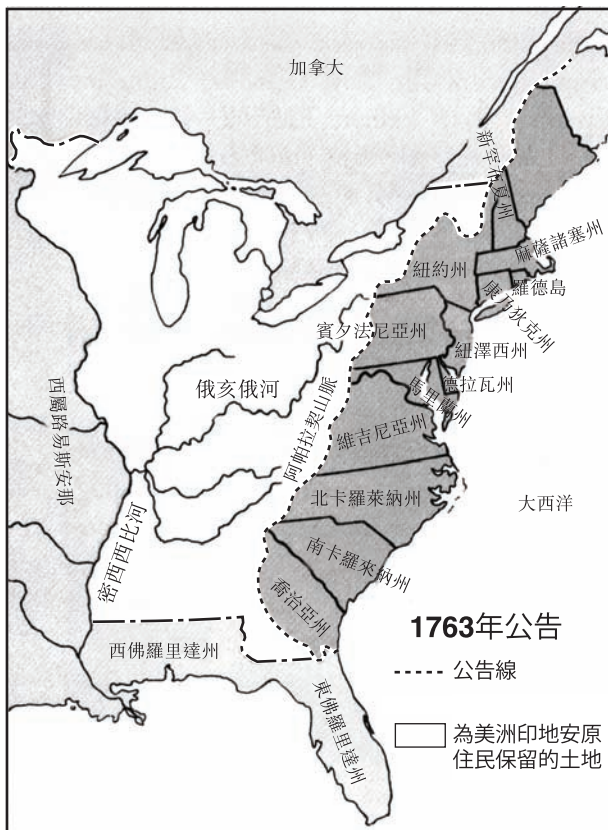
5 哪一項發展會導致其他三種發展？

- (1) 引入新的疾病。
- (2) 非洲奴隸貿易的擴大。
- (3) 歐洲人探索美洲。
- (4) 美洲印第安原住民失去他們的土地。

6 在十三個英國殖民地，投票權僅限於

- (1) 在美國出生的殖民者
- (2) 擁有產業的男性
- (3) 可以讀寫的女性
- (4) 從英國來的人

請根據下面的地圖及你的社會科學知識，回答第7題。



資料來源: Harold H. Eibling, et al., *Foundations of Freedom: United States History to 1877*, Laidlaw Brothers (經改編)


7 英國政府劃定1763年「公告線」(Proclamation Line)主要是為了

- (1) 避免與美洲印第安原住民起衝突
- (2) 促進皮毛貿易
- (3) 擴充十三個殖民地
- (4) 提供往來密西西比河的途徑

8 哪一個關於1777年至1778年冬季的福吉谷 (Valley Forge) 的陳述最正確？

- (1) 福吉谷的情況終結了美國獨立的希望。
- (2) 保皇黨因為福吉谷傳來的消息而氣餒。
- (3) 華盛頓將軍的部隊在福吉谷遇到了很大的困境。
- (4) 福吉谷戰役是美國獨立戰爭 (Revolutionary War) 的轉捩點。

請根據下面的圖示及你的社會科學知識，回答第9題。



資料來源: *The New Exploring American History*, Globe (經改編)

9 這個插圖的大意是什麼？

- (1) 殖民者受到英國政府通過的法律限制。
- (2) 英國國王想讓殖民者在政府擁有更大的發言權。
- (3) 英國國王喬治三世把許多美國殖民者處以枷刑。
- (4) 廢除不受欢迎的法律是掙脫枷鎖唯一的出路。

10 英國重商主義制度目的是要

- (1) 關閉波士頓港貿易
- (2) 鼓勵大英帝國以外的貿易
- (3) 有利於英國的經濟利益
- (4) 阻止十三個殖民地的地方選舉

11 在「制憲會議」(Constitutional Convention) (1787) 上，《大妥協案》(Great Compromise) 如何解決了國會代表的問題？

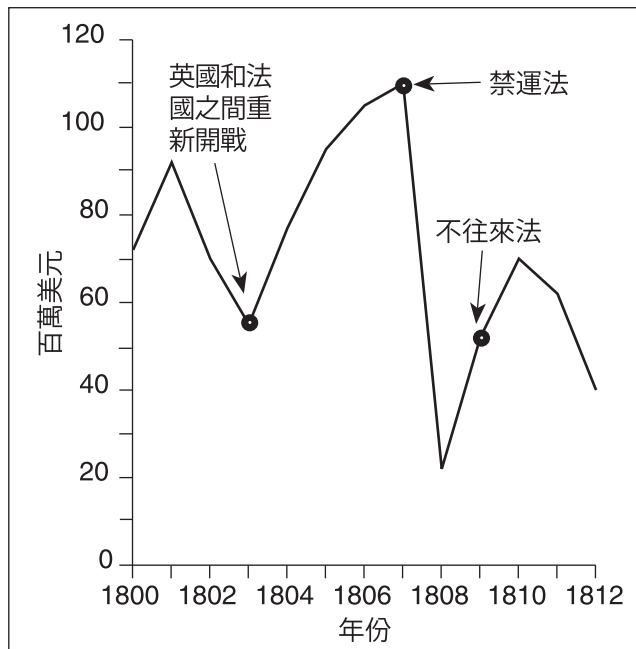
- (1) 限制當選立法議員的任期
- (2) 提供參議員直接選舉
- (3) 建立兩院制立法機關
- (4) 包括選舉團

12 憲法增加了前十個修正案是要

- (1) 刪除原先憲法的某些部分
- (2) 維護個人自由不受政府權力的約制
- (3) 改變選舉過程
- (4) 增加立法部門的權力

請根據下圖及你的社會科學知識，回答第13題。

美國的外銷
1800 – 1812



資料來源: *Historical Statistics of the United States* (經改編)

13 圖表中的資訊最明顯支持哪一個陳述？

- (1) 美國政府鼓勵戰爭中國家間的貿易往來。
- (2) 在歐洲的活動對美國貿易造成衝擊。
- (3) 禁運法立即增加了與歐洲的貿易。
- (4) 法國和英國為了美國船隻上的貨物而扣押美國船隻。

14 1825年，紐約市因為什麼的開通而能連接五大湖區？

- (1) 伊利運河 (Erie Canal)
- (2) 夏普倫運河 (Champlain Canal)
- (3) 國家公路 (National Road)
- (4) 紐約中央鐵路 (New York Central Railroad)

15 1840年代，美國人用天定命運(Manifest Destiny)的想法替以下哪一項辯解？

- (1) 擴大婦女的權利
- (2) 獲取新的領土
- (3) 開始免費公共教育
- (4) 廢除密蘇里協定 (Missouri Compromise)

請根據下面報紙刊登的廣告及你的社會科學知識，回答第16題。

\$150 元賞金 [懸賞逃亡奴隸]
 . . . 如果在路易斯威爾抓獲，我會給**\$50**元賞金；在州內距路易斯威爾一百英哩內抓獲，會給**100**元賞金，若在州外抓獲然後送還給我，或者關押在任何監牢裡等到我來領回，則給**150**元賞金。
 William Burke,
 肯塔基州巴茲城
 1838年9月3日

資料來源: Library of Congress

16 從報紙刊登的這篇廣告可以得出什麼結論？

- (1) 地下鐵道(The Underground Railroad)是一個失敗。
- (2) 奴隸的主人認為他們的奴隸是財產。
- (3) 北方許多被奴役的人變得很富有。
- (4) 如果奴隸逃到北方，將不支付賞金。

17 哪一個標題最佳完成了下面的部分大綱？

- I. _____
- A. 湯姆叔叔的小屋(*Uncle Tom's Cabin*)出版
 - B. 國會通過堪薩斯—內布拉斯加法案(Kansas-Nebraska Act)
 - C. 約翰·布朗(John Brown)領導發動哈普斯渡口(Harpers Ferry)的突襲事件

- (1) 工業化的影響
- (2) 關閉邊境
- (3) 政治領導
- (4) 導致美國內戰的事件

18 哪一份文件可視為來自於美國內戰的主要來源？

- (1) 一位將軍的生平自傳
- (2) 戰時一位士兵的妻子寫的一封信
- (3) 百科全書裡有關戰時婦女的一篇文章
- (4) 介紹戰時所用的醫學治療記錄片

19 第13, 14和15憲法修正案在內戰後的重建時期(Reconstruction Period) 加入憲法中是為了

- (1) 結束美國內戰
- (2) 限制總統的權力
- (3) 改善選舉團的運作方式
- (4) 賦予非裔美國人合法權利

20 十九世紀末期，企業與個體私營公司相較所佔有的一大優勢是企業

- (1) 需要較少的員工
- (2) 只僱用技術工人
- (3) 獲得工會的支持
- (4) 有股東投資資金

21 國會通過如雪曼反托拉斯法(Sherman Antitrust Act) 等類反托拉斯法是為了要

- (1) 規範大型企業的權力
- (2) 限制低價的進口貨物
- (3) 鼓勵更多移民
- (4) 提供更安全的消費性產品

請根據下面的詩及你的社會科學知識，回答第22題及第23題。

... "Keep ancient lands, your storied pomp!" cries she
With silent lips. "Give me your tired, your poor,
Your huddled masses yearning to breathe free,
The wretched refuse of your teeming shore.
Send these, the homeless, tempest-tost [tossed] to me,
I lift my lamp beside the golden door!"
她沉默地吶喊：「留下你們虛榮的輝煌吧，
古老的大陸！」

「把那些勞苦的貧困百姓給我；
把那些飽受蹂躪、渴望自由的人民，
把那些輾轉溝壑、形同渣滓的子民，
把那些流離失所、飽經風霜的人們，全都送
來給我。
我將守候在金色門外，高舉自由的燈火！」

— 艾瑪·拉撒路斯(Emma Lazarus),
"The New Colossus" (新的巨像)

22 在這首詩當中，「流離失所、飽經風霜的人們」一詞指的是

- (1) 士兵
- (2) 移民
- (3) 船難的倖存者
- (4) 失業的工人

23 這首詩刻在哪一個國家地標上？

- (1) 普利茅斯石
- (2) 林肯紀念館
- (3) 自由女神像
- (4) 費城獨立廳

24 大規模生產是一個辭彙，可以最好地定義為

- (1) 員工必要的工作時數
- (2) 迅速而且便宜地製造大量的產品
- (3) 大公司或大型企業或所賺的利潤
- (4) 形成一個商業壟斷

25 小說家辛克萊(Upton Sinclair)於1906年出版的書《叢林》(*The Jungle*)有助於揭露


- (1) 婦女的不公平待遇
- (2) 現代戰爭的殘酷
- (3) 租房不安全的生活條件
- (4) 肉類加工行業不衛生的條件

26 有關第一次世界大戰的哪一組事件是按照正確的時間順序排列？

- (1) 路西塔尼亞號沉沒 → 第一次世界大戰開始 → 美國對德國宣戰 → 奧匈帝國斐迪南大公被暗殺
- (2) 奧匈帝國斐迪南大公被暗殺 → 第一次世界大戰開始 → 路西塔尼亞號沉沒 → 美國對德國宣戰
- (3) 奧匈帝國斐迪南大公被暗殺 → 美國對德國宣戰 → 路西塔尼亞號沉沒 → 第一次世界大戰開始
- (4) 美國對德國宣戰 → 奧匈帝國斐迪南大公被暗殺 → 第一次世界大戰開始 → 路西塔尼亞號沉沒

請根據下面的漫畫及你的社會科學知識，回答第27題。

唯一的處理方法



資料來源: Milton Halladay, *Providence Journal* (經改編)

27 這篇1920年代的漫畫顯示美國政府嘗試要處理

- (1) 對外貿易
- (2) 交通堵塞
- (3) 移民
- (4) 外地民工

28 1930年代早期，許多無家可歸的美國人社區被稱為「Hoovervilles」（胡佛村莊），是因為胡佛(Herbert Hoover)總統

- (1) 在貧困地區長大
- (2) 保證為失業者提供工作機會
- (3) 為貧民提供食物和衣物
- (4) 反對為失業者提供直接聯邦援助

29 在經濟大蕭條期間，羅斯福總統 (Franklin D. Roosevelt) 爐邊談話的一個主要目標是

- (1) 向人民保證經濟的未來
- (2) 說服聽眾購買戰爭債券
- (3) 鼓勵銀行家捐錢
- (4) 幫助農民償還貸款

30 哪一個事件使美國加入第二次世界大戰？

- (1) 希特勒當選為德國總理
- (2) 德國侵略波蘭
- (3) 日本攻擊珍珠港
- (4) 義大利征服衣索匹亞

前往下一頁 ⇔

請根據下表及你的社會科學知識，回答第31題及第32題。

美國在第一次和第二次世界大戰中的參與		
類別	第一次世界大戰	第二次世界大戰
武裝部隊的規模	4,743,826	16,353,659
平均服役時間長度	12 個月	33 個月
海外服役的人數比例	53%	73%
在海外服役的平均時間長度	5.5 個月	16.2 個月
總傷亡人數	320,710	1,078,162

資料來源：One Flag, One Land, Silver, Burdette & Ginn

31 哪一個類別提供戰爭期間死亡或受傷的士兵人數的資料？

- (1) 總傷亡人數
- (2) 武裝部隊的規模
- (3) 在海外服役的平均時間長度
- (4) 海外服役的人數比例

32 圖表中的資訊最明顯支持哪一個陳述？

- (1) 美國參加第一次世界大戰大約三年的時間。
- (2) 美國為參加第一次世界大戰做了更好的準備。
- (3) 美國在第二次世界大戰一開戰即加入了戰爭。
- (4) 第二次世界大戰對美國造成的影響比第一次世界大戰還大。

33 第二次世界大戰的哪一個事件被稱為「大屠殺」(Holocaust)？

- (1) 諾曼地入侵
- (2) 巴丹死亡行軍
- (3) 在廣島投擲原子彈
- (4) 大規模屠殺歐洲猶太人、吉普賽人和其他少數民族

34 自從1960年以來，美洲印第安原住民權利運動的一個主要目標一直是

- (1) 政府安全地歸還從他們手中奪走的土地或獲得公正的賠償
- (2) 結束在公共場所隔離美洲印第安原住民的做法
- (3) 獲得美國公民身份和國會代表權
- (4) 將大多數的美洲印第安原住民搬遷至中西部城市地區

35 馬丁路德金恩(Martin Luther King Jr.)博士用什麼方法試圖結束種族隔離？

- (1) 暴力內亂
- (2) 政府資助的示威抗議
- (3) 國民革命
- (4) 公民抗命

36 水門事件導致尼克森(Richard Nixon)總統辭職，因為他

- (1) 知情批准非法行為
- (2) 嚴重削弱了國家的軍事實力
- (3) 贊同與中共改善關係
- (4) 造成1973-1974年石油危機

37 在1990年代早期冷戰結束，主要是由於

- (1) 歐洲聯盟(EU)的建立
- (2) 戰略武器管制條約(SALT)的簽署
- (3) 美國在波灣戰爭(Persian Gulf War)中得勝
- (4) 蘇聯瓦解

請根據下面的一段話及你的社會科學知識，回答第38題及第39題。

“... 在1838年，雪洛基族印第安人被從他們長期生活的家園驅逐，當年我還是一名年富力強的年輕男子，在美國軍隊裡當二等兵。因為我認識許多印第安人，而且能夠流利地講他們的語言，我在1838年5月作為翻譯員被派往大霧山地(Smoky Mountain Country)，因而目睹了美國戰爭史上最殘暴的命令的執行。我看到那些無助的雪洛基族人被捕，拖離他們的家園，並且被刺刀驅趕到柵欄中。而在10月一個清晨寒冷的細雨之中，我看到他們像牛羊一般地被裝上645輛貨車，開始向西方行進...”

— 騎馬步兵第二旅第二軍團Abraham
McClellan上尉連隊二等兵
John G. Burnett, 1838-1839

38 這一段話所描述的情況與什麼最直接相關

- (1) 在「中間航道」(Middle Passage)期間的經歷
- (2) 在「淚水小徑」(Trail of Tears)上的情況
- (3) 《逃奴法》(Fugitive Slave Law)所造成的結果
- (4) 改革戰利品制度的根據


39 哪一位總統開始實施這一段描述的計劃？

- | | |
|------------------------------|---------------------------|
| (1) 華盛頓(George Washington)總統 | (3) 傑克遜(Andrew Jackson)總統 |
| (2) 亞當斯(John Adams)總統 | (4) 林肯(Abraham Lincoln)總統 |

40 17世紀和18世紀大西洋奴隸貿易，19世紀愛爾蘭移民，以及20世紀後期亞洲和拉丁美洲移民的一個相似之處是它們分別促成了

- (1) 英屬北美洲的殖民化
- (2) 南方種植園制度的成長
- (3) 美國的文化多樣性
- (4) 帝國主義的沒落

請根據下面的漫畫及你的社會科學知識，回答第41題。

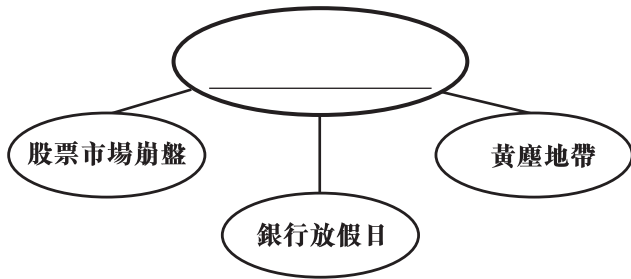


資料來源: Burt Thomas, *Detroit News*, reprinted in *New York Times*, September 10, 1939 (經改編)

41 這篇漫畫說明美國公眾對哪一個事件的反應態度？

- (1) 第二次世界大戰開始
- (2) 廢除《禁酒令》
- (3) 國際聯盟的建立
- (4) 經濟大蕭條的影響

請根據下面的架構圖表及你的社會科學知識，回答第42題。



- 42 什麼是這個架構圖表適當的標題？
- (1) 與進步時代(Progressive Era)有關的改革
 - (2) 與經濟大蕭條(Great Depression)有關的事件
 - (3) 公平交易(Square Deal)提議的計劃
 - (4) 第二次世界大戰後產生的經濟問題

請根據下面的漫畫及你的社會科學知識，回答第43題。

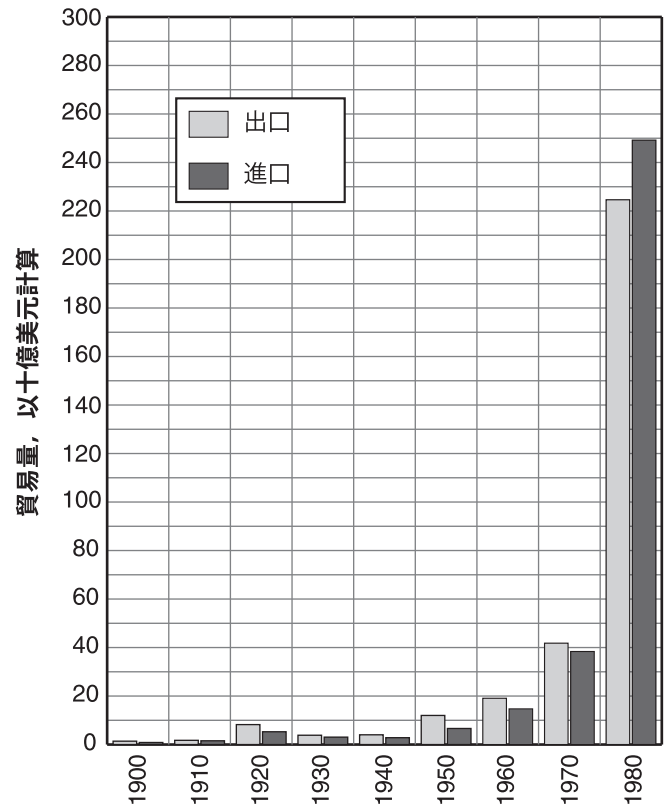


資料來源: Clifford Berryman, May 18, 1948, National Archives (經改編)

- 43 漫畫中的圍欄代表哪一項原則？
- (1) 司法審查
 - (2) 地方自治
 - (3) 聯邦至上
 - (4) 權力分立

請根據下圖及你的社會科學知識，回答第44題及第45題。

外貿 1900-1980



資料來源: *Statistical Abstract of the United States and Historical Statistics of the United States*

- 44 根據圖中顯示，美國在哪一年出現不利的貿易平衡（貿易赤字）？
- (1) 1920
 - (2) 1940
 - (3) 1960
 - (4) 1980
- 45 哪一個概括對圖中顯示的大多數年份是真的？
- (1) 進口大致上超過出口。
 - (2) 關稅對國際貿易的影響不大。
 - (3) 出口和進口都往往隨著時間而增加。
 - (4) 國內經濟狀況對外貿的影響不大。

僅供教師使用

Part I Score _____

第II部分

答題說明：請在此考題本問題下面空白處填寫你的答案。

請根據下面的一段話及你的社會科學知識，回答第1題至第3題。

《獨立宣言》(Declaration of Independence) (1776)

... 我們認為這些真理是不辯自明的：人人生而平等，造物者賦予他們若干不可剝奪的權利，其中包括生命、自由和追求幸福的權利。為了保障這些權利，人類才在他們之間建立政府，而政府之正當權力，是經被治理者的同意而產生的，當任何形式的政府對這些目標具破壞作用時，人民便有權力改變或廢除它，...

塞尼卡福爾斯會議《觀點宣言》(Seneca Falls Declaration of Sentiments) (1848)

... 我們認為這些真理是不言而喻的：男人與女人生而平等；造物者賦予他們若干不可剝奪的權利，其中包括生命、自由和追求幸福的權利，政府是為了保障這些權利才建立的，而政府之正當權力，是經被治理者的同意而產生的。當任何形式的政府對這些目標具有破壞作用時，受其害的人民便有權拒絕效忠它，...

1 當《獨立宣言》於1776年簽定時，誰是被認為生而平等的？ [1]

Score

2 說明塞尼卡福爾斯會議《觀點宣言》的理念與《獨立宣言》的理念的**一個**不同之處。 [1]

Score

3 塞尼卡福爾斯會議《觀點宣言》為什麼以《獨立宣言》的理念為基礎？ [1]

Score

請根據下面的大綱及你的社會科學知識，回答第4題至第6題。

美國古巴關係概述

I. 在第二次世界大戰前

- A. 波爾克(James Polk)總統和皮爾斯總統(Franklin Pierce)嘗試向西班牙購買古巴(1848, 1854)
- B. 美國在美西戰爭中驅逐西班牙並征服古巴(1898)
- C. 美國使古巴成為一個被保護區，並在關塔那摩灣建立了一個海軍基地(1903)
- D. 美國派軍短暫佔領古巴(1906–1933)
- E. 美國支持古巴獨裁者巴蒂斯塔(Fulgencio Batista)以便交換美國企業在古巴受到友好對待的回報(1933–1944)

II. 在第二次世界大戰後

- A. 巴蒂斯塔在一場政變中奪取古巴控制權並在美國的支持下統治(1952–1959)
- B. 卡斯楚(Fidel Castro)由於共產主義革命而取得古巴的控制權 (1959)
- C. 卡斯楚奪取美國在古巴的財產(1959–1960)
- D. 美國對古巴貿易下禁運令(1960)
- E. 古巴與蘇聯簽訂友好協議(1960)
- F. 美國支持的古巴難民在豬灣企圖推翻卡斯楚政權失敗(1961)
- G. 古巴飛彈危機(1962)

4 波爾克總統和皮爾斯總統如何試圖取得古巴的控制權？ [1]

Score

5 說明美國和古巴之間在第二次世界大戰後的**兩個**問題。 [2]

(1) _____

(2) _____

Score

6 說明美國人在古巴有長遠利益的**兩個**原因。 [2]

(1) _____

(2) _____

Score

Score

請根據下面的海報及你的社會科學知識，回答第7題至第9題。

第二次世界大戰海報



資料來源: Lawrence B. Smith, U. S. Treasury, 1942,
National Archives and Records Administration

7 在這張海報中，政府在第二次世界大戰期間要求美國人購買什麼？ [1]

Score

8 標題「不要讓那個陰影觸及他們」是什麼意思？ [1]

Score

9 為什麼這樣的海報對美國政府的戰事很重要？ [1]

Score

請根據下面的漫畫及你的社會科學知識，回答第10題至第12題。



資料來源: John R. O'Connor et al., *Exploring United States History*, Globe Book Company

10 指出如這個漫畫中顯示的政府開支的**兩個**領域。 [2]

(1) _____ Score

(2) _____ Score

11 為什麼士兵所提的越南水桶比大社會的水桶還大？ [1]

Score

12 這個漫畫所傳達的訊息是什麼？ [1]

Score

僅供教師使用

Part II Score _____