

紐約州立大學

CHINESE EDITION
SOCIAL STUDIES - GRADE 8
OBJECTIVE AND CONSTRUCTED RESPONSE
BOOKLET 1

八年級

中等程度測驗 社會科學

第一卷 選擇題和問答題

2001年6月

學生姓名 _____

學校名稱 _____

請用工整字跡在以上划線部份填寫您的姓名和學校名稱。

本測驗包含三部份。本卷包含第一部份和第二部份；第二卷包含第三部份。

第一部份包含45道多種選擇題。請在單獨的答卷紙上標出答案。在答卷紙上僅限使用2號鉛筆。

第二部份包含幾道簡短的問題。請把第二部份答案寫在本卷中。

第一卷的答題時間為一個半小時。

在接到指令前請勿打開本考卷

Copyright 2001
THE UNIVERSITY OF THE STATE OF NEW YORK
THE STATE EDUCATION DEPARTMENT

NO PART OF THIS TEST MAY BE REPRODUCED AND/OR TRANSMITTED BY ANY MEANS WITHOUT WRITTEN PERMISSION.

第一部份

說明

本測驗第一部份共有**45**道題，每一道題後列出**1-4**項選擇答案。請認真閱讀每一道題，選擇正確的答案。請在單獨的答卷紙上標出您的答案，方法是塗黑與您選擇的答案編號相同的圓圈。請用鉛筆在答卷紙上作標記。

請閱讀以下例題：

例題

哪一個城市是美國的首都？

- (1) 波士頓 { Boston }
- (2) 哥倫比亞特區華盛頓市 { Washington, D.C. }
- (3) 紐約市 { New York City }
- (4) 費城 { Philadelphia }

正確的答案是**哥倫比亞特區華盛頓市 (Washington, D.C.)**，該答案的編號是**2**。在您的答卷紙上找到代表同一例題選擇答案的圓圈。由於選擇**2**是例題的正確答案，標有**2**的圓圈被塗黑。

請以同樣方法回答第一部份的所有問題。每道題僅限塗黑一個圓圈。如果需要改動，請務必用橡皮擦把原來填寫的答案擦乾淨。您可能不知道某些問題的正確答案，但請盡量回答每一道題。

第一部份結束後，請繼續做第二部份。

第一部份
請回答本部份的所有問題。

1 考古學家研究歷史使用的主要方法是什麼？

- (1) 閱讀某一族群的日記
- (2) 研究特定民族的文物
- (3) 在自然環境中觀察人們的生活
- (4) 仿效當地人的習俗

2 從西向東美國的主要地理特徵是

- (1) 落基山脈 (Rocky Mountains) → 大平原 (Great Plains) → 密西西比河 (Mississippi River) → 阿巴拉契亞山脈 (Appalachian Mountains)
- (2) 大平原 (Great Plains) → 密西西比河 (Mississippi River) → 落基山脈 (Rocky Mountains) → 阿巴拉契亞山脈 (Appalachian Mountains)
- (3) 落基山脈 (Rocky Mountains) → 大平原 (Great Plains) → 阿巴拉契亞山脈 (Appalachian Mountains) → 密西西比河 (Mississippi River)
- (4) 密西西比河 (Mississippi River) → 阿巴拉契亞山脈 (Appalachian Mountains) → 大平原 (Great Plains) → 落基山脈 (Rocky Mountains)

根據以下引言和您的社會科學知識回答第3道題和第4道題。

「我的孩子們，請認真聽我說。請記住你們是兄弟，一個人倒下就意味著所有的人倒下。你們必須共享一堆火、一枝口笛、一根戰棒。」

—摘自「統一者希雅瓦薩」

(*Hiawatha the Unifier*)

3 講話人向他的人民提出何種建議？

- (1) 加強合作
- (2) 經濟競爭
- (3) 保護資源
- (4) 文化交流

4 基於上面這段話中的觀點建立了何種政治結構？

- (1) 美國印地安人運動
- (2) 印地安人事務局
- (3) 印地安人保留地系統
- (4) 五國聯盟

5 依羅庫司 (Iroquois) 使用長屋 (long-house) 反映了哪一種適應環境的活動？

- (1) 野牛用於製作衣物和建造住宅
- (2) 馬用於交通運輸
- (3) 樹用於建築材料
- (4) 鐵用於工具和武器

6 哪一種發展導致了另外三種發展？

- (1) 哥倫布 (Columbus) 在伊斯帕尼奧拉島 (Hispanola) 登陸
- (2) 建立詹姆斯城 (Jamestown) 殖民地
- (3) 數以千計的北美印地安人死於新的疾病
- (4) 歐洲人吸煙並食用土豆

7 早期南方殖民地的農業工人的需求導致

- (1) 成立工會
- (2) 決定工業化
- (3) 耕作方式改進
- (4) 使用從非洲運來的奴隸

8 奧爾巴尼聯邦計劃 (The Albany Plan of Union) 要求

- (1) 所有公民擁有同等投票權
- (2) 向英國宣戰
- (3) 建立殖民地聯合防衛委員會
- (4) 脫離英國統治

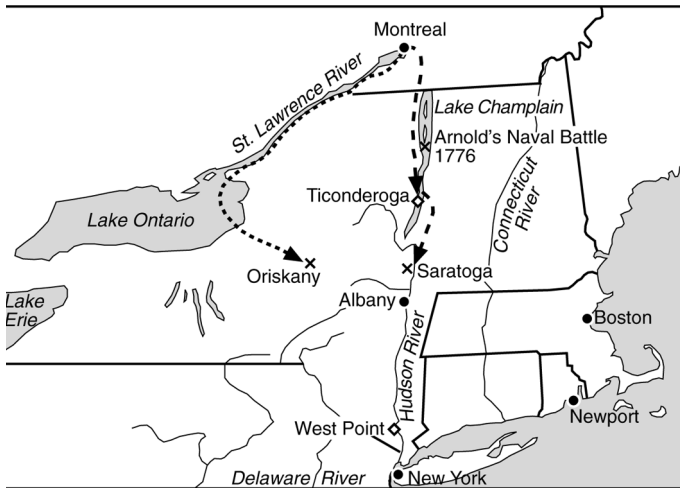
9 美洲殖民者認為英國的稅法不公平，因為

- (1) 殖民者在議會中沒有代表
- (2) 英國國庫有剩餘資金
- (3) 北美印地安人免繳英國稅
- (4) 殖民地的稅率高於英國本土稅率

10「獨立宣言」(Declaration of Independence)的一個目的是什麼？

- (1) 建立政府架構
- (2) 陳述殖民地脫離英國的原因
- (3) 陳述限制移民的原因
- (4) 陳述授予婦女選舉權的論點

根據對以下地圖和您的社會科學知識回答第11道題。



11 這張美國獨立戰爭地圖說明了什麼？

- (1) 喬治·華盛頓 (George Washington) 計劃從紐約市撤出
- (2) 殖民軍打算占領加拿大
- (3) 英軍計劃攻克紐約並劃分殖民地
- (4) 法國海軍對殖民地人民爭取獨立的重要性

12 修改美國憲法採用何種程序？

- (1) 否決
- (2) 修正案
- (3) 決議
- (4) 國會聽證

13 聯邦政府中哪一個機構最像紐約州議會？

- (1) 內閣
- (2) 最高法院
- (3) 眾議院
- (4) 參議院

14 • 國會不能徵收稅款。

- 國會不能監管州際貿易或與外國的貿易。
- 沒有全國統一的法院系統仲裁糾紛。
- 十三個州各自獨立，缺乏全國統一。

哪一份文件陳述了以上各項？

- (1) 「邦聯章程」(Articles of Confederation)
- (2) 「聯邦主義文件」(Federalist Papers)
- (3) 「西北法令」(Northwest Ordinance)
- (4) 「美國憲法」(United States Constitution)

15 基於「第一修正案」(First Amendment) 問題的最高法院決定通常涉及

- (1) 個人權利
- (2) 控制大企業
- (3) 徵收所得稅
- (4) 政府腐敗

16 最高法院裁決的「馬布利訴麥迪遜」

(*Marbury v. Madison*) 一案具有重要的歷史意義，因為該案的裁決

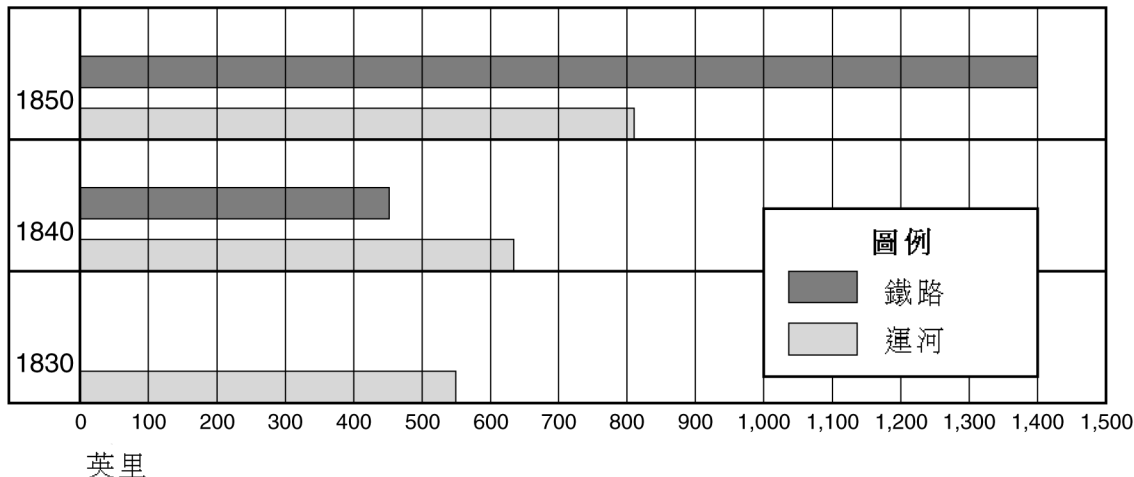
- (1) 建立了最高法院可宣佈一項法律違反憲法的權利
- (2) 在立法機構中增強了聯邦主義者的權利
- (3) 增加了最高法院法官數目
- (4) 加強了總統作為武裝部隊總司令的權利

17 美國政府在1820年至1840年對北美印地安人採取了哪一項措施？

- (1) 按照公平價格向北美印地安人購買土地
- (2) 通過一項法律，使所有北美印地安人成為美國公民
- (3) 鼓勵北美印地安人到工廠做工
- (4) 把北美印地安人從其部落土地上遷移至保留地

請根據以下圖表和您的社會科學知識回答第18道題。

紐約州運河與鐵路長度（英里），1830-1850



18 根據以上圖表，哪一種結論是正確結論？

- (1) 運河載運貨物的速度比鐵路快。
- (2) 修建鐵路比開挖運河的費用高。
- (3) 鐵路里程比運河里程增長速度快。
- (4) 企業比較願意利用運河運送貨物。

- 19「兼併德克薩斯」
(Annexation of Texas)
「五四四〇或戰鬥」
(Fifty-four Forty or Fight)
「整個俄勒岡或什麼都沒有！」
(All of Oregon or None!)
1844年選舉中出現的這些標語全部支持
- (1) 法律和秩序
 - (2) 「聲明命運」
(Manifest Destiny)
 - (3) 派系鬥爭
 - (4) 婦女選舉權

- 20 十九世紀四十年代後期，成千上萬的人前往加利福尼亞，為的是
- (1) 參加墨西哥戰爭
 - (2) 幫助修建鐵路
 - (3) 尋找金礦
 - (4) 獲得肥沃的農田

- 21 在討論以下哪一項時涉及廢除奴隸制、「地下鐵路」和格萊德·司格特 (Dred Scott) 決定等三個問題？
- (1) 銀行
 - (2) 外交
 - (3) 奴隸制
 - (4) 交通運輸

22 在南北戰爭中南方比北方佔有何種優勢？

- (1) 更強大的製造業
- (2) 戰鬥力更強的海軍
- (3) 更好的政府
- (4) 更出色的軍事領導人

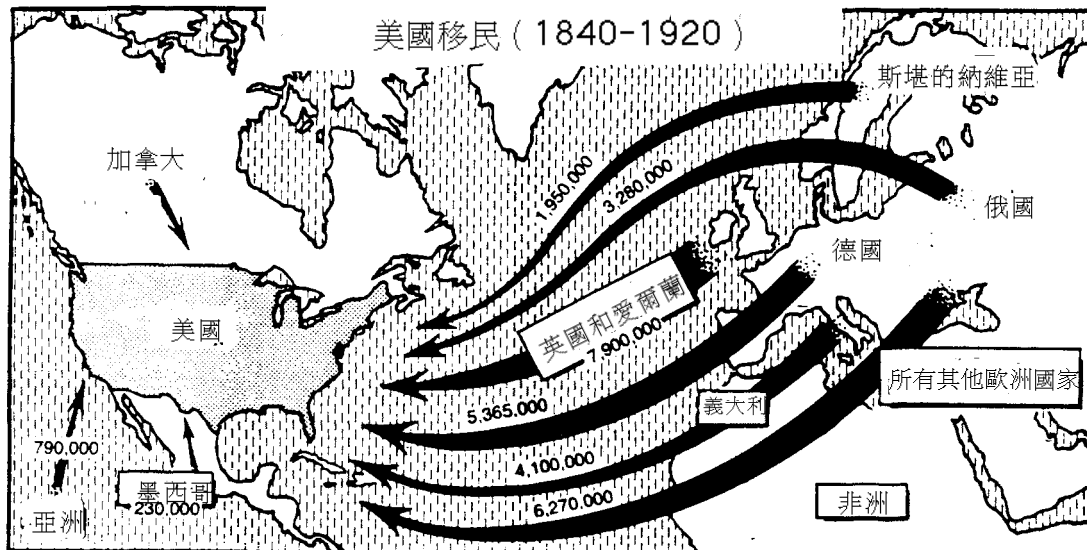
23 自由企業體制的一個特徵是

- (1) 保證股東獲利
- (2) 政府控制產品選擇
- (3) 不鼓勵對外貿易
- (4) 企業為贏得消費者而相互競爭

24「抹黑派」(Muckrakers) 是二十世紀初期的作家和批評家，他們希望

- (1) 揭露工業腐敗和濫用權利
- (2) 停止移民
- (3) 阻止城市中不同民族混合居住
- (4) 關閉所有工廠和工業

根據以下地圖和您的社會科學知識回答第25道題。



25 在1840-1920年，哪個地方來美國的移民最多？

- (1) 亞洲
- (2) 加拿大
- (3) 德國
- (4) 英國和愛爾蘭

26 美國「門戶開放」政策的目標是

- (1) 對拉丁美洲實施軍事控制
- (2) 保護美國在中國的貿易權利
- (3) 鼓勵日本向美國移民
- (4) 允許和菲律賓進行自由貿易

27 哪一份文件是研究「禁酒法案」的主要資料？

- (1) 美國勞聯1952年編寫的手冊
- (2) 哈利特·比奇·斯托 (Harriet Beecher Stowe) 撰寫的「湯姆叔叔的小木屋」 (Uncle Tom's Cabin)
- (3) 赫伯特·胡佛 (Herbert Hoover) 總統關於「睦鄰」政策的講話
- (4) 1918年一封致編輯的信，該信函描述了飲酒的危險

28 伍德羅·威爾遜 (Woodrow Wilson) 總統在「十四點」 (Fourteen Points) 中建議成立

- (1) 保護西方國家的民兵
- (2) 萬國聯盟 (League of Nations)
- (3) 三國聯盟 (Triple Alliance)
- (4) 一支占領戰敗國的軍隊

29 第一次世界大戰後，「返回正常」意味著

- (1) 美國更多參與歐洲事務
- (2) 不再向美國賣酒
- (3) 回到戰爭以前的生活方式
- (4) 重新選舉民主黨人為總統

30 下列各項中，哪一項是對二十世紀二十年代美國的描述？

- (1) 美國都市化程度提高。
- (2) 工廠的工作條件和薪資有所改善。
- (3) 工作婦女人數增加。
- (4) 二十世紀二十年代是整個二十世紀中最放蕩的時代。

31「大蕭條」 (Great Depression) 的原因之一是

- (1) 政府越來越支持大企業
- (2) 過度使用信貸和分期付款方式購物
- (3) 高薪資和低失業率
- (4) 農產品缺乏

32. 納粹大批屠殺猶太人和另外一些被他們認為是劣等民族的人，該屠殺行為被稱作

- (1) 閃電戰 (Blitzkrieg)
- (2) 大屠殺 (Holocaust)
- (3) 大飢餓
- (4) 紐倫堡 (Nuremberg) 審判

33. 第二次世界大戰後的遏制政策目的是

- (1) 向蘇聯提供經濟援助
- (2) 防止共產主義傳播
- (3) 使美國更加孤立
- (4) 改善美國和東南亞的經濟關係

34. 在二十世紀五十年代，是什麼主要原因促使人們遷往郊區居住？

- (1) 城市污染
- (2) 醫療條件改善
- (3) 經濟成長和繁榮
- (4) 缺少就業機會

35. 「兄弟，能給我一毛錢嗎？」

「……我們唯一需要感到恐懼的是恐懼本身……」

「如果他們來搶占我的農場，我要和他們戰鬥。」

「在那些日子裡你想方設法節約每一分錢。」

上面這些話代表了哪一個年代？

- (1) 二十世紀二十年代
- (2) 二十世紀三十年代
- (3) 二十世紀四十年代
- (4) 二十世紀五十年代

36. 「代表們批准的偉大妥協」

「沒有人權法案該文件就不完整」

「詹姆斯·麥迪遜 (James Madison) 是享有殊榮的主要作者和發言人」

上述文章標題涉及美國歷史上的哪一份重要文件？

- (1) 獨立宣言 (Declaration of Independence)
- (2) 五月花協定 (Mayflower Compact)
- (3) 邦聯章程 (Articles of Confederation)
- (4) 美國憲法 (United States Constitution)

根據下列憲法修正條款和您的社會科學知識回答第37道題。

「……任何州亦不得……拒絕授予其管轄下的任何人士法律規定之同等保護。」

「不得基於種族、膚色或是否作過奴隸而……拒絕授予……投票權。」

37. 上述修正案旨在保護下列哪一種人的權利

- (1) 婦女
- (2) 北美印地安人
- (3) 非裔美國人
- (4) 兒童

38. 「南卡羅萊納州必須支付關稅」

「國家銀行被否決」

「贓款贓物屬於勝利者」

上述文章標題涉及哪一任總統？

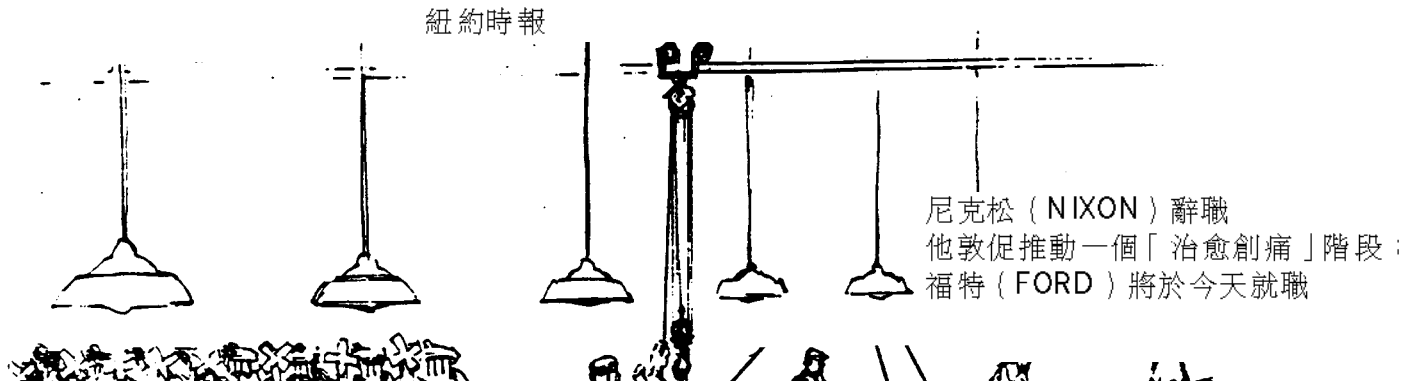
- (1) 安德魯·傑克遜 (Andrew Jackson)
- (2) 托馬斯·傑佛遜 (Thomas Jefferson)
- (3) 亞伯拉罕·林肯 (Abraham Lincoln)
- (4) 西奧多·羅斯福 (Theodore Roosevelt)

39. 哪一個標題最適合下面的提綱？

- I. _____
- A. 韓國衝突
 - B. 伯林空投
 - C. 古巴導彈危機
 - D. 越南

- (1) 冷戰事件
- (2) 「新政」 (New Deal) 問題
- (3) 進步問題
- (4) 美國的勝利

根據以下報紙標題和您的社會科學知識回答第40道題。



40 理查德·尼克松 (Richard Nixon) 總統的哪一項行為導致了該報紙標題報導的事件？

- (1) 與中國建立外交關係
- (2) 掩蓋水門 (Watergate) 竊聽事件
- (3) 秘密下令轟炸柬埔寨
- (4) 實施薪資和價格管制

41 哪一項經濟概念表示價格上漲、貨幣價值下降？

- (1) 通貨膨脹
- (2) 經濟蕭條
- (3) 大蕭條
- (4) 通貨緊縮

42 最高法院在哪一個案例的裁決中宣佈「分離而平等」的條文違反憲法？

- (1) 波萊希訴福古遜 (Plessy v. Ferguson)
- (2) 布朗訴教育委員會 (Brown v. Board of Education)
- (3) 米蘭達訴亞利桑納 (Miranda v. Arizona)
- (4) 羅訴韋德 (Roe v. Wade)

43 美國的主要經濟體制是什麼？

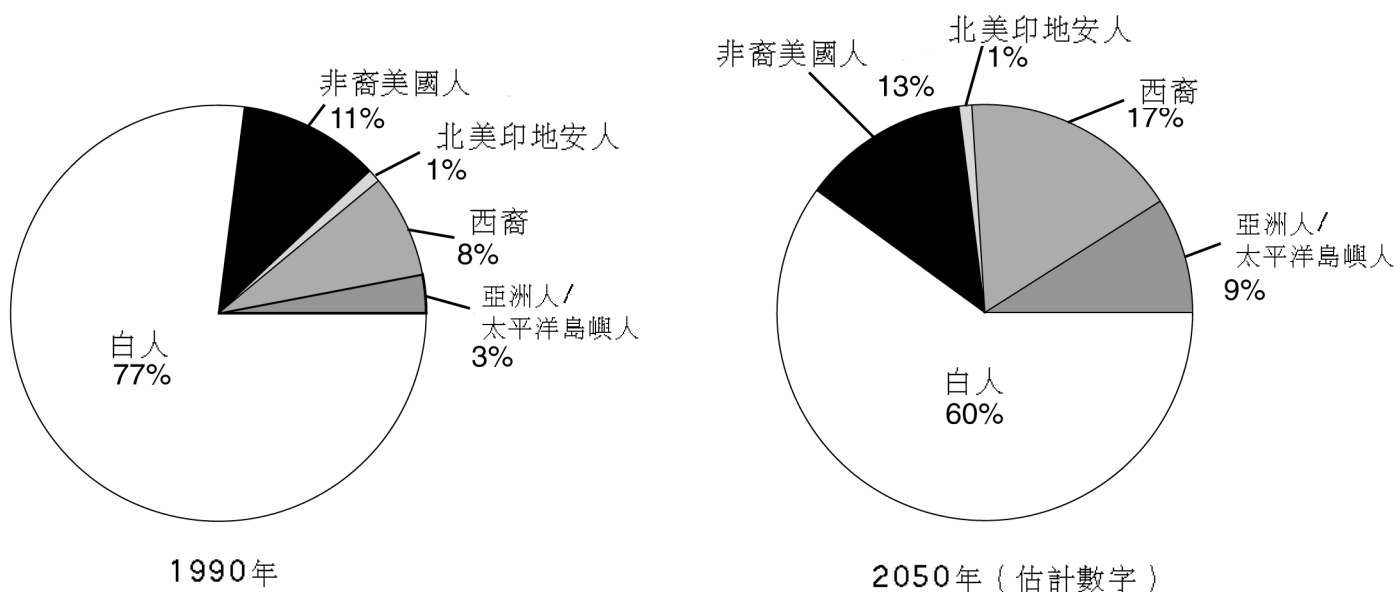
- (1) 重商主義
- (2) 共產主義
- (3) 社會主義
- (4) 資本主義

44 「新政」(New Deal) 立法中哪一項今天仍然在美國人民生活中發揮重要作用？

- (1) 農業調整法
- (2) 聯邦緊急救助法
- (3) 國家工業恢復法
- (4) 社會安全法

根據以下圖表和您的社會科學知識回答第45道題。

美國民族構成變化



45 下列哪一項陳述最符合以上圖表提供的資訊？

- (1) 65歲以上的美國人所佔百分比會增加。
- (2) 非裔美國人在總人口中所佔比例會減少。
- (3) 美國人口構成將更加多元化。
- (4) 第二語言教育的需求會下降。

第二部份

在本測驗空格處填寫問題答案。請使用黑色或深藍色的筆書寫。

說明：根據下圖和您的社會科學知識回答第1至第4道題。




1 列出圖中的兩種行業。 [2]

2 畜牧場的用途是什麼？ [1]

3 磨坊為什麼設在河邊？ [1]

4 根據圖中的資料，闡述新英格蘭村民們互相依賴的##一種##方式。 [1]

說明：根據下圖和您的社會科學知識回答第5至第8道題。



5 圖中畫的是哪一種製造程序？ [1]

6 說明該作業程序和以往的生產方法有哪些不同？ [2]

7 列出一項該作業程序對工人產生的正面影響。 [1]

8 列出一項該作業程序對工人產生的負面影響。 [1]

說明：根據以下引言和您的社會科學知識回答第9至第11道題。

「非暴力……的目的不是要打敗或羞辱對手，而是要贏得對手的友誼和理解……非暴力抵抗……避免……把精神轉化為對外的肢體暴力。非暴力抵抗者不僅拒絕槍殺對手，而且拒絕憎恨對手……以牙還牙只能使世界上的仇恨更深。在生命的某一時刻，一定會有某個人擁有足夠的理智……斬斷仇恨的鎖鏈……」

—馬丁·路德·金 (Martin Luther King, Jr.) 的「向著自由闊步前進：蒙哥馬利的事」 (*Stride Toward Freedom: The Montgomery Story*)

9 根據以上引言，非暴力希望贏得什麼？ [1]

10 列舉二十世紀五十年代和六十年代馬丁·路德·金 (Martin Luther King, Jr.) 支持的兩種不同的非暴力反抗形式。 [2]

a _____

b _____

11 列舉二十世紀五十年代和六十年代非暴力反抗運動導致的兩種變化。 [2]

a _____

b _____

