

中等程度測驗 社會科學

第一卷 選擇題和問答題

2002年6月

姓名 _____

學校 _____

請用工整字跡在以上畫線部份填寫你的姓名和學校名稱。

本測驗包含三部份。本卷包含第一部份和第二部份；第二卷包含第三部份。

第一部份包括45道多重選擇題。請在另外的答案卷上標出答案。在答案卷上僅限使用2號鉛筆。

第二部份包含幾道簡答題。請把第二部份的答案寫在本卷中。

第一卷的答題時間為一個半小時。

在接到指令前請勿打開本考卷

第一部份

說明

本測驗第一部份共有45道題，每一道題各列出4個選擇。請仔細閱讀每個題目，然後選出一個正確的答案。請在另外的答案卷上標出你的答案，方法是把代表你選擇的答案編號的圓圈塗黑。請用鉛筆在答案卷上做標記。

請閱讀以下例題：

例題

哪一個城市是美國的首都？

- (1) 波士頓 (Boston)
- (2) 哥倫比亞特區華盛頓市 (Washington, D.C.)
- (3) 紐約市 (New York City)
- (4) 費城 (Philadelphia)

正確的答案是哥倫比亞特區華盛頓市 (Washington, D.C.)，該答案的編號是2。在你的答案卷上找到代表該例題選擇答案的圓圈。由於選擇2是例題的正確答案，因此標示為2的圓圈被塗黑。

請以同樣的方式回答第一部份的所有問題。每道題只能塗黑一個圓圈。如果需要更改，請用橡皮擦把原來填寫的答案擦乾淨。你也許不知道某些問題的正確答案，但請盡力回答每一道題。

第一部份結束後，請繼續做第二部份。

第一部份

請回答本部份的所有問題

說明 (1- 45)：在另外的答案紙上，根據每一題的陳述或問題，填入代表最適當答案的編號。

1 哪一門學科會用到器物 (artifact)、碳年代測定 (carbon dating) 及挖掘地點 (dig site) 等術語？

- (1) 考古學
- (2) 經濟學
- (3) 市政學
- (4) 社會學

2 下列哪一種文件會被視為原始來源？

- (1) 教科書上記載美國大革命的課文
- (2) 血汗工廠 (sweatshop) 的員工所寫的日記
- (3) 百科全書有關重建時期 (Reconstruction Period) 的文章
- (4) 有關約翰•洛克菲勒生平 (John D. Rockefeller) 的傳記

3 下面哪一句陳述能顯示北美印第安人適應當地的環境？

- (1) 普艾布羅族 (Pueblos) 開發農耕的灌溉系統。
- (2) 大平原 (Great Plains) 的許多部落各說不同語言。
- (3) 馬雅人 (Maya) 的數學非常發達。
- (4) 德拉瓦族 (Delaware) 利用口述傳統講述他們的歷史。

4 英國人在美國的第一個永久聚落位於哪個區域？

- (1) 西北太平洋沿岸
- (2) 大平原 (Great Plains)
- (3) 大西洋沿岸
- (4) 五大湖區 (Great Lakes)

5 新法蘭西 (New France) 的聚落大都位於哪一條河流沿岸？

- (1) 摩和克河 (Mohawk)
- (2) 哈德遜河 (Hudson)
- (3) 聖羅倫斯河 (St. Lawrence)
- (4) 密蘇里河 (Missouri)

依據以下這段文章和你的社會科學知識來回答第6題及第7題。

聯盟 (Confederation) 是由大議會 (Grand Council) 所領導。它是由50位來自各族聚落議會的酋長 (sachem) 所組成。五個部族各自管理族內的事務。然而，會影響整個聯盟的事務則由大議會來決定。大議會負責維持成員之間的和平，也會處理政治及軍事的問題，例如與其他印第安部族訂定條約以及宣戰等。

6 上文討論的聯盟 (Confederation) 是由美國哪一族的印第安人所組成？

- (1) 亞爾岡京族 (Algonquian)
- (2) 塞米諾族 (Seminole)
- (3) 那瓦荷族 (Navajo)
- (4) 易洛魁族 (Iroquois)

7 上段引文反映出哪一種民主觀念？

- (1) 代議政府
- (2) 司法審查
- (3) 全民選舉
- (4) 相互制衡

8 「沒有代表權便不繳稅」(No taxation without representation) 這個口號所指的徵稅單位是

- (1) 殖民立法者
- (2) 市民大會
- (3) 英國國會
- (4) 第一屆大陸會議 (First Continental Congress)

- 9 下列哪一組事件是按照正確的年代排列？
- (1) 波士頓茶葉事件 (Boston Tea Party) → 美國獨立宣言 (Declaration of Independence) → 法印戰爭 (French and Indian War)
 - (2) 法印戰爭 → 波士頓茶葉事件 → 美國獨立宣言
 - (3) 美國獨立宣言 → 法印戰爭 → 波士頓茶葉事件
 - (4) 法印戰爭 → 美國獨立宣言 → 波士頓茶葉事件

依據以下的陳述和你的社會科學知識來回答第10題及第11題。

- 發言人A：「總統不贊同國會投票表決的法律。他認為這不是政府該有的作為。」
- 發言人B：「如果總統真的想要阻止法律通過，他有權這麼做。」
- 發言人C：「即使總統真的阻止法律通過，如果三分之二的國會議員都願意投贊同票，國會仍然可以達成心願。」
- 發言人D：「國會也許可以達成心願，可是總統相信最高法院審理這項法律時，會宣布它違反憲法。」

- 10 發言人C所指的是哪一種國會權力？
- (1) 否決權
 - (2) 推翻權
 - (3) 司法審查權
 - (4) 彈劾權
- 11 發言人D所指的是哪一項憲法原則？
- (1) 否決權
 - (2) 推翻權
 - (3) 司法審查權
 - (4) 彈劾權

- 12 在制憲會議 (Constitutional Convention) 上，「大和解」(Great Compromise) 所解決的爭議是
- (1) 國會的表決權
 - (2) 奴隸的問題
 - (3) 總統的否決權
 - (4) 司法審查

- 13 以下哪句話是對獨立戰爭 (Revolutionary War) 起因的看法？
- (1) 殖民地開拓者參與三角貿易。
 - (2) 波士頓大屠殺 (Boston Massacre) 發生於1770年3月5日。
 - (3) 山姆·亞當斯 (Samuel Adams) 成立「自由之子」(Sons of Liberty)。
 - (4) 英兵駐宿法案 (Quartering Act) 嚴重侵犯殖民地開拓者的自由。

- 14 在十九世紀上半期，北方、南方和西部的差異導致了
- (1) 地方主義
 - (2) 孤立主義
 - (3) 聯邦主義
 - (4) 重商主義

- 15 「凱洛奇人 (Cherokees) 幾乎都是囚犯。他們被強迫離開自己的家園，駐紮在全國各地的堡壘和軍事基地.....許多人眼睜睜地看著他們的土地被奪走，然後毫不值錢的被賤賣」

上述這段出自「淚水小徑」(Trail of Tears) 見證者的引文，是關於

- (1) 小大角戰役 (Battle of Little Big Horn)
- (2) 杜氏法案 (Dawes Act)
- (3) 路易士和克拉克大探險 (Lewis and Clark Expedition)
- (4) 排除印第安人法案 (Indian Removal Act)

- 16 墨西哥戰爭 (1846-1848) 的主要起因是什麼？
- (1) 密蘇里妥協案 (Missouri Compromise)
 - (2) 加州發現金礦
 - (3) 通過西北法令 (Northwest Ordinance)
 - (4) 德州的合併

- 17 林肯總統 (Abraham Lincoln) 發佈「解放宣言」(Emancipation Proclamation) 之後，
- (1) 失去北方對戰爭的支持
 - (2) 把終止奴隸制度納入統一戰爭 (Union war) 的目標
 - (3) 強化州政府權利的原則
 - (4) 使戰爭迅速結束

18 南北戰爭 (Civil War) 之後，工業革命 (Industrial Revolution) 引起下面哪一種變化？

- (1) 更多貨物在家裡製造。
- (2) 更多人離開城市搬到鄉村。
- (3) 政府對大企業進行更多管制。
- (4) 使用更多機械來製造貨物。

19 十九世紀時，有刺的鐵絲網及草皮屋最常見於

- (1) 大平原 (Great Plains)
- (2) 大南方 (deep South)
- (3) 五大湖區 (Great Lakes)
- (4) 西北太平洋沿岸

依據以下這首詩和你的社會科學知識來回答第20題。

「把那些疲憊不堪、窮極無告的百姓給我，
把那些飽受摧殘、渴望自由的群眾給我，
把那些擁擠在海岸邊一貧如洗的人們給我，
把那些被暴風雪侵襲、無家可歸的人給我；
我將在金色的門邊高舉著火炬！」
— 艾瑪•拉撒路 (Emma Lazarus)

20 這首詩主要的訊息是

- (1) 鼓勵獲得自由的奴隸重返非洲
- (2) 呼籲監禁非法移民
- (3) 歡迎新移民來到美國
- (4) 支持移民的配額系統

21 霍桑 (Nathaniel Hawthorne)、愛倫坡 (Edgar Allan Poe) 以及惠特曼 (Walt Whitman) 與美國最相關的一點是

- (1) 政治改革
- (2) 文學
- (3) 工會
- (4) 民粹主義

22 「抹黑派」(muckrakers) 的主要目標是

- (1) 改變美國的移民模式
- (2) 提供更廣泛的經濟機會
- (3) 揭露企業和政府的腐敗
- (4) 對抗種族歧視和隔離

依據以下這份公告和你的社會科學知識來回答第23題和第24題。

公告！

打算從事大西洋之旅的旅客請注意，德國及其同盟正與英國及其同盟交戰；戰區包括不列顛群島的鄰近水域；根據德國政府發佈的正式公告，凡是懸掛英國或其同盟國旗的船隻經過這些水域時，都有可能受到德國攻打。搭乘英國或其同盟的船隻航經戰區的旅客，需要自負安危。

德國大使館

(IMPERIAL GERMAN EMBASSY)

哥倫比亞特區華盛頓市，1915年4月22日

23 哪一個國家以這份報紙公告警告國際旅客？

- (1) 加拿大
- (2) 德國
- (3) 英國
- (4) 美國

24 這份報紙公告發佈不久之後，就發生哪個事件？

- (1) 第一次世界大戰在歐洲爆發。
- (2) 美國向德國宣戰。
- (3) 協約國 (Allies) 最終戰勝同盟國 (Central Powers)。
- (4) 西塔尼亞號 (Lusitania) 在愛爾蘭海岸沈船。

25 哈林文藝復興 (Harlem Renaissance) 產生的一個影響是什麼？

- (1) 結束非裔美國人的禁酒時期。
- (2) 鼓勵成立多種族的公司。
- (3) 非裔美國人的文化在許多城市欣欣向榮。
- (4) 一次世界大戰的許多非裔美國退役軍人面臨失業。

26 「新政」(New Deal) 受到某些人的反對，因為他們認為

- (1) 它會危及自由企業體系
- (2) 國會對總統的權力太大
- (3) 婦女不應該獲得投票權
- (4) 最高法院應該擬定政府政策

27 富蘭克林·羅斯福總統 (Franklin D. Roosevelt) 在1940年推行「租賃計劃」(Lend-Lease program)，旨在

- (1) 擴展新政計劃以協助佃農
- (2) 為同盟國提供戰爭用品
- (3) 重新安置日裔美國人
- (4) 建立聯合國

28 在兩次世界大戰期間，婦女協助戰爭的方式是

- (1) 加入步兵團
- (2) 在工廠上班
- (3) 獲得投票權
- (4) 回到大學上課

29 亨利·杜魯門 (Harry Truman) 總統決定在廣島 (Hiroshima) 投擲原子彈，因為他

- (1) 認為美國應該相先打贏亞洲的戰爭
- (2) 不希望蘇聯獲得原子科技
- (3) 希望把焦點轉離國內的經濟問題
- (4) 希望迅速結束戰爭，挽救美國人的性命

30 二次世界大戰之後舉行的紐倫堡 (Nuremberg) 審判，審判對象被指控

- (1) 太平洋的戰爭罪行
- (2) 滅絕歐洲的猶太人及其他團體
- (3) 開發原子彈
- (4) 協助北大西洋公約組織 (NATO) 圍堵共產黨

依據以下引文和你的社會科學知識來回答第31題。

「我們將以靈魂之力來迎合您的體力。不論您如何對待我們，我們仍會敬愛您……炸毀我們的房屋，威脅我們的家園和孩子，儘管如此困難，我們仍然敬愛您……」

31 下面哪個人的觀點和這段引文最接近？

- (1) 甘乃迪總統 (John F. Kennedy)
- (2) 麥爾坎X (Malcolm X)
- (3) 小馬丁·路德金恩 (Martin Luther King, Jr.)
- (4) 參議員約瑟夫·麥卡錫 (Joseph McCarthy)

32 布希總統 (George Bush) 在1990年決定派遣軍隊到波斯灣，展現總統哪一種身份的憲法權力

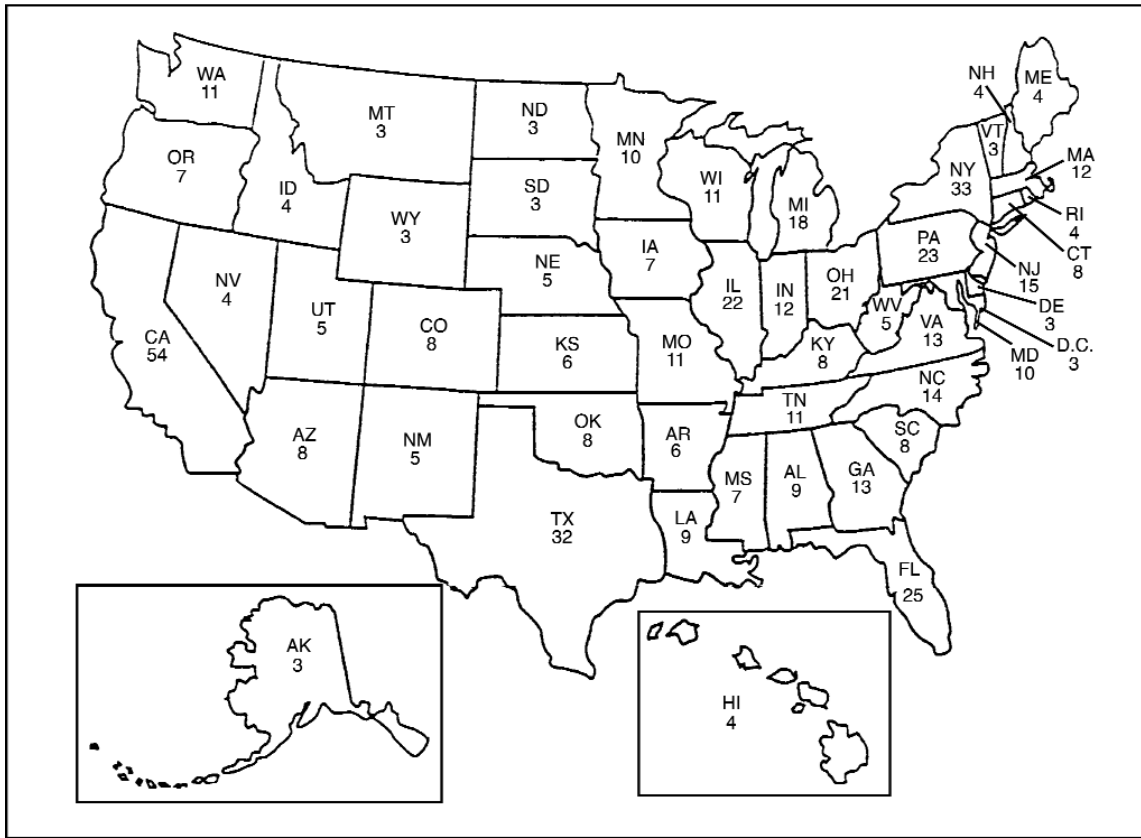
- (1) 三軍總司令
- (2) 政黨領袖
- (3) 一國的形式首長
- (4) 內閣首腦

33 根據供需法則，供給多於需求時會導致

- (1) 關稅降低
- (2) 價格降低
- (3) 稅金增高
- (4) 利率增高

依據以下的地圖和你的社會科學知識來回答第34題和第35題。

2000年各州的選舉人票數



34 這張地圖最能支持有關總統大選的哪一句陳述？

- (1) 各州選舉總統的權力都相同。
- (2) 面積最大的州擁有最大的選舉總統權力。
- (3) 阿拉斯加和夏威夷沒有參與總統選舉。
- (4) 各州選舉總統的權力並不相同。

35 為什麼總統候選人會花更多時間在加州、德州和紐約州競選？

- (1) 展示對選舉團 (electoral college) 的支持
- (2) 獲得這些州的農業選票
- (3) 獲得最多的選舉人票
- (4) 以最短的距離在州際之間旅行

36 「糖蜜到蘭姆酒到奴隸」這句口號是關於

- (1) 「五月花號協定」(Mayflower Compact)
- (2) 戒酒運動
- (3) 政府對大企業的管制
- (4) 三角貿易

37 索貞納•特魯斯 (Sojourner Truth)、福德列克旦•格拉斯 (Frederick Douglass) 和海麗特•塔布曼 (Harriet Tubman) 與什麼運動有關？

- (1) 擴張主義
- (2) 戒酒運動
- (3) 禁酒運動
- (4) 廢奴主義

38 以下哪一句陳述最能描述二十世紀晚期的經濟潮流？

- (1) 工作場所的女性人數逐漸減少。
- (2) 在美國出售的產品有越來越多是在外國製造。
- (3) 更多人從事農業。
- (4) 工作場所使用的電腦數目減少。

39 用哪一個標題完成下面的大綱最適當？

I. _____

- A. 激烈的民族主義
- B. 軍事主義
- C. 糾結的聯盟

- (1) 一次世界大戰的起因
- (2) 南北戰爭的起因
- (3) 門羅主義 (Monroe Doctrine) 的影響
- (4) 睦鄰政策 (Good Neighbor Policy) 的影響

40 馬歇爾計劃 (Marshall Plan)、北大西洋公約組織 (NATO)，以及杜魯門主義 (Truman Doctrine) 都是反映出美國

- (1) 在經濟大蕭條時期 (Great Depression) 的經濟政策
- (2) 第二次世界大戰後與歐洲的牽連
- (3) 1960年代的民權活動
- (4) 載人登上月球的努力

41 「閃電行動席捲歐洲」
「重新安置日裔美國人」
「杜魯門接掌總統」

這些頭條新聞指的是二十世紀哪段時期？

- (1) 一次世界大戰
- (2) 二次世界大戰
- (3) 越戰
- (4) 波斯灣戰爭

42 與柏林空運、韓戰及古巴飛彈危機相關的事件是

- (1) 進步黨時代 (Progressive Era)
- (2) 新政 (New Deal)
- (3) 大社會 (Great Society)
- (4) 冷戰 (Cold War)

依據以下的陳述和你的社會科學知識來回答第43題和第44題。

發言人A：「美國搶先在其他國家之前奪取菲律賓是正確的行為。我們可以利用當地的天然資源和港口。」

發言人B：「我們把古巴人從西班牙人手裡救出來。給他們太多自由很危險；為了他們著想，我們一定要進行控制。」

發言人C：「我們無法冒險讓歐洲政府把軍隊派到南美洲。如果我們希望安定，一定要自己控制這個半球。」

43 這些發言人的主題是什麼？

- (1) 帝國主義
- (2) 孤立主義
- (3) 中立主義
- (4) 進步主義

44 這些討論最可能出現在哪一場事件之後？

- (1) 獨立戰爭 (Revolutionary War)
- (2) 南北戰爭
- (3) 美西戰爭
- (4) 二次世界大戰

45 用哪一個標題完成下面的大綱最適當？

I. _____

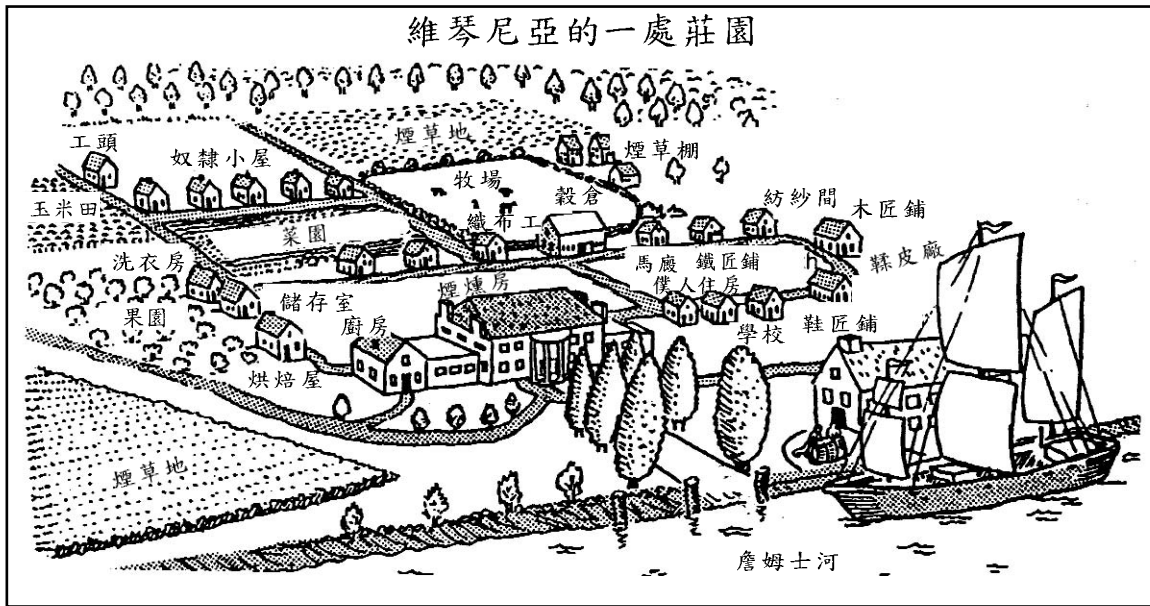
- A. 以保證金購買股票
- B. 個人過度使用信用
- C. 貨物需求下降

- (1) 經濟大蕭條 (Great Depression) 的原因
- (2) 勞工運動 (Labor Movement) 的興起
- (3) 鍍金年代 (The Gilded Age)
- (4) 壟斷及托拉斯的效果

第二部份

請把問題的答案寫在本測驗卷的空白處。

依據下圖和你的社會科學知識來回答第1至第3題。



1 圖中的什麼資料顯示莊園可以自給自足？ [1]

Score-得分

2 為什麼航道邊的位置對於莊園的成功非常重要？ [1]

Score-得分

3 莊園主人主張莊園的工作需要大量勞工才能完成。請指出這個莊園使用勞力的兩種方式。 [2]


(1) _____

Score-得分

(2) _____

Score-得分

依據下圖和你的社會科學知識來回答第4至第6題。



4 上圖顯示哪一種工業大量生產的方法？ [1]

Score-得分

5 這種方法對於消費品的製造有什麼影響？ [1]

Score-得分

6 指出在這種大量生產形式的勞工具有的一項優勢和一項不利之處。 [2]

優勢： _____

Score-得分

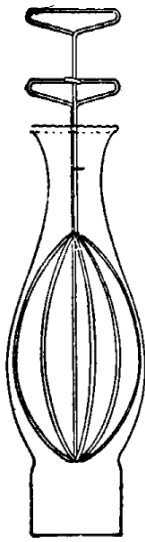
不利之處： _____

Score-得分

依據以下的資料和你的社會科學知識來回答第7至第9題。

西爾斯，羅巴克目錄 (Sears, Roebuck Catalog, 1890年代)

雜類貨品



玻璃燈罩清潔器


No. 15054 本產品用途廣泛，但卻是清潔玻璃燈罩的最佳發明。此處插圖顯示清潔器可以把抹布伸到燈罩的各個角落。

單價.....3分
一打.....30分



No. 15055 玻璃燈罩清潔絲，洗碗抹布架，開瓶塞器等。

單價6分；一打.....56分



洗鍋器

金屬洗鍋鏈或洗碗刷。

No. 15056 小型
單價.....5分
一打.....54分

No. 15057 大型。
單價.....7分
一打.....75分



No. 15058 有柄金屬洗鍋鏈或洗碗刷。可轉動鐵絲把柄，鮮豔的鐵線圈。

單價8分；一打.....85分



No. 15059 感應式洗鍋鏈及刷鍋刮刀是一項有用的新產品，每個環圈都由兩層組成，非常耐用。手把

以展性鐵製成；鋼製刀鋒；手把及刮刀鍍錫。重量4盎司，單價10分；一打.....1.08美元



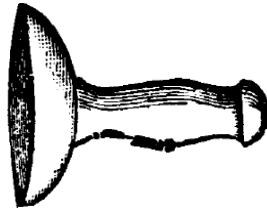
No. 15060 洗碗時您的雙手不必再接觸熱水。本款棉製洗碗抹布

牢牢固定在手把上。長12英寸；重量4盎司。單價8分；一打.....87分

拔塞器




豬皮刮刀



No. 15075 豬皮刮刀。保證第一次使用就值回價格。木頭手把，刮刀以十八號鋼片製成。單價.....18分

No. 15076 豬皮刮刀，以十八號鋼片製成。單價.....8分

鋸齒狀鐵剪



No. 15078 鋸齒狀鐵剪，菱形齒，3/8、1/2、3/5、3/4、7/8或1英寸。

單價6分；一打(各式).....65分

小腳輪

薄板小腳輪適用於桌子、椅子、梳妝台、架子等。費城模式，容易安裝，堅固耐用。

No. 15079 薄板小腳輪，7/8英寸古銅鍍鐵輪子。費城模式。一組四個.....6分

No. 15080 薄板小腳輪，7/8英寸瓷輪。費城模式。一組四個.....7分

No. 15081 薄板小腳輪，7/8英寸遮蔭木輪。費城模式。一組四個.....8分

一套床鋪腳輪共有四個小腳輪及相應托座。

No. 15086 床鋪腳輪，1 5/8英寸古銅鍍鐵輪子。一組.....8分

No. 15087 床鋪腳輪，1 5/8英寸瓷輪。一組.....9分

No. 15088 床鋪腳輪，2英寸遮蔭木輪子。一組.....10分



信箱

No. 15094 郵差的朋友。改良式信箱，具有鍍銀裝飾品，可防盜及防雨；不必再擔心彈簧會損壞。

單價.....50分

纏線盒

No. 15096 改良式垂掛纏線盒，黃銅表漆。

單價.....12分

No. 15097 改良式立式或櫃台纏線盒，有底座，可固定在櫃台上。

單價.....20分



胡桃鉗



No. 15098 鍍銀胡桃鉗及剔棍，鍍銀；長5英寸。...

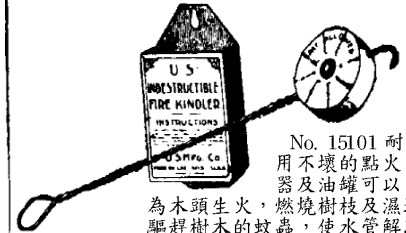


玻璃燈罩爐灶

No. 15101 玻璃燈罩爐灶，如圖所示，適合任何頂端呈波浪狀的玻璃燈罩。幾分鐘之內即可把水燒開。

單價.....3分
一打.....35分

點火器



No. 15101 耐用不壞的點火器及油罐可以為木頭生火，燃燒樹枝及濕地，驅趕樹木的蚊蟲，使水管解凍，還有其他多種功能。長12英寸，重5盎司，單價.....25分

開罐器

No. 15102 史塔開罐器，是品質最佳的開罐器之一。鋼製刀鋒，展性鐵前導，鍍銀，古橡木把手及黃銅套管。既美觀又可靠。長6 1/2英寸，重3盎司。



單價，10分；一打.....1.08美元

No. 15103 史塔開罐器，與上同。鐵製把手，整體鍍銀。長6 1/2英寸，重3盎司。



單價8分；一打.....57分

No. 15104 開罐器，鋼製刀鋒，鑄型手把。單價4分；一打.....38分

No. 15105 史布瑞開罐器無疑是市面上同種價格的最佳開罐器。

單價5分；一打.....54分

No. 15109 快射彈弓或彈弓。男孩的最佳玩伴。...



資料來源：Drewry, O'Connor and Freidel, *America Is*, Charles E. Merrill Publishing Co.

7 指出目錄中一項與今天廣泛使用的產品很類似的產品。 [1]

Score- 得分

8 從目錄中找出一項產品，解釋該產品為什麼在今天不再被廣泛使用。 [1]

Score- 得分

9 陳述運輸系統的改善為什麼對郵購業的成功非常重要。 [1]

Score- 得分

依據以下的漫畫和你的社會科學知識來回答第10至第12題。

... 在此同時，在大後方



10 指出這幅漫畫的主題。 [1]

_____ Score-得分

11 為漫畫中的兩個觀點提出一個支持的理由。 [2]

留在越南： _____

_____ Score-得分

滾出越南： _____

_____ Score-得分

12 這幅漫畫顯示憲法保障的哪一種權利？ [1]

_____ Score-得分

FOR TEACHER USE ONLY
Part II Score _____

