

THE UNIVERSITY OF THE STATE OF NEW YORK

8年級

CHINESE EDITION  
GRADE 8 SOCIAL STUDIES  
BOOK I  
INTERMEDIATE LEVEL

中等程度測驗  
社會科學

第一卷  
選擇題和問答題

2003年6月

姓名 \_\_\_\_\_

學校 \_\_\_\_\_

請用工整字跡在以上畫線部份填寫你的姓名和學校名稱。

本測驗包含三部份。本卷包含第一部份和第二部份；第二卷包含第三部份。

第一部份包括45道多重選擇題。請在另外的答案卷上標出答案。在答案卷上僅限使用2號鉛筆。

第二部份包含幾道簡答題。請把第二部份的答案寫在本卷中。

第一卷的答題時間為一個半小時。

在接到指令前請勿打開本考卷

Copyright 2003  
THE UNIVERSITY OF THE STATE OF NEW YORK  
THE STATE EDUCATION DEPARTMENT  
ALBANY, NEW YORK 12234

## 第一部份

### 說明

第一部份考試共有45道考題。每道考題有四個答案供選擇，分別標為1至4。請仔細閱讀考題，選出一個正確的答案。然後在另外分開的答卷紙上，根據你選擇的答案號碼把該考題下豎列的相應答案圓圈塗黑。

請閱讀以下例題：

#### 例題

哪一個城市是美國的首都？

- (1) 波士頓(Boston)
- (2) 哥倫比亞特區華盛頓市(Washington, D.C.)
- (3) 紐約市(New York City)
- (4) 費城(Philadelphia)

正確的回答是哥倫比亞特區華盛頓市(Washington, D.C.)，答案號碼為2。在答卷紙上，你可看到方框內示範考題下豎列的答案圓圈。由於示範考題的正確答案為2，所以2號圓圈已被塗黑。

請以同樣的方式回答第一部份的所有問題。每道題只能塗黑一個圓圈。如果需要更改，請用橡皮擦把原來填寫的答案擦乾淨。你也許不知道某些問題的正確答案，但請盡力回答每一道題。

第一部份結束後，請繼續做第二部份。

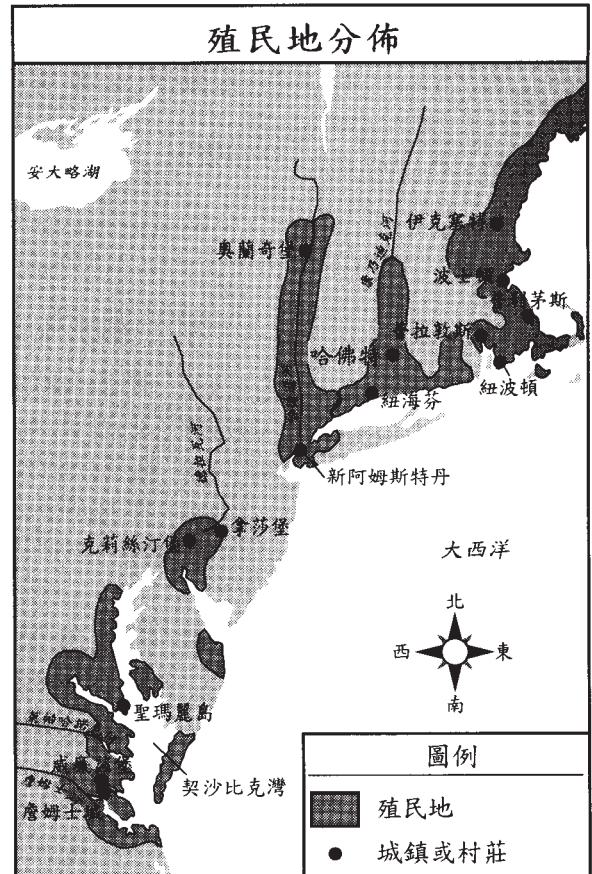
## 第一部份

### 請回答本部份的所有問題

說明(1-45)：在另外的答案紙上，根據每一題的陳述或問題，填入代表最適當答案的編號。

- 三面環水的陸地叫做
  - (1) 半島
  - (2) 海峽
  - (3) 島嶼
  - (4) 地峽
- 下面哪一種資料來源是主要來源的例子？
  - (1) 百科全書
  - (2) 詞典
  - (3) 同義詞辭典
  - (4) 分類期刊
- 馬雅(Maya)帝國和阿茲提克(Aztec)帝國曾經位於什麼地方？
  - (1) 加拿大
  - (2) 中美洲
  - (3) 美國東南部
  - (4) 歐洲西南部
- 長屋曾經是下列哪族人使用的一種居所？
  - (1) 塞米諾爾人(Seminoles)
  - (2) 伊洛垮人(Iroquois "Haudenosaunee")
  - (3) 內珀西人(Nez Perce)
  - (4) 普韋布落人(Pueblos)
- 下列哪一項導致了其餘三項？
  - (1) 疾病奪去了美國原住民印地安人的生命。
  - (2) 歐洲人和美洲人共同分享新種類食物。
  - (3) 歐洲各國向美洲派遣探險者。
  - (4) 非洲人作為奴隸被帶到美洲。
- 「五月花號公約」的主要目的是什麼？
  - (1) 在殖民地建立宗教自由
  - (2) 確保服從英國國王的統治
  - (3) 為債權人和罪犯提供一個新機會
  - (4) 建立一個對殖民地有益的政府

請依據下面的地圖及你的社會學知識回答第7題。



資料來源：摘自《探索美國歷史》(Exploring American History)，Melvin Schwartz及John O'Connor著，Globe Book Company, Inc. 出版。

- 7 地圖中的資料表示早期殖民者
  - (1) 無法達到政治上的統一。
  - (2) 居住在彼此相隔幾哩的城鎮和村莊。
  - (3) 在臨近水域的地方建立住所。
  - (4) 與美國原住民印地安人難以相處。

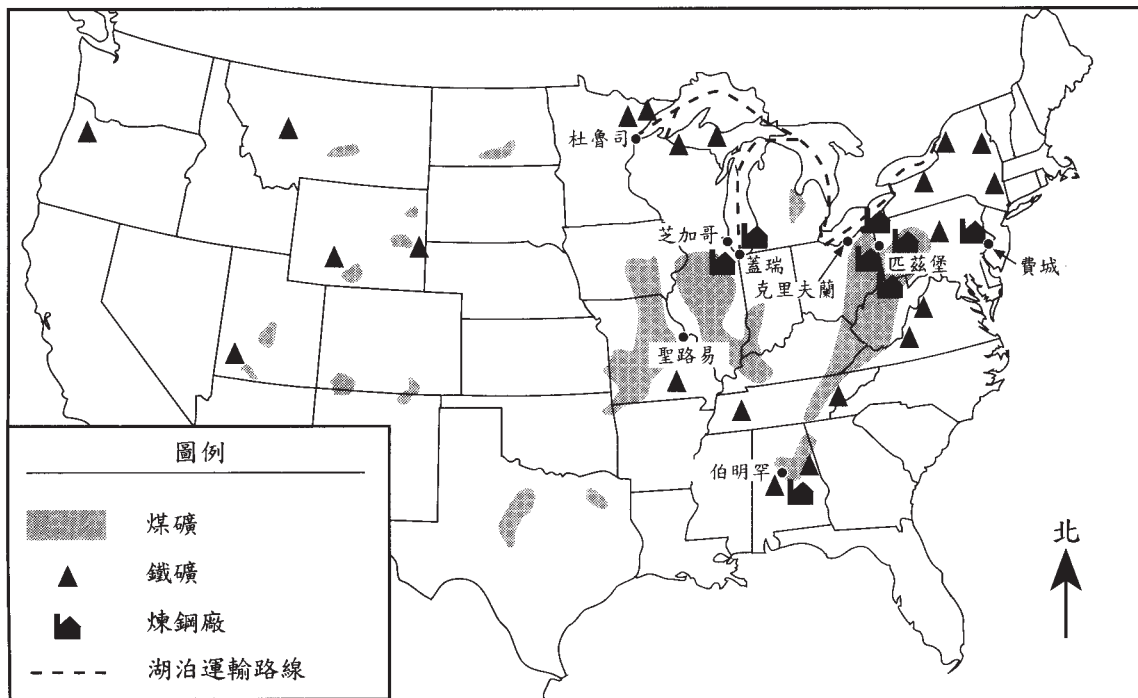
- 8 在新法蘭西謀生的最謀利的方式是什麼？
- (1) 捕魚和皮革貿易
  - (2) 採掘黃金和白銀
  - (3) 菸草和稻米的商品化種植
  - (4) 碾碎業和製造業
- 9 英國通過的《航海法案》的主要目的是
- (1) 限制在英國海域的船隻大小
  - (2) 保證英國在殖民貿易中獲益
  - (3) 為英國海軍訓練水手
  - (4) 限制在美洲殖民地的製造業
- 10 《獨立宣言》的主要目的是
- (1) 勸說英國結束在美國的奴隸制
  - (2) 列出殖民地應該不受英國控制的各項理由
  - (3) 為美國革命提供一項財政資助方案
  - (4) 勸國王給予殖民地者更多的土地
- 11 殖民地在獨立戰爭之前抵制英國商品是一些有效的措施，因為它們
- (1) 減少了英國商人的利潤
  - (2) 降低了進口產品的價格
  - (3) 造成在殖民地的英國軍隊供給短缺
  - (4) 使美國人能夠開設自己的工廠
- 12 在1777年採納的紐約州憲法非常重要，因為它
- (1) 對《獨立宣言》的起草有啟發作用
  - (2) 保持了英國對紐約州的影響
  - (3) 成為美國憲法的範本
  - (4) 賦予所有成年男子選舉權
- 13 參加1787年制憲會議的代表們同意五分之三妥協法作為一種方法來
- (1) 限制總統的權力
  - (2) 為婦女提供法定權利
  - (3) 解決國會議員代表的差異
  - (4) 建立參議員的任期
- 14 美國憲法序言稱統治權來自於
- (1) 各州
  - (2) 總統
  - (3) 最高法院
  - (4) 人民
- 15 在批准憲法的爭論中，擁護聯邦黨與反對聯邦黨人的主要分歧是
- (1) 如何明智地與英國保持友好關係
  - (2) 是否需要繼續推行奴隸制
  - (3) 是否選舉喬治·華盛頓為第一任總統
  - (4) 如何劃分聯邦政府與各州之間的權力
- 16 下列哪一項表示權力制衡體系的作用？
- (1) 總統向歐洲派遣維和部隊。
  - (2) 國會通過管制手槍銷售的法律規定。
  - (3) 參議院拒絕總統關於最高法院法官人選的提名。
  - (4) 紐約州州長與總統討論政策問題。
- 17 湯瑪斯·傑弗遜(Thomas Jefferson)總統派遣路易斯(Lewis)與克拉克(Clark)前往新購買的路易斯安那領地(Louisiana Territory)主要是為了
- (1) 探索該地區並繪製地圖
  - (2) 搜尋黃金及其它貴重礦藏
  - (3) 改善與美國原住民印地安人之間的關係
  - (4) 迫使英國和西班牙殖民者離開該地區

- 18 軋棉機促進了紡織業的發展，因為它
- (1) 減少了種植棉花籽所需要的時間
  - (2) 改進了棉布編織工藝
  - (3) 使非技術奴隸能夠種植棉花
  - (4) 為從棉纖維中分離出棉花籽提供了一個更快的方法
- 19 在1840年時期，紐約州塞尼卡福爾斯(Seneca Falls, New York)成為下面哪一個運動的中心？
- (1) 女權運動
  - (2) 禁酒運動
  - (3) 工會組織
  - (4) 州權
- 20 在19世紀上半葉，廢止運動導致
- (1) 結束奴隸制度
  - (2) 促進公務人員服務制度
  - (3) 建立免費公立學校
  - (4) 限制酒類飲料的消費量
- 21 與墨西哥之間的戰爭(1846-1848)直接帶來下列哪種情況？
- (1) 獲得俄勒岡(Oregon)殖民地
  - (2) 兼併德州(Texas)
  - (3) 在加州發現黃金
  - (4) 將美國原住民印地安人從他們的土地上驅逐出去
- 22 使南方和北方分裂並導致美國國內戰爭的一個原因是
- (1) 總統任期的期限
  - (2) 最高法院採用司法審查制度
  - (3) 各州與聯邦政府之間的權力平衡
  - (4) 彈劾(impeachment)程序的應用

- 23 在重建之後，南方白人透過下列哪一項行動重新獲得南方州政府的控制權？
- (1) 結束《黑人條例》
  - (2) 限制非洲裔美國人的選舉權
  - (3) 強迫大多數非洲裔美國人遷移到北方
  - (4) 將佃農制度僅限於白人
- 24 在1800年時期，愛爾蘭移民面臨歧視，主要是因為他們的
- (1) 宗教信仰
  - (2) 上流社會背景
  - (3) 保守的政治觀點
  - (4) 不願意學習英語
- 25 在*Plessy v. Ferguson*(1896)案例的判決中所訂下的「隔離但平等」原則導致
- (1) 國內戰爭的開始
  - (2) 重建時期的結束
  - (3) 種族隔離公共設施的增加
  - (4) 白人與非洲裔美國人軍隊的整合
- 26 下列哪個文學作品暴露了奴隸制的邪惡？
- (1) 《常理》(*Common Sense*)
  - (2) 《原始叢林》(*The Jungle*)
  - (3) 《怒火之花》(*The Grapes of Wrath*)
  - (4) 《黑奴籲天錄》(*Uncle Tom's Cabin*)
- 27 大多數人購買公司的股票是為了
- (1) 影響公司的決策
  - (2) 分享公司的利潤
  - (3) 改進公司員工的工作條件
  - (4) 決定公司出售的產品

請依據下面的地圖及你的社會學知識回答第28題和第29題。

### 1900年前後煉鋼廠的位置



資料來源：摘自《美國：人民與夢想》(America: The People and the Dream)，Scott Foresman and Co. 出版。(改編本)

28 根據上面的地圖可以得出關於煉鋼廠在 1900 年的哪項結論？

- (1) 為了避免大氣污染，大多數煉鋼廠都建立在郊區。
- (2) 大多數煉鋼廠東南部。
- (3) 煉鋼廠通常建立在煤礦和鐵礦附近。
- (4) 紐約是主要的產煤州。

29 煉鋼廠建立在印地安那州蓋瑞市最可能的原因是因為該城市

- (1) 臨近大西洋
- (2) 臨近大平原區
- (3) 臨近加拿大邊境
- (4) 位於湖泊運輸線上

30 「... 你提供照片，我提供戰爭。」

— William Randolph Hearst  
(致戰地記者 Frederic Remington)

上面這句話最清楚地表示了美西戰爭的哪一個原因？

- (1) 帝國主義
- (2) 軍國主義
- (3) 政治野心
- (4) 黃色新聞

31 在進步時期，很多州開始採用初選來使選民

- (1) 將選舉出的官員革職
- (2) 請求他們選舉的代表通過法律
- (3) 選擇政黨候選人競選職位
- (4) 表達他們對新擬法律的看法

請依據下面的卡通畫及你的社會學知識回答第32題。



資料來源：摘自《西爾多·羅斯福文獻》(Theodore Roosevelt Collection)，哈佛學院圖書館。(改編本)

32 這幅卡通畫將西爾多·羅斯福的統治方法描繪成

- (1) 幾種不同政治觀點的混合
- (2) 與其它方法相比更偏愛保守觀點
- (3) 採用過時的方法
- (4) 支持富人的利益

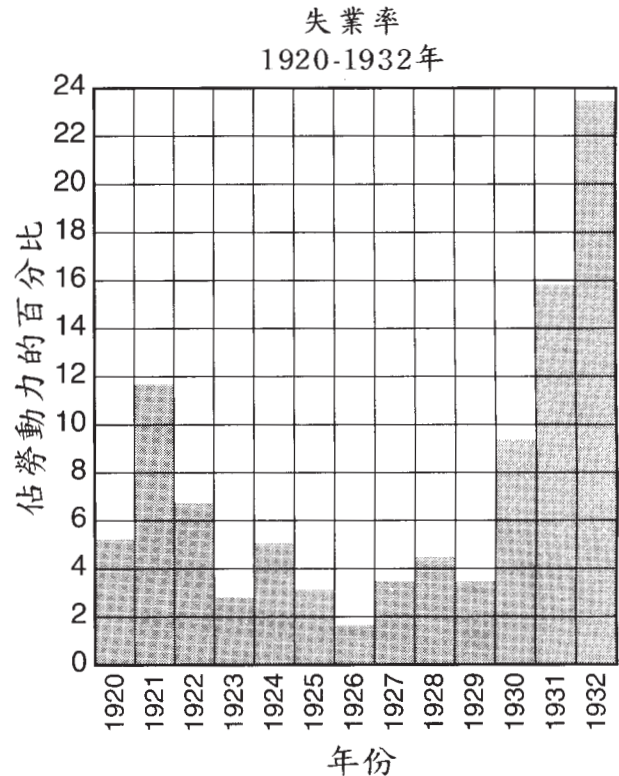
33 路易·阿姆斯壯(Louis Armstrong)、艾靈頓公爵(Duke Ellington)和貝西·史密斯(Bessie Smith)在哈林文藝復興時期(Harlem Renaissance)對下列哪個方面做出重大貢獻？

- (1) 音樂
- (2) 繪畫
- (3) 詩
- (4) 雕塑

34 帝國主義是導致第一次世界大戰的原因，這主要是因為它

- (1) 鼓勵各國建立貿易關係
- (2) 造成各國間關於殖民地的衝突
- (3) 支持整個歐洲的軍事獨裁者
- (4) 不鼓勵加入國際聯盟

請依據下圖及你的社會學知識回答第35題。



資料來源：摘自《美國歷史統計資料》(Historical Statistics of the United States)，人口統計局。(改編本)

35 下列哪個事件是與1929之後失業率迅速變化有關的因素？

- (1) 「間諜與煽動法」(Espionage and Sedition Acts)的通過
- (2) 美國拒絕加入國際聯盟
- (3) 移民的增加
- (4) 股市崩盤

36 在第二次世界大戰期間，美國婦女在外面工作的人數大幅增加，因為

- (1) 很多男人服役
- (2) 物價上升使家庭需要兩份收入
- (3) 結束僱用童工的法律為婦女帶來就業機會
- (4) 政府規定迫使業界採用僱用配額制

37 杜魯門主義(Truman Doctrine)和馬歇爾計劃(Marshall Plan)與美國推行下列哪一項行動有關?

- (1) 結束核武器試驗
- (2) 遏制共產主義的擴散
- (3) 加強其孤立主義政策
- (4) 懲罰戰爭罪犯

38 在非洲裔美國人爭取民權的鬥爭中，羅莎·帕克斯(Rosa Parks)與下列哪一項活動關係最密切?

- (1) 在華盛頓哥倫比亞特區(Washington, D.C.)的遊行
- (2) 在密西西比州(Mississippi)進行的選民登記運動
- (3) 在阿拉巴馬州蒙哥馬利市(Montgomery, Alabama)進行的抵制公車運動
- (4) 在北卡羅來納州(North Carolina)進行的靜坐示威

39 下列哪一個事件是其餘三個事件的結果?

- (1) 第二次世界大戰
- (2) 凡爾賽條約(Treaty of Versailles)的簽訂
- (3) 獨裁統治在歐洲的崛起
- (4) 國際聯盟的失敗

40 「終於成為贏家」


這條新聞標題宣佈了下面哪一年備受爭議的總統競選結果?

- |           |           |
|-----------|-----------|
| (1) 1800年 | (3) 1900年 |
| (2) 1860年 | (4) 2000年 |

41 平權措施的目的是

- (1) 為少數族裔提供平等的機會
- (2) 擴大婦女的選舉權
- (3) 承認與美國原住民印地安人的各項合約
- (4) 提供雙語教育

請依據下面的卡通畫及你的社會學知識回答第42題。



資料來源：《哈特福特新聞》(Hartford Courant)，Bob Englehart 著。(改編本)

42 該卡通畫作者對1997年提高最低工資的反應表示這次提薪

- (1) 可能結束富人與窮人之間的差距
- (2) 不足以補償生活費用的變化
- (3) 是脫離貧困的手段
- (4) 是解決福利制度的方法

43 「失業率創新高」  
「農民逃離南部大平原」  
「數百人排隊喝湯」

這些標題與哪個年代關聯最密切?

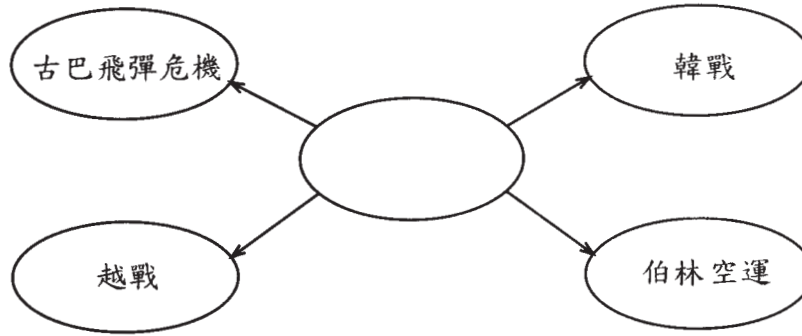
- |                  |                  |
|------------------|------------------|
| (1) 1900 - 1910年 | (3) 1921 - 1930年 |
| (2) 1911 - 1920年 | (4) 1931 - 1940年 |

44 薩拉托加(Saratoga)、蓋茲堡(Gettysburg)和諾曼地(Normandy)這三個戰役的相似之處是

- (1) 使戰爭延長
- (2) 陣亡人數很少
- (3) 是戰爭的轉折點
- (4) 最後戰敗的一方取得勝利



請依據下圖及你的社會學知識回答第45題。



45 在上圖中間圓圈內填寫下列哪一項最適當？

- (1) 美國國內政策
  - (2) 冷戰衝突
  - (3) 門羅主義(Monroe Doctrine)
  - (4) 歐洲緊張局勢
- 

請直接翻到下一頁。 ➡

**FOR TEACHER USE ONLY**

Part I Score \_\_\_\_\_

## 第二部份

請把問題的答案寫在本測驗卷的空白處。

答題說明：請依據下圖及你的社會學知識回答第1題至第3題。

### 1790 年代的各政黨

	聯邦黨	民主共和黨
政治理念	主張讓富人和受過教育的公民來管理政府 主張強大的聯邦政府	主張選擇普通平民代表 主張有限的聯邦政府
經濟理念	支持政府對商業、金融和貿易提供援助 主張建立國家銀行 主張保護性關稅	支持不對商業提供特別優惠，主張農耕 主張建立健全的州銀行 支持免稅進口
外交事務	主張保持與英國的商業聯繫並懼怕法國 支持傑條約(Jay's Treaty)	同情法國革命 反對傑條約(Jay's Treaty)
勢力範圍	在新英格蘭及沿海地區較強大 代表製造業利益、銀行家及商人	在南方、西南部及邊遠地區較強大 代表農民、手工藝者及技術工人

資料來源：摘自《美國人》(America Is)、Henry Drewry 和 Thomas O'Connor 著，Merrill Publishing Co. 出版。(改編本)

1 請給出聯邦黨如何計劃鼓勵經濟發展的一個例子。 [1]

---



---

Score-得分

2 請指出上圖中的一個事實來支持民主共和黨與聯邦黨相比鼓勵更多人參與政府的論據。 [1]

---



---

Score-得分

3 為什麼不同群體要組成政黨？ [1]

---



---

Score-得分

請依據下面的地圖及你的社會學知識回答第4題至第6題。

### 美國版圖的擴大 — 1803年



4 哪個歐洲國家在1803年控制著佛羅里達？ [1]

---

---

Score-得分

5 美國如何獲得地圖中標有問號的地區？ [1]

---

---

Score-得分

6 指出標有問號的土地使美國受益的兩種方式？ [2]

(1) 

---

(2) 

---

Score-得分

請依據下面的信函及你的社會學知識回答第 7 題至第 9 題。

### 一名兒童在經濟大恐慌時期寫的一封信

俄亥俄州華倫市  
1935年12月22日

親愛的羅斯福總統：

請幫幫我們，我的母親已經患病三年並住院三個月，她已經出院但病情並沒有好轉。我的父親身體癱瘓，不能工作，我們很貧困，社區基金給了我們六美元，我們家共有六口人，其中包括四個孩子，三個男孩分別是15歲、13歲和12歲，一個女孩今年10歲，再加上我們的父母。沒有人送給我們聖誕禮物，如果您願意給我們買一個聖誕禮物，請給我們買一個爐子，讓我們能用它燒飯，做好吃的麵包。

我的信寫的不好，因為是 10 歲的女孩寫的，請原諒。

祝聖誕快樂  
[匿名]

資料來源：《經濟大恐慌前後》(Down and Out in the Great Depression)，Robert McElvaine 著，北卡羅來納大學出版社。

7 這封信是在哪一年寫的？ [1]

Score-得分

8 請指出這個家庭面臨的兩個困難。 [2]

(1) \_\_\_\_\_

(2) \_\_\_\_\_

Score-得分

Score-得分

9 寫出使信中描述的那些人得到幫助的一個「新政」計劃的名稱。 [1]

\_\_\_\_\_

Score-得分

請依據下面的演講及你的社會學知識回答第10題至第12題。

#### 四大自由演講

... 我們追求安全的未來，在那時我們期待有一個建立在四項基本自由基礎上的世界。

第一是普天下言論和表達自由。

第二是普天下每個人都有按自己的方式崇拜神的自由。

第三是普天下不虞匱乏的自由，從全球的角度說，意味著保證使每個國家的居民過上健康的和平時期生活的經濟共識。

第四項是普天下沒有恐懼的自由，從全球的角度說，意味著世界範圍的裁軍，它是如此全面徹底，以致任何國家都無法對他國發動武裝侵略。

— 富蘭克林·羅斯福  
1941年1月6日

10 指出這一演講的世界領導人。 [1]

Score-得分

11 指出本文件援引的一項在美國權利法案中特別提及的基本權利。 [1]

Score-得分

12 在進行本演講的時候，為什麼自由是一個世界性問題？ [1]

Score-得分

**FOR TEACHER USE ONLY**

Part II Score