

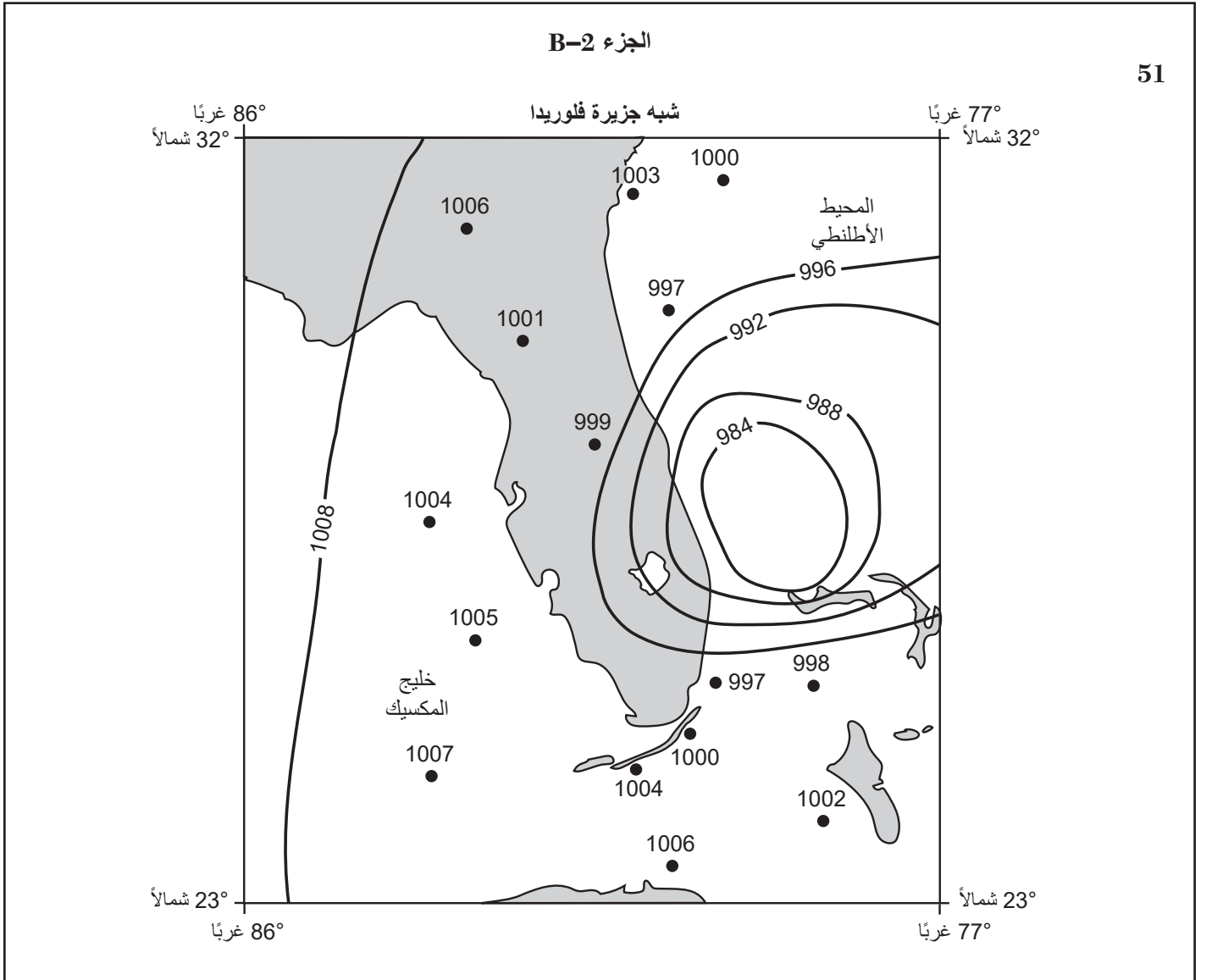
المحيط المادي علوم الأرض

الخميس، 20 يونيو/حزيران، 2024 — من 9:15 صباحًا إلى 12:15 ظهرًا، فقط

كتيب الإجابات

..... الطالب.
..... المدرس.
..... المدرسة.
..... الصف

سجل إجاباتك عن الجزء B-2 والجزء C في هذا الكتيب.



52 _____ بوصة زئبقية

53 _____

54 _____

55 _____ درجة مئوية

56 _____

57 _____

58 _____

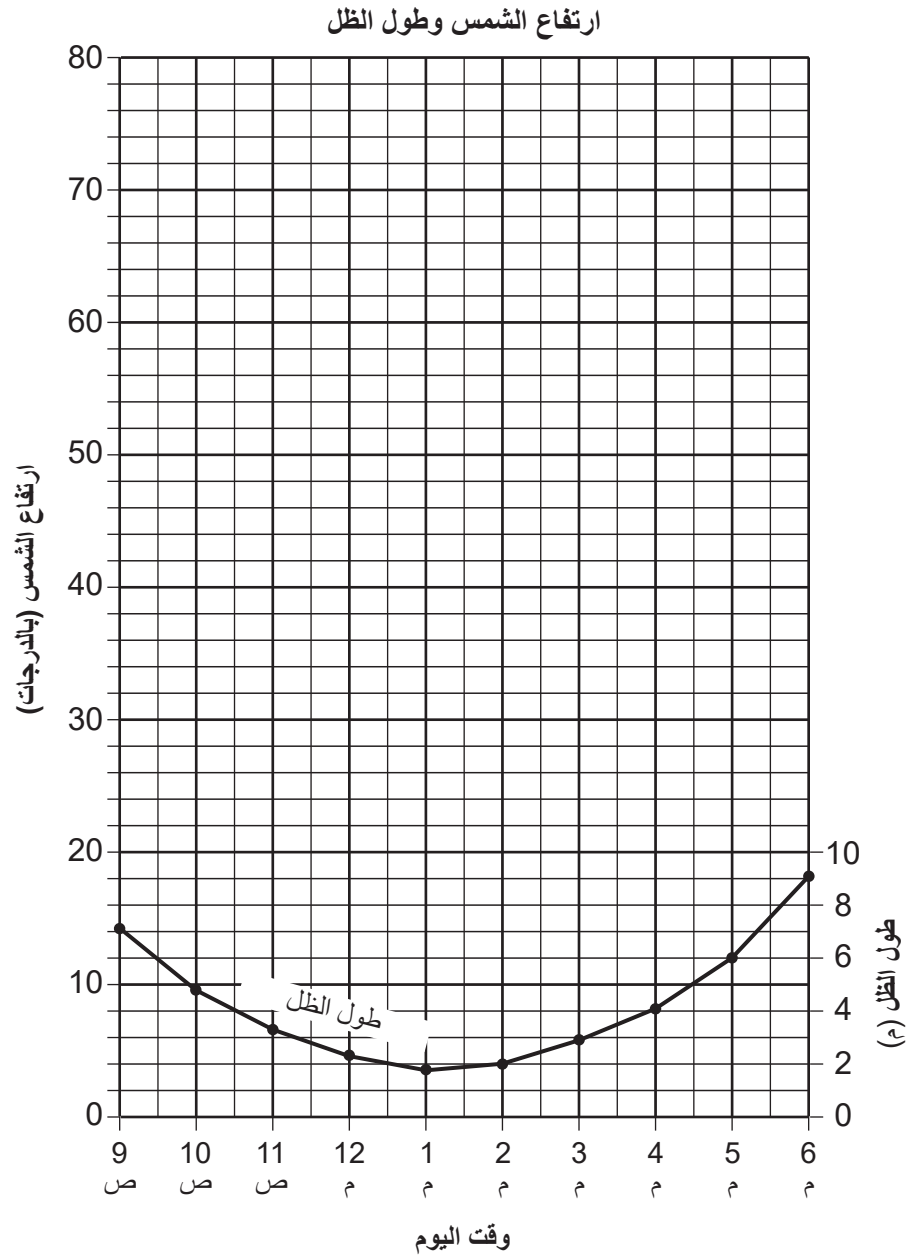
59 ارسم دائرة حول إجابة واحدة: دافئ بارد

تيار محيطي: _____

60 _____

61 _____ قدم/سنة

62 _____



64

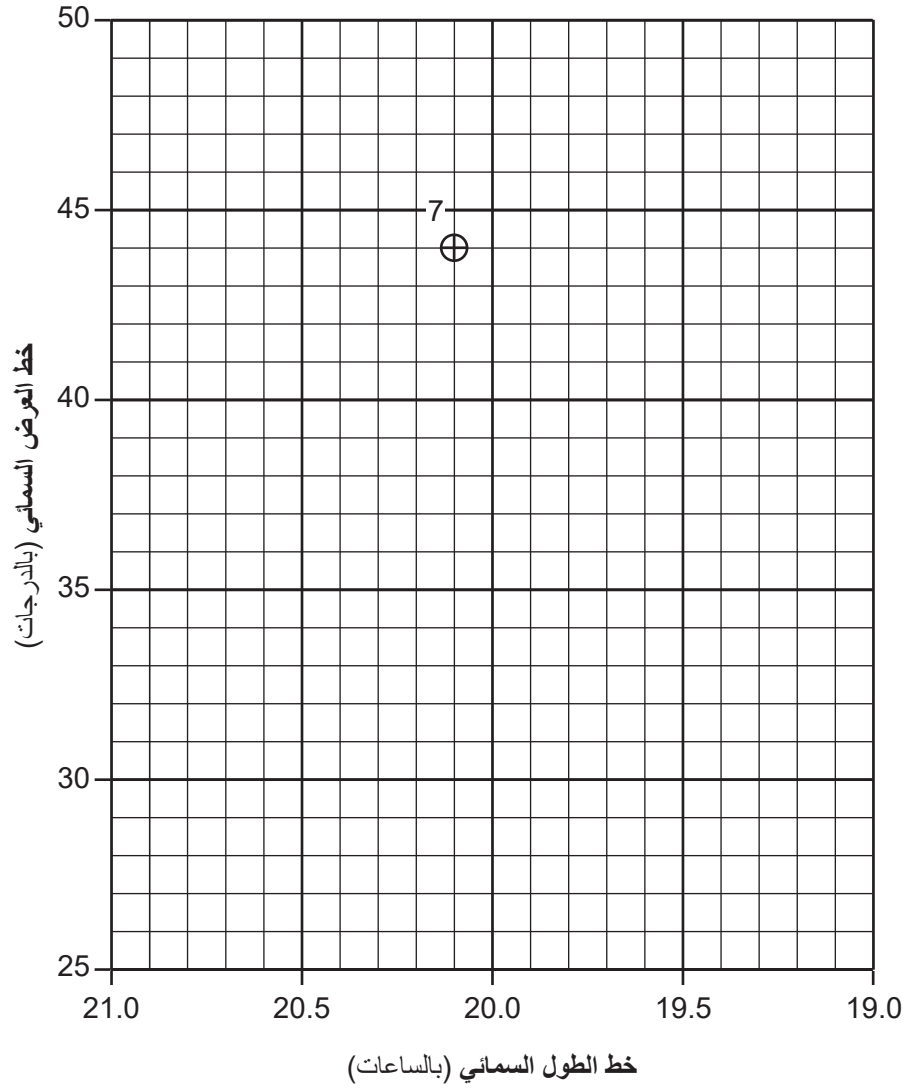
65 م

الجزء C

66 العصر _____

67 العمر النسبي لـ YZ (ارسم دائرة حول إجابة واحدة): أصغر أكبر مماثل

الدليل: _____



69

70

71

التصنيف	اللون	النجوم المحددة في مجموعة الدجاجة
نجم فوق عملاق	أبيض	ذنب الدجاجة
		منقار الدجاجة
		النجم تابي

72 _____ و _____

73 _____

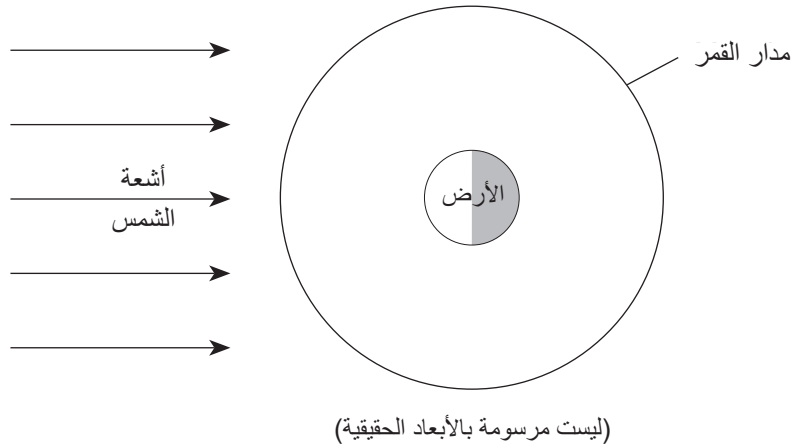
74

القيمة	متغير الطقس
%	غطاء سحابي
F°	درجة حرارة الجو
F°	نقطة الندى
مليبار	الضغط الجوي

75 8 نوفمبر/تشرين الثاني 2022، خسوف قمري (ارسم دائرة حول إجابة واحدة): مرئي غير مرئي

20 أبريل/نيسان 2023، كسوف شمسي (ارسم دائرة حول إجابة واحدة): مرئي غير مرئي

76



77 _____ درجة مئوية

78 _____

79 العمر: _____ مليون سنة

التوجيه المغناطيسي: قطبية _____

80 صفحة _____ و صفحة _____

81 _____

82 _____

83 _____

84 تكوّن الجبال _____

85 العمر النسبي لماسات هيركيمير (ارسم دائرة حول إجابة واحدة): أصغر أكبر مماثل

الدليل: _____
