

ফিজিক্যাল সেটিং ভূ-বিজ্ঞান

বৃহস্পতিবার, 20 জুন 2024 — সকাল 9:15 থেকে দুপুর 12:15 পর্যন্ত শুধু

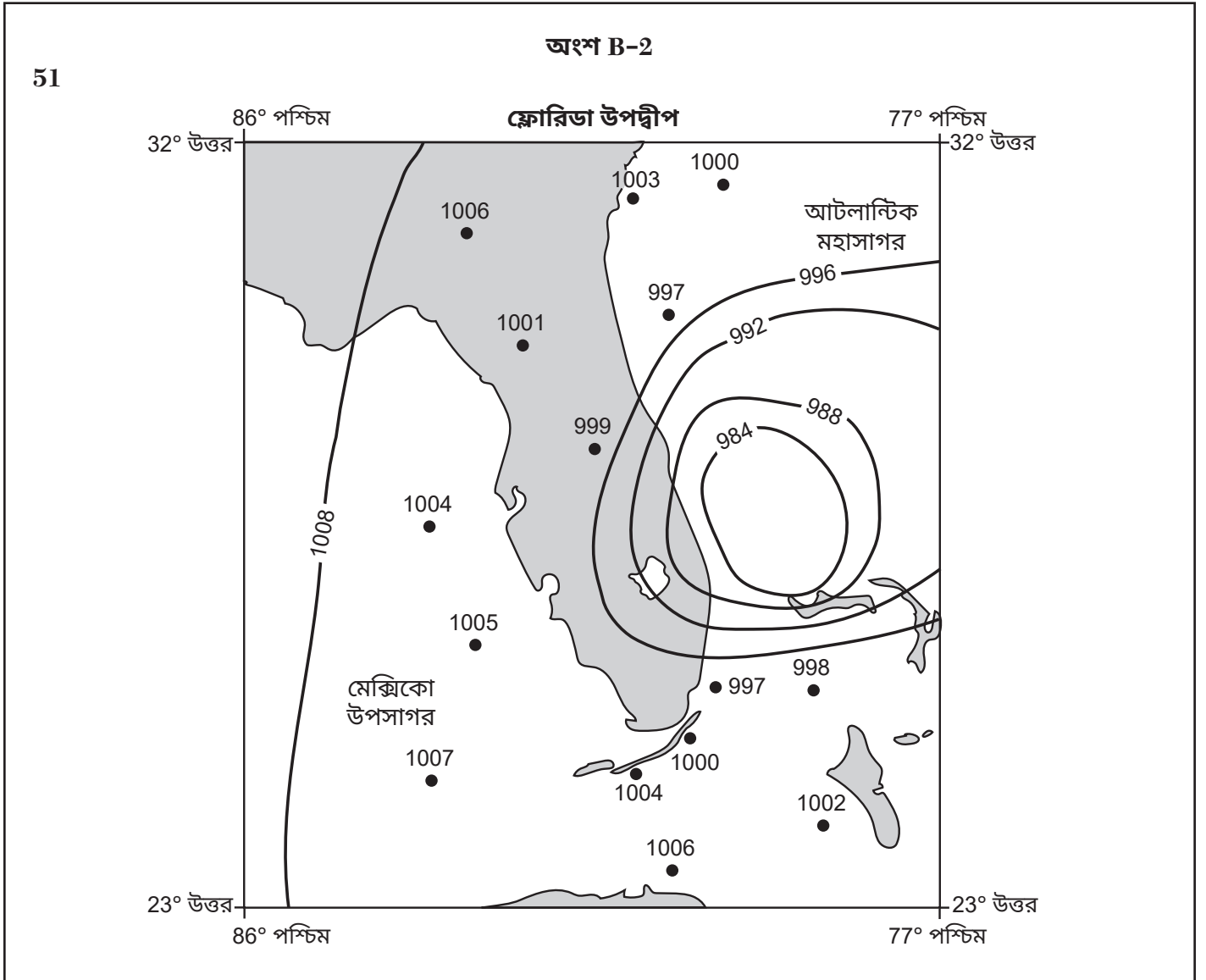
উত্তর পুস্তিকা

শিক্ষার্থী.....

শিক্ষক.....

স্কুল..... গ্রেড.....

অংশ B-2 এবং অংশ C এর প্রশ্নগুলোর জন্য আপনার উত্তর এই পুস্তিকাটিতে লিপিবদ্ধ করুন।



52 _____ তে Hg-এর

53 _____

54 _____

55 _____ °C

56 _____

57 _____

58 _____

59 একটিকে বৃত্তাকার করুন: উত্তপ্ত শীতল

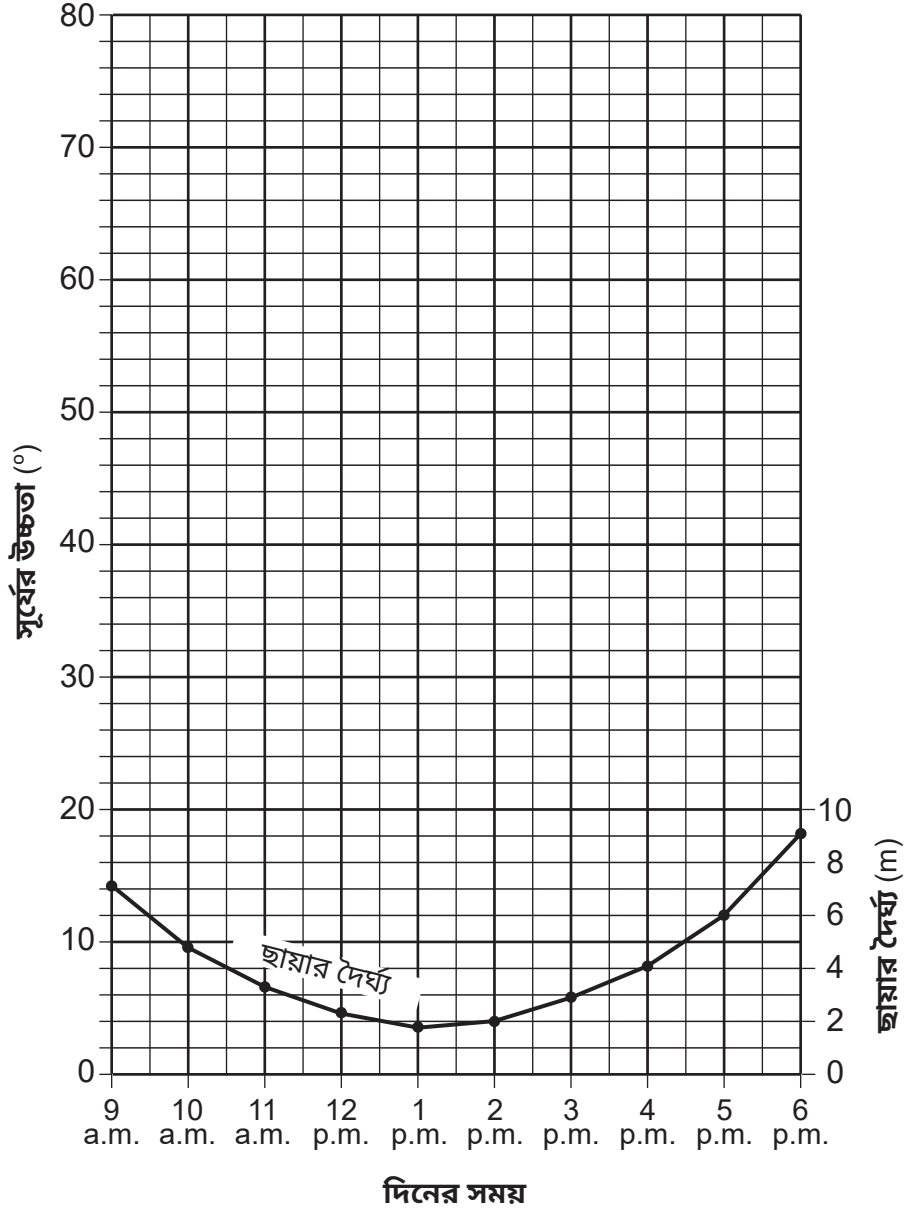
মহাসাগরীয় স্রোত: _____

60 _____

61 _____ ft/yr

62 _____

সূর্যের উচ্চতা এবং ছায়ার দৈর্ঘ্য



64

65

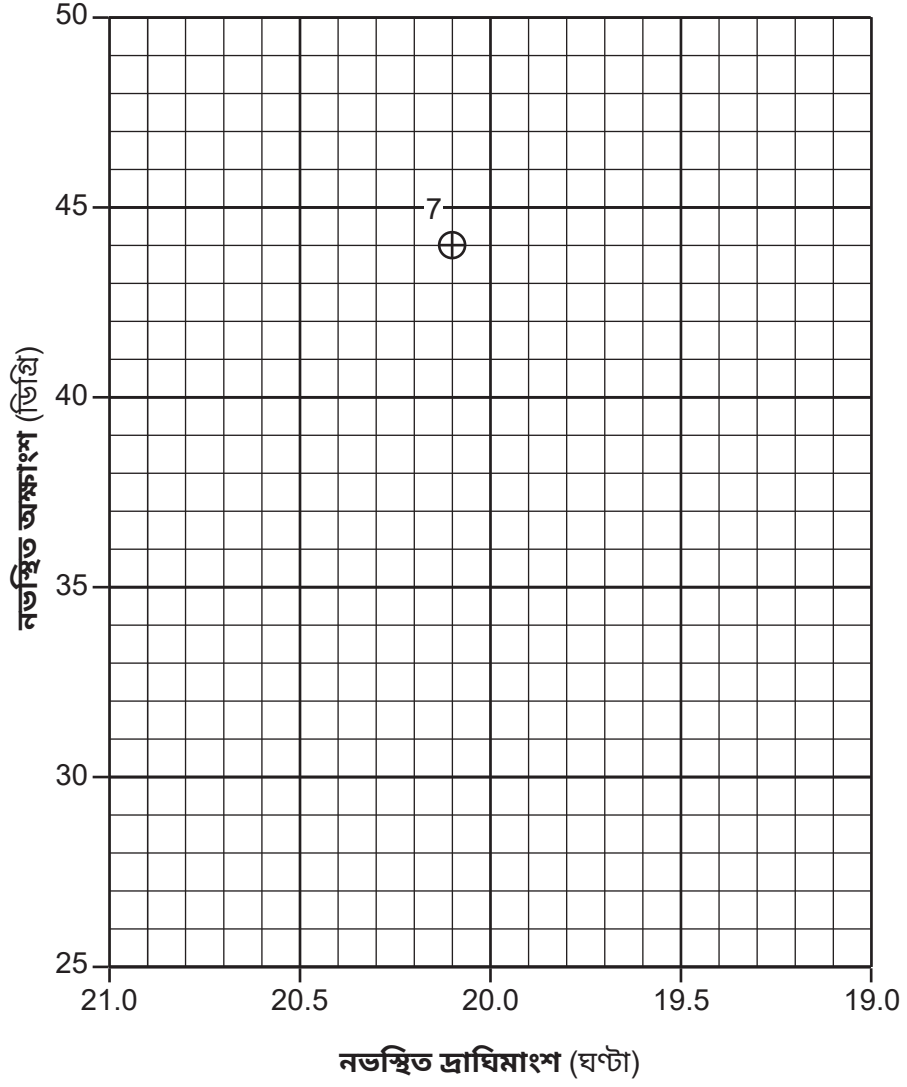
_____ m

অংশ C

66 _____ সময়কাল

67 YZ-এর আপেক্ষিক বয়স (একটিকে বৃত্তাকার করুন): কম বয়সী বেশি বয়সী সমবয়সী

প্রমাণ: _____



69 _____

70 _____

71

সিগনাসে নির্বাচিত জ্যোতিষ্ক	রঙ	শ্রেণিবিন্যাস
ডেনেব	সাদা	অত্যন্ত বৃহৎ
আলবেরিও		
ট্যাবি'জ স্টার		

72 _____ এবং _____

73 _____

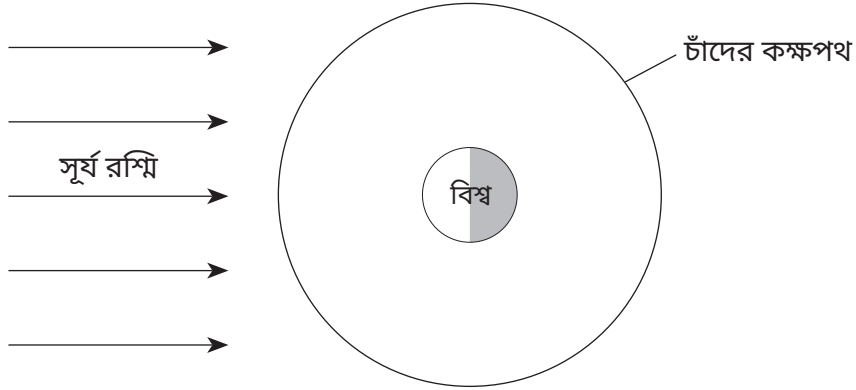
74

আবহাওয়ার পরিবর্তনশীল মান	মান
মেঘের আচ্ছাদন	%
বায়ুর তাপমাত্রা	°F
শিশির বিন্দু	°F
আবহমান সংক্রান্ত চাপ	mb

75 8 নভেম্বর, 2022 চন্দ্রগ্রহণ (একটিকে বৃত্তাকার করুন): দৃশ্যমান দৃশ্যমান নয়

20 এপ্রিল, 2023 সূর্যগ্রহণ (একটিকে বৃত্তাকার করুন): দৃশ্যমান দৃশ্যমান নয়

76



(স্কেল অনুসরণ করে আঁকা হয়নি)

77 _____ °

78 _____

79 বয়স: _____ মিলিয়ন বছর

চৌম্বকীয় অভিযোজন: _____ মেরুত্ব

80 _____ প্লেট এবং _____ প্লেট

81 _____

82 _____

83 _____

84 _____ অরোগেনি

85 হার্কিমার হীরার আপেক্ষিক বয়স (একটিকে বৃত্তাকার করুন): নতুন পুরনো একই

প্রমাণ: _____
