

REGENTS HIGH SCHOOL EXAMINATION

세계사 및 지리 전환 시험 — 10학년

2019년 1월 24일, **목요일** — 오전 9시 15분 - 오후 12시 15분까지만 실시

학생 이름 _____

학교명 _____

이 시험 중에는 모든 통신 장비의 소지나 사용을 철저히 금지합니다. 잠시라도 통신 장비를 소지하거나 사용할 경우, 시험은 무효화되며 시험 점수를 받을 수 없게 됩니다.

위 칸에 자신의 이름과 학교명을 인쇄체로 기입하십시오. 파트 I에 대한 별도의 답안지가 제공되었습니다. 감독관의 지시에 따라 답안지에 학생 정보를 기입하십시오. 그런 다음, 에세이 책자 각 페이지 윗부분에 기입하십시오.

이 시험은 세 파트로 구성되어 있습니다. 모든 파트의 **모든** 질문에 답하십시오. 파트 II, 파트 III A, 그리고 파트 III B의 답안을 작성할 때는 검정색이나 진한 청색 펜을 사용하십시오.

파트 I에는 30개의 선다형 문제가 있습니다. 이 문제들에 대한 답은 답안지에 지시된 대로 기입하십시오.

파트 II에는 한 개의 주제를 다루는 에세이 문제가 있습니다. 이 문제에 대한 답은 에세이 책자 1페이지부터 기입하십시오.

파트 III는 여러 개의 문서에 기반을 둡니다.

파트 III A에 그 문서들이 포함되어 있습니다. 시험의 이 파트를 하게 될 때, 이 부분의 첫 페이지에 자신의 이름과 학교명을 기재하십시오.

각 문서에는 하나 이상의 문제가 따릅니다. 각 문제의 답은 이 시험책자 안의 문제 아래에 있는 칸에 기입하십시오.

파트 III B에는 그 문서들을 바탕으로 하는 한 개의 에세이 문제가 있습니다. 이 문제에 대한 답은 에세이 책자 7페이지부터 기입하십시오.

시험을 마친 후, 답안지 마지막 부분에 인쇄된 진술문에 서명함으로써 이 시험을 치르기 전에 문제나 답에 대한 불법적인 지식이 없었으며 시험을 치르는 동안 어떤 문제에 답하는데 있어서도 도움을 주거나 받지 않았음을 표시하십시오. 이 진술문에 서명하지 않은 학생의 답안지는 인정하지 않습니다.

지시가 있을 때까지 이 시험 책자를 열지 마십시오.

파트 I

이 파트의 모든 문제에 답하십시오.

지시사항 (1-30): 각 문제에 가장 적절한 답의 번호를 별도의 답안지에 기입하십시오.

1 사회학 선생님이 역사 공부에서 1차 자료를 사용할 때 조심해야 한다고 학생들에게 주의를 줍니다. 선생님이 학생들에게 이렇게 주의를 주는 이유는 모든 1차 자료의 어떤 특성 때문입니까?

- (1) 약하고 쉽게 손상되기 때문이다
- (2) 분석과 해석이 필요하기 때문이다
- (3) 정확하고 균형 잡힌 시각을 제시하기 때문이다
- (4) 선전과 왜곡의 수단이 되기 때문이다

2 • 장소와 지역 간의 연계
 • 인구 분포의 양식
 • 도시내 토지 사용 양식

공간적 관점에서 이러한 주제들에 대한 연구에 초점을 맞출 가능성이 가장 높은 사회 과학은 무엇입니까?

- (1) 인류학
- (2) 인문 지리학
- (3) 정치학
- (4) 심리학

3번과 4번의 문제는 아래의 화자들의 말과 자신의 사회과학 지식을 바탕으로 답하십시오.

화자 A: 시장은 의회의 번덕에 의해서가 아니라 공급과 수요에 의해 제어되어야 한다.

화자 B: 역사는 프롤레타리아가 봉기할 때 탐욕스러운 부르주아를 향한 정의를 집행할 것이다.

3 화자 A가 지지할 가능성이 가장 높은 경제의 유형은 무엇입니까?

- (1) 자유 방임주의
- (2) 물물교환 제도
- (3) 자급자족
- (4) 혼합

4 화자 B는 다음 중 누구의 사상을 가장 잘 나타내고 있습니까?

- (1) 토머스 맬서스
- (2) 세실 로즈
- (3) 로버트 오언
- (4) 카를 마르크스

5 막시밀리안 로베스피에르는 다음의 프랑스 역사중 무엇으로 유명합니까?

- (1) 미국 독립혁명을 위한 프랑스의 지지를 결집시킴
- (2) 프랑스 혁명의 반대파들을 제거하기 위해 노력함
- (3) 루이 16세의 군주제를 보존하기 위해 노력함
- (4) 나폴레옹 법전의 원칙을 시행함

아일랜드 대기근에 관한 다음의 정보와 자신의 사회학 지식에 기반하여 질문 6 및 7에 대한 답을 고르십시오.

아일랜드 농업이 주로 감자 재배로 전환되면서 천역적인 병충해 방제 역할을 하는 윤작의 사용이 줄어들었다.

개별 농장들은 서로 가까이 위치했기 때문에 병균이 쉽게 확산될 수 있었다.

대기근 이후 경작 농경지의 총 면적은 약 50% 감소했다.

대기근 전에 아일랜드에는 8백만 명이 거주했다. 1960년대에는 3백만 명이 거주했다.

— 출처 Evan D.G. Fraser, *Conservation Ecology*

6 이 정보에 따르면 아일랜드 대기근에 기여한 원인은 무엇이었습니까?

- (1) 농경지 총 면적의 50% 감소
- (2) 인구 손실로 인한 농부 부족
- (3) 감자병균 확산을 촉진한 경작 방법
- (4) 농약 사용의 증가

7 아일랜드 대기근에 관한 정보에서 추론할 수 있는 영향은 무엇입니까?

- (1) 많은 아일랜드인이 북미 이민을 선택했다.
- (2) 아일랜드의 인구가 극적으로 감소했다.
- (3) 아일랜드의 농경 방식이 환경에 미친 영향은 거의 없었다.
- (4) 아일랜드 정부는 아일랜드의 경작지 면적을 줄였다.

8 세포이 항쟁과 의화단 사건의 주요한 목적은 무엇입니까?

- (1) 민주 공화국의 설립
- (2) 외세의 간섭 제거
- (3) 종교적 자유 획득
- (4) 소작농의 세금 부담 경감

9번 문제는 아래의 글과 자신의 사회 지식을 바탕으로 답하십시오.

...나머지 세계에서 유럽의 정치적 가정은 너무나 당연하게 받아들여져서 그 누구도 더 이상 그에 대해 생각조차 않는다. 하지만 이러한 가정 중 하나인 세속적 시민 정부에 대한 현대의 믿음은 어떤 지역 [중동]에서는 생경한 교리이다. 대부분의 중동 거주자들은 천여 년 동안 정부와 정치를 포함한 삶의 모든 부분을 다스리는 신성한 법에 대한 신앙에 대해 맹세해왔기 때문이다. ...

- David Fromkin, *A Peace to End All Peace*

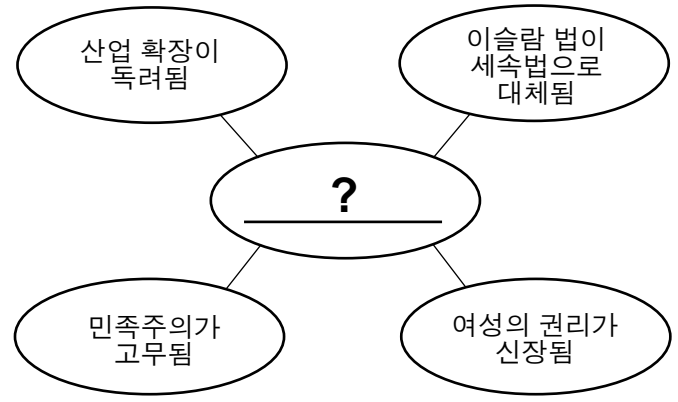
9 이 글에 따르면 어떠한 타당한 결론을 내릴 수 있습니까?

- (1) 대부분의 유럽 국가는 신실한 신앙을 유지하는데 정치 체제의 기반을 두고 있다.
- (2) 중동의 정치 체제는 사회의 전통적 가치를 반영하는 경우가 많다.
- (3) 세속적인 정부에 대한 믿음은 보편적이다.
- (4) 중동은 민주국가의 발전과정에서 주도적 역할을 했다.

10 베르사유 조약의 조항과 1930년대 세계 경제 대공황이 초래한 것은 무엇입니까?

- (1) 아프리카 쟁탈전
- (2) 암리차르 학살
- (3) 독일 파시스트 독재주의 대두
- (4) 비엔나 의회의 형성

11번 문제는 아래의 도표와 자신의 사회과학 지식을 바탕으로 답하십시오.



11 이 도표의 빈칸을 채우기에 가장 알맞은 지도자는?

- (1) 케말 아타튀르크
- (2) 장제스(창카이셴)
- (3) 테오도어 헤르츨
- (4) 메이지 천황

12 일본의 만주 침략(1931) 및 제2차 중일전쟁(1937-1945)의 목적은?

- (1) 신도 신앙의 확산
- (2) 무역 네트워크 개방
- (3) 산업 자원 획득
- (4) 독일 제국주의 방지

13 아돌프 히틀러가 동부 영토 탈취를 정당화하기 위해 독일에 필요하다고 한 것은?

- (1) 국민이 살 수 있는 더 넓은 공간 획득
- (2) 아시아 식민지의 재건
- (3) 카스피해 항구에 대한 해군의 접근권 부여
- (4) 기존 평화 조약의 시행

14번 문제는 아래의 글과 자신의 사회 지식을 바탕으로 답하십시오.

처음에 그들은 공산주의자들을 찾아 왔지만, 나는 공산주의자가 아니었으므로 침묵했다. 그후에 그들은 사회주의자들과 노동조합원을 찾아 왔지만, 나는 둘다 아니었으므로 침묵했다. 이번에 그들은 유대인들을 찾아 왔지만, 나는 유대인이 아니었으므로 침묵했다. 정작 그들이 나를 찾아 왔을 때는 나를 위해 말해 줄 사람이 아무도 남아있지 않았다.

— Martin Niemöller

14 Martin Niemöller가 이 문장에서 언급한 사건은?

- (1) 우크라이나 기근
- (2) 제1차 세계대전
- (3) 유고슬라비아 해체
- (4) 홀로코스트

15 1940년대 나치의 러시아에 대한 군사작전 시도가 보여준 것은?

- (1) 해군의 공격은 일반적으로 성공한다
- (2) 탁월한 기술이 자연적 조건을 상쇄한다
- (3) 지리적 조건이 전쟁의 결과에 영향을 미칠 수 있다
- (4) 유화 정책은 효과가 없을 때가 많다

16 제2차 세계대전의 군사적 갈등을 끝낸 1945년 8월의 사건은?

- (1) 히로시마와 나가사키의 원폭 투하가 일본의 무조건 항복을 촉진함
- (2) 연합군이 베를린을 함락하고 독일을 분할함
- (3) 독일과 일본이 “승리없는 평화”를 위한 합의를 타결함
- (4) 극동국제군사재판소가 도쿄에서 증언 청취를 시작함

17번 문제는 아래의 그림과 자신의 사회 지식을 바탕으로 답하십시오.



17 이 그림은 제2차 세계대전 이후 유럽에 대한 일괄 원조시 사용된 표식입니다. 어떤 조약의 결과입니까?

- (1) 제네바 협정
- (2) 전략 무기 제한 협정(Strategic Arms Limitation Treaty, SALT)
- (3) 헬싱키 협정
- (4) 마셜 플랜(Marshall Plan)

18 제2차 세계 대전 이후 나치 전범에 대한 재판은 어디서 수행했습니까?

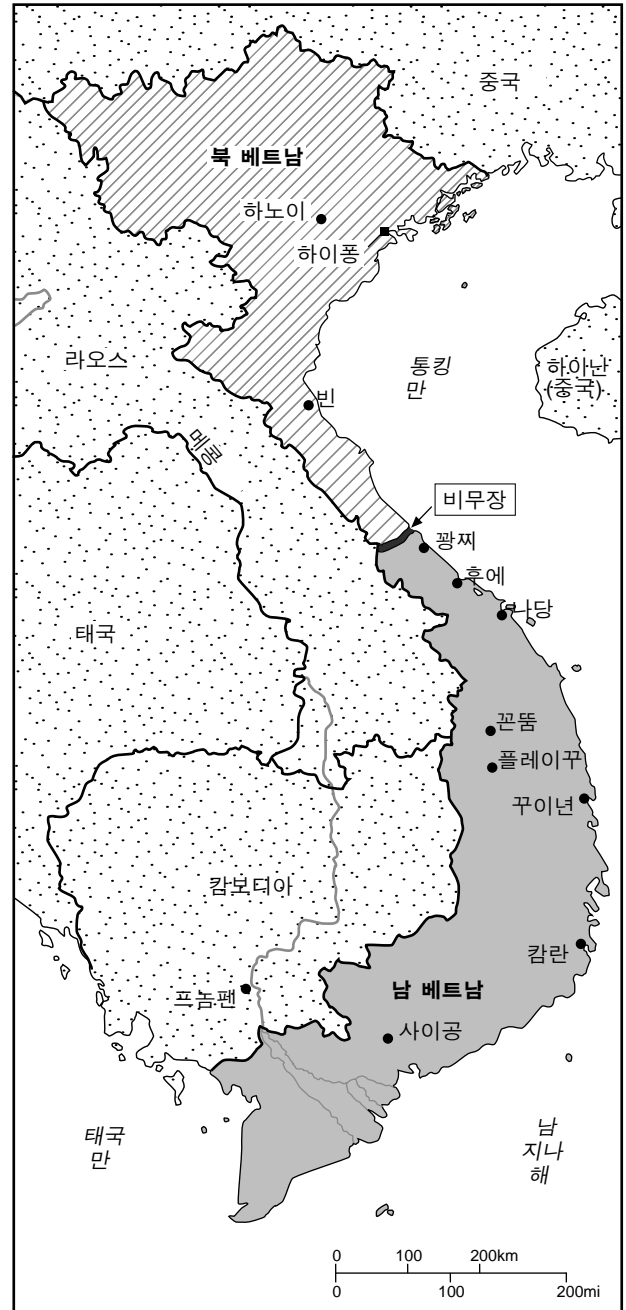
- (1) 북대서양조약기구(NATO)
- (2) 뉘른베르크 재판소
- (3) 새들러 위원회
- (4) 국제 적십자위원회

- 19 “아프리카 국민회의(ANC)가 통행법의 철폐를 촉구하다”
 “데즈먼드 투투 대주교 노벨 평화상을 수상하다”
 “넬슨 만델라가 27년 복역한 후 석방되다”

이 헤드라인과 가장 밀접하게 연관된 역사적 상황은 무엇입니까?

- (1) 콰메 은크루마가 가나의 첫 선출직 대통령이 됨
 - (2) 나이지리아의 민족 갈등으로 내전이 발발하고 기근이 확산됨
 - (3) 이집트가 이스라엘과 평화 조약을 체결한 첫 아랍 국가가 됨
 - (4) 남아공 정부의 인종차별에 반대하는 시위
- 20 1990년대 르완다에서 백만 명 이상의 난민이 발생한 원인은?
- (1) 인권 가혹 행위
 - (2) 사막화
 - (3) 대규모 홍수
 - (4) 질병
- 21 한국 전쟁 및 쿠바 미사일 위기와 가장 밀접한 관련이 있는 것은?
- (1) 공산주의자의 침략
 - (2) 종교적 긴장
 - (3) 군주제의 전복
 - (4) 교토 의정서의 실패


22번 문제는 아래의 지도와 자신의 사회과학 지식을 바탕으로 답하십시오.



출처: The History Place online, 1999 (개정판)

- 22 이 지도는 어느 시기의 베트남을 그린 것입니까?
- (1) 19세기 제국 통치
 - (2) 제1차 세계대전
 - (3) 제2차 세계 대전
 - (4) 냉전

23번 문제는 아래의 삽화와 자신의 사회과학 지식을 바탕으로 답하십시오.



출처: KAL, *The Economist*, November 19, 2009

23 삽화가 온실가스를 통제할 국제 협약의 체결이 계속 지연된다면 어떤 일이 벌어질 것이라고 암시하고 있습니까?

- (1) 멸종위기 생물의 보존
- (2) 심각한 빙하의 해빙과 대륙에서의 홍수 위험 고조
- (3) 기후 변화의 영향 감소
- (4) 공급할 수 있는 담수 증가

24 1986년 4월 체르노빌의 소련 핵 시설에서 일어난 사건은 무엇을 보여줍니까?

- (1) 때로는 선진 기술에 위험이 수반된다
- (2) 비축된 무기의 안전한 파괴는 가능하다
- (3) 직장의 개혁 노력은 종종 폭력으로 이어질 수 있다
- (4) 국제적인 협력이 자연 재해를 방지할 수 있다

25번 문제는 아래의 지도와 자신의 사회과학 지식을 바탕으로 답하십시오.

HIV/후천성면역결핍증에 의해 변형된 세계



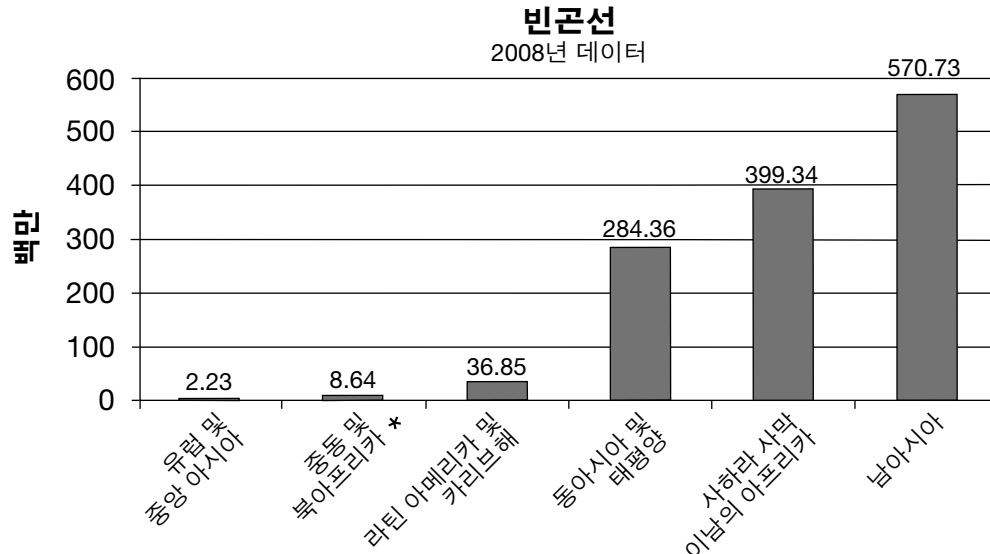
출처: "Living with AIDS," *National Geographic*, September 2005 (개정판)

25 지도에 나타난 2003년 데이터에 따르면 어떤 결론을 가장 잘 뒷받침합니까?

- (1) 서반구는 HIV/후천성면역결핍증 위기에 의해 가장 심각한 타격을 받아왔다.
- (2) 중국과 일본은 인도와 태국보다 HIV/후천성면역결핍증 감염자가 더 많다.
- (3) 중동에서 HIV/후천성면역결핍증 감염자 수는 감소하고 있다.
- (4) 남부 아프리카는 HIV/후천성면역결핍증 감염자의 수 때문에 심각한 인구 문제에 직면해 있다.

26번 문제는 아래의 그래프와 자신의 사회과학 지식을 바탕으로 답하십시오.

하루 수입 \$1.25 이하의 빈곤층 인구수



* 설문조사 범위는 50% 미만임

출처: World Bank (개정판)

26 다음 중 그래프에서 제공된 2008년 데이터가 가장 잘 뒷받침하고 있는 글은 어느 것입니까?

- (1) 하루 수입 \$1.25 이하인 사람은 라틴 아메리카 및 카리브해 지역보다 중동 및 북아프리카에 더 많다.
- (2) 동아시아와 태평양 사람들의 대부분은 빚을 지고 있다.
- (3) 남아시아인들이 다른 지역 사람들보다 극심한 빈곤에 허덕이고 있다.
- (4) 유럽과 중앙아시아지역 100만명 이상의 하루 수입이 \$1.25 이하이다.

- 27 • 관개 시설의 광범위한 사용
• 화학 비료와 농약의 높은 투입량
• 수확량 증가를 위한 유전자 변형 종자 사용

이러한 특징과 가장 밀접하게 연관이 있는 것은?

- (1) 대약진운동
- (2) 일본의 개방
- (3) 녹색 혁명
- (4) 과학 혁명

28 다음 중 코페르니쿠스, 갈릴레오, 케플러의 연구가 가장 잘 뒷받침하는 과학 이론은?

- (1) 세포 이론
- (2) 원자 이론
- (3) 진화 이론
- (4) 태양 중심 우주 이론

29 다음 중 투생 루베르튀르가 주도한 혁명으로 독립을 쟁취하기 위해 노예 반란에 기반을 둔 것은?

- (1) 이란 혁명
- (2) 쿠바 혁명
- (3) 아이티 혁명
- (4) 멕시코 혁명

30 오스만 제국의 붕괴, 중앙 유럽의 민족 국가 생성 및 국제 연맹의 창설은 다음 중 어떤 사건과 가장 직접적으로 관련된 결과입니까?

- (1) 나폴레옹 전쟁
- (2) 프랑스 프로이센 전쟁
- (3) 제1차 세계대전
- (4) 제2차 세계 대전

에세이 문제의 답은 별도의 에세이 책자에 쓰십시오.

파트 II의 답을 작성할 때 다음의 일반적 정의를 참고하십시오.

- (a) 기술하십시오란 “무엇에 관해 글로 설명하거나 그것에 대하여 말한다”는 의미입니다
- (b) 논하십시오란 “사실과 추론 및 논증을 이용하여 어떤 것에 대하여 관찰하고, 어느 정도 상세한 정보를 포함하여 서술한다”는 의미입니다

파트 II

주제형 에세이 문제

지시사항: 서론, 아래 과제를 다루는 여러 개의 문단 및 결론을 포함하는 잘 구성된 에세이를 작성하십시오.

주제: 인구 이동-이주

역사를 통하여 다양한 집단의 사람들은 자발적 또는 강제적으로 이주를 했습니다. 이들의 이주는 영구적인 재정착이 되었습니다. 이러한 이주는 사회와 지역에 다양한 영향을 미쳤습니다.

과제:

두 가지의 이주를 선택하여 **각각**에 대하여

- 해당 집단의 영구적 이전을 초래한 역사적 상황을 기술하십시오
- 이 집단의 영구 이전이 사회 및/또는 지역에 미친 영향을 논하십시오

세계사와 지리 공부를 통해 배운 어떠한 이주를 사용해도 됩니다. 고려해볼 만한 몇몇 제안에는 영국의 도농 간 이주, 유대인의 팔레스틴이나 이스라엘 이주, 힌두교인/무슬림의 인도/파키스탄 이주, 캄보디아 도시민의 시골 이주, 20세기 및 21세기 아프리카인의 유럽 이주 등이 있습니다.

답안에 사용할 수 있는 것은 위에 제안된 것에 국한되지 않습니다.

인도와 파키스탄 간의 힌두교인과 무슬림의 이주를 두 가지 별개의 이주 사례로 사용해서는 안 됩니다.

응답에 미국 내의 이주는 사용하지 마십시오.

지침사항:

에세이 작성 시, 반드시

- 과제의 모든 측면을 전개시키십시오
- 관련 사실, 사례 및 상세한 정보로 주제를 뒷받침하십시오
- 주제의 단순 반복이 아닌 서론과 결론을 포함한 논리적이고 명확한 구성 계획을 사용하십시오

파트 III

문서에 기초한 문제

이 문제는 주어진 문서들을 바탕으로 합니다. 이 문제는 역사적 문서를 처리하는 능력을 시험하기 위한 의도로 고안되었습니다. 문서들의 일부 내용은 이 문제의 목적에 맞도록 편집되었습니다. 문서들을 분석할 때, 각 문서의 출처와 문서에 나타난 관점을 참작하십시오. 각 문서에 사용된 언어는 그 문서가 쓰여진 시기의 역사적인 상황을 반영할 수 있다는 점을 참고하십시오.

역사적 배경:

역사를 통하여 사람들은 자국의 여러 문제에 대응하여 반란을 일으켰습니다. **프랑스 혁명**, **볼셰비키 혁명**, **중국 공산주의 혁명** 등의 정치적 혁명은 이러한 문제를 해결하기 위하여 시도되었고 다양한 수준의 성공을 이루었습니다.

과제: 문서들이 제공하는 정보와 자신의 세계사 및 지리지식을 활용하여 파트 A의 각 문서 아래에 있는 문제들에 답하십시오. 이 문제들에 대한 답은 다음에 나오는 파트B의 에세이를 작성하는 데 도움이 될 것입니다

위의 역사적 배경에 언급된 혁명들 중 **두 가지**를 선택한 다음, **각각**에 대하여

- 사람들이 혁명을 일으키게 만든 문제들을 논하십시오
- 혁명 및/또는 혁명 후 정부가 문제를 해결하기 위하여 어떠한 시도를 했는지 논하십시오

파트 III의 답을 작성할 때 다음의 일반적 정의를 참고하십시오.

논하십시오란 “사실과 추론 및 논증을 이용하여 어떤 것에 대하여 관찰하고, 어느 정도 상세한 정보를 포함하여 서술한다”는 의미입니다

파트 A
단답형 문제

지시사항: 문서들을 분석하고, 각 문서 아래에 있는 단답형 문제의 답을 주어진 칸에 쓰십시오.

문서 1



출처: Greg Hetherton, *Revolutionary France: Liberty, tyranny, and terror*, Cambridge University Press

1 이 문서에 기반할 때, 프랑스 혁명 전야에 프랑스 사람들이 직면했던 **두 가지** 문제는 무엇입니까? [2]

(1) _____

Score

(2) _____

Score

문서 2

	통치 기구	해당 시기의 주요 특성
1789 ↓ 1791	국민 의회	올드 레짐의 남용 폐지
1791 ↓ 1792	입법 의회	더 심한 금진주의로 흐름—해외 전쟁의 시작
1792 ↓ 1795	국민공회	해외 전쟁의 성공-금진주의 공포 정치
1795 ↓ 1799	총재정부	반작용의 시기 나폴레옹의 등극

출처: Philip Dorf, *Visualized Modern History*, Oxford Book Company (개정판)

2 이 차트에 기반할 때, 1789년과 1799년 사이의 프랑스 혁명 동안 프랑스 정부에 이루어진 **한 가지** 변화는 무엇입니까? [1]

Score

문서 3

나폴레옹 하의 통령정부 개혁(1799-1804)

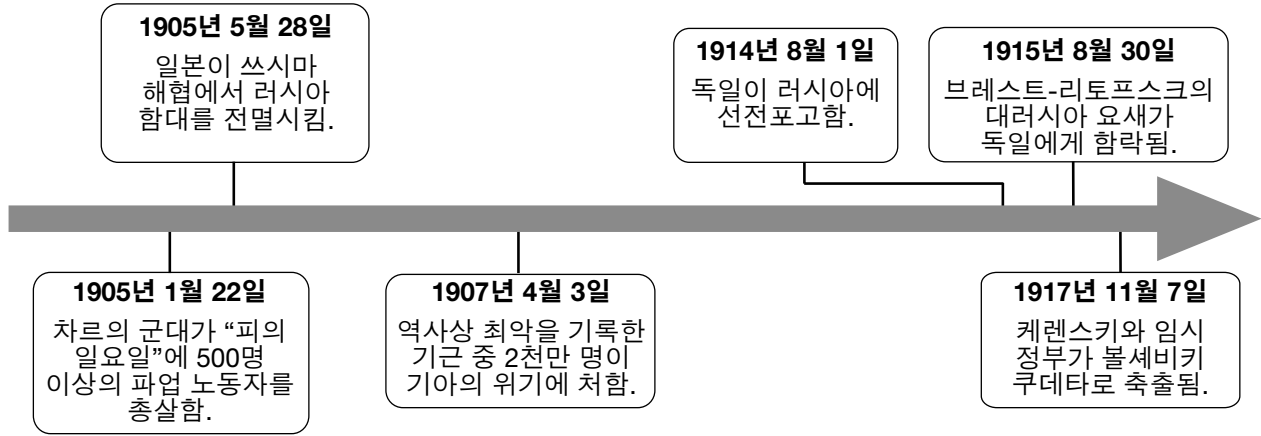
... 투표권에 대한 요구보다 더 깊은 또 다른 프랑스인들의 숙원은 공공 재정과 조세 분야에서 더 이성적이고, 규칙적이며, 경제적 이 되는 것이었다. 통령정부는 이러한 요구들을 성취했다. 출생, 신분 또는 특별 조치로 인한 면세는 없었다. 모든 이들이 세금을 내야 했으므로 세금 납부로 인한 수치스러운 것이 없어서 탈세도 줄었다. 원칙적으로 이런 변화는 1789년에 도입되었고, 1799년 이후에 효과를 보기 시작했다. 10년 만에 처음으로 정부는 부과한 세금을 징수했고 재정 사업을 이성적으로 계획할 수 있게 되었다. 지출에도 명령 체계가 도입되어 회계법이 개선되었다. 돈이 필요한 여러 계층의 관료들이 개별적으로 비밀리 징수했던 여러 가지 무계획적인 각종 “기금”도 없었고, 재정이 국고와 일종의 예산에서까지 집중되어 관리되었다. 혁명으로 인한 화폐 가치의 불확실성도 끝났다. 총재정부가 지폐와 정부 부채를 부인[포기]한 것에 대한 증오[비난]를 잠재웠기 때문에, 통령정부는 건전한 통화와 공적 신용을 구축할 수 있었다. 정부의 재정 지원을 위해 구체제의 은행 중 하나가 활성화되어 국립프랑스은행(Bank of France)으로 설립되었다. ...

출처: R. R. Palmer et al., *A History of the Modern World*, McGraw Hill, 2002 (개정판)

- 3 R. R. Palmer et al.에 따르면 나폴레옹 하에서 프랑스의 경제를 수정하기 위해 이루어진 **한 가지** 변화는 무엇입니까?
[1]

Score

문서 4



출처: Konecky & Konecky, trans., *Chronicle of World History*, Grange Books (개정판)

4 이 연대표의 정보에 기반하면, 러시아 사람들이 러시아 정부에 대해 가졌던 **두 가지** 불만은 무엇입니까? [2]

(1)

Score

(2)

Score

문서 5a

1913년 및 1921년 러시아 생산 통계

	1913년 제정 러시아 제1차 세계대전 이전	1921년 내전 말기의 공산주의 러시아
곡물	8,500만 미터톤	2,370만 미터톤
석탄	2,900만 미터톤	950만 미터톤
선철	420만 미터톤	120만 미터톤
석유	920만 미터톤	380만 미터톤

출처: B. R. Mitchell, *European Historical Statistics 1750-1975*, Second Revised Edition, Facts on File (개정판)

문서 5b

전시 공산주의는 내전 중[1918-1921] 레닌에 의해 정착된 긴급 프로그램이었다. 전시 공산주의에는 곡물의 강제 징발, 모든 거래와 산업의 국유화 및 노동력에 대한 엄격한 통제가 포함되었다. 이 프로그램과 전쟁의 폐허가 남긴 결과는 산업 및 농업 생산의 급격한 감소로 인구가 심각한 어려움을 겪게 된 것이었다. 5백만 명으로 추정되는 사람들을 죽음으로 내몰았던 기근을 초래했다. . . .

출처: Stephen Tonge, "Russia 1917-1924," *A Web of English History* online

- 5 이 통계 정보와 Stephen Tonge의 저서 발췌 내용에 근거하면, 레닌의 전시 공산주의 정책과 내전이 러시아에 영향을 미친 **한 가지** 방식은 무엇입니까? [1]

Score

문서 6

...가뭄으로 농작물 수확량이 극적으로 감소했다. 공산주의 하에서 모든 토지는 국가 소유였다. 농작물도 국가에 속하여 국가가 징발했다. 소작농들은 농작물을 팔 수 없었다. 그 결과 자신들이 먹을 양을 초과한 식량을 재배할 동기부여가 없었다. 국가내에 기근이 번져갔다. 사람들은 아사했다.

1921년 레닌은 신경제정책(NEP)을 만들고 이런 상황을 처리하고자 했다. 스탈린이 1924년 정권을 넘겨 받았을 때, NEP는 확고히 제자리를 잡았다. 이는 공산주의로부터의 후퇴이자, “민영 기업으로의 부분적 복귀”였다. 소작농들은 더 이상 정부에 농작물을 바치지 않아도 되었다. 대신 생산한 만큼 세금을 내면 이윤을 붙여 팔도록 허가를 받았다. 개인 재산이 형식상으로는 폐지되었으나 소작농들은 이제 소규모 농장을 소유하고 운영할 수 있었다. 노동력도 고용할 수 있었다. 시민들은 새로운 사업을 시작할 수 있었다. 열악하게 경영되었던 산업 공장도 이전 소유주에게 다시 돌아갔다. 공산주의의 전체 재정체계가 준자본주의(semicapitalist) 노선을 따라 재조직되었다. 국유 기업에 투자하도록 해외 자본가들을 유치했다. 반응은 제한적이었다....

출처: Ted Gottfried, *The Stalinist Empire: The Rise and Fall of the Soviet Union*,
Twenty-First Century Books, 2002 (개정판)

6 Ted Gottfried에 따르면 레닌의 신경제정책이 러시아 사회에 미친 **한 가지** 영향은 무엇입니까? [1]

Score

문서 7

... 소작농은 중국의 “잊혀진 사람”이었다. 국민당[민족주의자]이 직면한 가장 심각한 문제는 중국 국민들이 수 세기동안 겪어온 극심한 가난이었을 것이다. 1900년대에도 절망적인 가난은 계속되었다. 중국 소작농의 일 년 평균 수입은 미국 노동자 일주일 수입에 지나지 않았다. 가뭄이나 홍수가 농작물을 파괴할 때면 중국 소작농들은 굶주리거나 심지어 기아상태에 이르렀다. 아주 약간의 세금을 내는 것도 수백만 명의 중국 농부들에게는 벅찬 부담이었다. 하지만 정부의 수입은 대부분 토지에 대한 세금에서 나왔다. 따라서 극심한 어려움을 이미 겪고 있는 사람들에게 고통스러운 희생이 요구되었다. 중국 역사 기록으로 볼 때, 난징 정부가 소작농을 위한 구제책을 제공하지 않는 한, 문제가 일어날 수 밖에 없다는 것은 예상할 수 있었던 일이다. ...

민족주의자들이 농장 문제를 해결하는 데 실패하자 불운한 결과가 뒤따랐다. 중국은 늘어나는 인구를 먹일 식량이 긴급하게 필요했다. 소작농들이 농작물 생산을 증가시킬 수 없어서 전국이 기근에 시달렸다. 무역에 사용할 수 있는 농장 잉여 생산의 부족으로 중국이 해외에서 기계를 구입할 수 있는 능력은 제한되었다. 더군다나 소작농의 굶주림은 공산주의자들이 [창카이섹 하의] 난징 정부에 대항하여 사용할 수 있는 강력한 무기가 되어주었다. 국민당은 중국의 모든 문제에 대해 책임 추궁을 받았다. ...

출처: Hyman Kublin, *China*, Houghton Mifflin Company, 1968

7 Hyman Kublin에 따르면 민족주의자의 통치 하에서 중국이 직면했던 **두 가지** 문제는 무엇입니까? [2]

(1) _____

Score

(2) _____

Score

문서 8

. . . [마오쩌둥 하의] 공산주의 체제는 처음 몇 년 동안 긴급한 작업과 극적인 사회 변화에 헌신적이었다. 시골에서 부유한 지주에 의해 소유되었던 토지를 정부가 점유하고 소작농에게 나누어주었다. 댐이 재건설되고 운하를 준설했다. 철도가 수리되고 새로운 철도가 건설되었다.

전국적으로 새로운 체제에 대한 모든 반대파가 숙청되었다. 반혁명분자(체제에 반대하는 사람들)는 체포되어 공개 인민재판에 처해지고 처형되었다. 이러한 재판은 수천 명이 자신들의 “정치적 죄”를 고백하고 병적 흥분 상태의 군중은 이들의 죽음을 판결하는 대중적 구경거리가 되었다. . . .

출처: Earl Swisher, *China*, Ginn and Company, 1964

8 Earl Swisher에 따르면 중국 공산주의 체제가 변화를 가져오기 위해 시도한 **한 가지** 방법은 무엇입니까? [1]

Score

문서 9

...하지만 중국 공산주의자들도 사상 통제, 선전, 단체 압력 등을 통한 설득에 강조점을 두고 개인들의 순응을 강요했다. 목적은 중국에서 국가에 순종적이고 새로운 중국 사회에 대한 복무에 헌신할 새로운 종류의 인간을 키워나가는 것이었다....

극적인 조치들에 대한 명령이 내려졌다. 공장과 광산에는 높은 생산량이 할당되었다. 노동자들은 더 열심히 더 오랜 시간 일해야 했다. 시골에는 농민 인민공사가 형성되었다. 가족들이 서로 헤어지는 경우가 많았다(남편과 아내가 분리된 기숙사에 살고 자녀들은 보육원에 살아야 했음). 농부들은 인민공사의 식당에서 먹고 군대식 대형으로 직장까지 행진을 했다. 작업일에는 새벽부터 황혼까지 일하고 군사 훈련과 선전 강연을 위해서만 휴식을 할 수 있을 뿐이었다....

출처: Daniel Chu, *Scholastic World Cultures: China*, Scholastic Book Services, 1980 (개정판)

9 Daniel Chu에 따르면 중국 정부가 중국 인민들을 강제로 순응시키기 위해 사용했던 **한 가지** 방법은 무엇입니까? [1]

Score

파트 B

에세이 문제

지시사항: 서론, 여러 개의 문단 및 결론을 포함하는 잘 구성된 에세이를 작성하십시오. **최소한 네 개의** 문서에서 근거를 찾아 에세이에 사용하십시오. 관련 사실, 사례 및 자세한 정보를 사용하여 자신의 답안을 뒷받침하십시오. 다른 출처의 추가 정보도 포함시키십시오.

역사적 배경:

역사를 통하여 사람들은 자국의 여러 문제에 대응하여 반란을 일으켰습니다. **프랑스 혁명, 볼셰비키 혁명, 중국 공산주의 혁명** 등의 정치적 혁명은 이러한 문제를 해결하기 위하여 시도되었고 다양한 수준의 성공을 이루었습니다.

과제: 문서들이 제공하는 정보와 자신의 세계사 및 지리 지식을 활용하여 다음 사항들에 맞게 에세이를 작성하십시오

위의 역사적 배경에 언급된 혁명 중 **두 가지**를 선택한 다음, **각각**에 대하여

- 사람들이 혁명을 일으키게 만든 문제들을 논하십시오
- 혁명 및/또는 혁명 후 정부가 문제를 해결하기 위하여 어떠한 시도를 했는지 논하십시오

지침사항:

에세이 작성 시, 반드시

- 과제의 모든 측면을 전개시키십시오
- **최소 네 개의** 문서로부터 찾은 정보를 포함시키십시오
- 관련된 다른 출처의 정보도 포함시키십시오
- 관련 사실, 사례 및 상세한 정보로 주제를 뒷받침하십시오
- 주제의 단순 반복이 아닌 서론과 결론을 포함한 논리적이고 명확한 구성 계획을 사용하십시오

