

REGENTS HIGH SCHOOL EXAMINATION

세계사 및 지리 전환 시험 — 10학년

2020년 1월 23일, **목요일** — 오전 9시 15분 - 오후 12시 15분까지만 실시

학생 이름 _____

학교명 _____

이 시험 중에는 모든 통신 장비의 소지나 사용을 철저히 금지합니다. 잠시라도 통신 장비를 소지하거나 사용할 경우, 시험은 무효화되며 시험 점수를 받을 수 없게 됩니다.

위 칸에 자신의 이름과 학교명을 인쇄체로 기입하십시오. 파트 I에 대한 별도의 답안지가 제공되었습니다. 감독관의 지시에 따라 답안지에 학생 정보를 기입하십시오. 그런 다음, 에세이 책자 각 페이지 윗부분에 기입하십시오.

이 시험은 세 파트로 구성되어 있습니다. 모든 파트의 **모든** 질문에 답하십시오. 파트 II, 파트 III A, 그리고 파트 III B의 답안을 작성할 때는 검정색이나 진한 청색 펜을 사용하십시오.

파트 I에는 30개의 선다형 문제가 있습니다. 이 문제들에 대한 답은 답안지에 지시된 대로 기입하십시오.

파트 II에는 한 개의 주제를 다루는 에세이 문제가 있습니다. 이 문제에 대한 답은 에세이 책자 1페이지부터 기입하십시오.

파트 III은 여러 개의 문서에 기반을 둡니다.

파트 III A에 그 문서들이 포함되어 있습니다. 시험의 이 파트를 하게 될 때, 이 부분의 첫 페이지에 자신의 이름과 학교명을 기재하십시오.

각 문서에는 하나 이상의 문제가 따릅니다. 각 문제의 답은 이 시험책자 안의 문제 아래에 있는 칸에 기입하십시오.

파트 III B에는 그 문서들을 바탕으로 하는 한 개의 에세이 문제가 있습니다. 이 문제에 대한 답은 에세이 책자 7페이지부터 기입하십시오.

시험을 마친 후, 답안지 마지막 부분에 인쇄된 진술문에 서명함으로써 이 시험을 치르기 전에 문제나 답에 대한 불법적인 지식이 없었으며 시험을 치르는 동안 어떤 문제에 답하는 데 있어서도 도움을 주거나 받지 않았음을 표시하십시오. 이 진술문에 서명하지 않은 학생의 답안지는 인정하지 않습니다.

지시가 있을 때까지 이 시험 책자를 열지 마십시오.

파트 I

이 파트의 모든 문제에 답하십시오.

지시사항 (1-30): 각 문제에 가장 적절한 답의 번호를 별도의 답안지에 기입하십시오.

1번 문제는 아래의 지도와 자신의 사회과학 지식을 바탕으로 답하십시오.



출처: Mountain High Maps (개정판)

1 다음 중 지도에 나타난 정보가 가장 잘 뒷받침하는 지형에 관한 설명은?

- (1) 파라과이에는 다양한 지형들이 있다.
- (2) 칠레에는 평평하고 비옥한 지역들이 지배적이다.
- (3) 브라질에는 뚜렷이 구별되는 여러 지리학적 지대들이 있다.
- (4) 야노스 지대는 아르헨티나에 있다.

- 2 • 역사적인 출처에는 편견이나 관점이 있을 수 있다.
- 사람들의 신념과 가치관은 그들의 관점에 영향을 미친다.
 - 새로운 정보는 이전의 역사의 이해에 영향을 줄 수 있다.

다음 중 이 진술들이 가장 잘 보여주는 것은?

- (1) 역사의 해석적 본질
- (2) 역사가 종교적 신념을 형성하는 방식들
- (3) 독립적인 사고를 막아야 할 필요성
- (4) 문화적 다양성의 영향들

- 3 “뉴델리에 고객센터 콜센터 오픈”
 “Nike 인도네시아로 생산 확장”
 “Toyota 자동차 테네시주에서 조립”

다음 중 이 헤드라인들이 반영하는 개념은?

- (1) 민족주의
- (2) 세계화
- (3) 식민주의
- (4) 치외법권

- 4 다음 중 몽테스키외와 루소, 볼테르의 사상들과 가장 관련이 있는 것은?

- (1) 비엔나 의회
- (2) 과학 혁명
- (3) 계몽주의
- (4) 이탈리아의 통일

- 5 다음 중 작가와 저서를 올바르게 짝지은 것은?

- (1) 공산당 선언(*Communist Manifesto*) - 오토 폰 비스마르크
- (2) 국부론(*The Wealth of Nations*) - 애덤 스미스
- (3) 인구론(*Essay on the Principles of Population*) - 갈릴레오 갈릴레이
- (4) 통치론(*Two Treatises of Government*) - 찰스 다윈

- 6 다음 중 시몬 볼리바르와 호세 데 산마르틴, 투생 루베르튀르가 이끌었던 것은?

- (1) 노예 반란
- (2) 독립 운동
- (3) 대의 정치
- (4) 비폭력 저항

7번 문제는 아래의 글과 자신의 사회과학 지식을 바탕으로 답하십시오.

... 평상시에 인민 정부의 힘이 미덕이라면 혁명 시기 동안의 인민 정부의 힘은 미덕과 공포 양쪽 다입니다. 미덕이 없는 공포는 재난을 부르고 공포가 없는 미덕은 무력합니다. 공포는 즉각적이고 엄격하며 강직한 정의에 불과합니다. 그러므로 공포는 미덕의 발현체[뿌리]이며, 특별한 원칙이라기 보다는 민주주의의 일반 원칙이 조국의 절박한 필요에 적용된 결과라고 할 수 있습니다. 독재 정부의 힘은 공포라고들 합니다. 그러면 우리 정부가 폭정과 비슷합니까? 예, 자유의 영웅들의 손에서 반짝이는 검이 독재자의 주변에서 맴도는 그런 사람들이 쥐고 있는 것과 비슷한 것처럼 말입니다. 폭군이 짐승같이 되어버린 자신의 백성들을 공포로 다스리라고 합시다. 폭군으로서 옳은 일을 하는 것입니다. 자유의 적을 공포로 진압하십시오. 여러분은 공화국의 건국자들과 같이 옳은 일을 하는 것입니다. 혁명 정부는 독재에 대항하는 자유의 폭정입니다. . . .

— Maximilien Robespierre, “Virtue and Terror: Speech to the Convention”, 1794

- 7 로베스피에르(Robespierre)에 의하면 다음 중 혁명 중인 정부가 통치에 이용해야 하는 것은?

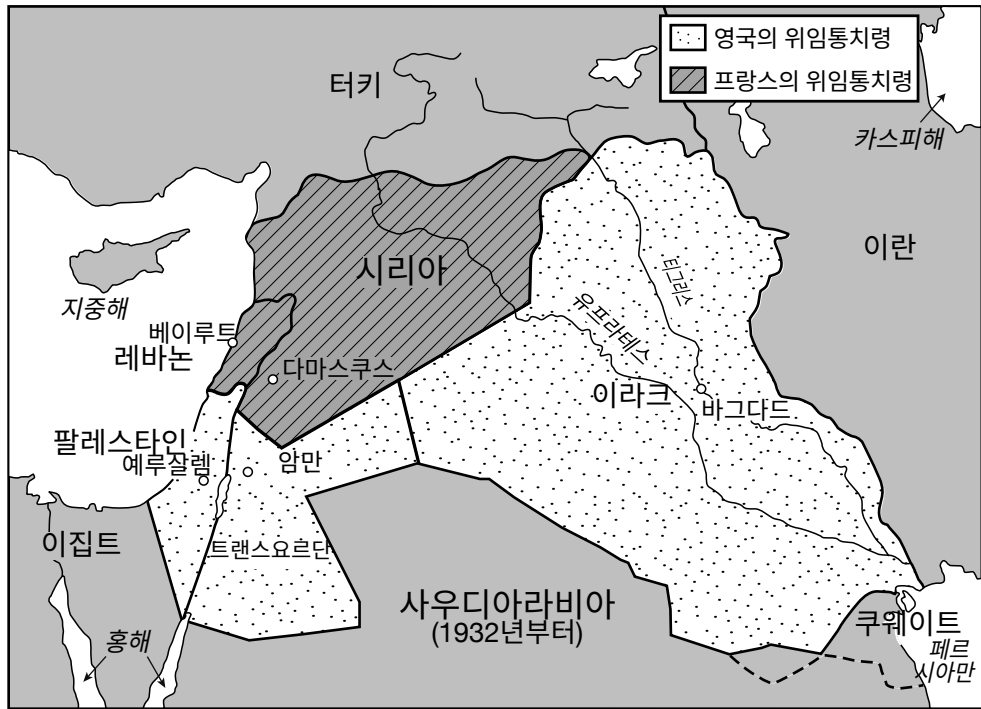
- (1) 국민들을 통제하기 위한 공포
- (2) 시민들의 권리를 보장하기 위한 자유
- (3) 평화를 증진하기 위한 정의
- (4) 언론을 통제하기 위한 검열

- 8 1800년대 후반에서 1900년대 초반, 다음 중 발칸 지역의 슬라브 민족주의 운동에 가장 영향을 미친 상황은?

- (1) 오스만 제국의 쇠퇴
- (2) 독일 내 파시즘의 성장
- (3) 러시아 황제 정부 내의 부패
- (4) 인도 내 무슬림 연맹의 형성

9번 문제는 아래의 지도와 자신의 사회과학 지식을 바탕으로 답하십시오.

국제연맹 위임통치령



출처: Albert Hourani, *A History of the Arab Peoples*, The Belknap Press of Harvard University Press (개정판)

- 9 이 지도에 나타난 국제연맹 위임통치령은 제1차 세계 대전 이전에는 다음 중 어떤 제국의 일부였습니까?
- (1) 오스트리아-헝가리
 - (2) 독일
 - (3) 러시아
 - (4) 오토만

- 10 다음 중 1800년대 후반 많은 유럽인들의 생활 수준이 향상됐던 이유 한 가지는?
- (1) 정부들이 노동자 계층 내에서 부를 균등하게 재분배했기 때문에
 - (2) 전염병과 굶주림의 시기들이 잉여 인구를 없앴기 때문에
 - (3) 임금과 물가 통제가 인플레이션을 막았기 때문에
 - (4) 산업화가 일자리와 시장을 더 많이 생성했기 때문에
- 11 다음 중 베를린 회담(1884-1885)에서 논의됐던 중심 주제는?
- (1) 라틴아메리카에 유럽 열강들의 역할 확대
 - (2) 아프리카 분할
 - (3) 식민지들에게 민족 자결권 부여
 - (4) 식민지 영토들에서 탐험과 과학적 연구 제한

- 12 다음 중 세포이 항쟁과 보어 전쟁, 아편 전쟁 모두가 관련있는 것은?
- (1) 영국 제국주의
 - (2) 프랑스의 식민지 건설
 - (3) 독일 산업화
 - (4) 러시아 군국주의
- 13 다음 중 일본의 메이지 정부가 요코하마와 도쿄 간에 철도와 전신선을 건설하고 국립은행을 설립하는 조치들을 취한 주된 이유는?
- (1) 경제의 현대화
 - (2) 외국의 협력 배제
 - (3) 도시에서 시골로 이주 제한
 - (4) 사무라이 계급의 권력 강화

- 14 • 세르비아가 최후통첩을 받는다.
- 러시아가 세르비아를 지원한다.
- 독일이 병력을 동원한다.

다음 중 이 사건들의 가장 직접인 결과는 무엇입니까?

- (1) 케말 아타튀르크의 패배
- (2) 독일의 통일
- (3) 제1차 세계 대전의 발발
- (4) 제2차 세계 대전의 종전

- 15 간디의 추종자들은 다음 중 어떤 방식으로 특별히 영국 경제를 표적으로 삼았습니까?

- (1) 인도 국민 회의 수립
- (2) 암리차르에서 시위 조직
- (3) 옥중 단식
- (4) 수입 직물 불매 운동

16번과 17번의 문제는 아래의 발췌문과 자신의 사회과학 지식을 바탕으로 답하십시오.

조항 1

- 1. 1939년 1월 1일부터 유대인들의 소매점과 통신 판매점 운영 및 독립적인 교역 업무 수행이 금지된다.
- 2. 더우기 유대인들은 동일한 날부터 모든 종류의 시장이나 박람회, 전시회에서 상품이나 서비스를 제공하는 것 혹은 그런 것을 광고하거나 주문받는 것이 금지된다.
- 3. 이 명령을 위반하고 운영하는 유대인 상점들은 경찰에 의해 폐점될 것이다. . . .

- 16 다음 중 이 발췌문이 가장 잘 보여주는 개념은?

- (1) 다양성
- (2) 관용
- (3) 반유대주의
- (4) 해방

- 17 다음 중 제2차 세계 대전 이후에 작성된 문서로, 이런 유형의 조치들을 구체적으로 규탄한 문서는?

- (1) 윈스턴 처칠의 철의 장막 연설문
- (2) 세계 인권 선언문
- (3) 유럽 경제 공동체 선언문
- (4) 바르샤바 조약

18번 문제는 아래의 인용문과 자신의 사회과학 지식을 바탕으로 답하십시오.

... 수백년 동안 유럽인들이 아프리카 대륙을 지배했다. 백인은 스스로 비백인을 통치하고 지배하고 그의 복종을 받을 권리를 사칭했다 [주장했다]. 백인은 자기의 임무가 아프리카를 “문명화” 하는 것이라고 주장했다. 이러한 문명화란 미명하에 유럽인들은 이 대륙에서 막대한 부를 약탈했고 아프리카인들에게 상상할 수 없는 고통을 가했다. . . .

— Kwame Nkrumah, 1961

- 18 이 인용문에 근거하여 다음 중 콰메 은크루마(Kwame Nkrumah)가 지지했을 가능성이 가장 높은 진술은?

- (1) 독립된 아프리카 국가들은 유럽의 지침을 따라야 한다.
- (2) 아프리카의 국가들은 계속해서 유럽의 기술에 의존해야 한다.
- (3) 유럽인들이 아프리카의 광산들을 통제해야 한다.
- (4) 아프리카 대륙에서의 유럽 식민주의가 종식되어야 한다.

- 19 다음 중 영국령 인도 분할을 특징지을 수 있는 것은?

- (1) 가족의 크기를 조절하려는 노력
- (2) 힌두교도들과 이슬람교도들 간의 폭력
- (3) 핵무기 생산을 제한하려는 협상들
- (4) 미국과 소련의 경제 원조에 반대

- 20 공산주의 정부들이 계획 경제의 실행을 정당화하는 데 사용했던 논리는 다음 중 계획 경제의 어떤 부분 때문입니까?

- (1) 사치 품목들의 생산을 증가시킬 수 있기 때문
- (2) 전체로서의 사회를 강화할 수 있기 때문
- (3) 세계의 상호 의존성을 촉진할 수 있기 때문
- (4) 환경에 대한 우려들을 해결할 수 있기 때문

- 21 1956년 헝가리에서 그리고 1968년 체코슬로바키아에서 소련이 정치력과 군사력을 사용했던 것은 다음 중 어떤 갈망을 토대로 한 것입니까?

- (1) 부동항들에 대한 통제권 확보
- (2) 민주 정부 수립
- (3) 공산주의 통제력 보존
- (4) 동방 정교회 기독교 신앙 확산

- 22 • 도시 인구 이동
 • 국가의 역사를 “0년” 부터 재시작
 • 소작농들을 죽을 때까지 밭에서 일하도록 강요

다음 중 어떤 지도자의 정책들이 크메르 루즈가 취한 이런 조치들에 책임이 있습니까?

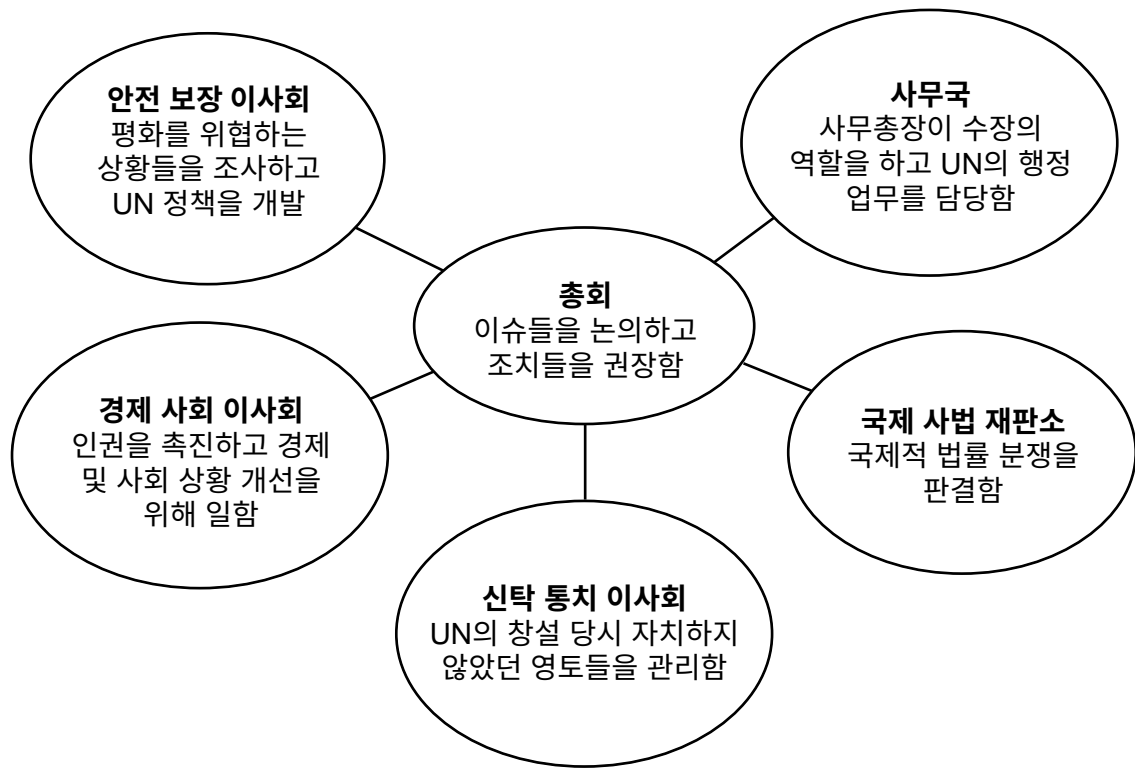
- (1) 폴 포트 (3) 마오쩌둥
 (2) 호치민 (4) 조모 케냐타

23 다음 중 1989년 중국 천안문 광장에서 있었던 시위의 목표는 무엇이었습니까?

- (1) 자치 지역들의 독립성 확보
 (2) 헌법 작성
 (3) 통일 법전 생성
 (4) 민주적 개혁들 달성

24번 문제는 아래의 도표와 자신의 사회과학 지식을 바탕으로 답하십시오.

1990년대 국제 연합



출처: Burton F. Beers, *World History: Patterns of civilization*, Prentice Hall (개정판)

24 다음 중 1990년대 발칸반도와 르완다에서 발생했던 위기와 같은 위기 상황에 병력을 파병하는 일에 직접적인 책임이 있는 국제 연합의 기구는?


- (1) 신탁 통치 이사회 (3) 안전 보장 이사회
 (2) 사무국 (4) 국제 사법 재판소

- 25 • 공산주의 관행에 대한 확산된 불만
- 공산주의 정부 내의 관료주의적 정체
 - 경제적 비효율성으로 인한 가용한 물품 부족
 - 여러 민족의 독립 요구

다음 중 이런 상황들이 원인이 되어 발생한 역사적인 사건은?

- (1) 이란에서 아야톨라 호메이니의 혁명
- (2) 버마에서 아웅산 수지의 국회의원 선출
- (3) 홍콩을 중국 통제하로 반환
- (4) 소련의 붕괴

26번 문제는 아래의 삽화와 자신의 사회과학 지식을 바탕으로 답하십시오.



출처: Victor Ndula, *Nairobi Star*, December 7, 2009

26 다음 중 이 삽화가가 주로 우려한 이슈는?

- | | |
|------------|-----------------|
| (1) 화학 무기들 | (3) 멸종 위기에 처한 종 |
| (2) 지구 온난화 | (4) 난민들 |

27번 문제는 아래의 삽화와 자신의 사회과학 지식을 바탕으로 답하십시오.



출처: Mike Keefe, Denver Post, May 31, 2006

27 다음 중 이 2006년의 삽화의 주요 견해는?

- (1) 서방 국가들이 다르푸르 사람들을 돕기를 간절히 원한다.
- (2) 대부분의 국가들이 다르푸르의 상황을 이해하지 못한다.
- (3) 다르푸르는 다른 국가들에게 경제적으로 이익이 될 때만 주의를 끌 것이다.
- (4) 다르푸르의 사람들은 서구의 기술을 이용해서 천연 자원을 얻는다.

28번 문제는 아래의 글과 자신의 사회과학 지식을 바탕으로 답하십시오.

...아프리카는 녹색 혁명을 경험하지 않았다. 열대 아프리카에는 아시아에서 발견되는 대규모, 저비용 관개에 활용되는 거대한 범람원이 부족하다. 또한 강우량은 변동이 심하고 빈곤한 농부들은 비료를 구입할 수 없었다. 초기 녹색 혁명 연구는 아프리카에서는 널리 자라지 않는 농작물, 특히 벼와 밀이 주를 이루었다(최근 몇 년간 아프리카에 적합한 다수확 품종들이 개발됐지만 아직 충분히 보급되지[분배되지] 않았다). 아프리카 대륙의 1인당 식량 생산량이 실제로 감소했으며, 아프리카인들의 칼로리 섭취량은 전 세계에서 가장 낮으며, 식량 불안정이 만연하다[널리 퍼져있다]. 인력은 생계형 자급자족 농업에 매여[묶여] 있다. . . .

출처: Jeffrey Sachs, "Can Extreme Poverty Be Eliminated?," *Scientific American*, 2005

28 이 글에 근거하면 다음 중 녹색 혁명이 아프리카에 영향을 거의 주지 못한 이유를 가장 잘 설명하는 것은?

- (1) 대규모 관개 프로젝트들 때문에 아프리카의 농부들이 빈곤해졌다.
- (2) 아프리카의 시골에 있는 인력의 칼로리 섭취량이 낮다.
- (3) 아프리카에서는 대부분 벼와 밀을 경작한다.
- (4) 아프리카의 지리적 요인들이 무시됐다.

29번과 30번의 문제는 아래의 글과 자신의 사회과학 지식을 바탕으로 답하십시오.

... "1950년대 미국이 티베트를 지원했던 것은 도덕적인 원칙이나 동정 때문이 아니라 미국의 전 세계적인 반공산주의 정책 때문이었죠." 라고 달라이 라마는 말했다. 그가 자서전에 쓴 것처럼 미국의 지원은 "반공산주의 정책들을 반영한 것이지 진정으로 티베트의 독립이 복원되기를 바란 것" 은 아니었다. . . .

출처: Thomas Laird, *The Story of Tibet: Conversations with the Dalai Lama*, Grove, 2006

29 다음 중 이 글에 반영된 사건은?

- (1) 의화단 사건
- (2) 청일 전쟁
- (3) 제2차 세계 대전
- (4) 냉전

30 이 글은 다음 중 어디 지도자들의 관점을 가장 잘 나타낼 것 같습니까?

- (1) 티베트
- (2) 중국 공산당
- (3) 미국
- (4) 국제 연합

에세이 문제의 답은 별도의 에세이 책자에 쓰십시오.

파트 II의 답을 작성할 때 다음의 일반적 정의를 참고하십시오.

- (a) **기술하십시오**란 “무엇에 관해 글로 설명하거나 그것에 대하여 말한다” 는 의미입니다
- (b) **논하십시오**란 “사실과 추론 및 논증을 이용하여 어떤 것에 대하여 관찰하고, 어느 정도 상세한 정보를 포함하여 서술한다” 는 의미입니다

파트 II

주제형 에세이 문제

지시사항: 서론, 아래 과제를 다루는 여러 개의 문단 및 결론을 포함하는 잘 구성된 에세이를 작성하십시오.

주제: 인간과 자연 지리학

1700년대부터 지금까지 지리적 특징들은 제국들과 국가들, 지역들의 발전에 영향을 미쳐왔습니다. 지리적 특징들은 다른 제국들과 국가들, 지역들과의 교류를 촉진하고 또 제한해 왔습니다. 그런 교류에는 무역, 확장, 식민지화, 원조, 전쟁이 포함됩니다.

과제:

1700년대와 현재 사이에 발전에 영향을 준 서로 다른 지리적 특징을 **두 가지** 선택한 다음, **각 특징**에 대해

- 그 지리적 특징이 어떻게 특정 제국이나 국가, 지역의 발달에 영향을 주었는지 기술하십시오
- 그 지리적 특징이 이 제국이나 국가, 지역이 **다른** 제국이나 국가, 지역과 교류하는 것을 어떻게 촉진 **및/또는** 제한했는지 논하십시오

세계사와 지리 공부를 통해 배운 지리적 특징 어떤 것이라도 사용해도 됩니다. 고려해 볼 만한 제안에는 북유럽 대평원(Great Northern European Plain)상의 프랑스의 위치, 그레이트 브리튼의 훌륭한 항구들, 러시아의 한랭 기후, 일본의 산업 자원 부족, 브라질의 아마존 열대 우림, 중동의 석유, 방글라데시의 갠지스강과 브라마푸트라강의 저지대 삼각주, 수에즈 운하 건설, 베를린 장벽 건설 등이 있습니다.

답안에 사용할 수 있는 것은 위에 제안된 것에 국한되지 않습니다.

답에는 미국 내에 있는 지리적 특징은 사용하지 마십시오.

지침사항:

에세이 작성 시, 반드시

- 과제의 모든 측면을 전개시키십시오
- 관련 사실, 사례 및 상세한 정보로 주제를 뒷받침하십시오
- 주제의 단순 반복이 아닌 서론과 결론을 포함한 논리적이고 명확한 구성 계획을 사용하십시오

파트 III

문서에 기초한 문제

이 문제는 주어진 문서들을 바탕으로 합니다. 이 문제는 역사적 문서를 처리하는 능력을 시험하기 위한 의도로 고안되었습니다. 문서들의 일부 내용은 이 문제의 목적에 맞도록 편집되었습니다. 문서들을 분석할 때, 각 문서의 출처와 문서에 나타난 관점을 참작하십시오. 각 문서에 사용된 언어와 이미지는 그 문서가 생성된 시기의 역사적인 배경을 반영할 수 있다는 점을 참작하십시오.

역사적 배경:

1917년 러시아 혁명은 정부가 국민의 필요를 충족하지 못했기 때문에 발생했습니다. 그 결과 개인들과 집단들은 정부의 실패에 대응하여 행동했습니다. 이런 행동들의 일부는 원했던 변화를 가져왔고 다른 행동들은 그러지 못했습니다.

과제: 문서들이 제공하는 정보와 자신의 세계사 및 지리 지식을 활용하여 파트 A의 각 문서 아래에 있는 문제들에 답하십시오. 이 문제들에 대한 답은 파트 B의 다음 에세이를 작성하는 데 도움이 될 것입니다

- 러시아 정부가 어떻게 자국민의 필요를 충족하지 못했는지 논하십시오
- 러시아에서 개인들 및/또는 집단들이 정부의 실패를 다루기 위해 취한 조치들을 기술하십시오
- 러시아 혁명의 결과로 러시아가 변화한 정도를 논하십시오

파트 III의 답을 작성할 때 다음의 일반적 정의를 참고하십시오.

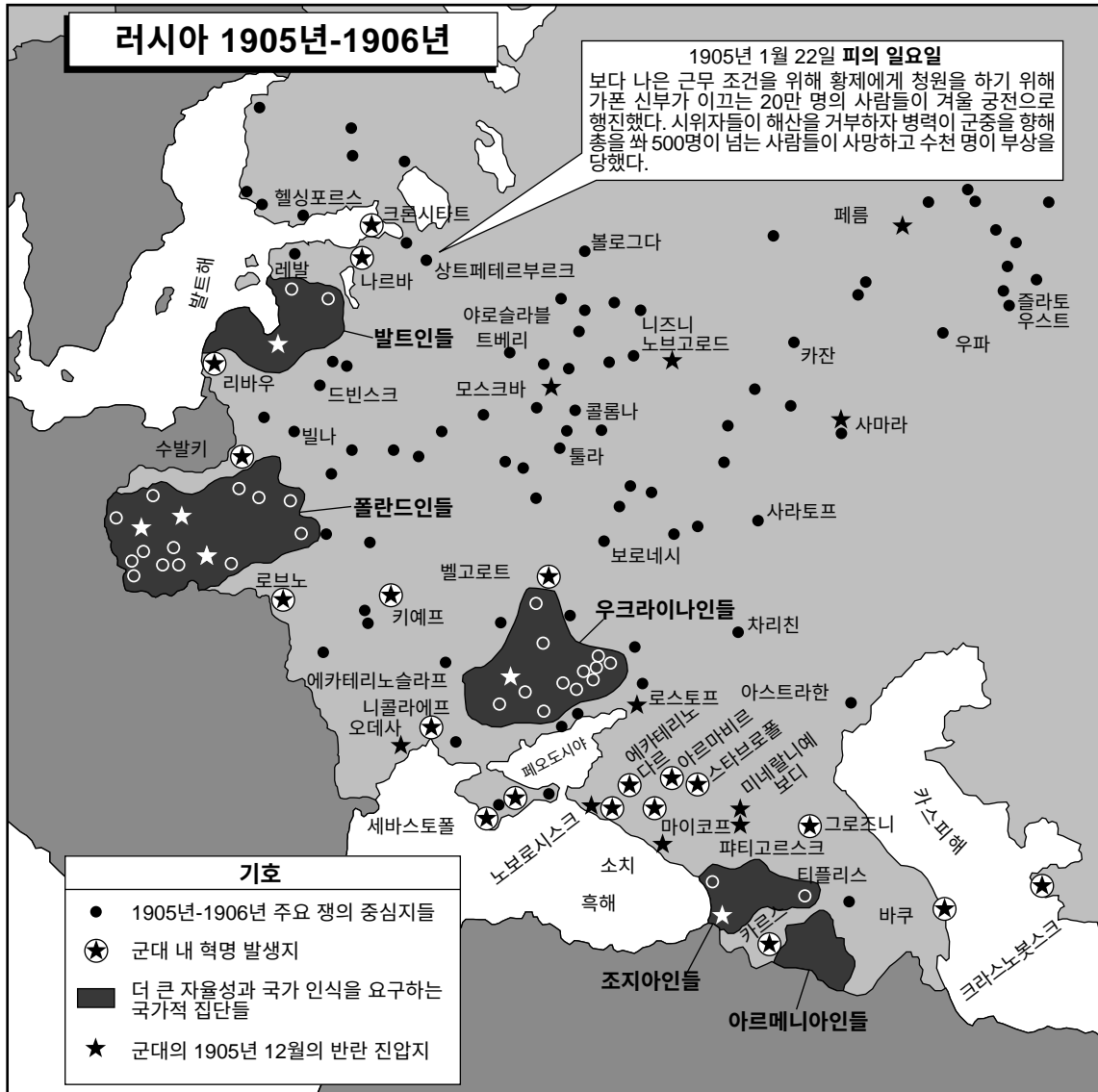
- (a) 논하십시오란 “사실과 추론 및 논증을 이용하여 어떤 것에 대하여 관찰하고, 어느 정도 상세한 정보를 포함하여 서술한다” 는 의미입니다
- (b) 기술하십시오란 “무엇에 관해 글로 설명하거나 그것에 대하여 말한다” 는 의미입니다

파트 A

단답형 문제

지시사항: 문서들을 분석하고, 각 문서 아래에 있는 단답형 문제의 답을 주어진 칸에 쓰십시오.

문서 1



출처: Victoria Sherrow, *Life During the Russian Revolution*, Lucent Books (개정판)

1 이 지도에 나타난 정보에 의하면 1905년과 1906년 사이 러시아 정부가 직면했던 **한 가지** 문제는 무엇이었습니까? [1]

Score

문서 2

...마지막 황제[황제]인 니콜라이 2세는 스스로를 이중적인 위기에 빠뜨렸다. 그는 시민 사회의 신생 부류들, 즉 정당들과 전문가 연합들, 노동 조합들을 심각하게 방해했고 성가시게 했다. 하지만 이들을 완전히 억압하려는 시도도 중단했다. 그 결과 그의 전제 군주제는 끊임없는 도전을 받았다. 제1차 세계 대전 이전의 사회적, 경제적 변모는 그저 문제들을 더할 뿐이었다. 사회에서 빈곤을 겪은 집단들은 당연히 당국에 적대적이었다. 다른 집단들의 물질적 상황들은 개선되었지만, 이들 중 일부는 정치 질서의 본질에 좌절을 느꼈기 때문에 또한 위험을 제기했다. 제1차 세계 대전이 발발하여 체제에 대해 남은 지지[지원]가 무너진 그런 상황이었다. 그 결과는 경제적 붕괴와 행정적 혼란, 군사적 패배의 상황들 속에서 1917년 일어난 2월* 혁명이었다. 지역에서는 국민 자치를 하려는 폭풍 같은 노력에 대한 표현[목소리]이 나왔고, 제국 전역에 있는 노동자들과 소작농들, 징집병들[지원병들]은 자기들의 요구가 지체되지 [방해받지] 않을 것을 주장했다. . . .

출처: Robert Service, *A History of Twentieth-Century Russia*, Harvard University Press, 1998

*이 문서에서 2월은 율리우스력을 사용하여 나타낸 것입니다. 그레고리력으로는 이 사건은 문서 4와 7a에 나타난 것처럼 3월에 발생한 것입니다.

- 2 로버트 서비스(Robert Service)에 의하면 황제 니콜라이 2세가 제1차 세계 대전 전이나 전쟁 중에 직면했던 **한 가지** 문제는 무엇이었습니까? [1]

Score

문서 3

러시아는 1914년 제1차 세계 대전에 참전했습니다.

... 2월 혁명[1917]을 전쟁[제1차 세계 대전] 피로감의 결과로 보는 것은 오판이다. 사실은 그 반대이다. 러시아인들은 전쟁을 좀 더 효과적으로 밀고 나가기를 원했다. 기존의 [황제 니콜라이 2세의] 정부는 그럴 능력이 없었고 기존의 정치 구조들을 대대적으로 정비할 필요가 있다고 느꼈다. 즉, 불충한 여황제를 제거하고 의회가 장관들을 임명하도록 하면 러시아가 적절하게 싸우고 이길 준비가 될 거라는 것이었다. 전쟁 피로감은 임시 정부가 위신을 강화하고 국민의 사기를 진작시키려고 시작한 1917년 6월의 공격이 실패한 후에야 밀려왔다. 그때까지는 볼셰비키들조차도 평화는 인기가 전혀 없는 슬로건이었기 때문에 감히 드러내 놓고 요구하지 않았다. . . .

제1차 세계 대전 중 운송 체계의 고장으로 북부 도시들로의 식량과 연료 운송에 심각한 지장을 받았기 때문에 이는 도시 인구의 불만으로 이어졌고, 그곳에서 식량 폭동이 시작됐다. 도시들에서의 인플레이션 또한 일조했다. . . .

출처: Richard Pipes, *Three "Whys" of the Russian Revolution*, Vintage Books, 1997

- 3 리처드 파이프스(Richard Pipes)에 의하면 일부 러시아인들이 황제 니콜라이 2세의 정부가 비효과적이었다고 믿었던 **한 가지** 이유는 무엇이었습니까? [1]

Score

문서 4

황제는 1917년 3월 15일 퇴위했고 리보프 왕자 치하의 임시 정부가 정권을 잡았습니다.

. . . 새 임시 정부는 헌법을 따르는 민주당원들 혹은 입헌 민주당원들이 지배했고, 이당은 러시아에 그레이트 브리튼의 정부와 유사한 민주 정부를 수립하고 싶어했다. 임시 정부의 수장은 그저 그런 능력의 귀족인 리보프 왕자였다. 이 입헌 민주당 체제는 스스로를 총선이 열릴 수 있을 때까지 봉사하는 과도 정부라고 간주하며 태만한 정책을 추구했다. 이 정부는 8개월 동안 법질서를 회복하거나 국가 경제가 빠르게 와해되는 것을 멈추려는 노력을 거의 하지 않았다. 이런 위기의 시기에 강력한 지도부가 필요했던 러시아인데, 황제의 정부보다 더 약한 정부를 보게 되었다. . . .

최고의 조건하에서도 리보프 정부는 수백 년 동안 러시아에 만연했던 경제 문제들을 신속히 해결할 수 없었다. 소작농들 사이에서 제기된 주된 요구는 토지 개혁이었다. 수백 년 동안 이들은 자기 소유의 토지를 갖는 것을 꿈꿔왔고, 혁명은 그 꿈이 이뤄질 거라는 희망을 주었다. 하지만 임시 정부가 할 수 있는 최선의 일이란 그 문제를 제안된 헌법 제정 회의에 회부하는 정도였다. 러시아의 참전을 유지한다고 결정함으로써 새 정부는 전쟁에 지친 군인들과 시민들의 신뢰를 잃었다. 러시아인들은 잘 산 적이 없었고, 이제는 그 어느 때보다 더 고통을 받고 있었다. . . .

출처: Michael Kublin, et al., *Russia*, Third Edition, Houghton Mifflin Company, 1990

- 4 마이클 쿠블린(Michael Kublin) 등에 의하면 리보프 왕자 치하의 임시 정부가 비효과적이라고 간주할 만한 **한 가지** 이유는 무엇이었습니까? [1]

Score

문서 5

1917년 7월 알렉산더 케렌스키가 임시 정부의 리더가 되었습니다. 1917년 10월* 25일과 26일에 있었던 일부 핵심 사건들로 인해 케렌스키와 멘셰비키들이 이끌었던 임시 정부가 붕괴되었습니다.

- **자정에서 오전 2시:** 페트로그라드 전역에서 볼셰비키들을 지지했던 병력과 노동자들이 도시의 다리들과 기차역들, 전화 교환국들, 발전소들, 은행들, 우체국들을 점령하기 시작했다. . . .
- **정오:** 볼셰비키의 병력이 사전 의회의 본부였던 마린스키궁을 점령했고, 이 사전 의회는 2월 혁명 후 합법적인 의회가 제자리에 설립될 수 있을 때까지 수립된 정부 기관이었다. 겨울 궁전 내에서는 케렌스키가 출발했다는 소식에 모두들 공황 상태에 빠져 있었다. 임시 정부의 나머지 장관들은 말라카이트 홀에 모여 최후의 필사적인 방어책을 논의했다. . . .
- **오후 6시50분:** 볼셰비키들은 겨울 궁전에 임시 정부의 항복을 요구하는 최후 통첩을 보냈다. 저녁으로 보르시치(일종의 비트 스프)와 썬 생선, 아티초크를 먹으려고 막 자리에 앉은 장관들에게 최후 통첩이 전달됐다. 케렌스키가 언제 도움을 얻어 돌아올지 여전히 알 수 없고 자신들의 터무니없는 약함을 인식하지 못한 채 그들은 버티기로 했다. . . .
- **자정:** 소비에트 의회 바깥에서 우리와 같은 충성이 올리자 멘셰비키들과 사회 혁명가들은 그 싸움을 즉시 중단할 것을 요구했다. 이들은 그런 행동으로 러시아가 내전에 빠져들 거라고 당연히 예상했다. 볼셰비키들은 그런 요구를 듣지 않았다. 트로츠키가 역사상 가장 유명한 해임 중의 하나를 지시하자 그들의 반대자들[멘셰비키들과 다른 이들]은 떠나버렸다. 레닌은 영리하게 자신의 반대자들의 기반을 약화시켜서 볼셰비키들이 소비에트를 완전히 통제할 수 있게 했다. . . .

출처: Paul Dowswell, *The Russian Revolution, October 25, 1917*, Raintree, 2004 (개정판)

*이 문서에서 10월은 율리우스력을 사용하여 나타낸 것입니다. 그레고리력에서 이 사건은 문서 6과 7a에서 나타난 것처럼 11월에 발생한 것입니다.

5a 폴 다우스웰(Paul Dowswell)에 의하면 1917년 볼셰비키들이나 그들의 지지자들이 반대자들을 권력에서 제거하기 위해 취한 **한 가지** 조치는 무엇이었습니까? [1]

Score

b 폴 다우스웰(Paul Dowswell)에 의하면 멘셰비키들과 사회 혁명가들이 싸움에 대해 제기했던 **한 가지** 우려는 무엇이었습니까? [1]

Score

문서 6

1917년 11월의 혁명 후에 볼셰비키들은 입법 기관으로 소브나르콤을 설립했습니다.

...약속들...

권력을 잡은 첫 겨울 동안 소브나르콤[인민위원평의회]은 놀라우리만치 원대한 일련의 법령이나 법률을 도입했다. 첫째, 약속한 대로 레닌은 제1차 세계 대전에서 철수한다고 발표했다. 둘째, 토지 법령(Decree on Land)으로 귀족과 러시아 동방 정교회가 소유한 모든 토지를 빼앗아 소작농들에게 나눠줬다.

모든 어린이들에게 무상 교육을 제공하기로 약속했고, 여성들은 이제 남성과 동등하다고 간주됐다. “시민” 과 “동무” 외의 모든 작위가 폐기되어 왕자나 백작 같은 것은 더 이상 존재하지 않게 됐다. 일일 최대 근무시간은 8시간으로 단축됐다. 우크라이나와 조지아 같은 러시아 제국의 소수 국가들은 자국의 일에 보다 많은 통제력을 갖게 됐다. 권력 장악이 아니라 이런 조치들이 진정한 혁명이었다. . . .

출처: David Downing, *Vladimir Ilyich Lenin*, Heinemann Library, 2002

6 데이비드 다우닝(David Downing)에 의하면 소브나르콤에 의해 제정된 법령이나 조치들이 러시아 내의 불평등을 다루기 위해 노력했던 **한 가지** 방식은 무엇이었습니까? [1]

Score

문서 7a

1917년 11월 레닌이 권력을 잡았다. 볼셰비키들은 황제 니콜라이 2세의 통치 기간 중 1913년에 이뤘던 것과 같은 생산 수준으로 회복시키려고 노력하면서 엄청난 과제에 직면했다. 제1차 세계 대전과 1917년 3월 및 1917년 11월의 혁명들, 1918년에서 1921년까지의 러시아 내전은 생산에 영향을 미쳤다.

1921년 레닌은 전시 공산주의[1918 - 1921]를 버리고 신경제 정책(NEP) [1921 - 1924]을 도입했다. 이로써 정부는 경제를 덜 통제하게 됐다. 일부는 직접적으로 국가를 위해 일하는 대신 자영업을 통해 이윤을 추구할 수 있게 됐다. 이 새 정책은 경제를 부양하고 노동자들과 소작농들의 문제들을 완화시켜 공산주의 통치에 대한 이들의 반대를 제거하려는 목적이었다.

출처: Philip Ingram, *Russia and the USSR 1905-1991*, Cambridge University Press, 1997

문서 7b

러시아/USSR 생산량

상품	황제	전시 공산주의				신경제 정책		
	1913	1918	1919	1920	1921	1922	1923	1924
밀 (백만 미터톤)	28	---	---	8.7	5.6	10.6	12.3	13.1
감자 (백만 미터톤)	35.9	---	---	20.9	20.6	22.2	34.7	36.2
무연탄 (백만 미터톤)	28.0	11.5	7.7	6.7	7.5	9.3	10.5	14.6
조강 (천 미터톤)	4,918	402	199	194	220	318	615	993
전기 에너지 (기가와트시)	2.04	---	---	0.50	0.52	0.78	1.15	1.56

출처: B.R. Mitchell, *International Historical Statistics: Europe 1750-1988, Third Edition*, Stockton Press, 1992 (개정판)

7 필립 잉그램(Philip Ingram)의 발췌문과 이 표에 있는 데이터에 근거하여 러시아/USSR 경제에 대한 레닌의 NEP의 영향과 그의 전시 공산주의 정책의 영향 간의 차이를 **한 가지** 쓰십시오. [1]

Score

문서 8

...공산주의 관점에서 NEP는 후퇴이자 실패를 일부 인정하는 셈이었다. 여러 공산주의자들은 깊은 환멸을 느꼈다. 혁명으로도 별로 바뀐 게 없는 것 같았다. 1918년부터 소비에트의 수도였고 코민테른의 본부인 모스크바는 NEP의 초기 몇 년 동안은 다시 북적이는 도시가 되었다. 하지만 시장에서 감자를 파는 소작농 여성들, 신자들을 부르는 교회종들과 긴 수염의 사제들, 거리와 기차역들에서 자기 일을 하는 매춘부들과 거지들, 소매치기들, 나이트클럽에서의 집시 노래들, 신사들에게 모자를 살짝 들어 올리며[기울이며] 인사하는 유니폼을 입은 도어맨들, 모피를 입고 실크 스타킹을 신고 영화를 보러가는 사람들이 있는 그곳의 모습들은 표면상으로는 여전히 1913년의 모스크바였다. 이런 모스크바에서 가죽 잠바를 입은 공산주의자는 칙칙한 외부인 같았고, 적군(Red Army)의 참전 군인은 노동거래소[실업사무소]에 줄을 서고 있을 가능성이 높았다. 모순되게도[아이러니하게도] 크렘린 궁전이나 렉스 호텔에 진을 치고 있는 혁명 지도자들은 불길한 예감이 드는 미래를 주시하고 있었다. . . .

출처: Sheila Fitzpatrick, *The Russian Revolution, Second Edition*, Oxford University Press, 1994

8 실라 피츠패트릭(Sheila Fitzpatrick)에 의하면 일부 공산주의자들이 소비에트 공산주의하에서 NEP가 러시아를 바꾸지 못했다고 믿는 **한 가지** 이유는 무엇이었습니까? [1]

Score

문서 9

...1921년까지 레닌과 소비에트 리더들은 소작농의 반란들이 계속 진행되고 있긴 했으나 국내외 적들에 대항하여 성공적인 입지에 있었다. 하지만 이들이 통치하는 것은 경제는 산산조각이 나고 불만으로 들끓고 수년간의 전쟁과 내전으로 트라우마를 겪는 나라였다. 1914년과 1923년 사이에 아마도 총 2천5백만에서 3천만 명 정도의 사람들이 전쟁과 전쟁 관련 질병으로 사망했다. 심지어는 더 많은 수의 사람들이 부상과 질병, 굶주림으로 영구적으로 장애를 입었다. 기대했던 국제 혁명은 아직 일어나지 않았다. 더우기 사회적 및 문화적 변신에 대한 여러 희망도 산산히 부서졌다. 그렇게 많은 이들이 희망했던 세상은 너무 멀리 있는 것 같았다. 지도부는 이제 무엇을 할 것인지, 국가가 직면한 여러 문제를 다루는 데 어떤 종류의 정책들이 필요한지에 대한 광범위한 질문들에 직면했다. 신경제 정책은 일시적인 대책이었고 궁극적인 목표는 사회주의 사회였다는 점에 대체로 동의했으나, NEP가 얼마나 지속될 것인지 혹은 그런 사회를 어떻게 건설할지를 비롯해 그 외의 것에는 거의 의견의 일치를 보지[동의를 이루지] 못했다. 레닌의 지도력이 없는(그는 1922년에 병져 누웠고 1924년 1월에 사망했다) 소련의 정치 지도자들은 이내 1920년대 권력 다툼이 이뤄지는 동안 그런 문제들에 대한 답을 찾기 위해 싸웠고 그로 인해 스탈린이 최고 권력으로 부상하게 됐다.

출처: Rex A. Wade, *The Bolshevik Revolution and Russian Civil War*, Greenwood Press, 2001

9a 렉스 A. 웨이드(Rex A. Wade)의 발췌문에 근거하여 레닌과 소비에트 지도부가 자신들의 혁명 중에서 성공적이었던 방식을 **한 가지** 쓰십시오. [1]

Score

b 렉스 A. 웨이드(Rex A. Wade)의 발췌문에 근거하여 레닌과 소비에트들이 벌인 혁명이 국민의 필요를 충족하지 못하자 소비에트 지도부가 직면했던 문제를 **한 가지** 쓰십시오. [1]

Score

파트 B

에세이 문제

지시사항: 서론, 여러 개의 문단 및 결론을 포함하는 잘 구성된 에세이를 작성하십시오. **최소한 다섯 개의** 문서에서 근거를 찾아 에세이에 사용하십시오. 관련 사실, 사례 및 자세한 정보를 사용하여 자신의 답안을 뒷받침하십시오. 다른 출처의 추가 정보도 포함시키십시오.

역사적 배경:

1917년 러시아 혁명은 정부가 국민의 필요를 충족하지 못했기 때문에 발생했습니다. 그 결과 개인들과 집단들은 정부의 실패에 대응하여 행동했습니다. 이런 행동들의 일부는 원했던 변화를 가져왔고 다른 행동들은 그러지 못했습니다.

과제: 문서들이 제공하는 정보와 자신의 세계사 및 지리 지식을 활용하여 다음 사항들에 맞게 에세이를 작성하십시오.

- 러시아 정부가 어떻게 자국민의 필요를 충족하지 못했는지 논하십시오
- 러시아에서 개인들 및/또는 집단들이 정부의 실패를 다루기 위해 취한 조치들을 기술하십시오
- 러시아 혁명의 결과로 러시아가 변화한 정도를 논하십시오

지침사항:

에세이 작성 시, 반드시

- 과제의 모든 측면을 전개시키십시오
- **최소한 다섯 개의** 문서로부터 찾은 정보를 포함시키십시오
- 관련된 다른 출처의 정보도 포함시키십시오
- 관련 사실, 사례 및 상세한 정보로 주제를 뒷받침하십시오
- 주제의 단순 반복이 아닌 서론과 결론을 포함한 논리적이고 명확한 구성 계획을 사용하십시오

