

The University of the State of New York  
**REGENTS HIGH SCHOOL EXAMINATION**

**미국 역사 및 정부  
(UNITED STATES HISTORY  
AND GOVERNMENT)**

**목요일**, 2005년 1월 27일 - 오후1:15 - 오후4:15에만 실시

학생 이름 \_\_\_\_\_

학교명 \_\_\_\_\_

자신의 성명과 학교명을 인쇄체로 기입하십시오. 다음, 이 책자의 마지막 페이지에 있는 **파트 I** 답안지를 여십시오. 점선을 따라서 마지막 페이지를 접은 다음, 주의해서 답안지를 절취하십시오. 다음, 답안지의 위 부분에 기입하십시오. 에세이 책자는 각 페이지의 위 부분에 자신의 성명과 학교명을 인쇄체로 기입하십시오.

이 시험은 세 파트로 구성됩니다. **모든** 파트의 모든 질문에 답하십시오. 검정 혹은 진한 청색 잉크를 사용하여 답하십시오.

**파트 I**에는 50개의 선다형 문제가 있습니다. 이 문제에 대한 답을 별도의 답안지에 기입하십시오.

**파트 II**에는 1개의 주제를 다루는 에세이 문제가 있습니다. 이 질문에 대한 답은 에세이 책자 1페이지부터 기입하십시오.

**파트 III**은 여러 개의 문서를 기반으로 구성됩니다:

**파트 IIIA**는 여러 문서를 포함합니다. 각 문서의 끝에는 하나 이상의 문제들이 나옵니다. 각 시험 책자의 문제에 대한 답을 그 질문 뒤에 있는 줄에 기입하십시오. 이 섹션의 첫 페이지에 자신의 성명과 학교명을 반드시 기재합니다.

**파트 IIIB**는 문서에 기초를 두는 1개의 에세이 문제가 있습니다. 이 문제에 대한 답은 에세이 책자의 7페이지부터 기입하십시오.

시험을 마친 다음에는 **파트 I**의 답안지에 인쇄된 진술문에 서명함으로써, 시험을 치르기 전에 문제나 답에 대한 불법적인 지식이 없었으며 시험을 치르는 동안 도움을 주지도 또한 받지도 않았음을 표시하십시오. 이 진술문에 서명하지 않는 학생의 답은 인정하지 않습니다.

**지시가 있을 때까지 이 시험 책자를 열지 마십시오.**

## 파트 I

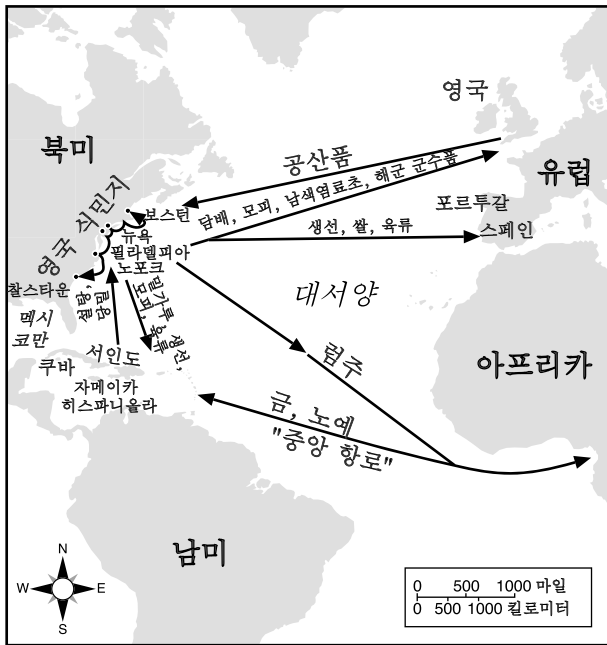
이 파트의 모든 문제에 답하십시오.

설명(1-50): 각 문제의 문장이나 질문에 가장 적절한 답의 번호를 답안지에 기입하십시오.

1 비옥한 땅과 긴 성장기 때문에, 13개 식민지의 대농장은 어디서 발달했는가?

- (1) 뉴 잉글랜드
- (2) 중부 대서양 지역
- (3) 남부
- (4) 미시시피강 계곡 상부

2번 문제는 다음 지도와 사회학 지식을 바탕으로 답하십시오.



출처: U.S. History: Preparing for Advanced Placement Examination, AMSCO (발췌)

2 이 지도에 가장 알맞은 제목은 무엇인가?

- (1) 영국의 아메리카 지배
- (2) 식민지 무역 통로
- (3) 신세계의 스페인 식민지
- (4) 1750년대 미국

3번 문제는 다음 인용문과 사회학 지식을 바탕으로 답하십시오.

...나는 화해의 최대 옹호자[지지자]에게, 이 대륙이 대영제국과 연결됨으로써 얻을 수 있는 단 하나의 이점을 보여달라고 도전한다. 다시 말하지만, 단 하나의 이점도 얻을 수 없다. 우리의 옥수수는 유럽의 어느 시장에서든지 제 값을 받을 것이며, 우리의 수입 물품은 반드시 그 값이 지불되어야 하고....

— Thomas Paine, *Common Sense*, 1776

3 이 화자는 무엇에 반대할 가능성이 가장 큰가?

- (1) 중상주의
- (2) 자본주의
- (3) 직접 민주주의
- (4) 대표 정부

4 독립 선언서에 나와 있는 미국 독립에 대한 가장 큰 논쟁은, 영국의 어떠한 점에 관한 것이었는가?

- (1) 노예 무역의 참여를 중단했다.
- (2) 아메리카인에 대한 제품 판매를 거부했다.
- (3) 아메리카인의 자연권을 박탈했다.
- (4) 의회에서 아메리카 대표자를 검열했다.

5 미국 헌법의 전문은, 정부의 목적을 서술하며, 또한 어떠한 믿음에 근거하는가?

- (1) 주가 궁극적 권한을 가진다.
- (2) 의회의 구성원은 임명되어야 한다.
- (3) 대법원 판사는 선출되어야 한다.
- (4) 국민에게 주권이 있다.

6번과 7번 문제는 다음 진술과 사회학 지식을 바탕으로 답하시오.

화자 A: 우리는 질서를 제공하고 국민의 권리를 보호할 수 있는 강력한 국가 정부를 원한다.

화자 B: 우리는 국민의 권리나 주의 권력이 위협받지 않도록 약한 국가 정부를 원한다.

화자 C: 우리는 권력의 남용으로부터 국민을 보호하기 위해 권리 선언을 헌법에 추가하기를 원한다.

화자 D: 새 정부의 권력은 헌법의 제한을 받기 때문에 권리 선언은 불필요하다.

6 위의 진술에 대한 공통된 주제는 무엇에 대한 열려인가?

- (1) 과대한 주의 권한
- (2) 1785년 토지 법령
- (3) 개인의 권리
- (4) 연방헌법의 제창

7 위의 진술에 나타난 관점은 어떠한 단체들 사이의 차이점에 대한 것인가?

- (1) 독립 지사 애국주의자와 영국 지지 토리당
- (2) 북부의 지도자들과 서부의 지도자들
- (3) 의회지지자들과 대통령 지지자들
- (4) 연방주의자와 반연방주의자

8 George Washington 대통령은 1793년의 프랑스와 영국간의 분쟁에 어떻게 대응했는가?

- (1) 미국 독립을 위한 전쟁 개시의 기회로 사용했다.
- (2) 합중국의 중립성을 선언했다.
- (3) 미국 혁명을 지지해 준 프랑스를 지원했다.
- (4) 전쟁 국가들 사이의 평화적 타결을 협상했다.

9 미합중국 헌법의 초안자들이 연방주의, 견제와 균형 및 권력의 분산의 개념들을 문서에 포함시킨 이유는 무엇인가?

- (1) 무한권력의 정부를 두려워했기 때문
- (2) 부자 보다 가난한 자를 편애했기 때문
- (3) 주의 권력 증가를 원했기 때문
- (4) 민주적 과정의 팽창을 바랬기 때문

10 사법 심사권은 대법원에 대해 무엇을 허용하는가?

- (1) 헌법 개정에 대한 철회
- (2) 법의 합헌성 결정
- (3) 선거인단의 동수 득표 시 결정권
- (4) 대통령과 고위 공직자의 탄핵

11 정당의 발달과 의회에서 사용되는 위원회 제도의 발달은 무엇의 응용을 보여주는가?

- (1) 헌법 개정
- (2) 연방 입법
- (3) 불문 헌법
- (4) 대법원 결정

12 헌법에 대한 느슨한 해석이 적용된 것은 언제인가?

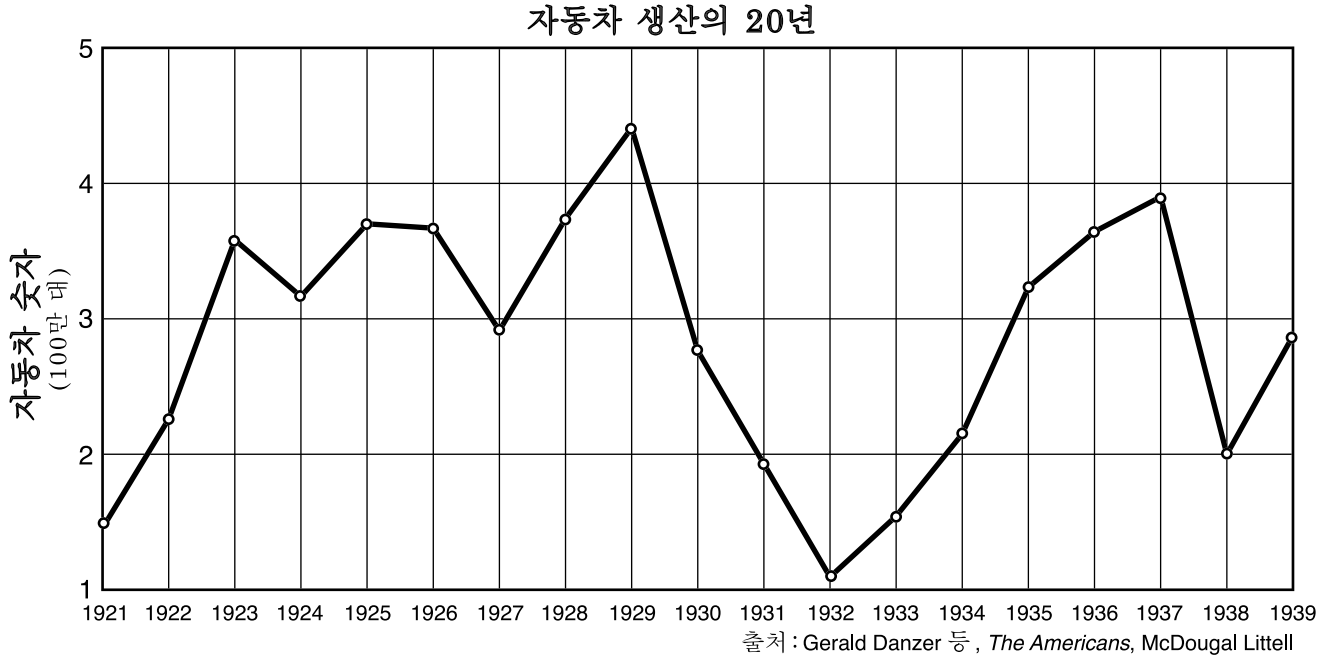
- (1) George Washington이 John Jay를 대법원에 임명했을 때
- (2) John Adams가 외국인 안법에 서명했을 때
- (3) Thomas Jefferson이 루이지애나 영토를 매입했을 때
- (4) James Monroe가 일반 교서를 행했을 때

13 James Madison과 Thomas Jefferson이 Alexander Hamilton의 재정 정책에 반대한 이유의 하나는 무엇인가?

- (1) 국가 은행의 설립을 위헌이라고 생각했기 때문
- (2) 자유방임 정책이 국가 경제에 도움이 안 될 것이라고 생각했기 때문
- (3) 정부가 산업 발전을 장려해야 한다고 생각했기 때문
- (4) 높은 관세가 미국의 경제적 이익에 필요하다고 생각했기 때문

- 14 Andrew Jackson 대통령이 수행한 정책의 결과로서, 미국 인디언들은 어떻게 되었는가?  
 (1) 멕시코의 보호 구역으로 이주되었다.  
 (2) 미시시피 강의 서부 지역으로 강제 이주를 당했다.  
 (3) 점차적으로 조상의 땅으로 돌아오는 것이 허용되었다.  
 (4) 합중국 시민권을 받았다.
- 15 미조리 협약 (1820), 1850년의 협약 그리고 캔사스-네브라스카 법(1854)은 모두 무엇을 위한 노력이었는가?  
 (1) 중서부 지역 농부들과 미국 인디언 사이의 싸움 종식  
 (2) 서부에서의 제조업 장려  
 (3) 대통령 선거에 투표하는 사람 수의 증가  
 (4) 서부 영토로의 노예 제도와 확산에 대한 분쟁 타결
- 16 합중국에서 노예 제도가 공식적으로 폐지된 것은 무엇에 의해서인가?  
 (1) 1850년의 협약  
 (2) 1863년의 노예 해방법  
 (3) 1865년 해방노예국의 설립  
 (4) 1865년 헌법 13조 개정의 비준
- 17 다음 중 나머지 3개를 포함시킬 수 있는 중심 제목은 무엇인가?  
 (1) 이리 운하  
 (2) 19세기의 국내 개선  
 (3) 대륙횡단 철도  
 (4) 국가 도로
- 18 미국 흑인을 위한 경제적 기회의 개선을 위해, 1800년대 말에 직업 훈련 기구를 설립한 지도자는 누구인가?  
 (1) George Washington Carver  
 (2) Frederick Douglass  
 (3) W. E. B. Du Bois  
 (4) Booker T. Washington
- 19 다음 중 1800년대 후반기에, 다른 세 가지의 발전을 초래한 것은?  
 (1) 중산 계급의 팽창  
 (2) 산업화의 성장  
 (3) 트러스트의 형성  
 (4) 노동 조합의 결성
- 20 1890년부터 1915년 사이 합중국의 "새 이민자"는 주로 어디에서 왔는가?  
 (1) 남부 및 동부 유럽  
 (2) 북부 및 서부 유럽  
 (3) 동 아시아  
 (4) 라틴 아메리카
- 21 다음 중 주간 통상법과 셔만 반트러스트법에 모두 해당되는 것은?  
 (1) 그 이전의 주법의 효과에 의해 초래되었다.  
 (2) 외국 경쟁자로부터 사업 보호를 위해 마련되었다.  
 (3) 1800년대 말에 대법원에 의해 위헌으로 선언되었다.  
 (4) 대기업의 규제를 위해 연방정부에 의해 통과되었다.
- 22 1800년대 말에 중앙 아메리카를 가로지르는 운하 건설에 대한 관심이 증가된 이유는?  
 (1) 합중국이 태평양 지역의 식민지를 획득했기 때문  
 (2) 중국 및 일본 상품에 대한 관세가 종식되었기 때문  
 (3) 이민의 주요 공급원이 북부 유럽에서 남부 유럽으로 전환되었기 때문  
 (4) 대륙횡단 철도가 아직 완공되지 않았기 때문
- 23 1920년대에 있었던 경제 성장의 대부분은 무엇에 근거하는가?  
 (1) 다른 국가들과의 무역 증가  
 (2) 새 소비재의 생산  
 (3) 농산품의 가격 인상  
 (4) 서부의 신속한 발전
- 24 Langston Hughes 및 Duke Ellington는 모두, 1920년대의 무슨 문화운동에 기여한 것으로 유명한가?  
 (1) 부의 복음  
 (2) 잃어버린 세대  
 (3) 할렘 르네상스  
 (4) 도금 시대

25번 문제는 다음 그래프와 사회학 지식을 바탕으로 답하시오.



25 이 그래프에 나와 있는 정보는 어떠한 결론을 가장 잘 뒷받침하는가?

- (1) 자동차 생산의 수준이 계속 일정했다.
- (2) 평균에 해당되는 미국인 가족은 자동차가 너무 비싸서 구입할 수 없었다.
- (3) 1929년까지, 세계 자동차의 대부분은 미국에서 생산되었다.
- (4) 경제 상태의 변화는 자동차 생산의 변화를 가져왔다.

26 미국 금주법의 실패는 어떠한 대중의 인식을 초래했는가?

- (1) 알코올 음료의 판매가 금지되면 범죄율이 하락한다.
- (2) 경제적 번영은 사회적 순응을 고취시킨다.
- (3) 인기 없는 법은 집행하기 어렵다.
- (4) 지리적 조건이 법 집행에 영향을 준다.

27 뉴딜 정책의 지속적인 효과는, 정부에 대한 다음의 신념 중 어느 것인가?

- (1) 정부는 물품과 용역 생산의 중요한 수단을 소유해야 한다.
- (2) 정부는 자연적인 시장의 힘이 경제 상태를 결정하도록 허용해야 한다.
- (3) 정부는 어려운 경제적 시기 동안 연방 예산의 수지 균형을 유지해야 한다.
- (4) 정부는 시민의 안녕에 대한 책임을 맡아야 한다.

28 "...미국 국민은 자신의 적에 의해 "공산주의자" 또는 "파시스트"라는 정치적 악인으로 찍히지 않기 위해서, 자신의 의견을 밝히는 것에 대한 두려움에 너무 지쳤습니다. 언론의 자유는 과거 미국의 그것이 아닙니다. 일부에 의해 너무 남용되어 왔기 때문에, 많은 사람들이 행사하지 않고 있습니다. 미국 국민은 죄 없는 사람들이 비방을 받고, 죄 있는 자들이 죄가 교묘하게 감춰지는 것에 너무 지쳤습니다. 그러나 입증되지 않는 선풍적 고발에 대한 무엇인가가 있을 수 있다는, 전국적 불신과 강한 의구심을 불러일으키는 입증된 사건들이 충분히 존재하고 있습니다..."

— Margaret Chase Smith 상원의원,  
미국 상원, 1950년 6월 1일

Smith 상원의원이 이 말을 했을 때, 그녀는 무엇에 반응한 것인가?

- (1) 황화
- (2) 매카시즘
- (3) 아이젠하워 주의
- (4) 진보당 정책

29번과 30번 문제는 다음 시사 만화와 사회학 지식을 바탕으로 답하십시오.



출처: PM, 1941년 5월 15일(발췌)

하아! 육을 얻려는 없군.

- 29 이 만화에서 대부분의 "질병"은 무엇을 말하는가?
- (1) 1930년대의 군사 독재
  - (2) 제2차 세계대전의 연합군
  - (3) 제2차 세계대전 이후 UN으로부터 금지된 국가들
  - (4) 냉전 시대의 공산주의권 국가들
- 30 이 만화에 나타난 상황을 가장 정확히 반영하는 사건은 무엇인가?
- (1) 대서양 헌장의 조인
  - (2) 1935 - 1937년의 중립법 통과
  - (3) Franklin D. Roosevelt의 첫 번째 노변 한담
  - (4) 일본에 대한 선전 포고

- 31 Harry Truman 대통령의 어떠한 대외 정책 결정이 봉쇄 정책의 한 예인가?
- (1) MacArthur 장군의 한국 지휘 해제
  - (2) 이스라엘의 새 국가 인정
  - (3) 독일과 일본에서의 전쟁 범죄자 재판 지지
  - (4) 그리스와 터키에 대한 군사 원조 제공
- 32 1951년 수정 조항 22조가 인준되기 전에는, 대부분의 대통령들이 두 번의 임기를 넘지 못했는데 그 이유는?
- (1) 연방법
  - (2) 대법원 결정
  - (3) 신축 조항
  - (4) 관습과 전통
- 33 Plessy 대 Ferguson 사건 그리고 Brown 대 Board of Education of Topeka 사건에서 시험대에 오른 헌법 원칙은 무엇인가?
- (1) 권력의 분산
  - (2) 국민의 주권
  - (3) 법의 동등한 보호
  - (4) 교회와 국가의 분리
- 34 "...친애하는 세계 시민 여러분: 미국이 여러분을 위해 무엇을 해줄 것인지를 묻지 마시고, 우리가 인간의 자유를 위해 함께 무엇을 할 수 있는가를 물어보십시오...."
- John F. Kennedy, 취임 연설, 1961
- 이 문장에 나타난 사상을 실현하기 위해, Kennedy 대통령은 무엇을 지지했는가?
- (1) 마셜 플랜의 창설
  - (2) 평화봉사단의 형성
  - (3) 한국에서 미군의 제거
  - (4) 동남아시아 조약 기구의 결성

35번 문제는 다음의 시사 만화와 사회학 지식을 바탕으로 답하시오.



**감사하지만 거절**

반대파 - "여기 이 살 빼는 약을 드시고 다시 날씬해지는 것이 어땠겠소!"

영클 샘 - "아뇨. 미안합니다만, 그런 것은 먹어본 일이 없고 이제 시작하기에도 너무 늦었소."

출처: J. S. Pugh, *Puck*, 1900년 9월 5일 (발췌)

35 이 만화의 주요 사안은 어떠한 대외 정책인가?

- (1) 봉쇄주의
- (2) 제국주의
- (3) 국제주의
- (4) 중립주의

36 경찰이 초청이나 영장 없이 어떤 개인의 집에 들어가서, 그 개인에 불리하게 사용될 증거를 취득했다.

이러한 증거가 법정에서 허용되지 않는다는 판결을 내리는데 사용될 수 있는 대법원 결정은 무엇인가?

- (1) *Baker* 대 *Carr*
- (2) *Gideon* 대 *Wainwright*
- (3) *Mapp* 대 *Ohio*
- (4) *Roe* 대 *Wade*

37 베트남 전쟁으로 인해 의회는 1973년에 전쟁 권한법을 통과시켰는데, 그 목적은 무엇인가?

- (1) 미국의 UN 지지에 대한 확인
- (2) 데탕트 정책의 강화
- (3) 국제 평화유지 작전에 있어서 미국의 참여 증가
- (4) 해외 군대 파견에 있어서 의회의 역할 강조

38 투표 연령을 18세로 낮춘 수정 조항 26조의 기준은 무엇의 결과였는가?

- (1) 미국의 베트남전 참가
- (2) 매카시즘에 대한 두려움
- (3) 소련의 스푸트니크 발사에 대한 반응
- (4) 워터게이트 스캔들의 보고

39 *Tinker* 대 *Des Moines* 그리고 *New York Times Co.* 대 *United States*의 사건에 대한 미국 대법원의 결정은 무엇에 대한 해석을 기준으로 했는가?

- (1) 공화 형태 정부의 의미
- (2) 구체적으로 의회에게 위임되는 권한
- (3) 대통령의 행정 특권에 대한 권리
- (4) 수정 조항 제1조에 의해 보장되는 권리들

40번 문제는 다음 시사 만화와 사회학 지식을 바탕으로 답하시오.



출처: Joe Heller, *Utica Observer-Dispatch*, 2001년 3월 27일 (발췌)

40 이 만화가에 의하면, 미국은 무엇을 갖고 있는가?

- (1) 다양한 민족으로 구성된 인구를 갖고 있다.
- (2) 과도하게 제약적인 이민 정책을 갖고 있다.
- (3) 고등학교 학생이 외국어를 배워야 하는 전국적인 요구사항을 갖고 있다.
- (4) 미국에서 사용되는 언어들로써 인쇄된 인구조사 보고서를 갖고 있다.

41 연방 준비 제도의 책임 한 가지는 무엇인가?

- (1) 연방 예산의 수지 균형 유지
- (2) 소득세의 인상 혹은 감소
- (3) 화폐 공급의 통제
- (4) 주식 시장의 조정

42번과 43번 문제는 다음 표와 사회학 지식을 바탕으로 답하시오.

**고등학교 스포츠에 대한 참가**

학년도	남학생	여학생
1971-72	3,666,917	294,015
2003-04	4,038,253	2,865,299

출처: National Federation of State High School Associations (발췌)

42 이 표에 있는 자료는, 1971년 이후 어떠한 점을 시사했는가?

- (1) 남학생들이 스포츠 참가에 대한 관심을 잃고 있다.
- (2) 남녀 학생의 스포츠 참가 정도는 거의 동등하다.
- (3) 여학생의 스포츠 참가는 남학생과 동등하다.
- (4) 여학생의 스포츠 참가가 남학생 보다 빠른 속도로 증가하고 있다.

43 이 표에 나타난 변화에 대해 가장 큰 기여를 한 사항은?

- (1) 1964년 공민권법의 통과
- (2) 1972년 교육 수정조항의 제9조 포함
- (3) 1960년대 헤드 스타트 프로그램 시작
- (4) 1970년대 이후 공립학교가 아닌 학교 숫자의 증가



44번 문제는 다음 시사 만화와 사회학 지식을 바탕으로 답하십시오.



출처: Mort Gerberg, *Macroeconomics, Principles and Policies*, Dryden Press (발췌)

- 44 이 만화가는 미국 소비자들이 무엇을 고려하도록 고취시키려 하는가?
- (1) 일본이 미국에서 사가는 것 보다, 미국은 일본으로부터 더 많이 사고 있다.
  - (2) 미국에서 생산되는 차는 흔히 외국산 보다 못하다.
  - (3) 자동차의 단일 구매들은 대외 무역 균형의 산출에 영향을 주지 못한다.
  - (4) 미국 내의 자동차 딜러들은 미국산 차 구입에 대해 더 많은 인센티브를 제공해야 한다.
- 
- 45 1980년 이후, 미국에서 생겨난 새로운 일자리들의 대부분은 어떤 분야와 관련 있는가?
- (1) 교육
  - (2) 중공업
  - (3) 서비스 산업
  - (4) 공무원
- 46 George Washington 대통령은 그의 고별 연설을 통하여, James Monroe 대통령은 몬로주의를 통하여, 그리고 국제 연맹의 반대자들 그모두 미국에 바란 사항이 있는데, 그것은 무엇인가?
- (1) 미국이 유럽 분쟁의 개입을 피한다.
  - (2) 미국이 외국과의 무역을 피한다.
  - (3) 미국이 비민주주의 국가들에 대한 외교적 승인을 거부한다.
  - (4) 미국이 이민 쿼터를 설정하여 외국의 영향을 감소시킨다.

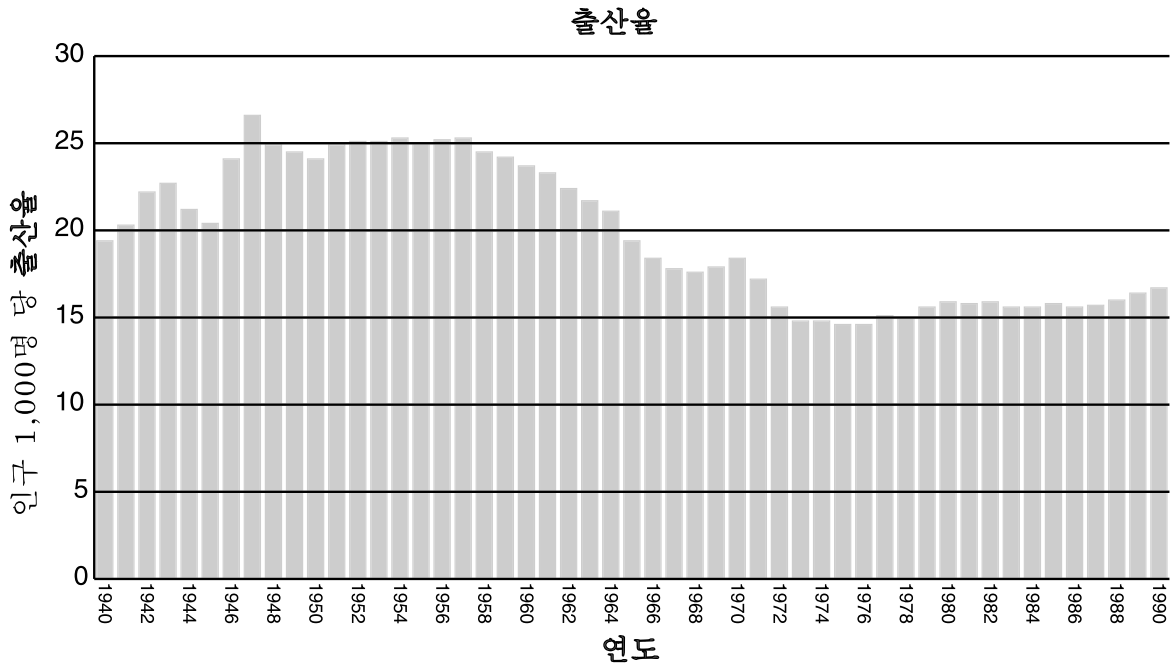
47번 문제는 다음 시사 만화와 사회학 지식을 바탕으로 답하십시오.



출처: Mike Luckovich, *The Atlanta Constitution*

- 47 이 만화에서, 만화가의 주요 관심사는 무엇인가?
- (1) 연방정부를 운영하는데 필요한 기술에 비용이 너무 많이 든다.
  - (2) 미디어에 나오는 허위 광고로부터 소비자를 보호해야 한다.
  - (3) 기술로 인하여 입법자에게 더 쉽게 영향을 줄 수 있다.
  - (4) 정부는 인터넷 사용자의 프라이버시를 방호할 수 없다.
- 
- 48 1876년과 2000년의 대통령 선거는 어떠한 면에서 유사했는가?
- (1) 국민 투표의 승자가 선거인단 투표에서 졌다.
  - (2) 제3당 후보는 선거 결과에 영향을 주지 못했다.
  - (3) 선거 결과가 의회에 의해 결정되었다.
  - (4) 대법원이 승자를 결정했다.

49번과 50번 문제는 다음 그림과 사회학 지식을 바탕으로 답하시오.



출처 : U.S. Census Bureau, *Statistical Abstract of the United States* (발췌)

49 이 그래프에 나와 있는 인구 동향으로부터 추정할 수 있는 상황은 무엇인가?

- (1) 1980년대에는 1960년대 초에 비해 더 많은 숫자의 학교가 필요했다.
- (2) 1970년대에는 북동부 쪽으로의 이주가 증가했다.
- (3) 1980년 대에는 베이비 부머의 숫자가 장래 사회 보장 혜택에 대한 위협으로 인식되었다.
- (4) 1990년대에는 사망률이 증가했다.

50 이 그래프 상의 정보에 의하면 출산율이 최고치에 달한 연도는?

- (1) 1940
- (2) 1947
- (3) 1957
- (4) 1970

에세이 문제의 답은 별도로 제공되는 에세이 책자에 기입하시오.

파트 II에 대한 답을 작성할 때, 반드시 다음의 정의를 염두에 둔다:

- (a) **논하시오**란 "사실, 논리 및 주장을 사용하여 어떤 것에 대해 관찰하며 어느 정도의 자세한 의견을 제시한다는 의미이다."
- (b) **평가하시오**란 "무엇의 의미, 가치 또는 상태를 조사 및 판단하거나, 무엇이 가치를 결정한다"는 의미이다.

## 파트 II

### 주제형 에세이 문제

**설명:** 서론과 아래의 과제를 다루는 서너 개의 문단 및 결론을 포함시켜 구성이 잘 된 에세이를 작성하시오.

**주제: 대외 정책**

1900년 이후, 미합중국의 대외 정책 조처들은 흔히 자국의 이익에 근거해 있다. 이러한 조처들은 즉각적이며 동시에 장기적 결과를 초래했다.

**과제:**

**1900년 이후** 미합중국이 취한 중요한 대외 정책 조처 **두** 가지를 지적한 다음, **각** 조처에 대해,  
• 그 조처를 둘러싼 역사적 상황을 논하시오.  
• 그 조처의 즉각적 결과 **한가지** 또는 장기적 결과 **한가지**를 논하시오.  
• 그 조처가 자국의 이익을 촉진시킨 정도를 평가하시오.

여기서 말하는 1900년 이후의 중요한 대외 정책 조처에는 미국 역사를 통해 배운 어떤 것이든지 사용할 수 있다. 참고로 다음과 같은 것을 고려할 수 있다: Theodore Roosevelt의 몬로 주의에 대한 추론(1904), Woodrow Wilson의 14개조(1918), 무기 대여법(1941), 마샬 플랜(1947), 쿠바의 봉쇄(1962), 전략 무기 제한 협정(SALT), 합의(1972), 걸프 전쟁(1991).

**위에 제안된 내용으로 국한되지 않음.**

**지침:**

**에세이 작성 시 요구사항:**

- 과제의 모든 측면을 발전시킨다.
- 관련 있는 사실, 실례 및 세부 사항으로 주제를 뒷받침한다.
- 단순한 주제의 재진술이 아닌 서론과 결론을 포함시켜, 논리적이고 분명한 계획에 근거하는 문장 구조를 사용한다.

파트 III의 답을 작성할 때, 다음의 일반적 정의를 사용한다:

논하시오란 "사실, 논리 및 주장을 사용하여 어떤 것에 대해 관찰하며 어느 정도의 자세한 의견을 제시한다는 의미이다.

### 파트 III

#### 문서형 문제

이 문제는 함께 제공되는 문서를 기반으로 한다. 이 문제들의 의도는 역사적 문서를 처리하는 능력을 시험하기 위한 것이다. 일부 문서들은 문제를 위해 편집되었다. 문서를 분석하는 과정에서, 각 문서의 출처와 그 문서에 나타난 관점을 고려하는 것이 필요하다.

#### 역사적 배경:

1800년대 말기와 1900년대 초기에는, 진보 개혁자들이 미국 사회의 개선을 위해 노력했다. 이들의 목표는 소비자 보호, 미성년자 노동의 규제, 작업 환경의 개선, 민주주의의 확대 등이었다.

**과제:** 파트 A의 각 문서 뒤에 나오는 문제들은, 문서에 나타난 정보와 미국 역사에 대한 지식을 사용하여 답하시오. 이 문제들의 답은 다음과 같은 파트 B의 에세이 문제 작성에 도움이 된다:

- 역사적 배경에서 언급된 목표 중 세 가지를 선택한 다음 **각** 목표에 대해,
- 진보적 개혁자들이 그 목표를 추구하도록 초래한 상태에 대해 논하시오.
  - 그 목표가 성취된 정도를 논하시오.

# 파트 A

## 단답식 문제

설명: 각 문서를 분석하여 문서 뒤에 나오는 문제의 답을 제공된 공간에 기입하십시오.

### 문서 1

...예를 들어, 늙은 Antanas가 죽음을 얻어낸 산세실에는 남자들이 있었으며, 이들 모두의 얼굴에서는 공포의 빛을 찾을 수 있었습니다. 산세실에서 일하는 남자는 트럭을 미는 일로 인하여 손가락이 닳으며, 그를 세상과 작별시킴(그를 죽음으로 몰아넣을) 종기가 있을 수도 있습니다. 손가락의 모든 마디는 산에 의해 하나 하나씩 삭아버릴 수 있습니다. 도살자와 바닥 작업자, 뼈 작업자, 고기 작업자 그리고 칼을 사용하는 모든 노동자들 가운데 엄지 손가락을 사용하는 사람은 거의 찾아볼 수 없습니다. 계속하여 엄지의 남아 있는 마디가 잘려나가, 하나의 고기 덩어리로 변한 다음에는 칼에 대고 눌러서만 잡을 수 있습니다. 이 사람들의 손은 많은 베인 자국으로 가득 차서 더 이상 베인 곳을 셀 수가 없게 됩니다. 손톱도 다 없어지게 됩니다. 가죽을 당기는 일 때문에 닳아 빠집니다. 손마디들이 부어서, 손가락은 부채와 같이 퍼집니다. 인공 램프 옆에서, 증기와 악취가 가득한 조리실에서 일하는 사람들이 있습니다. 이러한 방에서는 결핵균이 2년을 살 수 있으며, 한 시간마다 새로 공급됩니다. 이백 파운드가 나가는 4등분할 소를 나르는 짐꾼들이 있습니다. 이 일은 새벽 4시에 시작되는 무시무시한 작업이며, 가장 강한 사람이라도 몇 년만 일하면 진이 빠져 버립니다....

출처: Upton Sinclair, *The Jungle*, 1906

1 이 문서에 근거하여, 이 공장의 열악한 작업 조건의 영향 **두** 가지를 서술하십시오. [2]

(1) \_\_\_\_\_

점수

(2) \_\_\_\_\_

점수

문서 2

...분개한 대중은 단 1주일 만에 약 25,000부의 정글을 사서 읽었습니다. 이러한 독자들의 거의 대부분은 사회주의자의 메시지를 파악하지는 못했습니다. 싱클레어는 "노동자들[일꾼들]이 일을 하고 있는 작업환경"에 독자들의 주의를 끌어들이기를 희망하였습니다. 그러나 대중이 반응을 보인 것은, 부패한 연방 육류 검사관, 비위생적인 도살장, 결핵에 걸린 소 그리고 포장업자의 파렴치한[부당한] 사업 관행에 관한 폭로였습니다.

가장 경악한 독자들 가운데에는 Theodore Roosevelt 대통령도 있었습니다. TR 만큼 박식한 정치가는 드물었으며, 그는 분당 1,500 단어 이상의 속도로 책을 읽고 역사에 관한 글을 출판했으며, 사업과 학계의 유명 인사들과 규칙적으로 서신을 교환했습니다. Roosevelt는 대중이 어떠한 수준으로든지 지방, 주 또는 연방 정부가 육류 산업을 정화하기를 기대하는지 즉시 알아차렸습니다. 그는 싱클레어를 백악관에 초청하여 얘기를 나누었으며, 작가의 사회주의에 대한 "감상적인 신념"을 전혀 믿지 않았음에도 불구하고, "그러한 것들이 입증되고 내가 권한이 있다면, 당신이 지적한 구체적인 악들은 근절[제거]될 것이다"라고 약속했습니다.

Roosevelt는 그 약속을 지켰습니다. 의회에 있는 동지들의 협력으로, 그는 잘 알려진[유명한] 큰 막대와 함께 새 법안을 신속히 상정했습니다. 그로부터 단 4개월 후인 6월 30일, 그는 육류 포장업자들이 일체의 건강에 해로운 염료나 화학 방부제 또는 불량화제를 사용하는 것을 금지하는 육류 검사법에 서명했습니다. 이 법은 보다 엄격한 새로운 검사 제도를 위해 \$3백만을 제공했으며, 정부 검사관들은 하루 종일 언제든지 인간의 섭취에 부적당한 가축을 불량품으로 처리하기 위해 상주할 수 있었습니다. 인디애나 주의 Albert Beveridge 상원의원은 Roosevelt의 진보적 협력자로서, 의회에서 새 법안에 대한 공적을 대통령에게 돌렸습니다. 그는 "우리가 이렇게 우수한 법안을 갖게 된 사실은 주로 그의 덕분입니다"라고 기자들에게 말했습니다. 그리하여, 미국인들은 육류 통조림과 소시지를 다시 저녁상에 올리고 영구히 행복하게 식사할 수 있었습니다. 적어도 그렇게 보였습니다....

출처: James Davidson 및 Mark Lytle, *After the Fact: The Art of Historical Detection*, Alfred A. Knopf

2 이 문서에 의하면, Theodore Roosevelt는 Upton Sinclair에게 말한 약속을 지키기 위해 어떠한 조치를 취했는가? [1]

점수

문서 3a

...같은 해 겨울 헐하우스 클럽의 세 소년은 인근 공장의 한 기계에서 다쳤는데, 그것은 단 몇 달  
러 밖에 안 되는 보호 장치가 없었기 때문이었습니다. 그 상해로 인하여 그 중 한 소년이 죽었을  
때, 우리가 느낀 공포와 양심의 가책을 그 공장의 소유주들도 동감하여, 그러한 비극의 재발 방  
지에 필요한 가능한 모든 일을 하리라고, 우리는 분명히 확신했었습니다. 그러나 놀랍게도 그들  
은 아무 것도 하지 않았으며, 일하는 아이들의 부모들은 "부주의"로 발생한 피해에 대해 어떠한  
배상도 청구하지 않을 것이라는 문서에 서명했으며, 나는 그 우스꽝스러운 문서를 처음으로 접  
하게 되었습니다.

우리는 그 지역을 방문할 때마다, 여자들이 착취 공장에서 재봉일을 하는 것을 항상 보았으며,  
흔히 아주 어린 아이들이 그 일을 돕고 있었습니다. 네 살 난 작은 여자 아이가 보헤미아인 엄마  
의 발 밑에 있는 걸상에 앉아서, 몇 시간이고 시침질한 실을 당기던 것을 나는 기억하며, 그것은  
하나의 인간 비극이었습니다. 그러나 그러한 일에도 불구하고 법적인 시정 방법[구체적]이 없었  
으며, 당시 일리노이 주에서 집행 조항이 포함된 미성년 노동법으로는 탄광 노동자 조합이 확보  
[달성]한 것이 유일했으며, 그 법은 탄광에 고용된 아동으로 적용 대상이 제한되었습니다....

당시에는 시카고 산업 조건에 관한 어떠한 통계 정보도 존재하지 않았으며, 헐하우스의 초기 입  
주자였던 Florence Kelley 부인은, 미성년 노동이 존재하는[사용하는] 시카고의 노동자 착취  
제도를 조사할 것을, 일리노이 주 노동국에 제안했습니다. 노동국 국장은 그 제안을 받아들였  
으며, Kelley 부인으로 하여금 조사하도록 했습니다. 그에 따른 보고서가 일리노이 주 의회에  
제출되었으며, 시카고의 상태를 조사하기 위해 특별 위원회가 임명되었습니다. 그날 일요일에  
위원회 위원들이 헐하우스 클럽에 식사하러 왔을 때, 우리가 희망에 부풀었던 것을 나는 생생히  
기억하며, 우리는 이웃들을 고생하게 만드는 최악의 병폐가 드디어 끝나게 될 것이라고 믿었습  
니다...

출처: Jane Addams, *Twenty Years at Hull-House with Autobiographical Notes*, MacMillan, 1912

3a 이 문서에 근거하여, Jane Addams가 개혁을 원했던 사회적 문제 **한** 가지를 지적하시오. [1]

점수

문서 3b

일리노이 주 최초의 공장법

공장 및 작업장

...4. 14세 미만의 미성년자는 주에 위치한 모든 제조업소, 공장 또는 작업장에 고용되는 것  
을 금한다. 16세 미만의 미성년자에 대한 등록부를 유지해야 한다. 14세에서 16세 사이 미  
성년의 고용은 금지되며, 단 그 자녀의 부모나 보호자가 생년월일과 출생 장소가 기입된 증  
명서를 먼저 접수하는 경우는 해당되지 않는다. 검사관은 건강 증명서를 요구할 수 있다....

출처: "Factories and Workshops," *Laws of the State of Illinois*, Thirty-Eighth General Assembly, 1893

b 이 문서에 근거하여, 일리노이 주 공장법의 조항 **한** 가지를 서술하시오. [1]

점수

문서 4

작업 조건에 영향을 끼친 주의 조치들	
1911	일리노이 주 직업병 위원회(1909)의 건의에 따라 일리노이 주 직업병 법이 제정되다(환기, 위생, 연무, 온도)
1911	위스컨신주는 근로자 재해보상 법을 통과시킨 최초의 주가 되다
1911	위스컨신 의회에서 여성과 미성년자의 노동 시간을 제한하다
1911-1915	뉴욕 주 공장 조사 위원회의 추천에 따라, 뉴욕 주의 "공장 구제책 입법의 황금기" 동안 건강을 보호하며 안전한 작업 조건을 창출하는 새로운 수십 가지의 법이 제정되다
1912	뉴욕 주 공장 조사 위원회가 건물에서 7층 보다 높은 층에서는 자동 소화 장치의 설치를 요구하며, 작업장 안전에 대한 규제와 검사의 범위를 넓히다 (화재 비상구, 안전 가스 제트, 내화성 콘센트, 비상 통로, 화재 경보 훈련)
1912	매사추세츠 주에서 최초로 최저 임금법을 통과시키다
1913	오리건 주에서 제재소나 공장의 노동자에게 오버타임(하루 10시간 초과)에 대한 임금을 지불하도록 법으로 정하다

4 이 문서에 근거하여, 주에서 취한 조치가 작업 조건의 개선을 가져온 예 **두** 가지를 지적하십시오. [2]

(1) \_\_\_\_\_

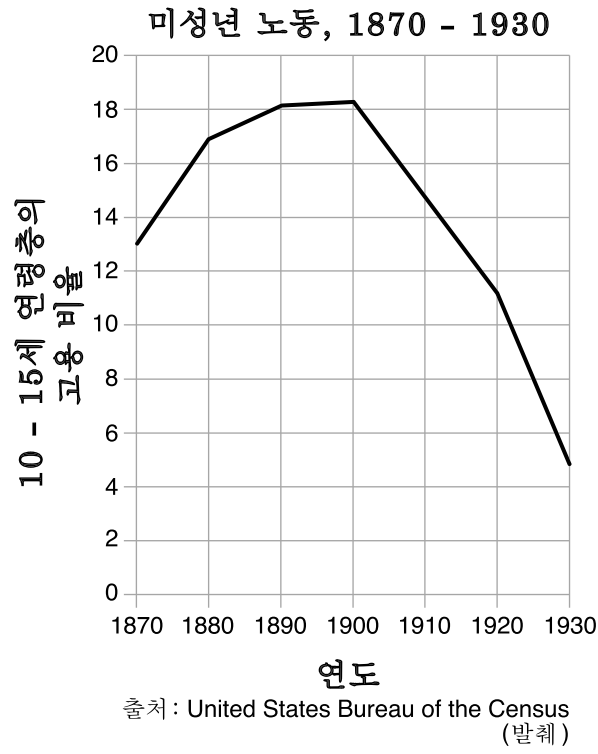
점수

(2) \_\_\_\_\_

점수



문서 5



5 이 그래프에 근거하면, 1900년과 1920년 사이에 미성년 노동의 사용은 어떻게 변화했는가? [1]

---

---

점수

문서 6a

상원의 보스들



출처 : Joseph J. Keppler, *Puck*, 1889 (발췌)

문서 6b

...미합중국 상원은 임기가 6년이며 각 주에서 주민에 의해 선출된 두 명의 상원으로 구성되며, 모든 상원의원은 각각 한 표를 행사한다. 각 주의 선거위원들은 주 의회에서 가장 숫자가 많은 부서의 선거위원들에게 요구되는 자격을 갖추어야 한다....

— 수정조항 17조, 1항, 1913

6 수정조항 17조가 위의 시사만화에 나타난 염려를 해결했던 방식 **한** 가지를 서술하시오. [1]

---



---

점수

문서 7

...실제로 이 국가에서의 정통 민주주의의 성장은 경이적입니다. 30년 전에는, 비밀 투표가 전문 정치인들에게는 한때의 유행으로 간주되었습니다. 20년 전에는, 이것이 미국의 거의 모든 주에서 중대한 사안이었습니다. 오늘날, 비밀 투표는 미국 정치에서 보편적인 것이 되었습니다. 10년 전에는, 직접 예비선거가 La Follette of Wisconsin이라는 청년에 의해 미시건 대학에서 학문적 토론의 제목이었습니다. 이제는 미국의 3분의 2가 넘는 주에서 활발하게 사용되고 있으며, 반 이상의 미국 국민이 직접 예비선거를 자치의 무기로 사용하고 있습니다. 5년 전만 하더라도 소환이란 오리건 주의 기형적인 법에 지나지 않았습니다. 오늘날에는, Garfield[대통령]이 백악관에 왔을 당시 비밀 투표 하에 살았던 미국 시민 보다 더 많은 숫자가 소환권을 부여하는 법 아래에서 살고 있으며, Theodore Roosevelt[대통령]이 백악관에 왔을 당시, 직접 예비 선거 형태의 당 지명에 따른 혜택을 받았던 미국 시민 보다 몇 배 많은 숫자가 특정 공직자를 소환하는 권한을 소유하고 있습니다. 국민 투표는 예비 선거 보다 5년 밖에 뒤지지 않습니다. 이러한 사실을 바탕으로, 성급한 추측이 그 이상으로 변하기 전에 예언을 해보십시오. [이러한 사실을 염두에 둘 때, 장래에 대한 예측은 성급한 추측 이상의 그 무엇입니다.]...

출처: William Allen White, *The Old Order Changeth*, Macmillan, 1910

7 William Allen White에 의하면, 진보주의자가 민주주의 확장을 위해 지지했던 개혁 두 가지는 무엇이었는가? [2]

(1) \_\_\_\_\_

점수

(2) \_\_\_\_\_

점수

문서 8

...여자는 인류의 절반을 구성한다. 지난 사십 년 동안, 점점 더 많은 숫자의 여성들이 가정을 떠나 공장과 작업장으로 들어가야 했다. 그렇게 고용된 여자의 숫자는 7백만이 넘으며, 나머지 여성들은 가정 용역에 대해 종사한다. 세계 노동량의 확실한 절반을 여자가 하고 있다. 이러한 사실을 면밀히 연구한 결과, 일하는 여성들은 동일한 일에 대해 남자보다 더 적은 임금을 받고 있으며 또한 여성 노동자에게 부과된 더 힘든 조건의 원인이 투표권의 결여라는 중대한 사실이 밝혀졌다....

미국 공화제의 위대한 신조인 "모든 정부는 피통치자의 승낙으로부터 그 정당한 힘을 얻어낼 수 있다"는 내용은, 국민의 절반인 여성의 투표권 행사에 대한 탄원을 정당화시킨다. 미국 독립전쟁의 신조인 대표 없는 과세는 참을 수 없다[허용할 수 없다]라는 내용은, 여성의 투표권 행사를 정당화시킨다. 무엇보다도, 참정권의 커다란 이점 한 가지는, 여성을 명예와 존엄성이 더 큰 위치로 승격시킴으로써 이 땅의 자녀들이 자신의 어머니에게 더 커다란 존경과 경의를 표하게 되며 또한 어머니들은 자녀들에게 좋은 예절과 도덕 및 신앙을 가르치는 동시에 좋은 정부의 기본적 원칙도 가르칠 수 있다는 점이다....

출처: Robert Owen 상원의원, 연설, 1910

8 이 문서에 근거하여, 여성에게 투표권을 주어야 하는 이유 **두** 가지를 서술하시오. [2]

(1) \_\_\_\_\_

점수

(2) \_\_\_\_\_

점수

## 파트 B

### 에세이

**설명:** 서문과 서너 문장으로 된 본론 및 결론을 포함하는 잘 짜인 에세이를 작성하시오. 에세이의 본문에는 적어도 **5개** 문서가 제공하는 증거를 사용하시오. 자신의 의견을 관련 있는 사실, 사례 및 세부 사항으로 뒷받침하시오. 그 밖의 외부 정보를 포함시키시오.

#### 역사적 배경:

1800년대 말기와 1900년대 초기에는, 진보 개혁자들이 미국 사회의 개선을 위해 노력했다. 이들의 목표는 **소비자 보호, 미성년 노동의 규제, 작업 환경의 개선, 민주주의의 확대** 등이었다.

**과제:** 문서들에 포함된 정보와 자신의 미국 역사에 대한 지식을 바탕으로, 다음에 대한 에세이를 작성하시오.

역사적 배경에서 언급된 목표 중 **세** 가지를 선택한 다음 **각** 목표에 대해,

- 진보적 개혁자들이 그 목표를 추구하도록 초래한 상태에 대해 논하시오.
- 그 목표가 성취된 정도를 논하시오.

#### 지침:

##### 에세이의 요구사항:

- 과제의 모든 측면을 발전시킨다.
- 적어도 **5개** 문서에 있는 정보를 포함시킨다.
- 관련 있는 외부 정보를 포함시킨다.
- 관련 있는 사실, 사례 및 세부 사항으로 주제를 뒷받침한다.
- 단순한 주제의 재진술이 아닌 서론과 결론을 포함시켜, 논리적이고 분명한 계획에 근거하는 문장 구조를 사용한다.



미국 역사 및 정부  
(UNITED STATES HISTORY  
AND GOVERNMENT)

목요일, 2005년 1월 27일 - 오후 1:15 - 오후 4:15에만 실시

답안지

학생..... ( ) 남  
 성별: ( ) 여

교사.....

학교명.....

파트 1 에 대한 답은 이 답안지에 기입하십시오. 파트 III A에 대한 답은 시험 책자에 기입하십시오. 파트 II 및 III B에 대한 답은 별도의 에세이 책자에 기입하십시오.

**교사가 기입**

파트 I 점수 \_\_\_\_\_

파트 III A 점수 \_\_\_\_\_

파트 I 및 III A 점수 합계

파트 II 에세이 점수 \_\_\_\_\_

파트 III B 에세이 점수 \_\_\_\_\_

에세이 점수 합계

최종 점수 (환산표에 의한 점수)

1..... 26.....

2..... 27.....

3..... 28.....

4..... 29.....

5..... 30.....

6..... 31.....

7..... 32.....

8..... 33.....

9..... 34.....

10..... 35.....

11..... 36.....

12..... 37.....

13..... 38.....

14..... 39.....

15..... 40.....

16..... 41.....

17..... 42.....

18..... 43.....

19..... 44.....

20..... 45.....

21..... 46.....

22..... 47.....

23..... 48.....

24..... 49.....

25..... 50.....

정답  
숫자

시험을 완료한 학생은 아래 진술문에 서명해야 합니다.

본인은 시험을 치르기 이전에 문제나 답에 대해 어떠한 불법적 사전 지식이 없었으며 시험 동안 문제를 푸는데 있어서 어떠한 도움도 주고 받은 사실이 없음을 본 시험의 종료와 함께 확인하는 바입니다.

서명

절취선

절취선

