

The University of the State of New York

REGENTS HIGH SCHOOL EXAMINATION

미국 역사
및 정부

목요일 2006년 1월 26일 - 오전 9:15 - 오후 12:15에만 실시

학생 이름 _____

학교 이름 _____

자신의 이름과 학교명을 인쇄체로 기입하십시오. 다음, 이 책자의 마지막 페이지에 있는 파트 I 답안지를 여십시오. 점선을 따라서 마지막 페이지를 접은 다음, 주의해서 답안지를 절취하십시오. 다음, 답안지의 윗 부분에 기입하십시오. 에세이 책자는 각 페이지의 윗 부분에 자신의 이름과 학교명을 인쇄체로 기입하십시오.

이 시험은 세 파트로 구성됩니다. 모든 파트의 **모든** 질문에 답하십시오. 검정 혹은 진한 청색 잉크를 사용하여 답하십시오.

파트 I에는 50개의 선다형 문제가 있습니다. 이 문제에 대한 답을 별도의 답안지에 기입하십시오.

파트 II에는 한 개의 주제를 다루는 에세이 문제가 있습니다. 이 질문에 대한 답은 에세이 책자에 1 페이지부터 기입하십시오.

파트 III는 여러 개의 문서를 기반으로 구성됩니다:

파트 IIIA는 여러 문서를 포함합니다. 각 문서의 끝에는 하나 이상의 문제들이 나옵니다. 각 시험 책자의 문제에 대한 답을 그 질문 뒤에 있는 줄에 기입하십시오. 이 섹션의 첫 페이지에 자신의 이름과 학교명을 반드시 기재합니다.

파트 IIIB는 문서에 기초를 두는 한 개의 에세이 문제가 있습니다. 이 문제에 대한 답은 에세이 책자의 7 페이지부터 기입하십시오.

시험을 마친 다음에는 파트 I의 답안지에 인쇄된 진술문에 서명함으로써, 시험을 치르기 전에 문제나 답에 대한 불법적인 지식이 없었으며 시험을 치르는 동안 도움을 주지도 또한 받지도 않았음을 표시하십시오. 이 진술문에 서명하지 않은 학생의 답은 인정하지 않습니다.

이 시험 중에는 모든 통신 장비의 사용을 철저히 금지합니다. 만일 아주 잠시라도 통신 장비를 사용하는 경우 당신의 시험은 무효화되며 당신은 시험 점수를 받지 못할 것입니다.

지시가 있을 때까지 이 시험 책자를 열지 마십시오.

파트 I

이 파트의 모든 문제에 답하십시오.

지시 사항 (1-50): 각 문제의 문장이나 질문에 가장 적절한 답의 번호를 분리된 답안지에 기입하십시오.

- 1 • 제임스 타운, 1607년 설립
 - 플리머스 식민지, 1620년 설립
 - 뉴 암스테르담, 1625년 설립

이들 초기 식민 정착지는 위치적으로 유사한데, 다음 중 이들의 위치는?

 - (1) 산맥 기슭
 - (2) 해안선 부근
 - (3) 건조한 지대
 - (4) 해안과 떨어진 섬
- 2 1700년대 초반에서 중반의 기간 중 미국 식민지에 대한 영국의 건강 부주의 정책은 무엇을 초래했나?
 - (1) 식민지 제조업의 감소
 - (2) 북부 식민지에서의 노예 제도의 쇠퇴
 - (3) 북미에서의 프랑스와 스페인의 영향 감소
 - (4) 독립적인 식민지 무역업의 발달
- 3 독립 선언서에 의하면 영국의 통치로부터의 해방의 논리는 무엇에 주로 기반하고 있나?
 - (1) 제임스 1세의 왕권신수설
 - (2) 아담 스미스의 경제 원리
 - (3) 존 록크가 개발한 정부의 사회 계약설
 - (4) 알렉산더 해밀톤이 주장한 강력한 중앙 정부에 대한 신념
- 4 종교와 정치의 분리의 헌법적 근거는 다음 중 어느 것인가?
 - (1) 헌법 수정 제 1조의 설립 조항
 - (2) 헌법 수정 제 5조의 일사부재리
 - (3) 헌법 수정 제 10조의 유보 권한
 - (4) 헌법 수정 제 14조의 평등 보호권
- 5 다음 중 연방규약 (the Articles of Confederation)에 의해 설립된 정부의 특징을 묘사하는 것은?
 - (1) 대법원은 의회가 제정한 법이 위헌이라고 판정할 권한을 갖었다.
 - (2) 국가 정부가 주들 사이의 통상 거래를 통제했다.
 - (3) 대통령이 외교 정책에 대한 독점 통제권을 유지하였다.
 - (4) 주가 가장 많은 권력을 갖는 체제가 만들어졌다.
- 6 워싱턴 대통령 재임 중 어느 사건이 서부 펜실베이니아의 위스키 폭동을 일으켰나?
 - (1) 새로운 소비세의 통과
 - (2) 대통령 내각 설립
 - (3) 미국 은행의 설립
 - (4) 북서부 영토에서의 노예제도 금지
- 7 조지 워싱턴, 토마스 제퍼슨, 또 제임스 몬로의 외교정책은 어떻게 유사한가?
 - (1) 영국과의 전쟁을 지지
 - (2) 새로운 영토 획득에 실패
 - (3) 유럽의 일들에 관여를 회피하려는 시도
 - (4) 혁명 전쟁 기간 프랑스로부터의 도움에 대한 답례로 프랑스를 도움
- 8 다음 중 어떤 실행이 불문 헌법의 부분으로 간주되나?
 - (1) 상원에 의한 조약 비준
 - (2) 최초의 두개의 정당의 설립
 - (3) 대법원을 포함한 연방 법원 체계 설립
 - (4) 의회에 의해 통과된 법안에 대한 대통령의 거부권 행사

9번 문제는 아래 만화와 사회학 지식을 바탕으로 푸십시오

안녕하세요, 의사 선생님



출처: John Chase, *New Orleans Item*, January 17, 1938 (개정판)

9 이 만화는 어느 헌법의 원칙을 묘사하고 있나?

- (1) 연방주의
- (2) 국민 주권
- (3) 사법 심사권
- (4) 견제와 균형

10 “특정 권리에 대한 헌법상의 열거는 유보된 권리를 부정하거나 손상하도록 [약화되도록] 해석되어서는 안된다.”

— 미 헌법 수정 제 9조

이 수정 헌법이 권리 장전에 포함된 이유는?

- (1) 국민들에 대한 연방 권력을 증가하기 위해
- (2) 각 시민에 대한 주의 통제를 확대하기 위해
- (3) 헌법에 열거된 이상으로 권리를 보호하기 위해
- (4) 국회가 개인에게 추가의 권리를 허용하는 것을 방지하기 위해

11 “미국 시민의 투표권은 인종, 피부색 혹은 과거의 노예 경험등의 이유로 미합중국 또는 그 어느 주에 의해서 부인되거나 또는 축소될 수 없다. . . .”

— 미 헌법 수정 제 15조 1항, 1870년

다음 중 남부 주들이 흑인들이 헌법 수정의 권리를 행사할 수 없도록 하기 위해 어떤 조치를 취하였나?

- (1) 출정 영장을 보류하고 여성의 투표권을 부인
- (2) 인두세를 징수하고 읽고 쓰는 능력을 시험
- (3) 투표를 위한 종교적 그리고 재산 소유 조건을 설립
- (4) 흑인 단속법을 통과시키고 인종 분리 학교를 설립

12 플레시 대 퍼거슨 (1896년) 재판의 대법원 판정이 흑인들의 생활에 커다란 영향을 미친 이유는 그 판정이 다음 중 어느것을 규정하였기 때문인가?

- (1) 교육 기관에서 인종 차별은 불법이었다.
- (2) 투표는 헌법이 보장한 권리였다.
- (3) 분리되었지만 공평한 공공 기관은 합법이었다.
- (4) 군대의 남부 점유는 헌법에 위배되었다.

13 1800년대 후반 연방 정부의 어떤 조치가 원주민 보호주의의 예인가?

- (1) 중국인 추방법 통과
- (2) 동부에서 인디언 보호 거주지 설립
- (3) 서부 농부들에게 경제적 원조 허용
- (4) 대륙 횡단 철도 건설 지지

14 산업화의 결과로 1800년대 후반에 나타난 주요 인구 이동은 다음 중 어느 것인가?

- (1) 북부인들이 썸 벨트로 이동했다.
- (2) 농촌인들이 도시로 이동했다.
- (3) 도시의 노동 계층이 교외로 이동했다.
- (4) 북부의 흑인들이 남부로 이동했다.

15번과 16번 문제는 아래 만화와 사회학 지식을 바탕으로 푸십시오.



“미국의 아름다운 장미는 그 주변에서 자라는 새싹들을 희생시켜야만 화려하게 피어난다.”

—John D. Rockefeller, Jr.

출처: Guy R. Spencer, *The Literary Digest*, May 1905 (개정판)

15 이 만화는 1800년대 후반의 어떤 사상과 가장 밀접하게 연결되었나?

- (1) 제한 자본주의
- (2) 누진 소득세
- (3) 사회 진화론
- (4) 부의 복음

16 1890년대 초반 동안 연방정부는 위의 만화에 보이는 상황을 어떻게 다루었나?

- (1) 수입된 석유에 대한 관세 인상
- (2) 소기업에 경제적 원조 제공
- (3) 부정부패를 저지른 사업자들 처벌
- (4) 셔먼 독점 금지법 통과

17 1800년대 후반 많은 농부들은 자유롭게 무제한으로 은화를 주조하는 것이 다음중 어떤 결과를 초래한다고 믿고 지지했는가?

- (1) 농장 보조금을 종료한다.
- (2) 그들의 용자 값는데 도움을 준다.
- (3) 소비재의 가격인하를 유도한다.
- (4) 농지의 가격을 인하시킨다.

18 다음 중 어느 용어가 테오도어 루즈벨트, 존 뮤어, 또 기포드 핀쇼를 가장 잘 묘사하는가?

- (1) 박애주의자들
- (2) 자연 보호론자들
- (3) 선정적 언론인들
- (4) 산업의 지도자들

19 진보기 동안 많은 주와 지역 정부들은 국민 발의, 국민 투표, 그리고 일반 투표에 의한 공직자의 해임권을 채택했는데 이는 어떤 결과를 가져 왔나?

- (1) 대통령 선거인단의 필요성을 제거했다.
- (2) 정치 활동 위원회를 창설했다.
- (3) 투표인들이 정부에 더 직접 관여할 수 있게 했다.
- (4) 대통령 내각의 역할을 강화했다.

20 1911년 발생한 트라이 앵글 여성 셔츠 회사의 화재 비극은 국가로 하여 무엇을 필요성을 느끼게 했나?

- (1) 남유럽으로부터 이민을 제한
- (2) 전시간 가동되는 소방서 설립
- (3) 노동자들의 안전 보호
- (4) 하층민 공동 주택 거주자들의 환경 개선

21 제 1차 세계 대전 시 우드로 윌슨 대통령의 14개 항 제안의 기본 목적은?

- (1) 전쟁 이후 미국의 목표를 정의내리기 위해
- (2) 미국의 군전략을 개요하기 위해
- (3) 다른 민주주의 국가들을 UN에 가입하도록 설득하기 위해
- (4) 미국의 고립주의를 강화하기 위해

22 화폐 분배의 개선과 적당한 화폐 공급의 보장을 위해 우드로 윌슨 대통령은 국회에게 무엇을 요청했나?

- (1) 금 표준제도 철폐
- (2) 외국 투자를 제한
- (3) 은행 예금 보험 제도 설립
- (4) 연방 준비 제도 설립

23 켈크 대 미국 (1919)의 재판에서 확립된 긴급 위험 원칙은 정부로 하여금 무엇을 할 수 있도록 허용하는가?

- (1) 미국을 공격하는 모든 나라에 전쟁을 선포한다.
- (2) 나라의 안전을 위협하는 언론을 제한한다.
- (3) 사업 경쟁을 제한하는 독점을 해체한다.
- (4) 다른 시민의 민권을 위협하는 기관을 법으로 금지한다.

24 1920년 여성은 투표권을 얻었는데 이는 무엇의 결과인가?

- (1) 대통령의 명령
- (2) 대법원의 결정
- (3) 국민 선거
- (4) 헌법 수정

25 적색의 공포(Red Scare), 1920년대의 출생국법, 또 사코 대 반제티 재판의 판정은 누구를 향한 미국의 부정적인 태도인가?

- (1) 이민자들
- (2) 경제 지도자들
- (3) 흑인들
- (4) 노동 조합 지도자들

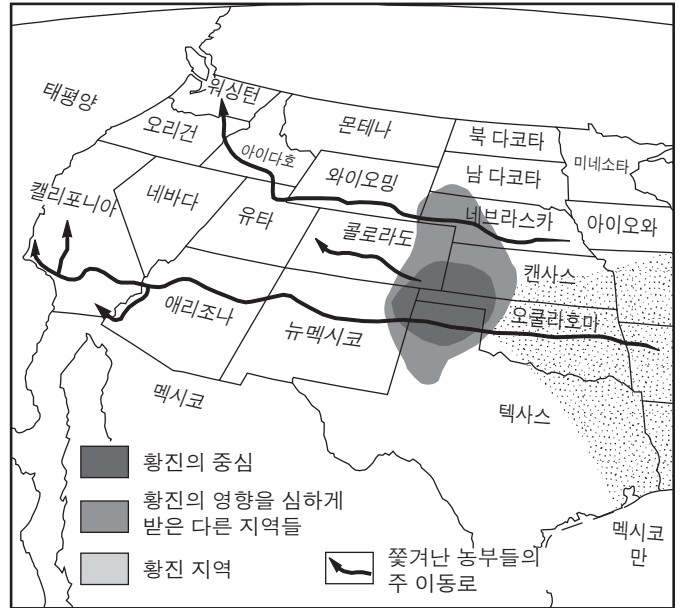
26 대량 생산 기술의 향상은 1920년대 미국 경제에 어떻게 영향을 주었나?

- (1) 소비품의 가격을 인하
- (2) 거의 모든 생산품의 질을 저하
- (3) 더 높은 실업률을 초래
- (4) 제조품의 양을 감소

27 1925년 스코프스 재판은 무엇의 예인가?

- (1) 미국 문화 동화의 영향
- (2) 과학적 사상과 종교적 믿음 간의 갈등
- (3) 미국 사회안의 폭력 증가
- (4) 인종 갈등에 대한 정부의 중재

28번 문제는 아래 지도와 사회학 지식을 바탕으로 푸십시오.



출처: Robert A. Divine et al., *America: Past and Present*, HarperCollins, 1995 (개정판)

28 다음 미국 지역 중 황진으로 인해 가장 직접적으로 고난을 겪은 곳은?

- (1) 남서부
- (2) 태평양 북서부
- (3) 록키 산맥
- (4) 대평원

29 다음 중 프랭클린 루즈벨트 대통령의 뉴딜 정책을 가장 정확하게 설명하는 것은?

- (1) 보호 관세율이 인상되었다.
- (2) 사회 복지 제도가 확대되었다.
- (3) 사업에 대한 정부의 규제가 감소되었다.
- (4) 환경 보존을 위한 정부의 지지가 정지했다.

30번 문제는 아래 인용문과 사회학 지식을 바탕으로 푸십시오.

“... 자신을 방어하고 있는 유럽 사람들은 그들의 싸움을 우리에게 해달라고 요구하지 않습니다. 그들이 우리에게 요구하는 것은 비행기, 탱크, 총, 화물선 등 그들의 자유와 우리의 안전을 위한 싸움을 가능하게 해주는 전투 도구들입니다. 단호하게 우리는 그들에게 충분한 양의 무기들을 빨리 조달하여 우리와 우리 아이들이 다른 사람들이 겪은 전쟁의 고통과 수난으로부터 보호돼야 합니다. . . .”

— President Franklin D. Roosevelt's "Fireside Chat," December 29, 1940

30 이 성명에서 프랭클린 루즈벨트 대통령은 국민에게 무엇을 요청하고 있나?

- (1) 독일 나치에 대항해 선포된 전쟁을 지지
- (2) 봉쇄정책을 채택
- (3) 국제 연맹에 가입
- (4) "민주주의의 무기교"가 되는 것

31 제 2차 세계 대전 중 어느 요인이 일본계 미국인 포로 억류에 기여했나?


- (1) 전쟁 중 노동력의 부족
- (2) 인종 편견의 영향
- (3) 서부에서의 테러 활동 증가
- (4) 일본인 노동자들에게 직업을 잃을 것에 대한 두려움

32 제 2차 세계 대전 후 엘레노어 루즈벨트는 무엇으로 주목 받았나?

- (1) 미 군대의 인종 차별 대우 지지
- (2) 국제 연합 세계 인권 선포 창시에 기여
- (3) 트루먼 행정부와 대결
- (4) 지뢰 사용 종결 시도

33번 문제는 아래 만화와 사회학 지식을 바탕으로 푸십시오.

어차피 할 일이라면 지금?



출처: Jay Norwood "Ding" Darling, 1945

33 이 1945년 만화의 주제는 무엇인가?

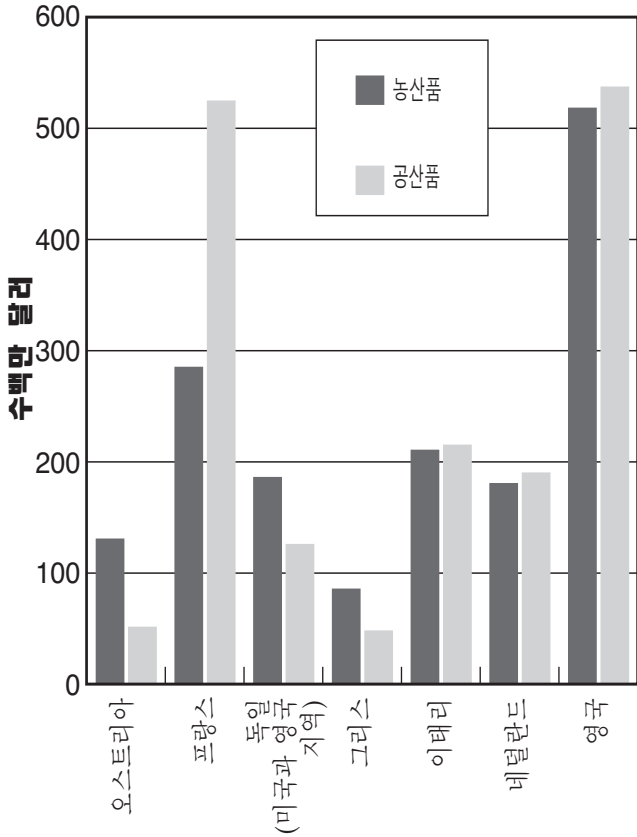
- (1) 세계는 핵무기의 확산을 막아야 한다.
- (2) 한국의 원자 폭탄 개발이 세계 평화를 위협해 왔다.
- (3) 베르사이유 조약은 제 2차 세계 대전을 방지하는데 성공했다.
- (4) 독일은 원자폭탄 사용에 대해 비난 받아야 한다.

34 1950년대 초반 조셉 맥카티 상원 의원의 정책은 무슨 이유로 비난 받았나?

- (1) 중요한 헌법상의 특권을 위반했다.
- (2) 그의 제안에서 인종 편견을 보였다.
- (3) 충성 맹세 사용에 반대했다.
- (4) 소련이 스파이 행위를 했다는 증거를 무시했다.

35번 문제는 아래 그래프와 사회학 지식을 바탕으로 푸십시오.

미국의 유럽 원조, 1948년



출처: *The Americans: In Depth Resources*, McDougal Littell, 1998 (개정판)

35 그래프에 있는 정보는 마셜 플랜이 유럽의 공산주의 확산을 어떤 방법으로 방지했다고 제시하는가?

- (1) 프랑스와 영국에 군사원조를 제공함으로써
- (2) 서유럽 전역에 경제적 안정을 복구함으로써
- (3) 유럽의 국내 혁명을 권장함으로써
- (4) 유럽 국가들이 국제 연합에 의존하도록 함으로써

36 1960년 북부 캐롤라이나주 그린스보로시에서 흑인 학생들이 "백인 전용" 간이 식당에서 퇴장요구를 거부했을 당시 이들이 사용한 전략은 다음 중 어느 것인가?

- (1) 경제적 불매 동맹
- (2) 단식 투쟁
- (3) 단원 운동
- (4) 시민 불복종

37 “. . . 우리는 달에 가기로 선택했습니다. 우리는 1960년대 안에 달에 가려고 결정했고 또 다른 일들을 하기로 결정했는데, 이것들이 쉬워서가 아니라 어렵기 때문이고 또 이 목표는 우리의 힘과 기술을 가장 잘 정리하고 측정하며, 그리고 이 도전이 바로 우리가 받아들이려는 것이고, 또 연기하고 싶지 않은 도전이며, 승리하고 싶은 일이고, 다른 것들도 마찬가지입니다”

— President John F. Kennedy, speech at Rice University, September 12, 1962

이 연설의 주 목적은 무엇을 위한 공공의 지지를 얻기 위함인가?

- (1) 달에 미사일 방어 체제를 설립
- (2) 우주 탐험에 있어서 공산국가들과 협력
- (3) 우주 경쟁에서 소련을 능가함
- (4) 핵무기의 보급 통제

38 체포된 사람들에게 반드시 그들의 법적 권리를 알려 주어야 한다. 이는 다음 중 무엇의 결과인가?

- (1) 영국 평민법에서 채택된 관례
- (2) 의회에 의해 제정된 법률
- (3) 미국 대법원의 결정
- (4) 미국 헌법 원문에 있는 특정 성명

39 워터게이트 사건이 미국 사회에 미친 영향을 가장 잘 설명하는 것은?

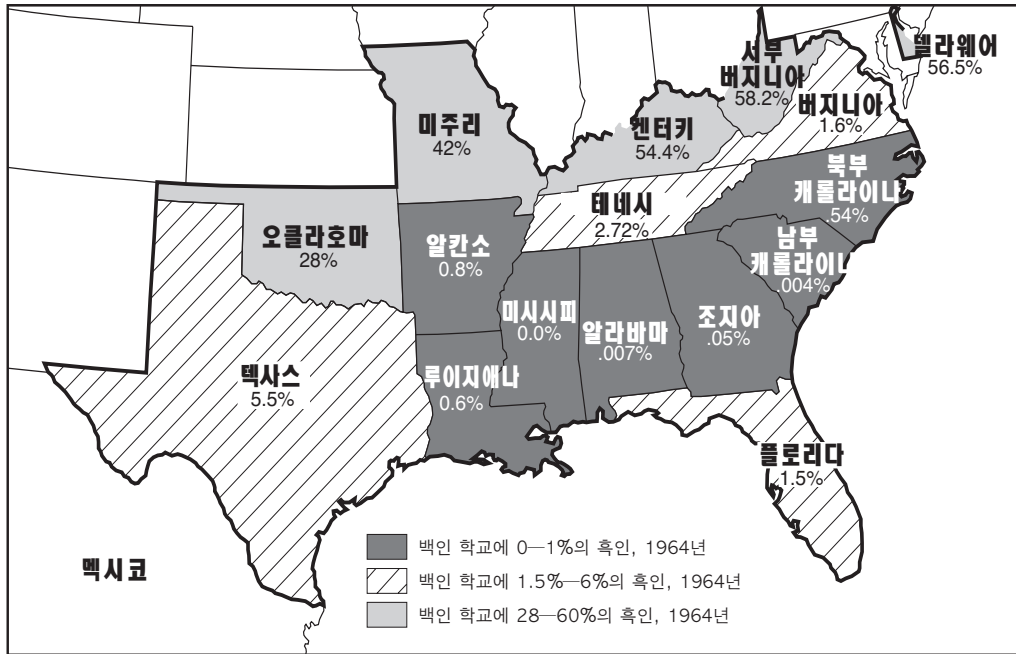
- (1) 현대 환경 운동이 시작되었다.
- (2) 정부에 대한 공공 신뢰가 감소되었다.
- (3) 선거 투표 참여자들이 증가했다.
- (4) 경기 후퇴가 종료되었다.

40 미국의 베트남 전쟁 관여는 부분적으로 무슨 열망에 의한 것인가?

- (1) 태평양에 일본 확장주의의 소생을 막기 위해
- (2) 중동으로부터의 충분한 석유 공급을 확보하기 위해
- (3) 동남 아시아에서의 공산주의를 억제하기 위해
- (4) 중국에 있는 미국 대사업가들을 보호하기 위해

41번과 42번 문제는 아래 지도와 사회학 지식을 바탕으로 푸십시오. 이 지도는 1954년까지 법에 의해 공립 학교에서 인종 차별대우가 실행되었던 주들을 보인다.

남부 공립 학교의 인종 차별대우 폐지, 1954-1964년



출처: Mary Beth Norton et al., *A People and a Nation*, Houghton Mifflin, 1986 (개정판)

- 41 지도가 제공하는 정보는 1964년 까지 남부 학교의 인종 차별대우 폐지는 어떠했다는 결론을 명확히 지지하는가?
- (1) 오클라호마, 미주리, 켄터키, 그리고 서부 버지니아에서는 실패했다.
 - (2) 남부의 거의 모든 투표인들에 의해 지지되었다.
 - (3) 남부 주들 사이에 다른 비율로 일어났다.
 - (4) 1960년대 중반에 완성되었다.

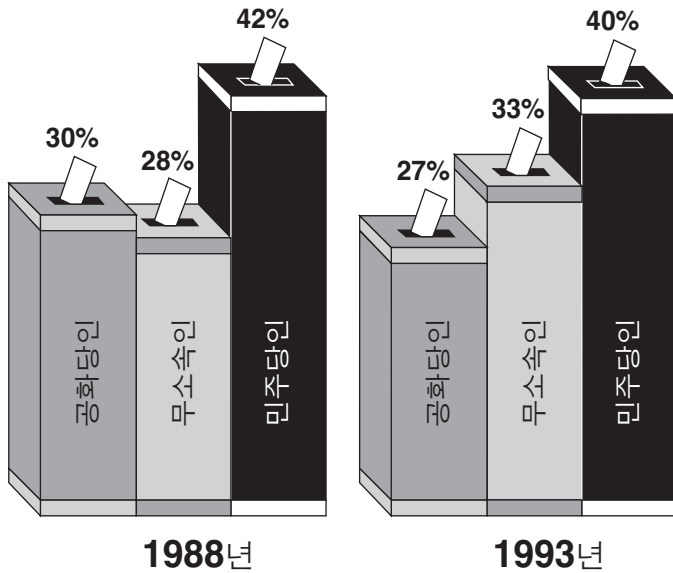
- 42 지도에 보이는 학교의 인종 차별대우 폐지는 무엇에 가장 큰 영향을 받았나?
- (1) KKK (백인 우월주의 단체)의 쇠퇴
 - (2) 남녀 평등 헌법 수정안 통과
 - (3) 흑인들의 투표권 확장
 - (4) 브라운 대 토피카 교육 위원회 재판의 대법원 판정

- 43 쿠바 미사일 위기(1962)는 존 에프 케네디 대통령의 어떤 결정에 영향을 주었나?
- (1) 소련과의 한정된 핵실험 금지 조약을 협상
 - (2) 북대서양 조약 기구에 미국의 참여를 감소
 - (3) 미국인들에게 라틴 아메리카에 여행과 무역을 금지
 - (4) 개발 도상국을 원조하기 위해 평화 봉사단 자원 봉사자들을 파견

- 44 “고르바초프는 핵무기 감축을 제안한다”
“베를린 사람들은 동독과 서독을 자유롭게 여행한다”
“러시아는 북대서양 조약 기구에 가입하려고 한다”
- 이 신문 기사 표제들은 무엇과 가장 밀접하게 관련있나?
- (1) 군사무장 경쟁
 - (2) 냉전 적개심 감소
 - (3) 봉쇄 정책의 실패
 - (4) 소련에서의 공산주의 성공

45번 문제는 아래 그래프와 사회학 지식을 바탕으로 푸십시오.

투표인들이 밝힌 본인들의 소속 정당의 퍼센티지



출처: The Gallup Organization. Bruce S. Glassman, ed., *Macmillan Visual Almanac*, Blackbirch Press, 1996 (개정판)

45 위의 그래프가 제공하는 정보는 1988년과 1993년 사이에 주요 정당의 후보자들은 다음 중 어느 그룹 투표인들의 지지 확보를 더 필요로 하게 되었나?

- (1) 소수 민족
- (2) 노인들
- (3) 무소속 투표자들
- (4) 노동자들

46 업튼 싱클레어의 "정글" 과 랄프 네이더의 "어떤 속력에도 위험한"은 어떤 목적으로 쓰여졌나?

- (1) 미국에서 폭력이 증가하고 있다는 사실을 알리기 위해
- (2) 가난한 사람도 열심히 일하면 부자가 될 수 있다는 제안
- (3) 이민 개혁을 권장
- (4) 사람들에게 특정 불량 상품에 대한 경각심을 불러 일으키기 위해

47 연방 정부는 노던 증권회사, AT&T, 또 마이크로소프트사에 대해 독점 금지법을 집행했는데, 이는 무엇을 하기 위한 노력이었나?

- (1) 기업 간에 경쟁 증가
- (2) 중요 산업을 국가화
- (3) 기업 지도자들에 대한 공적 신뢰 향상
- (4) 더 많은 투자 자본을 조달하기 위해

48 미국은 1990년대 하이티와 보스니아에 관여했는데 그 이유는 무엇인가?

- (1) 새로운 시장에 대한 접근 획득
- (2) 경제적 제국을 위한 식민지 획득
- (3) 그 나라들 내부의 갈등 해소
- (4) 국제 마약 거래를 분쇄하기 위해

49 다음 중 아래 명단의 표제로 가장 알맞은 것은?

I. _____

- A. 베를린
- B. 독일
- C. 한국
- D. 베트남

- (1) 전쟁의 결과로 분단된 지역들
- (2) 미국의 주요 연맹국들
- (3) 국제 연맹 선언 최초 서명국들
- (4) 제 2차 세계 대전 중 중립국가들

50 앤드류 존슨 대통령과 빌 클린턴 대통령의 탄핵 재판에 관해 가장 정확하게 설명하는 것은?

- (1) 하원 의원들은 탄핵 조항 투표에 실패했다.
- (2) 존슨 대통령만이 유죄를 선고 받고 파면되었다.
- (3) 클린턴 대통령만이 유죄를 선고 받고 파면되었다.
- (4) 상원 의원들은 두 대통령에게 유죄를 선고하는 것에 실패했다.

논술형 문제의 답은 별도로 제공되는 에세이 책자에 기입하시오.

파트 II에 대한 답을 작성할 때, 반드시 다음의 일반적 정의를 염두에 두시오:

- (a) 논하시오란 "사실, 논리 및 주장을 사용하여 어떤 것에 관찰하며 어느 정도의 자세한 의견을 제시한다"는 의미이다.
- (b) 설명하시오란 "명료하게 또는 이해가 되도록 한다; 이유 또는 원인을 제공하고; 논리적 발전 혹은 관계를 보인다"라는 뜻이다.

파트 II

주제형 에세이 문제

지시문: 서론과 아래 과제를 다루는 몇 개의 문단 그리고 결론을 포함하는 잘 정리된 논술을 작성하시오.

주제: 개인들, 그룹들, 그리고 기관들 — 논쟁적인 문제들

많은 **국내의** 논쟁적인 문제들은 미국인들을 갈라 놓았다.
미국 정부는 이들 문제에 대처하기 위해 많은 조치를 취했다.

과제:

미국인들을 갈라 놓은 **국내의** 논쟁적 문제 **한 가지**를 밝히고

- 이 논쟁의 역사적 배경에 대해 논하시오.
- 이 문제를 지지한 사람들의 관점을 설명하시오.
- 이 문제를 반대한 사람들의 관점을 설명하시오.
- 이 문제에 대처하기 위해 미국 정부가 취한 행동 **한 가지**를 논하시오.

참고로 다음과 같은 것을 사용할 수 있다: 미국 원주민들을 보호지역에 옮긴 것, 노예 제도, 여성 투표권, 금주령, 미성년(아동) 노동 사용, 또 무제한 이민 정책 등이 제안된다.

위에 제안된 내용에 국한되지 않음.

지침:

에세이 작성 시 요구사항:

- 과제의 모든 측면을 다룬다.
- 관련 있는 사실과 사례 및 세부사항을 이용하여 주제를 뒷받침한다.
- 단순한 주제의 재진술이 아닌 서론과 결론을 포함시켜, 논리적이고 분명한 계획에 근거하는 문장 구조를 사용한다.

파트III의 답을 작성할 때, 다음의 일반적 정의를 사용한다:

논하시오란 “사실, 논리 및 주장을 사용하여 어떤 것에 관하여 어느 정도의 자세한 의견을 제시한다”는 의미이다.

파트III

문서형 문제

이 문제는 함께 제공되는 문서를 기반으로 한다. 이 문제들의 의도는 역사적 문서를 처리하는 능력을 시험하기 위한 것이다. 일부 문서들은 문제를 위해 편집되었다. 문서를 분석하는 과정에서, 각 문서의 출처와 그 문서에 나타난 관점을 고려하는 것이 필요하다.

역사적 배경:

19세기와 20세기 동안 지리는 자국의 영토를 확장하거나 국가 권익을 보호하기 위해 미국이 취한 많은 조치들에 영향을 미쳤다.

과제: 문서의 내용과 미국 역사 지식에 근거하여 파트A의 각 지문 아래 문제의 답을 작성하시오. 파트A의 답안은 파트 B의 에세이를 쓸 때 도움이 될 것이다. 파트 B는 아래의 사항을 포함한다:

- 19세기와 20세기 동안의 영토 확장 **그리고/또는** 미국 권익 보호를 지지했던 조치들에 지리가 미친 영향을 논하시오.

파트 A
단답형 문제

지시 사항: 문서들을 분석하여 각 문서 뒤에 따라 나오는 문제의 답을 제공된 공간에 기입하시오.

문서 1a

...무척이나 주요한 이 강은, 그 강의 수로로 인하여 또한 태평양 바다와의 왕래로 인하여, 이 대륙을 가로지르는 강들의 가장 직접적이고 실용적인 대화를 제공해 줄지도 모르며, 상업적 목적으로

— President Thomas Jefferson, Instructions to Meriwether Lewis, June 20, 1803;
Library of Congress Exhibition on Thomas Jefferson

문서 1b



출처: Joyce Appleby et al., *The American Journey*, Glencoe McGraw-Hill, 2003 (개정판)

1 이 문서를 바탕으로 할때, 토마스 제퍼슨 대통령이 메리웨더 루이스에 미주리강을 답사하라고 지시했을 때 제퍼슨 대통령의 목적 **한 가지**는 무엇인가? [1]

Score

문서 2

... 1818년 외교에 의해 상실했던 혹은 위협에 처했던 나라의 복구 외에 오리건주의 정착자들은 "인도로 통하는 북미 도로"를 회복하고 개설할 것입니다! 이 도로는 남쪽 통로로부터 오리건[강]의 입구에 놓여질 것입니다; 그리고 그 도로가 정착되는 대로 북미 대륙의 우리 계획은 이 새로운 국도 위로 즉시 동양 무역을 시작할 것입니다. 몇년 전에 제가 조사했던 이 커다란 문제는 이제 언급이 되어 오리곤 계곡의 인구 밀집을 준비하고 있는 밝은 미래를 언뜻 보게 해 줍니다.

22년전 먼로 대통령이 양의회에 보낸 메시지에 북미의 어느 부분도 유럽의 식민지화, 지배, 방해, 혹은 어떤 종류의 영향에도 개방되어 있지 않다는 원리를 미국 정책의 기본으로 선언하였습니다[먼로주의]. 그 선언은 영국과 오리건 [지역]에 관한 것이며, 미국인의 마음에서 그 반응을 찾았습니다. 시간은 그 반응을 약하게 하지 않고 오히려 확증시켰습니다; 그리고 그 어떤 유럽 권력이라도 텍사스를 넘본다면, 그 반응도 역시 같을. . . .

출처: Senator Thomas Hart Benton, Speech to the Senate on the Oregon Territory, June 3, 1844, *Congressional Globe*, 28th Congress, 1st Session

2a 이 문서에 의하면, 오리건을 통제하여 미국이 어떻게 이익을 취할 수 있나? [1]

Score

b 벤튼 상원 의원에 의하면 먼로주의의 어떤 특징이 오리건 지역에 대한 미국의 국가적 권익을 보호하는데 사용될 수 있는가? [1]

Score

문서 3a

“리오그란데로 가는 길에”

멕시코인들은 우리 땅에 있다.
 그들은 우리를 전쟁에 끌어들이려 한다.
 그들은 우리를 괴롭히기 위해 최선을 다했다.
 텍사스에서 우리의 용감한 사람들을 살해함으로써
 우리는 리오그란데로 가는 길이다.
 리오그란데로 가는 길에
 리오그란데로 가는 길에
 그들은 우리가 무기를 능숙하게 다룬다는 것을 알게 될 것이다....

출처: George Washington Dixon, 1846 song about the Mexican War; Erik Bruun and Jay Crosby, eds. *Our Nation's Archive*, Black Dog & Leventhal Publishers, 1999

문서 3b

멕시코 전쟁 전 포크 대통령은 미국측 협상자 존 슬리델을 멕시코에 보내 두 나라간의 분쟁을 해결하려 했다.

...그리고 또 한번 그의 [포크 대통령] 1847년 12월 7일 메세지에서 "멕시코 정부는 그가 (우리 평화 장관) 제안한 조정 조건을 듣기조차도 거부했고 결국은 완전히 말도 안되는 이유로 텍사스 영역을 침략하고, 첫 공격을 가하여 우리 시민을 우리의 영토에서 피흘리게 하여 두 나라의 전쟁을 일으켰다:"
 이 하원들이 우리 시민이 살해된 특정 지점이 당시에 우리 영토였는지 여부를 판단하기 위한 모든 정보를 획득하려고 노력하는 까닭에....

출처: Abraham Lincoln, "Spot" Resolutions in the House of Representatives, December 22, 1847; *Congressional Globe*, 30th Congress, 1st Session

3 이 문서들에 의하면, 멕시코 전쟁에서 리오그란데의 역할은 무엇이었나? [1]

Score

문서 4

이 편지에서 나는, 철도의 우리 동부 네트워크와 태평양 바다를 어느 지점에서 연결 해주는 한 철도의 신속한 건설에 찬성하는 그 고려점이 적절하고, 타당하고, 또한 실행 가능하다는 것을 제안하는 바입니다. . . .

6. 우리는 벌써 요새를 구축하는데 수 천만달러의 비용을 들였으며, 훨씬 더 많은 비용이 긴급히 요구되고 있습니다. 특히 태평양에서는 건설이 긴급히 요구되고 있습니다. 얼마나 빨리 또는 얼마만큼 요구되는지는 제가 결정하지 않습니다; 하지만 산맥의 소총병들은 3일 안에 그리고 미주리의 소총병들은 10일 안에 태평양으로 이동시킬 수 있는 태평양 철도는 수많은 거대하고 건설 비용이 많이 소요된 요새들 보다 샌프란시스코를 훨씬 더 안전하게 지켜 줄 것이라는 것 만큼은 말할 수 있습니다. . . .

이 주제에 대해서는 충분히 말했습니다.

태평양 철도의 사회적, 도덕적, 그리고 지적 은총에 대해 신문 기사에 모두 실는 것은 거의 불가능한 일입니다. 그저 제가 제안한 것만으로도 지금으로써는 충분합니다.

1. 현재 캘리포니아로 오가는 우편물은 2주에 한 번씩 증기선에 의해 파나마를 통해 옮겨지는데 20일에서 30일이 소요됩니다. 대서양 주의 발신인으로부터 태평양의 수신인이 편지를 받기까지 소요되는 평균 시간은 30일 입니다. 태평양 철도가 있으면 10일로 감소할 수 있습니다; 뉴욕 주나 필라델피아 주에서 보내진 편지가 샌프란시스코에 도착하는 것보다 일리노이주나 미시간주에서 보낸 편지가 캘리포니아주의 광산촌에 더 빨리 도착할 것입니다. 대서양의 각 도시와 캘리포니아 간에 철도로 오고 가는 매일 우편으로 인하여, 수송되는 우편물과 프린트물의 양, 또한 그에 따른 우편요금의 총계가 신속히 4배로 뛰어오르지 않는다는 것은 거의 불가능한 일입니다. . . .

출처: Horace Greeley, *An Overland Journey from New York to San Francisco, in The Summer of 1859*, C. M. Saxton, Barker & Co., 1860

4 이 문서를 바탕으로, 태평양으로 가는 철도가 거리의 지리적 장애물을 극복하는데 도움이 되는 방법 **두 가지**를 서술하시오. [2]

(1) _____

Score

(2) _____

Score

문서 5

. . . 슈어드 장관이 취득하자고 제안한 거대한 영토[알래스카]는 그 매입 반대론자들의 초기 주장보다 훨씬 더 가치 있고 상대적이면서 본질적이다라는 것을 상원의원들과 또 다른 사람들이 이해하게 되었습니다. 우리는 훌륭한 장관이 러시아-미국을 취득함으로써 나라의 "미덕"이 강화될 것이라는 논쟁에 별로 중요성을 두지 않습니다. 우리는 또 많은 다른 재촉된 문제들에 비중을 둘 수 없습니다. 그러나 울퉁불퉁한 시트카의 땅에 석탄층이 나타나고, 태평양 같은 허허 벌판 해안에 특별한 가치가 될 수 있는 목재의 성장으로 로저스 사령관이 주의를 돌렸을 때, 그리고 어업의 부는 과대평가 될 수 없고 십중팔구 다음 세대에 지금 뉴펀드랜드처럼 우리에게 중요하게 될 거라는 것을 고위 관료들로부터 들었을 때; 더욱이 메사추세츠주가 굉장히 관심을 보이는 북태평양과 베닝 해협의 거대한 고래어업에 관해 보스턴 신문에 의해 상기될 때, 태평양 연안에서 감사되어지는 만큼 이곳에서도 감사되어지는 우리가 주의를 기울여야 할 일들이 있습니다. 그리고 이런 모든 것뿐만 아니라, 우리가 중국과 일본의 무역 개방에—우리는 4분의 1세기 안에 인상적인 발전을 보기를 기대합니다—중간 지점에 있고 제안된 토지 영도권에 속하는 알류산 열도는—커다란 원을 북쪽으로 따라 또 조류를 따라 두 대륙 사이의 노선은 멀리 옮겨잡니다; 더욱이 이 섬들은 이 지역에 가장 적절한 요지의 해군 기지를 제공할 수 있습니다—모든 사람들은 어쨌든 대륙 간의 관계가 문제이라는 것을 인정해야 합니다. 지난 주 상원들에 의해 이런 문제점들이 중요하게 다루어졌다는 것을 우리는 의심하지 않습니다. 또한 조약에 관한 결정을 내릴 때 투표인들에 대한 권력이 없이는 불가능하며. . . .

출처: "The Russian Treaty Before the Senate", *The New York Times*, April 8, 1867 (개정판)

5 이 문서를 바탕으로, 알래스카를 차지함으로 갖는 지리적 혜택 **두 가지**를 서술하시오. [2]

(1) _____

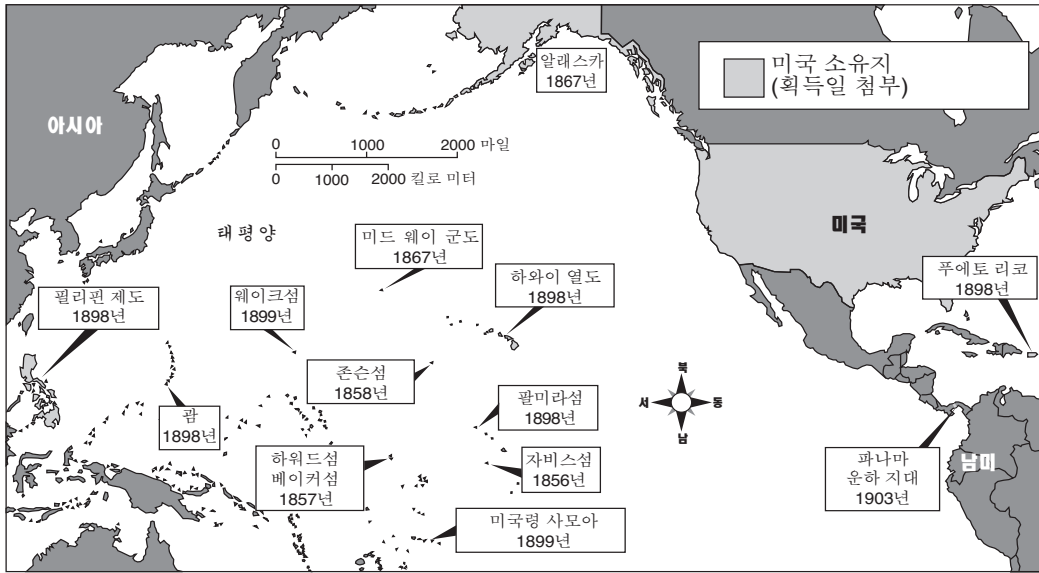
 Score

(2) _____

 Score

문서 6

미국 확장, 1857-1903년



출처: Briggs and Fish-Petersen, *Brief Review in United States History and Government*, Prentice Hall, 2001 (개정판)

6 이 지도에 의하면, 이 소유지들의 위치는 어떻게 미국 권익을 촉진 또는 보호하였나? [1]

Score

문서 7

. . . 과거에 우리들 중에 많은 사람들은 해외에서 일어나는 일에 무관심했었는데, 이는 그들의 동료들이 유럽에서 일어나는 일은 우리의 일이 아니라고 한것을 순수히 믿었기 때문입니다; 그곳에서 무슨 일이 일어나든지 미국은 평화적이고 유일무이한 발전을 세상에서 추구할 수 있을 것이라고.

관심 혹은 지식의 부족으로 우리들 중 많은 사람들은 눈을 감았습니다; 수백 마일의 바다가 미국 반구를 너무 멀리 떨어져있게 하여 북아메리카, 중앙 아메리카와 남아메리카 사람들은 세계의 다른 대륙과 관계없이 그리고 위협받지 않고서 광대한 자원을 가지고 살 수 있다고 솔직히 그리고 신중히 생각합니다.

우리 중에는 어떤 사람들은 소수의 사람들에 의해 우리의 육체적 안전이 우리의 대륙 경계선 안에서 — 동쪽으로는 대서양, 서쪽으로는 태평양, 북쪽으로는 캐나다, 그리고 남쪽으로는 멕시코 — 삶으로써 지켜질 수 있다고 설득당했습니다. 저는 저번 주에 의회에 보낸 서신에 그 생각의 무모함을 — 불가능함 — 설명했습니다. 분명히 그런 무모한 생각을 기본으로 한 국방 정책은 미래의 침략을 초래하는 것과 같은. . . .

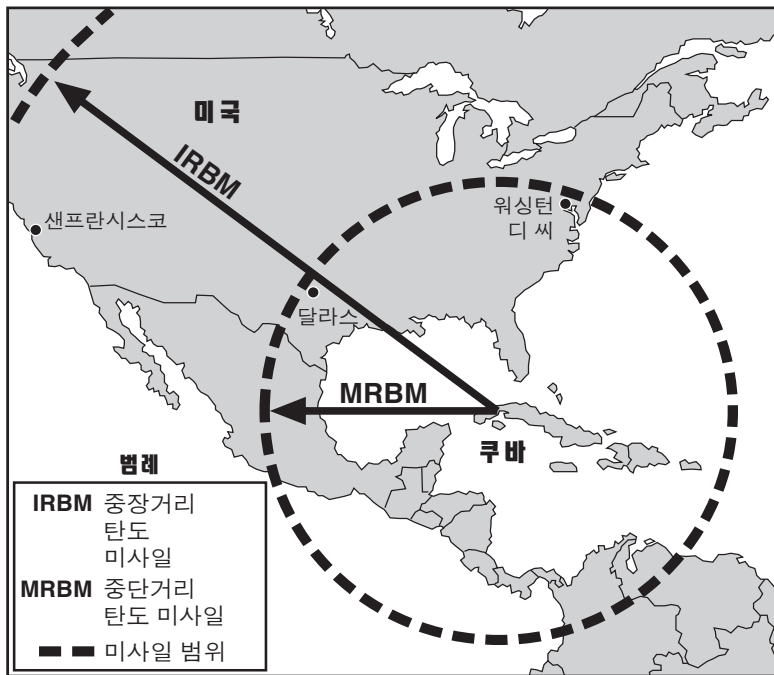
— President Franklin D. Roosevelt,
Radio Address “On National Defense”, May 26, 1940; FDR Library.

7 이 문서에 의하면, 몇몇 사람들은 왜 미국이 외국의 위협으로부터 안전하다고 믿었나? [1]

Score

문서 8

쿠바의 공격 미사일 사정 거리



출처: James H. Hansen, "Soviet Deception in the Cuban Missile Crisis,"
Studies in Intelligence: Journal of the American Intelligence Professional,
2002 (개정판)

8 이 지도에 의하면, 쿠바 미사일 위기에서 지리의 역할은 무엇이었나? [1]

Score

문서 9

미국의 페르시아만에 대한 권익은 국가 안보에 필수적인 것이다. 이 관심은 석유의 확보, 그리고 그 지역의 주요 우호 국가들의 안보와 안정이 포함된다. 미국은 이 지역에서 만일 요구되고 또 적합하다면, 미국 군대의 힘으로 우리 이익에 적대적인 어떤 권력으로부터 우리의 이익을 보호할 것이다. 미국은 우방국가들이 개별적이나 집단적 방어에 그 나라들이 그 지역에서 더 능동적인 역할을 할 수 있도록 그들을 지지할 것이다. 미국은 페르시아만 지역에 있는 우리의 상호적 이익을 촉진하기 위해 우리 동맹국들과 그 외 다른 우호국들의 지지의 효과적 표출과 참여를 권장하여. . . .

출처: National Security Directive 45, "U.S. Policy in Response to the Iraqi Invasion of Kuwait," 08/20/1990, George H. W. Bush Library

- 9 이 문서를 바탕으로, 지리가 페르시아만에 대한 미국의 국가적 이익에 영향을 미친 **한 가지** 이유를 서술하십시오. [1]

Score

파트 B 에세이

설명: 서문과 서너 문장으로 된 본론 및 결론을 포함하는 잘 짜인 에세이를 작성 하시오. 에세이의 본문에 **최소한 5개**의 문서에 있는 증거를 이용하시오. 자신의 의견을 관련 있는 사실, 사례 및 세부사항으로 뒷받침하시오. 그 밖의 외부 정보를 포함시키시오.

역사적 배경:

19세기와 20세기 동안 지리는 자국의 영토를 확장하거나 국가 권익을 보호하기 위해 미국이 취한 많은 조치들에 영향을 미쳤다.

과제: 문서들에 포함된 정보와 미국 역사 지식을 바탕으로, 다음에 대한 에세이를 작성하시오.

• 19세기와 20세기 동안의 영토 확장 **그리고/또는** 미국 권익 보호를 지지했던 조치들에 지리가 미친 영향을 논하시오.

지침:

에세이의 요구사항

- 과제의 모든 측면을 발전시킨다.
- 적어도 **5개** 문서에 있는 정보를 포함시킨다.
- 관련있는 외부 정보를 포함시킨다.
- 관련있는 사실, 사례 및 세부 사항으로 주제를 뒷받침한다.
- 단순한 주제의 재진술이 아닌 서론과 결론을 포함시켜, 논리적이고 분명한 계획에 근거하는 문장 구조를 사용한다.

미국 역사 및 정부

목요일 2006년 1월 26일 - 오전 9:15-오후 12:15에만 실시

답안지

남

학생..... Sex: 여

교사.....

학교명

파트 I에 대한 답은 이 답안지에 기입하십시오. 파트 III A에 대한 답은 시험 책자에 기입하십시오. 파트 II 및 III B에 대한 답은 별도의 에세이 책자에 기입하십시오.

1.....	26
2.....	27
3.....	28
4.....	29
5.....	30
6.....	31
7.....	32
8.....	33
9.....	34
10.....	35
11.....	36
12.....	37
13.....	38
14.....	39
15.....	40
16.....	41
17.....	42
18.....	43
19.....	44
20.....	45
21.....	46
22.....	47
23.....	48
24.....	49
25.....	50

FOR TEACHER USE ONLY

Part I Score _____

Part III A Score _____

Total Part I and III A Score

Part II Essay Score _____

Part III B Essay Score _____

Total Essay Score

Final Score (obtained from conversion chart)

No. Right

시험을 완료한 학생은 아래 진술서에 서명해야 합니다.

본인은 시험을 치르기 이전에 문제나 답에 대해 어떠한 불법적 사전 지식이 없었으며 시험 동안 문제를 푸는데 있어서 어떠한 도움도 주고 받은 사실이 없음을 본 시험의 종료와 함께 확인하는 바입니다.

서명

정답

정답

